

## مراجعة شاملة للمادة من سلسلة ضفاف الإجتماعيات



### تم تحميل هذا الملف من موقع المناهج العمانية

موقع فايلاتي ← المناهج العمانية ← الصف الثاني عشر ← هذا وطني ← الفصل الثاني ← ملفات متنوعة ← الملف

تاريخ إضافة الملف على موقع المناهج: 2025-03-29 13:22:44

ملفات اكتب للمعلم اكتب للطالب | اختبارات الكترونية | اختبارات | حلول | عروض بوربوينت | أوراق عمل  
منهج انجليزي | ملخصات وتقارير | مذكرات وبنوك | الامتحان النهائي | للمدرس

المزيد من مادة  
هذا وطني:

إعداد: فضيلة الشحي

### التواصل الاجتماعي بحسب الصف الثاني عشر



صفحة المناهج  
العمانية على  
فيسبوك

الرياضيات

اللغة الانجليزية

اللغة العربية

التربية الاسلامية

المواد على تلغرام

### المزيد من الملفات بحسب الصف الثاني عشر والمادة هذا وطني في الفصل الثاني

ملخص شامل للمادة

1

تقرير عن سوق العمل والعمالة من سلسلة الإبحار

2

تقرير عن سوق العمل من سلسلة الإبحار

3

تقرير ثاني عن شركة مزون للألبان وتقرير عن الثروة الصناعية الرابعة

4

تقرير عن الإمام ناصر بن مرشد اليعربي

5



سلطنة عمان

وزارة التربية والتعليم

المديرية العامة للتربية والتعليم بمحافظة مسندم


مدرسة ليما للتعليم الأساسي (١٢-١)

الفصل الدراسي الثاني/ ٢٠٢١-٢٠٢٢ م



# سلسلة ضفاف الاجتماعية

## مادة هذا وطني للصف الثاني عشر



إعداد : فضيلة الشحي

معلمة أولى مادة تاريخ



تَعْلَمُ فَلَيْسَ الْمَرْءُ يُولَدُ عَالِمًا  
وَلَيْسَ أَخُو عِلْمٍ كَمَنْ هُوَ  
جَاهِلٌ  
وَإِنْ كَبِيرَ الْقَوْمِ لَا عِلْمَ  
عِنْدَهُ  
صَغِيرٌ إِذَا اتَّقَيْتَ عَلَيْهِ  
الْجَحَافِلُ  
وَإِنْ صَغِيرَ الْقَوْمِ إِنْ كَانَ  
عَالِمًا  
كَبِيرٌ إِذَا رُدَّتْ إِلَيْهِ  
الْمَحَافِلُ



## الوحدة الثالثة: سوق العمل العماني... استثمار وتوجهات

يُتَوَقَّعُ من الطالب الدَّارس لهذه الوحدة أن:

- ١ يتعرَّف التطورات العالمية لسوق العمل والجهود الوطنية لمواكبتها.
- ٢ يوضِّح ماهية الاقتصاد القائم على المعرفة.
- ٣ يثمن الجهود المبذولة لتنمية المؤسسات الصغيرة والمتوسطة في السلطنة.
- ٤ يحلِّل النصوص والجداول والأشكال.
- ٥ يكتسب القيم والاتجاهات والمهارات.

مخرجات التعلم للوحدة

الدرس الأول: سوق العمل... توجُّه عالمي واهتمام وطني  
الدرس الثاني: المؤسسات الصغيرة والمتوسطة... الأهمية والجهود الوطنية  
الدرس الثالث: الاقتصاد القائم على المعرفة... تطلعات ورؤى

دروس الوحدة

سوق العمل ...  
تَوَجُّهٌ عالمي واهتمام وطني

الدرس الأول



2025

2024

موقع المناهج  
العمانية



## درس : سوق العمل توجه عالمي واهتمام وطني

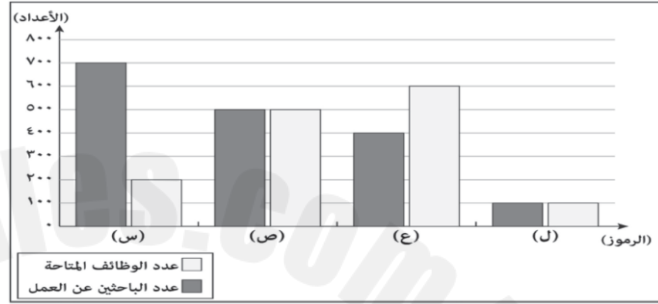
التاريخ : / / ١٤— الموافق / / ٢٠—

### أولاً: ضع دائرة على الإجابة الصحيحة من بين البدائل المعطاه فيما يلي :

١-سوق افتراضي يتضمن القوى العاملة وفرص العمل المتاحة من المؤسسات الحكومية والخاصة :

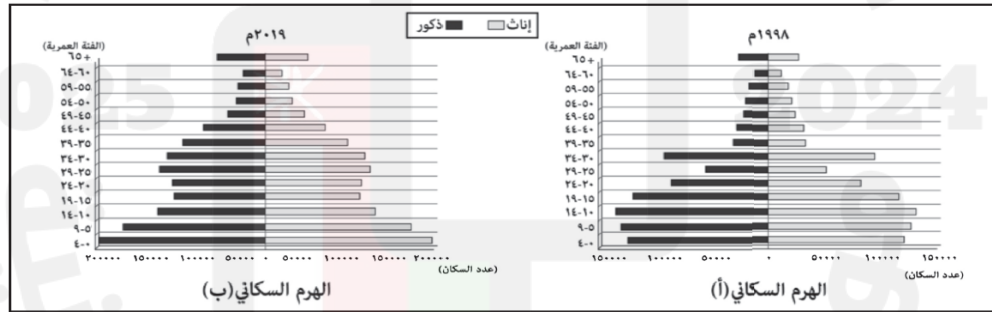
أ-سوق العمل المحكم ب-سوق العمل ج-سوق العمل الراكد د- سوق العمل القوي

٢- الرمز الذي ينطبق عليه مفهوم سوق العمل الراكد كما في الرسم البياني الآتي :



أ- ل ب- ع ج- ص د-س

٣-الجدول الصحيح الذي يصف الوضع السكاني لسلطنة عمان كما يوضحه الهرم السكاني الآتي لعامي ١٩٩٨م و٢٠١٩م :



الهرم السكاني		
(ب)	(أ)	
سنة (١٤-١٠)	سنة (١٩-١٥)	الفئة العمرية الأكثر في عدد السكان
سنة (٥٤-٥٠)	سنة (٥٩-٥٥)	الفئة العمرية الأقل في عدد السكان
الهرم السكاني		
(ب)	(أ)	
سنة (٤-٠)	سنة (١٤-١٠)	الفئة العمرية الأكثر في عدد السكان
سنة (٦٤-٦٠)	سنة (٦٤-٦٠)	الفئة العمرية الأقل في عدد السكان
الهرم السكاني		
(ب)	(أ)	
سنة (٩-٥)	سنة (١٤-١٠)	الفئة العمرية الأكثر في عدد السكان
سنة (٥٩-٥٥)	سنة (٥٤-٥٠)	الفئة العمرية الأقل في عدد السكان
الهرم السكاني		
(ب)	(أ)	
سنة (١٩-١٥)	سنة (٩-٥)	الفئة العمرية الأكثر في عدد السكان
سنة (٥٤-٥٠)	سنة (٥٤-٥٠)	الفئة العمرية الأقل في عدد السكان

٤- العامل الرئيس المؤدي إلى اختزال عمليات الإنتاج والتوزيع لسوق العمل في التوجه العالمي الجديد:

أ-زيادة نسبة العاملين.

ب-التدريب وإعادة التأهيل.

ج-الاعتماد على التقنية الحديثة.

د-إعادة تدريب الإدارات التنفيذية.

**ثانيا : أجب عن جميع الأسئلة الآتية :**

١- ما المقصود بسوق العمل ؟

---

---

٢- اذكر العنصرين الأساسيين اللذين يتكون منهما سوق العمل .

---

---

٣-فرق بين سوق العمل المحكم وسوق العمل الراكد.

---

---

2025

2024

٤-عدد العوامل المؤثرة في سوق العمل.

---

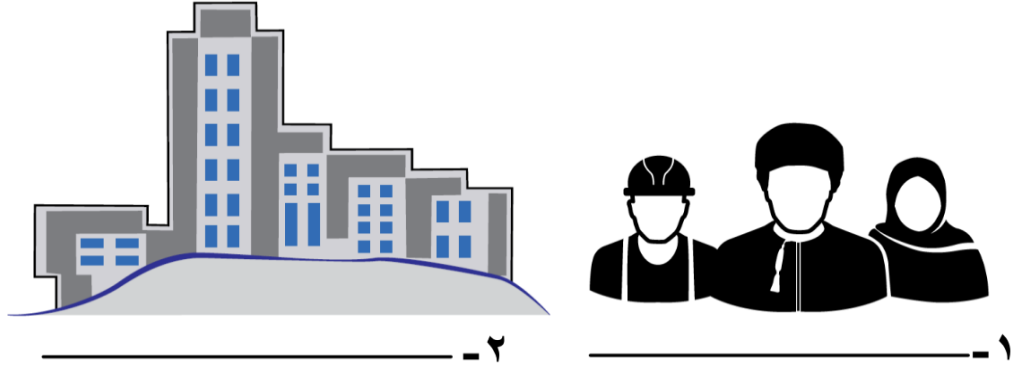
---

---

---

---

٥- ادرس الشكل الذي أمامك ثم أجب عن الأسئلة التالية :



أما الذي يشير إليه الشكل ؟

ب- اكتب على الشكل ما تشير إليه الأرقام ١ و ٢ .

٦- صنف العوامل الآتية المؤثرة في سوق العمل حسب نوعها:

م	العامل	نوع العامل المؤثر في سوق العمل
١	الخصائص السكانية	
٢	تشريعات وقوانين العمل	
٣	الأزمات المالية	
٤	المستوى التعليمي والتكنولوجي	
٥	التطورات الاقتصادية	
٦	المسافة بين مكان الإقامة الدائم ومكان العمل	
٧	العادات والتقاليد ومشاركة المرأة	

٧- صنف العبارات الواردة في الجدول الآتي حسب نوع العامل المؤثر في سوق العمل العالمي مستعينا بالمثل الموضح أدناه.

م	العبارات	نوع العامل المؤثر في سوق العمل العالمي
مثال	زيادة نسبة الذكور عن الإناث في المجتمع.	ديموغرافي
١	بعد مكان العمل عن مقر السكن الدائم للعمال.	
٢	سن العمل المسموح به في الدولة يتراوح ما بين (١٨-٦٠) سنة	
٣	نسبة ٨٠٪ من الباحثين عن عمل حاصلين على شهادة دبلوم التعليم العام.	



٨- عدد ثلاثا من نتائج حراك المؤسسات الكبرى لإعادة هيكلتها وتحقيق أرباح عالية لمواجهة المنافسة الدولية.

---

---

---

٩- اذكر أبرز التحديات التي تواجه سوق العمل .

---

---



درس : سوق العمل توجه عالمي واهتمام وطني

التاريخ : / / ١٤— الموافق / / ٢٠—

أولاً: ضع دائرة على الإجابة الصحيحة من بين البدائل المعطاه فيما يلي :

١-تعد مصفاة الدقم من قطاع:

أ- التعدين      ب- السياحة      ج- الصناعات التحويلية      د-الخدمات اللوجستية

٢-القطاع الاستثماري الذي يمثل مشروع (مدينة خزائن الاقتصادية) في سوق العمل العماني:

أ-الصناعات التحويلية      ب- التعدين      ج-الخدمات اللوجستية      د-السياحة.

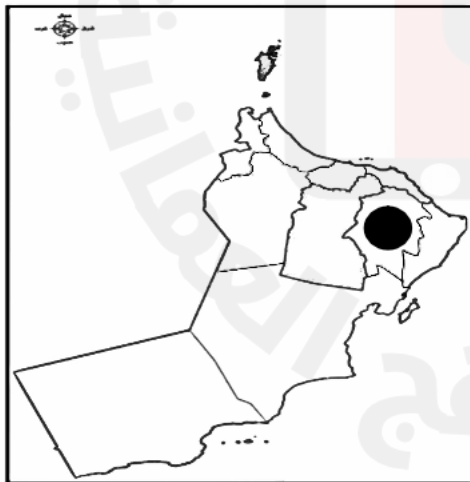
٣-المحافظة التي يوجد بها مشروع مدينة العرفان :



ب



أ




د



ج

٤- الصورة الصحيحة التي تمثل الخدمات اللوجستية :



ب-



أ-



د-



ج-

**ثانيا : أجب عن جميع الأسئلة الآتية :**

١- ما أهمية تنوع القطاعات الاقتصادية في سلطنة عمان؟

---

---

---

٢- عدد القطاعات الاستثمارية في سوق العمل العماني.





---

---

---

---

٣- اكتب ما تشير إليه الرموز الآتية في القطاعات الاستثمارية:

م	الصورة	نوع القطاع الاستثماري
١		
٢		
٣		
٤		

٤- دلل على اهتمام سلطنة عمان بتنمية القطاعات الاقتصادية المختلفة.

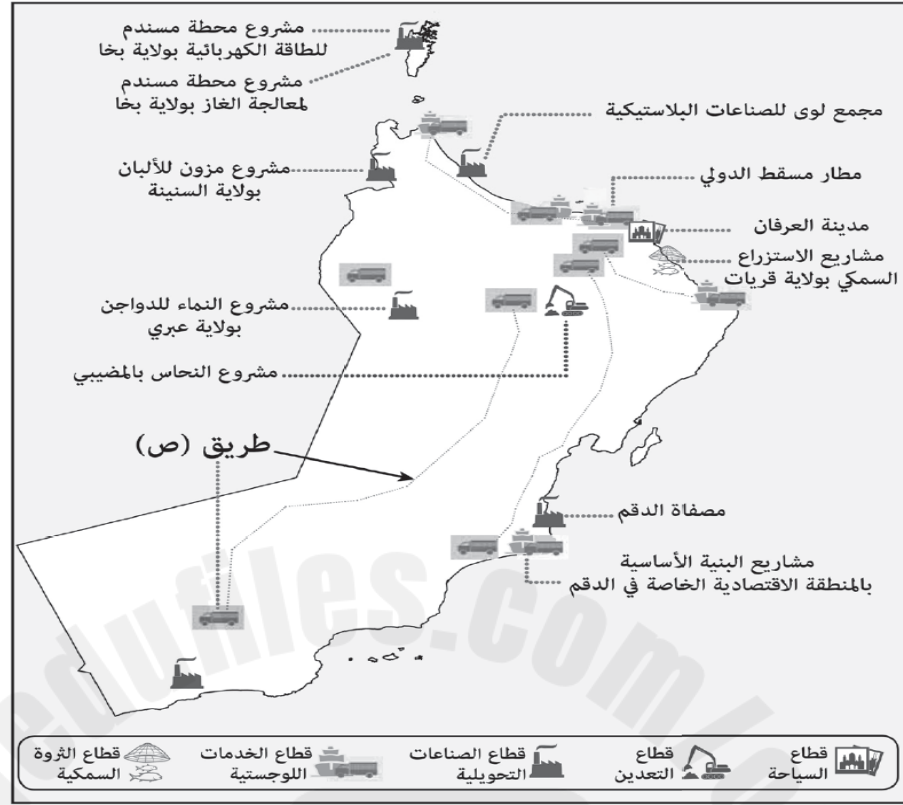
---

---

---

---

٥- ادرس خريطة المشاريع الاقتصادية لسلطنة عمان ، ثم أجب عن الأسئلة الآتية:

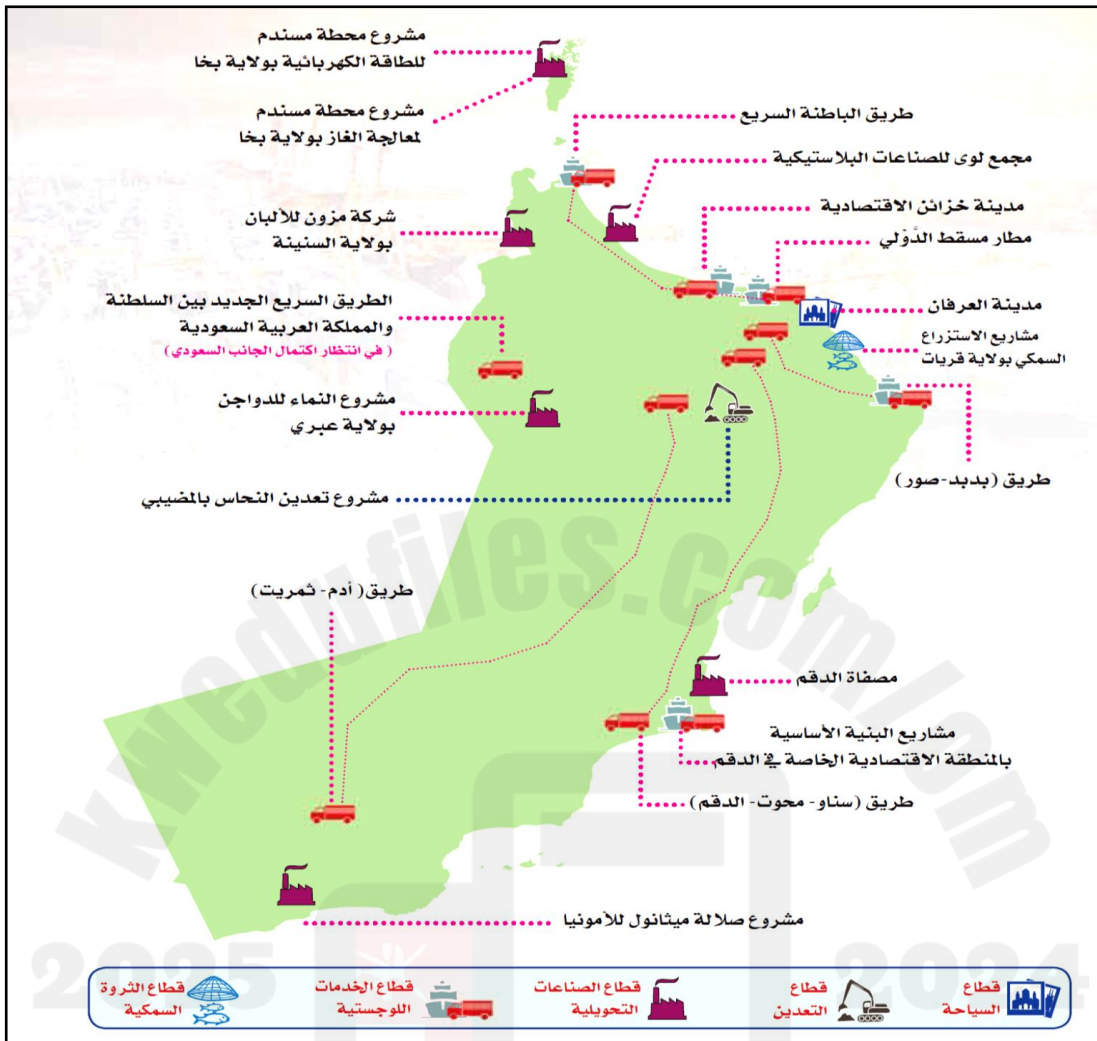


١- استخرج من الخريطة اسم مشروع اقتصادي في قطاع التعدين.

٢- اذكر اثنين من المحافظات التي يمر بها مشروع الطريق المشار إليه بالرمز (ص) .

٣- ما نوع القطاع الاستثماري الذي ينتمي إليه المشروع الموجود في ولاية صلالة حسب الخريطة.

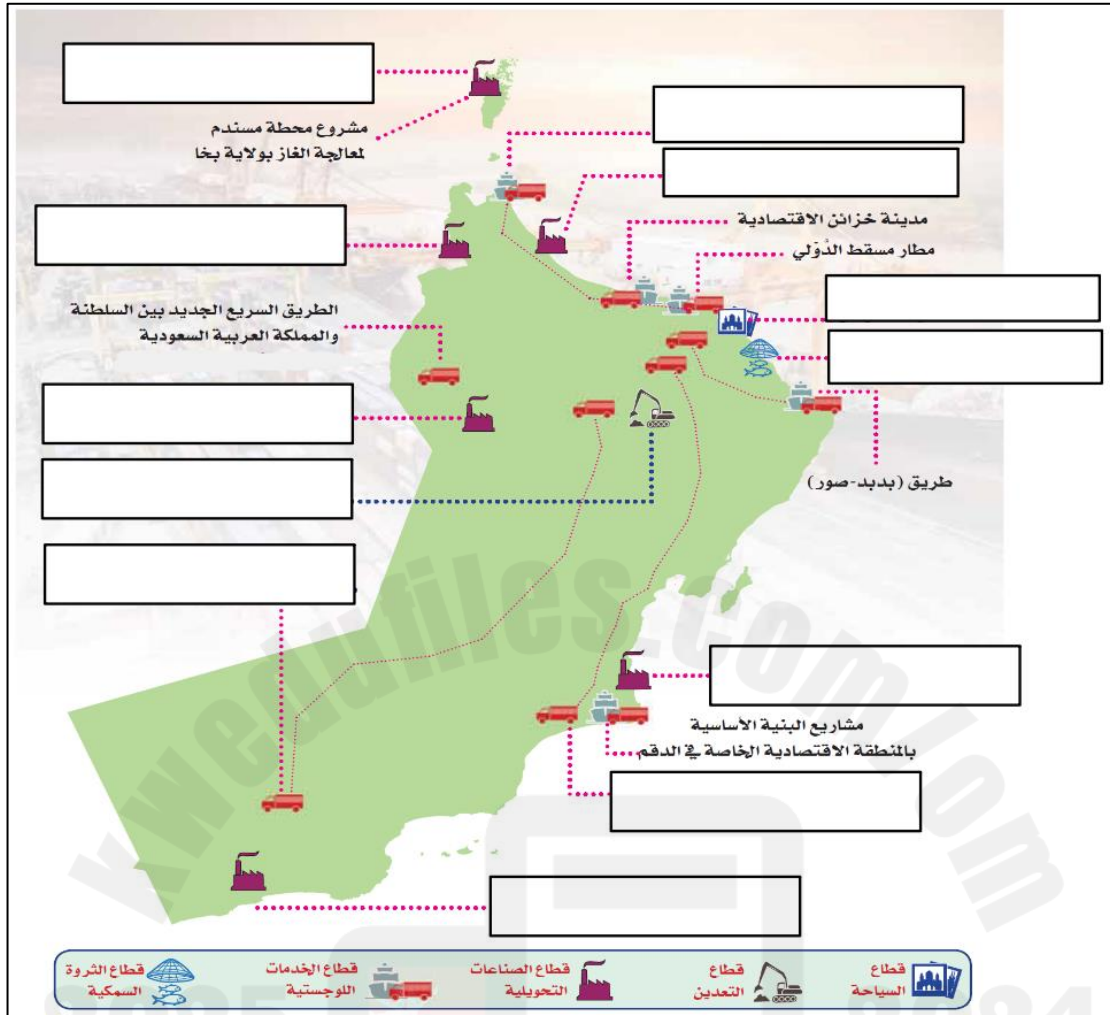
٦- بالاستعانة بخريطة المشاريع الاقتصادية في السلطنة موزعة على مختلف القطاعات الاستثمارية أكمل الجدول الآتي:



الموقع	أمثلة على المشاريع الاقتصادية	القطاعات الاقتصادية
_____	مشروع محطة مسندم لمعالجة الغاز	الصناعات التحويلية
ولاية السنينة في محافظة البريمي	_____	
_____	مشروع نماء للدواجن	
ولاية السيب في محافظة مسقط	_____	السياحة
محافظة شمالي وجنوبي الباطنة	طريق الباطنة السريع	الخدمات اللوجستية
ولاية بركاء في محافظة جنوب الباطنة	_____	
ولاية المضبيبي في محافظة شمال الشرقية	_____	التعدين
_____	مشاريع الاستزراع السمكي	الثروة السمكية



٧- أكمل البيانات الناقصة في خريطة المشاريع الاقتصادية في سلطنة عمان :



٨- صنف المشاريع الآتية حسب القطاع والمكان الذي يوجد فيه:

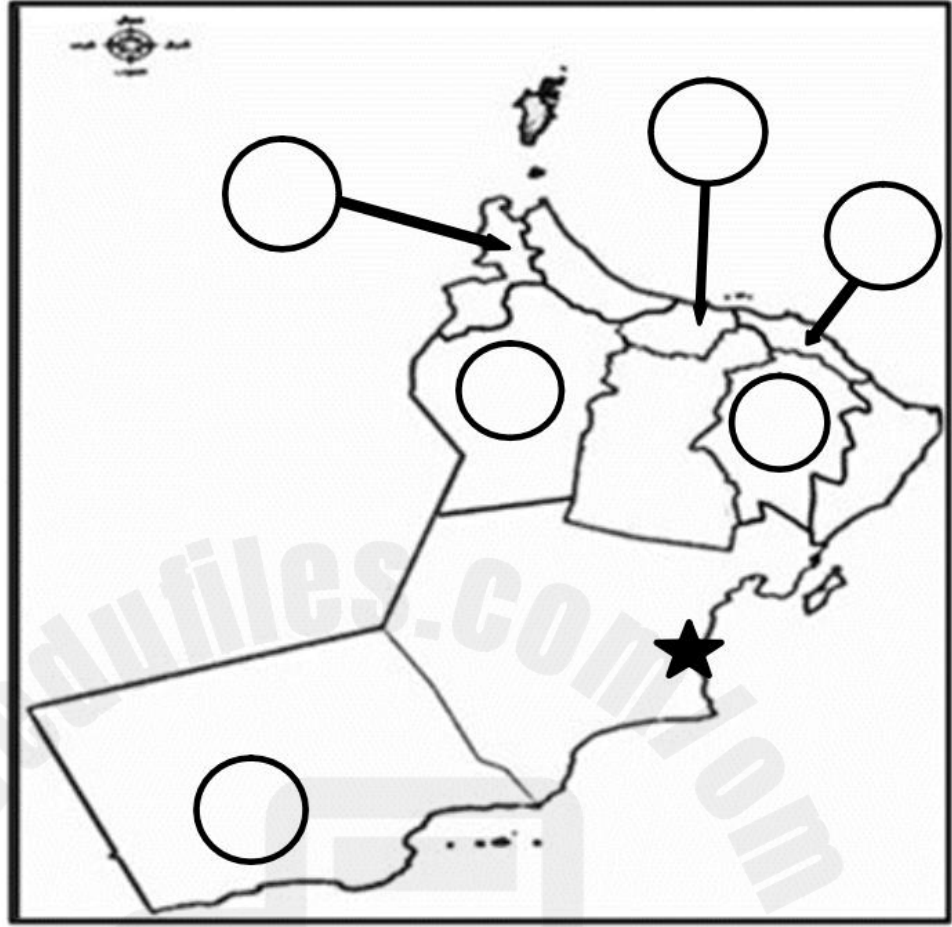
م	اسم المشروع	نوع القطاع	الولاية/المحافظة
١	مدينة خزان الاقتصادية		
٢	الاستزراع السمكي		
٣	تعددين النحاس		
٤	ميثانول للأمونيا		
٥	مصفاة الدقم		
٦	النماء للدواجن		
٧	طريق الباطنة السريع		
٨	مطار مسقط الدولي		
٩	مجمع لوى للصناعات البلاستيكية		
١٠	مدينة العرفان		

٩- صنف المشاريع الآتية حسب الرمز الذي يشير إلى القطاع الذي تنتمي إليه :

مدينة العرفان / تعدين النحاس / مصفاة الدقم / طريق الباطنة السريع/شركة مزون للألبان /  
مدينة خزائن الاقتصادية / النماء للدواجن / مطار مسقط الدولي

م	نوع القطاع	اسم المشروع
١		
٢		
٣		
٤		2025

١٠- ادرس الخريطة التي أمامك ثم أجب عن الأسئلة التي تليها :



أ- اكتب أرقام المشاريع الاستثمارية الواردة في الجدول على الخريطة حسب الموقع الصحيح للمحافظة التي توجد بها :

الرقم	المشروع
١	مشروع تعدين النحاس
٢	مشاريع الاستزراع السمكي
٣	مشروع النماء للدواجن
٤	مدينة خزائن الاقتصادية

ب- سمّ مشروع الصناعات التحويلية الذي يوجد في الموقع المشار إليه بالرمز ★ على الخريطة .

درس : سوق العمل توجه عالمي واهتمام وطني

التاريخ : / / ١٤— الموافق / / ٢٠—

أولاً: ضع دائرة على الإجابة الصحيحة من بين البدائل المعطاه فيما يلي :

١-رقم المرسوم السلطاني الخاص بإنشاء وزارة العمل :

أ- ٢٠١٨ / ٨٩ ب- ٢٠١٩ / ٨٩

ج- ٢٠٢٠ / ٨٩ د- ٢٠٢١ / ٨٩

٢-الوزارة التي تتبع لها المديرية العامة للتشغيل في سلطنة عمان :

أ-الاقتصاد ب- العمل ج- المالية د- الداخلية

ثانياً : أجب عن جميع الأسئلة الآتية :

١-اذكر النتائج المترتبة على تأثر سوق العمل العماني بالتغيرات والتطورات التي تطرأ على المنظومة الاقتصادية العالمية.

---

---

---

---

٢-عدد الإجراءات والمبادرات لتطوير سوق العمل العماني.

---

---

---

---

٣-كيف تعمل حكومة سلطنة عمان على جعل القطاع الخاص أكثر جذباً للقوى العاملة العمانية .

---

---

٤- علل إنشاء البرنامج الوطني للتطوير القيادي.

---

---

٥- اقرأ نص الخطاب السامي لحضرة صاحب الجلالة السلطان هيثم بن طارق المعظم -حفظه الله ورعاه ثم أجب عن الأسئلة التي تليه:

"كما سنولي كل الاهتمام والرعاية والدعم ، لتطوير إطار وطني شامل للتشغيل ، باعتباره ركيزة أساسية من ركائز الاقتصاد الوطني ، يستوجب استمرار تحسين بيئته في القطاعين العام والخاص، ومراجعة نظم التوظيف في القطاع الحكومي وتطويره، وتبني نظم و سياسات عمل جديدة تمنح الحكومة المرونة اللازمة والقدرة التي تساعد على تحقيق الاستفادة القصوى من الموارد والخبرات والكفاءات الوطنية، واستيعاب أكبر قدر ممكن من الشباب ، وتمكينهم من الانخراط في سوق العمل ؛ لضمان استقرارهم ، ومواكبة تطلعاتهم ؛ استكمالاً لأعمال البناء والتنمية".

من خطاب حضرة صاحب الجلالة السلطان هيثم بن طارق المعظم حفظه الله ورعاه- ٢٣/فبراير ٢٠٢٠م

أ-فسر اهتمام جلالة السلطان هيثم بن طارق – حفظه الله ورعاه – بتطوير سوق العمل والتشغيل.

---

---

---

---

---

ب-استنتج الإجراءات التي ركز عليها جلالته لتطوير سوق العمل والتشغيل في السلطنة.

---

---

---

---

---

ج-علل حرص حكومة سلطنة عمان على استيعاب أكبر قدر ممكن من الشباب وتمكينهم من الانخراط في سوق العمل.

---



المؤسسات الصغيرة والمتوسطة ...  
الأهمية والجهود الوطنية

الدرس الثاني



2025

2024

موقع المناهج التعليمية



## درس : المؤسسات الصغيرة والمتوسطة الأهمية والجهود الوطنية

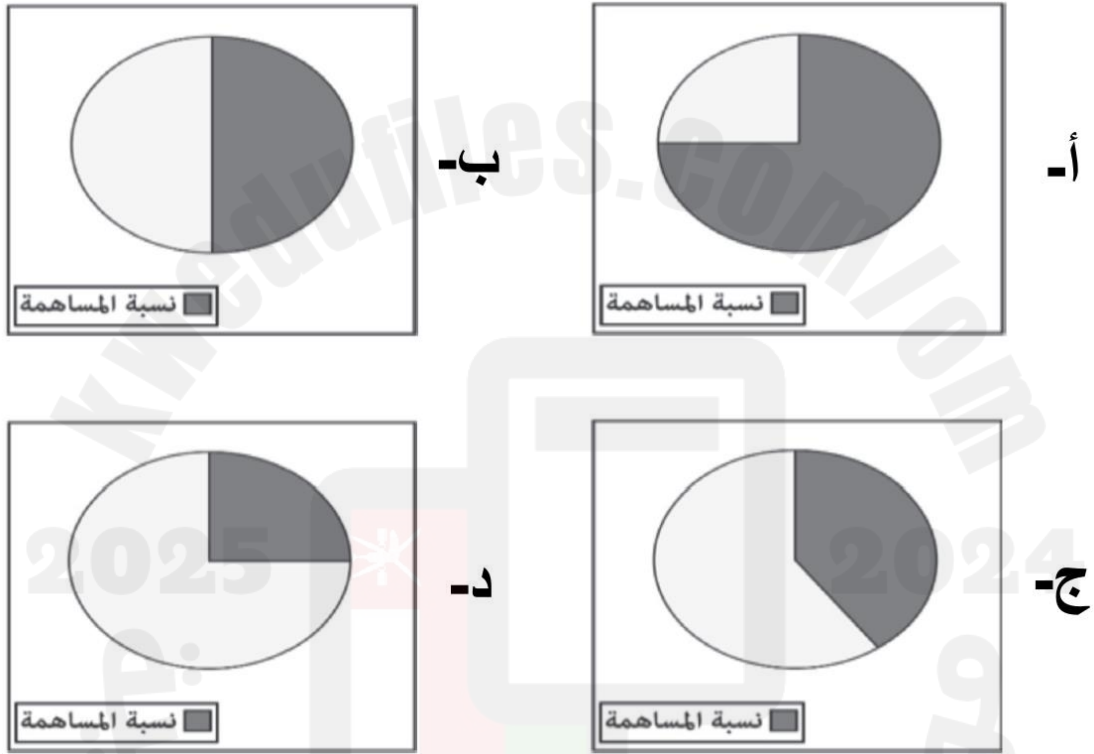
التاريخ : / / ١٤ — الموافق / / ٢٠ —

### أولاً: ضع دائرة على الإجابة الصحيحة من بين البدائل المعطاه فيما يلي :

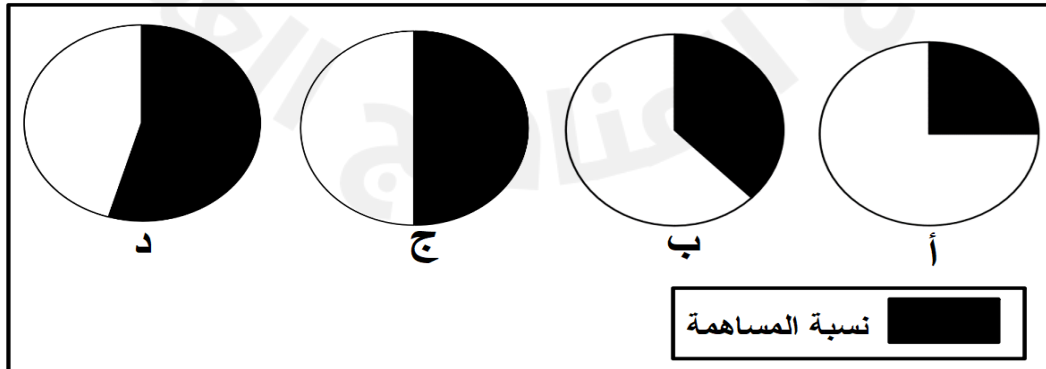
١- العام الميلادي الذي بلغت فيه نسبة مساهمة المؤسسات الصغيرة والمتوسطة في الناتج المحلي الإجمالي للولايات المتحدة الأمريكية حوالي ٥٠٪ :

أ- ٢٠١٦ ب- ٢٠١٧ ج- ٢٠١٨ د- ٢٠١٩

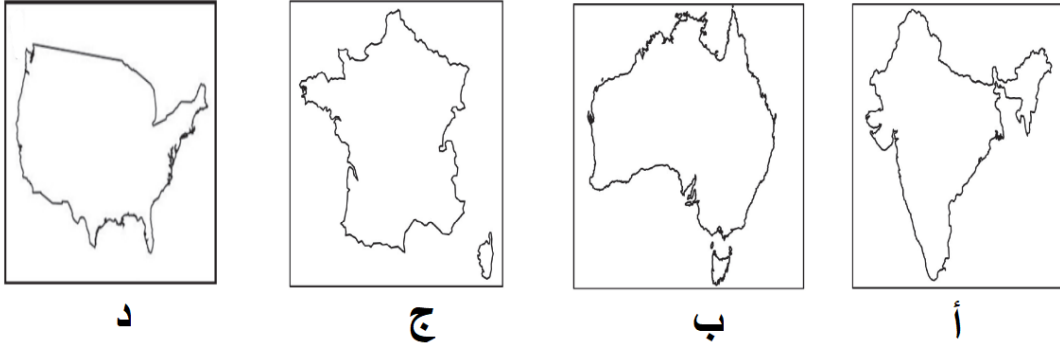
٢- الدائرة البيانية التي تمثل النسبة التقريبية لمساهمة المؤسسات الصغيرة والمتوسطة في الناتج المحلي الإجمالي للولايات المتحدة الأمريكية عام ٢٠١٧م:



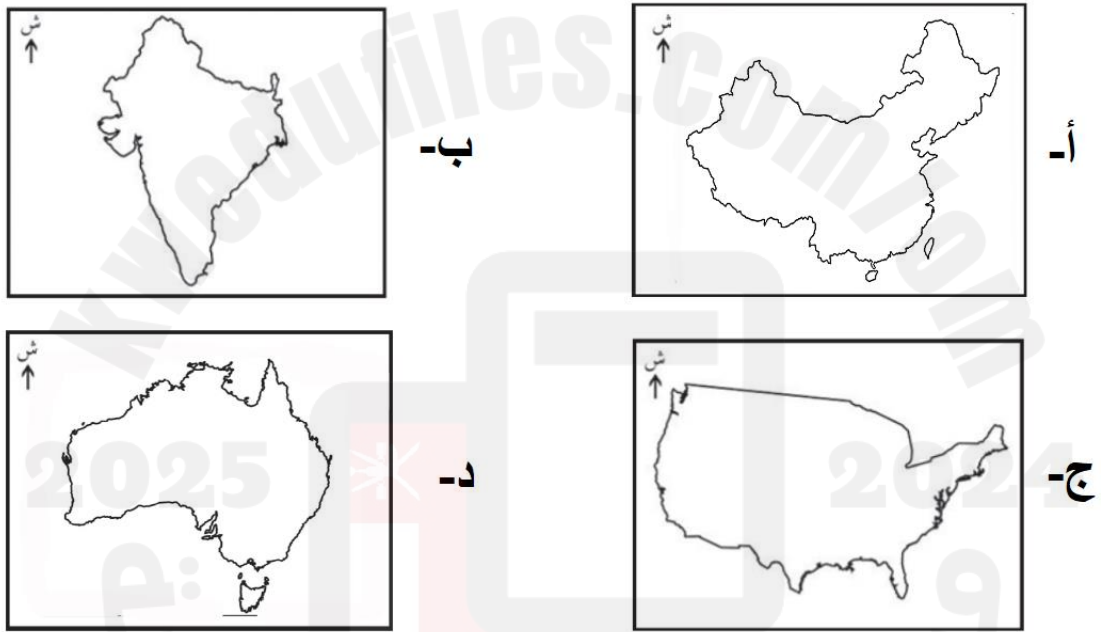
٣- الدائرة البيانية تمثل النسبة التقريبية لمساهمة المؤسسات الصغيرة والمتوسطة في الناتج المحلي الإجمالي للصين عام ٢٠١٧م:



٤- خريطة الدولة التي بلغت نسبة مساهمة المؤسسات الصغيرة والمتوسطة فيها ٥٠٪ من الناتج المحلي الإجمالي في عام ٢٠١٧ م :



٥- خريطة الدولة التي بلغت نسبة مساهمة المؤسسات الصغيرة والمتوسطة فيها ٦٠٪ من الناتج المحلي الإجمالي في عام ٢٠١٧ م :

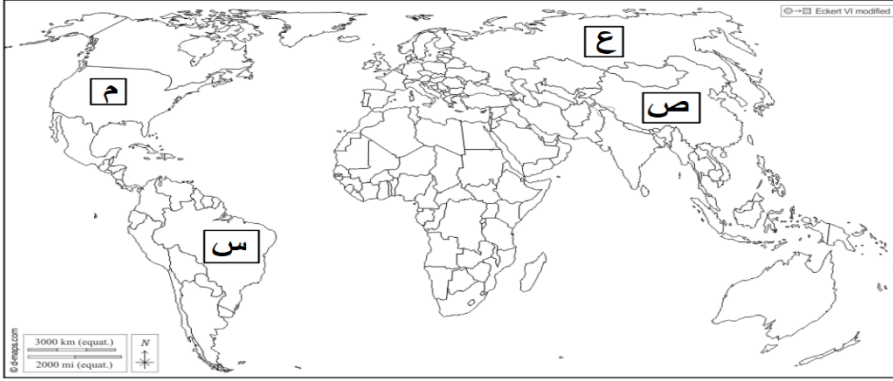


٦- الرقم الذي يشير إلى الدولة التي بلغت نسبة مساهمة المؤسسات الصغيرة والمتوسطة فيها ٥٠٪ من الناتج المحلي الإجمالي في عام ٢٠١٧ م:



- أ- (١)  
ب- (٢)  
ج- (٣)  
د- (٤)

٧- الرمز الذي يشير إلى الدولة التي بلغت نسبة مساهمة المؤسسات الصغيرة والمتوسطة فيها ٦٠٪ من الناتج المحلي الإجمالي في عام ٢٠١٧م:



أ- (س)

ب- (ص)

ج- (ع)

د- (م)



**ثانيا : أجب عن جميع الأسئلة الآتية :**

١- علل "أصبحت المؤسسات الصغيرة والمتوسطة الركيزة الأساسية للاقتصاد العالمي".

---

---

---

---

٢- عدد فوائد المؤسسات الصغيرة والمتوسطة.

---

---

---

---

---

---

---

---

٣- كيف تسهم المؤسسات الصغيرة والمتوسطة في تحقيق التوازن الجغرافي لعمليات التنمية؟

---

---

---

٤- دلل على اهتمام سلطنة عمان بالمؤسسات الصغيرة والمتوسطة.

---

٥- صنف فوائد المؤسسات الصغيرة والمتوسطة للفرد أو المجتمع بوضع إشارة ٧ وفق الجدول الآتي:

م	فوائد المؤسسات الصغيرة والمتوسطة	للفرد	للمجتمع
١	تنمية المواهب والابتكارات		
٢	رفع المستوى المهاري للقوى العاملة		
٣	تعزيز اقتصاد الدولة		
٤	الاستفادة من خامات البيئة		
٥	تحقيق التوازن الجغرافي لعمليات التنمية		
٦	تحقيق التكامل الاقتصادي مع المؤسسات الكبرى		
٧	توفير فرص عمل		
٨	تقليل التفاوت بين مستويات دخل الأفراد		

٦- دال على مساهمة المؤسسات الصغيرة والمتوسطة في الناتج المحلي الإجمالي في بعض الدول المتقدمة.

---

---

---

---

2025

2024

موقع المناهج  
العمانية

درس : المؤسسات الصغيرة والمتوسطة الأهمية والجهود الوطنية

التاريخ : / / ١٤— الموافق / / ٢٠—

**أولاً: ضع دائرة على الإجابة الصحيحة من بين البدائل المعطاه فيما يلي :**

١- تصنف أي مؤسسة ضمن المؤسسات المتوسطة إذا بلغ حجم إيراداتها السنوية بالريال العماني:

أ- أقل من ١٥٠,٠٠٠

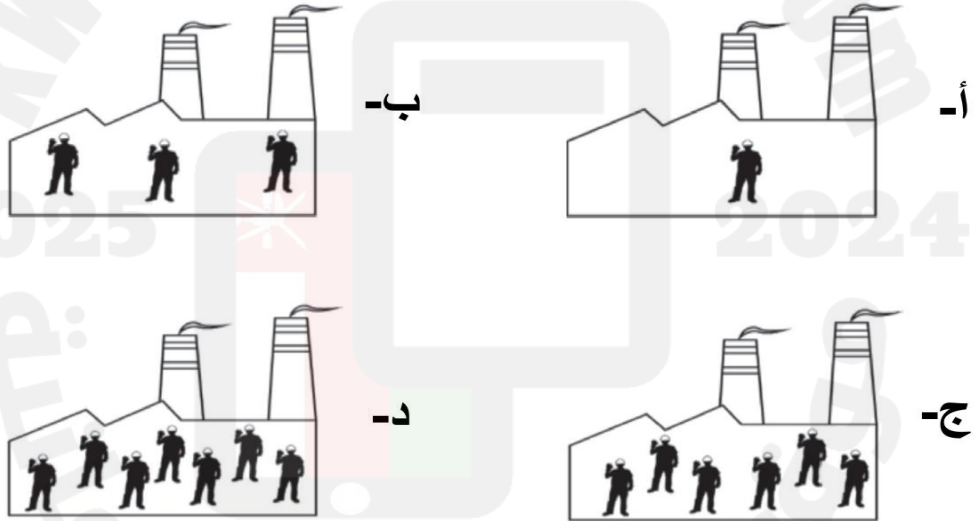
ب- من ١٥٠,٠٠٠ إلى أقل من ١,٢٥٠,٠٠٠

ج- من ١,٢٥٠,٠٠٠ إلى أقل من ٥,٠٠٠,٠٠٠

د- أكثر من ٥,٠٠٠,٠٠٠

٢- الشكل الذي يمثل مؤسسة صناعية صغيرة وفقاً لمعيار أعداد العاملين المعتمد لتصنيف

المؤسسات الصغيرة والمتوسطة في سلطنة عمان حسب المفتاح الآتي :  = ١٠ عمال :



**ثانياً : أجب عن جميع الأسئلة الآتية :**

١- ما معيار تصنيف المؤسسات الصغيرة والمتوسطة في سلطنة عمان.

---

---

---

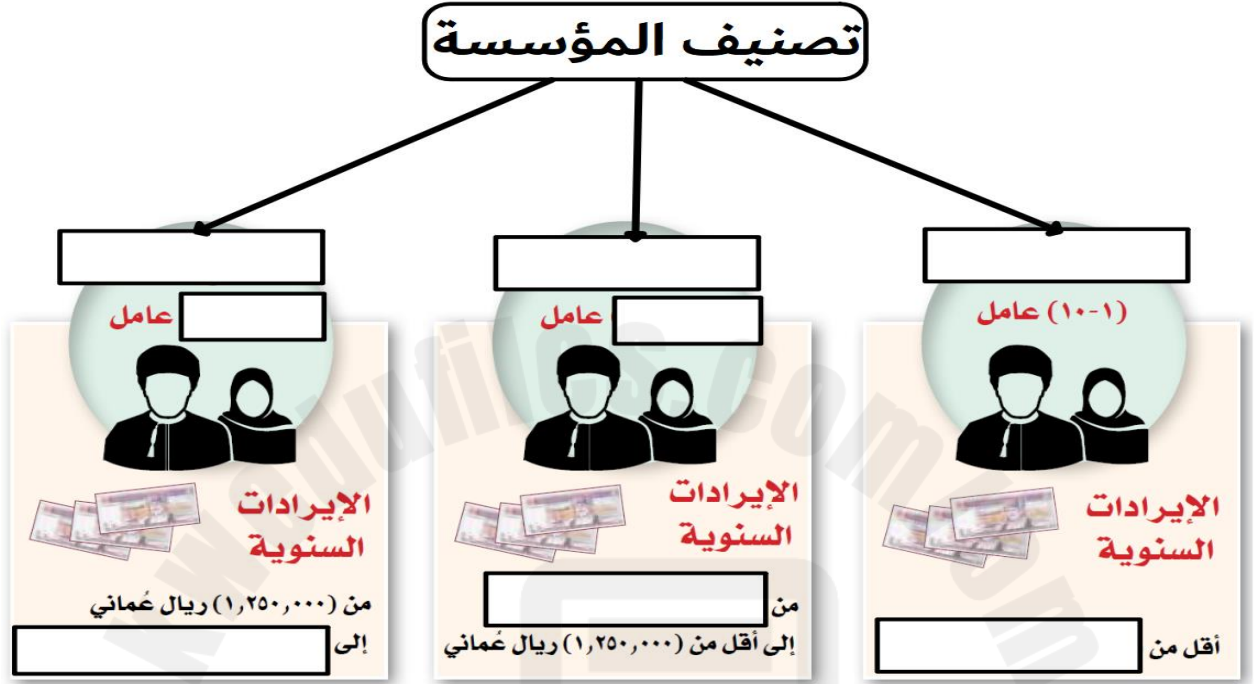
---




٢- اكتب المفهوم أو المصطلح الدال على العبارة الآتية :

- مؤسسة حكومية تعنى بتطوير المؤسسات الصغيرة والمتوسطة والتخطيط والترويج لها بالتنسيق بين القطاعين الحكومي والخاص.

٣- أمامك شكل يوضح معايير تصنيف المؤسسات الصغيرة والمتوسطة في سلطنة عمان ادرسه جيدا ثم اكتب أكمل البيانات الناقصة في الشكل :



٤- انظر إلى الشكل الذي أمامك والذي يمثل إحدى المؤسسات في سلطنة عمان ثم أجب عن الأسئلة الآتية:



أ- اسم نوع المؤسسة التي يوضحها الشكل حسب تصنيف سلطنة عمان للمؤسسات الصغيرة والمتوسطة.

ب- كم عدد العاملين فيها.

ج- أي من العبارات الآتية يمثل إيراداتها السنوية:

١,٥٠٠,٠٠٠- ريال عماني

( ☒ ) ( ضع إشارة ) ١٦٠,٠٠٠- ريال عماني

درس : المؤسسات الصغيرة والمتوسطة الأهمية والجهود الوطنية

التاريخ : / / ١٤— الموافق / / ٢٠—

**أولاً: ضع دائرة على الإجابة الصحيحة من بين البدائل المعطاه فيما يلي :**

١-الوزارة سابقا التي تتبع لها المديرية العامة لتنمية المؤسسات الصغيرة والمتوسطة:

أ-العمل ب-التجارة والصناعة ج-الاقتصاد الوطني د-المالية

٢-النسبة التي ألزمت الحكومة الشركات المنفذة للمشاريع الكبيرة بتخصيصها من قيمة المناقصة للمؤسسات الصغيرة والمتوسطة:

أ-ما لا يقل عن ١٠ % ب- ما لا يزيد عن ١٠ %

ج- ما لا يقل عن ٢٠ % د- ما لا يزيد عن ٢٠ %

**ثانيا : أجب عن جميع الأسئلة الآتية :**

١- أعط أمثلة على جهود سلطنة عمان لوضع المؤسسات الصغيرة والمتوسطة على خريطة الاقتصاد العماني مواكبة للتوجهات العالمية.

---

---

---

٢- أعط مثالا واحدا على جهود سلطنة عمان لتنمية المؤسسات الصغيرة والمتوسطة في المجالات الآتية :

أ-التشريعات والقوانين.

ب-الدعم الحكومي.

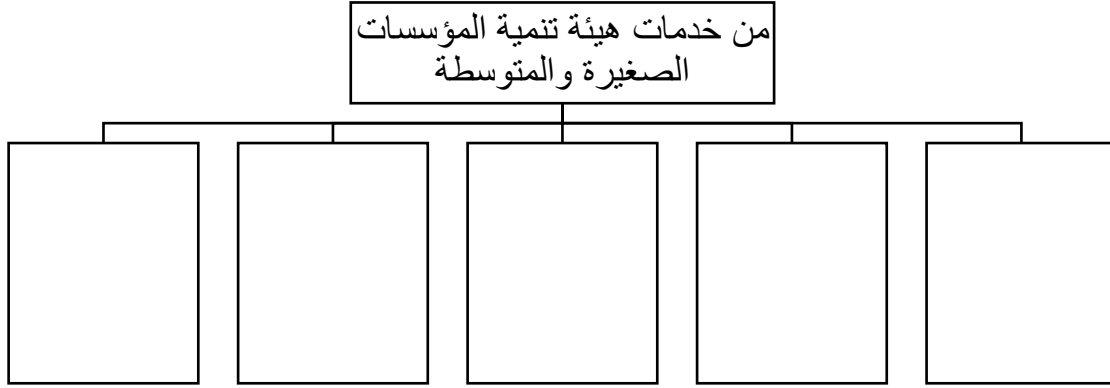
ج-التمويل.

د-تعزيز ثقافة ريادة الأعمال.

---

---

٣- أكمل المخطط الآتي:



٤- اقرأ نص الخطاب السامي لحضرة صاحب الجلالة السلطان هيثم بن طارق المعظم -حفظه الله ورعاه ثم أجب عن الأسئلة التي تليه:

«إننا إذ ندرك أهمية قطاع المؤسسات الصغيرة والمتوسطة، وقطاع ريادة الأعمال، لا سيما المشاريع التي تقوم على الابتكار والذكاء الاصطناعي والتقنيات المتقدمة، وتدريب الشباب وتمكينهم؛ للاستفادة من الفرص التي يتيحها هذا القطاع الحيوي؛ ليكون لبنة أساسية في منظومة الاقتصاد الوطني، فإن حكومتنا سوف تعمل على متابعة التقدم في هذه الجوانب أولاً بأول».

من خطاب حضرة صاحب الجلالة السلطان هيثم بن طارق المعظم -حفظه الله ورعاه - ٢٣ فبراير ٢٠٢٠م.

أ- استخلص المجالات التي ركز عليها جلالته السلطان هيثم بن طارق -حفظه الله ورعاه- في قطاع المؤسسات الصغيرة والمتوسطة.

---

---

ب- فسر اهتمام جلالته السلطان -حفظه الله ورعاه- بتنمية وتدريب الشباب العماني.

---

---

---



الاقتصاد القائم على المعرفة...  
تطلعات ورؤى

الدرس الثالث



2025

2024

موقع المناهج العمانية

درس : الاقتصاد القائم على المعرفة تطلعات ورؤى

التاريخ : / / ١٤ — الموافق / / ٢٠ —

أولاً: ضع دائرة على الإجابة الصحيحة من بين البدائل المعطاه فيما يلي :

١- الثورة الصناعية التي أسهم في ظهورها التطور الهائل والمتسارع العالمي في المجالين المعلوماتي والتكنولوجي :

أ-الأولى ب- الثانية ج- الثالثة د- الرابعة

٢-المرتكز الذي يقوم عليه الاقتصاد في الثورة الصناعية الرابعة:

أ- المال ب- المعرفة ج-اللغة د-المواصلات

٣-يمثل الشكل الذي أمامك إحدى تقنيات الثورة الصناعية الرابعة وهو :

أ-الواقع الافتراضي ب-الروبوتات

ج-التقنيات الحاسوبية د-إنترنت الأشياء



٤-الشكل الذي يشير إلى الذكاء الاصطناعي فيما يلي هو :



د-



ج-



ب-



أ-

٥- التقنية التي يشير إليها الشكل المقابل من تقنيات الثورة الصناعية الرابعة:

أ-الواقع الافتراضي ب-الطابعة ثلاثية الأبعاد

ج-الروبوتات د-التقنيات الحاسوبية



## ثانيا : أجب عن جميع الأسئلة الآتية :

١- ما المقصود بالثورة الصناعية الرابعة؟

---

---

٢- في ضوء دراستك للثورة الصناعية الرابعة أجب عن ما يلي :







أ-ما المبدأ الذي تقوم عليه الثورة الصناعية الرابعة ؟

---

ب- فسر قيامها على ذلك المبدأ .

---

٣- أمامك شكل لتقنيات الثورة الصناعية الرابعة ادرسه جيدا ثم اكتب أسفل كل شكل ما يمثله من تقنيات :

					
<hr/> <hr/>	<hr/> <hr/>	<hr/> <hr/>	<hr/> <hr/>	<hr/> <hr/>	<hr/> <hr/>

٤- عدد المجالات التي يمكن توظيف تقنيات الثورة الصناعية الرابعة فيها .

---

---

---

---

٥- ما المقصود بكل من :

أ-الذكاء الاصطناعي.

---

---

---

ب-الواقع الافتراضي.

---

---

---

ج-إنترنت الأشياء.

---

---

---

٦-كيف تسهم تقنيات الثورة الصناعية الرابعة في تنمية المجالات الآتية:  
أ-البحث العلمي.

---

---

---

ب-الاقتصاد.


---

---

---

2025

2024



درس : الاقتصاد القائم على المعرفة تطلعات ورؤى

التاريخ : / / ١٤— الموافق / / ٢٠—

**أولاً: ضع دائرة على الإجابة الصحيحة من بين البدائل المعطاه فيما يلي :**

١- المنظمة التي عرفت الاقتصاد القائم على المعرفة بأنه الاقتصاد المستند على إنتاج واستخدام وتوزيع المعارف والمعلومات والاستثمارات والصناعات ذات التقنية الحديثة من أجل تحقيق المكاسب في الإنتاجية :

أ- الأمم المتحدة للتربية والعلم والثقافة

ب- التعاون الاقتصادي والتنمية.

ج- التعاون الإسلامي

د- د- اللجنة الاقتصادية والاجتماعية لغربي آسيا.

٢- العامل الرئيسي للإنتاج في الاقتصاد القائم على المعرفة:

أ- المرونة ب- الابتكار ج- المعرفة د- المال

**ثانياً : أجب عن جميع الأسئلة الآتية :**

١- اكتب تعريف الاقتصاد القائم على المعرفة حسب منظمة التعاون الاقتصادي والتنمية.

2025 2024

٢- عدد خصائص الاقتصاد القائم على المعرفة.

2025 2024



٣-قارن بين الاقتصاد القائم على المعرفة والاقتصاد التقليدي حسب الجدول الآتي:

م	وجه المقارنة	الاقتصاد القائم على المعرفة	الاقتصاد التقليدي
١	الأسواق		
٢	المرونة		
٣	المحرك الأساسي للاقتصاد		
٤	المكان		

٤-ناقش دور الاقتصاد القائم على المعرفة في تنمية اقتصاديات الدول.

---

---

---

---

---

2025

2024

موقع المناهج  
العمانية

درس : الاقتصاد القائم على المعرفة تطلعات ورؤى

التاريخ : / / ١٤— الموافق / / ٢٠—

**أولاً: ضع دائرة على الإجابة الصحيحة من بين البدائل المعطاه فيما يلي :**

١-الوزارة التي تشرف على تنفيذ مشاريع البنية الأساسية لمجتمع عمان الرقمي :

أ-التربية والتعليم ب-النقل والاتصالات وتقنية المعلومات

ج-الاقتصاد الوطني د- التعليم العالي والبحث العلمي والابتكار

٢- العام الميلادي الذي أنشئ فيه مركز ساس لمحاكاة الواقع:

أ-٢٠١٣ ب-٢٠١٤ ج-٢٠١٥ د-٢٠١٦

**ثانياً : أجب عن جميع الأسئلة الآتية :**

١-عدد محاور استراتيجية عمان الرقمية.

---

---

---

٢- ما المقصود بكل من :

أ-الحوكمة. ٢٠٢٥

---

---

---

ب-الجيل الجديد.

٣-اذكر مثالا على إحدى مبادرات مجلس البحث العلمي (سابقا) في سلطنة عمان من أجل التحول نحو الاقتصاد القائم على المعرفة.

---

---

---

٤- وضح دور وزارة النقل والاتصالات وتقنية المعلومات بسلطنة عمان في الاقتصاد القائم على المعرفة.

---

---

---

٥- اقرأ النص الآتي ثم أجب عن الأسئلة التي تليه:

"تبنّت وزارة النقل والاتصالات (سابقاً) بالسلطنة عدة مبادرات بالشراكة مع القطاعين الحكومي والخاص لتطوير صناعة تقنية المعلومات والاتصالات في السلطنة ، وإيجاد مؤسسات صغيرة ومتوسطة متخصصة في هذا المجال وتوظيف الاقتصاد القائم على المعرفة ، بهدف إيجاد فرص عمل للشباب العماني والإسهام في تنمية الاقتصاد الوطني".

أفسر تبني وزارة النقل والاتصالات سابقاً بالسلطنة عدة مبادرات بالشراكة مع القطاعين الحكومي والخاص .

ب- ما الهدف من هذه المبادرات في مجال تقنية المعلومات والاتصالات وتوظيف الاقتصاد القائم على المعرفة ؟

ج- أعط مثالا على أهم هذه المبادرات.

٦- علل إنشاء مركز ساس لمحاكاة الواقع في عام ٢٠١٤ م .

٧- ما مقومات التنويع الاقتصادي التي يتجه نحوها الاقتصاد العماني؟

٨- انظر إلى الصورة التي أمامك ثم أجب عن ما يلي:



أ- ما الذي تشير إليه هذه الصورة؟

ب- ما الوزارة التي تشرف عليه؟

ج- اكتب الدور الذي تقوم به تلك الوزارة في هذا المجال.



## الوحدة الرابعة: وطني عُمان...هُويّة راسخة ومواكبة للعصر

يُتَوَقَّعُ من الطالب الدّارس لهذه الوحدة أن:

- ١ يوضّح أهمية تعزيز الهُويّة الوطنية في ظل المتغيرات الدّولية.
- ٢ يلخّص مركاتر الهُويّة العُمانية.
- ٣ يتعرّف تأثير الثورة المعرفية على الهُويّة الوطنية.
- ٤ يتتبّع جهود سلطنة عُمان في تعزيز قيم المواطنة العالمية.
- ٥ يُقدّر عناية السلطان قابوس بن سعيد - طيّب الله ثراه - في تعزيز قيم المواطنة.
- ٦ يعتز بالجهود التي تبذلها السلطنة لتعزيز الهُويّة الوطنية في نفوس الأجيال.
- ٧ يحلّل النصوص والجداول والأشكال.
- ٨ يكتسب القيم والاتجاهات والمهارات.

مخرجات التعلم للوحدة

الدرس الأول : الهُويّة العُمانية... استحضار الموقع واستنطاق التاريخ

الدرس الثاني : الهُويّة العُمانية في ظل الثورة المعرفية

الدرس الثالث : عُمان ... والمواطنة العالمية

دروس الوحدة



# الهوية العُمانية...

استحضار الموقع واستنطاق التاريخ

الدرس الأول



2025

2024

موقع المناهج العمانية

## درس : الهوية العمانية استحضار الموقع واستنطاق التاريخ

التاريخ : / / ١٤ — الموافق / / ٢٠ —

### أولاً: ضع دائرة على الإجابة الصحيحة من بين البدائل المعطاه فيما يلي :

١- مصدر إلهام ومنبع تشريع يهذب النفوس والوجدان ويبني إنسانا صالحا لكل زمان ومكان :

أ-التاريخ ب-اللغة العربية ج-الدين الإسلامي د-الجغرافيا

٢-وعاء الحضارة وعنوانها ووسيلة للتفاهم والتواصل والإنتاج الفكري:

أ-التاريخ ب-اللغة العربية ج-الدين الإسلامي د-الجغرافيا

٣-مرتکز الهوية العمانية الذي تشير إليه الصورة التي أمامك:

أ-الدين الإسلامي ب- اللغة العربية


ج- التاريخ د-الجغرافيا



٤-تعبر الصورة التي أمامك عن أحد مرتكزات الهوية العمانية وهو :

أ-الدين الإسلامي ب- اللغة العربية

ج- التاريخ د-الجغرافيا



٥- المرتکز الذي تشير إليه الصورة التي أمامك من مرتكزات الهوية العمانية:

أ-الدين الإسلامي ب- اللغة العربية

ج- التاريخ د-الجغرافيا



٦- المرتکز الذي يشير إلي الصورة التي تعبر عن التاريخ كأحد مرتكزات الهوية العمانية:



ب-



أ-



د-



ج-

## ثانيا : أجب عن جميع الأسئلة الآتية :

١- عرف الهوية.

---

٢- اكتب المفهوم أو المصطلح الدال على العبارة الآتية :

-مجموع السمات والخصائص المشتركة منها الثقافية والاجتماعية والجغرافية والتاريخية التي  
تشعر الفرد بانتمائه وولائه لوطنه.

٣-"يعد الدين الإسلامي من المرتكزات الراسخة للهوية العمانية" وضح ذلك.

---

---

---

٤-وضح أهمية اللغة العربية كمرتكز من مرتكزات الهوية العمانية.

---

---

---

2025

2024

موقع المناهج العمانية



درس : الهوية العمانية استحضار الموقع واستنتاج التاريخ

التاريخ : / / ١٤— الموافق / / ٢٠—

أولاً: ضع دائرة على الإجابة الصحيحة من بين البدائل المعطاه فيما يلي :

١- الاسم الذي عرفت به الحضارة القديمة التي قامت في عمان :

أ-دلمون ب- ميلوفا ج-مجان د-سومر

٢- الجهات الصحيحة التي تقع فيها الحضارات القديمة المشار إليها بالأرقام على الخريطة بالنسبة لموقع عمان:



أ-

- ١ الشرق.
- ٢ الشمال الغربي.
- ٣ الغرب.
- ٤ الشمال الشرقي.

ب-

- ١ الغرب.
- ٢ الشمال الشرقي.
- ٣ الشرق.
- ٤ الشمال الغربي.

ج-

- ١ الشرق.
- ٢ الشمال الشرقي.
- ٣ الغرب.
- ٤ الشمال الغربي.

د-

- ١ الشمال الغربي.
- ٢ الغرب.
- ٣ الشمال الشرقي.
- ٤ الشرق.

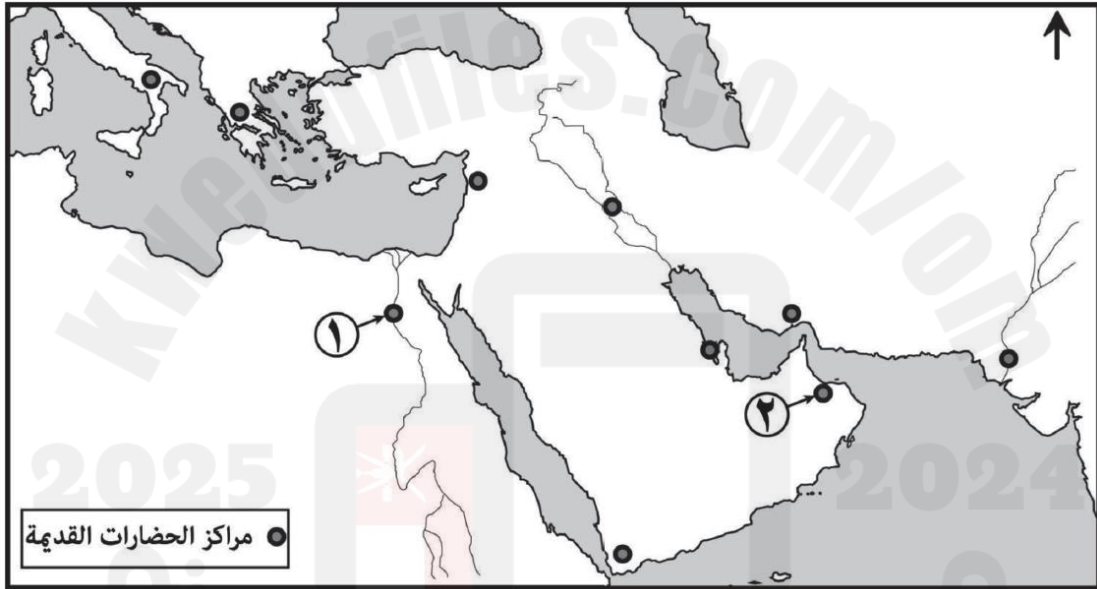


٣-اليوم الذي تحتفل فيه القوات المسلحة العمانية بيومها السنوي:  
أ-١١ سبتمبر ب-٢١ سبتمبر ج-١١ ديسمبر د-٢١ ديسمبر

### ثانيا : أجب عن جميع الأسئلة الآتية :

١-عدد أبرز الحضارات التي تواصلت معها حضارة مجان في عمان.

٢- ادرس خريطة الحضارات القديمة الآتية ، ثم أجب عن الأسئلة التي تليها:



أ-سمّ الحضارات القديمة المشار إليها :

-بالرقم (١).

-بالرقم (٢).

ب- اكتب حضارة بلاد الرافدين في موقعها الصحيح على الخريطة.

٣-اذكر النتائج الإيجابية لدخول العمانيين في دين الإسلام على الشخصية العمانية.

٤-دلل على تمسك العماني بأرضه رغم قساوة بعض تضاريسها.

٥-علل يوم ١١ ديسمبر ١٩٧٥م من الأيام الخالدة في التاريخ العماني الحديث.

٦-اقرأ الأبيات الآتية ثم أجب عن الأسئلة التي تليها :

أَمَنْتُ بِالْوَطَنِ الصَّغِيرِ جَمِيعِهِ ... وَأَبَيْتُ تَجْزِئَةَ الْمَزُونِ إِبَاءً  
وَشَهِدْتُ ضِمْنَ شَهِادَتِي شَهِادَةً ... لِعُمَانٍ لَا شَيْعًا وَلَا أَجْزَاءً  
يَا أَمْنَا الْكُبْرَى عُمَانُ تَفَاعَلِي ... فَالْعِلْمُ سَوْفَ يُبَدِّدُ الظُّلُمَاءَ

أ-من قائل هذه الأبيات؟

ب-ما الفكرة الرئيسة الواردة في الأبيات؟

ج-استخرج من الأبيات قيم الانتماء والولاء.

٧-تعد مؤسسات التنشئة الاجتماعية كالرحم الذي تتخلق فيه هوية الشباب واتجاهاتهم. في ضوء ذلك :

أ-أعط أمثلة على مؤسسات التنشئة الاجتماعية في السلطنة.

ب-كيف تسهم مؤسسات التنشئة الاجتماعية في تعزيز الهوية الوطنية من وجهة نظرك؟

٨-اكتب أهمية واحدة لكل مما يلي :  
أ-مؤسسات التنشئة الاجتماعية.

ب-الحوار.





2025

2024

موقع المناهج العمانية

## درس : عمان والمواطنة العالمية

التاريخ : / / ١٤— الموافق / / ٢٠—

### أولاً: ضع دائرة على الإجابة الصحيحة من بين البدائل المعطاه فيما يلي :

١- مجموعة من القيم التي يتحلى بها الفرد فتجعله أكثر إيجابيا في إدراك ماله من حقوق وما عليه من واجبات نحو كل من الوطن الذي تعيش فيه وأمتة والعالم بأسره:

أ-المواطنة الداخلية      ب- المواطنة العالمية

ج- المواطنة الإقليمية      د- المواطنة المشتركة

٢-الحرب التي أسهمت نهايتها في ظهور سمات جديدة للمواطنة جعلتها تنحو إلى العالمية:

أ-العالمية الأولى      ب- العالمية الثانية      ج-البلقان      د- الشيشان

### ثانيا : أجب عن جميع الأسئلة الآتية :

١- ما المقصود بالمواطنة العالمية ؟

٢- علل تتجه المجتمعات الإنسانية إلى الانفتاح نحو الثقافات الأخرى والانتماء إلى المجتمع الدولي.

٣-تتبع ظهور مفهوم المواطنة العالمية.

٤-فسر أسهم انتهاء الحرب العالمية الثانية في ظهور سمات جديدة للمواطنة جعلتها تنحو إلى العالمية.

٥- عدد أسباب الاهتمام بتعزيز قيم المواطنة العالمية.

---

---

---

---



## درس : عمان والمواطنة العالمية

التاريخ : / / ١٤— الموافق / / ٢٠—

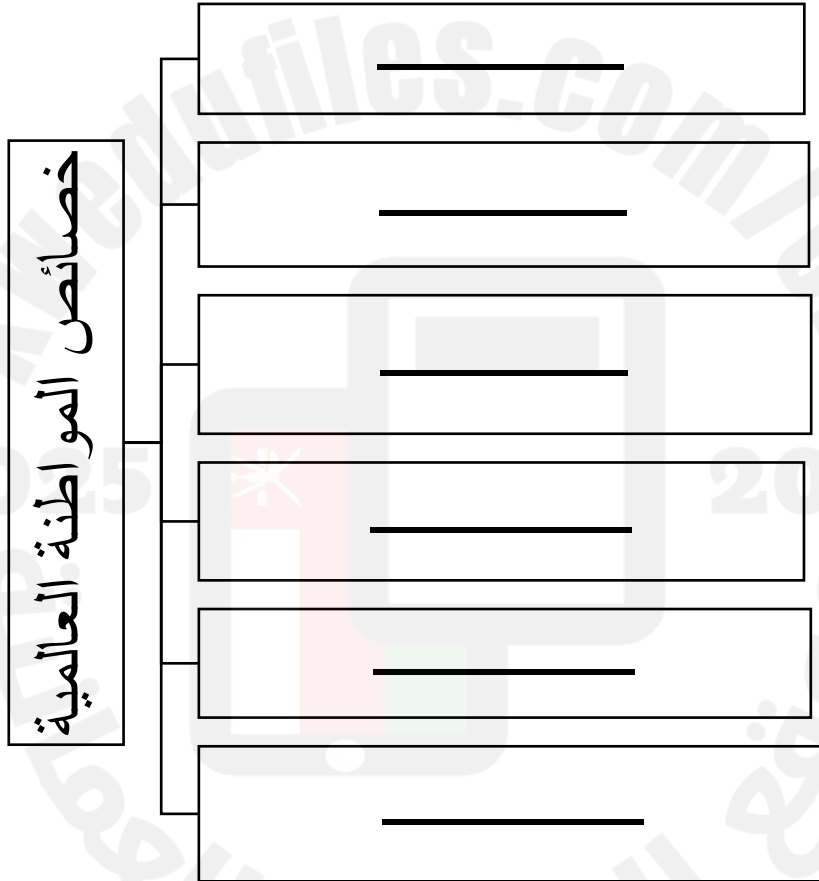
**أولاً: ضع دائرة على الإجابة الصحيحة من بين البدائل المعطاه فيما يلي :**

١- المنظمة العالمية صاحبة العبارة الآتية : (لما كانت الحروب تتولد في عقول البشر ، ففي عقولهم يجب أن تبنى حصون السلام):

أ-الأليسكو      ب- اليونسكو      ج- الإيسيسكو      د-الإسكوا

**ثانياً : أجب عن جميع الأسئلة الآتية :**

١-أكمل المخطط الآتي:



٢-علل إنشاء منظمة الأمم المتحدة.

---

---

٣- عدد صفات المواطن العالمي.

---

---

---

---

---

٤- اقرأ النص الآتي ثم أجب عن الأسئلة التي تليه :

(المواطنة العالمية ترى بأن لكل إنسان الحق في المحافظة على هويته الوطنية ، وفي الوقت نفسه تؤكد على انتمائه لمكان أوسع (الكرة الأرضية) وإلى مجموعة بشرية أكبر (المجتمع الإنساني) .

أ- استخرج قيم المواطنة العالمية.

---

---

ب-وضح العلاقة بين المواطنة العالمية والهوية الوطنية.

---

---

---

---

ج- ما أهمية تعزيز قيم المواطنة العالمية لدى أطفال العالم اليوم؟

---

---

---

---



## درس : عمان والمواطنة العالمية

التاريخ : / / ١٤— الموافق / / ٢٠—

**أولاً: ضع دائرة على الإجابة الصحيحة من بين البدائل المعطاه فيما يلي :**

١- العام الميلادي الذي انضمت فيه سلطنة عمان إلى منظمة الأمم المتحدة:

أ- ١٩٧٠ ب- ١٩٧١ ج- ١٩٧٢ د- ١٩٧٣

٢- العام الميلادي الذي وقعت فيه سلطنة عمان على اتفاقية القضاء على جميع أشكال التمييز العنصري:

أ- ٢٠٠٠ ب- ٢٠٠١ ج- ٢٠٠٢ د- ٢٠٠٣

٣- العام الميلادي الذي بدأ فيه تنفيذ مشروع رسالة الإسلام :

أ- ٢٠١٠ ب- ٢٠١١ ج- ٢٠١٢ د- ٢٠١٣

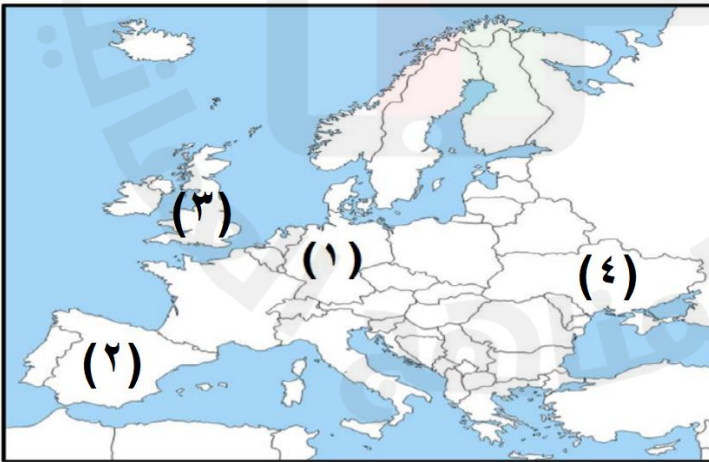
٤- عدد اللغات التي بدأ فيها إقامة معرض رسالة الإسلام لأول مرة :

أ- ٢ ب- ٣ ج- ٤ د- ٥

٥- عدد اللغات التي توسع فيها إقامة معرض رسالة الإسلام في أوروبا عام ٢٠١٣ م :

أ- ٧ ب- ٨ ج- ٩ د- ١٠

٦- الرقم الذي يشير إلى الدولة التي أقيم فيها معرض رسالة الإسلام في عام ٢٠١٠ م :



أ- ١

ب- ٢

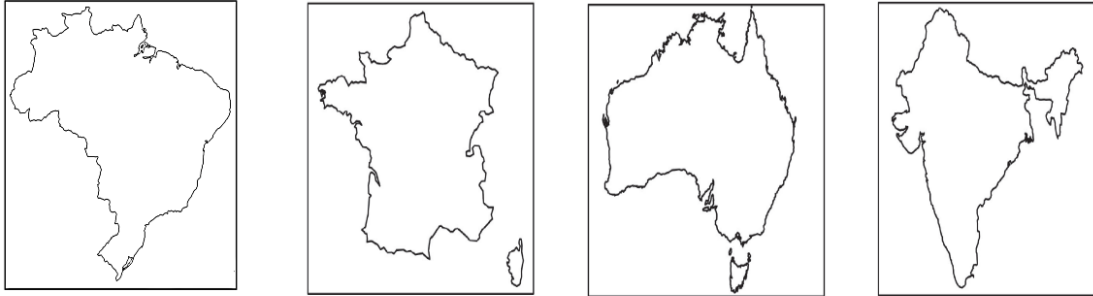
ج- ٣

د- ٤

٧- العام الميلادي الذي تم فيه تغيير مسمى معرض رسالة الإسلام إلى رسالة الإسلام من عمان:

أ- ٢٠١٣ ب- ٢٠١٤ ج- ٢٠١٥ د- ٢٠١٦

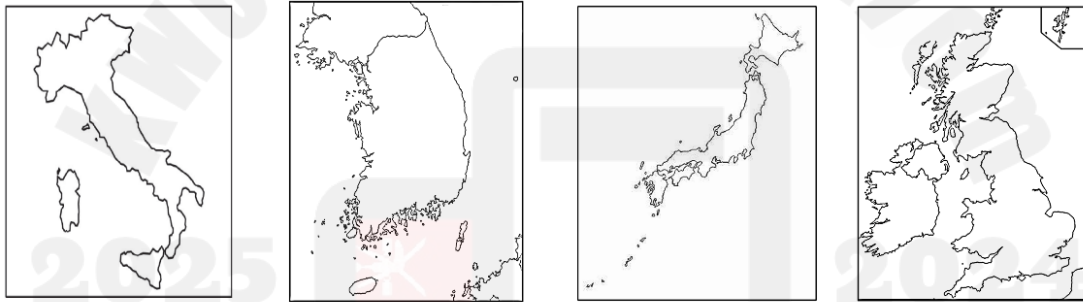
٨- خريطة الدولة التي أطلقت اسم ساحة عمان في إحدى مدنها:



أ ب ج د

٩- خريطة الدولة التي ترشح فيها معرض رسالة الإسلام من عمان لجائزة السلام في عام

٢٠١٧ م :



أ ب ج د

٤- العام الميلادي الذي بدأ فيه مشروع السلطان قابوس للمؤتلف الإنساني :

أ- ٢٠١٧ ب- ٢٠١٨ ج- ٢٠١٩ د- ٢٠٢٠

٥- شاعر عماني أدرجته اليونسكو ضمن قائمة الشخصيات المؤثرة عالميا في عام ٢٠١٩ م :

أ- الستالي ب- موسى الحسيني ج- راشد الحبسي د- أبو مسلم البهلاني

٦- العيد الوطني الذي كان في عام ١٩٩٧ م هو :

أ- الخامس والعشرين ب- السادس والعشرين ج- السابع والعشرين د- الثامن والعشرين

## ثانيا : أجب عن جميع الأسئلة الآتية :

١- دال على اهتمام سلطنة عمان بتعزيز الترابط بين المجتمعات الإنسانية.

٢- عدد جهود سلطنة عمان في تعزيز قيم المواطنة العالمية على المستويين المحلي والعالمي .

٣- أعط أمثلة على المبادرات و المشاريع والفعاليات المحلية والعالمية لجهود سلطنة عمان لتعزيز قيم المواطنة العالمية.

٤- رتب الأحداث الآتية من الأقدم إلى الأحدث :

( ) إقامة معرض رسالة الإسلام في أمانيا بعنوان التسامح الديني في سلطنة عمان.

( ) ترشيح معرض رسالة الإسلام لجائزة السلام في كوريا.

( ) إطلاق البرازيل ساحة عمان في مدينة فوزدي ايجوازو

( ) إقامة معرض رسالة الإسلام في منظمة اليونسكو.

٥- تنفذ المدارس العمانية المنتسبة لليونسكو العديد من المبادرات الهامة . في ضوء هذه العبارة أجب عن ما يلي :

أ- أعط أمثلة على هذه المبادرات.

ب- اكتب الهدف من تلك المبادرة.

٦- انظر إلى الصورة التي أمامك ثم أجب عن الأسئلة الآتية :  
أ-ما اسم المشروع الذي تشير إليه الصورة؟



ب- متى تم الإعلان عنه ؟

ج- اذكر اثنين من أهداف المشروع.

٧- اقرأ النص الآتي ثم أجب عن الأسئلة التي تليه:

( وإذا كان العالم لا يمكن أن يخلو من النزاعات والمشاكل بحكم تضارب المصالح فإننا نعتقد جازمين أن بناء الثقة بين الشعوب وتأكيد أواصر الصداقة مع الدول والعمل على تحقيق المصالح المشتركة ومراعاة الشرعية الدولية والالتزام بالمعاهدات والقوانين ..كل ذلك من شأنه أن يؤدي إلى مزيد من التفاهم الواعي ، والتعاون البناء من أجل انتصار الأمن والسلام ، وشيوع الطمأنينة والرخاء ).

أ- من قائل النص السابق؟

ب- ما العام الميلادي الذي قاله فيه؟

ج- اكتب المناسبة التي قيل فيها النص السابق.

د- استخرج اثنين من الإجراءات التي يمكن من خلالها تحقيق الأمن والسلام .

٨- ما الإجراءات التي يجب على الدول اتباعها لتحقيق الأمن والسلام العالمي.

---

---

---

---



٩- انظر إلى الصورة التي أمامك ثم أجب عن ما يلي :  
أسم الشخصية التي تشير إليها الصورة.

ب- دلل على التقدير العالمي الذي حظي به.

١٠- تم إدراج شخصية أبو مسلم البهلاني ضمن قائمة الشخصيات المؤثرة عالمياً. في ضوء هذه العبارة أجب عن ما يلي :

أ- ما العام الذي تم فيه هذا الحدث؟

ب- سم المنظمة العالمية المسؤولة عن ذلك.

ج- علل إدراج شخصية أبي مسلم البهلاني ضمن الشخصيات العالمية.

---

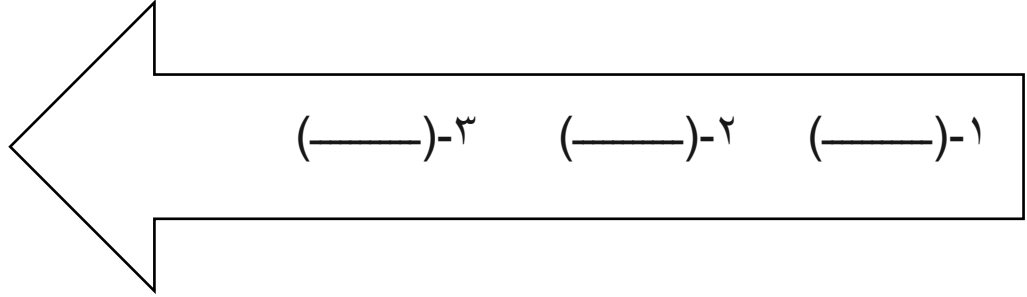
---

---

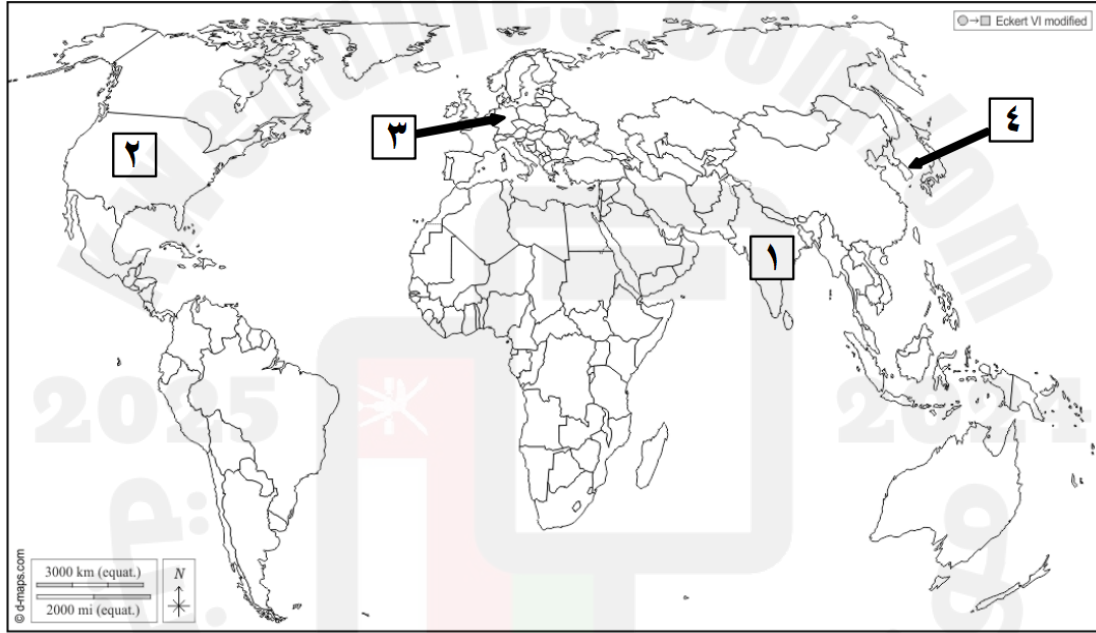
---

١١- أكمل الشكل التالي بكتابة الرمز الدال على الحدث التاريخي وفق التسلسل الزمني الصحيح من الأقدم إلى الأحدث :

- أ- الإعلان عن مشروع السلطان قابوس للمؤتلف الإنساني.  
ب- انضمام سلطنة عمان إلى منظمة الأمم المتحدة.  
ج- توقيع سلطنة عمان على اتفاقية القضاء على جميع أشكال التمييز العنصري.



١٢- أمامك خريطة للعالم ادرسها جيدا ثم أجب عن الأسئلة التي تليها :



- أ-ما الرقم الذي يشير إلى الدولة التي أقيم فيها معرض رسالة الإسلام لأول مرة بثلاث لغات بعنوان التسامح الديني في سلطنة عمان ؟ \_\_\_\_\_
- ب-ما الرقم الذي يشير إلى الدولة التي تم فيها ترشيح مشروع رسالة الإسلام من عمان لجائزة السلام في عام ٢٠١٧ م ؟ \_\_\_\_\_
- ج- ضع على الخريطة في الموقع الصحيح الدولة التي أطلقت اسم ساحة عمان في إحدى مدنها مستخدما الرمز ▲

١٣- اكتب نبذة مختصرة عن شخصية أبي مسلم البهلاني.

---

---

---

---

١٤- ابحث عن شخصيات عمانية أخرى كان لها إسهامات على المستوى العالمي.

---

---

---

---

