

تم تحميل هذا الملف من موقع المناهج العُمانية



* للحصول على أوراق عمل لجميع الصفوف وجميع المواد اضغط هنا

<https://almanahj.com/om>

* للحصول على أوراق عمل لجميع مواد الصف الثاني عشر اضغط هنا

<https://almanahj.com/om/12>

* للحصول على جميع أوراق الصف الثاني عشر في مادة حضارة اسلامية ولجميع الفصول, اضغط هنا

<https://almanahj.com/om/12history>

* للحصول على أوراق عمل لجميع مواد الصف الثاني عشر في مادة حضارة اسلامية الخاصة بـ الفصل الأول اضغط هنا

<https://almanahj.com/om/12history1>

* لتحميل كتب جميع المواد في جميع الفصول للـ الصف الثاني عشر اضغط هنا

<https://almanahj.com/om/grade12>

* لتحميل جميع ملفات المدرس باسمه المعمرية اضغط هنا

للتحدث إلى بوت على تلغرام: اضغط هنا

https://t.me/omcourse_bot




سلطنة عُمان

وزارة التربية والتعليم

المديرية العامة للتربية و التعليم بمحافظة شمال الباطنة

مدرسة عاتكة للتعليم الأساسي (١٠ - ١٢)

وفري سر فري



العالم من حولي

العام الدراسي ٢٠١٦ م - ٢٠١٧ م

إعداد الأستاذة : باسمة بنت سالم المعمرية

معلم أول تاريخ

السو حرة الأولى

عالمنا ...

عالم متسارع متغير وبلا حدود

ملتزمون بتحقيق رؤيتنا ، الإجابة في موادنا

إنجازات الاوائل طريق المستقبل - ١ -

س٢: حلل العبارة التالية: "إن ما تشهده الإنسانية اليوم من تقدم في جميع مجالات الحياة ما هو إلا نتاج لتركم الإنجازات الحضارية"

.....
.....
.....
.....

س١: اعط تعريفاً للحضارة .

.....
.....
.....
.....

س٣: تتبع مراحل الحضارة من الاستقرار إلى التمدن

١.....
.....
٢.....
.....
٣.....
.....
٤.....
.....
٥.....

س٤: اذكر النتائج المترتبة على استقرار الانسان

١.....
٢.....
٣.....

س٦: صمم خريطة مفاهيم لاهم المدن التي ظهرت في العراق وبلاد الشام نتيجة الاستقرار في بداية الالف الاولى ق.م ؟

س٥: عدد دول الشرق الادنى القديم

١.....٢.....
٣.....٤.....
٥.....

س٧: وضح النتائج المترتبة على حركة التمدن في الحضارات

١.....
٢.....
٣.....
٤.....

إنجازات الاوائلطريق المستقبل (٢)

مقومات الحضارة البشرية

اسئلة اختبارات السابقة

س١-اختاري الاجابة الصحيحة من بين البدائل المعطاه

١-أوائل الدول العربية التي عرفت في تاريخها الحديث النظام المؤسسي للدولة بمؤسساتها وتنظيماتها الادارية :

- | | | | |
|--|----------|---------------|------------|
| أ-السعودية | ب-مصر | ج- سلطنة عمان | د- قطر |
| ٢-صدر النظام الاساسي لسلطنة عمان في العام الميلادي : | أ-١٩٩٥ | ب-١٩٩٦ | ج-١٩٩٧ |
| ٣-يعد نموذجاً لاصحاب الوعي الحضاري القدماء : | أ-سقراط | ب- توينبي | ج-فلاطون |
| ٤-صاحب نظرية المدينة الفاضلة : | أ-نيوتن | ب- سقراط | ج- توينبي |
| ٥-يمثل ميلاد الحضارة : | أ-التمدن | ب- الاستقرار | ج-الحوار |
| ٦-صاحب نظرية التحدي والاستجابة : | أ-توينبي | ب-غراهام بل | ج-موريس |
| | | | د-جيمس واط |

س: وضح العوامل المؤثرة في الإبداع
الإنساني

.....*

.....*

س:اشرح مضمون نظرية التحدي
والاستجابة .

.....
.....
.....
.....
.....

الإجادة في موادنا

س: برهن على ان مواقع تدل على
الاستيطان القديمة في عمان

- ١-.....
- ٢-.....
- ٣-.....
- ٤-.....

س: برأيك لماذا لماذا يعد
الاستقرار أساساً للحضارة

امامك خريطة الحضارات القديمة ادرسيها جيدا ثم أجيب عما يلي :

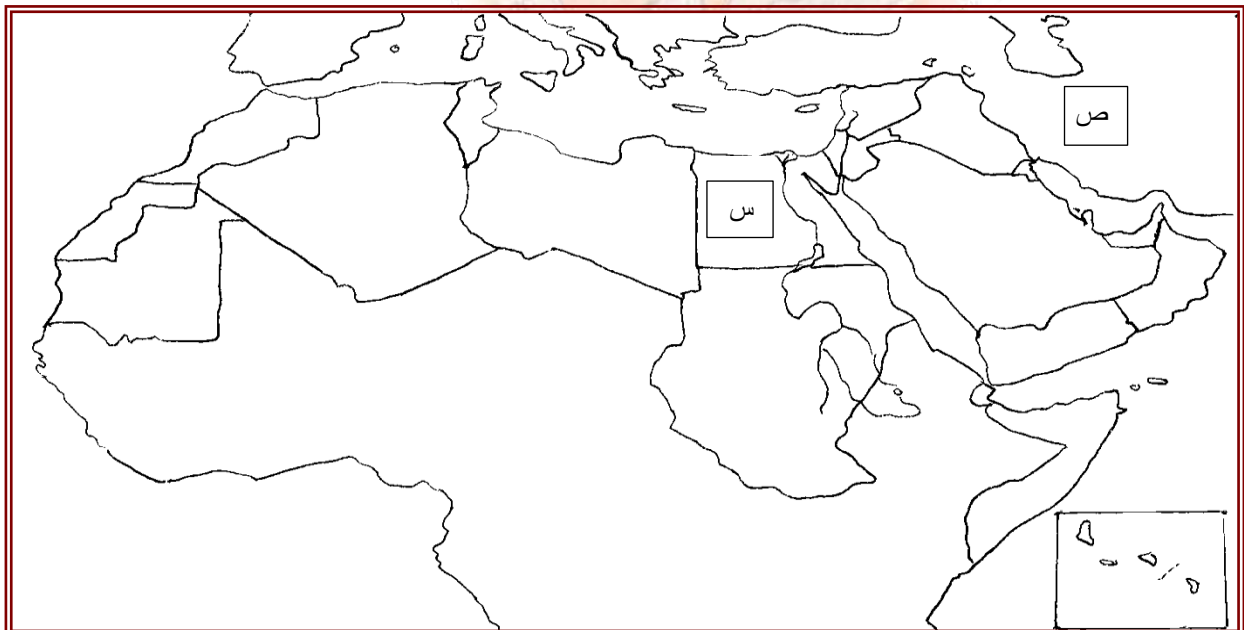
١-سمي الحضارات المشار لها بالحروف ص * س.....

٢ -وقع على الخريطة حضارة دلمون في موقعها المناسب

٣-اكتب الحضارات التالية في موقعها المناسبة :

أ-حضارة حمير ب -أكاد ج-الفينيقيون

٤-لون الحضارات القديمة التي تزخر بشبكة من طرق المواصلات تربط بين مجموعة من المدن المتطورة



اسئلة اختبارات السابقة

س:اختر الاجابة الصحيحة من بين البدائل المعطاه:

١-ثمرة كل جهد قام به الانسان لتحسين ظروف حياته المادية والمعنوية :

أ-الثقافة ب-الحضارة ج-الهوية د- العولمة

٢-جميع الدول التالية دول الشرق الادنى القديم ما عدا:

أ-بلاد فارس ب-بلاد الشام ج-العراق د-اليونان

تابع الاسئلة

٣-بدأ الانسان في الاستقرار منذ بداية القرن قبل الميلاد :

أ-٣٣٠ ب-٣٣٥٠ ج-٣٥٠٠ د-٣٦٠٠

٤-يرجع استقرار الانسان في شبة الجزيرة العربية إلى الالف قبل الميلاد :

أ-الرابعة ب-العاشرة ج-السابعة د-التاسعة

٥-الفنان الذي قام برسم تخيلي لبرج بابل في عام ١٥٦٣ م :

أ-ميخائيل ب-دافينشي ج-جان فرانسوا د-بروجل

س:للمياه دور في استقرار الانسان ونشأة
القرى والمدن وضح هذه الفكرة بالاستناد
إلى ما تعرفه عن مستوطنات الشرق الادنى
القديم

.....
.....
.....

س: لماذا يعد الاستقرار
أساساً للحضارة ؟

.....
.....
.....

إنجازات الاوائل طريق المستقبل - ٣ -

مقومات الحضارة البشرية

س٢: علل يعتبر الزمن أساساً في قيام الحضارات

.....

.....

س٤: برهن على ان السلطنة تعتبر من أوائل الدول العربية التي عرفت في تاريخها الحديث النظام المؤسسي للدولة

.....

.....

.....

.....

س٣: تتبع مراحل تطور النظام السياسي الروماني

.....*

.....*

.....*

س: اكمل المخطط لماذا يعتبر قدرة الانسان وفكره من مقومات الحضارة البشرية

١- انفراد الانسان بالفكر والعقل عن سائر المخلوقات

٢- تمكن بمرور الزمن من رصد الكثير من الظواهر والاحداث وربطها ببعضها بعضا

٤- ادى إلي تنشيط الفكر والوصول إلي مرحلة

٣- كانت قدرته على فهم

٥- ان التفكير المنطقي المعقول يعد عنصراً فعالاً في

٦- فالاختراعات العظيمة والمكتشفات والابداعات والمنجزات كانت نتاجا

٧- من هنا شهدت الحضارة الانسانية ظهور فئة من القادة

س: ٨: برهن على التفاعل بين البيئة والانسان نقل الامم والشعوب من حالة السكون "الركود" إلي حالة الحركة الدافعة

إنجازات الاوائل طريق المستقبل (٤)
الانجاز الحضاري منارة الحاضر وبناء المستقبل

س: تتبع انجازات الحضارية في المجال السياسي

-*
-*
-*
-*
-*
-*
-*
-*
-*
-*

س: صمم جدول للانجازات الحضارية في المجال الاقتصادي موضح المورد والادوات المستخدمة

اسئلة اختبارات سابقة على الانجاز الحضاري منارة الحاضر.....وبناء المستقبل



س: علل اتجاه الانسان منذ استقراره على الارض نحو الاجتماع والاتحاد مع غيره من الناس

.....
.....
.....
.....

س:دلل على دور المرأة في نشأة الحضارة الانسانية

.....
.....
.....

س: وضح كيف ظهر مفهوم المواطنة

.....
.....
.....
.....
.....

امامك خريطة حضارات العالم القديم ادرسيها جيداً ثم اجيب عن السؤال التالي

س/ ظلل الدولة التي ظهر فيها مفهوم المواطنة



انجازات الاوائل طريق المستقبل -٦- "الانجازات الفكرية"

س١: فسر يعد اختراع الكتابة أبرز انجاز في المجال
الفكري

.....
.....
.....


س٢: وضح أهمية الكتابة

.....
.....
.....

س٣ صمم مسطرة زمنية مراحل تطور الكتابة

س٤: اكمل خريطة مفاهيم التالية :

انجازات المجال الفكري



س٥: دلل أن الحضارات رغم
التنافس الا تحقق أثراً إيجابياً في
التواصل والاخذُ بين الحضارات

.....
.....
.....

س٦: امامك خريطة العالم ادرسها ثم اجيب عن
الاسئلة التالية :

١- سم أول حضارة قامت برحلة حول القارة الافريقية

.....

٢- حدد على الخريطة نقطة بداية الرحلة الفينيقية

٣- اذكر الفترة الزمنية لاول الرحلة حول القارة
الافريقية

٤- تتبع مسار الرحلة الفينيقية على الخريطة

٥- عدد نتائج الرحلة الفينيقية



التقدم الحضاري والتطور التكنولوجي

س:فسر ان الحضارة الاسلامية نقلت البشرية إلى مراحل مهمة للغاية

.....
.....
.....
.....
.....

س: وضح المقصود بالمنظومة الحضارية

.....
.....
.....
.....
.....

س: "يشهد عالم اليوم تطورات هائلة ومتسارعة في العلم والتقنية أثرت وتوثر في جميع نواحي الحياة" اثبت صحة هذه العبارة

.....
.....
.....
.....
.....

س:اعط تعريفاً للهندسة الوراثية

.....
.....
.....
.....
.....

س:دلل على ان العصر الراهن يشهد الاتجاه نحو الاستثمارات الضخمة في مجال العلم وبحوث التطوير

.....
.....
.....
.....
.....

ملتزمون بتحقيق رؤيتنا ، الإجابة في موادنا

ثورات كبرى تغير وجه العالم _ ١ _

س٢: أعط تعريفاً لمفهوم الثورة .

.....

.....

.....

.....

.....

.....

.....

س١: صمم خريطة مفاهيم لابرز التحولات التي مهدت لمراحل جديدة من الحضارة الانسانية .

س٣: حدد فترة ظهور الثورة الزراعية

.....

.....

.....

س٤: قارن في جدول بين وضع الزراعة قبل وبعد الثورة الزراعية كما موضح في الجدول التالي :

بعد الثورة الزراعية	قبل الثورة الزراعية	اوجه المقارنة
		الادوات
		اساليب الري
		النتائج

س٥: برهن اهتمام العالم بالتنمية المستدامة في المجال الزراعي .

.....

.....

.....

.....

س٧: وضح أسهام ظهور الثورة الصناعية في تطور الزراعة

.....

.....

.....

.....

.....

س٦: دلل على اهتمام السلطنة بالمجال الزراعي

.....

.....

.....

.....

.....

ثورات كبرى تغير وجه العالم _ ٢ _

س٢: تتبع مراحل تطور صناعة القطن

.....*

.....

.....*

.....

.....*

.....

.....*

.....

س١: حدد فترة ظهور الثورة الصناعية

.....

.....

.....

س٣: استنتج المشكلة المترتبة على وجود ورشة الغزل في أحد مساقط المياه

.....١

.....٢

.....

س٤: صنف في جدول العلماء التالية اسماءهم حسب الاختراعات " غرام بل

دربي - موريس " والاختراعات هي : استخدام البخار في تسير السفن وقاطرات السكك الحديدية -الهاتف -آلة لارسال البرقيات -طريقة صهر الحديد بواسطة فحم الكوك بدلاً من الفحم الحجري .

الاختراعات	العلماء

اسئلة اختبارات سابقة

١-وضح أهم التغيرات التي طرأت على الزراعة بعد الثورة الصناعية

.....

.....

....

٢-عدد أهم خطط التنمية المستدامة في المجال الزراعي

.....

.....

.....

تابع الاسئلة الاختبارات السابقة :

٣-ما المشكلات اللتان واجهتهماورش غزل النسيج نتيجة وجودها على مساقط المياه عند بداية الثورة الصناعية .

.....

.....

٤-شهدت الفترة الواقعةبين عامي (١٦٤٣-١٧٢٧م)بدايات الثورة.....

٥-بدأت حركة الاختراعات في مجال صناعة

اسئلة اختبارات سابقة

ظلل الشكل (٠) المقترن بالاجابة الصحيحة من بين البدائل المعطاه:

١- الزراعة التي اعتمدت على مجهود الانسان والحيوان معا يطلق عليها الزراعة :

٠- البسيطة ٠- الواسعة ٠- المتقدمة ٠- المستدامة

٢- صاحب اختراع الهاتف :

٠- جون كاي ٠- اسحق نيوتن ٠- فيثاغورس ٠- غراهام بل

٣- استطاع نيوكمن اختراع :

٠- الهاتف ٠- البرق ٠- آلة تعمل بالبخار ٠- صهر الحديد

٤- تم الاتصال بين العلم والتكنولوجيا في منتصف القرن الميلادي :

١٦-٠ ١٧-٠ ١٨-٠ ١٩-٠

٥- كتب أنطوني سميت عن الثورات الحقيقية التي قامت بدور خطير في الحياة الانسانية ومنها:

٠- الزراعة ٠- الصناعة ٠- التجارة ٠- الكتابة

س٣: علل شملت الثورة الصناعية على الفكر الثقافي والتطوير

.....

.....

.....

.....

.....

.....

س٢: قارن بين الزراعة البسيطة والزراعة المستدامة من حيث نوع

الزراعة والادوات وطريقة الزراعة

وجه المقارنة	الزراعة البسيطة	الزراعة المستدامة
الادوات		
الطريقة		

ثورات كبرىتغير وجه العالم _ ٣ _

س٢: اعط مفهومأ
الرأسمالية الصناعية

.....
.....
.....
.....

س١: اشرح العبارة التالية : "ارتبطت الثورة
الصناعية باختراع آلة الطباعة وظهور العلم
الحديث وحركة التنوير والتحول الي التمدن

.....
.....
.....
.....

س٤: فسر ان الثورة

الصناعية في بعض إنجازاتها
لم تكن مرتبطة ارتباطاً وثيقاً
بالنظريات والمبادئ العلمية

.....
.....
.....
.....
.....

س٣: صنف نتائج الثورة الصناعية إلى نتائج اجتماعية ونتائج اقتصادية

نتائج اجتماعية	نتائج اقتصادية

س٥: دلل على ان الثورة الصناعية في بعض إنجازاتها
لم تكن مرتبطة بالنظريات والمبادئ العلمية في البداية

س٦: برهن ان الثورة الصناعية في منتصف القرن
التاسع عشر الميلادي شهد اتصالاً وثيقاً بين العلم
والتكنولوجيا

.....
.....
.....
.....
.....

س٧: سم الثورة التي ظهرت
بعد الثورة الصناعية

.....

نتائج ثورة تكنولوجيا المعرفة

س ١: صمم خريطة مفاهيم نتائج تكنولوجيا المعرفة

س ٢: صمم خريطة ذهنية للخدمات التعليمية
لثورة تكنولوجيا المعرفة

س ٣: اعط تعريفاً للحكومة الالكترونية

س ٤: فسر قامت السلطنة بمشروع
الاستراتيجية الوطنية لمجتمع عمان
الرقمي

س ٥: حلل العبارة التالية: " العمل في أي وقت وفي أي مكان"

س ٦: اشرح طريقة عمل التلاجة الذكية

س ٧: عدد فوائد تكنولوجيا الانتاج

ثورة تكنولوجيا المعرفة

مقومات ثورة تكنولوجيا المعرفة

س٣: عدد استخدامات الطاقة الذرية

-*
-*
-*
-*

س٢: وضح الآثار الناجمة عن ارتباط
تكنولوجيا المعرفة بالمستقبل

-*
-*
-*

س٤: حلل العبارة التالية : " أصبحت ثورة تكنولوجيا
المعرفة المحرك الاول للتغيير في الالفية الثالثة

-
-
-
-
-

س٥: اعط تعريفًا للاقتصاد المعرفي

-
-
-
-
-

س٦: دال بالارقام على ازدهار تجارة الحواسيب
والمعدات والبرمجيات والمواصلات الالكترونية

-*
-*

امامك خريطة العالم ادرسها جيداً ثم اجيب عن الاسئلة التي تليها :

- ١- اكتب الحرف "س" في موقع الدولة التي يعود لها أصل العالم الفيزيائي إسحاق نيوتن صاحب قانون الجاذبية الارضية
- ٢- ظلل الدولة التي عقد فيها ندوة التنمية المستدامة للقطاع الزراعي وتنظيم سوق العمل خلال الفترة من ١٠-١٢ / ٢٠٠٧م
- ٣- حدد أول الدولة التي ظهرت فيها حركة التنوير في القرن ١٨م
- ٤- اكتب معمل منلو بارك في موقع الدولة التي يوجد فيها
- ٥- ضع دائرة حول الدولة التي إلقاء عليها أول قنبلة ذرية عام ١٩٤٥م
- ٦- سمي الدولة التي فيها عدد العمال الذين يعملون في مجال تجارة الحواسيب يفوق عدد العمال يعملون في مجال صناعة السيارات
- ٧- استخرج من الخريطة الدولة التي بتحويل اقتصادها إلى عصر تقنية المعلومات
- ٨- اكتب رقم "٣" في موقع الدولة التي ظهرت فيها آلية (العمل في أي وقت وأي مكان)



ملتزمون بتحقيق رؤيتنا ، الإجابة في موادنا

عالم الغد آمال وتحديات - ١ -

س٢: وضح التغيرات الاجتماعية والاسرية نتيجة التغيرات العميقة والسريعة التي تشهدها بدايات الالفية الثالثة

.....

.....

.....

.....

.....

س١: علل استشراف المستقبل أمر بالغ الأهمية

.....

.....

س٤: فسر ظهور منظمات المجتمع المدني

.....

.....

.....

.....

س٣: اعط تعريفًا لعلماء المستقبليات

.....

.....

.....

س٥: عرف منظمات المجتمع المدني

.....

.....

.....

.....

آراء المفكرين
حول العلاقات
الاسرية في
الالفية الثالثة

الآراء

النتائج

المفكرين المتشائمين

المفكرين المتفائلين

س٦: اختار الإجابة الصحيحة من بين البدائل المعطاه

١- يتصف العمل في منظمات المجتمع المدني بأنه

أ- طوعي وفردى ب- طوعي وجماعي

ب- إلزامى وفردى ج- إلزامى وجماعي

عالم الغد آمال وتحديات - ٢ -

س٢: صمم خريطة المفاهيم لمظاهر عصر المعرفة

س١: وضح ما يتميز به عصر المعرفة

١

٢

س٤: اذكر النتيجة المترتبة في ثورة
المعرفة لتشكيل النظم الاجتماعية
والتوجهات المستقبلية

١

.....

٢

س٣: فسر انتقال زمام الريادة المجتمعية تدريجياً من أيدي رجال
الاعمال والثروة والنفوذ إلي المعرفيين

.....
.....
.....
.....
.....

س٥: عرف المنظومة القيمية

.....
.....
.....
.....
.....
.....
.....

س٦: سم المجتمع الذي يتوقعه علماء المستقبل ان ينتقل
له العالم بعد مجتمع المعلوماتي والمعرفة

.....

س٩: من وجهه نظرك ماهي توقعات التي سيشهدها المجتمع
القادم

١

٢

٣

٤

س٧: عدد الدعائم الأساسية التي يعتمد
عليها المجتمع الحالم

.....
.....

س٨: متى يسبح للمعلومة أهمية في عصر التخيلية

.....
.....
.....

عالم الغدآمال وتحديات -٣-

س٢: صمم خريطة مفاهيم لاهم الاختراعات والاكتشافات العلمية التي يتوقعها علماء المستقبليات في الالفية الثالثة

س١: وضح النتيجة المترتبة على التجارة الإلكترونية

.....
.....
.....

المجالات	الاختراعات والاكتشافات	التساؤلات
أسرار الفضاء		
وسائل التصوير		
أجهزة الكمبيوتر		
الخيال العلمي		

س٣: عرف الخيال العلمي

.....
.....
.....
.....

عالم الغدآمال وتحديات - ٤-

امامك خريطة العالم ادرسها ثم اجيب عن الأسئلة التالية

- ١- اكتب اسم قرية تشاينشيروس في الدولة التي توجد فيها
- ٢- ظلل الدولة التي يوجد بها ٥٠ أسرة المتصلة بالشبكة ويقوم بالتصدير الخضروات إلي نيويورك
- ٣- حدد الدولة التي مزارعو الثوم لديهم موقعاً على شبكة الانترنت
- ٤- ضع الدائرة على الدولة التي يوجد بها مطاعم صينية يستوردوا الثوم من الصين عبر شبكة الانترنت



الوحدة الثانية



بين الواقع و المستقبل

ملتزمون بتحقيق رؤيتنا ، الإجابة في موادنا

الطاقة حياة العالم - ١ -

س٢: فرق بين الوقود والوقود الاحفوري

س١: اعط تعريفاً للطاقة

.....
.....
.....

س٤: دلل على
انه يختلف
نوعية الوقود
المستخدم في
إنتاج الطاقة
وكميته وأساليب
استخدامه من
مكان إلى آخر

.....
.....
.....
.....
.....
.....
.....
.....

س٣: دلل على ان توزيع موارد الطاقة المتاحة
يختلف من منطقة إلى أخرى على الأرض

١.....
.....
٢.....
.....
.....

س٦: تتبع مصادر الطاقة قبل الثورة الصناعية

١.....
.....
٢.....
.....

س٥: صمم خريطة مفاهيم لمصادر الطاقة الأولية

س٨: اعط أمثلة انه على الرغم من
التقدم الذي حدث في بعض التقنيات لدي
بعض الدول الا انه مازالت بعض المصادر
الطاقة قيد التجارب

.....
.....
.....

س٧: فسر صعوبة تحديد الفترة التاريخية لاستخدام بعض
مصادر الطاقة

.....
.....
.....

س٩: أ- ما النتيجة المترتبة على معرفة الانسان للشراع

.....

ب- متى استخدم الانسان الفحم في توليد الطاقة اللازمة للصناعة

س ۲: اکمل ما يلي :

٤- الواط هو.....

.....

.....

١٩٧٣ م

۲۰۰۵م

اختصار لمنظمة
التعاون الاقتصادي
والتنمية

أعلى إقليم التزود بالطاقة

أقل إقليم تزود بالطاقة

التزود بالطاقة في العالم

عام ۱۹۷۳ م

عام ۲۰۰۵م

س٧:وضح أسباب اختلاف نصيب الفرد من الطاقة من إقليم إلى آخر

س ٧: فسر تقوم الكثير من الدول المنتجة للطاقة بالتزود الدائم بمصادر الطاقة بمعدل يفوق استهلاكها

.....

.....

.....

الطاقة.....حياة العالم - ٤ -

س ١: صمم خريطة مفاهيم لعوامل ازدياد استهلاك الطاقة على مستوى العالم

س ٢: تتبع التأثيرات السلبية على البيئة نتيجة الاستخدام المفرط للوقود الأحفوري

- ١.....
.....
- ٢.....
.....
- ٣.....
.....

س ٣: وضح المقصود بشركاء الطاقة

-
-
-

س ٤: عدد إنجازات شركاء الطاقة في مجال حماية البيئة

- ١.....
.....
- ٢.....
.....
- ٣.....
.....

س ٥: اشرح طريقة حجز الكربون مع الرسم

-
-
-
-
-
-

س ٦: فسر يعاني سكان الدول النامية من شح الحطب

-
-

امامك خريطة العالم اجيب عن الأسئلة التالية :

- ١- ضع دائرة حول الدول التي تسهم الطاقة الشمسية المستخدمة بنسبة ١% من مصادر الطاقة المتجددة
- ٢- القارة التي سكانها يستطيعون الحصول على ٢٥% من الطاقة
- ٣- رسم الرمز # في موقع الدول التي بينها شركات متعددة الجنسيات
- ٤- ظلل الدولة التي تقوم بإعادة حقن مكامن النفط المنتجة بالكربون كوسيلة لدعم الاستخلاص البترولي
- ٥- اكتب الرقم ٣ في موقع الدولة التي تقوم بتخزين غاز ثاني أكسيد الكربون في الطبقات الجيولوجية



النفط بين الاستمرارية والنفاد - ١ -

س١: عرف النفط الخام

.....

.....

.....

.....

.....

.....

س٢: فسر النفط هو أساس الطاقة المحركة لعجلة الحياة في وقتنا الحاضر

.....

.....

.....

.....

.....

س٣: اكمل مايلي :

١- أصل كلمة النفط غير عربية فهي محورة من كلمة

٢- يعود أصل كلمة النفط إلي اللغة

٣- الكلمة المرادفة لكلمة النفط ويعود أصل التسمية إلي الكلمة

٤- كلمة البترول مكونة من مقطعين الأول وتعني المقطع الثاني..... وتعني

٥- أول شعب خفر بئراً للنفط في القرن الرابع ق.م

س٥: دلل أن النفط لا يتوزع بصورة متساوية على قارات العالم وأقاليمها المختلفة

.....

.....

.....

س٤: صمم الخط الزمني لاكتشاف النفط واستخدامه

س٦: بالرجوع للكتاب المدرسي ص ٦٧ الشكل ١٢

اجيب عن الأسئلة التالية : ١- أعلى إقليم لانتاج النفط أقل إقليم لانتاج النفط

٢- رتب الأقاليم انتاج النفط ترتيباً تصاعدياً :

١	٢	٣
٤	٥	٦
٧	٨		

النفط بين الاستمرارية والنفاد - ٢ -

س١: قارن بين منظمة الأوبك والاوابك كما موضح في الجدول التالي

اسم المنظمة	سنة التأسيس	المقر	دول الأعضاء	الأهداف
منظمة الأوبك				
منظمة الاوابك				

س٢: فسر وجود بعض الدول في مقدمة منتجي النفط الخام ولكنها لا توجد في قائمة الدول المصدرة

.....

.....

.....

س٣: علل تختلف طرق بيع النفط من إقليم إلى آخر في العالم

.....

.....

.....

.....

س٤: صمم خريطة مفاهيم لطرق بيع النفط في العالم

.....

.....

.....

.....

.....

س٥: فرق بين طريقة بيع النفط عند المصدر وبيع النفط عند مناطق التصنيع

.....

.....

.....

.....

.....

س٦: فسر تصاعد انتاج البترول منذ عام ١٨٥٦م في الولايات المتحدة الامريكية

.....

س٧: تتبع تطور الإنتاج النفط في الولايات المتحدة منذ النصف الثاني من القرن ١٩م

١.....

٢.....

٣.....

٤.....

س٨: عرف المخزون الاستراتيجي

.....

.....

.....

النفط بين الاستمرارية والنفاذ-٣-

س١: تتبع ارتفاع أسعار النفط منذ عام ١٩٧٠م

١.
٢.

س٢: عدد العوامل التي تؤثر في
أسعار ارتفاع وانخفاض النفط

١.
٢.
٣.

س٣: صنف خامات النفط من حيث المنشأ وكثافته

-
-
-
-

س٤: فسر ان أسعار النفط
سترتفع بشدة قبل وقت نفاذه

١.
٢.

س٥: اشرح تقنية الاستخلاص المعزز للنفط التي استخدمتها
السلطنة

١.
٢.
٣.

س٦: اكمل ما يلي :

- ١- تعبر سنة الذروة لسلطنة عمان لانتاج النفط
.....
- ٢- اهم الحقول النفط التي اكتشفت لعام ٢٠٠٧م
أ..... ب.....

س٧: الدراسات التي يؤكد بها خبراء النفط

يستخدم حالياً من النفط	
زيادة الطلب	
المكتشف	
ينخفض الاحتياطي العالمي	
يعادل المستهلك من النفط	

س٩: صمم خريطة مفاهيم لاهم الصناعات التي تتأثر سلبياً
نتيجة انخفاض انتاج النفط

س٨: من وجهه نظرك ما الدول التي تتوقع ان تستهلك
مستقبلاً

.....

النفط بين الاستمرارية والنفاد - ٤ -

س٢: ما النتيجة المترتبة على انقسام العالم بين أصحاب صناعة الآليات التي تعمل على الوقود الحيوي وبين أصحاب الدخل المحدود الذين يعتمدون على مصادر الطعام رخيصة الأسعار

.....

س٤: صمم خريطة مفاهيم لعدد المدن المليونية في العالم

س٦: كم تبلغ مساهمة السلطنة من إجمالي إنتاج النفط في الشرق الأوسط

.....

س٨: اعط تعريفاً للاحتياطيات المؤكدة

.....
.....
.....
.....
.....
.....
.....

س١: باستخدام أسلوب حل المشكلات " عودة الزراعة المحلية للانتعاش" حدد ما يلي :

١- المشكلة

٢- سبب المشكلة

٣- النتائج

.....

٤- الحلول

.....

.....

س٣: وضح مفهوم المدن المليونية

.....

س٥: استنتج النتائج المترتبة على حياة المدن بعمر عصر النفط

.....
.....
.....
.....

س٧: وضح أهمية السلطنة العالمية في الاحتياطي المؤكد

.....
.....
.....

النفط بين الاستمرارية والنفاد-٥-

امامك خريطة العالم ادرسها جيداً ثم اجيب عن الأسئلة ما يلي :

١- ظلل الدولة التي يعود لها أصل كلمة النفط فهي محورة من كلمة نافثا

٢- اكتب الحروف التالية في الموقع المناسب للحدث

ب- الدولة التي قامت برصف الطرق بالقار عام ٨٠٠ م

أ- الدولة التي حرقت النفط لتبخير الماء المالح في القرن ٤ ق.م

ح- الدولة التي يعود لها ايرون دراك اكتشاف البترول عام

ج- الدولة انتجت البترول بطريقة اقتصادية عام ٩٠٠ م
١٨٥٩ م

ت- أول دول عربية تنتج النفط عام ١٩١٠ م

خ- الدولة التي إنشأت أول معمل تقطير عام ١٨٦١ م

هـ- الدولة التي اكتشف البترول عام ١٩٦٤ م

د- مقر منظمة أوبك

٣- ضع دائرة على مقر منظمة الاوابك

٤- اكتب رقم ٣ في موقع الدولة التي يوجد بها ميناء روتردام

٥- وقع على الخريطة الدولة التي يمتاز نفطها بالخفيف



الطاقة المتجددة رؤية مستقبلية - ١ -

س١: اعط تعريفاً للطاقة المتجددة

.....

.....

.....

.....

.....

س٢: صمم خريطة مفاهيم لاهم الأسباب التي دفعت الي الاتجاه للطاقة المتجددة

٤-الاحتباس الحراري

السبب	النتيجة

س٣: وضح يعتبر أمن الطاقة الوطني والعالمي من الأسباب التي دفعت إلي الاتجاه للطاقة المتجددة

.....

.....

.....

.....

س٥: فسر انخفاض تكاليف الطاقة المتجددة

.....

.....

س٦: اكمل ما يلي :

١- استخدمت الدول الخليجية النفط كسلاح سياسياً في العام الميلادي

٢- تأثيرات الاحتباس الحراري على مناخ الكرة الأرضية

.....

.....

س٧: علل إن تغيراً جذرياً في نظام الطاقة العالمي سيكون أمراً بالغ الصعوبة

.....

.....

.....

.....

س٨: دلل على توجه الكثير من دول العالم إلي تنويع مواردها من الطاقة

١.....

.....

.....

٢.....

.....

.....

س٩: وضح التحدي الحقيقي لمستقبل الطاقة المتجددة

١.....

.....

٢.....

.....

.....

٣.....

الطاقة المتجددة رؤية مستقبلية - ٢ -

س٢: اعط تعريفاً لأصحاب رؤوس
الأموال المغامرين

.....
.....
.....

س١: عدد الاستراتيجيات والخطط التي تعتمد على
معطيات واضحة فيما يتعلق بمصادر الطاقة المتجددة

١.....
.....
٢.....

س٣: فسر لا تجذب مشاريع الطاقة الشمسية
وطاقة الرياح من أصحاب الشركات الكبرى

.....
.....

س٤: اكمل العبارة التالية :

يتم تمويل مشروعات الطاقة الشمسية
والوقود الحيوي عن طريق المساهمة
المباشرة فـ.....

س٦: وضح التحدي الطاقة في الدول النامية

.....
.....
.....

س٥: اذكر مخاطر تمويل تكنولوجيا الطاقة
المتجددة

١.....
٢.....
٣.....
٤.....
٥.....
٦.....

س٨: أ- حدد فترة تحقيق أهداف الالفية
الإيمانية التي اقترحتها الأمم المتحدة

.....

ب- اكتب رمز أهداف الالفية الإيمانية

س٧: علل زاد من مستوى التحدي في الدول النامية ارتفاع
أسعار النفط عام ٢٠٠٤م

.....
.....
.....

س١٠- عدد أنواع الطاقة المتجددة

١-.....٢.....
٣.....٤.....
٥.....٦.....
٧.....٨.....

س٩: فسر لم يتوقف تفكير الانسان يوما بحثا عن موارد
متنوعة للطاقة

.....
.....

الطاقة المتجددة رؤية مستقبلية - ٣-

س١: اعط تعريفاً للوقود الحيوي

.....
.....
.....

س ٢: اكمل ما يلي :

- ١- يتم الحصول على الايثانول من
٢- يتم الحصول على الديزل الحيوي من نباتات

س٣: صمم خريطة مفاهيم طرق الحصول على الايثانول

س ٤: صمم خريطة ذهنية طرق الحصول على الديزل الحيوي

س٥: للوقود الحيوي مميزات وصعوبات وضحها في الجدول التالي :

المميزات	الصعوبات
.....
.....
.....
.....
.....
.....
.....

س٦: دلل على استخدام الوقود الحيوي

.....
.....
.....
.....
.....

س٧: اكمل ما يلي :

- ١- تتصدر قائمة دول العالم في إنتاج وقود الايثانول بنسبة ٤٥,٢%.....
٢- نسبة الويات المتحدة من إنتاج وقود الايثانول%
٣- القارة التي استأثرت بنحو من السوق العالمي للبيوديزل عام ٢٠٠٥ م
٤- الدولة التي جاءت في طليعة انتاج نصف الحجم من انتاج البيوديزل وتليها
٥- درجة الحرارة تسخين النبات للحصول على الايثانول
٦- يعرف E85 انه هو
اهم الدول التي قامت بإزالة أشجار الغابات لزراعة محاصيل الطاقة و..... و.....

الطاقة المتجددة رؤية مستقبلية - ٤ -

س٢: فسر يعد الهيدروجين العنصر الاخف وزنا والأكثر توافرا في الكون

.....
.....

س١: صمم خريطة مفاهيم لاهم ثورات شهدها العالم

س٤: اذكر الدول التي تمكنت من الحصول على الهيدروجين كوقود بعد فصله من عن مكوناته بعمليات كيميائية

.....

س٣: حدد مميزات وصعوبات استخدام الهيدروجين كوقود

المميزات	الصعوبات

س٦: اكمل ما يلي :

١- تبلغ مساحة الكرة الأرضية التي تغطيها المياه.....

٢- تبلغ مساحة الكرة الأرضية التي تغطيها اليابس

٣- تولد الطاقة المائية حاليا من الكهرباء في العالم قرابة

٤- نحو نصف الكهرباء في عدد الدول

٥- تشير دراسات الأمم المتحدة أنه لم يتم تطوير لمحطات الطاقة الكهربائية حول العالم سوىالمواقع

٦- ظواهر جغرافية تعمل على تحريك الأجزاء السطحية من مياه البحار والمحيطات ١.....
٢.....

٣.....

س٥: اشرح عمل خلايا الوقود الهيدروجيني

.....
.....
.....
.....
.....

س٧: تتبع أهمية البحار والمحيطات في حياة الانسان حتى القرن ١٢ ميلادي

.....
.....
.....
.....
.....
.....

س٨: "اعتمدت العديد من دول العالم على ظاهرة المد والجزر في تولد الطاقة الكهربائية" في ضوء هذه العبارة اجيب عن الأسئلة التالية :

١- أين قامت أول منشأة صناعية في العالم

٢- لماذا سمي المعمل الرانس.....

٣- متى تم إنشاء معمل الرانس.....

٤- كم تبلغ سعة المد والجزر عند معمل الرانس

٥- عدد الدول التي استخدمت طاقة المد والجزر في مشاريع في الثمانينيات من القرن العشرين

الطاقة المتجددة رؤية مستقبلية - ٥ -

س٢: كم تبلغ نسبة مساهمة النفط والغاز في الدخل القومي لسلطنة في عام ٢٠٠٥ م

س١: ما المصدرين المهمين للطاقة الكهربائية والطاقة الحرارية في عمان

س٤: حدد الفترة التي تمثلت في أولى خطوات التنويع في استعمال الغاز الطبيعي المسال لتوليد الكهرباء في السلطنة

س٣: بالرجوع لخطاب جلالة السلطان في الكتاب المدرسي ص٩٣

استنتج ما يلي :

١- عدم الاعتماد على النفط كمورد وحيد لتمويل التنمية

٢- المصادر التي اكد حضرة صاحب الجلالة على تنويع مصادر الدخل القومي

س٦: اذكر ما يلي :

١- الدولة التي تتفق على مشاريع الطاقة الشمسية ويعادل ما تنفقه الدول العربية جميعها في هذا المجال

٢- الدولة التي يوجد فيها عدد العاملين في مجالات الطاقة المتجددة ضعف العاملين في الدول العربية في هذا المجال

س٥: ما انسب طاقة متجددة استخدمها مستقبلاً في عمان

ولماذا؟

س٧: قارن بين الطاقة الشمسية وطاقة الرياح المصادر المتجددة المقترح استخدامها مستقبلاً في السلطنة كما موضح في الجدول التالي

أنواع الطاقة	ايجابيات استخدام الطاقة	صعوبات استخدام الطاقة
الطاقة الشمسية		
طاقة الرياح		

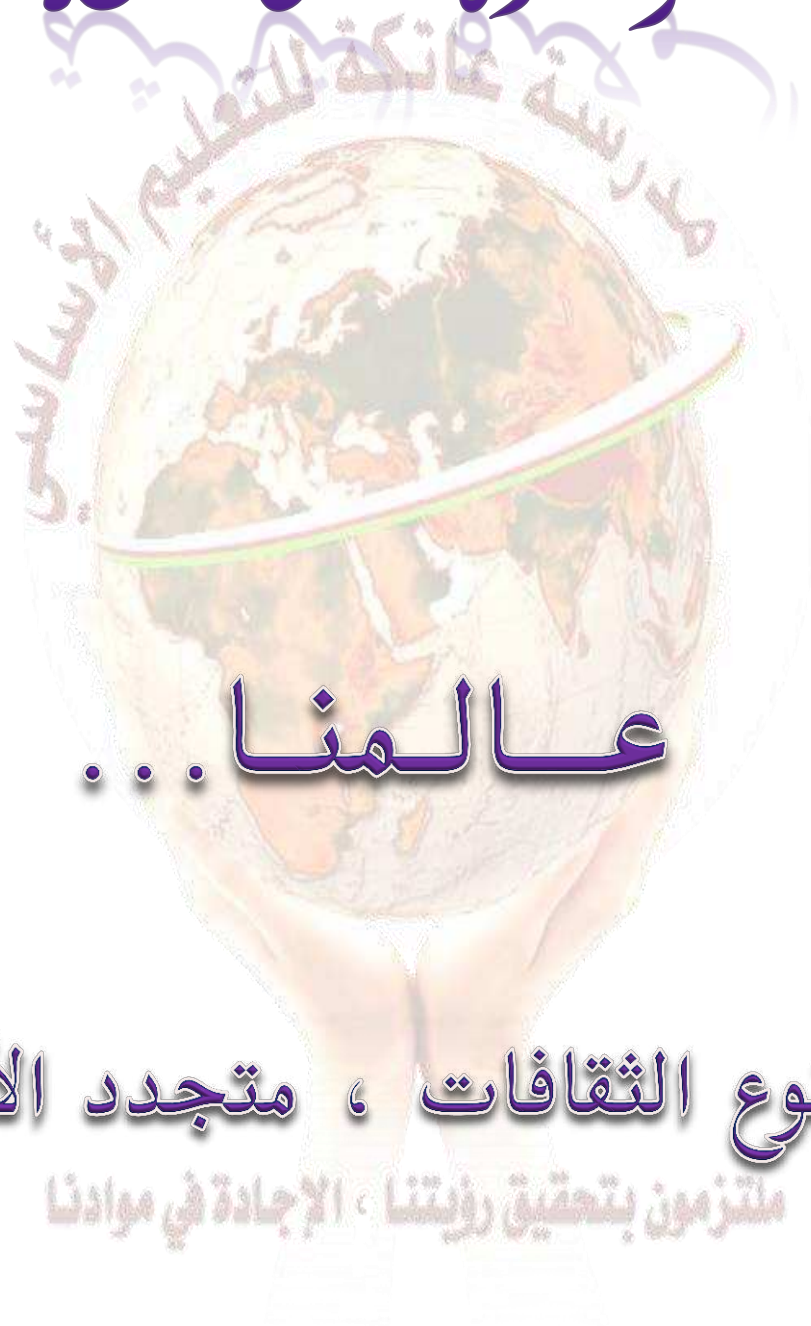
س٨: بعد معرفتك للصعوبات استخدم الطاقة الشمسية وطاقة الرياح ما الحلول لاستخدام طاقات بديلة

امامك خريطة العالم درسها جيداً ثم اجيب عن الأسئلة التالية:

- ١- اكتب على الخريطة اسم الدولة التي انتجت تسع موديلات من السيارات التي يمكن تشغيلها باستعمال الوقود E85
- ٢- ضع رقم "١" في موقع الدولة التي تصدر إنتاج وقود الايثانول بنسبة (٤٥,٢%) عام ٢٠٠٥م
- ٣- اكتب حرف أ في موقع الدولة التي بلغ انتاج وقود الايثانول بنسبة (٤٤,٢%) عام ٢٠٠٥م
- ٤- وقع على الخريطة الدولة التي جاءت في طليعة الدول لانتاج البيوديزل عام ٢٠٠٥م
- ٥- ضع دائرة على الدولة التي أنشأت أول منشأة صناعية تعمل بظاهرة المد والجزر عام ١٩٦٦م
- ٦- ظلل الدولة التي يسهم النفط والغاز في الدخل القومي بنسبة ٨٥% عام ٢٠٠٥م



الوحدة الثالثة



عالمنا...

متنوع الثقافات ، متجدد الأفكار

ملتزمون بتحقيق رؤيتنا ، الإجابة في موادنا

الثقافة الإنسانية المفهوم والاهمية - ١ -

س١: سم العالم صاحب العبارة التالية: "أعرف نفسك"

.....

س٣: أ- أين ظهر مفهوم الثقافة في أول الامر على انه تدريب العقل وتكوين الروح

.....

ب- حدد الفترة الظهور

س٢: اعط تعريفاً للثقافة

اصطلاحاً

.....

.....

.....

س٣: علل الثقافة سلوك يكتسب عبر التعلم لا عبر الوراثة

.....

.....

.....

س٤: عدد خصائص الثقافة

١-.....

.....

٢-.....

س٥: صمم خريطة مفاهيم لأنواع الثقافة من حيث التفاعل الاجتماعي مع ضرب أمثلة

س٦: قارن في جدول بين أنواع الثقافة من حيث تطورها

الثقافة المتغيرة "المتطورة"	الثقافة الجامدة

س٧: من وجهة نظرك ما نوع الثقافة العمانية من حيث تطورها

.....

ولماذا؟

.....

.....

س٩: فسر تلعب الثقافة دوراً مهماً في تطوير الوعي الإنساني

.....

.....

.....

.....

.....

س٨: تتبع مسار الثقافة الشرية بين العالمية والمحلية

١.....

.....

٢.....

.....

٣.....

.....

٤.....

الثقافة الإنسانية... المفهوم والاهمية - ٢ -

س ١: اكمل ما يلي :

١- بدأت الاختلافات والتنوعات الثقافية في تاريخ الإنسانية منذ.....

٢- وجدت آثار واضحة المعالم يختلف بعضها عن بعضها الآخر بين الثقافات من حيث

أشكال و..... و.....

٣- ان التنوع والاختلافات بين الثقافات في بعض النماذج يظهر نوعاً من التقارب والتشابه بين المناطق الحضارية لكنها تتميز بخصائصها الذاتية ولا تشكل مجرد

.....

٤- تستند الثقافة الوطنية في تطورها إلى

س ٢: اعط تعريفاً للهوية الوطنية

.....
.....
.....
.....
.....

س ٤: عرف المكان الثقافي

.....
.....
.....
.....

س ٣: وضح الهدف من المكان الثقافي

١.....
.....
.....
٢.....
.....

س ٦: عدد مهام المؤسسات الثقافية

١.....
.....
٢.....
.....
٣.....
.....
٤.....
.....

س ٥: ميز بين دور المؤسسات الثقافية والأدوات الثقافية

الأدوات الثقافية	تعمل المؤسسات الثقافية على
١.....	١.....
٢.....
.....	٢.....
.....

س ٧: علل اهتمت اليونسكو بإرساء الشروط والقواعد للسياسات الثقافية

.....
.....
.....
.....
.....
.....
.....

الثقافة الإنسانية المفهوم والاهمية - ٣ -

س١: عرف التنوع الثقافي حسب تعريف كل من :

تعريف اليونسكو
المعنى اللغوي
المفهوم الحديث

س٢: فسر يعد الدور الذي تقوم به تكنولوجيا المعلومات والاتصالات من أبرز عوامل التواصل في ظل التنوع الثقافي

.....
.....
.....
.....

س٣: وضح وسائل الاتصال التي تتيح لكل فرد إمكانية تعرف ثقافات الشعوب الأخرى

١.....
٢.....

س٥: اذكر التطورات التي تتأثر جميع الثقافات

١.....
٢.....

س٤: اعط تعريفًا للتأثير الثقافي

.....
.....

س٦: وضح الهدف من تشجيع التعددية وعدم التمييز بين الثقافات

.....
.....
.....

س٧: بين دور المؤسسات الثقافية في تشجيع التنوع الثقافي

.....
.....
.....

س٨: اذكر النتائج المترتبة على تسارع العولمة وانتشار وسائل تكنولوجيا

١.....
٢.....

س٩: عرف المنتج الثقافي

.....
.....
.....
.....
.....
.....

س١٠: ما الهدف تحرك المجتمع الدولي من خلال منظمة الأمم المتحدة وهيئاتها

١.....
٢.....

الثقافة الإنسانية المفهوم والاهمية - ٤ -

س٢: وضح أهداف مرحلة تونس من القمة العالمية ١٦-١٨ نوفمبر ٢٠٠٥م

.....
.....
.....

س١: دلل على تحرك المجتمع الدولي من خلال منظمة الأمم المتحدة وهيئاتها المختصة

.....
.....
.....
.....

س٤: تتبع تعتبر الزراعة ثقافة عالمية تجار وتواصل

١
٢
٣
٤
٥

س٣: ما النموذج الأول في الثقافة العالمية تجارب وتواصل

.....

س٥: عدد مميزات ثقافة الزراعة

.....
.....
.....
.....
.....

س٦: دلل من واقع خصوصية الثقافة العمانية على تميزه عن غيره من المجتمعات

.....
.....
.....
.....
.....

س٧: العبارة التالية: تحلل ترسخت تجارب الانسان في فكره وعلاقاته وتصرفاته في إطار من الخصوصية الثقافية الممتدة نحو الثقافة العالمية

.....
.....
.....
.....
.....
.....

س٨: برهن تميزت الحضارة المصرية بثقافة ميزتها عن غيرها من المجتمعات

.....
.....
.....
.....
.....
.....

س٩: اشرح بداية ظهور ساندويتش

.....
.....
.....
.....
.....

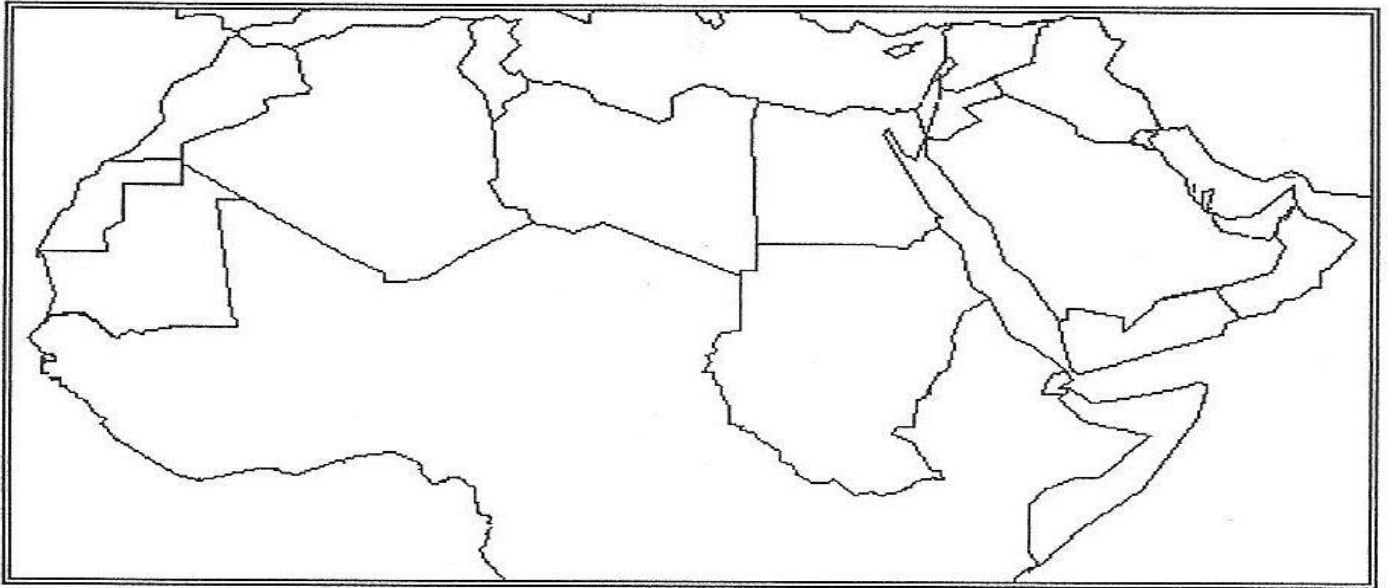
الثقافة الإنسانية المفهوم والاهمية - ٥ -

امامك خريطة الوطن العربي ادرسها جيداً ثم اجيب عن الأسئلة التي تليها :

١- ظلل الدولة التي عقد فيها مرحلة القمة العالمية (١٦-١٨ نوفمبر ٢٠٠٥ م)

٢- اكتب رقم ٣ في موقع الدولة التي عرفت منذ القدم نظام الافلاج

٣- حدد الدولة التي عرفت منذ القدم أساليب شق القنوات



ملتزمون بتحقيق رؤيتنا ، الإجابة في موادنا

الأقاليم الثقافية والهوية الوطنية - ١ -

س ١: اعط تعريفاً للإقليم

.....
.....
.....

س ٢: وضح النتيجة المترتبة على الموقع الاستراتيجي الذي تمتكته السلطنة

.....
.....
.....
.....

س ٣: فسر يعد الانسان الكائن الوحيد الذي أضاف بعداً جديداً إلى محيطه الطبيعي

.....
.....
.....
.....

س ٤: اكمل ما يلي :

الأرض مقسمة بحسب تكونها إلى

.....و.....

س ٥: عدد مميزات الإقليم الثقافي

.....
.....
.....
.....
.....
.....

س ٦: عرف العلاقة السببية

.....
.....
.....
.....

س ٨: اذكر الأنواع المختلفة من المناطق الثقافية التي يمكن خرائطها الثقافية

.....
.....
.....
.....
.....
.....

س ٧: اعط مثال على العلاقة السببية

.....
.....
.....

س ٩: صمم خريطة مفاهيم لأبرز الأسس التي تبني عليها الأقاليم الثقافية

س ١٠: فسر يعد الانتماء الي الذات من الأسس التي تبني عليها الأقاليم الثقافية

.....
.....
.....
.....
.....
.....

س ١١: عرف الهوية الوطنية

.....
.....
.....
.....

الأقاليم الثقافية والهوية الوطنية - ٢ -

أكمل ما يلي :

- ١- انتخبت السلطنة بالإجماع للفوز بمقعد لعضوية اللجنة الدولية للدول الأعضاء في اتفاقية.....
- ٢- أكبر الأقاليم الثقافية المستقبلية للثقافات المهاجرة
- ٣- مقر منظمة التربية والثقافة والعلوم (اليونسكو).....
- ٤- عدد الدول التي صدقت على اتفاقية حماية وتعزيز تنوع أشكال التعبير الثقافي
- ٥- انتخاب أربع وعشرين دولة في اتفاقية حماية وتعزيز تنوع أشكال التعبير الثقافي لمدة تتراوح بينو.....
- ٦- الدورة التي منحت الرئاسة لسلطنة عمان في اتفاقية حماية وتعزيز تنوع أشكال التعبير الثقافية

س ٢: ميز بين مفهوم الثقافة الشعبية والهوية

الهوية	الثقافة الشعبية
.....
....
.....
.....

س ٣: وضح العلاقة بين الثقافة والهوية

دور الهوية	دور الثقافة
.....
.....
.....
.....

س ٥: فسر يعد التنوع الثقافي صيغة للتعايش والتواصل الحضاري الإنساني من خلال القبول العام بالتعددية الثقافية

.....

.....

.....

.....

.....

س ٦: علل يرى بعض علماء الاجتماع أن المجتمعات الأكثر تنوعاً هي الأكثر تقدماً

.....

.....

.....

س ٤: تتبع ترسيخ حضور الهوية الوطنية في مختلف مناحي الحياة والأنشطة الإنسانية

١.....

.....

.....

٢.....

.....

.....

.....

٣.....

.....

.....

.....

٤.....

.....

س ٢: لماذا التعددية الثقافية تستثير مخاوف بعض الدول

س ٣: كيف عالجت بعض الدول قضايا التعددية الثقافية

‘

٢٠

س٧: وضح الدور الذي تلعبه التنمية الثقافية في تحولات الأقاليم الثقافية

س ٦: علل يعد الاستقرار البشري من عوامل التحولات
التي تشهدها الأقاليم الثقافية

س ٩: وضح آثار متباينة على
التنوع الثقافي في معظم المناطق
الثقافية

س ٨: فسر تتباين وجهات النظر حول أثرها على تطور الثقافات في الأقاليم والمناطق الثقافية

الأقاليم الثقافية والهوية الوطنية - ٤ -

س١: تتبع دور التطور الصناعي والسلي في تحولات الأقاليم الثقافية

.....

.....

.....

.....

.....

س٢: امامك خريطة العالم ادرسيها جيداً ثم اجيب عن الأسئلة التي تليها:

١- وقع على الخريطة الدولة التي تعد أكبر الأقاليم الثقافية المستقبلية للثقافات المهاجرة

٢- طلل الدولة التي يوجد فيها مقر منظمة التربية والثقافة والعلوم (اليونسكو)

٣- ضع رقم "١" في موقع الدولة التي تم انتخابها في الدورة الثالثة والثلاثين بمقعد العضوية اللجنة الدولية الحكومية لاتفاقية حماية وتعزيز تنوع أشكال التعبير الثقافي

٤- ضع دائرة على الدولة التي تقوم فيها التعددية الثقافية على أساس الفارق اللغوي

٥- اكتب حرف "س" في موقع الدولة التي تقوم على أساس العرق



الثقافة الوطنية العمانية والمتغيرات الراهنة - ١ -

س١: وضح الخصائص التي أسهمت في اختيار مسقط عاصمة الثقافة العربية

.....
.....
.....
.....

س٢: حدد فترة اختيار المدن التالية لتكون عاصمة الثقافة العربية:

أ- مسقط..... ب- الجزائر.....

س٤: دلل على تأكيد جلالة السلطان قابوس بأهمية وضرورة مواكبة العصر بفكر إسلامي متجدد متطور

.....
.....
.....
.....
.....

س٣: حلل العبارة التالية: "اعتنى العمانيون منذ فجر الإسلام بالعلم والتعليم"

.....
.....
.....
.....
.....

س٥: فسر ساعدت اللغة العربية على انفتاح العمانيين وتفاعلهم مع غيرهم من الشعوب

.....
.....
.....
.....

س٦: برهن على قدرت مواجهة تحديات العصر والإفادة من تقنياته الحديثة في النهوض بثقافته في مختلف المجالات

.....
.....
.....
.....

س٧: اذكر الطرق التي استخدمتها السلطنة في الحفاظ على المخطوطات والوثائق

.....
.....
.....

س٨: دلل على عناية السلطنة بالفنون العمانية وتطويرها

.....
.....
.....
.....

س٩: سم الجمعية العمانية التي نجحت في تحقيق رؤية حضرة جلالة السلطان المتمثلة في نهضة الامة استنادا الي التقاليد والانفتاح لمواجهة المستقبل

.....

س١٠: علل تسعى السلطنة إلي إبراز الموروث الموسيقي

.....
.....
.....
.....

س١١: كيف استفاد مركز عمان للموسيقى التقليدية من الاستفادة من التقنيات الحديثة في المحافظة على الفنون الشعبية والموسيقى التقليدية

.....

الثقافة الوطنية العمانية والمتغيرات الراهنة - ٢ -

س٢: اعط تعريفاً لكُرسي الاستاذية

.....

.....

.....

.....

.....

.....

س١: برهن تمكنت السلطنة من تثبيت هويتها الثقافية والمحافظة على خصوصيتها

.....

.....

.....

.....

.....

س٤: وضح اسهام نظام البعثات في التواصل الثقافي العماني

.....

.....

.....

.....

.....

.....

س٣: صمم خريطة مفاهيم للتواصل الثقافي العماني في مجال العلم والتعليم قديماً وحديثاً

س٥: قارن بين كراسي السلطان قابوس العلمية

اسم الكرسي	العام	الجامعة	الدولة
كرسي جلالة السلطان في مجال الاستزراع الصحراوي			
مركز جلالة السلطان للزراعة المتطورة بدون التربة			
كرسي سلطان عمان للدراسات العربية والإسلامية			
كرسي أستاذية في العلاقات الدولية			
كرسي السلطان قابوس للدراسات العربية			

س٧: وضح الهدف من كرسي جلالة السلطان للدراسات العربية في جامعة بكن

.....

.....

.....

.....

س٦: اذكر الهدف من كرسي جلالة السلطان في العلاقات الدولية

.....

الثقافة الوطنية العمانية والمتغيرات الراهنة - ٣-

س١: من صور التواصل الثقافي في المجال العلمي اكمل هذا الجدول التالي :

اسم اللجنة	فترة التأسيس	الهدف	رقم المرسوم الذي بموجبه أنشئت	اهم المنظمات التي تتعاون معها اللجنة العمانية	اهداف التعاون مع المنظمات الدولية
.....	١.....
.....	٢.....
.....	٣.....

اسم المنظمات	فترة التأسيس	الاسم بالانجليزي	فترة انضمام السلطنة
منظمة الأمم المتحدة للتربية والعلم والثقافة "اليونسكو"			
المنظمة العربية للتربية والثقافة والعلوم "الايكسو"			
المنظمة الإسلامية للتربية والعلوم والثقافة "الاييسيسكو"			

س٤: ماذا تمثل مجلة نزوى للمثقفين

.....

س٣: وضح اسهام العمانيون في الصحافة العربية الصادرة في الخليج العربي

.....
.....
.....
.....

س٦: برهن اهتمام جلالة السلطان قابوس بالبيئة

.....
.....
.....

س٥: دلل على مشاركة السلطنة في مشروع طريق الحرير

.....

س٧: تتبع الدور العماني في الملاحة البحرية

١.....
٢.....
٣.....
٤.....

س٨: اعط تعريفاً للملكية الفكرية

.....
.....
.....

الثقافة الوطنية العمانية والمتغيرات الراهنة - ٤ -

س ١: صمم خريطة مفاهيم للتواصل الثقافي العماني في مجال الفنون

س ٢: دلل على التواصل العماني في ميدان الموسيقى

.....
.....
.....

س ٣: برهن على التواصل العماني في مجال الرسم والفنون التشكيلية والتصوير

.....
.....
.....
.....

س ٤: صمم مخطط للتواصل العماني في المسرح

س ٥: تتبع دور السلطنة في إبراز الموروث الثقافي

- ١.....
- ٢.....
- ٣.....
- ٤.....
- ٥.....
- ٦.....

س ٦: عدد أسباب اختيار مسقط

عاصمة الثقافة العربية عام ٢٠٠٦م

.....
.....
.....
.....
.....
.....
.....
.....
.....
.....

س ٨: اكمل ما يلي:

أقيمت أول محطة إذاعية في سلطنة عمان في يوم.....عام.....

بدأ الإرسال الإذاعي من صلالة يوم.....عام.....

وقعت السلطنة اتفاقية إنشاء محطة تلفزيونية مع
في.....عام.....

اهم المشاريع الثقافية العمانية

الهدف

الاهمية

موسوعة السلطان قابوس لأسماء

موسوعة أرض عمان

الثقافة الوطنية العمانية والمتغيرات الراهنة - ٥ -

س١ : اكمل ما يلي :

- ١- اهم الصحف العمانية التي صدرت في زنجبار و..... و.....
- ٢- صدرت نشرة عن شركة تنمية نفط عمان تحت عنوان عام تشمل على
- ٣- أول نشرة عربية تحمل اسم أخبار عمان صدرت في يوم عام تتضمن
- ٤- تم إنشاء في يوم ٢٠ يونيو ١٩٩٧م مؤسسة بموجب المرسوم السلطاني رقم
- ٥- تم نقل وكالة الانباء العمانية إلى وزارة اعتبارا من عام

س٢ : اذكر اسم اول صحيفة تحمل لواء الصحافة العمانية

.....

ظهر عددها الأول في.....

س٤ : اذكر اهم المشاريع الوطنية العمانية الشاملة

.....

س٥ : علل تعد الموسوعة العمانية من المشاريع الشاملة

.....
.....
.....
.....

س٣ : فسر تتطلع السلطنة الي تعزيز المجالات الثقافية
الهادفة وتطويرها

.....
.....
.....
.....
.....
.....
.....
.....

س٦ : دلل على مشاركة
السلطنة دول العالم في تعميق
الفكر

.....
.....
.....
.....
.....
.....
.....

اسم المنظمة الخاصة بالملكية الفكرية	سنة التأسيس	رمز المنظمة	مقر المنظمة	أهداف المنظمة

امامك خريطة العالم ادرسها جيداً ثم اجيب عن الأسئلة التالية :

١- اكتب الحروف التالية على الخريطة في موقع المناسب :

الدولة التي هاجر الخليل بن أحمد الفراهيدي لتلقي العلم "أ"

الدول التي اتجه لها ابن الذهبي لتلقي العلم "س"

٢- ضع دائرة التي أنشئ فيها كرسي جلالة السلطان للاستزراع الصحراوي

٣- وقع على الخريطة كرسي سلطان عمان للدراسات العربية والإسلامية في جامعة ملبورن

٤- ظلل الدولة التي ظهر فيها كرسي أستاذية العلاقات الدولية

٥- ارسم رمز في موقع الدولة التي أنشئ فيها كرسي السلطان قابوس للدراسات العربية

٦- ارسم خطوط سير الدور العماني في الملاحة البحرية وتواصلها مع العالم "ملاحظة رسم مفتاح للخريطة"

أ- رحلة السفينة "صحار" الي ميناء كانتون

ب- رحلة "شباب عمان" الي نيويورك

ج- رحلة السفينة "البيكوك" الي مسقط

د- رحلة السفينة " سلطنة " الي نيويورك

٧- ضع رقم "٤" في موقع الدولة التي أنشئ فيها المنظمة العالمية للملكية الفكرية

٨- حدد المناطق التي تواصل مع العمانيون في مجال الموسيقى

