

شكراً لتحميلك هذا الملف من موقع المناهج العمانية



مذكر إثرائية لدرس عمان في عصر البوسعيد وحدة ومنجزات

[موقع المناهج](#) ⇨ [المناهج العمانية](#) ⇨ [الصف الثاني عشر](#) ⇨ [هذا وطني](#) ⇨ [الفصل الأول](#) ⇨ [الملف](#)

تاريخ نشر الملف على موقع المناهج: 2023-11-21 16:40:10 | اسم المدرس: وفاء بنت عوض العلوية

التواصل الاجتماعي بحسب الصف الثاني عشر



روابط مواد الصف الثاني عشر على تلغرام

[الرياضيات](#)

[اللغة الانجليزية](#)

[اللغة العربية](#)

[التربية الاسلامية](#)

المزيد من الملفات بحسب الصف الثاني عشر والمادة هذا وطني في الفصل الأول

[تجميع اختبارات لدروس الوحدة الثالثة](#)

1

[مذكرة إثرائية سؤال وجواب على الوحدة الأولى](#)

2

[اختبارات قصيرة أولى](#)

3

[نشاط تقويمي للدرس الأول إنجازات الأوائل طريق المستقبل](#)

4

[أسئلة وأجوبة على درس البيئة قضية عالمية وبقطة وطنية](#)

5

وزارة التربية والتعليم

المديرية العامة للتربية والتعليم محافظة جنوب الشرقية

مدرسة العجبة للتعليم الأساسي

هذا وطني في العراق والمجد (الصف الثاني عشر)



عمان في عصر البوسعيد

وحدة ومنجزات



إعداد الأستاذة: وفاء بنت عوض العلوية

الدرس الثاني عمان في عصر البوسعيد

السؤال الأول : اختر الاجابة الصحيحة من بين البدائل المعطاة /

١- العام الذي بدأ فيه حكم البوسعيد لعمان /

أ- ١٧٤٣ م ب- ١٧٤٤ م ج- ١٧٤٥ م د- ١٧٤٦ م

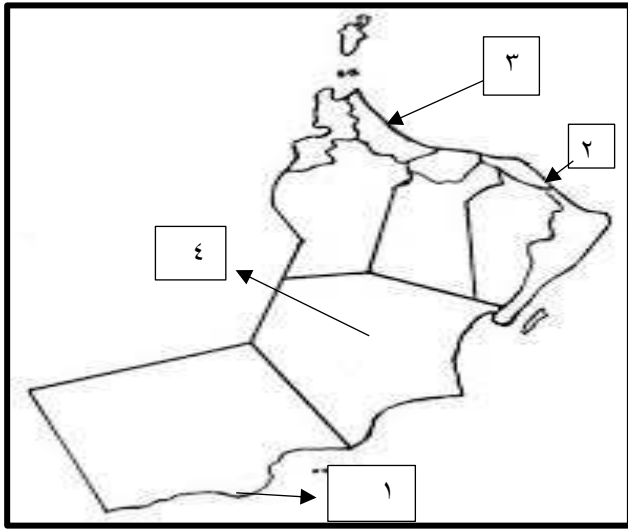
٢- مؤسس دولة البوسعيد الامام /

أ- سلطان بن أحمد ب- سعيد بن سلطان ج- سعيد بن أحمد د- أحمد بن سعيد

٣- الرقم الذي يشير إلى الولاية التي عين عليها أحمد بن سعيد والياً في أواخر عهد دولة اليعاربة /

أ- (١) ب- (٢)

ج- (٣) د- (٤)



٤- المحافظة التي يوجد بها المدينة التي اتخذها الامام أحمد بن سعيد عاصمة له /

أ- الشرقية جنوب ب- الباطنة شمال ج- الظاهرة د- الباطنة جنوب

٥- المدينة التي ولد بها الأمام أحمد بن سعيد /

أ- آدم ب- بهلا ج- منح د- نزوى

٦- العام الذي توفي فيه الامام أحمد بن سعيد قي الرستاق /

أ- ١٧٨٠ م ب- ١٧٨١ م ج- ١٧٨٢ م د- ١٧٨٣ م

٧- العلامة الذي كان على رأس المبايعين للأمام أحمد بن سعيد بالإمامة /

أ- حبيب بن سالم أمبوسعيدى ب- سالم بن عمر الرحبي ج- سالم بن عبدالله البوسعيدى د- سالم القلھاتي

٨-السلطان الذي حرر البحرين من سيطرت الفرس /

أ- سعيد بن سلطان ب-سلطان بن أحمد ج- سعيد بن أحمد د- برغش بن سعيد

٩-السلطان الذي أقام علاقات متوازنة بين عمان والقوى الأوروبية /

أ- فيصل بن تركي ب- تيمور بن فيصل ج- سعيد بن تيمور د- تركي بن سعيد

١٠- العام الذي حرر فيه الإمام أحمد بن سعيد البصرة من سيطرة الفرس /

أ- ١٧٧٠م ب- ١٧٧٥م ج- ١٧٨٠م د- ١٧٨٥م

١١- السلطان الذي تولى حكم عمان عام ١٩٣٢م

أ- فيصل بن تركي ب- تيمور بن سعيد ج- سعيد بن تيمور د- قابوس بن سعيد

١٢- أول حاكم عربي يزو الولايات المتحدة الامريكية /

أ- سعيد بن تيمور ب- فيصل بن تركي ج- تيمور بن تركي د- سعيد بن سلطان

١٣-التاريخ الذي توفي فيه السلطان قابوس بن سعيد طيب الله ثراه من العام ٢٠٢٠م /

أ- ١٠/ يناير ب- ١٠/فبراير ج- ١٠/مارس د- ١٠/ديسمبر

١٤-العام الذي شهد ميلاد جلالة السلطان هيثم بن طارق حفظه الله في مسقط /

أ- ١٩٥١م ب- ١٩٥٢م ج- ١٩٥٣م د- ١٩٥٤م

١٥- التاريخ الذي تولى فيه جلالة السلطان هيثم بن طارق حفظه الله الحكم من العام ٢٠٢٠م

أ- ١٠ يناير ب- ١١ يناير ج- ١٢ يناير د- ١٣ يناير

١٦-الجامعة التي أكمل بها السلطان هيثم بن طارق حفظه الله تعليمه العالي وتخرج منها عام ١٩٧٩م/

أ- كامبريدج ب- لانكاستر ج- سان اندروز د- أكسفورد

١٧- الوزارة التي تولى وزارتها السلطان هيثم بن طارق حفظه الله خلال الفترة (٢٠٠٢-٢٠٢٠م)/

أ-التراث والثقافة ب- التربية والتعليم ج-التجارة والصناعة د- الخارجية

١٨-القرن الميلادي الذي بلغت فيه التجارة في ميناء مسقط خمسة أثمان تجارة الخليج العربي /

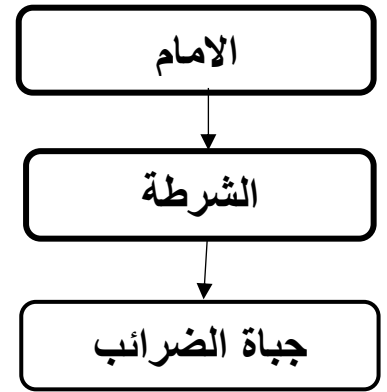
أ- ١٧م ب- ١٨م ج- ١٩م د- ٢٠م

١٩-السلطان الذي عقد اتفاقية مع الحكومة البريطانية في الهند مع السير جون مالكولم عام ١٨٠٠م/

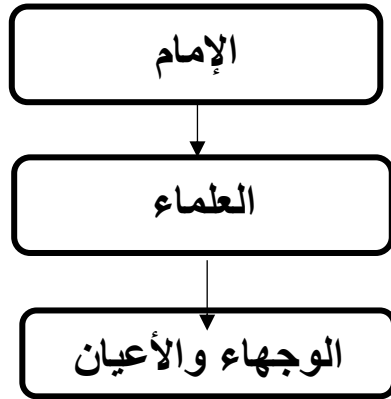
أ- سعيد بن سلطان ب- سلطان بن أحمد ج- سعيد بن تيمور د- فيصل بن تركي

٢٠- المخطط الصحيح للمعنيين بالسلطة التشريعية زمن الإمام أحمد بن سعيد /

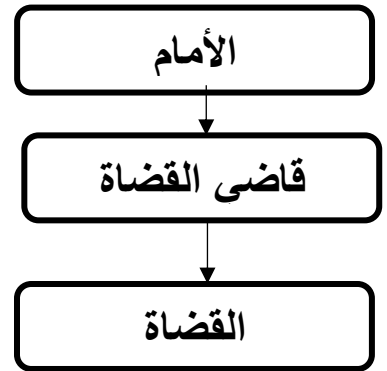
أ-



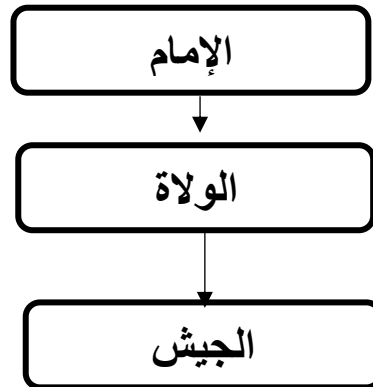
ب-



ج-



د-



٢١- الصورة التي تشير إلى المحصول الذي ادخله السيد سعيد بن سلطان الى زنجبار عام ١٨٤٢م /

أ-



ب-



ج-



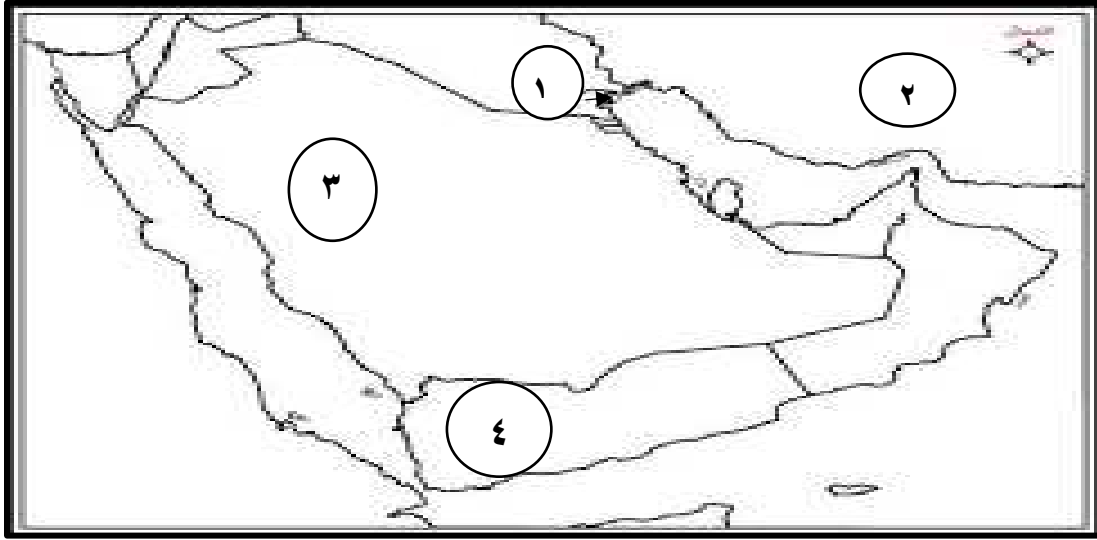
د-



٢٢- عدد السفن التي استقبلها ميناء زنجبار خلال الفترة (١٨٣٢ - ١٨٣٤ م) بلغت حوالي /

أ- ٤٠ سفينه ب- ٤١ سفينة ج- ٤٣ سفينة د- ٤٤ سفينة

- أمامك خريطة من خلالها أجب على المفردة (٢٣ - ٢٤ - ٢٥) /



٢٣-رقم الدولة التي استورد منها العثمانيون في عصر البوسعيد البن /

أ- (١) ب- (٢) ج- (٣) د- (٤)

٢٤-السلعة التي استوردت من الدولة المشار إليها بالرقم (٢) /

أ- العاج ب- العنبر ج- الملح د- التوابل

٢٥-الرقم الذي يشير المدينة التي حررها الإمام أحمد بن سعيد من سيطرت الفرس /

أ- (١) ب- (٢) ج- (٣) د- (٤)

٢٦-الصورة التي تشير إلى حصن المنصور الذي بناه الامام أحمد بن سعيد في الرستاق /

أ- ب- ج- د-



٢٧ - الحصن الذي تشير إليه الصورة /

أ- الفليج ب- الخندق

ج- الراوية د- المنصور



٢٨- الحصن الذي شيده السيد سعيد بن سلطان في البريمي /

أ- الفليج ب- المنصورة ج- الخندق د- الحزم

٢٩- السلطان الذي بنى برجاً ضخماً قرب ميناء زنجبار /

أ- سعيد بن سلطان ب- برغش بن سعيد ج- ماجد بن سعيد د- ثويني بن سعيد

٣٠- الصورة تشير إلى قصر /

أ- المتوني ب- العلم

ج- العجائب د- واتورو



٣١- المدرسة التي شيدها الإمام أحمد بن سعيد في الرستاق /

أ- بيت القرن ب- السلطانية الاولى ج- السعيدية د- السلطانية الثانية

٣٢- السلطان الذي بدأ في عهده إنشاء أول مدرسة نظامية في عمان /

أ- فيصل بن تركي ب- تيمور بن فيصل ج- سعيد بن تيمور د- قابوس بن سعيد

٣٣- سياسي ومترجم عينه السيد سعيد بن سلطان مترجماً أثناء استقبال الوفود الرسمية الأجنبية /

أ- أحمد بن النعمان الكعبي ب- حبيب بن سالم أمبوسعدي

ج- علي بن ناصر الهنائي د- سعيد بن خلفان البوسعدي

٣٤- اللقب الذي ناله سعيد بن خلفان البوسعدي في مسقط عام ١٨٣٨ م /

أ- المندوب البريطاني ب- المندوب الأمريكي ج- المندوب الفرنسي د- المندوب الألماني

٣٥ - الصورة تمثل وقف للسيد فيصل بن حمود البوسعيدي أوقفه
لـ /

ب- للأيتام

أ- لتعليم

د- لذوي الاحتياجات الخاصة

ج- للأرامل

٣٦ - الشكل الصحيح الذي يمثل العلماء ومؤلفاتهم في عصر البوسعيد /

ب-

أ-

الشيخ مهنا بن خلفان البوسعيدي	ديوان أبي الصوفي
ناصر بن جاعد الخروصي	موسوعة العلم المبين وحق اليقين
سعيد بن مسلم	تهذيب الأثر في تلخيص جامع الشيخ محمد بن جعفر

الشيخ مهنا بن خلفان البوسعيدي	ديوان أبي الصوفي
سعيد بن مسلم	موسوعة العلم المبين وحق اليقين
ناصر بن جاعد الخروصي	تهذيب الأثر في تلخيص جامع الشيخ محمد بن جعفر

د-

ج-

سعيد بن مسلم	ديوان أبي الصوفي
ناصر بن جاعد الخروصي	موسوعة العلم المبين وحق اليقين
الشيخ مهنا بن خلفان البوسعيدي	تهذيب الأثر في تلخيص جامع الشيخ محمد بن جعفر

سعيد بن مسلم	ديوان أبي الصوفي
الشيخ مهنا بن خلفان البوسعيدي	موسوعة العلم المبين وحق اليقين
ناصر بن جاعد الخروصي	تهذيب الأثر في تلخيص جامع الشيخ محمد بن جعفر

٣٧ - طبع ديوان شعر أبي الصوفي على نفقة السلطان تيمور بن فيصل عام ١٩٣٧م في أوساكا بـ /

أ- كوريا الشمالية ب- اليابان ج- كوريا الجنوبية د- الصبن

٣٨ - كتاب الشيخ العلامة أحمد بن حمد الخليلي مفتي عام السلطنة /

أ- زاد المعاد ب- فجر الإسلام ج- برهان الحق د- أنوار العقول

٣٩- أرسله السيد سعيد بن سلطان على متن السفينة سلطنة إلى لندن حامل هدايا السلطان للملكة عام ١٨٤٢م /

أ- علي بن ناصر الهنائي ب- أحمد الكعبي ج- سليمان بن حمد البوسعيدي د- محي الدين القحطاني
٤٠- العام الذي عقد فيه السلطان سعيد بن سلطان اتفاقية مع الولايات المتحدة الأمريكية /

أ- ١٨٣٠م ب ١٨٣١م ج- ١٨٣٢م د-- ١٨٣٣م

السؤال الثاني : أجب عن الأسئلة التالية /

١- برهن على الآتي :

أ- قوة الاسطول العماني في عصر البوسعيد ؟

ب- عمق العلاقات الخارجية لعمان مع الدول الأوروبية زمن السيد سعيد بن سلطان ؟

٣- استدل على الآتي /

أ- اهتمام الأمام أحمد بن سعيد بالتعليم ؟

ب- ازدهار ميناء مسقط خلال القرن ١٨ م ؟

٤- صنف السلع التجارية الى سلع محلية ومستوردة

[التمر - البن - الملح - الصمغ - اللبان - العاج]


المحلية	المستوردة

٥-رتب الأحداث التالية من الأحدث إلى الأقدم

- () -تحرير البحرين من سيطرة الفرس
- () - قيام دولة البوسعيد
- () -توجه والي ممباسا علي بن ناصر الهنائي على متن السفينة سلطنة إلى لندن
- () -عقد السيد سعيد بن سلطان معاهدة مع الولايات المتحدة الأمريكية
- () - فك الحصار الفارسي عن البصرة
- ٦- اكمل المخطط مستعينا بالصور والمعطيات الآتية /



(٢)



(١)

وجه المقارنة	(١)	(٣)
اسم الحصن		
الولاية التي يوجد بها		
السلطان الذي شيد في عصره		



٧- الصورة التي أمامك تمثل أحد القصور العمانية في شرقي إفريقيا :

أ-أسم القصر

ب-السلطان الذي شيده

ج-مكان تواجده

٨- اكتب في الجدول الذي أمامك اسم الشخصية المرتبطة بكل انجاز /

الشخصيات	الانجـاز
	حمل هدايا السيد سعيد بن سلطان إلى الملكة في لندن عام ١٨٤٢م
	عينته الولايات المتحدة الامريكية وكيلا لها في مسقط
	شغل منصب مفتي عام السلطنة عام ١٩٧٥م
	أوقف للتعليم في بيت القرن بالرسناق مدرسة القرآن الكريم
	شيد قصر العجائب والمرهوبي في زنجبار
	أول حاكم عربي يزور الولايات المتحدة الأمريكية
	كان على رأس المبايعين للإمام أحمد بن سعيد

٩- أذكر أهم ملامح علاقات عمان الخارجية في عهد السلطان قابوس بن سعيد طيب الله ثراه ؟

أ-.....ب-.....

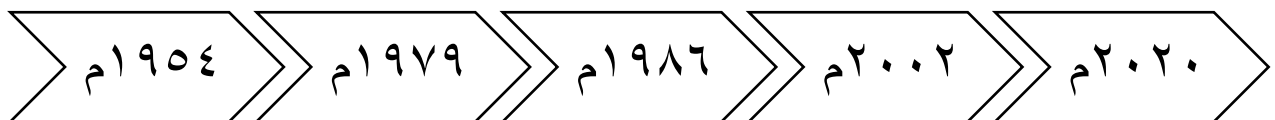
ج-.....د-.....

١٠ ما الظروف التي تولى فيها الإمام أحمد بن سعيد حكم عمان ؟

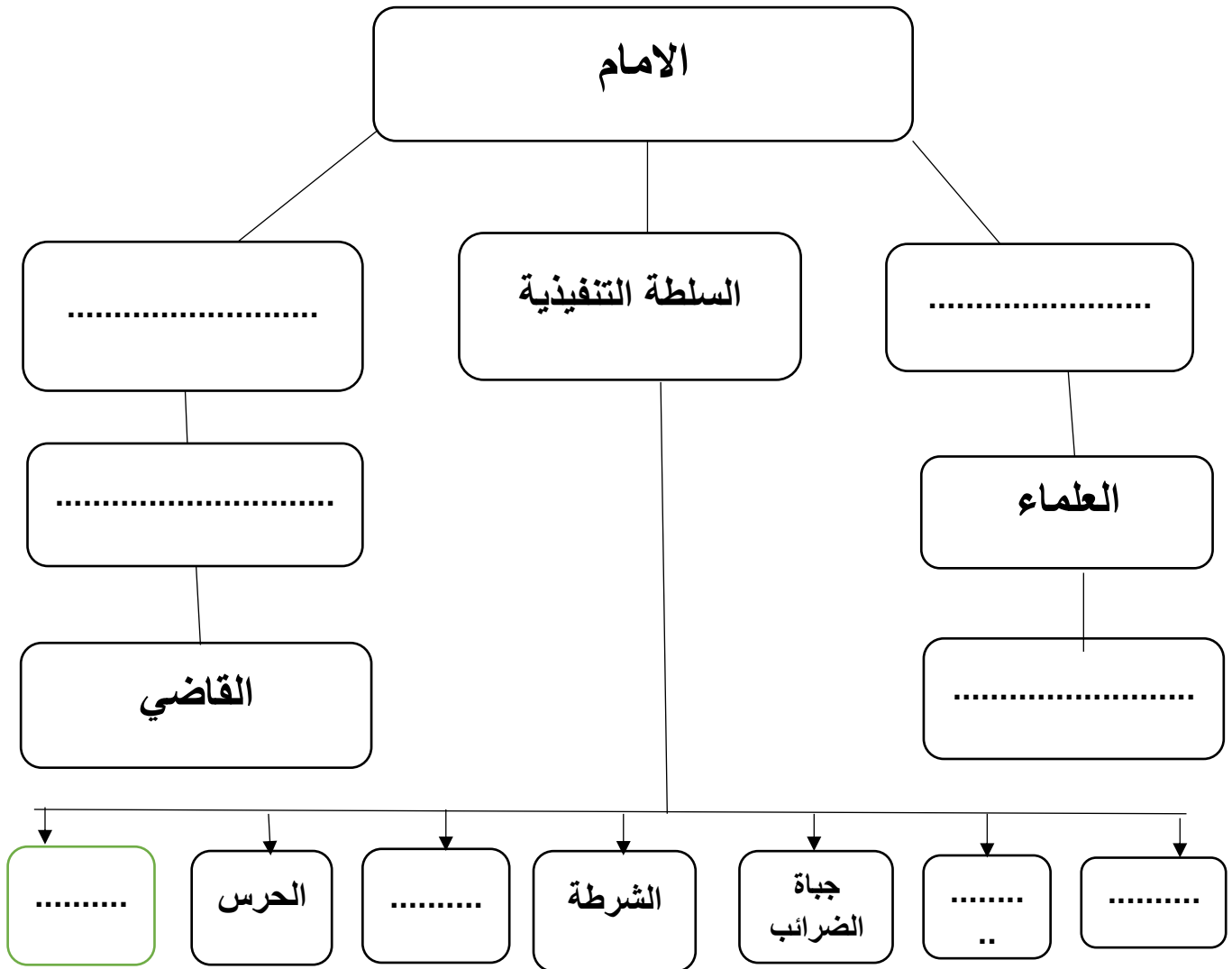
.....

.....

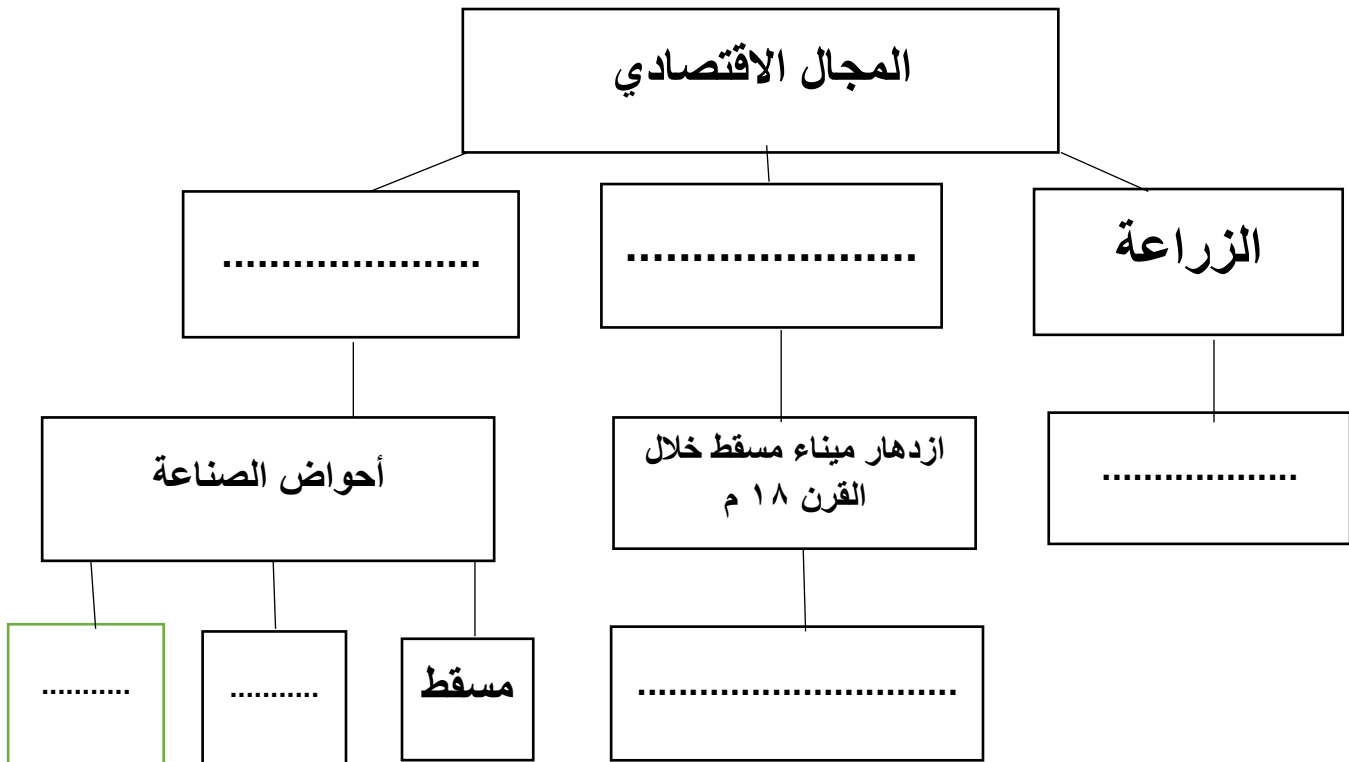
١١- صمم مسطرة زمنية توضح الأحداث المتعلقة بالسيرة الذاتية للسلطان هيثم بن طارق حفظه الله .

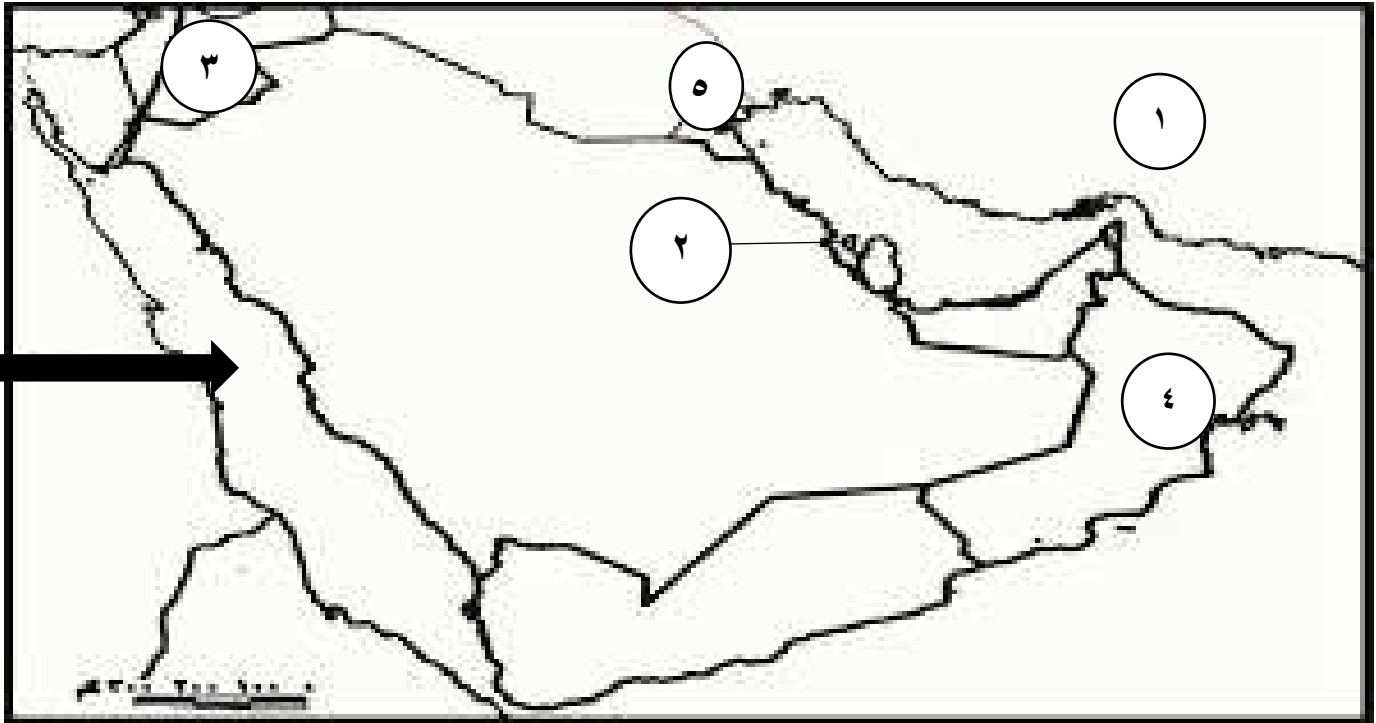


١٢- أكمل المخطط الذي يمثل النظام الإداري زمن الامام أحمد بن سعيد البوسعيدي /



١٣- أكمل المخطط الذي يوضح إنجازات دولة البوسعيد في المجال الاقتصادي /





١- الرقم الذي يشير الى المنطقة التي حررها السيد سلطان بن أحمد من الفرس (.....)

٢- حددي على الخريطة الدولة التي استورد منها العمانيون البن

٣- المسطح المائي الذي يشير إليه (←) في الخريطة

٤- أهم السلع التجارية التي كانت تصدر من الدولة المشار إليه بالرقم (٤).....و.....

٥- الرقم الذي يشير الى المنطقة التي أرسل لها الامام أحمد بن سعيد حملة لتحريرها

من الفرس (.....)

٦- الرقم الذي يشير الى المنطقة التي كان العمانيون يجلبون منها الملح (.....)

٧- حددي على الخريطة موقع المسطح المائي الخليج العربي .

١٥- أدرس الخريطة التي أمامك ثم أجب عن الأسئلة التي تليها :



١- حددي على الخريطة الولاية التي كان الامام أحمد بن سعيد واليا عليها في عهد اليعاربة؟

٢- الرقم الذي يشير إلى عاصمة عمان في عهد الامام أحمد بن سعيد (.....)

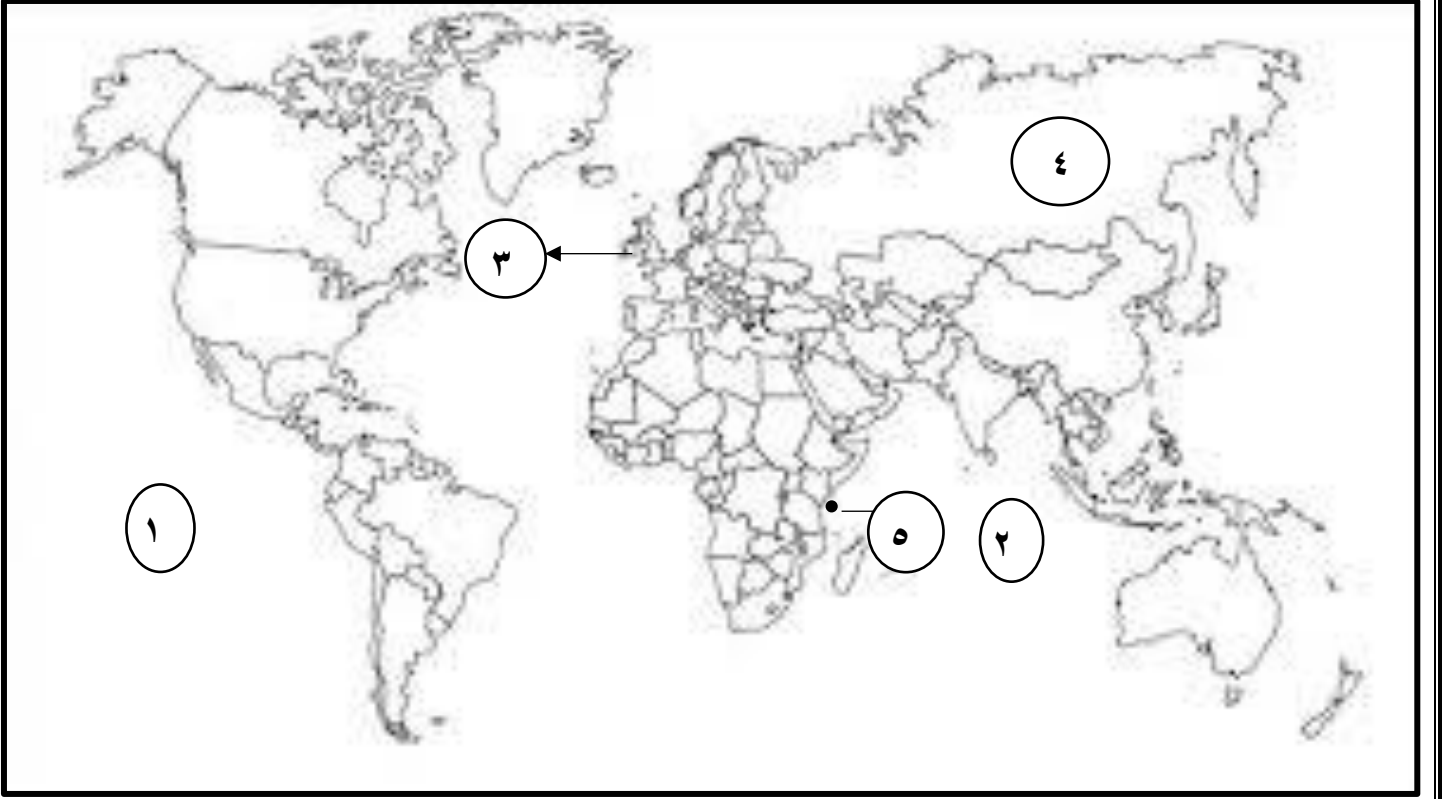
٣- الرقم الذي يشير الى الولاية التي يوجد بها حصن الخندق (.....)

٤- شيد السيد سلطان بن أحمد في المنطقة المشار إليها بالرقم (٣) حصن..... وقلعة.....

٥- ظلل المحافظة التي ولد بها الامام أحمد بن سعيد ؟

٦- الصناعة التي اشتهرت بها المنطقة (٥) زمن السيد سعيد بن سلطان

١٦- ادرس الخريطة التالية ثم أجب عن الأسئلة الآتية :



- ١- ظلل في الخريطة الدولة التي زارها أول حاكم عربي ()
- ٢- الرقم الذي يشير إلى المحيط الذي لعب العمانيون عبره دور الموزع للسلع التجارية ()
- ٣ - اكتب على الخريطة الدولة التي تم فيها طباعة ديوان أبي الصوفي لأول مرة عام ١٩٣٧ م .
- ٤- المحصول الذي تعد المنطقة المشار إليها بالرقم (٥) أكبر مصدر له في العالم.....
- ٥- الرقم الذي يشير إلى الدولة التي بعث إليها علي بن ناصر الهنائي والي ممباسا على متن السفينة سلطانه في عهد السيد سعيد بن سلطان ()

وسع مداركك وتذكر أن العقل هو الشيء الوحيد الذي كلما أفرغت فيه اتسع