

## سته نماذج من الاختبارات القصيرة حول درس البيئية قضية عالمية ويقظة وطنية



### تم تحميل هذا الملف من موقع المناهج العمانية

موقع فايلاتي ⇨ المناهج العمانية ⇨ الصف الثاني عشر ⇨ هذا وطني ⇨ الفصل الأول ⇨ ملفات متنوعة ⇨ الملف

تاريخ إضافة الملف على موقع المناهج: 10:00:14 2025-10-06

ملفات اكتب للمعلم اكتب للطالب | اختبارات الكترونية | اختبارات | حلول | عروض بوربوينت | أوراق عمل  
منهج انجليزي | ملخصات وتقارير | مذكرات وبنوك | الامتحان النهائي | للمدرس

المزيد من مادة  
هذا وطني:

إعداد: محمد بن إسماعيل عبدالله البلوشي

### التواصل الاجتماعي بحسب الصف الثاني عشر



صفحة المناهج  
العمانية على  
فيسبوك

### المزيد من الملفات بحسب الصف الثاني عشر والمادة هذا وطني في الفصل الأول

خمس نماذج من الاختبارات القصيرة لدرس عمان في عصر النهضة حضارة وتواصل	1
اختبار قصير أول نموذج (18) مصحوب بالإجابات 2025-2026م	2
اختبار قصير أول نموذج (17) مصحوب بالإجابات 2025-2026م	3
اختبار قصير أول نموذج (16) مصحوب بالإجابات 2025-2026م	4
اختبار قصير أول نموذج (15) مصحوب بالإجابات 2025-2026م	5

إهداء لمعلمي الدراسات الاجتماعية ولطلبة  
الثاني عشر دفعة ٢٠٢٦م

## عنوان الدرس: البيئة قضية عالمية ويقتطع وطنية



مدرسة نعيم بن مسعود للتعليم الأساسي (١٠-١٢)

أسرة الدراسات الاجتماعية



التدريس وحده لا يكفي!

إعداد / محمد إسماعيل  
عبدالله البلوشي  
معلم أول تاريخ

**الإبحار  
إلى الدراسات  
الاجتماعية**

2025  
الفصل الدراسي الأول

2026  
للفصل الثاني عشر

3.5  
ريال

للحصول على الكتاب  
77128502

هذا الملف من الملفات التي تنشر في  
مجموعات الواتساب الآتية:

١ - كتاب الإبحار إلى الدراسات  
الاجتماعية "لطلبة الثاني عشر"

٢ - كتاب الإبحار على الدراسات  
الاجتماعية "لمعلمي الدراسات  
الاجتماعية للصفوف من ١٠ - ١٢"

٣ - مجموعة مواد الدراسات  
الاجتماعية بمدرسة نعيم بن مسعود  
ولاية صحار

الانضمام للجروب التواصل:

٧٧١٢٨٥٠٢

### نماذج للسؤال القصير

عدد النماذج	٦
المادة	الدراسات الاجتماعية (هذا وطني في العراقة والمجد)
الصف	الثاني عشر
المعد	محمد بن إسماعيل بن عبدالله البلوشي - معلم أول مادة تاريخ
المدرسة	نعيم بن مسعود (١٠-١٢)



نتقدم بثقة  
Moving Forward  
with Confidence

رؤية عمان  
2040  
Vision

سؤال قصير في مادة الدراسات الاجتماعية

(هذا وطني في العراقة والمجد) للصف الثاني عشر

الفصل الدراسي: الأول

العام الدراسي: ٢٠٢٥/٢٠٢٤م

اسم الطالب: ..... الصف الثاني عشر (.....) الرقم (.....)

أدرس الشكل، ثم أجب عن الأسئلة الآتية:



من الأمثلة على أهمية التنوع الأحيائي في المجالات المختلفة



١ - ضلل الشكل ◇ المقترن بالإجابة الصحيحة من بين البدائل المعطاة:

من أمثلة أهمية التنوع الأحيائي في المجال الزراعي:

درجة

◇ العقاقير الطبية ◇ مكافحة الحيوية ◇ الأسمدة الكيماوية ◇ المواد الخام الصناعية


درجة

٢ - ما المجال الذي يشير إليه الرقم (١) في الشكل السابق؟

٣ درجات

٣ - بالاستعانة بالشكل السابق، أكمل بيانات الجدول التالي:

المجال الذي تنمي إليه	الوصف
_____	البنسلين وغيره من المضادات الحيوية نتاج كائنات دقيقة
_____	الحفاظ على تركيب الهواء عن طريق عملية البناء الضوئي
_____	الاستفادة من الموارد الوراثية في الطبيعية باستخدام تكنولوجيا الوراثة لإنتاج سلالات جديدة



سؤال قصير في مادة الدراسات الاجتماعية

(هذا وطني في العراقة والمجد) للصف الثاني عشر

الفصل الدراسي: الأول

العام الدراسي: ٢٠٢٥/٢٠٢٤م

اسم الطالب: ..... الصف الثاني عشر (.....) الرقم (.....)

أدرس الشكل، ثم أجب عن الأسئلة الآتية:



المصادقة على  
الاتفاقيات  
الإقليمية والدولية

- اتفاقية التنوع  
الأحيائي.
- اتفاقية فيينا  
لحماية طبقة  
الأوزون.

التعاون مع  
المنظمات  
والبرامج الدولية

- المنظمة  
الإقليمية لحماية  
البيئة البحرية.
- برنامج الأمم  
المتحدة للبيئة.

المشاركة في  
مؤتمرات إقليمية  
وعالمية

- مؤتمر تَغْيَرِ المناخ  
(٢٠١٧م).
- مؤتمرات  
الأطراف المعنية  
بإدارة المَخْلَفَاتِ  
الخطرة والمواد  
الكيميائية بجنيف  
(٢٠١٥م).

عقد مؤتمرات  
دولية

- المؤتمر البيئي  
(الحياة تحت  
الماء، صلالة)
- مؤتمر عُمان  
للبيئة (جلف  
إكو ٢٠١٣).

من جهود سلطنة عُمان لحماية البيئة العالمية

١ - ضلل الشكل ◇ المقترن بالإجابة الصحيحة من بين البدائل المعطاة:

الدولة التي عقد فيها المؤتمر المشار إليه بالرقم (١):

درجة

◇ هولندا

◇ فرنسا

◇ إيطاليا

◇ ألمانيا

درجة


٢ - اذكر العام الميلادي الذي عقد فيه المؤتمر المشار إليه بالرمز (ع)؟

٣ درجات

٢ - أنسب المدن التالية إلى الدولة التي تنتمي إليها:

المدينة	القارة
صلالة	_____
جنيف	_____
فيينا	_____





سؤال قصير في مادة الدراسات الاجتماعية

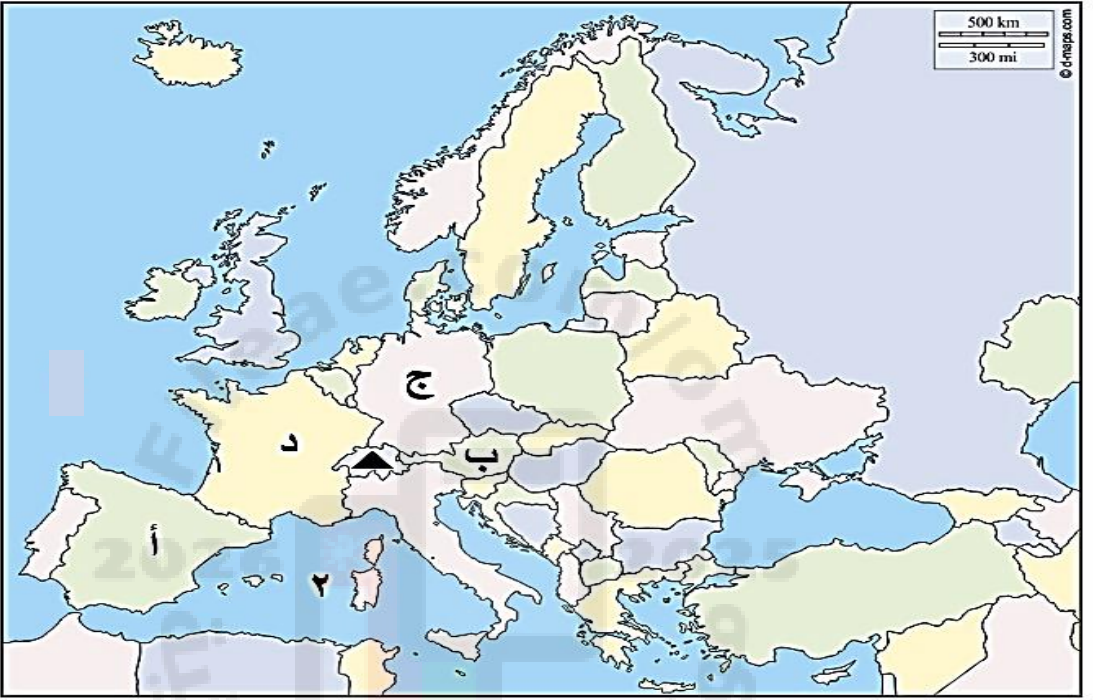
(هذا وطني في العراقة والمجد) للصف الثاني عشر

الفصل الدراسي: الأول

العام الدراسي: ٢٠٢٥/٢٠٢٤م

اسم الطالب: ..... الصف الثاني عشر (.....) الرقم (.....)

أدرس الخريطة، ثم أجب عن الأسئلة الآتية:



١ - ضل الشكل ◇ المقترن بالإجابة الصحيحة من بين البدائل المعطاة:

الرمز الذي يشير إلى الدولة التي عقدت بها مؤتمر تغير المناخ ٢٠١٧م:

درجة



درجة

٢ - ما الرمز الذي يشير إلى الدولة التي تنتمي إليها مدينة فينا؟


درجة

٣ - ما المسطح المائي المشار إليه بالرقم (٢)؟

٤ - سم المؤتمر الدولي البيئي الذي عقد في الدولة المشار لها بالرمز (▲)؟

درجتان

واذكر اسم المدينة التي عقدت بها؟



نتقدم بثقة  
Moving Forward  
with Confidence

رؤية عمان  
2040  
Oman Vision

سؤال قصير في مادة الدراسات الاجتماعية

(هذا وطني في العراقة والمجد) للصف الثاني عشر

الفصل الدراسي: الأول

العام الدراسي: ٢٠٢٤/٢٠٢٥ م

اسم الطالب: ..... الصف الثاني عشر (.....) الرقم (.....)



أدرس الشكل، ثم أجب عن الأسئلة الآتية:

١ - مكان الإعلان عن الجائزة		٣ - أهميتها		٥ - المدة التي تمنح		٧ - طبيعة الجائزة (مكوناته)		٩ - الجهة التي منحت لها ٢٠١٩ م	
مقر منظمة اليونسكو	١٩٨٩ م	الأولى من نوعها في المجال (البيئي)	منظمة اليونسكو	كل عامين	المحيط الحيوي والحفاظ على التراث الطبيعي	شهادة تقديرية ومنحة مالية	١٩٩١ م	صندوق أوشاكا ترست للأبحاث في مجال الإيكولوجيا البيئية بجمهورية الهند	المهتمين بشؤون البيئة على المستوى العالمي من أفراد أو منظمات أو مؤسسات حكومية وغير حكومية ممن لهم إنجاز بارز في صون البيئة وحماية المحيط الحيوي والحفاظ على التراث الطبيعي
٢ - تاريخ الإعلان عن إنشاء الجائزة		٤ - المنظمة التي تمنح الجائزة		٦ - المانحون (لمن تمنح)		٨ - تاريخ منحها لأول مرة			
		UNESCO							

١ - ضلل الشكل ◇ المقترن بالإجابة الصحيحة من بين البدائل المعطاة:

منحت الجائزة المشار لها بالشكل للمرة الثانية في العام الميلادي:

١٩٩٩ ◇

١٩٩٧ ◇

١٩٩٥ ◇

١٩٩٣ ◇

٢ - سم المنظمة الدولية المشرفة على الجائزة؟

٢ - ما شروط الحصول على الجائزة؟

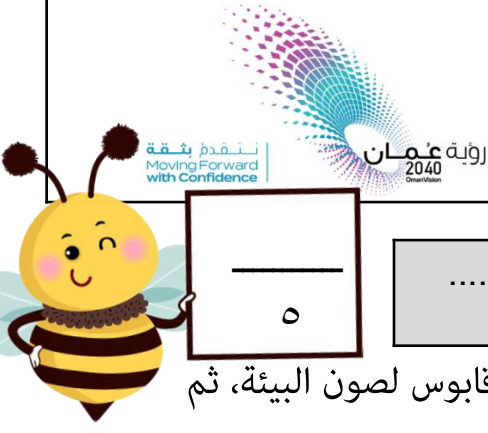
درجة

٣ - سم السلطان العُماني الذي أعلن عن الجائزة.

درجة

٤ - مم تتكون الجائزة.

درجة

	سؤال قصير في مادة الدراسات الاجتماعية
	(هذا وطني في العراقة والمجد) للصف الثاني عشر
	العام الدراسي: ٢٠٢٤/٢٠٢٥ الفصل الدراسي: الأول

اسم الطالب: .....  
 الصف الثاني عشر (.....) الرقم (.....)

أدرس الشكل الذي يوضح الجهات الفائزة بجائزة السلطان قابوس لصون البيئة، ثم  
 أجب عن الأسئلة التي تليه :

### الجهات والمنظمات والافراد الحاصلين على جائزة السلطان قابوس لحماية البيئة:

- \* عام ١٩٩١ م : معهد البيئة في مكسيكو.
- \* عام ١٩٩٣ م : العالم التشيكي البروفسور يان جينيك على الجائزة.
- \* عام ١٩٩٥ م : السلطات الملاوية القائمة على إدارة المحمية الطبيعية التابعة لبحيرة ملاوي المسجلة بقائمة التراث العالمي.
- \* عام ١٩٩٧ م : كل من قسم العلوم البيئية بكلية العلوم - جامعة الإسكندرية والجمعية غير الرسمية التي تعنى بحماية الغابات في سريلانكا.
- \* عام ١٩٩٩ م : مؤسسة شارلز داروين التي تشرف على إدارة محمية غالاباغوس بجائزة السلطان قابوس لصون البيئة.
- \* عام ٢٠٠١ م : جمعية التشاد للمتطوعين لحماية البيئة بجمهورية التشاد وهي جمعية أهلية تضم في عضويتها عدد من العلماء والخبراء والمختصين وآخرين من المهتمين بحماية البيئة وصونها من التلوث .
- \* عام ٢٠٠٣ م : كل من البروفسور بيتروجوهان وهو عالم نرويجي متخصص في مجال التنوع الإحيائي ومركز علم البيئة بالمعهد الفنزويلي للبحث العلمي.
- \* عام ٢٠٠٥ م : كل من محمية الثروات البحرية المرجانية في أستراليا والبروفيسور ارنستو سي انكرلن هوفليش من المكسيك.
- \* عام ٢٠٠٧ م : كل من جوليوس أوزلاني مدير معهد ايكولوجيا المناظر الطبيعية بسلوفاكيا ومعهد حماية التنوع البيولوجي بأثيوبيا.
- \* عام ٢٠٠٩ م : هيئة الحداثق الوطنية (او بي ان) في أسبانيا.
- \* عام ٢٠١١ : المعهد النيجيري لبحوث الغابات.
- \* عام ٢٠١٣ : كل من الإدارة الوطنية لحماية الغابات ببولندا ومنظمة حماية الحياة البرية المعرضة للخطر بجنوب افريقي.
- \* عام ٢٠١٥ م : مجموعة بحوث عن الأراضي الرطبة من جامعة بيونيس آيرس بالأرجنتين.
- \* عام ٢٠١٧ م : مجلس الحداثق الوطنية في سنغافورة.
- \* عام ٢٠١٩ م : صندوق أشوكا للأبحاث في مجال الإيكولوجيا والبيئة بجمهورية الهند

درجة

١ - اذكر العام الميلادي الذي أعلن فيه عن الجائزة؟

٢ - ضلل الشكل المقترن بالإجابة الصحيحة من بين البدائل لمعطاة المنظمة الراعية لجائزة السلطان قابوس لصون البيئة:

درجة



٣ - كم مرة منحت الجائزة حتى نهاية ٢٠٢١م؟

درجة


درجة

٤ - سم الدولة العربية التي فازت بالجائزة في دورتها الرابعة.

درجة

٥ - مم تتكون الجائزة.





نتقدم بثقة  
Moving Forward  
with Confidence

رؤية عمان  
2040  
Vision

سؤال قصير في مادة الدراسات الاجتماعية

(هذا وطني في العراقة والمجد) للصف الثاني عشر

الفصل الدراسي: الأول

العام الدراسي: ٢٠٢٤/٢٠٢٥ م

اسم الطالب: ..... الصف الثاني عشر (.....) الرقم (.....)

ادرس الخريطة التي أمامك، ثم اجب عن الأسئلة التي تليها:



١ - ضلل الشكل ◇ المقترن بالإجابة الصحيحة من بين البدائل المعطاة:

العام الميلادي الذي أطلقت فيه الجائزة:

درجة

◇ ١٩٩٠.

◇ ١٩٨٩

◇ ١٩٨٨

◇ ١٩٨٧

٢ - ما الرقم الذي يشير إلى الدولة التي حصلت على الجائزة في دورتها الخامسة عشر؟

درجة

\_\_\_\_\_

درجتان

٣ - أكتب ما يأتي:

(أ) القارة الأكثر حصولاً على الجائزة. \_\_\_\_\_.

(ب) الدولة العربية التي حصلت على الجائزة. \_\_\_\_\_.

درجة

٤ - مم تكون الجائزة؟

\_\_\_\_\_.