

تم تحميل هذا الملف من موقع المناهج العمانية



## اختبار قصير أول في علم الخرائط

موقع فايلاتي ← المناهج العمانية ← الصف الثاني عشر ← جغرافيا ← الفصل الأول ← اختبارات ← الملف

تاريخ إضافة الملف على موقع المناهج: 10:12:06 2024-12-05

ملفات اكتب للمعلم اكتب للطالب | الاختبارات الكترونية | اختبارات | حلول | عروض بوربوينت | أوراق عمل  
منهج انجليزي | ملخصات و تقارير | مذكرات و بنوك | الامتحان النهائي للمدرس

المزيد من مادة  
جغرافيا:

## التواصل الاجتماعي بحسب الصف الثاني عشر



صفحة المناهج  
العمانية على  
فيسبوك

الرياضيات

اللغة الانجليزية

اللغة العربية

التربية الاسلامية

المواد على تلغرام

## المزيد من الملفات بحسب الصف الثاني عشر والمادة جغرافيا في الفصل الأول

كراسة الأسئلة التقييمية

1

تقرير عن نشأة الاقتصاد العماني وتطوره

2

تقرير عن الطيف الكهرومغناطيسي

3

تقرير عن محطة الفضاء الدولية

4

تقرير عن الطبيب الإنجليزي جون سنو

5


اسم الطالبة المتميزة	
القاعة	
الدرجة من 10	الأجتهد سبيل النجاح

اختبار قصير ( 1 ) للصف الثاني عشر في  
مادة الجغرافيا والتقنيات الحديثة  
الخميس الموافق 17 / 10 / 2024 م

لا تجعل قلمك يسبق  
فكرك


أولاً : الأسئلة الموضوعية : اختاري الإجابة الصحيحة من بين البدائل المعطاة وأكتبي رمز الإجابة في الجدول التالي :

رقم السؤال	1	2	3	المجموع
رمز الإجابة				



1/ جميع ما يأتي من استخدامات المسقط الموضح في الشكل المقابل ما عدا :-

- أ / رسم خرائط الدول الواقعة على خطوط العرض المتوسطة .  
ب / رسم خرائط الدول التي لها امتداد شرقي - غربي .  
ج / رسم خرائط الدول بالشكل الصحيح .  
د / رسم خرائط الدول والمناطق الواقعة على دائرة الاستواء .



2 / إحداثيات النقطة المشار إليها بالرمز ( س ) في الشكل المقابل :-

- أ / دائرة عرض 30 شمالاً وخط طول 20 غرباً  
ب / دائرة عرض 20 شمالاً وخط طول 30 شرقاً  
ج / دائرة عرض 30 جنوباً وخط طول 20 شرقاً  
د / دائرة عرض 20 جنوباً وخط طول 30 غرباً


3 / جميع ما يأتي رموز تتميز بمحدودية الانتشار ما عدا :-



( د )



( ج )



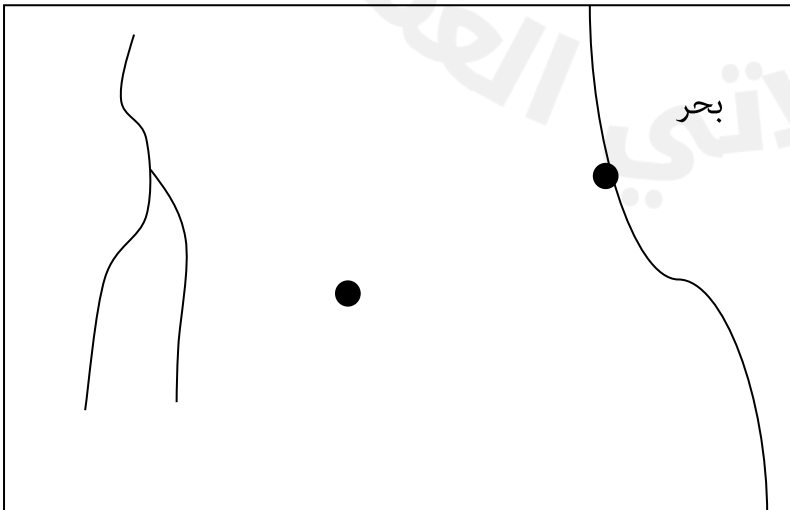
( ب )



( أ )

ثانياً : الأسئلة المقالية :-

4 / تأملي الشكل المقابل ثم أجيب عما يليه من أسئلة :

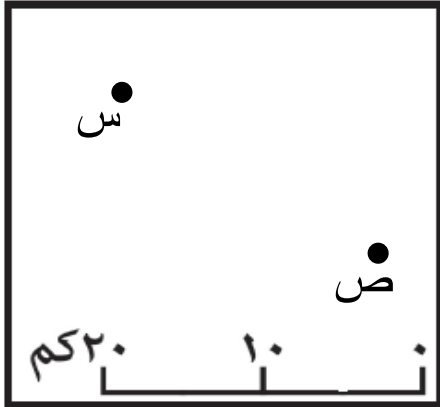


أ / اكتب الاسم الجغرافي للظواهر التالية :  
( مدينة - نهر ) وفق الطريقة  
الصحيحة لكتابة الأسماء الجغرافية على الخريطة  
المقابلة .

ب / ارسمي مفتاحاً للخريطة في الموقع المناسب  
على الخريطة .

5 / من خلال الشكل المقابل أجبني عن التالي :  
أ / احسبي المسافة الحقيقية بين النقطتين ( س و ص ) حسب  
مقياس الرسم الذي أمامك .

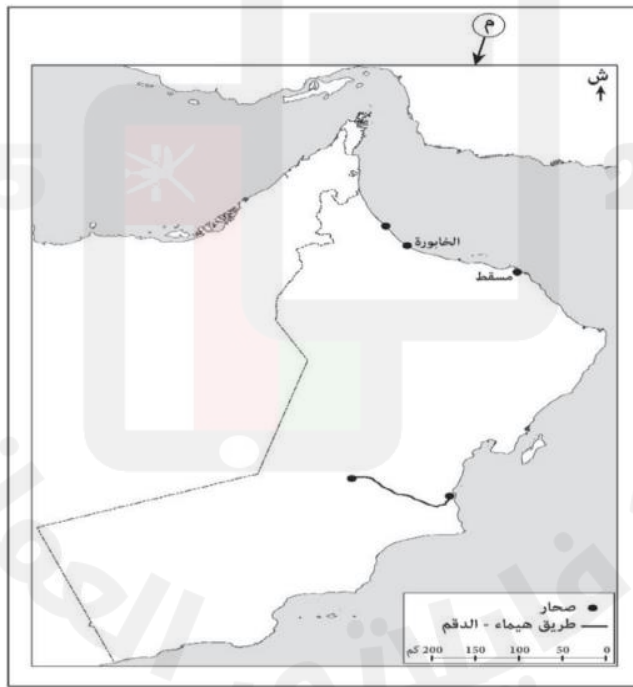
خطوات الحل :



ب / حولي مقياس الرسم الى مقياس نسبي .

خطوات الحل :

6 / لديك خريطة سلطنة عمان . ادرسيها جيدا ثم أجبني عن الأسئلة التي تليها :



أ / ضعي دائرة على الخطأ الذي وقع فيه مصمم الخريطة عند كتابة الأسماء الجغرافية .

ب / أكتبني شرطا واحدا لرسم العنصر المشار إليه بالرمز ( م )

.....

مع تمنياتي لكن بالتوفيق والنجاح