

شكراً لتحميلك هذا الملف من موقع المناهج العمانية



امتحان قصير وواجب منزلي ثاني

[موقع المناهج](#) ⇨ [المناهج العمانية](#) ⇨ [الصف الحادي عشر](#) ⇨ [هذا وطني](#) ⇨ [الفصل الأول](#) ⇨ [الملف](#)

تاريخ نشر الملف على موقع المناهج: 2023-11-26 17:45:13

التواصل الاجتماعي بحسب الصف الحادي عشر



روابط مواد الصف الحادي عشر على تلغرام

[الرياضيات](#)

[اللغة الانجليزية](#)

[اللغة العربية](#)

[التربية الاسلامية](#)

المزيد من الملفات بحسب الصف الحادي عشر والمادة هذا وطني في الفصل الأول

اختبار قصير ثاني	1
حصار درس عمان في القرنين الثاني والسادس الهجريين	2
اختبار قصير ثاني نموذج حديث	3
أسئلة اختبارات قصيرة ونهائية للوحدة الأولى مع الإجابة	4
ملخص دروس الوحدة الأولى عمان المكان والحضارة	5

الاسم :

الصف :

الامتحان القصير (٢) لمادة هذا وطني للصف الحادي عشر**السؤال الأول :** اختاري الإجابة الصحيحة من بين البدائل المعطاه .

١- جميع ما يلي من المشكلات الطبيعية التي تواجه الغطاء النباتي الطبيعي ما عدا :

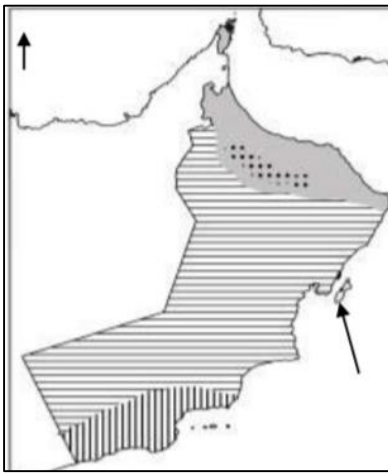
أ- تملح التربة

ب- قلة الأمطار

ج-الرعي الجائر

د- انجراف التربة

٢- مفتاح الخريطة الصحيح للخريطة المقابلة هو :



المناخ البحر المتوسط
المناخ الصحراوي
المناخ الموسمي

المناخ البحر المتوسط
المناخ شبه الصحراوي
المناخ الموسمي

المناخ الموسمي
المناخ الصحراوي
المناخ البحر المتوسط

المناخ شبه الصحراوي
المناخ الصحراوي
المناخ الموسمي

٣- العام الميلادي الذي تم فيه اعلان حديقة السليل الطبيعية كمحمية طبيعية عام :

د- ١٩٩٩م

ج- ١٩٩٨م

ب- ١٩٩٧م

أ- ١٩٩٦م

السؤال الثاني :

١- فسر العبارة التالية " كان للهجرات العربية إلى عمان دور في انعاش النشاط الاقتصادي "

٢- انسبي النباتات التالية إلى ما يناسبها من المعلومات المدرجة في الجدول


(الرمرام ، العتم ، السمر ، العلعلان)

النبات	
	يستخدم أخشابها في البناء نظرا لصلابتها
	يستخدم لمعالجة الجروح ووقف النزيف
	ينتج النحل منها أجود أنواع العسل

٣- تأملي الصور التي أمامك ثم اجيبي عن الأسئلة التي تليها :



ب



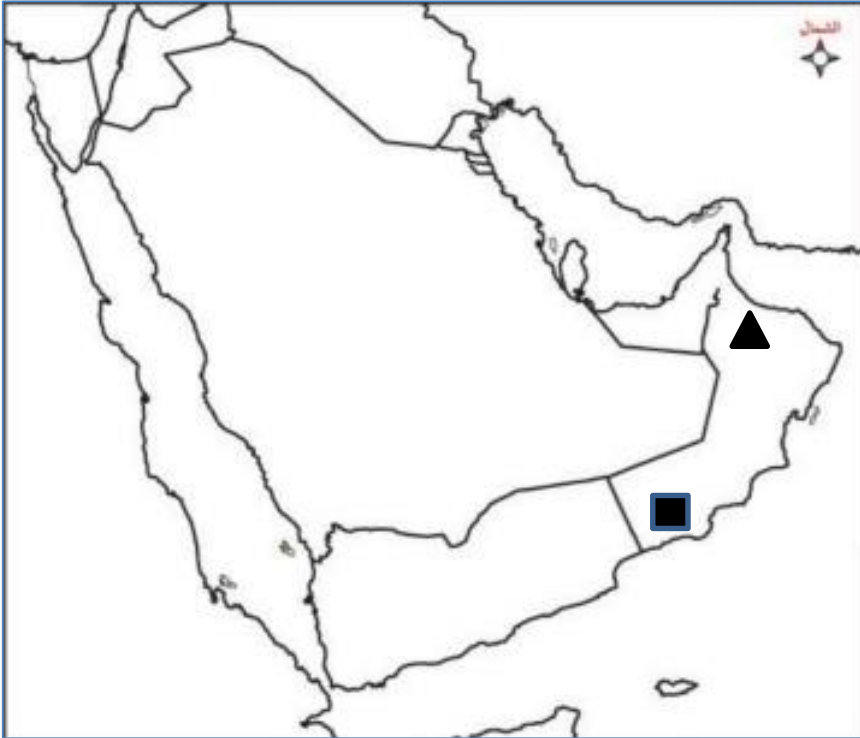
أ

- ١- سم الموقع الأثري الذي توضحه الصورة (أ).....
- ٢- حددي موقع المعلم الأثري الذي توضحه الصور (ب) على الخريطة المقابلة بالرمز (■)

دلي على أهمية الموقعين الأثريين اللذان في الصورة (أ) و (ب)

.....

.....



السؤال الثالث : ادرسي الخريطة التي أمامك
ثم أجبي عن الأسئلة التالية:

- ١- حددي على الخريطة كلا من:
أـ الحضارة التي اطلقت على عمان اسم " مزون "
بـ بحر العرب
جـ المسار الصحيح لهجرات قبائل الأزد

- ٢- الإقليم الذي تتساقط الأمطار عليه في فصل الصيف المشار إليه بالرمز:

■ أـ

▲ بـ

(اختر الإجابة الصحيحة)

فسر إجابتك :

سلطنة عمان

وزارة التربية والتعليم

المديرية العامة للتربية والتعليم بمحافظة شمال الشرقية

الاسم :

الصف :

الواجب المنزلي (٢) لمادة هذا وطني للصف الحادي عشر


السؤال الأول :

اختراري الإجابة الصحيحة من بين البدائل العطاء :

١- مؤلف الكتاب الذي توضحه الصورة المقابلة هو العلامة :

أ- محمد بن إبراهيم الكندي ب- أحمد بن عبدالله الكندي

ج- راشد بن سعيد اليعمدي د- سعيد بن عبدالله الرحيلي



٢- تمكن الأسطول العماني من هزيمة البويهيين في القرن الهجري :

أ- الثاني ب- الثالث ج- الرابع د- الخامس

السؤال الثاني :

أولاً : اكمل الجدول التالي بما يناسبه من الأعمال أو الشخصيات

الاعمال	الشخص
	الإمام غسان بن عبدالله اليعمدي
مؤلف كتاب مسالك الممالك	
	عزان بن الهزبر
انتصر على يوسف بن وجيه والي العباسيين	



ثانياً : تم اكتشاف مجموعة من المسكوكات النقدية في عمان يرجع تاريخها إلى العصور الإسلامية "

١- في أي عام تم اكتشافها ؟

اسم المدينة التي عثر فيها ؟

