

تم تحميل هذا الملف من موقع المناهج العُمانية



\* للحصول على أوراق عمل لجميع الصفوف وجميع المواد اضغط هنا

<https://almanahj.com/om>

\* للحصول على أوراق عمل لجميع مواد الصف الحادي عشر اضغط هنا

<https://almanahj.com/om/11>

\* للحصول على جميع أوراق الصف الحادي عشر في مادة تقنية المعلومات وجميع الفصول, اضغط هنا

<https://almanahj.com/om/11computer>

\* للحصول على أوراق عمل لجميع مواد الصف الحادي عشر في مادة تقنية المعلومات الخاصة بـ الفصل الأول اضغط هنا

<https://almanahj.com/om/11computer1>

\* لتحميل كتب جميع المواد في جميع الفصول للـ الصف الحادي عشر اضغط هنا

<https://almanahj.com/om/grade11>

\* لتحميل جميع ملفات المدرس عمر العزري اضغط هنا

للتحدث إلى بوت على تلغرام: اضغط هنا

[https://t.me/omcourse\\_bot](https://t.me/omcourse_bot)



امتحان مادة : الحاسوب في الاتصالات والأعمال التجارية  
للف : الحادي عشر  
للعام الدراسي ١٤٣٩/١٤٤٠ هـ - ٢٠١٨/٢٠١٩ م  
الدور الاول - الفصل الدراسي الاول

- زمن الامتحان : ( ساعتان ) ● عدد صفحات أسئلة الامتحان: ( ٦ ) صفحات.
- الإجابة في الدفتر نفسه.

اسم الطالب	
المدرسة	الصف

السؤال	الدرجة		التوقيع بالاسم	
	بالأرقام	بالحروف	المصحح الأول	المصحح الثاني
١				
٢				
٣				
٤				
٥				
٦				
المجموع			جمعه	مراجعة الجمع
المجموع الكلي				

أجب عن جميع الأسئلة الآتية

٨

السؤال الأول: ضع دائرة حول رمز الإجابة الصحيحة لكل مفردة من المفردات الآتية:

(١) نوع من أنواع الاتصال يعد أساس الاتصالات التنظيمية ويتسم بالدوام وبسهولة الرجوع إليه هو:

(أ) الكتابي. (ب) الشفهي. (ج) إيمائي ورمزي. (د) المرئي.

(٢) الجيل الذي ظهرت فيه خدمة الرسائل النصية (SMS) هو:

(أ) الأول. (ب) الثاني. (ج) الثالث. (د) الرابع.

(٣) خاصية تعمل على ارجاع الحاسوب إلى الوضع الذي كان عليه قبل تنصيب أي برنامج هي:

(أ) استعادة النظام (System Restore). (ب) انشاء قرص التهيئة (Startup Disk).

(ج) فحص الأقراص (Scan Disk). (د) تنظيف الأقراص (Disk Cleanup).

(٤) أحد الأجهزة التي تعمل كوحدات مركزية والتي تربط بين أجهزة الشبكة وتقوم بفحص

الإشارة قبل توزيعها ثم إرسالها إلى الجهاز المرسل إليه فقط هي:

(أ) الموجهات (Router). (ب) المحاور (Hub).

(ج) المبدلات (Switch). (د) الخادم (Server).

(٥) البنية التي تتصل فيها جميع الأجهزة بوحدة مركزية مثل الموجه او المبدل هي:

(أ) البنية الحلقية. (ب) البنية الشبكية.

(ج) البنية الخطية. (د) البنية النجمية.

تابع: السؤال الأول:

٦) النطاق الذي يمثل مواقع المنظمات هو :

- أ) . org      ب) . gov      ج) . edu      د) . com

٧) أحد أنواع المخططات يستخدم في المقارنة بين المجموعات وملاحظة الاختلافات فيما بينها تسمى:

- أ) التمثيل الخطي.      ب) التمثيل المتناثر.  
ج) الأعمدة البيانية.      د) التمثيل النقطي.

٨) أحد أنواع أسئلة الاستبانة يبحث عما يؤمن به المستهدفون ويظنونه صحيحاً تسمى:

- أ) أسئلة لمعرفة الاتجاهات.      ب) أسئلة لمعرفة السلوكيات.  
ج) أسئلة لمعرفة الخصائص.      د) أسئلة لمعرفة المعتقدات.

السؤال الثاني: أكمل العبارات الآتية بما يناسبها:

٤

١) الوسيلة التي تستخدم لنقل الرسالة من المرسل الى المستقبل تسمى.....

٢) الأسئلة التي تطرح لطلب معلومات جديدة أبعد وأعمق حول الموضوع

تسمى.....

٣) البرنامج الذي يقوم بتنفيذ مهام غير مرغوب بها على جهاز الحاسوب وقد يسبب مشاكل يصعب حلها هو .....

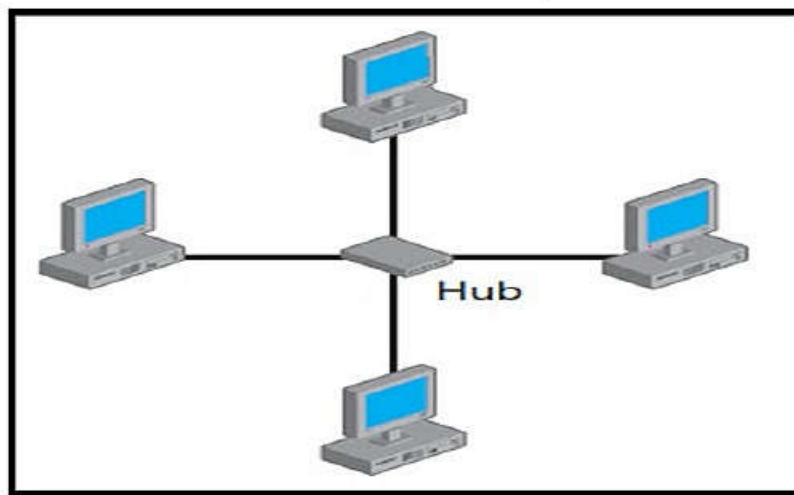
٤) الموظف الذي يقوم بالمطابقة الشهرية بين كشوف البنك وبين السجلات

يسمى.....

## السؤال الثالث :

٦

١- هناك عدة طرق للربط في الشبكات تختلف فيما بينها بالإضافة الى المميزات التي توفرها، تأمل الشكل أدناه ثم أجب عما يليه:



الشكل (١)

أ) عرف شبكة الحاسوب؟

.....

ب) ما اسم البنية في الشكل (١)؟

.....

ج) أذكر اثنين من مميزات هذه البنية؟

.....

.....

د) أذكر اثنين من عيوب هذه البنية؟

.....

.....



السؤال الرابع:

٥

١) للاتصال أشكال مختلفة بحسب حواس الإنسان المستخدمة. اشرح كلا مما يلي:

أ- الاتصال اليماني والرمزي

.....

.....

.....

ب - الاتصال المرئي

.....

.....

.....

٢) يعد التحدث أمام الجمهور أداة اتصال مباشرة يقوم من خلالها شخص أو مجموعة من الأشخاص بعرض موضوع ما على جمهور معين.

اذكر ثلاث خطوات يجب مراعاتها عند استخدام هذا النوع من الاتصال؟

.....

.....

.....

يتبع/٥

## السؤال الخامس:

٤

تعتبر محركات البحث من أهم الخدمات التي تقدمها شبكة الانترنت، من خلال دراستك لهذا الموضوع أجب عما يلي :

١- ما هو المقصود بمحركات البحث ؟

.....  
.....

٢- قام أحمد بعملية البحث التالية، أدرس الشكل التالي ثم أجب عما يليه:



أ) ما هو محرك البحث المستخدم؟

.....

ب) ما الوقت المستغرق في عملية البحث؟

.....

ج) كم عدد نتائج البحث التي تم العثور عليها؟

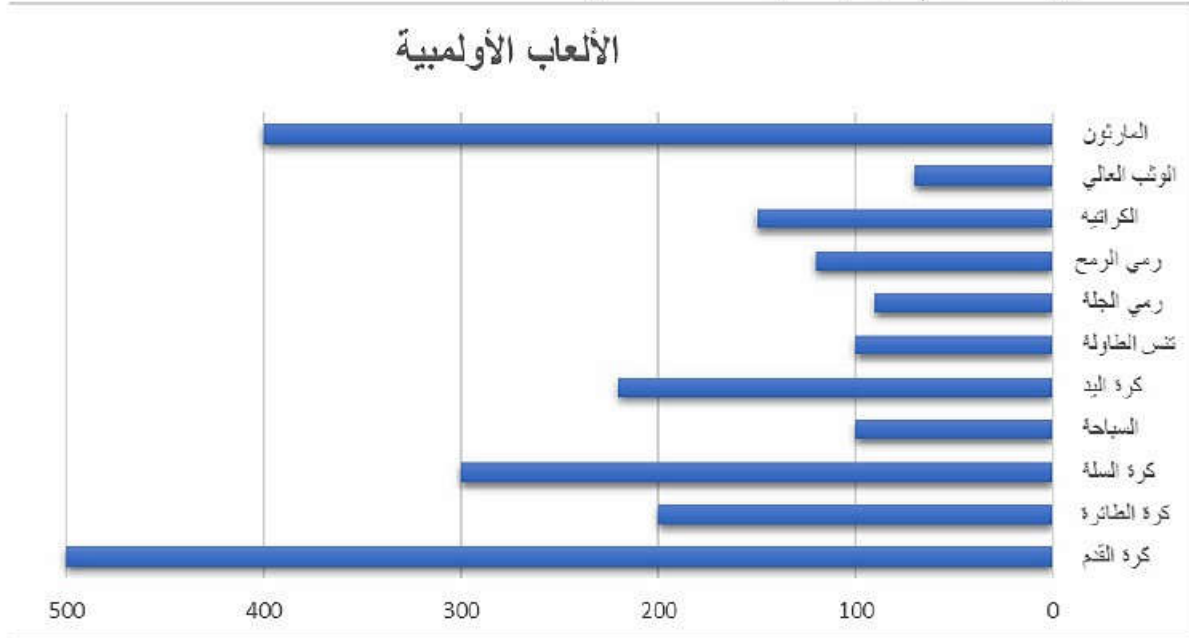
.....

يتبع/٦

### السؤال السادس:

٣

١) قم بدراسة المخطط البياني أدناه والذي يمثل عدد المشاركين في الألعاب الأولمبية في مختلف الرياضات. ثم اجب عن الأسئلة الآتية:



أ) ما نوع المخطط البياني؟

.....

ب) ما هي ثاني أكثر الرياضات المذكورة من حيث عدد المشاركين؟

.....

ج) ما هما الرياضتان اللتان تساوتا في عدد المشاركين؟

.....

.....

انتهت الأسئلة مع الدعاء للجميع بالتوفيق والنجاح.





## نموذج إجابة امتحان : الحاسوب في الاتصالات والأعمال التجارية

للف : الحادي عشر

للعام الدراسي ١٤٣٩/١٤٤٠ هـ - ٢٠١٨/٢٠١٩ م

الدور الاول - الفصل الدراسي الاول

الدرجة الكلية : ( ٣٠ )

المادة: الحاسوب في الاتصالات و الأعمال التجارية

درجة

تنبيهه: نموذج الإجابة في ( ٤ ) صفحات

أولاً: إجابة السؤال الموضوعي:

الدرجة : (٨) درجات				إجابة السؤال الأول	
المخرج التعليمي	الصفحة	الدرجة	الإجابة	البديل الصحيح	المفردة
١/١	١٢	١	الكتابي.	أ	١
٢/١	٢٢	١	الثاني.	ب	٢
٣/١	٢٨	١	استعادة النظام (System Restore).	أ	٣
٤/١	٣٦	١	المبادلات Switch.	ج	٤
٤/١	٤١	١	البنية النجمية.	د	٥
١/٢	٥٦	١	.org	أ	٦
٤/٢	٧٩	١	الأعمدة البيانية.	ج	٧
٣/٢	٦٩	١	أسئلة لمعرفة المعتقدات.	د	٨
٨ درجات			المجموع		

المادة : الحاسوب في الاتصالات والأعمال التجارية الصف : الحادي عشر الدور الأول - الفصل الدراسي الأول -  
العام الدراسي ٢٠١٨/٢٠١٩م

إجابة السؤال الثاني				الدرجة الكلية : ( ٤ ) درجات	
المفردة	الإجابة الصحيحة	الدرجة	الصفحة	المخرج التعليمي	
١	قناة الاتصال.	١	١١	١/١	
٢	الأسئلة الاستقصائية.	١	١٥	٣/٢	
٣	الفيروس.	١	٢٦	٣/١	
٤	المحاسب.	١	٥٠	٦/٢	
المجموع			٤ درجات		

ثانيا : إجابة الأسئلة المقالية :

إجابة السؤال الثالث			الدرجة الكلية : ( ٦ ) درجات		
الجزئية	المفردة	الإجابة الصحيحة	الدرجة	الصفحة	المخرج التعليمي
١	أ	مجموعة من أجهزة الحاسوب مرتبطة معا عبر وسائط اتصال بغرض تبادل البيانات والمعلومات والموارد.	١	٣٥	٤/١
	ب	البنية النجمية Star Topology.	١	٤١	٤/١
	ج	تسهل إضافة أجهزة جديدة إلى هذه البنية لا يؤدي انقطاع أحد الأجهزة إلى توقف الشبكة.	٢		٤/١
	د	توقف وحدة الربط المركزية يؤدي إلى توقف كامل الشبكة. تحتاج إلى خطوط نقل أكثر من البنيتين الخطية و الحلقية.	٢		٤/١
المجموع			الدرجات (٦)		

تابع نموذج إجابة امتحان الصف الحادي عشر

للعام الدراسي ١٤٣٩/١٤٤٠هـ - ٢٠١٧ / ٢٠١٨ م

الدور الأول — الفصل الدراسي الأول

المادة : الحاسوب في الاتصالات و الأعمال التجارية

إجابة السؤال الرابع				
الدرجة الكلية : (٥) درجات				
١	أ	الاتصال اليمائي والرمزي: هو الاتصال الذي يتم من خلاله إيصال المعلومات والأفكار على هيئة سلوك إيجابي أو سلبي يمكن للمستقبل سماعه أو رؤيته عن طريق مجموعة من الإيماءات أو الاشارات أو التعبيرات او التصرفات أو نبرات الصوت أو الحركة ومثال على ذلك الاتصال الذي يتم بين الصم والبكم.	١	١٢
	ب	الاتصال المرئي: هو الاتصال الذي يعتمد على حاستي السمع والبصر معا في نقل الرسائل عن طريق التعبير عنها باستخدام الصور والرسومات والأشكال التوضيحية والخرائط ومقاطع الفيديو ، ويعد هذا الشكل من الاتصالات الأكثر إقناعا وتأثيرا.	١	١٢
٢		<ul style="list-style-type: none"> <li>- تحديد الهدف من عرض الموضوع .</li> <li>- معرفة صفات أو نوعية الجمهور المستمع.</li> <li>- جمع معلومات كافية حول الموضوع.</li> <li>- تنظيم محتوى العرض.</li> <li>- طريقة الألقاء.</li> </ul>	٣	١٦
المجموع		٥ درجات		

تابع نموذج إجابة امتحان الصف الحادي عشر

للعام الدراسي ١٤٣٩/١٤٤٠هـ - ٢٠١٧ / ٢٠١٨ م

الدور الأول — الفصل الدراسي الأول

المادة : الحاسوب في الاتصالات و الأعمال التجارية

إجابة السؤال الخامس					
الدرجة ( ٤ )					
الجزئية	المفردة	الإجابة الصحيحة	الدرجة	الصفحة	المخرج التعليمي
١	١	محركات البحث: عبارة عن برامج خاصة تساعدك على الوصول إلى المعلومات التي تبحث عنها في شبكة الإنترنت.	١	٥٣	١/٢
٢	أ	جوجل Google	١	٥٩	١/٢
	ب	عدد الثواني ٠,٨٩	١	٥٩	١/٢
	ج	حوالي ١,٩٨٠,٠٠٠	١	٥٩	١/٢
المجموع			الدرجة ( ٤ )		

إجابة السؤال السادس					
الدرجة ( ٣ )					
الجزئية	المفردة	الإجابة الصحيحة	الدرجة	الصفحة	المخرج التعليمي
١	أ	الأعمدة البيانية	١	٨٣	٤/٢
	ب	المارثون	١	٨٣	٤/٢
	ج	تنس الطاولة و السباحة	١	٨٣	٤/٢
المجموع			الدرجة ( ٣ )		

نهاية نموذج الإجابة



امتحان مادة : الحاسوب في الاتصالات والأعمال التجارية  
للف : الحادي عشر  
للعام الدراسي ١٤٣٩/١٤٤٠ هـ - ٢٠١٨/٢٠١٩ م  
الدور الثاني - الفصل الدراسي الاول

- زمن الامتحان : ( ساعتان ) ● عدد صفحات أسئلة الامتحان: ( ٦ ) صفحات.
- الإجابة في الدفتر نفسه .

اسم الطالب		
الصف	المدرسة	

السؤال	الدرجة		التوقيع بالاسم	
	بالأرقام	بالحروف	المصحح الأول	المصحح الثاني
١				
٢				
٣				
٤				
٥				
٦				
المجموع			جمعه	مراجعة الجمع
المجموع الكلي				



أجب عن جميع الأسئلة الآتية

٨

السؤال الأول: ضع دائرة حول رمز الإجابة الصحيحة لكل مفردة من المفردات الآتية:

(١) ردود الفعل الناتجة من قبل المستقبل، والتي تساعد على تكوين حكم معين حول فاعلية عملية الاتصال تعرف بـ :

(أ) الهدف. (ب) الرسالة. (ج) قناة الاتصال. (د) التغذية الراجعة.

(٢) نوع الاتصال الذي يستخدمه شرطي المرور أثناء توقف الإشارات الضوئية عن العمل، وذلك لتنظيم حركة السيارات هو:

(أ) الكتابي. (ب) الشفهي. (ج) الإيمائي. (د) المرئي.

(٣) الجيل الذي ظهر فيه نظام التشغيل (Disk Operating System) DOS لأول مرة كان في حواسيب الجيل:

(أ) الأول. (ب) الثاني. (ج) الثالث. (د) الرابع.

(٤) أسئلة الاستبانة التي تهدف لمعرفة الميول نحو قضية ما، يتم تصنيفها على أنها أسئلة:

(أ) الاتجاهات. (ب) المعتقدات. (ج) السلوكيات. (د) الخصائص.

(٥) وسائط النقل RJ-45 والمستخدم في الربط بين محطات العمل مع بعضها البعض داخل شبكة الحاسوب تسمى:

(أ) الوسائط اللاسلكية Wireless Media. (ب) سلك الأزواج المجدولة Twisted Pair Cable.

(ج) سلك المتحد المحور Coaxial Cable. (د) الألياف البصرية Optical Fiber.

(٦) عند وضع المعامل المنطقي AND بين كلمتين مفتاحيتين، فإن نتيجة البحث تكون بعرض المواقع التي تتضمن:

(أ) الكلمة الأولى فقط. (ب) الكلمة الثانية فقط. (ج) الكلمتين معا. (د) استبعاد الكلمتان معا.

**تابع: السؤال الأول:**

(٧) من أدوات الدراسة الاستقصائية التي تحتاج إلى مهارات حاسوبية لتصميمها وإعدادها هي :

(أ) المقابلة المباشرة. (ب) المقابلة الهاتفية.

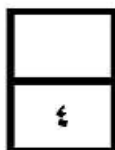
(ج) الاستبانة عبر الانترنت. (د) الاستبانة عبر البريد.

(٨) أحد أشكال التمثيل البياني ويهدف إلى إيجاد العلاقة بين مجموعتين مختلفتين من البيانات، ويتم

تمثيله على هيئة نقاط بدون أن تصل بينها أي خطوط، هو:

(أ) الخطي. (ب) الدائري. (ج) البياني. (د) المتناثر.

.....



**السؤال الثاني: أكمل العبارات التالية بما يناسبها:**

(١) التمثيل البياني الأكثر استخداما من قبل المؤسسات التجارية، للمقارنة بين إيراداتها خلال فترة زمنية

معينة هو .....

(٢) العلم الذي يهتم بتوفير بيئة عمل آمنة خالية من الحوادث والمخاطر والأمراض المهنية في مختلف

مجالات الحياة هو.....

(٣) جهاز الربط المركزي الذي يعتبر الأكثر ذكاء في طريقة توزيع الإشارة على الشبكة هو

.....

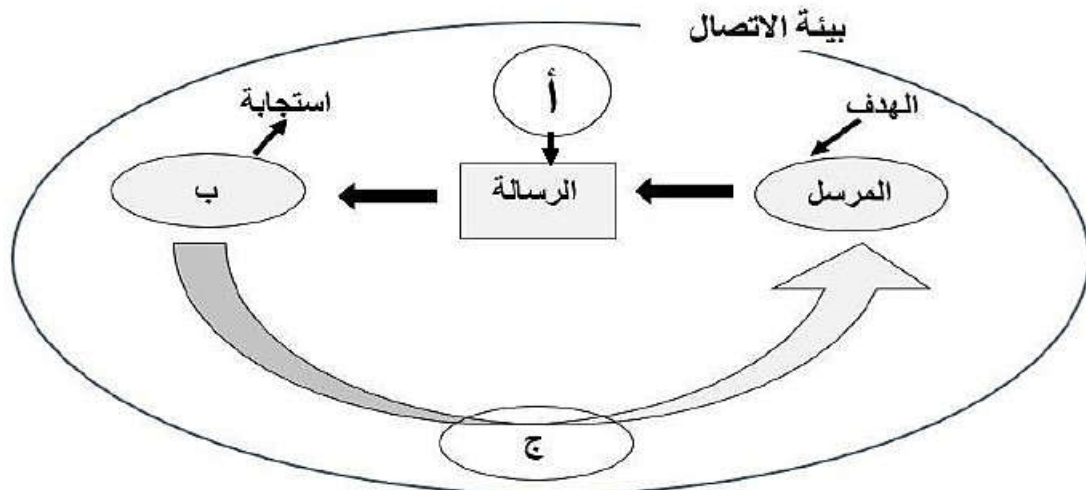
(٤) النظام الذي يتكون من أجهزة وبرمجيات معا أو أحدهما، ويعتبر كحارس لمراقبة عملية انتقال

البيانات بين شبكتين، بهدف منع الاستخدام الغير المرخص بينهما هو .....

المادة : الحاسوب في الاتصالات والأعمال التجارية الصف : الحادي عشر  
(الدور الثاني - الفصل الدراسي الأول - العام الدراسي ٢٠١٨/٢٠١٩م)

### السؤال الثالث:

يتيح الاتصال تبادل الأفكار ومشاركتها والشكل التالي يمثل بيئة الاتصال ومكوناته،  
من خلال دراستك لهذا الموضوع، أجب على الأسئلة الآتية:



١) أكتب المصطلحات التي تشير إليها الرموز في الشكل السابق :

أ) ..... ب) ..... ج) .....

٢) فرق بين الاتصال الإيمائي والاتصال المرئي.

.....  
.....

٣) يتطلب الاتصال الفعال عدة مهارات، اذكر ثلاثاً منها.

.....  
.....  
.....

٤) في مهارة طرح الأسئلة، قارن بين الأسئلة الاستيضاحية والأسئلة الاستقصائية:

الأسئلة الاستقصائية	الأسئلة الاستيضاحية
..... -	..... -
..... -	..... -
..... -	..... -
..... -	..... -



المادة : الحاسوب في الاتصالات والأعمال التجارية الصف : الحادي عشر  
(الدور الثاني - الفصل الدراسي الأول - العام الدراسي ٢٠١٨/٢٠١٩م)

### السؤال الرابع:

٦

(١) تتم عملية الربط في الشبكة المحلية باستخدام نوعين من وسائط نقل البيانات وهي  
الوسائط السلكية والوسائط اللاسلكية من خلال الجدول الآتي أجب عما يلي :

وجه المقارنة	الوسائط السلكية	الوسائط اللاسلكية
نوع الوسيط الناقل للبيانات	.....	.....
	.....	.....
	.....	.....
	.....	.....
نوع الإشارات	.....	.....
	.....	.....
	.....	.....
	.....	.....

(٢) يعد الاتصال ظاهرة اجتماعية ترتبط بطبيعة الإنسان، ويهدف إلى تحقيق مصلحة  
مشتركة لكلا الطرفين، وتعد مهارة الاستماع من أهم مهارات الاتصال. من خلال  
دراستك اذكر اثنين من الجوانب التي ينبغي مراعاتها لتكون مستمعا جيدا .

.....

.....

.....

.....

.....

المادة : الحاسوب في الاتصالات والأعمال التجارية الصف : الحادي عشر

(الدور الثاني - الفصل الدراسي الأول - العام الدراسي ٢٠١٨/٢٠١٩م)

السؤال الخامس:

٣

(١) من خلال دراستك لأدوات (صور) جمع البيانات، أجب عن الأسئلة التالية:

(أ) عرّف الدراسة الاستقصائية.

.....

.....

.....

(ب) قارن بين أداتين من أدوات الدراسة الاستقصائية من حيث الإيجابيات والسلبيات

أدوات الدراسة الاستقصائية		وجه المقارنة
المقابلة الهاتفية	المقابلة المباشرة	
<p>.....</p> <p>.....</p> <p>.....</p> <p>.....</p> <p>.....</p>	<p>.....</p> <p>.....</p> <p>.....</p> <p>.....</p> <p>.....</p>	الإيجابيات
<p>.....</p> <p>.....</p> <p>.....</p> <p>.....</p> <p>.....</p>	<p>.....</p> <p>.....</p> <p>.....</p> <p>.....</p> <p>.....</p>	السلبيات

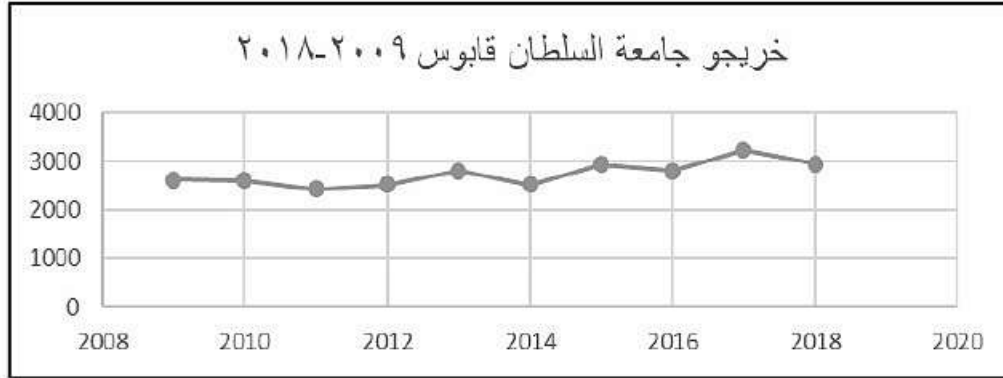


المادة : الحاسوب في الاتصالات والأعمال التجارية الصف : الحادي عشر  
(الدور الثاني - الفصل الدراسي الأول - العام الدراسي ٢٠١٨/٢٠١٩م)

### السؤال السادس:

المخطط البياني التالي يوضح عدد خريجي جامعة السلطان قابوس خلال الأعوام

من ٢٠٠٩ إلى ٢٠١٨ م، ادرس الشكل أدناه ثم أجب عما يليه:



(١) أذكر نوع شكل التمثيل (المخطط) البياني المستخدم.

(٢) في أي عام من الأعوام المذكورة سجّل أقل عدد من الخريجين؟

(٣) في أي عام من الأعوام المذكورة سجّل أعلى عدد من الخريجين؟

(٤) من قرائتك لأعداد الخريجين في الأعوام من ٢٠٠٩-٢٠١٨، كم تتوقع أن يكون عدد خريجي هذه الجامعة في العام ٢٠١٩؟

انتهت الأسئلة مع الدعاء للجميع بالتوفيق والنجاح.



نموذج إجابة امتحان الصف الحادي عشر  
للعام الدراسي ١٤٤٠/١٤٣٩ هـ - ٢٠١٩/٢٠١٨ م  
الدور الثاني - الفصل الدراسي الاول

المادة: الحاسوب في الاتصالات والأعمال التجارية  
الدرجة الكلية: ( 30 ) درجة.  
تنبيهه: نموذج الإجابة في ( ٦ ) صفحات.

أولاً: إجابة السؤال الموضوعي:

الدرجة الكلية: (٨) درجات

إجابة السؤال الأول

المستوى المعرفي	المخرج التعليمي	الصفحة	الدرجة	الإجابة	البديل الصحيح	المفردة
معرفة	١/١	١١	١	التغذية الراجعة.	د	١
فهم	١/١	١٢	١	الإيمائي.	ج	٢
معرفة	٢/١	٢١	١	الرابع.	د	٣
فهم	٣/٢	٦٧	١	الاتجاهات.	أ	٤
فهم	٤/١	٣٩	١	سلك الأزواج المجدولة Twisted Pair Cabel.	ب	٥
فهم	١/٢	٥٨	١	الكلمتين معا.	ج	٦
معرفة	٣/٢	٦٧	١	الاستبانة عبر الانترنت.	ج	٧
معرفة	٤/٢	٨٠	١	المتناثر.	د	٨
		٨		المجموع		

(٢)

نموذج إجابة امتحان الصف الحادي عشر  
للعام الدراسي ١٤٤٠/١٤٣٩ هـ - ٢٠١٩/٢٠١٨ م  
الدور الثاني - الفصل الدراسي الاول  
المادة : الحاسوب في الاتصالات والأعمال التجارية

إجابة السؤال الثاني					الدرجة الكلية: (٤) درجات	
المفردة	الإجابة	الدرجة	الصفحة	المخرج التعليمي	المستوى المعرفي	
١	الأعمدة البيانية.	1	٧٩	٤/٢	فهم	
٢	علم السلامة والصحة المهنية.	1	٤٧	٦/١	معرفة	
٣	الموجه Router.	1	٣٦	٤/١	فهم	
٤	جدار الحماية / Firewall / الجدار الناري.	1	٢٧	٣/١	معرفة	
المجموع		٤				

يتبع/٣

(٣)

نموذج إجابة امتحان الصف الحادي عشر  
للعام الدراسي ١٤٤٠/١٤٣٩ هـ - ٢٠١٩/٢٠١٨ م  
الدور الثاني - الفصل الدراسي الاول  
المادة : الحاسوب في الاتصالات والأعمال التجارية

ثانيا: إجابة الأسئلة المقالية:

إجابة السؤال الثالث						
الدرجة الكلية: (٥) درجات						
الجزئية	المفردة	الإجابة الصحيحة		الدرجة	الصفحة	المخرج التعليمي
١	أ	قناة الاتصال		٠,٥	١١	١/١
	ب	المستقبل		٠,٥	١١	
	ج	التغذية الراجعة		٠,٥	١١	
٢	-	الاتصال الإيمائي: يتم من خلاله إيصال المعلومات والأفكار على هيئة سلوك إيجابي أو سلبي يمكن للمستقبل سماعه أو رؤيته عن طريق مجموعة من الايماءات أو الإشارات أو التعبيرات أو التصرفات أو نبرات الصوت أو الحركات. الاتصال المرئي: يعتمد على حاستي السمع والبصر معا في نقل الرسائل عن طريق التعبير عنها باستخدام الصور والرسومات والاشكال التوضيحية والخرائط ومقاطع الفيديو.		١	١٢	١/١
٣	-	- مهارة الاستماع الجيد - مهارة طرح الأسئلة - مهارة التحدث أمام الجمهور - مهارة استخدام الهاتف بفعالية		٠,٥	١٧- ١٨	١/١
٤	-	الاستيضاحية		٢	١٥	١/١
		الاستقصائية				
		يكتفى بذكر نقطتين لكل نوع.				
المجموع		٥				

(٤)

نموذج إجابة امتحان الصف الحادي عشر  
للعام الدراسي ١٤٤٠/١٤٣٩ هـ - ٢٠١٩/٢٠١٨ م  
الدور الثاني - الفصل الدراسي الاول  
المادة : الحاسوب في الاتصالات والأعمال التجارية

تابع ثانيا: إجابة الأسئلة المقالية:

إجابة السؤال الرابع								
الدرجة الكلية: (٦) درجات								
الجزئية	المفردة	الإجابة الصحيحة			الدرجة	الصفحة	المخرج التعليمي	المستوى المعرفي
١	-	وجه المقارنة	الوسائط السلوكية	الوسائط اللاسلوكية	٤	٣٨	٤/١	مشكلات حل
		نوع الوسيط الناقل للبيانات	اسلاك مادية.	الأثير.				
		نوع الإشارات	كهربائية أو ضوئية.	موجات قصيرة أو موجات الأشعة تحت الحمراء.				
٢	-	<p>- أشعر المتحدث بالاهتمام ، وذلك من خلال النظر إليه والتركيز على ما يقوله وأخذ الملاحظات.</p> <p>- تجنب حركات الجسم أو تعابير الوجه غير المناسبة ، كالتثاؤب المستمر أو النظر إلى الساعة أو غيرهما من الحركات التي تعطي انطباعا للمتحدث بعدم اهتمامك.</p> <p>- لا تلجأ إلى مقاطعة المتحدث إلا في حالات الضرورة.</p> <p>- لا تحاول إنهاء الجمل واستكمالها بالإجابة عن المتحدث.</p> <p>- تجنب توجيه أسئلة غير مناسبة أو محرجة وحاول تقديم مداخلات ذات قيمة لإثراء الحوار وليس من أجل إثبات أنك الأفضل.</p> <p>(يكتفى بذكر اثنتين)</p>			٢	١٤	١/١	معرفة
			المجموع			٦		



نموذج إجابة امتحان الصف الحادي عشر  
للعام الدراسي ١٤٣٩/١٤٤٠ هـ - ٢٠١٨/٢٠١٩ م  
الدور الثاني - الفصل الدراسي الاول  
المادة : الحاسوب في الاتصالات والأعمال التجارية

تابع ثانيا: إجابة الأسئلة المقالية:

الدرجة الكلية: ( ٣ ) درجة						إجابة السؤال الخامس	
الجزئية	المفردة	الإجابة الصحيحة		الدرجة	الصفحة	المخرج التعليمي	المستوى المعرفي
١	أ	الدراسة الاستقصائية هي طريقة لجمع معلومات عن فئة معينة من الناس بأخذ عينة ممثلة منها بهدف تقديم صورة عامة أو مفصلة حول خصائص هذه العينة أو أي تعريف آخر صحيح حسب تقدير المصحح		١	٦٦	٣/٢	معرفة وفهم
	ب		المقابلة المباشرة	المقابلة الهاتفية	٢	٦٧ ٦٨	٣/٢
		معدل الاستجابات سريع. إمكانية توضيح الأسئلة. إبقاء استجابات المستهدفين في حدود المطلوب. سهولة اختيار عينة ممثلة للمجتمع عند ودود قائمة بأرقام المستهدفين.	- سريع. - معدل استجابات جيد. - إبقاء استجابات المستهدفين في حدود المطلوب. - سهولة اختيار عينة ممثلة للمجتمع عند ودود قائمة بأرقام المستهدفين.				
		مكلفة. تحتاج إلى وقت وجهد أكبر لمتطلباتها. إمكانية الحصول على استجابات غير حقيقية بسبب تأثير الأعراف والعادات على المستهدفين. إمكانية تأثير منفذ المقابلة على استجابات المستهدفين.	- يصعب استخدامها في الأسئلة التي تحتاج إجابات طويلة. - يصعب استجابة المستهدفين لإجراء المكالمات أثناء انشغالهم. - تصعب تغطية المناطق الجغرافية التي لا تتوفر بها خدمة الاتصال الهاتفي.				
(يكتفى بذكر اثنين من السلبيات واثنين من الإيجابيات في كل نوع)							
		المجموع		٣			

(٦)

نموذج إجابة امتحان الصف الحادي عشر  
للعام الدراسي ١٤٤٠/١٤٣٩ هـ - ٢٠١٩/٢٠١٨ م  
الدور الثاني - الفصل الدراسي الأول  
المادة : الحاسوب في الاتصالات والأعمال التجارية

تابع ثانيا: إجابة الأسئلة المقالية:

إجابة السؤال السادس						
الدرجة الكلية: ( ٤ ) درجة						
المستوى المعرفي	المخرج التعليمي	الصفحة	الدرجة	الإجابة الصحيحة	المفردة	الجزئية
مشكلات	٤/٢	٧٨	١	التمثيل الخطي Line graph	-	١
	٤/٢	٧٨	١	٢٠١١	-	٢
	٤/٢	٧٨	١	٢٠١٧	-	٣
	٤/٢	٧٨	١	أي عدد يكتبه الطالب بين ( ٢٠٠٠ و ٤٠٠٠ ) خريج يعتبر صحيح	-	٤
	٤			المجموع		

نهاية نموذج الإجابة