

الامتحان التجريبي النهائي مع نموذج الإجابة في محافظة جنوب الشرقية



تم تحميل هذا الملف من موقع المناهج العمانية

موقع فايلاتي ← المناهج العمانية ← الصف الحادي عشر ← حضارة اسلامية ← الفصل الثاني ← ملفات متنوعة ← الملف

تاريخ إضافة الملف على موقع المناهج: 23:50:26 2025-06-02

ملفات اكتب للمعلم اكتب للطالب | اختبارات الكترونية | اختبارات | حلول | عروض بوربوينت | أوراق عمل
منهج انجليزي | ملخصات وتقارير | مذكرات وبنوك | الامتحان النهائي | للمدرس

المزيد من مادة
حضارة اسلامية:

إعداد: مليحة العريمية

التواصل الاجتماعي بحسب الصف الحادي عشر



صفحة المناهج
العمانية على
فيسبوك

الرياضيات

اللغة الانجليزية

اللغة العربية

التربية الاسلامية

المواد على تلغرام

المزيد من الملفات بحسب الصف الحادي عشر والمادة حضارة اسلامية في الفصل الثاني

كتاب الطالب الطبعة الثانية

1

مراجعة شاملة للمادة

2

ملخص ومراجعة دروس المنهج

3

كراسة أنشطة المادة

4

اختبار قصير أول

5

الامتحان التجريبي لمادة الحضارة الاسلامية

للفيف الحادي عشر الفصل الدراسي الثاني

للعام الدراسي 2025/2024م

● عدد صفحات أسئلة الامتحان: (8) صفحات.

● الإجابة في الدفتر نفسه .

اسم الطالب	
المدرسة	الصف

السؤال	الدرجة		التوقيع بالاسم	
	بالأرقام	بالحروف	المصحح الأول	المصحح الثاني
1				
2				
3				
4				
5				
المجموع			جمعه	مراجعة الجمع
المجموع الكلي				

إعداد: أ. مليحة العريمية

(1)

المادة : الدراسات الاجتماعية الصف : العاشر الدور الأول - الفصل الدراسي الأول - العام الدراسي 2025/2024م

أولاً الأسئلة الموضوعية : (12 درجة)

السؤال الأول: ضع دائرة حول رمز الإجابة الصحيحة لكل مفردة من المفردات الآتية:

1- عاصمة الدولة الأموية في الأندلس:

- أ- قرطبة ب- طليطلة ج- غرناطة د- شاطبة

2- الفن المعماري الذي اقتبسه الأوروبيون من الشكل المعماري

الإسلامي الواضح في الصورة:



أ- الأقواس المدببة

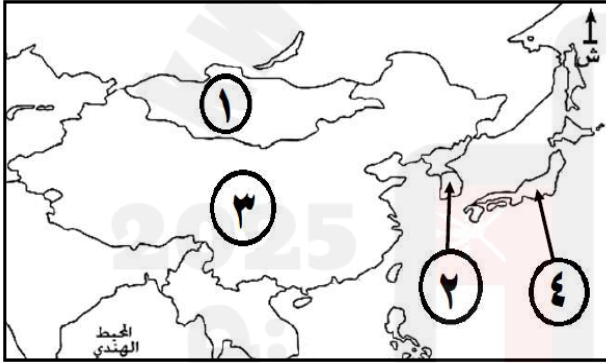
ب- المشربيات

ج- تجميل الأعمدة بالتيجان

د- العمارة ذات الشكل المستدير

3- الرقم الذي يشير إلى الدولة التي كان يطلق عليها

بلاد الواق واق:



أ- 1

ب- 2

ج- 3

د- 4

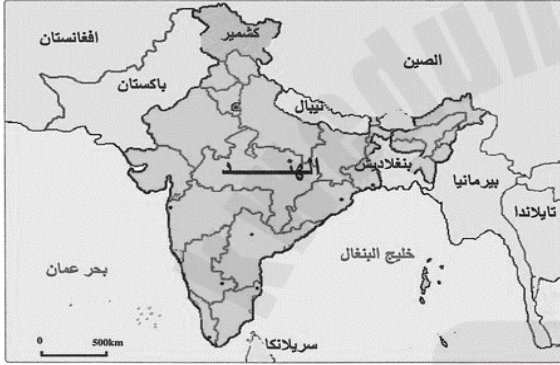
4- الشكل الصحيح الذي يمثل أسماء علماء المسلمين مع المجالات التي برعوا فيها:

الزهر اوي	الخوارزمي	نصير الدين الطوسي	الادريسي	أ-	الزهر اوي	الخوارزمي	نصير الدين الطوسي	الادريسي
الجغرافيا	الطب	الرياضيات	الفلك		الجغرافيا	الطب	الرياضيات	الفلك
الزهر اوي	الخوارزمي	نصير الدين الطوسي	الادريسي	ب-	الزهر اوي	الخوارزمي	نصير الدين الطوسي	الادريسي
الفلك	الطب	الجغرافيا	الرياضيات		الفلك	الطب	الجغرافيا	الرياضيات
الزهر اوي	الخوارزمي	نصير الدين الطوسي	الادريسي	ج-	الزهر اوي	الخوارزمي	نصير الدين الطوسي	الادريسي
الفلك	الجغرافيا	الرياضيات	الطب		الفلك	الجغرافيا	الرياضيات	الطب
الزهر اوي	الخوارزمي	نصير الدين الطوسي	الادريسي	د-	الزهر اوي	الخوارزمي	نصير الدين الطوسي	الادريسي
الطب	الرياضيات	الفلك	الجغرافيا		الطب	الرياضيات	الفلك	الجغرافيا

(2)

- 5- المجال الذي اشتهر فيه أبو الحسن بن نافع (زرياب) في الأندلس:
أ- الطب ب- فن الموسيقى ج- فن العمارة د- الرياضيات

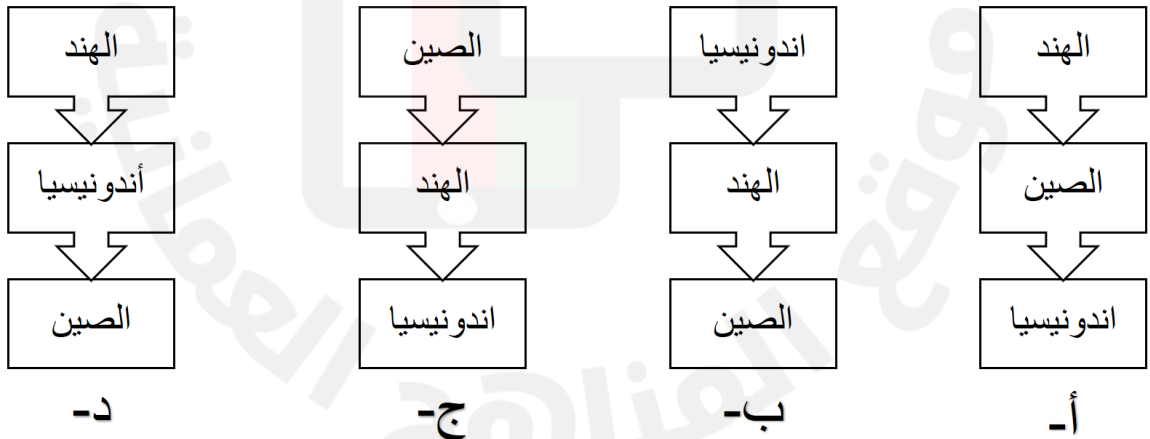
6- الشكل الذي يوضح الترتيب الصحيح لهجرات القبائل العمانية إلى شرقي افريقيا:



7- الجهة الرئيسية التي يقع فيها خليج البنغال بالنسبة للهند:

- أ- الشرق
ب- الغرب
ج- الشمال
د- الجنوب

8- الترتيب الصحيح لمسار انتشار الاسلام من عمان إلى مناطق آسيا :



9- الدولة الإسلامية التي طردت الصليبيين عام 1291م:

- أ- الفاطمية ب- العباسية ج- المماليك د- الأيوبية

(3)

10- الخليفة الراشدي الذي بدأت في عهده فتوحات بلاد ما وراء النهر:

أ- أبوبكر الصديق ب- عمر بن الخطاب ج- عثمان بن عفان د- علي بن أبي طالب



11- الإقليم الذي تنتمي إليه الدولة المشار إليها بالرمز (س):

أ- وسط آسيا
ب- جنوب آسيا
ج- شرق آسيا
د- جنوب شرق آسيا

12- الشكل الصحيح الذي يوضح أسماء الشخصيات التاريخية العمانية والمناطق التي ارتحلوا إليها:

ب-

سعيد وسليمان ابني عباد	عبدالله الصحاري	النوخذة حسن التاجر
قوانتشو	ساحل المليبار	لامو

أ-

سعيد وسليمان ابني عباد	عبدالله الصحاري	النوخذة حسن التاجر
ساحل المليبار	لامو	قوانتشو

د-

سعيد وسليمان ابني عباد	عبدالله الصحاري	النوخذة حسن التاجر
لامو	قوانتشو	ساحل المليبار

ج-

سعيد وسليمان ابني عباد	عبدالله الصحاري	النوخذة حسن التاجر
لامو	ساحل المليبار	قوانتشو

ثانياً: الأسئلة المقالية:
السؤال الثاني: (12 درجة)

أولاً: اكتب أمام كل عبارة في الجدول الآتي (المفهوم / المصطلح الدال عليها) :

م	المفهوم	العبارة
1-	اسم يطلق على المنطقة الواقعة بين شبة القارة الهندية وجنوب بلاد الصين
2-	مزيغ من لغات افريقية قديمة واللغة العربية
3-	شعر ظهر في جنوب فرنسا صيغ في معظمه على أوزان أشعار ابن قزمان

(4)



ثانياً: أجب عن الأسئلة الآتية:

1- أمامك شكل يوضح أحد المعالم التاريخية، ادرسه جيداً ثم أجب:

أ- ما هو المعلم الواضح في الشكل؟

.....

ب- اذكر اسم المدينة التي يقع فيها

.....

2- علل ما يلي:

أ- تسمية مدينة بخارى بهذا الاسم.

.....

ب- تسمية ساحل مليبار قديماً بـ (خير الله) .

.....

ثالثاً: 1- ادرس الخريطة التالية ثم أجب عن الأسئلة:



أ- ضع دائرة حول الجزيرة التي رسم فيها الإدريسي خريطة العالم.

ب- استخرج من الخريطة الرقم الذي يشير إلى:

- المدينة التي يوجد فيها المسجد الأزرق. (.....)

- المدينة التي اشتهرت بصناعة الورق (.....)

2- دلل على مظاهر تأثر أوروبا بالحضارة الإسلامية في مجال الطب؟

.....

.....

السؤال الثالث: (12 درجة)

أولاً: ادرس الشكل جيداً ثم أجب:
أ- ما هو الحدث التاريخي الواضح في الصورة؟

.....

ب- استخلص من الصورة الشعار الذي اتخذته المهاجمون.

.....

ج- اكتب سبباً واحداً من الأسباب التي أدت إلى وقوع هذا الحدث

.....

.....



ثانياً:

1- ادرس الصورة المقابلة التي تمثل أحد الكتب المطبوعة في زنجبار ، ثم أجب:

أ- استخرج من الصورة اسم المطبعة التي طُبِعَ فيها هذا الكتاب؟

.....

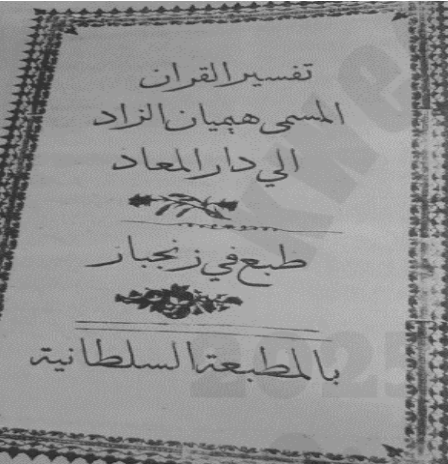
ب- من هي الشخصية التي أمرت بإنشائها؟

.....

ج- اشرح الدور الثقافي الذي لعبته هذه المطبعة في شرق افريقيا.

.....

.....



2- اكتب اسم المدينة الصحيح أمام الوصف المناسب لها في الجدول:

اسم المدينة	العبرة
.....	أطلق عليها الرحالة العرب اسم الياقوتة
.....	اسمها مشتق من كلمة مغولية تعني العلم الكثير

ثالثاً : قارن بين حكم آل الجلندی وقبائل الحرث في شرقي افريقيا وفقاً للجدول الآتي:

وجه المقارنة	آل الجلندی	قبائل الحرث
المنطقة التي استقروا فيها		
أهم انجازاتهم		

السؤال الرابع : (12 درجة)

أولاً: صنف عوامل نجاح العمانيين في نشر الحضارة الاسلامية بالسواحل الآسيوية الآتية إلى مجالاتها كمل ورد بالجدول:

(اسهام السفن العمانية في نقل السلع ، موقع عمان الجغرافي ، قيام الإمامة الإباضية الثانية)

م	المجال	العوامل
أ-	الطبيعية
ب-	السياسية
ج-	الاقتصادية

ثانياً: أجب عما يلي:

1- اذكر نتيجة واحدة ترتبت على الآتي:

أ- الفتح الاسلامي لإقليم وسط آسيا

.....

ب- ترجمة كتاب الرازي (الحاوي)

.....

ج- مبدأ التسامح والعدل الذي تعامل به العثمانيون مع الشعوب الأوروبية

.....

2- إقرأ الاقتباس الآتي ثم أجب:

"إن الشعر الإيطالي ولد في صقلية حيث كان للعرب حضارة زاهرة"

أ- من قائل هذه العبارة؟

.....

ب- ما دلالة هذه العبارة على التأثير الإسلامي في أوروبا؟

.....

ثالثاً: أكمل الجدول الآتي بكتابة اسم المنهج العلمي الذي تشير إليه المقولات الآتية، مع اسم قائلها:

م	المنهج العلمي	صاحب المقولة	المقولات
أ-	"إن المعرفة لا تحصل إلا بالعمل وإجراء التجارب"
ب-	"من أراد أن يكون عالماً فليطلب فناً واحداً"

السؤال الخامس: (12 درجة)

أولاً: ادرس الصور التالية، ثم اكتب أسفل كل صورة المجال المرتبط بها من مجالات التأثير العماني في شرقي افريقيا:



..... ب-

..... أ-

ثانياً: أجب عن الأسئلة الآتية:

عدد اثنين لكلا من:

أ- العوامل التي ساعدت على انتشار الإسلام في شرق افريقيا

..... ،

ب- كلمتين انجليزيتين أصلهما عربي في مجال الملاحة البحرية.

..... ،

ثالثاً: 1- رتب الأحداث التالية من الأقدم إلى الأحدث:

- أ- () وصول الفتوحات العثمانية إلى فيينا عاصمة النمسا
 ب- () ادراج الطبيب راشد بن عميرة في قائمة اليونسكو
 ج- () بداية الحروب الصليبية
 د- () نهاية الدول العثمانية

2- قارن في الجدول الآتي بين طريقة انتشار الإسلام في منطقة جنوب آسيا والمناطق التي وصلها:

الفتوحات	أ-	طريقة انتشار الاسلام
ت-	السواحل الهندية وصولاً إلى هضبة الدكن	المناطق التي وصلها

انتهت الأسئلة مع الدعاء للجميع بالتوفيق والنجاح.

نموذج اجابة الامتحان التجريبي

12 درجة

إجابة السؤال الأول

المفردة	البديل الصحيح	الاجابة	الدرجة	الصفحة	الوحدة
1	أ	قرطبة	1	128	4
2	د	العمارة ذات الشكل المستدير	1	153	4
3	د	4	1	108	3
4	د	<div style="display: flex; justify-content: space-around; align-items: center;"> <div style="border: 1px solid black; padding: 2px; text-align: center;">الادريسي</div> <div style="border: 1px solid black; padding: 2px; text-align: center;">نصير الدين الطوسي</div> <div style="border: 1px solid black; padding: 2px; text-align: center;">الخوارزمي</div> <div style="border: 1px solid black; padding: 2px; text-align: center;">الزهرائي</div> </div> <div style="display: flex; justify-content: space-around; align-items: center;"> <div style="border: 1px solid black; padding: 2px; text-align: center;">الجغرافيا</div> <div style="border: 1px solid black; padding: 2px; text-align: center;">الفلك</div> <div style="border: 1px solid black; padding: 2px; text-align: center;">الرياضيات</div> <div style="border: 1px solid black; padding: 2px; text-align: center;">الطب</div> </div>	1	144، 145 148 ، 146	4
5	ب	فن الموسيقى	1	154	4
6	د	<div style="display: flex; justify-content: space-around; align-items: center;"> <div style="border: 1px solid black; padding: 2px; text-align: center;">آل الجلندي</div> <div style="border: 1px solid black; padding: 2px; text-align: center;">النباهنة</div> <div style="border: 1px solid black; padding: 2px; text-align: center;">اليعاربة</div> <div style="border: 1px solid black; padding: 2px; text-align: center;">اليوسعيد</div> </div>	1	114-113	3
7	أ	الشرق	1	105	3
8	أ	الهند ثم الصين ثم اندونيسيا	1	104، 106، 108	3
9	ج	المماليك	1	132	4
10	ب	عمر بن الخطاب	1		3
11	ج	شرق اسيا	1	108	3
12	د	<div style="display: flex; justify-content: space-around; align-items: center;"> <div style="border: 1px solid black; padding: 2px; text-align: center;">سعيد وسليمان ابني عباد</div> <div style="border: 1px solid black; padding: 2px; text-align: center;">عبد الله الصمدي</div> <div style="border: 1px solid black; padding: 2px; text-align: center;">النوخذة حسن التاجر</div> </div> <div style="display: flex; justify-content: space-around; align-items: center;"> <div style="border: 1px solid black; padding: 2px; text-align: center;">لامو</div> <div style="border: 1px solid black; padding: 2px; text-align: center;">قوانتشو</div> <div style="border: 1px solid black; padding: 2px; text-align: center;">ساحل المليبار</div> </div>	1		3

12 درجة

إجابة السؤال الثاني

الوحدة	الصفحة	الدرجة	الإجابة	المفردة	الجزئية
3	98	1	جنوب شرق اسيا	1	أولاً
3	118	1	اللغة السواحلية	2	
4	142	1	التروبادور	3	
3	89	1	ميدان ريجستان	أ-	ثانياً:
3	89	1	سمرقند	ب-	
3	89	1	لوجود الكثير من العلماء فيها	أ-	
3	105	1	لما يحويه هذا الساحل من خيرات عظيمه	ب-	
3	139	1	دائرة حول جزيرة صقلية	أ-	ثالثاً:
3	131	1	3 ثم 1	ب-	
4	148	2	ستخدم الأوروبيون كتاب "الحاوي" للرازي مرجعاً طبياً في جامعاتهم حتى القرن التاسع عشر نقلوا العديد من الكتب الطبية الإسلامية إلى اللاتينية مثل "القانون في الطب" لابن سينا، و"التصريف" للزهراوي. اعتمدوا على أساليب التشخيص والعلاج التي طوّرها الأطباء المسلمون في مستشفياتهم. يكتفي بذكر اثنان	2	

الجزئية	المفردة	الإجابة	الدرجة	الصفحة	الوحدة
أولاً:	أ-	الحروب الصليبية	1	132	4
	ب-	الصليب	1	132	4
	ج-	- السيطرة على بيت المقدس - السيطرة على تجارة الشرق - السيطرة على حوض البحر المتوسط - الطمع في خيرات الشرق - السيطرة على طليطلة وصقلية يكتفى بذكر سبب واحد	1	133	4

ثانياً:	1-	أ- المطبعة السلطانية	1	118	3
		ب-برغش بن سعيد	1		
		ج- -نشطت حركة التأليف والطباعة -ظهور الصحف - طباعة كتب الفقه ((يكتفى بواحد))	1		
	2-	- سمرقند - بخارى	1 1	89	3

وجه المقارنة	آل الجلندي	قبائل الحرث			
			المنطقة التي استقروا فيها	لامو	ساحل الصومال
			أهم انجازاتهم	مجلس استشاري/هيئة قضائية/مؤسسات تعليمية وتربوية	انشاء الموانئ مقديشو وبروة

ثالثاً:	4 لكل درجة	113	3
---------	------------	-----	---

الجزئية	المفردة	الإجابة	الدرجة	الصفحة	الوحدة
أولاً:	أ-	موقع عمان الجغرافي	1		3
	ب-	قيام الامامة الاباضية الثانية	1		3
	ج-	اسهام السفن العمانية في نقل السلع	1		3
ثانياً:	1-	أ- أصبح وسط آسيا جزء من الدولة الاسلامية، ازدهرت مدن وسط آسيا، مهد اتصال العالم الاسلامي بوسط آسيا والجنسين المغولي والتركي، اتاح الفرصة للاتصال مع الصين (يكتفى بوحدة)	1	86	3
		ب- استعماله في الجامعات الاوروبية حتى القرن 19	1	148	4
		ج- جعل العثمانيين يلقون ترحيباً من تلك الشعوب	1	130	3
	2-	أ- دانتي	1	142	4
		ب- الوجود العربي في صقلية ساهم في إرساء أسس الشعر الإيطالي الحديث / المقولة تُعد اعترافاً من أبرز الأدباء الأوروبيين بأن الحضارة الإسلامية لعبت دوراً تأسيسياً في تطور الأدب الأوروبي. أو ما يفيد المعنى	1		
ثالثاً:	1-	أ- اتباع الملاحظة والتجارب/ جابر بن حيان	1		
	ب-	التخصص / ابن قتيبة	1		

12 درجة

إجابة السؤال الخامس

الوحدة	الصفحة	الدرجة	الإجابة	المفردة	الجزئية
3	116	1	المجال الثقافي	أ-	أولاً:
3	119	1	المجال الاقتصادي	ب-	
3	112	2	بساطة تعاليم الدين الاسلامي وعدالته ومساواته بين الناس وأنه دين الفطرة	أ-	ثانياً:
4	135	2	أدميرال / أرسنال	ب-	
4	130 132، 149،	4	أ- 2 ب- 4 ج- 1 د- 3	-1	ثالثاً:
3	91 92	1 1	أ- التجارة ب- اقليم السند وبنجاب	-2	