

تم تحميل هذا الملف من موقع المناهج العُمانية



*للحصول على أوراق عمل لجميع الصفوف وجميع المواد اضغط هنا

<https://almanahj.com/om>

* للحصول على أوراق عمل لجميع مواد الصف الحادي عشر اضغط هنا

<https://almanahj.com/om/11>

* للحصول على جميع أوراق الصف الحادي عشر في مادة اجتماعيات ولجميع الفصول, اضغط هنا

<https://almanahj.com/om/11social>

* للحصول على أوراق عمل لجميع مواد الصف الحادي عشر في مادة اجتماعيات الخاصة بـ الفصل الأول اضغط هنا

<https://almanahj.com/om/11social1>

* لتحميل كتب جميع المواد في جميع الفصول للـ الصف الحادي عشر اضغط هنا

<https://almanahj.com/om/grade11>

* لتحميل جميع ملفات المدرس نعيمة بنت سعيد البريكية اضغط هنا

للتحدث إلى بوت على تلغرام: اضغط هنا

https://t.me/omcourse_bot

سلطنة عمان

وزارة التربية والتعليم

المديرية العامة للتربية والتعليم بمحافظة شمال الباطنة

مدرسة عاتكة للتعليم الأساسي (٩ - ١٢)

أسرة الدراسات الاجتماعية



ملتزمون بتحقيق رؤيتنا - الإجابة في مودنا

رؤية المدرسة
غابتنا التميز بروح
عالية ومشاركة فاعلة

دفترى سر تميزي

مادة الدراسات الاجتماعية

الصف الحادي عشر / الفصل الدراسي الأول

الوحدة الأولى : عمان .. المكان والحضارة

إعداد الأستاذة : نعيمة بنت سعيد البريكية

اسم الطالب :

الصف :

معلمة المادة :

العاه الدراسي ٢٠١٩ / ٢٠٢٠ هـ

عنوان الدرس: عمان الموقع ومظاهر السطح

1. ادرس الخريطة التالية أجب عن الأسئلة التالية:

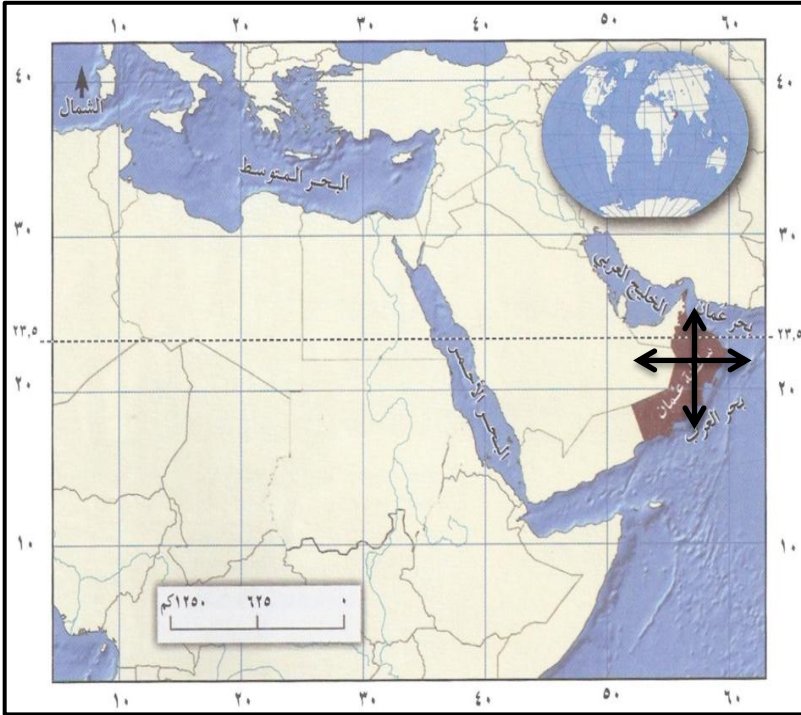
- أ. ما الجهة التي تقع فيها عمان بالنسبة لشبه الجزيرة العربية؟
ب. استنتج الحدود الجغرافية (برية / بحرية) العمانية في الجدول

التالي:

| الجهة (البرية / البحرية) | اسم المسطح المائي / المنطقة البرية |
|----------------------------|------------------------------------|
| الشرق | |
| الغرب | |
| الشمال | |
| الجنوب | |

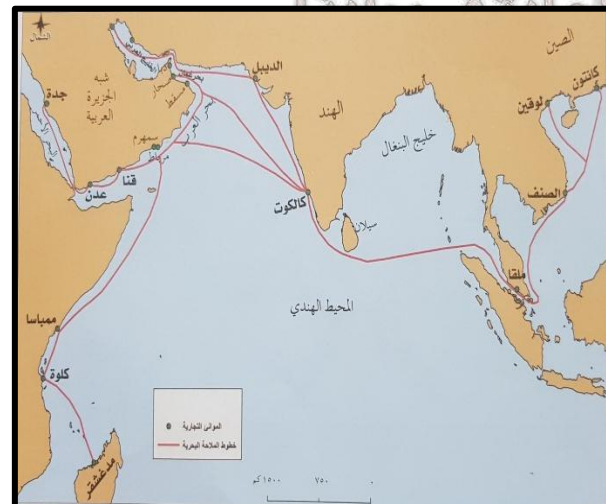
ج. استخرج من الخريطة:

| عدد الدرجات العرضية التي تقطعها | الدرجة العرضية | الدائرة العرضية الرئيسية التي تقع عليها السلطنة |
|---------------------------------|----------------|---|
| | | |



2. اربط بين الأهمية (الحضارية / الاقتصادية) لموقع عمان والنتيجة المرتبطة بها من بين القوسين (تطوير الأنظمة الملاحية والخبرات التجارية للمعمانيين / تعزيز التواصل مع الأقاليم الحضارية المختلفة / التبادل التجاري في منطقة المحيط الهندي والخليج العربي) في الجدول التالي:

| النتيجة | الأهمية (الحضارية / الاقتصادية) |
|---------|---|
| | سهولة التواصل مع الحضارات والأقاليم المجاورة. |
| | التحكم في شبكة التجارة والملاحة في المحيط الهندي. |
| | طول السواحل العمانية وإشرافها على بحار مفتوحة. |



3. ادرس الخريطة التالية واجيب عن الآتي:

- أ. ضع عنوانا مناسباً للخريطة.
ب. استنتج الأهمية (الحضارية / الاقتصادية) للموقع الجغرافي العماني الذي تشير اليه الخريطة.
ج. استخرج اسم الميناء الذي وصلت اليه السفن العمانية في أقصى الشرق.
د. ارسم على الخريطة امتداد الامبراطورية العمانية في شرقي أفريقيا.
هـ. ضع دائرة على الخريطة حول الميناء الذي وصلت اليه السفن العمانية في جنوب آسيا.



4. ادرس الخريطة التالية وأجب عن الآتي:

1. استنتج المسطحات المائية التي يربط بينها مضيق هرمز.
2. ما الأهمية الاقتصادية لمضيق هرمز؟
3. سم الدولة المالكة للمضيق.

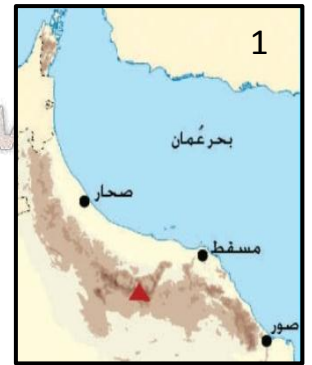


5. ادرس الخريطة التالية وأجب عن الآتي:

1. اكتب على الخريطة الجبال التي توجد بها أعلى قمة في عمان.
 2. ارسم على الخريطة امتداد سهل الباطنة باللون الأخضر.
 3. الكتلة الجبلية التي تقع فيها المحمية الظاهرة في الخريطة:
- أ. القرا ب. القمر ج. سمحان د. شمس
4. ضع دائرة على الخريطة حول المسطح المائي الذي تقترب منه جبال الحجر الشرقي.

6. قارن بين الخريطة (1) والخريطة (2) في الجدول التالي من حيث:


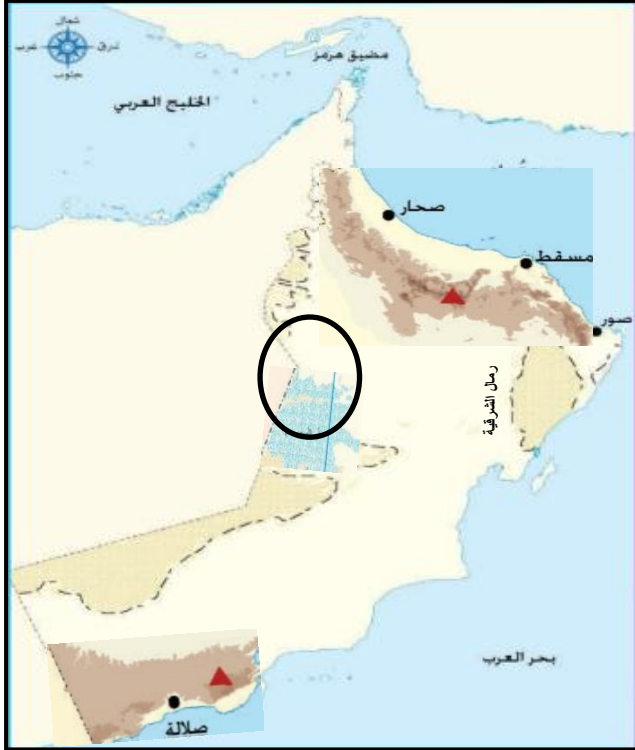
| الخريطة رقم (2) | الخريطة رقم (1) | وجه المقارنة |
|-------------------|-------------------|--------------|
| | | الامتداد |
| | | |
| | | |



2. استنتج الأهمية الاقتصادية للمظهر الطبيعي في الخريطة رقم (2).

3. كم تصل النسبة المئوية التي يشغلها المظهر الطبيعي في الخريطة رقم (1) من مساحة السلطنة؟

10. ادرس الأشكال التالية أجب عن الآتي:



أ. استنتج من الصورة رقم (2) ثلاثاً من أشكال السطح المميزة لها:

1.
2.
3.

ب. أكمل من الخريطة والصورة رقم (1) البيانات التالية:

| | |
|----------------------------------|--|
| اسم المظهر الطبيعي المحاط بدائرة | |
| المساحة بالكيلومتر المربع | |
| المحافظة التي تقع فيها | |
| مكوناتها | |
| الأهمية | |

ج. ما جهة الأودية المكونة للمظهر الطبيعي المحاط بدائرة والمنحدرة من جبال :

ملتزمون بتحقيق رؤيتنا , الإجابة في موادنا

1. ظفار:
2. حجر عمان:

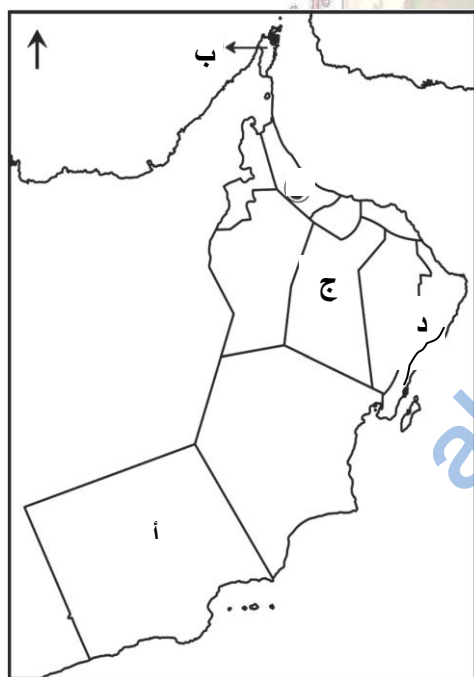
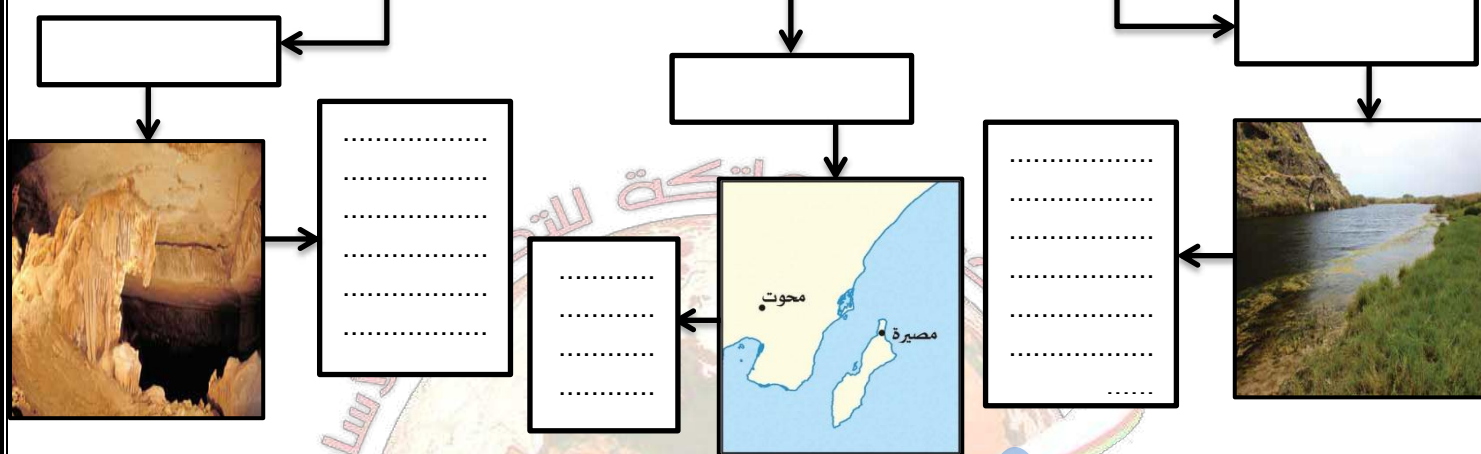
11. صنف الصور التالية الى أخوار دائمة وأخوار موسمية بكتابة نوع الخور في الجدول:

| | |
|--|-------------|
| | خور أرزات |
| | خور السوادي |
| | خور جراما |



12. أكمل بيانات الخريطة الذهنية من العبارات بين القوسين: (الجزر / تبلغ مساحتها حوالي (640 كم2 / يتكون نتيجة الإذابة في الصخور الجيرية / الأخوار / الكهوف / خلجان مائية صغيرة متصلة عادة بمياه البحر)

مظاهر السطح في سلطنة عمان



13. ادرس الخريطة التالية وأجب عن الآتي:

- الرمز الذي يشير الى المحافظة التي يوجد فيها (خور شم) :

- أ ب ج د

- الرمز الذي يشير الى المحافظة التي يوجد فيها (كهف المرنيف) :

- أ ب ج د

- نوع الخور في المحافظة المشار إليها بالرمز (د):

- موسمي دائم تخير الصواب

- ظلل على الخريطة المحافظة التي تأتي في المرتبة الأولى على مستوى السلطنة من حيث عدد الكهوف.

- اكتب على الخريطة اسم المسطح المائي الذي تقع فيه جزر الحلايات.

ملتزمون بتحقيق رؤيتنا , الإجابة

أولاً: ظلل الرمز المقترن بالإجابة الصحيحة:

1. الجهة الفرعية للرياح المؤثرة على جنوب عمان:

- الشمالية الشرقية الجنوبية الشرقية الشمالية الغربية الجنوبية الغربية

2. المسطح المائي الذي تؤثر حالاته المدارية على السواحل الشرقية من السلطنة في بداية فصل الصيف أو نهايته:

- البحر الأحمر المحيط الهندي المحيط الأطلسي البحر المتوسط

3. تعرضت السلطنة الى اعصار (مكونو) في العام الميلادي:

- 2015 2016 2017 2018

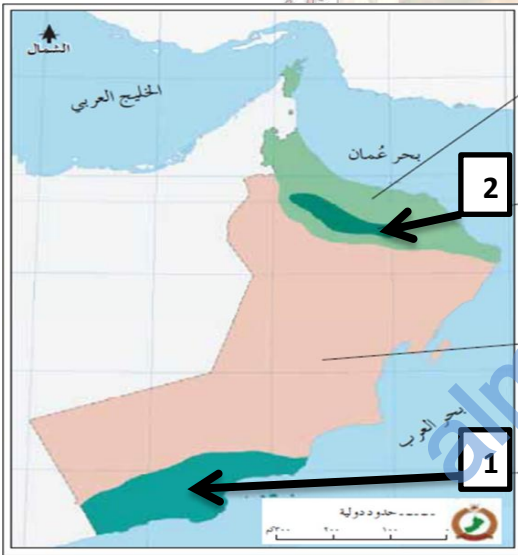
4. نوع الكتلة الهوائية القادمة من جنوب ايران والمؤثرة على المناطق الشمالية من السلطنة:

- مدارية / بحرية قطبية / بحرية مدارية / قارية قطبية / قارية

ثانياً: 1. " تتصف الأمطار التي تسقط على سلطنة عمان بأنها شحيحة وغير منتظمة " برهني على صحة العبارة بالبيانات الإحصائية .

2. قارني بين المناخ رقم (1) والمناخ رقم (2) في الجدول التالي:

| أوجه المقارنة | المناخ رقم (1) | المناخ رقم (2) |
|----------------|------------------|------------------|
| نوع المناخ | | |
| مكان انتشاره | | |
| فصل سقوط المطر | | |



ب. المناخ السائد على معظم أنحاء السلطنة: الصحراوي الجاف شبه الصحراوي

ج. النتيجة المترتبة على التنوع الذي تشير اليه الخريطة:

- تنوع المعادن تنوع النبات

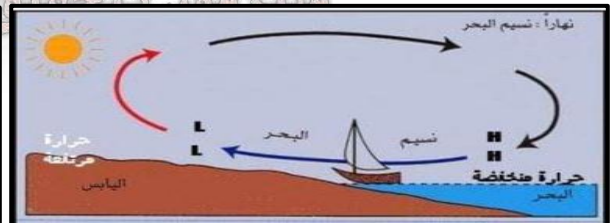
الدليل بالبيانات الإحصائية:

3. ادرس الصورة التالية وأجيب عن الآتي:

أ. نوع الرياح التي تشير اليها الصورة المجاورة.

- رياح محلية رياح يومية

ب. سبب هبوبها:



4. اربط بين السبب والنتيجة في الجدول التالي:

| السبب | النتيجة |
|---|---------|
| ارتفاع درجات الحرارة على معظم أنحاء السلطنة. | |
| تأثر عمان بتدفق أربع كتل هوائية على مدار العام. | |


5. اربط بين الصورة والخريطة بكتابة الرمز الذي يشير الى المحافظة التي توجد فيها:

| | | |
|--------------|---|---|
| رقم الصورة | 1 | 2 |
| الرمز الصحيح | | |



6. صنف الصور (النباتات الطبيعية) التالية حسب الإقليم الذي تنمو فيها:

| | |
|------------|---------|
| رقم الصورة | الإقليم |
| 1 | |
| 2 | |



7. انسب العبارات التالية الى النباتات الطبيعية التي تميزها:

| العبارات | اسم النبات |
|---|------------|
| أكبر الأشجار البرية المعمرة في عمان التي تأخذ قممها الشكل المظلي. | |
| أكثر النباتات الطبيعية انتشارا في الصحاري العمانية. | |
| أكثر الأشجار انتشارا في الأراضي السهلية والحصوية في عمان. | |

8. اكتب الأهمية المدونة بين القوسين أسفل الصورة (النبات الطبيعي) المناسب لها: " ينتج النحل الذي يتغذى على أشجارها أجود أنواع العسل ، استخدم العمانيون منقوعها قديما لعلاج لدغات العقارب ، تستخدم أخشابها في البناء لشدة صلابتها ، كان ولا زال لها مردود اقتصادي مهم عبر العصور التاريخية "



.....
.....

.....
.....

.....
.....

.....
.....

9. استنتج اسم المشكلة ونوعها من الصور بكتابتها في الجدول التالي:

| الرقم | اسم المشكلة | نوعها |
|-------|-------------|-------|
| | | |
| | | |
| | | |
| | | |



مدرسة عاتكة للتعليم الأساسي

إعداد الأستاذة نعيمة البريكية

أولاً: ظلل الرمز المقترن بالإجابة الصحيحة:



1. المحافظة التي تقع فيها المحمية تحتها خط " — " في الخريطة المقابلة:

مسقط جنوب الشرقية

شمال الشرقية الوسطى

2. أشجار عطرية الرائحة دائمة الخضرة تنمو في الجبل الأخضر:

العتم

اللعلان

اللبان

السدر

3. نبات استخدمه العمانيين قديماً لمعالجة الجروح ووقف النزيف وتشير إليها الصورة المقابلة:



العتم

الرمرام

اللبان

السدر

4. الأهمية الاقتصادية لشجرة العتم (الزيتون البري) استخدامه في:

العلاج

التجارة

البناء

صناعة السفن

5. الإقليم الذي تنمو فيه شجرة (الأكاسيا):

الأراضي السهلية

المرتفعات الجبلية

الأراضي الصحراوية

الأقاليم الساحلية

6. أكبر الأشجار البرية المعمرة في عمان تنمو في بطون الأودية:

العتم

السمر

الغاف

اللبان

7. الكتلة الهوائية المؤثرة على المناطق الجنوبية من عمان:

القطبية / القارية

المدارية / القارية

القطبية / البحرية

المدارية البحرية


8. السواحل العمانية التي تأثرت بالحالة المناخية التي تظهر في الصورة المقابلة:

الشرقية

الجنوبية

الشمالية

الغربية



9. نوع المناخ السائد في محافظة الوسطى:

البحر المتوسط

الموسمي

ملتزمون بتحقيق رؤيتنا ، الإيجابية في موادنا

الصحراوي الجاف

10. الجدول الصحيح لنباتات السهول والواحات وبتون الأودية:

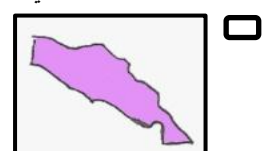
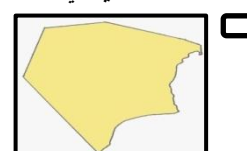
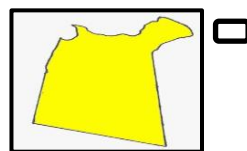
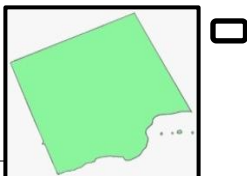
| | |
|--------------------------|-------|
| <input type="checkbox"/> | الغاف |
| <input type="checkbox"/> | السدر |
| <input type="checkbox"/> | السمر |

| | |
|--------------------------|-------|
| <input type="checkbox"/> | الغاف |
| <input type="checkbox"/> | القرم |
| <input type="checkbox"/> | السدر |

| | |
|--------------------------|--------|
| <input type="checkbox"/> | السرحد |
| <input type="checkbox"/> | البوت |
| <input type="checkbox"/> | السدر |

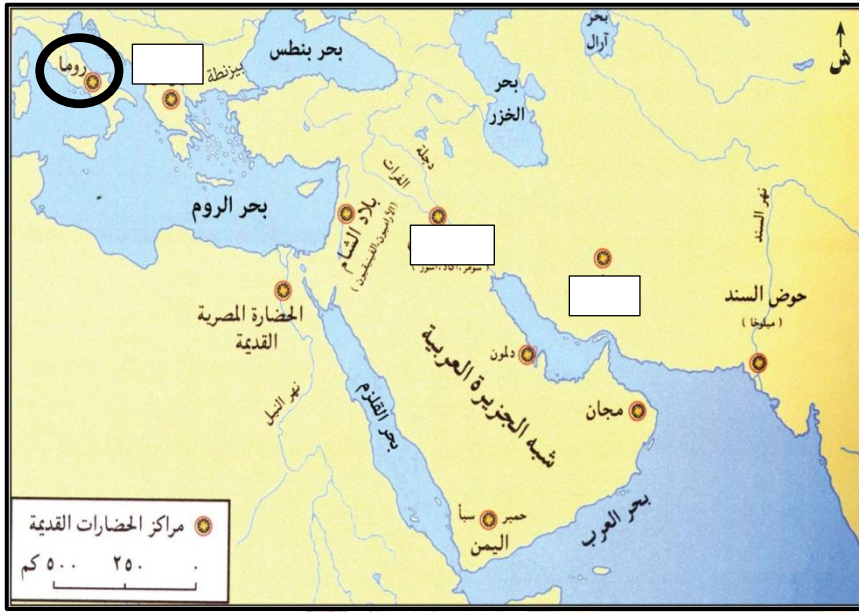
| | |
|--------------------------|--------|
| <input type="checkbox"/> | الغاف |
| <input type="checkbox"/> | اللبان |
| <input type="checkbox"/> | السدر |

11. خريطة المحافظة التي يسود فيها المناخ شبه الصحراوي في عمان:



مدرسة عاتكة للتعليم الأساسي

إعداد الأستاذة نعيمة البريكية



عنوان الدرس: عمان العصور القديمة وصدر الإسلام

1. ادرس الخريطة التالية وأجب عن التالي:

أ. ضع دائرة حول الحضارة التي عرفت (عمان) باسم (مجان).

ب. اكتب الرمز (س) في المربع المناسب للحضارة التي أطلقت على عمان اسم (مزون).

ج. ما الجهة التي تقع فيها الحضارة التي هاجرت منها قبيلة (الأزدي) بالنسبة لعمان.

د. اربط بعلاقة بين الحضارة المحاطة بدائرة واسم (عمان).

2. ادرس الصورة التالية وأجب عن الآتي:


أ. استنتج نوع النشاط الاقتصادي بين عمان والحضارة التي تنسب اليها الصورة.

ب. متى كان هذا الازدهار الاقتصادي؟

ج. ما اسم القوارب التي استوردتها الحضارة في الصورة المقابلة من عمان.

د. اكتب اسم القارة التي ينتمي اليها الملاحين في الصورة المجاورة.

3. (أ) أكمل البيانات المرتبطة بالصورة في نموذج (فراير):



اسم الملكة في الصورة:

اسم الملك الذي عاصرته من ملوك حضارة بلاد الرافدين:

اسم عمان في ذلك الوقت:

نوع الصراع الذي كان قائما بين الحضارات خلال فترة حكمها:

الدليل على حنكتها السياسية:



(ب) ما نظام الحكم الذي كان قائما في عمان في تلك الفترة؟

(ج) تربعت الملكة الظاهرة في الصورة المجاورة عرش البلاد قبل الميلاد ب :

3500 3000

4500 4000

4. ادرس الخريطة التالية وأجيب عن التالي:

أ. اربط بين الصور التالية والخريطة في الجدول التالي:

| م | اسم الموقع الأثري | المحافظة |
|---|-------------------|----------|
| 1 | | |
| 2 | خور روري | |
| 3 | | |
| 4 | سلوت | |



ب. استنتج الدلالة الهندسية التي يشير إليها الموقع الأثري في الصورة (1).

ج. اكتب العام الميلادي لإدراج الموقعين التاليين الى قائمة التراث العالمي:

(1) :
(3) :

د. يعود تاريخ الموقع رقم (3) للقرن الميلادي: الثالث الثالث عشر.
هـ. سم المنظمة المعنية بالإدراج في قائمة التراث العالمي.



5. ادرس الخريطة التالية وأجيب عن الآتي:

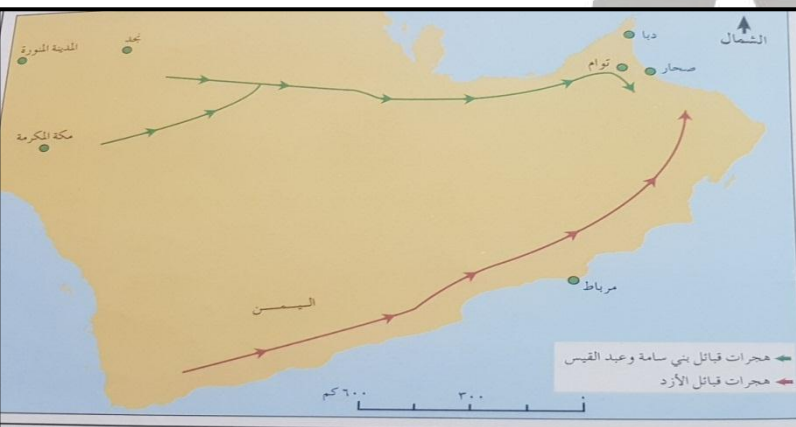
أ. ضع عنوانا مناسباً للخريطة:

ب. اكتب في الجدول التالي البيانات المرتبطة بالخريطة:

| اسم القبيلة | المنطقة التي هاجرت منها |
|-------------|-------------------------|
| | |
| | بلاد الحجاز |

ج. برهن على أهمية الهجرات العربية بالتعاون مع العمانيين في

المجالات:



السياسية:

الاقتصادية:

إعداد الأستاذة نعيمة البريكية

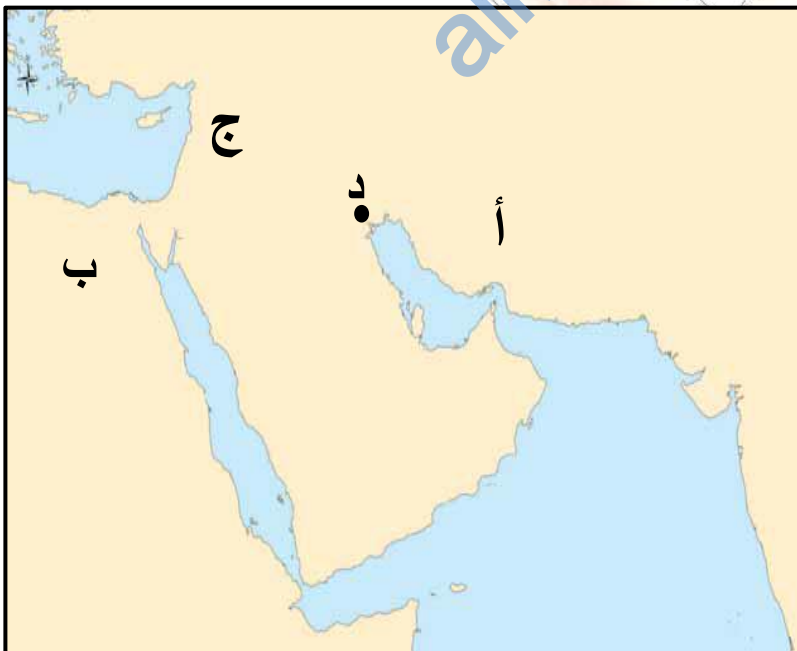
مدرسة عاتكة للتعليم الأساسي

6. ادرس الصور التالية وأجيب عن الآتي:



- أ. ضع عنوانا مناسباً للشكل.
- ب. اكتب الرمز (س) في المربع المناسب الذي يشير الى الرسالة التي حملها عمرو بن العاص إلى أهل عمان.
- ج. اكمل البيانات المرتبطة بالرسالة رقم (1) في الجدول التالي:

| القبيلة التي ارسلت لها | اسم زعيم الوفد الذي التقى بالرسول (ص) | الدور التاريخي للقبيلة |
|------------------------|---|------------------------|
| | | — |
| | | |



7. ادرس الخريطة التالية وأجيب عن الآتي:

1. استخرج اسم المنطقة التي شارك العمانيين في فتحها :

(أ)

(ب)

(ج)

2. برهن على دور العمانيين في فتح المنطقة المشار اليها بالرمز

(ب) على الخريطة.

3. سمى القبيلة العمانية التي استقرت في المناطق المشار اليها

بالرمزين: (د) :

(ب) :

عنوان الدرس: عمان بين القرنين الثاني والسادس الهجريين

أولاً: ظلل الرمز المقترن بالإجابة الصحيحة:

1. الفترة الزمنية التي امتدت خلالها الدولة العباسية بالسنوات الهجرية :

(131 – 757)

(132 – 656)

(123 – 656)

(41 – 132)

2. عدد السنوات التي دام فيها حكم النباهنة على عمان :

495

490

485

480

3. تمكنت الدولة الأموية من بسط سيطرتها على عمان في العام الهجري:

83

82

81

80

4. عاش العلامة العماني محمد بن إبراهيم الكندي في القرن الهجري:

الخامس

الرابع

الثالث

الثاني

5. الامام الذي تمكن من طرد البويهيين وتوحيد عمان:

الصلت بن مالك الخروصي

غسان بن عبدالله اليعمدي

سعيد بن عبدالله الرحيلي

راشد بن سعيد اليعمدي

6. الامام الذي تمكن من القضاء على قرavanaugh الميـد :

الصلت بن مالك الخروصي

غسان بن عبدالله اليعمدي

سعيد بن عبدالله الرحيلي

راشد بن سعيد اليعمدي

7. الامام الذي تمكن من طرد النصارى وتحرير جزيرة سقطرى :

الصلت بن مالك الخروصي

غسان بن عبدالله اليعمدي

سعيد بن عبدالله الرحيلي

راشد بن سعيد اليعمدي

8. الجدول الصحيح للأحداث التاريخية التي مرت بها عمان من الأقدم الى الأحدث:

| |
|--|
| سيطرة الدولة الأموية على عمان |
| هزيمة يوسف بن وجيه والي العباسيين على صحار |
| هزيمة البويهيين |

| |
|--|
| هزيمة يوسف بن وجيه والي العباسيين على صحار |
| سيطرة الدولة الأموية على عمان |
| هزيمة البويهيين |

| |
|--|
| هزيمة البويهيين |
| هزيمة يوسف بن وجيه والي العباسيين على صحار |
| سيطرة الدولة الأموية على عمان |

| |
|--|
| هزيمة يوسف بن وجيه والي العباسيين على صحار |
| هزيمة البويهيين |
| سيطرة الدولة الأموية على عمان |

9. الجدول الصحيح للإنجازات التاريخية للأئمة عمان: بتحقيق رؤيتنا , الإجدادة في موادنا

| الإتجاز | الامام |
|------------------------------|-------------------------|
| طرده البويهيين من عمان | راشد بن سعيد اليعمدي |
| هزيمة يوسف بن وجيه | سعيد بن عبدالله الرحيلي |
| طرده النصارى من جزيرة سقطرى | غسان بن عبدالله اليعمدي |
| القضاء على قرavanaugh الميـد | الصلت بن مالك الخروصي |

| الإتجاز | الامام |
|------------------------------|-------------------------|
| هزيمة يوسف بن وجيه | راشد بن سعيد اليعمدي |
| طرده البويهيين من عمان | سعيد بن عبدالله الرحيلي |
| طرده النصارى من جزيرة سقطرى | غسان بن عبدالله اليعمدي |
| القضاء على قرavanaugh الميـد | الصلت بن مالك الخروصي |

| الإتجاز | الامام |
|------------------------------|-------------------------|
| طرده النصارى من سقطرى | راشد بن سعيد اليعمدي |
| طرده البويهيين من عمان | سعيد بن عبدالله الرحيلي |
| القضاء على قرavanaugh الميـد | غسان بن عبدالله اليعمدي |
| هزيمة يوسف بن وجيه | الصلت بن مالك الخروصي |

| الإتجاز | الامام |
|------------------------------|-------------------------|
| هزيمة يوسف بن وجيه | راشد بن سعيد اليعمدي |
| طرده البويهيين من عمان | سعيد بن عبدالله الرحيلي |
| القضاء على قرavanaugh الميـد | غسان بن عبدالله اليعمدي |
| طرده النصارى من جزيرة سقطرى | الصلت بن مالك الخروصي |

أولاً: ظلل الرمز المقترن بالإجابة الصحيحة:

1. الجدول الصحيح لفترات الحكم التي مرت بها عمان في الفترة من (40 – 1034 هـ):

| | | | |
|--------------------------|--------------------------|--------------------------|--------------------------|
| <input type="checkbox"/> | <input type="checkbox"/> | <input type="checkbox"/> | <input type="checkbox"/> |
| الإمامة الإباضية الأولى | الإمامة الإباضية الأولى | عصر النباهنة | الإمامة الإباضية الأولى |
| عصر النباهنة | الإمامة الإباضية الثانية | حكم عماني مستقل | الإمامة الإباضية الثانية |
| الإمامة الإباضية الثانية | حكم عماني مستقل | الإمامة الإباضية الأولى | عصر النباهنة |
| حكم عماني مستقل | عصر النباهنة | الإمامة الإباضية الثانية | حكم عماني مستقل |

2. الرحالة الجغرافي الذي رافق العمانيين في رحلتهم الى جزيرة (قنبلو) في القرن الرابع الهجري:

المسعودي الإصطخري ابن حوقل الإدريسي

3. صاحب كتاب (صورة الأرض) الرحالة الجغرافي:

المسعودي الإصطخري ابن حوقل الإدريسي

4. مؤسس الدولة الأموية سنة (41 هـ):

يزيد بن معاوية عبد الملك بن مروان مروان بن محمد معاوية بن أبي سفيان

5. يصل عدد المجلدات في موسوعة (بيان الشرع) للعلامة العماني محمد بن ابراهيم الكندي:

42 52 62 72

6. اسم الكتاب الذي ألفه الرحالة الجغرافي (الإدريسي) :

المصنف في الأديان نزهة المشتاق صورة الأرض مسالك الممالك

7. السفن التي استخدمها الإمام الصلت بن مالك الخروصي لتحرير جزيرة (سقطرى) من سيطرة النصارى تعرف باسم:

بوارج الميد الشذاة اليوم البوصي

8. المنصب الإداري المختص بمساعدة الإمام في كل ما يخص شؤون الرعية في العصر الإسلامي هو:

المحتسب الوزير القاضي الوالي

9. الجزيرة التي كانت تعرف قديماً باسم (قنبلو) جزيرة:

مدغشقر سقطرى زنجبار مصيرة

10. تمكن العمانيين من تحقيق الاستقلال لبلادهم من السيطرة الأموية في القرن الهجري:

الأول الثاني الثالث الثالث

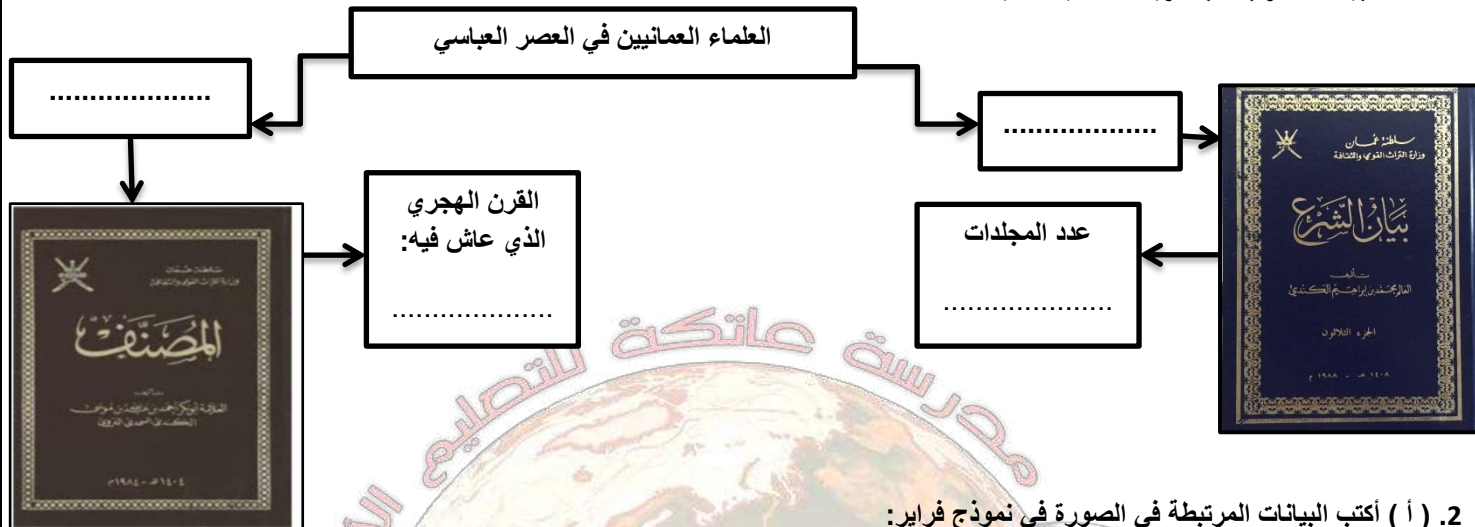
11. عدد الوحدات الإدارية التي انقسمت إليها السلطنة في العصور الإسلامية إلى:

6 7 8 9

12. المنصب الإداري الذي يضم كبار العلماء ورؤساء القبائل في العصور الإسلامية :

المحتسب الوزير القاضي مجلس أهل الحل والعقد

1. أكمل البيانات المرتبطة بالخريطة الذهنية التالية:



2. (أ) أكتب البيانات المرتبطة في الصورة في نموذج فراير:

(ب) أعط أمثلة على القوى الأجنبية التي سيطرة على عمان في الفترة من القرن الثالث الى القرن السادس الهجري؟

(ج) .دلل على ازدهار النشاط الاقتصادي في عمان في العصور الاسلامية.

النشاط الاقتصادي الذي ازدهر نتيجة سكتها:

سبب سكتها في الفترة من القرن الهجري (3 - 6):



الأئمة الذين سكت في عهدهم في الفترة من (425 - 464 هـ):

الولاية العمانية التي عثر فيها على عدد منها عام 2003م :

اسم العملة التي عثر عليها:

3. ادرس الخريطة التالية وأجب عن الآتي:

أ. ضع عنوانا مناسباً للخريطة

ب. أكتب على الخريطة البيانات التالية في مواضعها الصحيحة :

- الصير.

- الشحر.

- أرض الشرق.

ج. الاسم الذي يشير الى عبري وما حولها هو:

الباطنة أرض الجوف

أرض السر الجو

د. كم عدد المحافظات التي تتكون منها السلطنة حالياً؟



ظل الرمز المقترن بالإجابة الصحيحة:

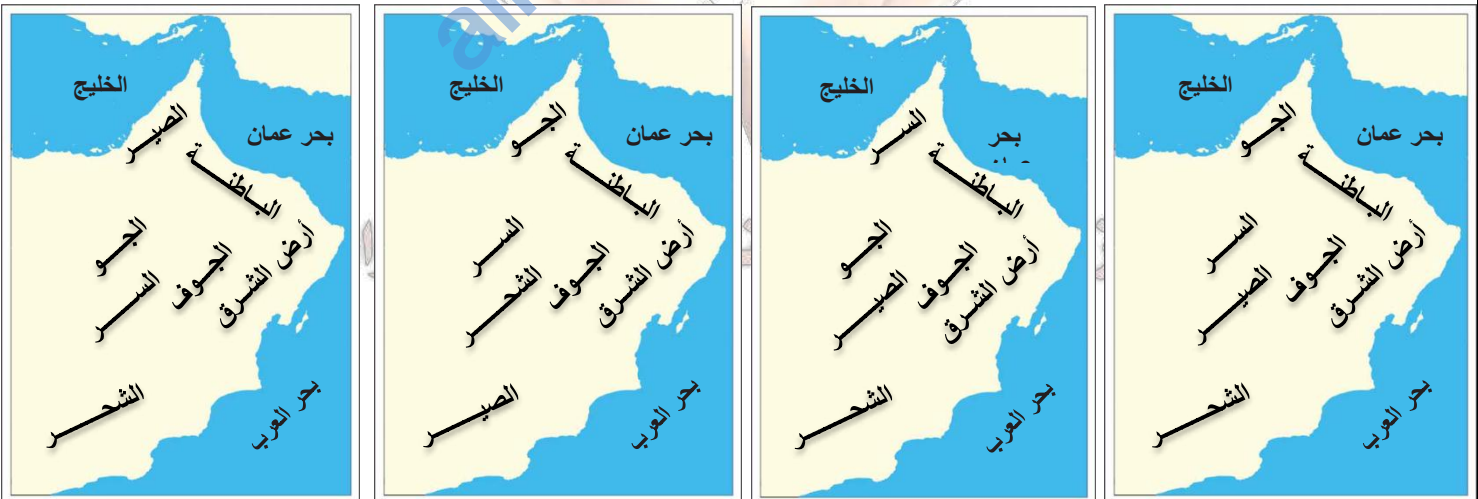
1. الاسم الذي عرفت به محافظة ظفار في التقسيم الإداري لعمان في العصور الإسلامية هو:

- أرض السر بلاد الشحر الصير أرض الجو

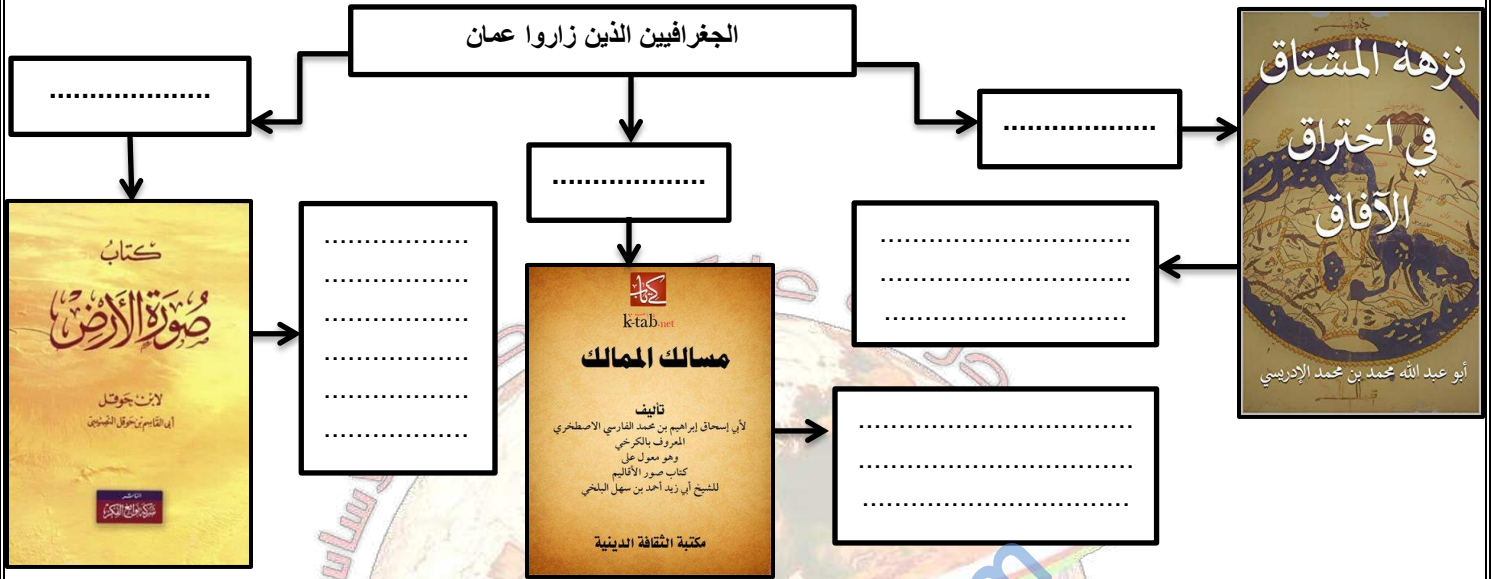
2. الشكل الصحيح للنظام الإداري لعمان في العصور الإسلامية:



3. الخريطة الصحيحة للتقسيم الإداري لعمان في العصور الإسلامية هي:



1. أكتب البيانات المرتبطة ببعض الجغرافيين الذين زاروا عمان في الخريطة الذهنية التالية مستفيدة من صور الكتب والعبارات بين القوسين:
 " عمان ناحية ذات اقليم مستقلة بأهلها ، وبلاد عمان مستقلة بأهلها عامرة بأهلها ، مستقلة بأهلها كثيرة النخل والفواكه "



2. ادرس الصور التالية وأجيب عن الآتي:



أ. ما الاسم الذي أطلقه العمانيون على مجموعات السفن في الأساطيل؟

ب. برهن على قوة الأسطول العماني في الفترات التاريخية في الجدول التالي:

| الفترة الزمنية بالسنة الهجرية | الإمام العماني | الدور التاريخي للأسطول |
|----------------------------------|----------------|------------------------|
| 275 | | |
| 192 - 207 | | |
| 355 | | |

3. أمامك مجموعة من الإنجازات التاريخية للأئمة العمانيين صنفيها في الجدول التالي: **الإبداع في موادنا**

" سك الدراهم العمانية ، هزيمة يوسف بن وجيه والي العباسيين على صحار ، القضاء على قراصنة الميد وتصفيتهم من بحري عمان والعرب ، توحيد عمان وطرد البويهيين منها ، طرد النصارى من جزيرة (سقطرى) "

| الإمام راشد بن سعيد اليعمدي | الإمام سعيد بن عبدالله الرحيلي | الإمام غسان بن عبدالله اليعمدي | الإمام الصلت بن مالك الخروصي |
|-----------------------------|--------------------------------|--------------------------------|------------------------------|
| | | | |