

## كراسة أنشطة المادة



### تم تحميل هذا الملف من موقع المناهج العمانية

موقع فايلاتي ← المناهج العمانية ← الصف الحادي عشر ← حضارة اسلامية ← الفصل الثاني ← ملفات متنوعة ← الملف

تاريخ إضافة الملف على موقع المناهج: 03:02:41 2025-05-11

ملفات اكتب للمعلم اكتب للطالب | اختبارات الكترونية | اختبارات | حلول | عروض بوربوينت | أوراق عمل  
منهج انجليزي | ملخصات وتقارير | مذكرات وبنوك | الامتحان النهائي | للمدرس

المزيد من مادة  
حضارة اسلامية:

إعداد: أصيلة بنت ربيع الفزارية

### التواصل الاجتماعي بحسب الصف الحادي عشر



صفحة المناهج  
العمانية على  
فيسبوك

الرياضيات

اللغة الانجليزية

اللغة العربية

التربية الاسلامية

المواد على تلغرام

### المزيد من الملفات بحسب الصف الحادي عشر والمادة حضارة اسلامية في الفصل الثاني

كتاب الطالب الطبعة الثانية

1

مراجعة شاملة للمادة

2

كراسة أنشطة المادة

3

اختبار قصير أول

4

محتوى الاختبار النهائي مع ملخصات شاملة

5

## الوحدة الأولى الحضارة الإسلامية

### أصولها وخصائصها

اسئلة الاختبار من

متعدد

ضع دائرة حول رمز الإجابة الصحيحة



تم فتح الإقليم المشار إليه بالخريطة على يد الفاتح:

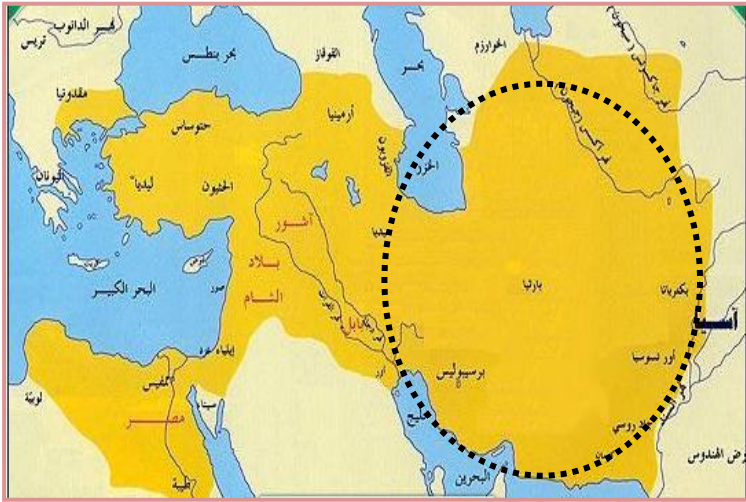
- (أ) محمد بن القاسم الثقفي
- (ب) طارق بن زياد
- (ج) سعد بن أبي السرح
- (د) قتيبة بن مسلم

سادت المنطقة الموضحة في الخريطة المجاورة قبل الفتح الإسلامي لها

الديانات :

- (أ) المسيحية والبوذية
- (ب) البوذية واليهودية
- (ج) الهندوسية والبوذية
- (د) الهندوسية واليهودية





## اتصل العرب بالحضارة الموضحة بالخريطة قبل ظهور

## الإسلام عن طريق :

(أ) الترجمة

## ب) التجارة

### ج) المصاهرة

## د) الحروب

## عمل على تطوير دار الحكمة الخليفة:

(أ) الرشيد

## ب) المنصور

(ج) الأمين

(د) المأمون

عملت على الحط من قيمة العرب وأنسابهم وتاريخهم الحركة :

### (أ) المزدكية

### (ب) الزندقية

### (ج) الشعوبية

(د) المانوية

**يعتبر المؤسس الحقيقي للدولة العباسية الخليفة:**

**(ب) الرشيد**

**(ب) المنصور**

(ج) الأمين

## د) المأمون

**دعت إلى المجون والاستهتار بالقيم وحطت من قيمة الدين الحركة :**

(أ) الشعبية

## ب) الزندقة

### ج) المزدكية

### (د) المانوية

**ظهرت بوادر حركة الترجمة في الدولة الإسلامية في العهد:**

(أ) الجاهلى

**(ب) الراشدي**

(ج) الأموي

(د) العباسی

باشر الفتوحات الإسلامية في العراق وبلاد الشام الخليفة :

- (أ) أبو بكر الصديق  
(ب) عمر بن الخطاب  
(ج) عثمان بن عفان  
(د) علي بن أبي طالب

تم فتح إقليم السند على يد محمد بن القاسم الثقفي في العام الهجري :

- (أ) ٩١ (ب) ٩٢ (ج) ٩٣ (د) ٩٤

شملت الحضارة الإسلامية جميع جوانب الحياة المادية والفكرية فهي بذلك حضارة :

- (أ) شاملة ومتوازنة  
(ب) منفتحة ومبدعة  
(ج) إيمانية أخلاقية  
(د) ذات نزعة إنسانية

اعتمدت الدولة الأموية في تصريف أمور الدولة بشكل أساسي على العنصر :

- (أ) الفارسي (ب) العربي (ج) الرومي (د) التركي

تولى الخليفة المعتصم الخلافة في العام الميلادي :

- (أ) ٨٣٢ (ب) ٨٣٣ (ج) ٨٣٤ (د) ٨٣٥

بلغ عدد الخلفاء العباسيين الذين حكموا خلال فترة نفوذ الأتراك :

- (أ) ١١ (ب) ١٢ (ج) ١٣ (د) ١٤

أول الخلفاء العباسيين الذين حكموا خلال نفوذ الأتراك الخليفة :

- (أ) المستكفي (ب) المتوكل (ج) المكتفي (د) المستعصم



الموطن الأصلي للمغول منطقة :

- (أ) جنوب آسيا (ب) وسط آسيا (ج) غرب آسيا (د) شمال آسيا

آخر الخلفاء العباسيين الذين حكموا خلال نفوذ الأتراك الخليفة:

- (أ) المعتضد (ب) المكتفي (ج) المستكفي (د) المتوكل

تم القضاء على الخلافة العباسية على يد المغول في العام الهجري :

- (أ) ٦٥٤ (ب) ٦٥٥ (ج) ٦٥٦ (د) ٦٥٧

المنطقة المشار إليها بالرقم ( ١ ) في الخريطة المجاورة تمثل الموطن الأصل للشعب:

- (أ) التركي (ب) المغولي  
(ج) الفارسي (د) الهندي



العملات المعدنية الظاهرة في الصورة المجاورة سكنت في عهد الخليفة:

- (أ) عبد الملك بن مروان  
(ب) الوليد بن عبد الملك  
(ج) هارون الرشيد  
(د) أبو جعفر المنصور



يعرف الشعب البدائي المتوحش الذي قذفت به أواسط آسيا للعالم الإسلامي بـ :

- (أ) الفارسي (ب) الصيني (ج) المغولي (د) الهندي

المعلم الموضح بالصورة المجاورة بناء الخليفة:



- (أ) عبد الملك بن مروان (ب) هارون الرشيد  
(ج) أبو جعفر المنصور (د) الوليد بن عبد الملك

يسمى الخليفة الذي عمل على تأليف جيش من الجنس

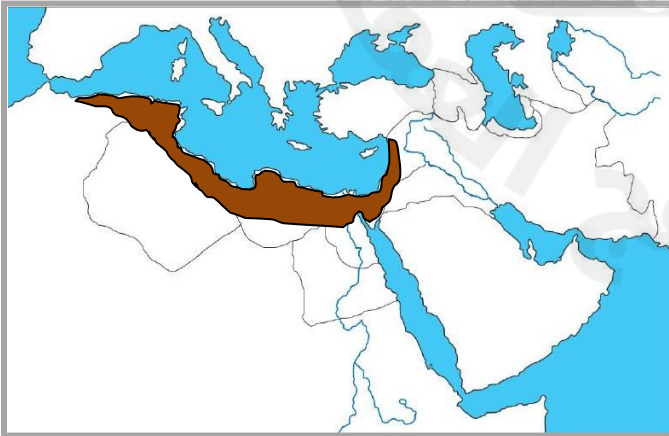
الذين يقطنون في المنطقة المحددة على الخريطة بـ :

- (أ) المأمون (ب) المعتصم  
(ج) الأمين (د) الرشيد



خضعت المنطقة الملونة على الخريطة قبيل ظهور الإسلام للدولة:

- (أ) البيزنطية (ب) المغولية  
(ج) الفارسية (د) العربية





أذكر أثنين فقط من الأعمال التي  
قام بها الخلفاء التالية أسمائهم:

هارون الرشيد



أهم أعماله :

١ -

٢ -

الوليد بن عبد الملك

أهم أعماله :

١ -

٢ -

عثمان بن عفان

أهم أعماله :

١ -

٢ -

أبو بكر الصديق

أهم أعماله :

١ -

٢ -

عمر بن الخطاب

أهم أعماله :

١ -

٢ -

أبو جعفر المنصور



أهم أعماله :

١ -

٢ -

الثقة بالنفس طريق النجاح





كان الغزو المغولي ضربة  
قاصمة أصابت الدولة  
الإسلامية، فكانوا كالأعصار  
المدمر الذي حطم في طريقه  
كل شئ .. بلل على ذلك؟

( تجمعت للحضارة الإسلامية خصائص جعلتها  
حضارة متميزة عن غيرها من الحضارات ، ومن  
هذه الخصائص إنها حضارة إيمانية أخلاقية )وضح  
ذلك؟

.....

.....

.....

.....

.....

.....

.....

.....

.....

.....

حاول تذكر الحدث التاريخي المرتبط بالأعوام التالية:



علل : اتصال العرب بالحضارة  
الإغريقية منذ القدم ؟

.....

.....

.....

.....

.....

.....

.....

.....

.....

.....

٩٤ هـ

٢١٨ هـ

٦٥٦ هـ

النجاح يدعى الثقة بالنفس





أرسم خريطة مفاهيم لعوامل ازدهار  
الحضارة الإسلامية؟

الرسم  
هنا



صمم خريطة مفاهيم لعوامل تدهور  
الحضارة الإسلامية؟

التصميم  
هنا





من خلال الخريطة ( مراكز الحضارة الإسلامية وما جاورها من الحضارات ) أجب عما يليها من أسئلة:



١) ظلل على الخريطة المناطق التي خضعت لحكم نواب الإسكندر المقدوني؟

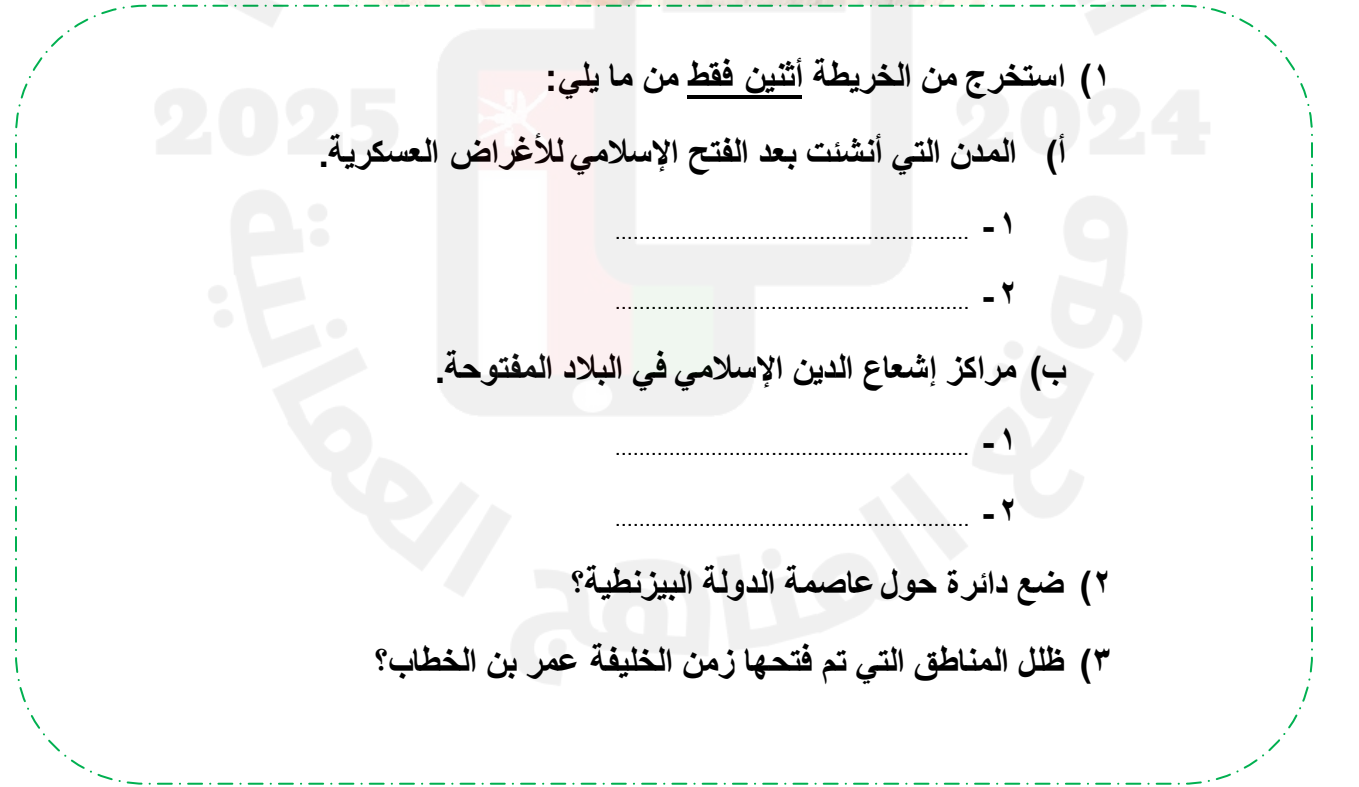
٢) استخلص من الخريطة السابقة ما يلي:

أ) الحضارة التي تقع غرب الحضارة اليونانية.

ب) الحضارة التي أطلق عليها الحضارة الهلينستية.

٣) ضع دائرة حول الحضارة التي ربطت بينها وبين العرب علاقات تجارية قديمة؟

أمامك خريطة للدولة العباسية في أقصى اتساعها ..أدرسها جيدا ثم أجيب عن الأسئلة التي تليها:



١) استخرج من الخريطة النيل قطر من ما يلي:

أ) المدن التي أنشئت بعد الفتح الإسلامي للأغراض العسكرية.

۱- \_\_\_\_\_

۲- \_\_\_\_\_

(ب) مراكز إشعاع الدين الإسلامي في البلاد المفتوحة.

١- .....

٢- .....

٢) ضع دائرة حول عاصمة الدولة البيزنطية؟

٣) ظلل المناطق التي تم فتحها زمن الخليفة عمر بن الخطاب؟



بالاستعانة بالخريطة ( الدولة الإسلامية في العهد العباسي )  
أجيب عن الأسئلة التي تليها :



(١) استخلص من الخريطة ما يلي:

أ) المدينة التي بناها أبو جعفر المنصور

ب) عاصمة الإمبراطورية البيزنطية

(٢) أذكر اسم الخليفة الذي باشر الفتوحات الإسلامية في المناطق المشار إليها بالأرقام ( ٤ و ٥ )؟

(٣) سم بعض المعالم العمرانية التي بناها الخليفة الوليد بن عبد الملك في المنطقة المشار إليها بالرقم ( ٥ )؟

- ٢ -

- ١ -

(٤) استخرج الرقم الدال على المنطقة التي استكمل فتحها الخليفة الوليد بن عبد الملك؟



## الوحدة الثانية مظاهر الحضارة

### الإسلامية

اسئلة الاختبار من

متعدد

ضع دائرة حول رمز الإجابة الصحيحة

تم اختياره ليكون أول خليفة بعد وفاة الرسول صلى الله عليه وسلم الخليفة :

- (أ) أبو بكر الصديق  
(ب) عمر بن الخطاب  
(ج) عثمان بن عفان  
(د) علي بن أبي طالب

مؤسس الدولة الأموية الخليفة:

- (أ) أبو جعفر المنصور  
(ب) معاوية بن أبي سفيان  
(ج) عبد الملك بن مروان  
(د) عمر بن الخطاب

استمرت الخلافة الإسلامية في الأسرة الأموية حوالي:

- (أ) ٧٠ عاما  
(ب) ٨٠ عاما  
(ج) ٩٠ عاما  
(د) ١٠٠ عاما

أوضح الخليفة أبو بكر الصديق في خطبته عند مبايعته الخلافة بان الأساس الذي سيعتمد عليه في حكمه :

- (أ) الأمانة  
(ب) النصح  
(ج) العدل  
(د) المساواة

ظهرت أبهة الملك واضحة زمن الخليفة الأموي:

- (أ) معاوية بن أبي سفيان  
(ب) يزيد بن معاوية  
(ج) عبد الملك بن مروان  
(د) الوليد بن عبد الملك

جميع الوسائل التالية استخدمت في نقل البريد من مكان لأخرى خلال فترة الخلافة الإسلامية ما عدا:



(ب)



(أ)




(د)



(ج)

أوضح الخليفة أبو بكر الصديق في خطبته عدد مبادئه الخلافة بان عماد الدولة الذي سيعتمد عليه في حكمه :

(أ) العدل (ب) الجهاد (ج) التعليم (د) الحروب



تستخدم الآلة الظاهرة بالصورة المجاورة في:

(أ) هدم الأسوار (ب) صعود الجنود  
(ج) رمي السهام (د) وقاية الرأس

الكراديس كلمة عسكرية تعني الوحدات العسكرية ترجع في أصلها للحضارة:

(أ) الهندية (ب) اليونانية (ج) الفارسية (د) الصينية

انتقلت الخلافة الإسلامية إلى الأمويين في العام الهجري:

(أ) ٣٩ (ب) ٤٠ (ج) ٤١ (د) ٤٢





الجزء المشار عليه في الصورة المجاورة يعرف باسم :

(أ) الترس

(ب) الدرع

(ج) الخوذة

ترتب على اختراع البارود ظهور إحدى الأسلحة التالية عند المسلمين :




تعرف الأداة الحربية المشار إليها بالصورة المجاورة بـ

(أ) حرب

(ب) سهم

(ج) رمح

(د) سيف





الصورة المجاورة تمثل أحد الجوامع التي بنيت في العصر الإسلامي يعرف بـ :



- (أ) الأموي  
(ب) الأزهري  
(ج) المنصور  
(د) الزيتونة

الدولة المشار إليها في الخريطة بنى فيها أحد الجوامع الإسلامية ويعرف بـ :



- (أ) القرويين  
(ب) الزيتونة  
(ج) الأزهري  
(د) المنصور



الجامع الموضح في الصورة المجاورة تم بناءه في مدينة :

- (أ) دمشق  
(ب) القاهرة  
(ج) بغداد  
(د) فاس



العبارة الظاهرة بالصورة المجاورة أحدي العبارات التي اشتهرت بها الزخرفة :

- (أ) الفارسية  
(ب) الكوفية  
(ج) الأندلسية  
(د) الدمشقية



من خلال المخطط المجاور لمدينة بغداد فإن الباب الذي يقع في الجهة الجنوبية الشرقية يعرف بباب:



(ب) البصرة

(أ) الكوفة

(د) خراسان

(ج) الشام

توفي الفيلسوف أبو نصر الفارابي في العام الهجري:

(د) ٢٩٥

(ج) ٨٣

(ب) ١٣٣

(أ) ٣٣٩

الصورة المجاورة تعبر عن إحدى مؤسسات التربية والتعليم في العصر الإسلامي .. وتعرف بـ :



(ب) المدرسة

(أ) المسجد

(د) الجامعة

(ج) الكتاب

الصورة المجاورة توضح إحدى القصور الفخمة التي أنشأها المسلمون وتدل على قصر:




(ب) عمرة

(أ) الحمراء

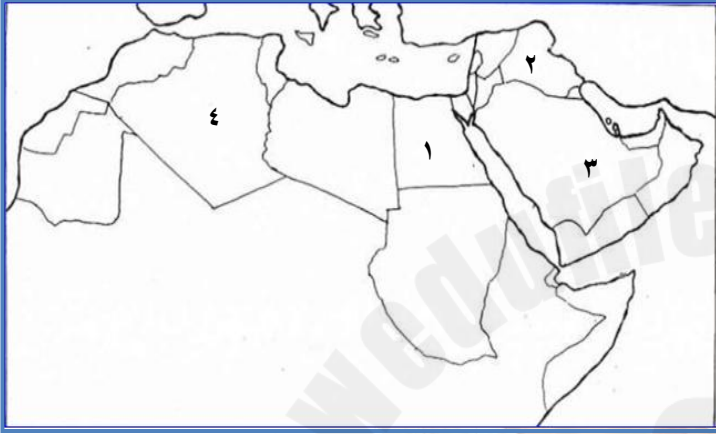
(د) العجائب

(ج) الذهبي



القصر الظاهر في الصورة المجاورة يعرف بقصر:

- أ ( الذهبي )  
ب ( الحمراء )  
ج ( عمرة )  
د ( العجائب )



تقع مدينة سامراء في الدولة المشار إليها بالرقم ....

- أ ( ١ )  
ب ( ٢ )  
ج ( ٣ )  
د ( ٤ )



القصر الموضح بالصورة المجاورة يقع حاليا بدولة:

- أ ( سوريا )  
ب ( العراق )  
ج ( الاردن )  
د ( مصر )

اشتهر آل زنكي ، والأيوبيون في مجال بناء المدارس في المناطق التالية:

- أ ( بلاد الشام والعراق )  
ب ( العراق ومصر )  
ج ( مصر وبلاد الشام )  
د ( مصر وبلاد المغرب )

يرجع اصل كلمة " الديون " إلى اللغة :

- أ ( التركية )  
ب ( الفارسية )  
ج ( العربية )  
ج ( الهندية )



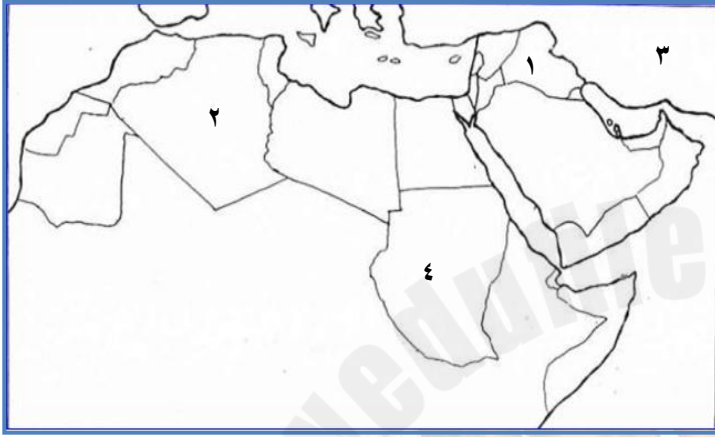
الديون الذي يهتم بما يظهر أمامك بالصورة المجاورة يعرف بديوان:

أ ( الأكرة

ب ( العزيز

ج ( الطراز

د ( الأزمة



تقع مدينة بغداد في الدولة المشار إليها بالرقم....

أ ( ١

ب ( ٢

ج ( ٣

د ( ٤

أسس الرسول صلى الله عليه وسلم بعد هجرته حكومة مركزية عاصمتها مدينة :

أ ( مكة المكرمة

ب ( الكوفة

ج ( المدينة المنورة

د ( البصرة

انتقلت الخلافة الإسلامية في العام الهجري ( ٤٠ ) إلى الخليفة:

أ ( علي بن أبي طالب

ب ( معاوية بن أبي سفيان

ج ( عثمان بن عفان

د ( أبو جعفر المنصور

يسمى الخليفة الذي أقام حاميات عسكرية في أماكن محددة لصد هجمات الأعداء المفاجئة على الدولة الإسلامية:

أ ( عمر بن الخطاب

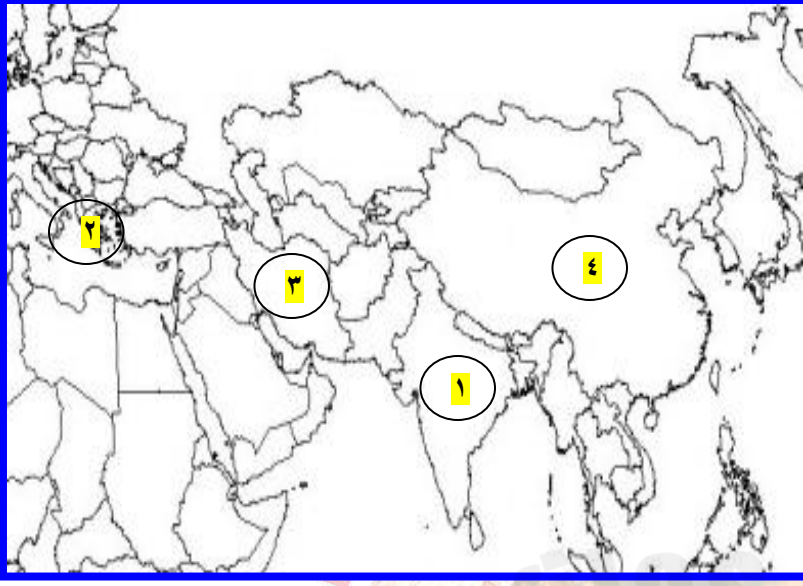
ب ( عثمان بن عفان

ج ( معاوية بن أبي سفيان

د ( عبد الملك بن مروان



ترجع اصل كلمة " كراديس " إلى الحضارة المشار إليها بالرقم :



أ ( ١ )

ب ( ٢ )

ج ( ٣ )

د ( ٤ )

غلب على الجيش الإسلامي زمن الأمويين العنصر:

أ ( التركي      ب ( الفارسي      ج ( العربي      د ( الهندي

يسمى والي مصر زمن الخليفة عثمان بن عفان :

أ ( عقبة بن نافع      ب ( موسى بن نصير  
ج ( سعد بن ابي وقاص      د ( عبدالله بن ابي السرح

يعرف المسطح المائي المشار إليه على الخريطة :



أ ( البحر الأحمر  
ب ( المحيط الهندي  
ج ( المحيط الأطلسي  
د ( البحر المتوسط



حدثت معركة " ذات الصوراي " في المسطح المائي المشار إليه بالرقم :



أ ( ١ )

ب ( ٢ )

ج ( ٣ )

د ( ٤ )

جميع الجزر التالية تقع في البحر المتوسط ما عدا :


أ ( سيلان ) ب ( رودس ) ج ( أرواد ) د ( كريت )



يقع المسجد الظاهر في الصورة المجاورة بـ :

أ ( فاس ) ب ( المدينة المنورة )

ج ( دمشق ) د ( القاهرة )



يقع المعالم الموضحة بالصورة المجاورة في مدينة:


أ ( بغداد ) ب ( البصرة )

ج ( الموصل ) د ( سامراء )



تعتبر المدن التالية من اهم دور صناعة الأسطول في الدولة الإسلامية ما عدا:

أ ( بيروت ) ب ( القاهرة ) ج ( صور ) د ( مسقط )

( من المساجد التي كان لها شهرة واسعة في نشر العلم بمدينة فاس جامع القرويين ) فأَي صورة من الصور التالية تدل إليه :



( من بين الجوامع التي تجمع بين الجامع والجامعة الجامع الأزهر ) فأَي صورة من الصور التالية تدل إليه :








يعرف القصر الذي يوجد في المنطقة المحددة بالخريطة باسم قصر :

- أ ( العلم
- ب ( عمرة
- ج ( الحمراء
- د ( الذهبي



تعرف الأداة الحربية المشار إليها بالصورة المجاورة بـ :

- أ ( الترس
- ب ( الدرع
- ج ( الرمح
- د ( القوس



تعرف الأداة الحربية المشار إليها بالصورة المجاورة بـ :

- أ ( السيف
- ب ( الرمح
- ج ( القوس
- د ( الترس

ملتزمون بتحقيق رؤيتنا ، الإجابة في موادنا

الناجحون يثقون  
دائما في قدرتهم  
على النجاح



أشرح بلغتك الخاصة طريقة مبايعة  
الخليفة أبو بكر الصديق للخلافة؟

الأسئلة المقلية  
القصيرة



( اتخذ الخلفاء الأمويون كل مظاهر الأبهة التي تمتع  
بها الأكاسرة والقيصرة ) دلي على ذلك بأمثلة؟



اجعل (( فشلك )) بداية  
جيدة لنجاحك





تخيل أنك تم اختيارك لتكون احد وزراء الدولة العباسية ..فأي نوع من الوزارة تفضل أن تشغلها :

وزارة التفويض

وزارة التنفيذ

اختر الجواب ...مع تعليل إجابتك

.....

.....

.....



رتب الأحداث التاريخية التالية من الأقدام للأحداث وذلك بوضع الرقم أمام الحدث ؟

انتصار المسلمون في معركة ذات الصواري

تأسيس الجامع الأزهر في القاهرة

فتح جزيرة صقلية على يد الأغلبة

تأسيس المدرسة النظامية في مدينة بغداد

انتقال الخلافة الإسلامية إلى معاوية بن أبي سفيان

مبايعة علي بن أبي طالب بالخلافة



( تمتاز العمارة الإسلامية بمجموعة من المميزات التي تميزها عن غيرها من أنماط العمارة الأخرى ، فقد اعتمد العرب على عنصرين في الزخرفة ) ..أذكرهما؟

.....

.....

.....



( لقد أنشأ هارون الرشيد بيت الحكمة لتكون دار كتب عامة، وأهتم المأمون به اهتماماً بالغاً) ..دلل على اهتمام الخلفاء الذين ذكروا ببيت الحكمة؟

هارون الرشيد :

.....

.....


.....

المأمون :

.....

.....

.....



( ساعد المسجد على القيام بمهمته معهداً للتعليم والتعلم في العصر الإسلامي  
عدة عوامل ) ..أذكرها؟

.....

.....

.....

.....

.....

أرسم خريطة مفاهيم للأغراض التي بنيت  
من أجلها المدن في بداية الفتح الإسلامي؟

الرسم  
هنا



( عمل الخلفاء العباسيون على تقصير مدة ولايتهم ) هل أنت

مع المبدأ

ضد المبدأ

اختر الإجابة.. ثم علل إجابتك.



أكتب اسم الديوان أمام الوظيفة التي يقوم بها



يدون فيه ما يرد إلى بيت المال من أموال.

يشرف على ممتلكات الخلفاء وإقطاعياتهم.

الإشراف على معامل إنتاج الملابس الرسمية في الدولة.

إدارة أموال الدولة غير المنقولة من أبنية وحوانيت.

النظر في مصروفات الدولة.

الإشراف على الممتلكات المصادرة من المعارضين للدولة.

مراجعة أعمال الدواوين الأخرى.

النظر في موارد الزكاة وتوزيعها على مستحقيها.





( لما أشد المرض على الخليفة أبو بكر الصديق خاف إن هو ترك أمر الخلافة ، إن ينقسم المسلمون على بعضهم ، لذا صمم على أن يعهد بالخلافة إلى من يعتقد فيه الكفاءة والقدرة وحسن السياسة، فوقع الاختيار على الشخص المناسب)..في ضوء ذلك أجيب عما يلي:

(١) من الشخصية التي وقع عليها الاختيار ليكون خليفة للمسلمين؟

.....

.....

.....

.....

(٢) أشرح بلغتك طريقة اختياره للخلافة؟

.....

.....

.....

(٣) كيف توفي؟

.....

.....

(٤) هل باختياره طبق الخليفة أبو بكر الصديق مبدأ الشورى .

☐ نعم

☐ لا

اختر الجواب ...ثم علل إجابتك.


.....

.....



لا تستمع لأي شخص يسبب لك إحباطات

أو يقلل من طموحاتك



بالاستعانة بالشكل المجاور .. أجب عن الأسئلة التالية:

(١) أكتب ما يمثله الرمز ( ب ) .....

(٢) فيما استخدم العرب النمط المشار إليه بالرمز ( أ ) .....

(٣) ( إن تطوير الفن الإسلامي الذي يمثله النمط المشار إليه بالرمز ( أ ) نتج عنه الارتقاء بمجموعة من الفنون المتصلة به ) أعط أمثلة على تلك الفنون؟

.....

.....

.....

.....

بالاستعانة بالصورة المجاورة التي توضح أحد معالم الحضارة الإسلامية .. أدرسها جيدا ثم أجب عن الأسئلة التي تليها:

(١) سم المعلم الموضح في الصورة المجاورة؟

.....


(٢) في أي مدينة يقع المعلم السابق؟

.....

(٣) إذا طلب منك تصنيف هذا المعلم فآلي أي مظهر من مظاهر الحضارة الإسلامية سوف تصنفه؟

.....

.....



أمامك صورة توضح أحد معالم الحضارة الإسلامية ..أدرسها جيدا ثم أجيب عن الأسئلة التي تليها:

(١) أذكر أسم المعلم الموضح في الصورة ؟


.....

(٢) في أي دولة يقع المعلم السابق؟

.....

(٣) سم اسم الخليفة الذي بناه؟

.....



أمامك صورة توضح إحدى  
مؤسسات التربية في الدولة  
الإسلامية ..أدرسها جيدا..ثم  
أجيب عن الأسئلة التي تليها:



(١) سم المؤسسة التربوية الموضحة في الصورة السابقة؟

.....

(٢) أعط التعريف المناسب للمؤسسة التربوية السابقة؟

.....

.....

(٣) علل : انتشار المؤسسة التربوية الواضحة أمامك بعد ظهور الإسلام؟

.....

.....

.....



اقرأ النص الآتي .. ثم أجب عن الأسئلة التي تليه:

اشتهر أحمد بن ماجد بريادة البحر وحب الأسفار والملاحة ، فتعلق بالبحر منذ الصغر ، واكتسب مهارات أجداده ، واستطاع بفضل تجاربه العديدة و سعة علومه البحرية ، التوصل إلى اكتشاف أساليب جديدة في فنون الملاحة مستخدماً علم الفلك بشكل واسع ، بالإضافة إلى البوصلة التي استخدمها لتحديد الاتجاهات والمسارات البحرية ، وقضى معظم حياته أستاذاً ومرشداً ملاحياً في غرب المحيط الهندي والبحر الأحمر ، وقد كان ذلك سبباً في ذيوع شهرته وتردد اسمه كعلم من أعلام البحر في ذلك الزمان ، ووصلت أخباره إلى شواطئ أوروبا حيث كان الأسبان والبرتغال يحاولون استكشاف طرق جديدة للوصول إلى الشرق والهند بصفة خاصة عن طريق الالتفاف حول رأس الرجاء الصالح الذي كان يسمى بـ ( رأس العواصف ) آنذاك .

يعتبر أول من طور البوصلة الملاحية بالمفهوم الحديث ، وكانت في أيامه تسمى ( الحقبة ) وكلمة البوصلة كلمة إيطالية تعني الصندوق أو الحق وهي ترجمة حرفية ، وكتاب الفوائد في أصول علم البحر والقواعد أقدم الوثائق الجديدة التي وصلتنا عن الملاحة البحرية.

١) أذكر أهم مؤلفات أحمد بن ماجد الواردة في النص المجاور؟

٢) ( استطاع أحمد بن ماجد اكتشاف أساليب ملاحية جديدة معتمداً على ذلك على أحد العلوم ) استخلص العلم من النص؟

٣) برهن على مكانه البحرية التي وصل إليه أستاذ البحار أحمد بن ماجد.

٤) من أقوال أحمد بن ماجد ( للرياح مواقيت معلومة و حدود في أولها وفي آخرها ووسطها ) في اعتقادك ما أهمية ذلك بالنسبة للملاح في زمانه؟؟

٥) الصورة التالية توضح إحدى اختراعات أحمد بن ماجد ..فماذا نطلق على هذا الاختراع؟

من اختراعات أحمد بن ماجد آلة الكمال التي عرفت أيضاً بخشبات ابن ماجد ..بالاعتماد على مصادر التعلم أعط وصفاً مختصراً لهذا الاختراع؟؟





بالاستعانة بالصورة المجاورة التي تمثل إحدى مؤسسات التعليم في الدولة الإسلامية.. أَدسه جيدا ثم أجيب عن الأسئلة التالية:

(١) سم المؤسسة الظاهرة في الصورة المجاورة؟

.....

(٢) أين توجد ؟

.....

(٣) في أي عام هجري تم تأسيسها؟ وعلى يد من؟

.....

(٤) وضح الهدف الاساسي من إنشائها؟

2025

2024

(٥) ( لعب الخليفة العزيز بالله دورا كبيرا في تطوير المؤسسة التعليمية السابقة ) دلل على هذا الدور؟

.....

.....

(٦) أذكر بعض العلوم التي درست في المؤسسة السابقة؟

.....

(٧) ( تمثل المؤسسة الواضحة أمامك إحدى إشكال العمارة الإسلامية التي تتميز عن غيرها من أشكال العمارة في الحضارات المجاورة ) من خلال الصورة .. أستخلص اثنين فقط من مميزات العمارة الإسلامية الظاهرة بالصورة؟

.....

.....



( لا اجد احداً أحق بهذا الأمر من هؤلاء النفر الذين توفي رسول الله صلى الله عليه وسلم وهو عنهم راضٍ ).. في ضوء هذه العبارة أجب عما يلي :

١ ( من قائل هذه العبارة؟ ) .....

٢ ( اذكر مناسبة قولها؟ ) .....

٣ ( ماذا يقصد القائل بكلمة " الأمر " في قوله؟ ) .....

٤ ( بالاعتماد على مصادر التعلم المختلفة .. ابحث عن اسماء الصحابة الذين يقصدهم القائل في العبارة السابقة؟ ) .....

.....

٤ ( هل طبق قائل العبارة مبدأ الشورى؟ )

☐


لا

☐

نعم

اختر الجواب... ثم علل إجابتك.

.....



**لا تستمع لأي شخص يسبب لك إجابات أو يقلل من طموحاتك**



اقرأ النص الآتي .. ثم أجب عن الأسئلة التي تليه:

( البريد كلمة كان يُقصد بها مسافة معلومة مقدرة بعدد من الأميال ، فإذا وصل صاحب الخبر المسرع إلى مكان منها ، وقد تعب فرسه ، استراح في محطة بريدية ، ركب غيره ، وهكذا حتى يصل بسرعة.

وعرف نظام البريد أيام الفرس والروم ، ثم أدخل في الدولة الإسلامية على يد أحد خلفاء بني أمية ، وزاد الاهتمام به زمن العباسيين ، حيث اعتمد عليه الخلفاء اعتماداً كبيراً في إدارة شؤون الدولة ، وتغيرت مهمة البريد في الحاضر.

وكان البريد ينقل بعدة طرق ، أهمها الحمام الزاجل ، كما استخدمت النار والدخان لنقل المعلومات ، وانشئت أبراج عالية في بعض البلدان.

١ ( كم المسافة التي قدرت لنقل البريد من مكان لآخر؟

٢ ( اذكر كلا من :

أ ( اسم الخليفة الأموي الذي أدخل البريد في الدولة الإسلامية

ب ( مهمة البريد في الوقت الحاضر

ج ( طرق نقل البريد في العصر الإسلامي غير التي ذكرت بالنص

د ( محتويات المحطة البريدية

٣ ( وضح كيف استفاد الخلفاء العباسيين من البريد في إدارة شؤون الدولة؟

.....  
.....  
.....  
.....

٤ ( صف طريقة نقل المعلومات باستخدام النار والدخان؟

.....  
.....  
.....

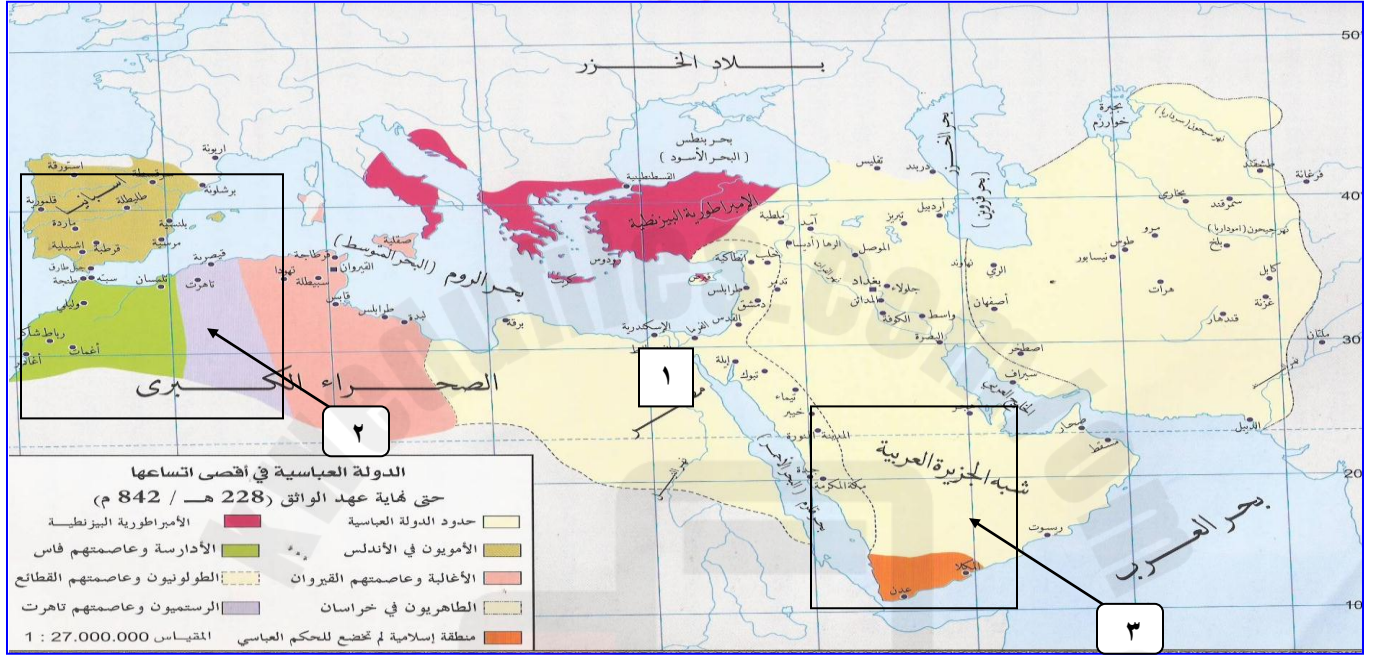
٥ ( علل : استخدم الحمام الزاجل في نقل البريد.

.....  
.....





أمامك خريطة للدولة العباسية في أقصى اتساعها .. أدرسها جيدا ثم أجيب عن الأسئلة التي تليها:



(١) ضع دائرة حول مركز الخلافة الأموية بالأندلس.

(٢) تسمى الخلافة الإسلامية التي قامت في العهد العباسي المتأخر بالمنطقة المشار لها بالرقم (١)

(٣) حسب تقسيم الخليفة عمر بن الخطاب للدولة الإسلامية فإن الولايات المشار إليها بالأرقام التالية تعرف بـ :

أ) الرقم (٢) إقليم

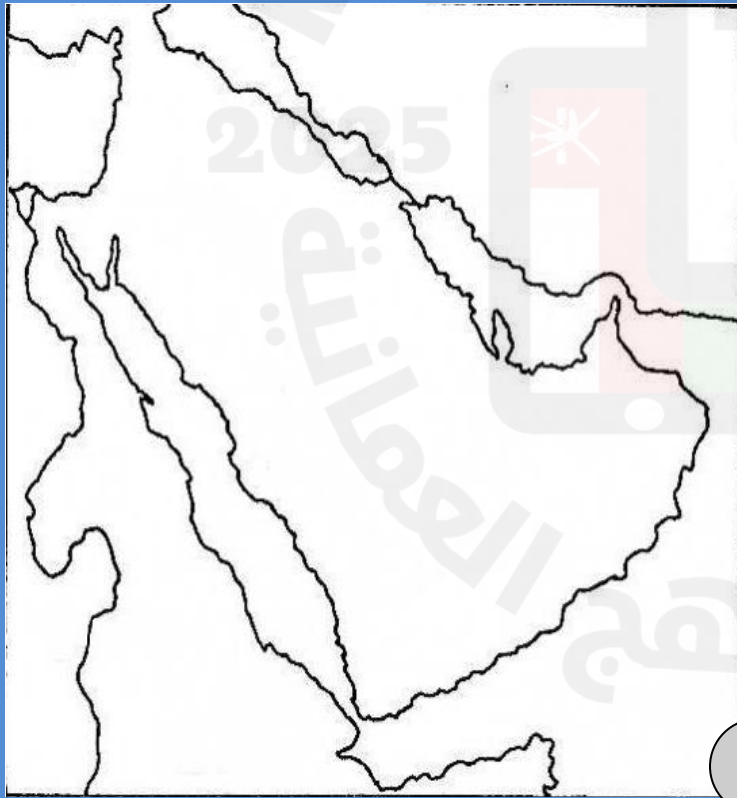
ب) الرقم (٣) إقليم

أمامك خريطة صماء للوطن العربي....أدرسها  
جيدا ثم أجب عما يليها من الأسئلة:



١) ظلل على الخريطة المناطق التي أسهم البربر  
في فتحها؟

٢) أكتب على الخريطة أسماء المسطحات المائية  
التالية: ( البحر المتوسط - المحيط الهندي -  
البحر الأحمر - المحيط الأطلسي)



بالاستعانة بالخريطة المجاورة ( شبه الجزيرة  
العربية ) .. اجب عما يلي :

أ ) وقع على الخريطة باستخدام الرمز  
المناسب المدن التالية:

١ ( المدينة المنورة

٢ ( البصرة

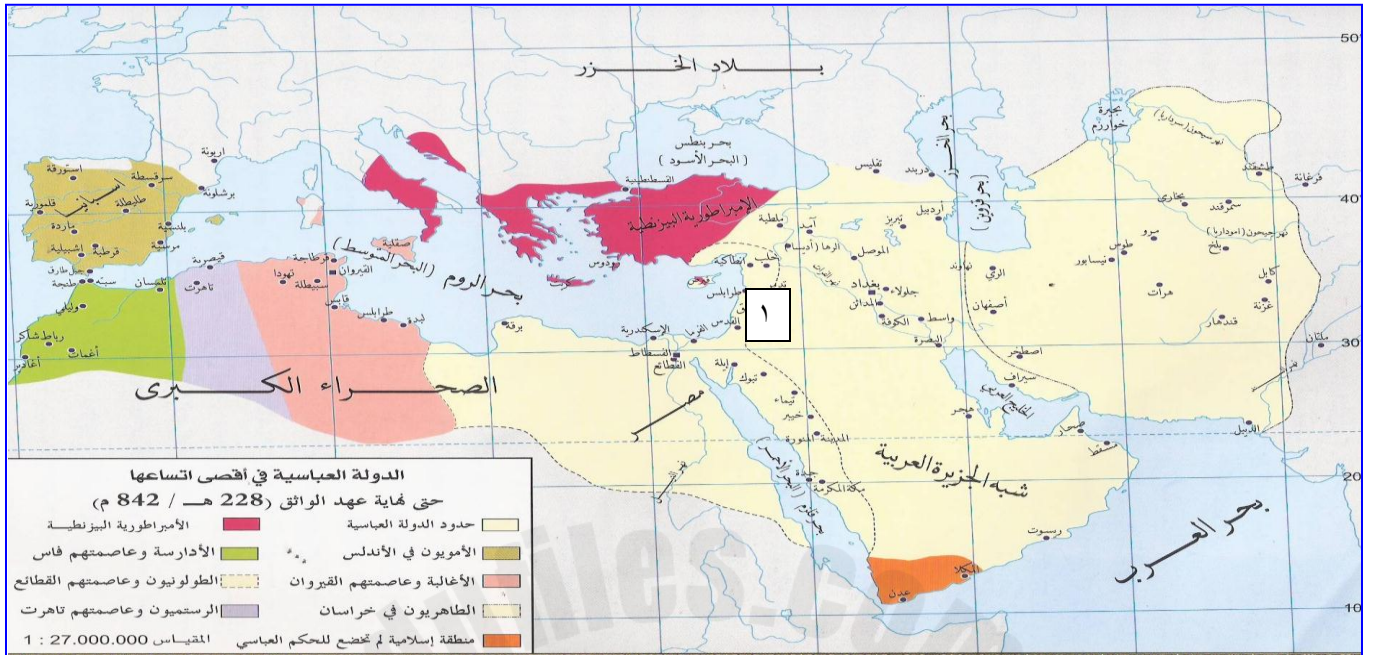
٣ ( بغداد

٤ ( دمشق

ب ) ظلل المسطح المائي الذي حدثت فيه  
معركة ذات الصواري.



أمامك خريطة للدولة العباسية في أقصى اتساعها .. أدرسها جيدا ثم أجيب عن الأسئلة التي تليها:



(١) استخراج من الخريطة أثنين فقط من الجزر التي فتحها المسلمون في البحر المتوسط؟

(٢) ضع دائرة في الخريطة على دور الصناعة لبناء السفن في كلا من:

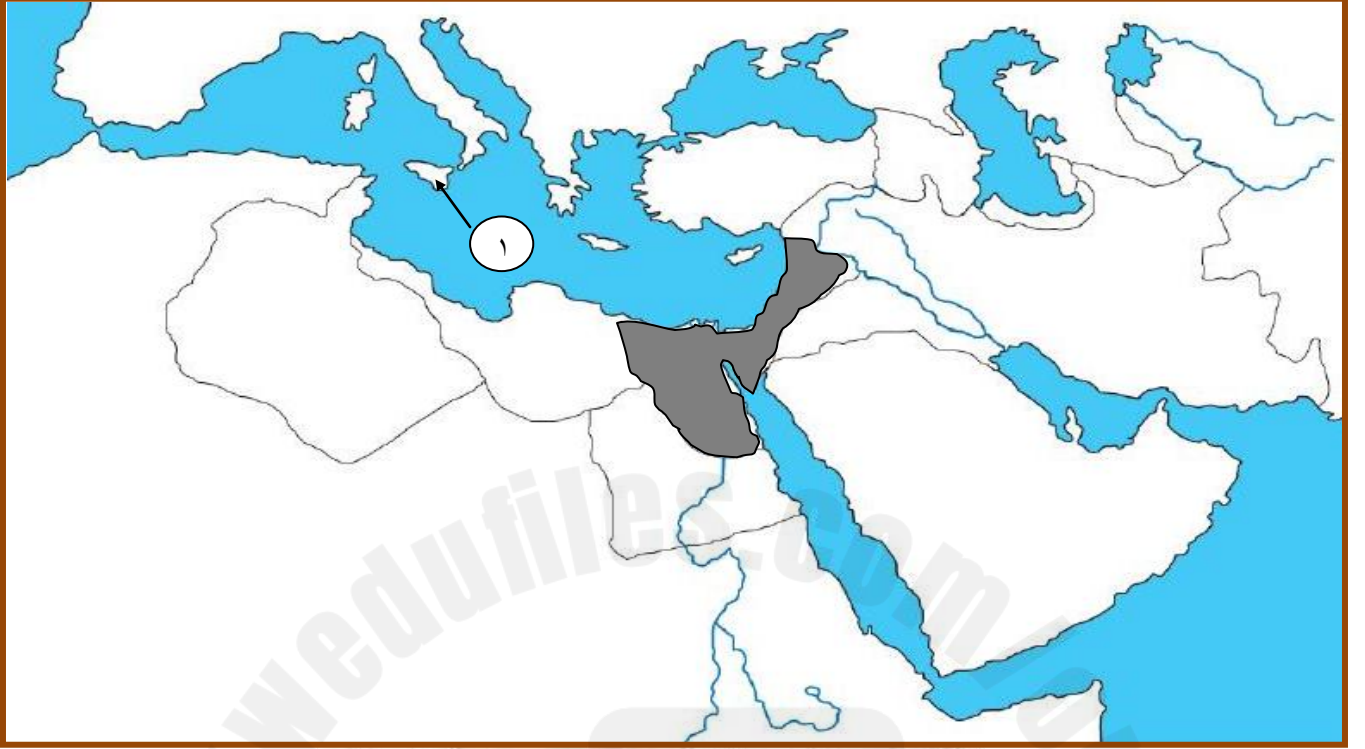
(أ) بلاد الشام (ب) مصر

(٣) استخلص ثلاث من المناطق التي بنيت فيها المدارس في القرن الخامس الهجري؟

(٤) أذكر أسم الأسرة التي اهتمت ببناء المدارس في المنطقة المشار إليها بالرقم (١)؟



أمامك خريطة صماء توضح الفتوحات الإسلامية للدولة الإسلامية أدرسها جيدا ثم أجيب عن الأسئلة التي تليها:



١) سم الجزيرة المشار إليها بالرقم ( ١ ) ؟

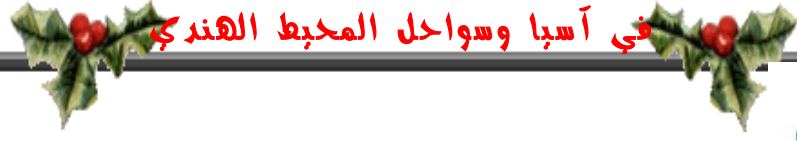
٢) في أي عام هجري تم فتح الجزيرة السابقة ؟

٣) أكتب على الخريطة أسم المسطح المائي الذي حدثت فيه معركة ذات الصواري ؟

٤) وقع على الخريطة المدينة التي يوجد فيها بيت الحكمة.

٥) أذكر أسم الأسر الحاكمة التي اهتمت ببناء المدارس في المنطقة المظللة على الخريطة.

## الوحدة الثالثة الحضارة الإسلامية



ضع دائرة حول رمز الإجابة الصحيحة

اسئلة الاختبار من

متعدد



تم فتح الإقليم الموضح في الخريطة المجاورة زمن الخليفة :

(ب) أبو جعفر المنصور

(أ) عمر بن الخطاب

(د) عبد الملك بن مروان

(ج) الوليد بن عبد الملك

المنطقة المشار إليها بالرقم ( ١ ) على الخريطة المجاورة تمثل مكان استقرار قبائل :

(ب) الغُرّ

(أ) المغول

(د) بني بويه

(ج) الخزر

جميع العلماء التالية أسمائهم ظهوروا في الإقليم المشار إليه بالرقم

( ٢ ) على الخريطة المجاورة ما عدا :

(ب) البخاري

(أ) الفارابي

(د) ابن قرمان

(ج) الخوارزمي



توفي نوح بن منصور الساماني في العام الهجري :

(د) ٣٨٩

(ج) ٣٨٨

(ب) ٣٨٧

(أ) ٣٧٧





ظهر الملاح العماني الشهير أحمد بن ماجد في نهاية القرن الميلادي :


أ ( الثالث عشر      ب ( الرابع عشر      ج) الخامس عشر      د) السادس عشر



الصورة المجاورة تعبر عن إحدى إبداعات المسلمين في علم :

أ ( الطب      ب) الفلك

ج) الرياضيات      د) الجغرافيا



ترجع الصناعة العمانية الموضحة في الصورة المجاورة إلى الألف :

أ ( الأول قبل الميلاد      ب ( الثاني قبل الميلاد

ج) الأول الميلادي      د) الثاني الميلادي

جميع المحاصيل الزراعية التالية أدخلت لمنطقة شرق أفريقيا أبان حكم الممالك والإمارات الإسلامية ما عدا:



ب



أ



د



ج



تمثل الخريطة المجاورة إحدى الدول التي اتصل بها المسلمون بعد الفتح الإسلامي .. وتعرف بدولة:



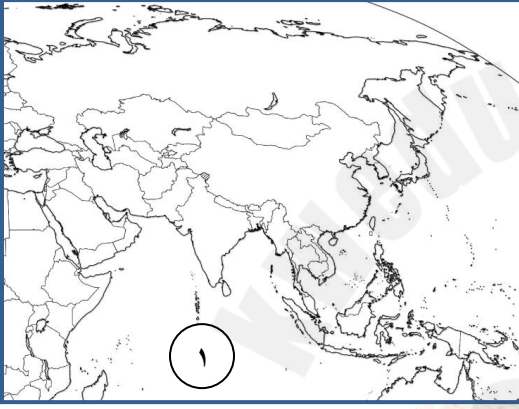
ب ( الصين

أ ( الهند

د ( العراق

ج ( إيران

يعرف المسطح المائي المشار إليه بالرقم ( ١ ) في الخريطة المجاورة ب :



أ ( المحيط الهادي

ب ( بحر عمان

ج ( البحر الأحمر

د ( المحيط الهندي

امتدت دولة السلاجقة بعد قيامها نحو المناطق المشار

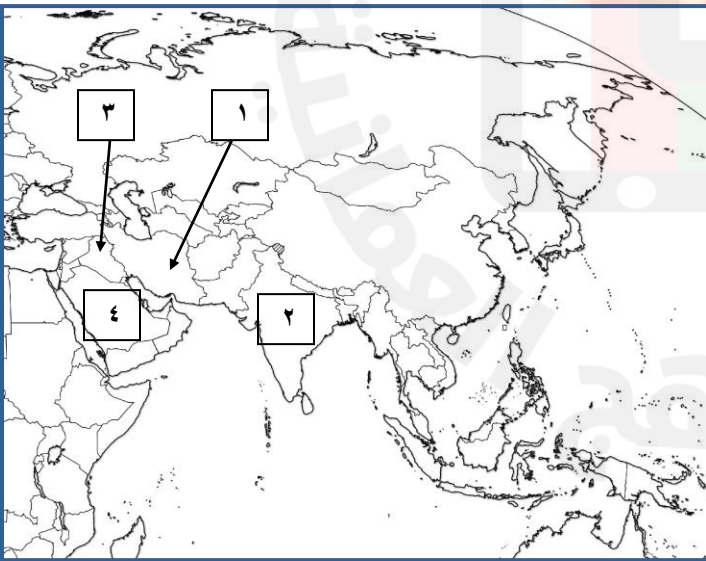
إليها بالأرقام التالية :

أ ( ١ + ٢

ب ( ١ + ٣

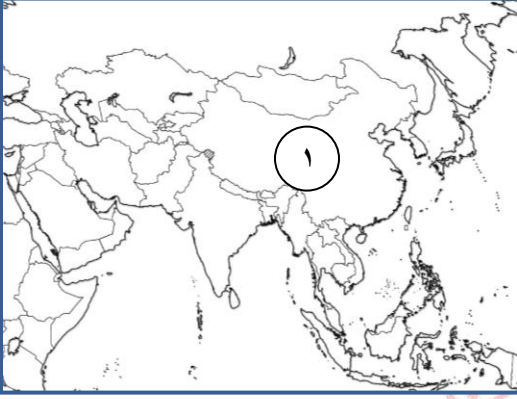
ج ( ٢ + ٣

د ( ٢ + ٤





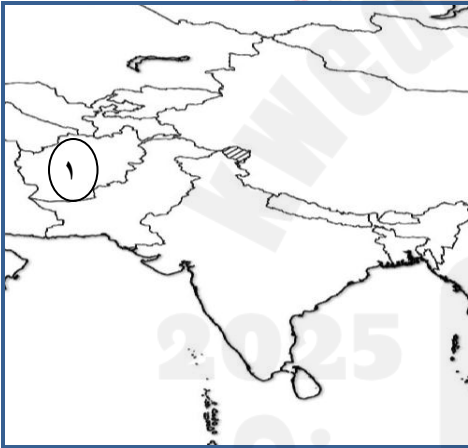
جلب المسلمون نتيجة لاتصالهم التجاري بالدولة المشار إليها بالرقم ( ١ ) مجموعة بضائع أهمها:



- أ ( التوابل والحريير
- ب ( الحريير والعاج
- ج ( الورق والحريير
- د ( خشب الساج والحريير

تم إعلان قيام دولة السلاجقة في العام الهجري :

- أ ( ٤٢٩
- ب ( ٢٤٩
- ج ( ٩٢٤
- د ( ٩٤٢



تعرف الدولة التي قامت بالمنطقة المشار إليها بالرقم ( ١ ) بالدولة :

- أ ( السامانية
- ب ( الأموية
- ج ( الغزنوية
- د ( السلجوقية

يقع المحيط الهادي بالنسبة لقارة آسيا في الجهة:



ملتزمون بتحقيق

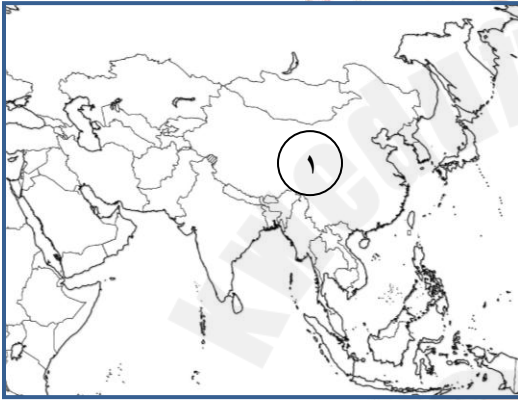
- أ ( الشرق
- ب ( الغرب
- ج ( الجنوب
- د ( الشمال



تقع جبال الهيمالايا بالنسبة للهند في الجهة :

- أ ( الجنوب
- ب ( الشمال
- ج ( الشرق
- د ( الغرب

جلب تجار جنوبي شبه الجزيرة العربية من المنطقة المشار إليه بالرقم ( ١ ) البضائع التالية:



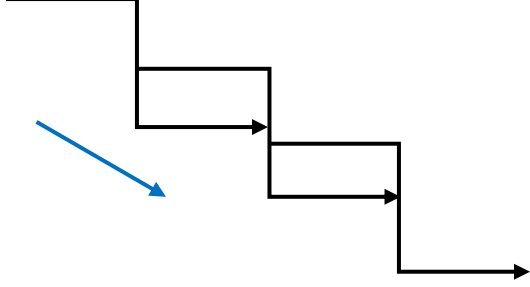
- أ ( التوابل والحريز
- ب ( التوابل والبخور
- ج ( التوابل والورق
- د ( البخور والحريز



تعرف الرياح الموضحة في الخريطة المجاورة بالرياح :

- أ ( العكسية
- ب ( الموسمية
- ج ( اليومية
- د ( الاستوائية

رتب طبقات المجتمع الآري التالية من الأعلى إلى الأدنى : ( الكاشاتريا / الفايشيا / البراهمة / الشودرا ).



رتب الأحداث التاريخية التالية من الأقدام للأحداث وذلك بوضع الرقم أمام الحدث ؟

وصول الريان أبو عبيدة عبدالله بن القاسم إلى كانتون

وفاة الفيلسوف أبو نصر الفارابي

قدوم قبائل الحرث العمانية إلى سواحل شرق أفريقيا

هجرة سعيد وسليمان بن عباد بن عبد إلى منطقة لامو



تعرف على  
عواصم الدول  
التالية:

بنجلادش : .....

الفلبين : .....

الصين : .....

الهند : .....

سريلانكا : .....

كمبوديا : .....

لاوس : .....

إندونيسيا : .....


تايلاند : .....

فيتنام : .....

ميانمار : .....

باكستان : .....





( نظرا لتعدد الأعراق البشرية في منطقة جنوب شرقي آسيا وتداخل تاريخها ..فقد ترتب على ذلك عدة نتائج )..أذكرها؟

.....

.....

.....

( أصبح الملاحون العمانيون رواداً في النشاط الملاحي العربي بالمحيط الإسلامي خلال العصور الإسلامية )..بم تفسر ذلك ؟

.....

.....

.....

( نتج عن التفوق الملاحي للملاحين العمانيين مجموعة من النتائج ) أذكرها؟

.....

.....

.....

من خلال دراستك للحياة الثقافية والفكرية في منطقة شرق أفريقيا ..تعرفت على ولادة لغة جديدة في المنطقة عرفت باللغة السواحيلية ..بالاستعانة بالمصادر المختلفة ..توصل إلى معني الكلمات السواحيلية التالية :

.....	هو جامبو
.....	توتاونانا
.....	سامهاني

أرسم خريطة مفاهيم لأشكال اتصال الدولة  
الإسلامية بالصين؟

الرسم  
هنا



( ظهرت مظاهر الحياة في منطقة لامو بعد  
هجرة الجماعات العربية إليها ) دلت على بعض  
مظاهر الحياة السياسية في المنطقة.



علل : ازدهار العلاقات التجارية بين العمانيين  
والصينيين.





وفقا لما ورد بالكتاب المدرسي صفحة ٧٩  
من مميزات العمارة في شرقي أفريقيا  
..أرسم شكلا تخطيطيا لأحد مدن المنطقة؟

الرسم  
هنا

( تعددت اللغات المستخدمة في شرقي أفريقيا بسبب تنوع أصول وأعراق الجماعات المستقرة والوافدة ، فهناك العرب والهنود والملاويون ، والفرس بالإضافة إلى الأفارقة لا سيما من جماعات البانتو والقبائل الزنجية وغيرها من الأصول الأفريقية )..وفقا لما ورد بالنص السابق ..صنف في الجدول التالي الجماعات الوافدة وسكان المنطقة الأصليين؟

السكان الأصليين	الجماعات الوافدة





تلفيق من مصدر

من خلال الصورة التالية أجب عن الأسئلة التالية:



١) الكتاب المجاور يمثل خلاصة لأحدى الكتب القديمة .. استنتج عنوان الكتاب القديم؟

٢) استخلص من الصورة السابقة مؤلف الكتاب الأصلي؟

٣) إذا طلب منك تصنيف الكتاب السابق حسب العلوم التي برع فيها المسلمين فألي أي مجال سوف تصنفه؟

٤) يقال بان صاحب الكتاب الأصلي برع في عدة مجالات غير المجال الذي يمثلته الكتاب السابق .

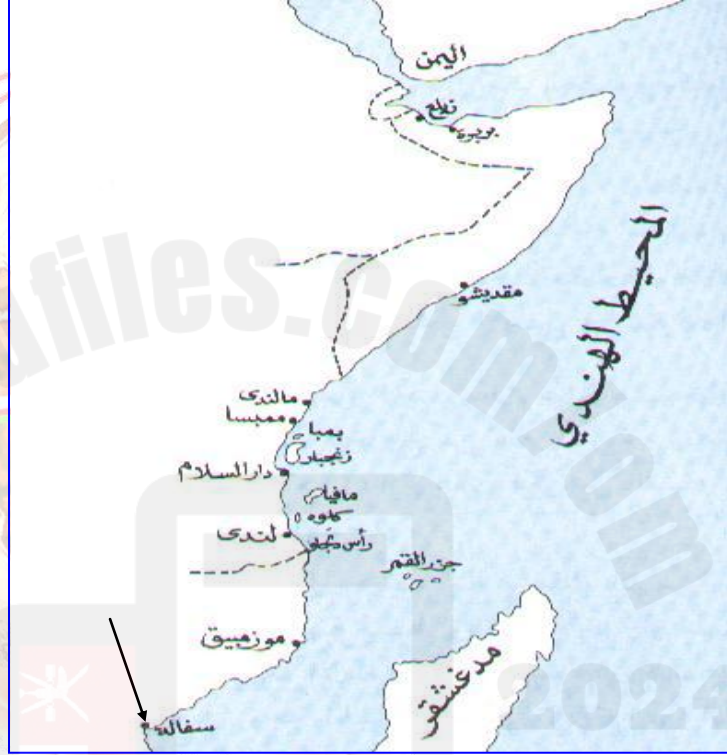
أوافق

لا أوافق

اختر الجواب ...دلل على إجابتك؟



أمامك خريطة لسواحل شرق أفريقيا ..أدرسها جيدا ثم أجيب عما يليها من أسئلة:



- ١) ظلل على الخريطة المنطقة التي استقرت فيها قبائل الحرث العمانية؟
- ٢) استخلص من الخريطة السابقة أثنين من الموانئ التي أنشأتها قبيلة الحرث العمانية؟
- ٣) ضع دائرة حول المملكة التي أسسها الشيرازيون في القرن الخامس الهجري؟
- ٤) وضح أهمية المنطقة المشار إليها في الخريطة من الناحية الاقتصادية؟

.....

.....

.....

أمامك خريطة تمثل دول شبة القارة الهندية  
..أدرسها جيدا ثم أجيب عما يليها من أسئلة:



١) ضع دائرة حول الدولة التي تمثل مكان استقرار الدولة الغزنوية؟

٢) استخلص من الخريطة ما يلي:

أ) الدولة التي تقع جنوب الهند .....

ب) الدولة التي تقع شمال نيبال .....

٣) استخرج من الخريطة المدينة التي استقر فيها التجار العمانيون في الإقليم؟

٤) حدد الجهة التي يقع فيها خليج البنغال بالنسبة للهند؟

٥) هل كان للعمانيون دورا في نشر الإسلام في هذا الإقليم .

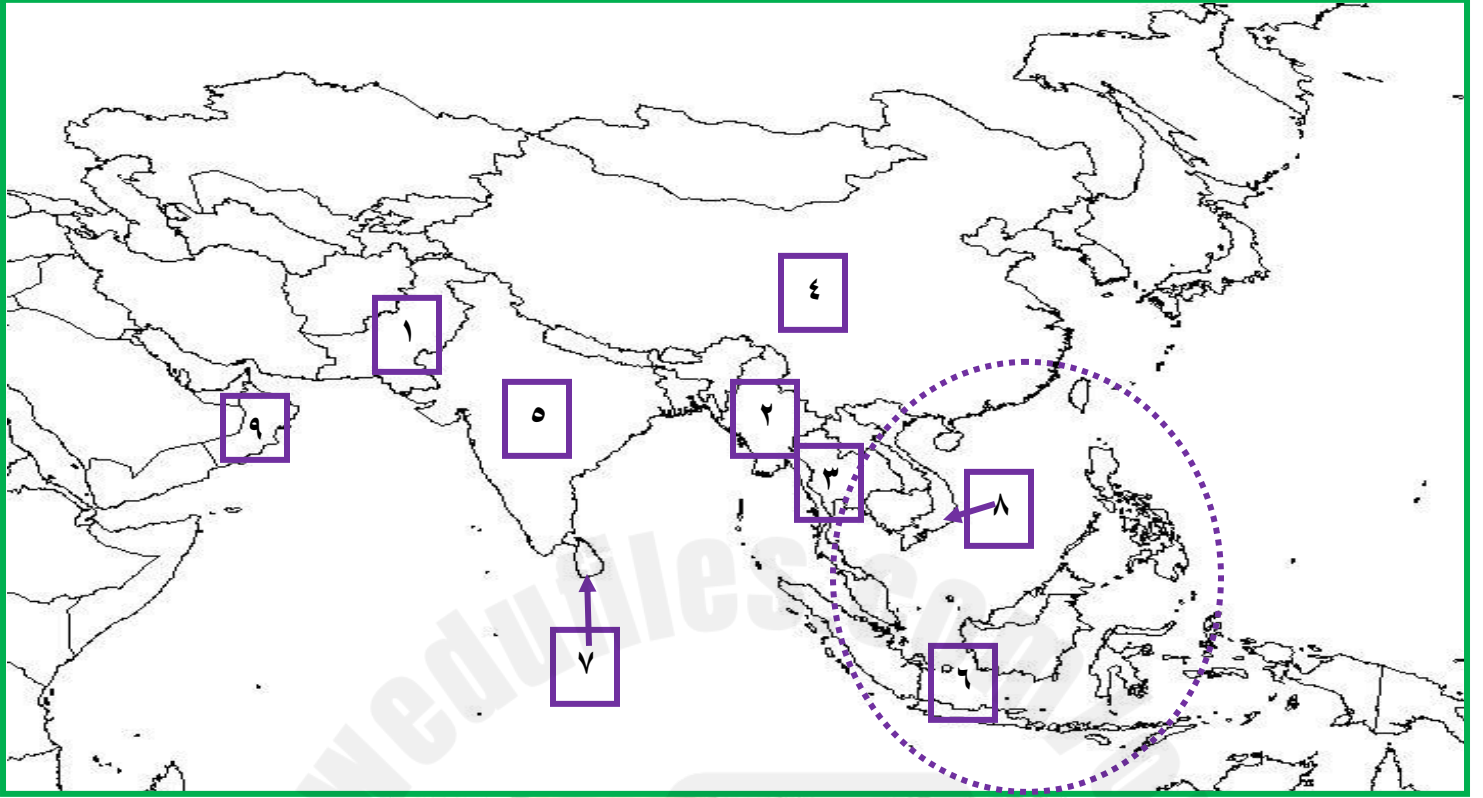
نعم ☐

لا ☐

اختر الجواب ...دلل على إجابتك؟



بالاستعانة بالخريطة التالية ( آسيا السياسية ) أجب عن الأسئلة التي تليها:



( ١ ) سم الأرخييل المشار إليه بالرقم ( ٦ ) ؟

( ٢ ) من خلال ملاحظتك للأرخييل السابق... أعط تعريفا جغرافيا له؟

( ٣ ) أذكر العوامل التي ساعدت على انتشار الإسلام في المنطقة المحاطة بالدائرة على الخريطة؟

( ٤ ) وقع على الخريطة اسم الميناء الذي وصل إليه الربان العماني أبو عبيدة عبدالله بن القاسم ؟

( ٥ ) ( لقد ازدهرت التجارة بين البلدين المشار إليهم بالأرقام التالية ( ٤ - ٩ ) وتبادلوا مجموعة من السلع ( في ضوء ذلك أعط أمثلة على كلا من :

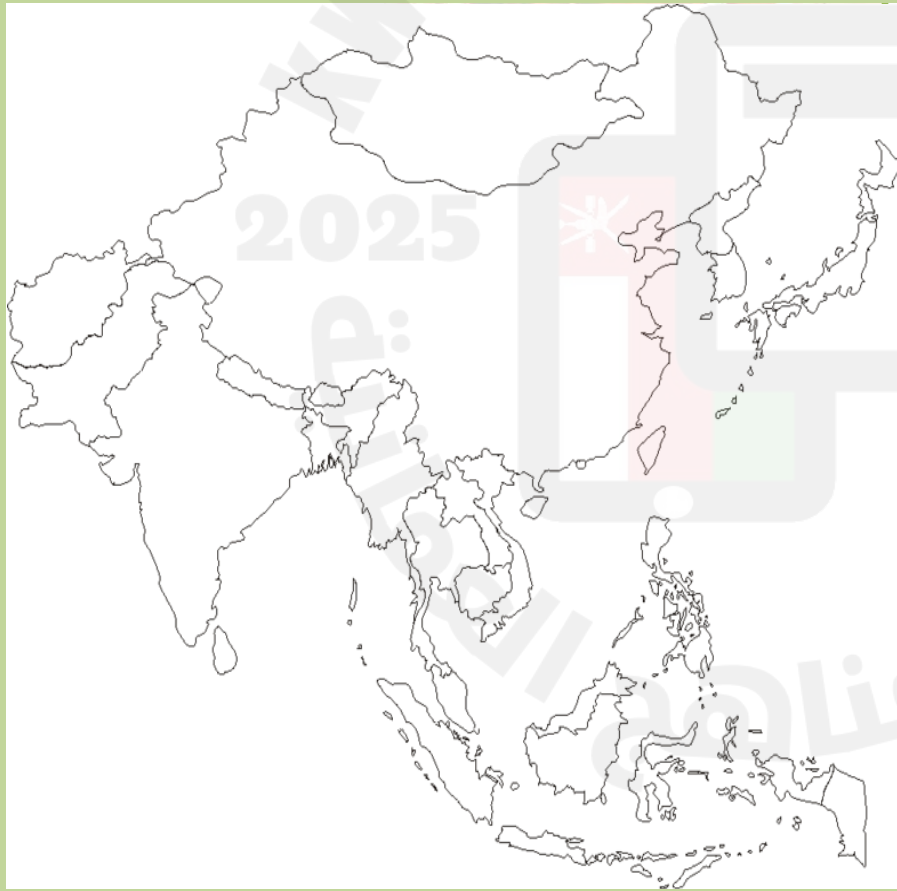
يتبع

(أ) السلع التي استوردتها الدولة المشار إليها بالرقم ( ٤ ) من الدولة المشار إليها بالرقم ( ٩ ).

(ب) السلع التي صدرتها الدولة المشار إليها بالرقم ( ٤ ) إلى الدولة المشار إليها بالرقم ( ٩ ).

(٦) صنف الدول المشار إليها بالأرقام التالية ( ١ - ٢ - ٣ - ٥ - ٧ - ٨ ) إلى مجموعة دول شبه القارة الهندية ومجموعة دول شبه جزيرة الهند الصينية؟

مجموعة دول شبه القارة الهندية	مجموعة دول شبه جزيرة الهند الصينية



بالاعتماد على الخريطة المجاورة ( آسيا  
سياسية ) .. أجب عما يلي :

( أ ) لون الدول التالية وفقا للألوان المحددة :

( ١ ) باكستان ..... أخضر

( ٢ ) ميانمار ..... أزرق

( ٣ ) فيتنام ..... اصفر

( ب ) أكتب الدول التالية في موقعها على  
الخريطة:

( ١ ) الهند ( ٢ ) لاوس

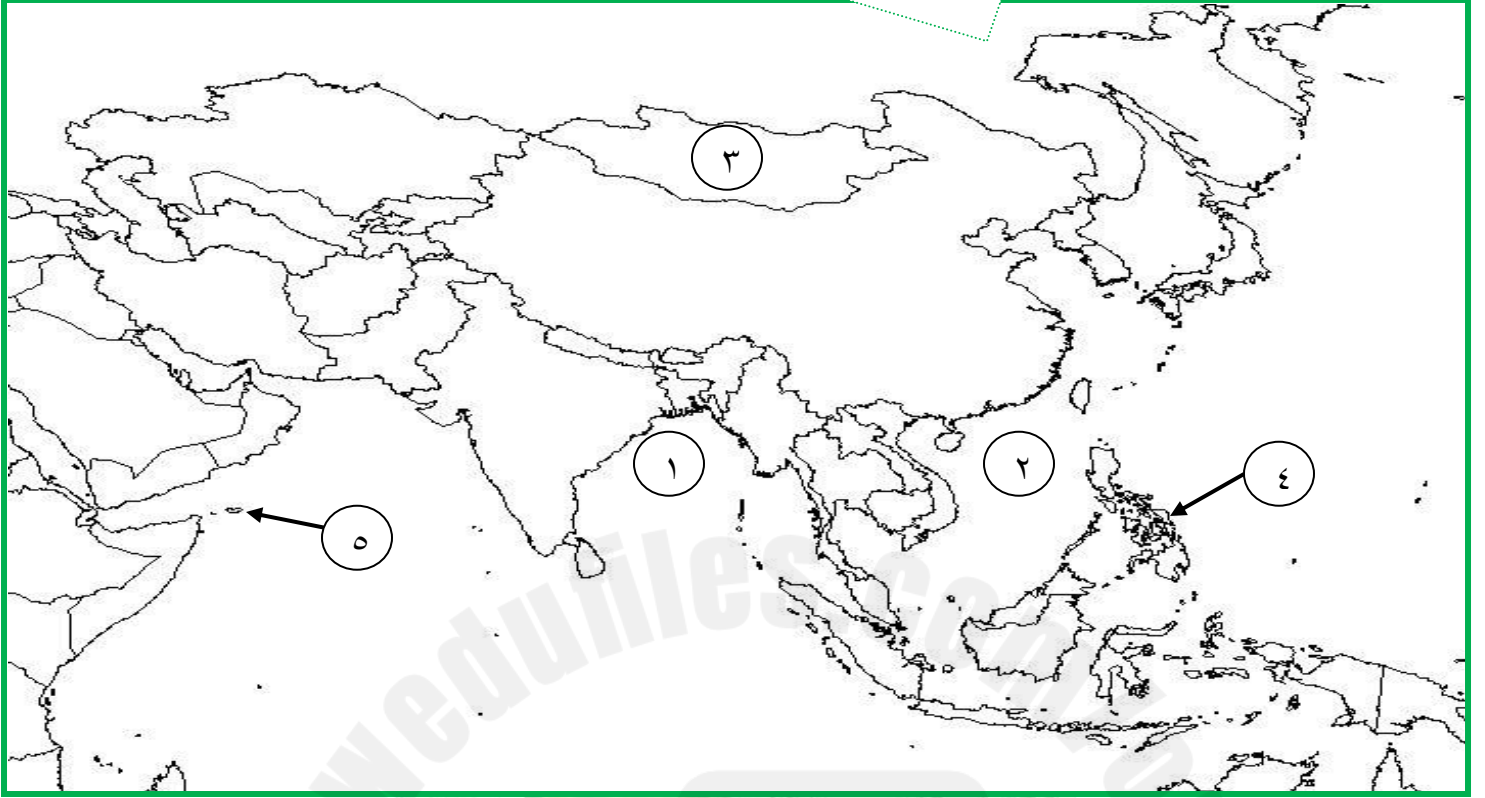
( ٣ ) بنجلاديش ( ٤ ) تايلاند

( ج ) ضع دائرة حول الدول التالية وفقا للألوان  
المحددة:

( ١ ) الفلبين ..... أحمر

( ٢ ) سريلانكا ..... أسود

بالاستعانة بخريطة ( آسيا السياسية ) أجب عن الأسئلة التي تليها:



(١) لون الدولة التي أستقر فيها الآريون بعد نزوحهم من أواسط آسيا باللون الأحمر؟

(٢) أكتب ما تشير إليه الأرقام التالية:

(أ) المسطحات المائية المشار إليها بالأرقام التالية :

(١) ..... (٢) .....

(ب) الدول المشار إليها بالأرقام التالية:

(٣) ..... (٤) .....

(٣) في أي عام هجري تم تحرير الجزيرة المشار إليها بالرقم ( ٥ ) من النصارى؟

.....

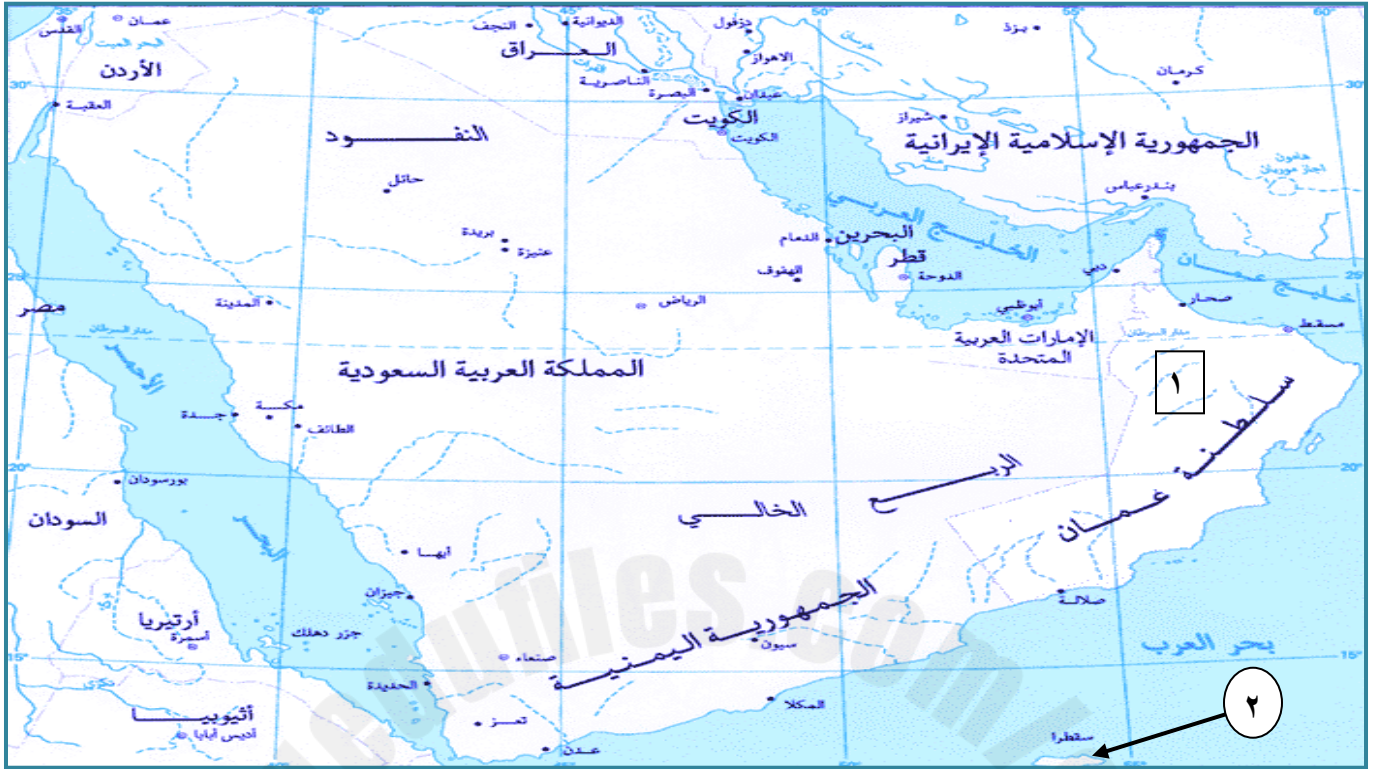
(٤) وقع على الخريطة الموانئ التالية : ( عدن / كانتون / مرباط / مقديشو).

(٥) ظلل على الخريطة بقلم الرصاص المنطقة التي جلبت منها الخيول والإبل لإمارات ساحل شرقي أفريقيا؟

(٦) ضع دائرة في الخريطة حول جزيرة سريلانكا ؟



بالاستعانة بالخريطة التالية التي تمثل شبة الجزيرة العربية ..أجيب عن الأسئلة التي تليها :



(١) ضع دائرة حول كلا من :

( أ ) جزيرة قشم

( ب ) الدولة التي قامت على أرضها الحضارة السومرية.

(٢) أذكر أثنين فقط من ربانة البحر بالدولة المشار إليها بالرقم ( ١ ) ؟

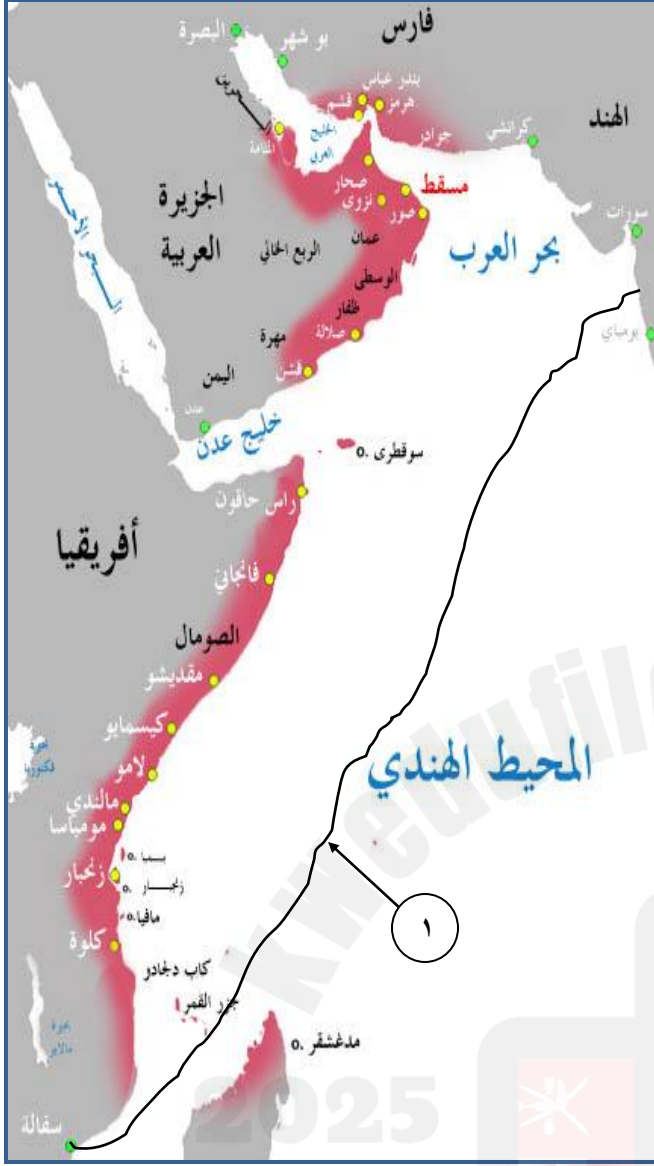
(٣) وقع على الخريطة الموانئ التالية: ( صور / مرباط ) ؟

(٤) بالاستعانة بمؤشر الاتجاهات حدد الجهة التي تقع فيها المسطحات المائية الآتية بالنسبة لسلطنة عمان؟

( أ ) بحر عمان

( ب ) بحر العرب

(٥) بين أهم الجهود التي بذلها حكام عمان في المنطقة المشار إليها بالرقم ( ٢ ) ؟



أمامك خريطة لامتداد الإمبراطورية العمانية  
..أدرسها جيدا ثم اجيب عن الاسئلة الآتية:

(١) ضع دائرة باللون الأخضر حول المنطقة التي  
هاجر إليها سعيد وسليمان بن عباد بن عبد.

(٢) ضع دائرة باللون الأسود حول المراكز  
الثقافية التي ظهرت في شرقي أفريقيا.

(٣) ارسم خط جلب الخيول والإبل التي جلبها  
حكام إمارات ساحل شرق أفريقيا.

(٤) أذكر المعدن الذي صدر حسب خط التصدير  
المشار إليه بالرقم ( ١ ) ؟

(٥) استخراج من الخريطة ما يلي:

أ ( اثنتين ) من المدن التي اعجب البرتغاليون  
بعمارتها الإسلامية عند قدومهم إلى شرقي  
أفريقيا.

ب ( المنطقة التي استخراج منها معدن الذهب.

ملتزمون بتحقيق رؤيتنا، الإجابة في موادنا



قدر ما نركز  
مجهودك في  
موضوع ما نحقق  
النجاح فيه


## الوحدة الرابعة أثر الحضارة

### الإسلامية في أوروبا

اسئلة الاختبار من

متعدد

ضع دائرة حول رمز الإجابة الصحيحة




الكتاب الموضح في الصورة المجاورة من إبداعات المسلمين في علم:

(ب) التاريخ

(أ) التفسير

(د) الفقه

(ج) الطب



صاحب الكتاب الموضح بالصورة المجاورة العالم:

(ب) الطبري

(أ) المسعودي

(د) البيروني

(ج) الإدريسي



تعرف اللغة التي انتشرت في المنطقة الموضحة في الخريطة باللغة:

(ب) المسمارية

(أ) السواحلية

(د) السنسكريتية

(ج) الهيروغليفية



المدينة المشار إليها في الخريطة تمثل مركزا ثقافيا استفاد منه المسلمون في الترجمة من الحضارة:



(ب) اليونانية

(أ) الهندية

(د) الرومانية

(ج) الفارسية

المدينة المشار إليها في الخريطة تعتبر عاصمة للدولة:



(أ) العباسية

(ب) الأموية

(ج) القوطية

(د) الإدريسية

ملتزمون بتحقيق رؤيتنا، الإجابة في موادنا

بدأ المؤرخون المسلمون بتدوين التاريخ بداية بعلم :

(د) الفتوحات الإسلامية

(ج) كتب التراجم

(ب) الموسوعات التاريخية

(أ) السيرة النبوية

جميع العلماء المسلمين التالية أسمائهم كتبوا في الهندسة وحساب المثلثات ما عدا:

(د) ابن الهيثم

(د) البيروني

(ب) الخوارزمي

(أ) الطوسي

( مسجد قبة الصخرة إحدى المعالم المعمارية الإسلامية التي تأثر بها الأوروبيين في عمارتهم ) فأَي الصور التالية تمثله :



ب



أ



د



ج



عرف الشعر الذي ولد بالجزيرة المشار إليها بالخريطة المجاورة بالشعر :

(ب) الإيطالي

(د) الأنطلسي

(أ) العربي

(ج) اليوناني

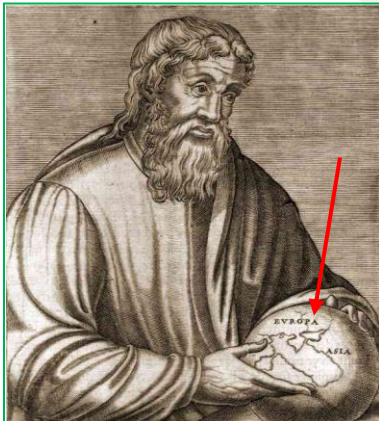
الصورة التوضيحية المجاورة توضح الكرة الفضية التي رسمت عليها خريطة الكرة الأرضية بأمر من ملك صقلية .. ورسمها الجغرافي :

(ب) ابن حوقل

(د) الإدريسي

(أ) المسعودي

(ج) الصفاقسي







تعبر المخطوطة في الشكل المجاور عن طريقة صنع:

(ب) الغذاء

(أ) الدواء

(د) الزجاج

(ج) السماد



المادة الظاهرة في الصورة المجاورة أخذ المسلمين طريقة صناعتها من دولة:

(ب) الصين

(أ) الهند

(د) صقلية

(ج) الأندلس


الجزء المحدد من البناء في الصورة المجاورة أنتقل من الشرق الإسلامي إلى أوروبا منذ أواسط القرن  
الميلادي:

(ب) الثامن

(أ) السابع

(د) العاشر

(ج) التاسع



النمط العمراني الإسلامي الظاهر في الصورة المجاورة تم تطويره في مدينة:

(ب) بغداد

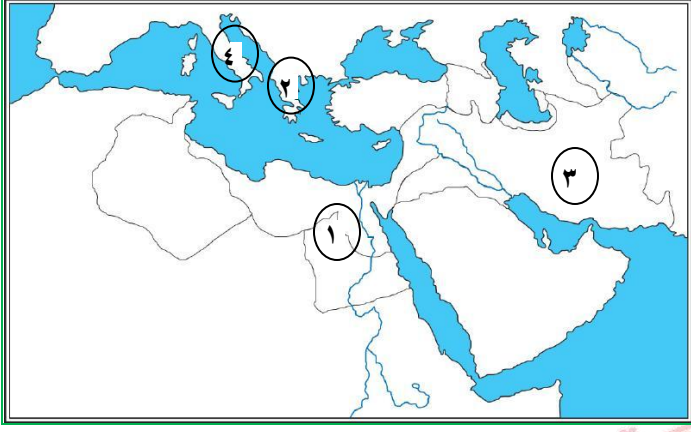
(أ) القاهرة

(د) دمشق

(ج) قرطبة

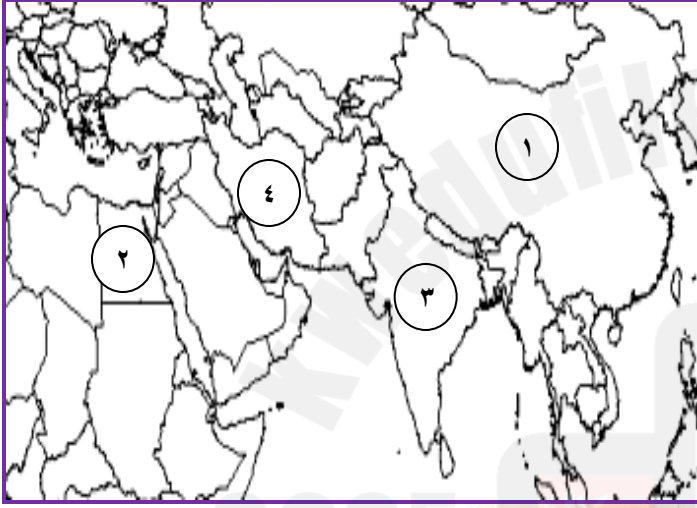






بفعل ترجمة تراث الحضارات المجاورة للدولة الإسلامية  
ظل جزءاً كبيراً من تراثها حياً إلى الآن الحضارة المشار  
إليها بالرقم :

- أ ( ١ )  
ب ( ٢ )  
ج ( ٣ )  
د ( ٤ )



وجدت إرساليات تبشيرية لأعضاء طائفة النساطرة في  
جميع المناطق المشار إليها بالأرقام على الخريطة ما عدا  
المنطقة رقم:

- أ ( ١ )  
ب ( ٢ )  
ج ( ٣ )  
د ( ٤ )




الكاتب الذي اتصل بالثقافة الإسلامية وتأثر بها نتيجة تواجده في  
الجزيرة المشار إليها على الخريطة:

- أ ( بوكاشيو )  
ب ( دانتي )  
ج ( ابن حزم )  
د ( اليورنادو )

تمكن علي بن العباس من اكتشاف أخطاء كبيرة لأطباء اليونان في كتابه:

- أ ( جامع المفردات )  
ب ( القانون )  
ج ( الملكي )  
د ( المنصوري )




يسمى الكتاب الذي ألف على غرار الكتاب الموضحة في الصورة المجاورة بـ :

أ ( طوق الحمامة

ب ( الزيج الصابني

ج ( الأيام العشر

د ( كليلة ودمنة



تمت طباعة الكتاب الموضح في الصورة المجاورة في عام ١٥٩٣م بمدينة:

أ ( باريس

ب ( لندن

ج ( روما

د ( جنيف



توضح الصورة المجاورة إحدى الجوانب التي تأثر بها الأوروبيين

بالحياة الاجتماعية لدى المسلمين وتدل على :

أ ( تنظيم الحدائق

ب ( فن الموسيقى

ج ( الحمامات

د ( العمارة



تعرف المدينة التي اشتهرت بصناعة المادة الموضحة في الصورة المجاورة بـ :

أ ( طليطلة

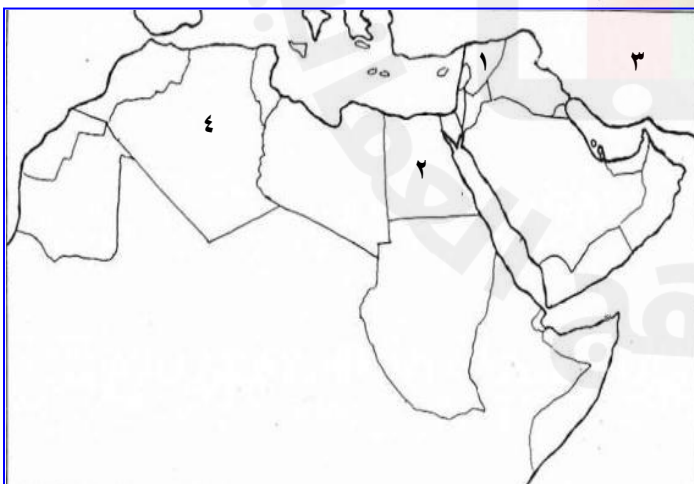



ب ( غرناطة

ج ( أشبيلية

د ( قرطبة



الصورة التي تدل على الكتاب الذي أصبح من المراجع الأساسية في تدريس الطب بالجامعات الأوروبية:



انتشرت طائفة النساطرة في الدولة المشار إليها على

الخريطة بالرقم :

ب ( ٢ )

أ ( ١ )

د ( ٤ )

ج ( ٣ )





استخدمت أدوات الجراحة الظاهرة في الصورة المجاورة في إجراء جميع العمليات الجراحية التالية ما عدا :

ب ( الولادة

أ ( العين

د ( الأسنان

ج ( القلب



يسمى الكتاب الذي طبع في المدينة المحددة على الخريطة المجاورة بكتاب :

ب ( الحاوي

أ ( الشفاء

د ( الملكي

ج ( القانون

يسمى العالم الذي عين رئيساً للمستشفى في المدينة المشار إليها في الخريطة المجاورة بـ :

ب ( ابن سينا

أ ( ابن النفيس

د ( ابن البيطار

ج ( الرازي



الأسئلة المقالية  
القصيرة

( حظيت العلوم الدينية بالمكانة الأولى من اهتمام المسلمين ) دلل على ذلك؟

.....

.....

.....

أستكمل المربعات التالية بما يناسب ( المجال / عنوان الكتاب / المؤلف ) ..وذلك بكتابتها في مكانها المناسب.



المؤلف	↔	عنوان الكتاب	↔	المجال
.....	↔	تاريخ الأمم والملوك	↔	.....
الإدريسي	↔	.....	↔	.....
.....	↔	الأيام العشر	↔	.....
البتاني	↔	.....	↔	.....
.....	↔	القانون	↔	.....
.....	↔	مروج الذهب ومعادن الجوهر	↔	.....



يمكن أعرف من قائل العبارات التالية :

( إن المعرفة لا تحصل إلا  
بالعمل وإجراء التجارب )

( إن الشعر الإيطالي ولد في  
صقلية حيث كان للعرب حضارة  
زاهرة )

أطلق على حنين بن اسحاق شيخ المترجمين .. هل أنت ..

مع اللقب

ضد اللقب

اختر الجواب ... ثم علل إجابتك.

أكتب اسم العالم امام الوصف الذي يناسبه



امتاز بقدرته الفائقة على ملاحظة أعراض المرض وتشخيصه بدقة.

يرجع إليه الفضل في الكشف عن الدورة الدموية في الرئتين .

تمكن من اكتشاف اخطاء لأطباء اليونان.

اخذ عنه الأوروبيون فكرة تقسيم المواد الكيميائية.





تلفيف من مصدر

الشكل التوضيحي التالي يمثل ( صناعة الورق ) بعد دراسته جيدا  
...أجيب عما يليه من أسئلة:



( ١ ) من خلال الشكل استخرج المواد التي يصنع منها الورق حاليا؟

( ٢ ) ( انتشرت صناعة الورق في العالم الإسلامي ، بسبب رغبة المسلمين في الاستفادة من منجزات الحضارات التي اتصلوا بها ) في ضوء هذا؟

( أ ) سم الحضارة التي استفاد منها المسلمين في صناعة الورق؟

( ب ) ( لاحظت المواد التي تصنع منها الأوراق في الوقت الحاضر ..ولكن ما هي المواد التي كانت تصنع منها الأوراق في الدولة الأم لصناعة الورق؟ وكيف طوروا المسلمين من هذه الصناعة؟

( ٣ ) ( سريعا ما يتم تناقل الانجازات لتعم الفائدة أرجاء العالم ..من الدولة الإسلامية انتقلت صناعة الورقة لتعم القارة الأوروبية ) ..أشرح بلغتك الخاصة كيفية انتقال صناعة الورق إلى القارة الأوروبية؟

بالاستعانة بالصورة المجاورة .. أجب عن الأسئلة التالية :

(١) استخلص من الصورة ما يلي :

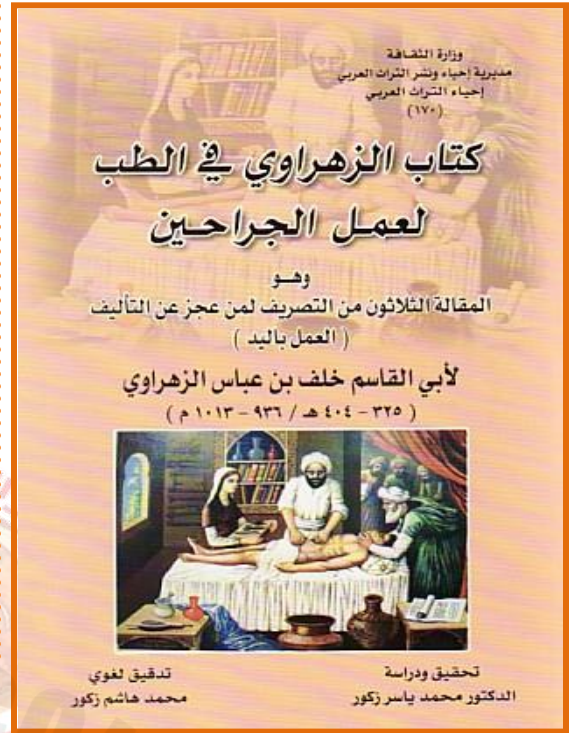
(أ) مؤلف الكتاب :

(ب) التخصص الذي برع فيه المؤلف في الطب :

(ج) عنوان الكتاب الأصلي للمؤلف :

(٢) بين أهم جهود المؤلف في مجال تخصصه؟

(٣) أذكر المكانة التي احتلها المؤلف في الطب؟



بالاستعانة بالصورة المجاورة أجب عن الأسئلة التالية:

(١) استنتج من الصورة ما يلي:

(أ) مؤلف الكتاب :

(ب) عنوان الكتاب :

(ج) المجال الذي يصنف إليه الكتاب :

(٢) وضح باختصار أهمية الكتاب الموضح بالصورة؟

(٣) أذكر نوع الشعر الذي وضعه المؤلف في كتابه؟

اقرأ النص الآتي .. ثم أجب عن الأسئلة التي تليه:

(( كان أبو بكر الرازي عالماً موسوعياً من طراز فريد، فقد برز في جميع فروع العلوم فهو في الحقيقة علامة عصره ، حيث كانت مؤلفاته مرجعاً للعلماء والدارسين خاصة في الطب. وظل طوال حياته بين القراءة والتصنيف حتى قيل أنه فقد بصره من كثرة القراءة ، ومن إجراء التجارب الكيميائية في المعمل. ويعد الرازي أعظم علماء المسلمين في الطب من ناحية الأصالة في البحث والخصوبة في التأليف ، فقد ألف كتباً قيمة في الطب ، وفي طرق المداوة والعلاج وتشخيص الأمراض. ولقيت بعض كتبه الطبية رواجاً كبيراً وشهرة عظيمة وانتقلت نظرياته العلمية إلى أوروبا، وما زال الغربيون بوجه عام يعترفون بفضله ويقدرّون أثره )).



١ ( من خلال دراستك .. عدد بعضاً من الكتب التي ألفها الرازي؟

٢ ( أذكر بعض الموضوعات التي تناولها الرازي في مؤلفاته؟

٣ ( برهن : على المكانة التي وصلت إليها مؤلفات الرازي في مجال الطب؟

٤ ( ( برع الرازي أيضاً في مجال الكيمياء ) أثبت بدليل على اهتمام الأوربيون بإنجازاته في هذا المجال ؟

٥ ( ( ورد في النص السابق إن الرازي فقد بصره من إجراء التجارب الكيميائية ) .. فهل ؟

نجح في تحضير المواد الكيميائية

لم ينجح في تحضير المواد الكيميائية

اختر الجواب ..... ثم دلل على إجابتك.





بالاستعانة بالخريطة التالية التي تمثل الأندلس .. أجب عن الأسئلة التي تليها :



١) استخلص من الخريطة ما يلي :

- أ) المدينة التي اشتهرت بصناعة الجلود ودباغتها.
  - ب) المدينة التي اشتهرت بصناعة الأسلحة.
  - ج) المدينة التي اشتهرت بصناعة الورق.
- ٢) أكتب ما تشير إليه الأرقام التالية:
- أ) المسطح المائي المشار إليه بالرقم ( ١ )
  - ب) المضيق المشار إليه بالرقم ( ٢ )
- ٣) ضع دائرة حول المدينة التي تزخر بوجود الحمامات العامة.
- ٤) أذكر نوع الأرقام التي عرفت بالمنطقة المشار إليها بالرقم ( ٣ ) ؟

امامك خريطة لأحدي المناطق التي فتحها المسلمين  
..أدرسها جيدا ثم أجب الأسئلة الآتية:

(١) سم المنطقة الموضحة في الخريطة المجاورة؟

(٢) اذكر المسطحات المائية التي يصل بينها مضيق  
جبل طارق.

(١) .....

(٢) .....

(٣) استخرج من الخريطة عاصمة الدولة الإسلامية  
للمنطقة الموضحة بعد فتحها.

(٤) بالاعتماد على مصادر التعلم أبحث عن القائد  
المسلم الذي فتحت على يده المنطقة الموضحة في  
الخريطة؟



كلما ازداد علمنا ، ازداد إدراكنا لجهلنا

أكيد سيكون إعدادكم هو الأفضل

ولكني أتمنى أن أكون قد قدمت لكم ولو القليل من

الأفكار لإعداد أنشطتكم

