

شكراً لتحميلك هذا الملف من موقع المناهج العمانية



أنشطة الوحدة الرابعة

[موقع المناهج](#) ⇨ [المناهج العمانية](#) ⇨ [الصف الحادي عشر](#) ⇨ [هذا وطني](#) ⇨ [الفصل الأول](#) ⇨ [الملف](#)

تاريخ نشر الملف على موقع المناهج: 05:55:52 2023-11-27

التواصل الاجتماعي بحسب الصف الحادي عشر



روابط مواد الصف الحادي عشر على تلغرام

[الرياضيات](#)

[اللغة الانجليزية](#)

[اللغة العربية](#)

[التربية الاسلامية](#)

المزيد من الملفات بحسب الصف الحادي عشر والمادة هذا وطني في الفصل الأول

[اختبار قصير ثاني نموذج ثاني](#)

1

[امتحان قصير وواجب منزلي ثاني](#)

2

[اختبار قصير ثاني](#)

3

[حصار درس عمان في القرنين الثاني والسادس الهجريين](#)

4

[اختبار قصير ثاني نموذج حديث](#)

5

*عناصر الدرس:-

١.
٢.
٣.

*الأنشطة المصاحبة للدرس:-

*اختار الإجابة الصحيحة من بين البدائل المعطاة:

١. يصنف تأثير توزيع السكان الجغرافي في النشاط الاقتصادي لأي مجتمع ضمن العوامل:

أ.الجيولوجية ب. التاريخية ج.الديموجرافية د. الثقافية

٢. العامل الديمغرافي المؤثر في النشاط الاقتصادي للمجتمعات:

أ.الموقع الفلكي ب.تركيبية السطح ج. حجم السكان د. الثروة المعدنية

٣. العامل المؤثر في السكان من حيث تقبلهم للتطوير والانفتاح على العالم الخارجي:

أ.الثقافة ب. التركيب النوعي ج. المناخ د. حجم السكان

٤. ما يميز سكان المنطقة (١) عن سكان المنطقة (٢) في العصور القديمة بالخريطة أمامك:

أ. الخبرة الكبيرة في الملاحة ب. أكثر اتصال بالعالم الخارجي

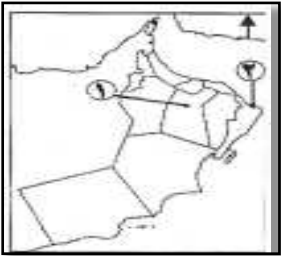
ج. سيادة أعمال التعدين د. بناء وصناعة السفن

٥. العامل المؤثر في انفتاح الدولة على البحار والمحيطات والنشاط التجاري:

أ.المناخ ب. الموقع ج. الجيولوجيا د. الديموغرافيا

٦. تؤثر العوامل الجيولوجية في النشاط الاقتصادي للدول من خلال:

أ.المناخ ب. الارتفاع ج. تركيبية السطح د. الموقع الفلكي



*الواجب المنزلي:-

فسر:- (كان لعمان على مر التاريخ رثتان تتنفس بهما، وهما الساحل والداخل).

السؤال التحضيري:- استخلص الأنشطة الاقتصادية لعمان في العصور القديمة من خلال الصور التالية:-



*عناصر الدرس:-

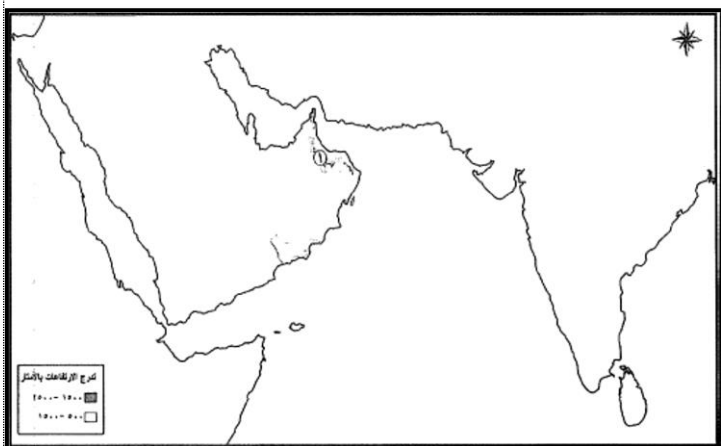
- ١.
- ٢.
- ٣.

*الأنشطة المصاحبة للدرس:-

- "أثرت طبيعة التركيبة السطحية والإقليمية لعمان على النشاط الاقتصادي للسكان قديما" دلل على ذلك وفق الجدول الآتي:

طبيعة تركيب السطح	النشاط الذي مارسه السكان قديما
السواحل	
السهول	
السلاسل الجبلية	
سفوح الجبال المطلة على الداخل	

- أمامك خريطة سلطنة عمان، أدرسيها جيدا ثم أجبي عن الأسئلة التي تليها:



١. حدد على الخريطة موقع الدولة السومرية باستخدام الرمز (Δ).

٢. ما السلعة الرئيسية التي صدرها العانيون من الميناء المشار إليه بالرقم (٢) في العصور القديمة؟

٣. بين أثر التضاريس على النشاط الاقتصادي الذي مارسه السكان قديما بالموقع المشار إليه بالرقم (١).

*الواجب المنزلي:-

١. فسر:- (أسباب اختلاف توزيع الموارد والنشاط الاقتصادي بين أقاليم عمان).

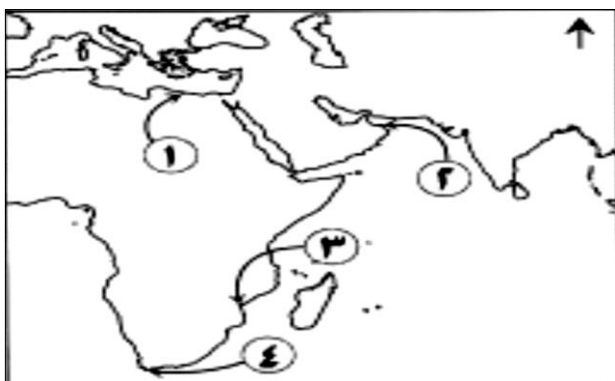
٢. حدد الفترة الزمنية التي تؤرخ بداية ازدهار النشاط التجاري العماني القديم؟

السؤال التحضيري:-

١. الرقم الصحيح الذي يشير إلى آخر محطة للسفن القادمة من الغرب والمبحرة مباشرة إلى الهند عبر

المحيط الهندي في العصور الإسلامية في الخريطة أمامك:-

- أ. ١ ب. ٢ ج. ٣ د. ٤



*عناصر الدرس:-

١.

٢.

٣.

*الأنشطة المصاحبة للدرس:-

"تميز النشاط الاقتصادي العماني بالتنوع، حيث أنتج ذلك سلعا كثيرة، لعبت دورا بارزا في التجارة العمانية قديما وحديثا" في ضوء العبارة السابقة أجب:

١.وضح كيف يؤثر الموقع الجغرافي على النشاط الاقتصادي للدولة ؟

٢. صنف السلع الآتية إلى صادرات وواردات عمان في تجارتها مع شرقي أفريقيا في العصور الإسلامية(العقاقير/ التمور/ العاج/ الشعير/ الجلود/ اللبان).

صادرات	واردات
-	-
-	-
-	-



٣_أمامك خريطة الامتداد العماني، أدرسيها جيدا ثم اجيبي عن الأسئلة التي تليها:-

١.في أي جهة تقع عمان بالنسبة لشرقي أفريقيا؟

٢.علل: توجه النشاط التجاري العماني إلى شرقي أفريقيا؟

.....

٣. دلل على توجه العمانيين إلى ساحل شرقي أفريقيا منذ فترة مبكرة؟

.....

.....

.....

*الواجب المنزلي:-

اختار الإجابة الصحيحة من بين البدائل المعطاة:-

١."إن العمانيين من عرب الأزد هم الملاحون الذين يملكون السفن التي تبحر إل بحر بربرة وبحر الزنج" تنسب

العبارة السابقة إلى:

د. الحميري

ج. المسعودي

ب. الاصطخري

ا.المقدسي

*السؤال التحضيري:-

أكتب المصطلح/ المفهوم المناسب للتعريفات الآتية في الجدول أمامك:

المفهوم/ المصطلح	التعريف
.....	غلي خام النحاس في بوتقة حتى ينفصل النحاس عن الخام الأصلي ليرتفع في الأعلى تاركا في أسفل البوتقة الشوائب والمعادن الثقيلة.

*عناصر الدرس:-

١.

٢.

٣.

*الأنشطة المصاحبة للدرس:-

*استعين بالخريطة الآتية ثم أجب عن الأسئلة التي تليها:

١. وقع على الخريطة (مركز صناعة السفن بمحافظة جنوب الشرقية).

٢. سم الوادي الذي انتشرت فيه مواقع إنتاج النحاس في المدينة المشار إليها بالرقم (١).....

*صف طريقة تطفيح النحاس عند العمانيين قديما؟

*سمّ الوقود الذي استخدمه العمانيون لصهر النحاس قديما؟

*أذكر اسم الحضارة القديمة التي قامت في العراق واستوردت النحاس من عمان؟

*أعط تفسيرا لما يلي (انتشار الصناعات والحرف المنزلية في عمان بالعصور الإسلامية؟

*عدد الأدوات والعدد التي استعملها العمانيون لطرق المعادن، وصناعة الحلي وأدوات الزينة والخزف؟

*الواجب المنزلي:-

١. عدد عمليات تعدين النحاس في عمان قديما؟

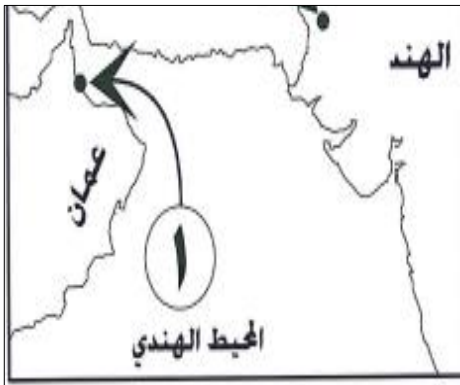
٢. سمّ الوادي الذي انتشرت فيه مواقع إنتاج النحاس في صحار قديما؟

*السؤال التحضيري:

أنظر إلى الخريطة امامك والتي تمثل الدور الحضاري العماني خلال العصور الإسلامية ثم أجب عن

السؤال التالي لها:-

١. لماذا تعدّ المدينة المشار إليها بالرقم (١) المركز الطبيعي للتطور الزراعي قديما في الإقليم التابعة له؟



* عناصر الدرس:-

١.

٢.

٣.

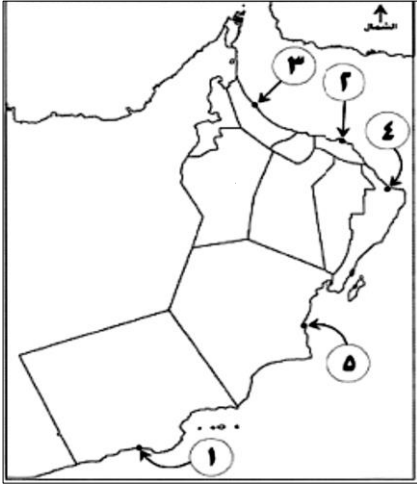
* الأنشطة المصاحبة للدرس:-

* أدرس خريطة عمان-الصماء- المقابلة ثم استخراج الأرقام التي تشير إلى:

أ. المركز المهيمن لاستغلال العطريات والاتجار بها في العصور الإسلامية. () .

ب. المركز الطبيعي للتطور الزراعي في إقليم الباطنة في العصور الإسلامية. () .

٣. علل:- يعود الشغف للعطريات من لبنان ومر في عمان إلى أقدم العصور؟



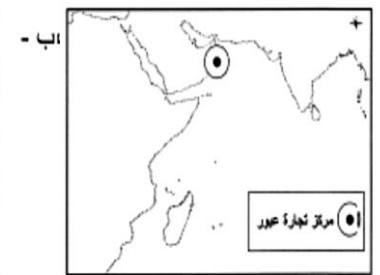
٣.فسر: شكلت الزراعة موردا اقتصاديا مهما في عمان خلال العصور الإسلامية والحديثة؟

٤. عدد الأنشطة الاقتصادية التي ارتبطت بالزراعة في المناطق الداخلية البعيدة عن السواحل؟

* الواجب المنزلي:-

* اختار الاجابة الصحيحة من بين البدائل المعطاة:-

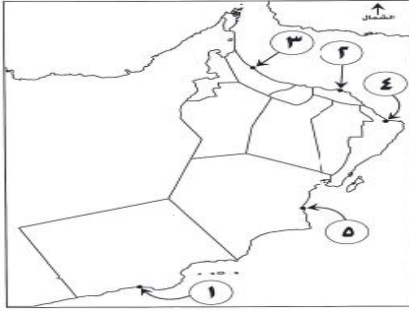
١.الخريطة التي تمثل الموقع المثالي لتجارة العبور بين أفريقيا والهند:



٢. أذكر اثنين من الاستعمالات غير التجارية للبنان العماني عند اليونان والرومان؟

* السؤال التحضيري:-

١.عرف المقصود بالكثائب؟



١. أدرس خريطة سلطنة عمان صماء ثم استخرج الأرقام التي تشير إلى:-

- أ. المركز المهيمن لاستغلال العطريات والاتجار بها في العصور الإسلامية.
- ب. المركز الطبيعي للتطور الزراعي في إقليم الباطنة في العصور الإسلامية.

٢. يعدّ النحاس واللبن من العناصر الحضارية المهمة في تاريخ عمان، حيث ساعد ذلك على ازدهار تجارتها وتواصلها مع الحضارات المجاورة. في ضوء العبارة:-

١. أكر اسم الحضارة القديمة التي قامت في العراق واستوردت النحاس من عمان؟؟
٢. حدد الفترة الزمنية التي تؤرخ بداية ازدهار النشاط التجاري العماني القديم؟
٣. علل: يعود الشغف بالعطريات من لبنان ومر في عمان إلى أقدم العصور؟

٣. أنظر الجدول الذي أمامك ثم قم بتكملته حسب ما درست سابقا في موضوع "النشاط الاقتصادي لعمان" :-

اسم النشاط	أمثلة	المدن العمانية التي اشتهرت به
التجارة في الموارد الزراعية	١- ٢-	المدن الساحلية العمانية
العطريات والبخور	- اللبان - المر	٣- ٤-

٤. فسر العبارة التالية:- اختلاف توزيع الموارد الاقتصادية في إقليم عمان.



٦. من خلال دراستك لموضوع النشاط الاقتصادي لعمان في العصور القديمة والإسلامية والحديثة، استعن بالخريطة الآتية ثم أجب عن الأسئلة التي تليها:-

١. ما السلعة الرئيسية التي صدرها العمانيون من الميناء المشار إليه بالرقم (١) في العصور القديمة.

ب. بين أثر التضاريس على النشاط الاقتصادي الذي مارسه السكان قديما بالموقع المشار إليه بالرقم (٢).