

## الدفتر المساند لمادة هذا وطني



### تم تحميل هذا الملف من موقع المناهج العمانية

موقع فايلاتي ← المناهج العمانية ← الصف الحادي عشر ← هذا وطني ← الفصل الثاني ← اختبارات ← الملف

تاريخ إضافة الملف على موقع المناهج: 11:21:04 2025-05-10

ملفات اكتب للمعلم اكتب للطالب | اختبارات الكترونية | اختبارات | حلول | عروض بوربوينت | أوراق عمل  
منهج انجليزي | ملخصات وتقارير | مذكرات وبنوك | الامتحان النهائي | للمدرس

المزيد من مادة  
هذا وطني:

### التواصل الاجتماعي بحسب الصف الحادي عشر



صفحة المناهج  
العمانية على  
فيسبوك

الرياضيات

اللغة الانجليزية

اللغة العربية

التربية الاسلامية

المواد على تلغرام

### المزيد من الملفات بحسب الصف الحادي عشر والمادة هذا وطني في الفصل الثاني

ملخص شامل للمادة

1

اختبار قصير ثاني نموذج ثاني

2

اختبار قصير ثاني نموذج أول

3

ملخص الوحدة السادسة الدولة العصرية

4

ملخص الوحدة الخامسة الهوية الثقافية

5

سلطنة عُمان  
وزارة التربية والتعليم

الدفتر المساند لمادة:

هذا وطني للصف الحادي عشر

تجميع وتنسيق: معلمات مدرسة هند بنت أسيد الأنصارية

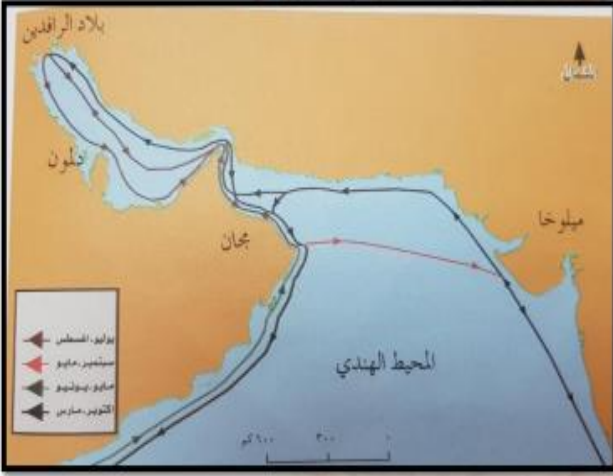
اسم الطالبة:

الصف: الحادي عشر ( )

العام الدراسي: 2023/2022م

عندما تتغير الحياة لتصبح أصعب  
غير نفسك لتكون أقوى

## درس : نشأة الاقتصاد العماني وتطوره



1- ادرسي خريطة الطرق التجارية بين الحضارات القديمة ثم اجيبي عن الاسئلة التي تليها :

أ- استخرجي الحضارات التي تاجر معها العمانيون منذ القدم ؟ .....

ب- حددي الاشهر للرحلة التجارية من مجان وميلوفا ؟ .....

ج- سم المسطحات المائية التي تمر بها السفن التجارية من مجان الى بلاد الرافدين ؟ .....

2- ادرسي الصورة التي امامك ثم اجيبي عن الاتي :

أ-سمي النشاط الاقتصادي في الصورة امامك؟ .....

ب-ما الانشطة الاقتصادية المرتبطة بالنشاط في الصورة .....

ج- برهني على أهمية النشاط الزراعي بالنسبة للاقتصاد العماني؟ .....



3- ادرسي الصورة التي امامك ثم اجيبي عن الاتي :

أ- سم الصناعة التي امامك ؟ .....

ب- ما المدينة التي اشتهرت بها ؟ .....

ت- استنتج اسم السفينة في الصورة ؟ .....

4- دلي على أهمية الفترة من عام (1970-1975م) للاقتصاد العماني ؟ .....





5- اكتب المرتكزات التي ارتكزت عليها سياسات سلطنة عمان الاقتصادية :



6- عددي المقومات التي تمتلكها السلطنة وساهمت في استقطاب الاستثمارات المحلية والاجنبية ؟

.....

7- اكمل الجدول الاتي بما يناسبه:

المشروع	الهدف
انشاء عدد من المناطق الصناعية والحره	
وضع البرنامج الوطني لتعزيز التنوع الاقتصادي	

## درس: الاقتصاد العماني...مقوماته وقطاعاته



2. صنف مكونات القطاعات الرئيسية للاقتصاد العماني بين القوسين " الصناعة / الغاز الطبيعي / النفط الخام / الزراعة والأسماك / الأنشطة الخدمية ( في الحوض المخصص :



3- ادرسي الصورة التي امامك ثم اجيبي عن الاتي :

أ-سمي القطاع الذي تشير اليه الصورة ؟ .....


ب-وضحي دور السلطنة في هذا القطاع ؟

.....  
 .....

4- اكتب ابرز التحديات التي تواجه استثمار النفط في سوقه العالمي وابرز الحلول التي وضعتها السلطنة :

التحدي	الحل

5- ادرسي الشكل الاتي ثم اجيبي عن ما يلي :



1- فسري تذبذب اسعار النفط في السلطنة ؟

.....

ت- احسبي الفرق بين اسعار النفط في عام 2013 و 2016م؟  
6- برهني على أهمية القطاع غير النفطي في السلطنة ؟

.....

7- دللي على دور السلطنة في دعم القطاع غير النفطي ؟

.....

8- عرفني المقصود بالتنوع الاقتصادي ؟

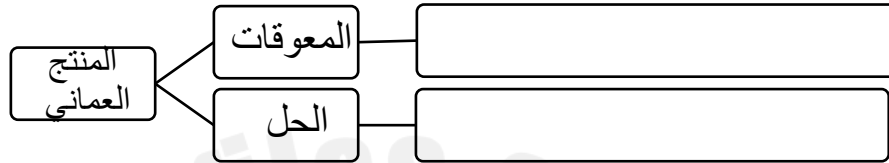
.....

9- صممي خريطة ذهنية للقطاعات الرئيسية للاقتصاد العماني ؟

## درس: الاقتصاد العماني... التنافسية وآفاق المستقبل

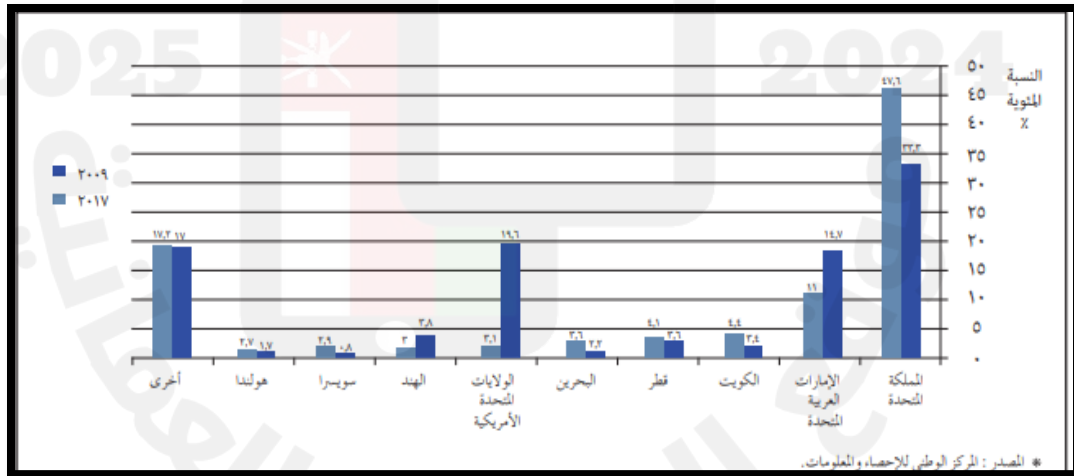


1- اكمل المخطط الآتي :



2- ادرسي

المخطط الذي امامك والذي يوضح حجم الاستثمارات الاجنبية في السلطنة لعامي 2009-2017 م .



1- استخرجي من الشكل السابق اكثر الدول استثمرا في السلطنة لعام 2009م.....  
لعام 2017م.....

2- كم يبلغ استثمار الهند في السلطنة؟.....

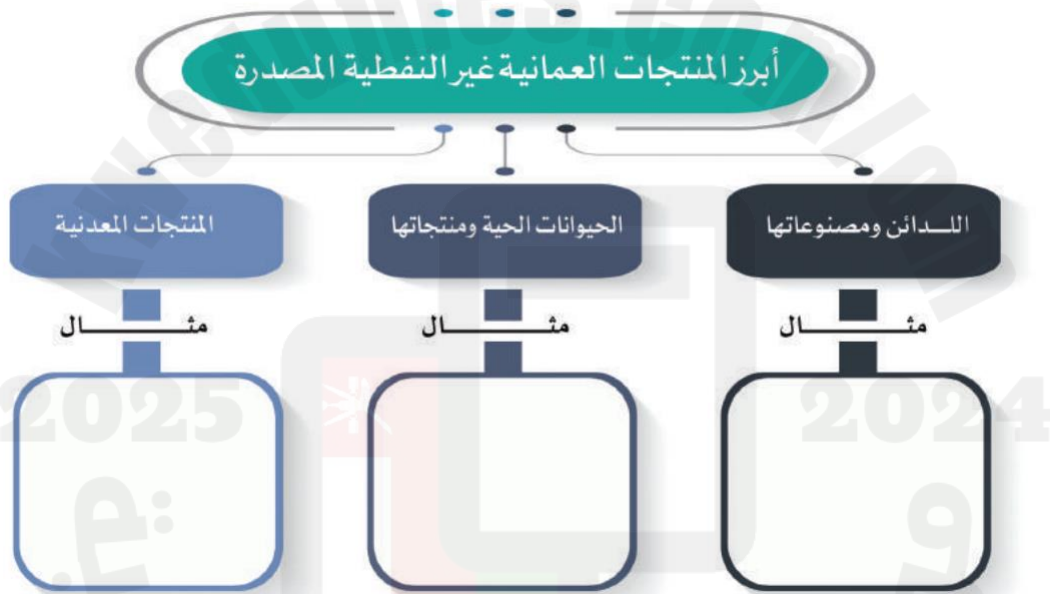
3- ما هي الدولة العربية الأكثر استثمرا في السلطنة لعام 2017م؟

- أكتب ما تعرفه عن الهيئة العامة لترويج الاستثمار وتنمية الصادرات (إثراء)

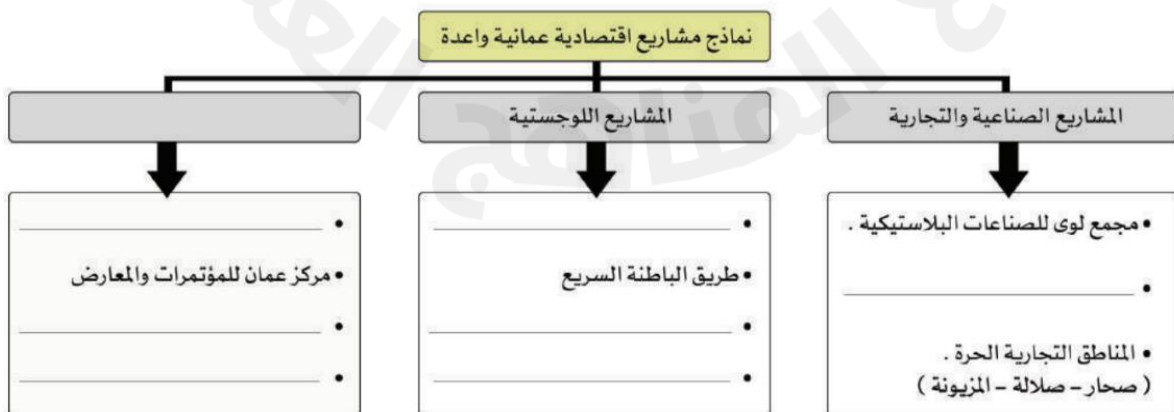
• وفسر: انتهاج سلطنة عمان سياسة التنويع الاقتصادي .

• ما الإجراء الذي عملت عليها الحكومة لتنفيذ سياسة التنويع الاقتصادي .

عدد أبرز الصادرات العمانية غير النفطية .



• أكمل الشكل الآتي الذي يمثل نماذج للمشاريع الاقتصادية العمانية الواعدة .





• الشكل الذي أمامك يوضح محاور الرؤية المستقبلية (عُمان 2040) :



• وضح المقصود بالآتي :

– الرؤية المستقبلية :

– الحوكمة :

• بين أهمية الرؤية المستقبلية (عُمان 2040) .

صنف المنتجات العمانية التالية الى أنواعها الرئيسية بكتابه النوع أسفل الصورة:



## درس: السلطان قابوس بن سعيد....مؤسس الدولة العصرية


أدرسي الصور التالية ثم اكمل الجدول أدناه:



3



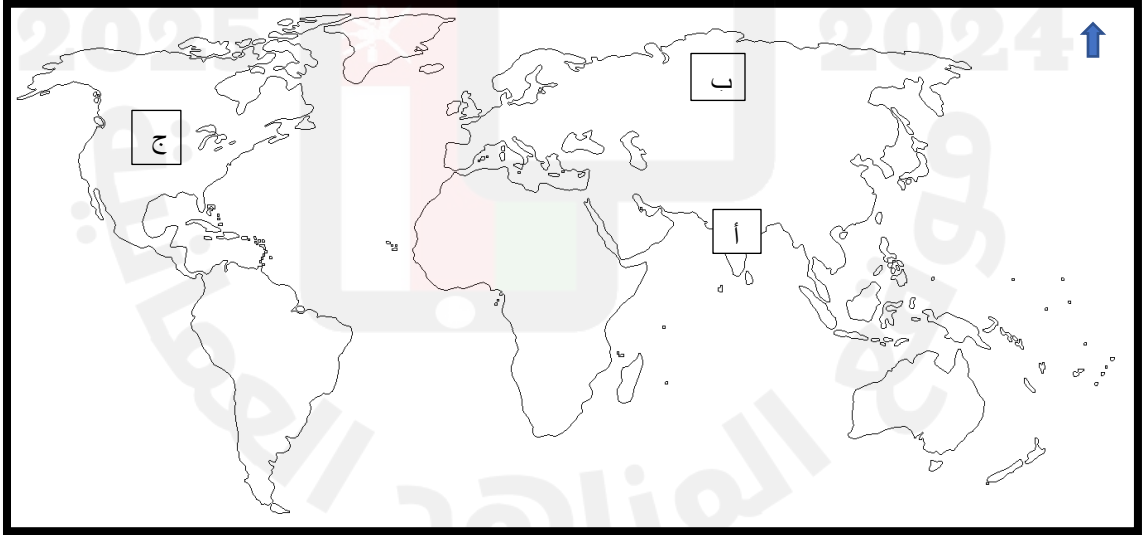
2



1

رقم الصورة	هواية السلطان قابوس الراحل
1	
2	
3	

أدرسي الخريطة ثم اجبني عما يلي:



1. أي من الرموز التالية تمثل الدولة التي منحت السلطان قابوس-رحمه الله- جائزة السلام ؟

• تتبع مراحل تعليم السلطان قابوس منذ أن أرسله والده إلى بريطانيا من خلال الشكل الآتي :



- دلل على الآتي :

- اهتمام السلطان قابوس بن سعيد بعلم الفلك .

- حرص السلطان قابوس على تعلم القرآن الكريم .

- عددي الخطوات الأساسية لبناء عمان العصرية؟.....

.....

.....

وضح جهود صاحب الجلالة السلطان قابوس - طيب الله ثراه - لتحقيق منهج السلام والتسامح وبناء حياة كريمة للمواطن العماني على المستوى المحلي.



## درس :التشريعات والقوانين العمانية

1-اعتمدت عليه أجهزة الدولة المختلفة في أسس ونطاق عملها :

أ)القضاء العماني      ب) النظام الأساسي للدولة      ج) قانون الجزاء العماني      د) المرسوم السلطاني

2- العام الميلادي الذي صدر فيه النظام الأساسي للدولة لأول مرة :

أ)1993      ب)1994      ج)1995      د)1996

3- عدد المواد القانونية التي وردت في النظام الأساسي للدولة :

أ)96      ب)97      ج)98      د)99

أ-عرفي المفاهيم التالية .

1) النظام الأساسي للدولة :

.....

.....

2) القانون

.....

.....

ب- دلي على ما يلي

1)أهمية النظام الأساسي للدولة

.....

.....

.....

2)أهمية قانون المرور.

.....

.....

.....

اكمل خريطة المفاهيم التالية والتي تمثل أبواب النظام الأساسي للدولة .

أبواب النظام الأساسي للدولة

(4

(3

(2)المبادئ الموجهة  
لسياسة الدولة

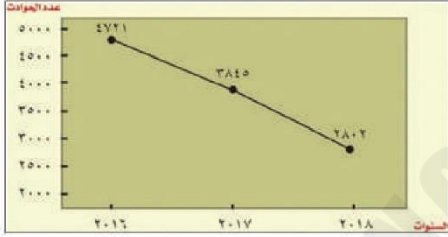
(1)الدولة ونظام  
الحكم

2

(7)أحكام عامة

(6

(5)مجلس عمان



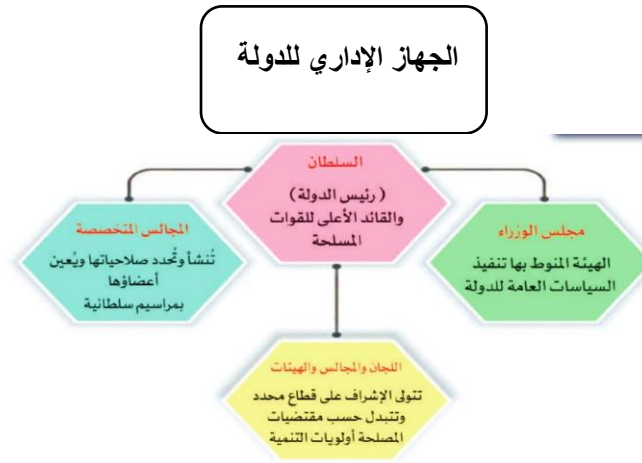
(حللي الشكل المقابل أمامك :

أ-سجلي ملاحظتك على الشكل .

ب-بم تفسري " إنخفاض أعداد الحوادث في سلطنة عمان في الفترة (2017-2018) "



## درس الجهاز الإداري للدولة ومؤسساتها



• أكمل بيانات الجدول الآتي الخاصة بمجلس عُمان:

الاختصاصات	الإنشاء	المجالس التي يتكون منها
		مجلس عُمان

• قارن بين مجلس الشورى ومجلس الدولة في الجدول الآتي :

المجالس	سنة الإنشاء	طريقة الانتخاب أو التعيين	أبرز اللجان
الشورى			
الدولة	2025	2025	2025

الواجب المنزلي :

• وضح الهدف من إنشاء المجالس الآتية :

- مجلس الشورى :
- مجلس الدولة :
- المجالس البلدية :

• قارن بين القضاء العادي والقضاء الإداري في الجدول الآتي :

القضاء	المفهوم
العادي	
الإداري	

• أكمل الشكل الآتي الخاص ببعض الهيئات القضائية في السلطنة واختصاصاتها :



• قارن بين قارن بين المحاكم الآتية في الجدول الآتي :

المحاكم	الإبتدائية	الاستئناف	العليا
الاختصاصات			

• "أختلف محمد وسعيد حول قطعة أرض فراغ محصورة بين منزلَيْهما" رتب المحاكم الترتيب الصحيح المتبع عند عرض هذا هذا النوع من القضايا :

1 \_\_\_\_\_ 2 \_\_\_\_\_ 3 \_\_\_\_\_

الواجب المنزلي :

• عدد اختصاصات الادعاء العام .

• حدد الهيئة القضائية المختصة بالنظر في القضايا الآتية :

القضية	الهيئة القضائية
مطالبة امرأة مطلقة بحق أولادها في النفقة الشهرية من زوجها السابق .	
اعراض موظف على قرار نقله لقسم آخر صدر من مسؤوله في العمل .	