

تم تحميل هذا الملف من موقع المناهج العُمانية



*للحصول على أوراق عمل لجميع الصفوف وجميع المواد اضغط هنا

<https://almanahj.com/om>

* للحصول على أوراق عمل لجميع مواد الصف العاشر اضغط هنا

<https://almanahj.com/om/10>

* للحصول على جميع أوراق الصف العاشر في مادة اجتماعيات ولجميع الفصول, اضغط هنا

<https://almanahj.com/om/10social>

* للحصول على أوراق عمل لجميع مواد الصف العاشر في مادة اجتماعيات الخاصة بـ الفصل الثاني اضغط هنا

<https://almanahj.com/om/10social2>

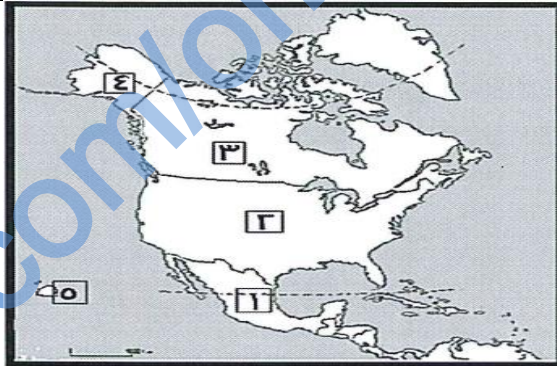
* لتحميل كتب جميع المواد في جميع الفصول للـ الصف العاشر اضغط هنا

<https://almanahj.com/om/grade10>

للتحدث إلى بوت على تلغرام: اضغط هنا

https://t.me/omcourse_bot


أسئلة للصف العاشر مادة الدراسات الاجتماعية الجزء الثاني الوحدة : السادسة
الفصل الدراسي الثاني الأسئلة الموضوعية

ملاحظات	الوحدة - الدرس - الصفحة	نموذج الإجابة	نص السؤال	نوع السؤال	م
	67 - 1 - 6	ج (4 ، 5	 <p>- الرقمان اللذان يشيران إلى الولايتين الأمريكيتين اللتين تقعان خارج حدود الولايات المتحدة الأمريكية "</p>	مهاري / تطبيق	1
	66 - 1 - 6	ب (1776م	<p>أ (1 ، 3 ب (1 ، 5 ج (4 ، 5 د (3 ، 4</p> <p>استقلت الولايات المتحدة الأمريكية عن إنجلترا في الرابع من يوليو عام :</p>	تذكر	2
	75 - 1 - 6	أ (ديترويت	<p>المدينة الأمريكية التي تعد عاصمة صناعة السيارات في العالم :</p> <p>أ (ديترويت ب (شيكاغو ج (سان فرانسيسكو د (كارولينا الجنوبية</p>	تذكر	3

اعداد فريق بنك الأسئلة - شعبة الدراسات الاجتماعية - قسم العلوم الانسانية - دائرة تنمية الموارد البشرية - المديرية العامة للتربية والتعليم بمحافظة ظفار - سلطنة عُمان - العام الدراسي 2015/2016

4	تذكر	- اكتشاف الملاح كريستوفر كولومبوس القارة الأمريكية عام 1492 م وأطلق عليها اسم	جزر الهند الغربية	66 - 1 - 6
5	تذكر	- كانت الولايات المتحدة الأمريكية في الأصل مستعمرة	إنجليزية	66 - 1 - 6
6	تذكر	- أول رئيس للولايات المتحدة الأمريكية هو	جورج واشنطن	66 - 1 - 6
7	تذكر	- يقسم سطح الأرض في الولايات المتحدة الأمريكية إلى ثلاثة أقسام رئيسية وهي :	- المرتفعات الشرقية - السهول الوسطى - المرتفعات الغربية .	67 - 1 - 6
8	تذكر	- تضم الولايات المتحدة الأمريكية (50) ولاية ومقاطعة واحدة هي كولومبيا ، ولايتان منها تقعان خارج حدود أراضيها وهي ولاية و ولاية	1 - ألاسكا ، إلى الشمال الغربي من كندا وتم شراؤها من روسيا عام 1867 م 2 - جزر هاواي في المحيط الهادي التي أصبحت ولاية عام 1959 م .	67 - 1 - 6
9	تذكر	تكونت الامبراطورية في اليابان قبل القرن الميلادي . (أ) الخامس (ب) السادس (ج) السابع (د) الثامن	ج) السابع	78 - 2 - 6
10	تذكر	خسرت اليابان في الحرب العالمية الثانية امام دولة . (أ) روسيا (ب) أمريكا (ج) الصين (د) ألمانيا	ب) أمريكا	78-2 - 6

اعداد فريق بنك الأسئلة - شعبة الدراسات الاجتماعية - قسم العلوم الانسانية - دائرة تنمية الموارد البشرية - المديرية العامة للتربية والتعليم بمحافظة ظفار - سلطنة عُمان - العام الدراسي 2015/2016

	78-2-6	(أ) هيروشيما	يقع متحف السلام الذي ظل جزء كبير منه صامدا بعد القنبلة النووية في مدينة : أ) هيروشيما (ب) هونشو (ج) ناجازاكي (د) كيوشو	تذكر	11
	79-2-6	6852(د)	تتكون اليابان من اربحيل من الجزر يصل عددها الي حوالي : أ) 6552 (ب) 6652 (ج) 6752 (د) 6852	تذكر	12
	79-2-6	(ب) الهادي	تمتد حلقة النار التي تعرف بالزلازل والبراكين في المحيط : أ) الهندي (ب) الهادي (ج) الاطلسي (د) المتجمد الشمالي	تذكر	13
	79-2-6	(ب) 2011م	تعرضت اليابان لزلازل قوي بلغت قوته (9) على مقياس رختر عام : أ) 2010م (ب) 2011م (ج) 2014م (د) 2015م	تذكر	14
	80-2-6	(د) شيخوخة	يتميز المجتمع الياباني بأنه من أكثر المجتمعات في العالم : أ) مواليد (ب) وفيات (ج) شباب (د) شيخوخة	تذكر	15
	79-2-6	(ب) الشمال الغربي	 تقع اليابان بالنسبة للمحيط الهادي من خلال الخريطة في الجزء : أ) الشمال الشرقي (ب) الشمال (ج) الجنوب (د) الشرقي	تذكر	16

اعداد فريق بنك الأسئلة - شعبة الدراسات الاجتماعية - قسم العلوم الانسانية - دائرة تنمية الموارد البشرية - المديرية العامة للتربية والتعليم بمحافظة ظفار - سلطنة عُمان - العام الدراسي 2015/2016

		الغربي		الغربي					
80-2-6	(د) 23%	بلغت نسبة المسنين في اليابان عام 2010 ما يقدر بنسبة:						تذكر	17
		(د) 23%	(ج) 17%	(ب) 10%	(أ) 7%				
86-1-6	(د) تنويع مصادر الطاقة	مصدر الطاقة		1993	2000م			تطبيق / استخدام النماذج	18
		النفط		77%	52%				
		الطاقة النووية		1.5%	12%				
		الغاز الطبيعي		2%	13%				
		الفحم الحجري		15%	18%				
		الطاقة الكهرومائية		4%	3%				
من خلال الجدول السابق حاولت اليابان التقليل من الاعتماد على استيراد النفط من خلال .									
		(أ) تنويع الصناعات	(ب) تطوير الصناعات	(ج) تقليل استهلاك الطاقة	(د) تنويع مصادر الطاقة				

	85-1-6	1995 (ج)	<table border="1"> <caption>عدد السيارات المنتجة (مليون)</caption> <thead> <tr> <th>السنة</th> <th>عدد السيارات المنتجة (مليون)</th> </tr> </thead> <tbody> <tr> <td>1970</td> <td>31,799</td> </tr> <tr> <td>1980</td> <td>70,388</td> </tr> <tr> <td>1990</td> <td>99,488</td> </tr> <tr> <td>2000</td> <td>83,059</td> </tr> <tr> <td>2003</td> <td>84,778</td> </tr> </tbody> </table>	السنة	عدد السيارات المنتجة (مليون)	1970	31,799	1980	70,388	1990	99,488	2000	83,059	2003	84,778	قدرات / تحليل	19
السنة	عدد السيارات المنتجة (مليون)																
1970	31,799																
1980	70,388																
1990	99,488																
2000	83,059																
2003	84,778																
من خلال الجدول ، السنة التي بلغت ذروتها في انتاج السيارات اليابانية :																	
			<table border="1"> <thead> <tr> <th>1975 (أ)</th> <th>1985 (ب)</th> <th>1995 (ج)</th> <th>2000 (د)</th> </tr> </thead> <tbody> <tr> <td>المحصول الذي يحتل المرتبة الأولى في الانتاج الزراعي لليابان:</td> <td>القمح (ب)</td> <td>البطاطا (ج)</td> <td>الحبوب (د)</td> </tr> </tbody> </table>	1975 (أ)	1985 (ب)	1995 (ج)	2000 (د)	المحصول الذي يحتل المرتبة الأولى في الانتاج الزراعي لليابان:	القمح (ب)	البطاطا (ج)	الحبوب (د)	تذكر	20				
1975 (أ)	1985 (ب)	1995 (ج)	2000 (د)														
المحصول الذي يحتل المرتبة الأولى في الانتاج الزراعي لليابان:	القمح (ب)	البطاطا (ج)	الحبوب (د)														
83-2-6	(أ) الأرز		الدولة التي تنافس اليابان في صناعة السفن هي :	تذكر	21												
86-2-6	(أ) كوريا الجنوبية		تشكل الجبال في اليابان من اجمالي أشكال سطح الأرض ما نسبته :	تذكر	22												
86-2-6	(د) 75%		<table border="1"> <thead> <tr> <th>1975 (أ)</th> <th>1985 (ب)</th> <th>1995 (ج)</th> <th>2000 (د)</th> </tr> </thead> <tbody> <tr> <td>25%</td> <td>40%</td> <td>50%</td> <td>75%</td> </tr> </tbody> </table>	1975 (أ)	1985 (ب)	1995 (ج)	2000 (د)	25%	40%	50%	75%						
1975 (أ)	1985 (ب)	1995 (ج)	2000 (د)														
25%	40%	50%	75%														

	87-2-6	أ) الصين	تعد من أكثر دول العالم استيرادا من اليابان دولة :				تذكر	23
			أ) الصين	ب) الهند	ج) الولايات المتحدة الأمريكية	د) كوريا الجنوبية		
	87-2-6	ب) هوندا	تنافس اليابان دول العالم في صناعة السيارات ومن الماركات التجارية لها:				تذكر	24
			أ) لاندروفر	ب) هوندا	ج) هونداي	د) جيمس		
	84-2-6	ج) السرطان	يكثر اليابانيون من اكل الطحالب البحرية للتقليل من مخاطر الإصابة ب:				تذكر	25
			أ) الربو	ب) السكري	ج) السرطان	د) القولون		
	86-2-6	ب) 1986	انتجت شركة سوني اليابانية أول روبوت لها عام:				تذكر	26
			أ) 1984	ب) 1986	ج) 1990	د) 2002		
	85-2-6	أ - المعوقين	الصورة التالية توضح إحدى استخدامات الروبوت لمساعدة :				تذكر	27
								
			أ - الجرحى	ب - مرضي القلب	ج - المعوقين	د - لأعمال المنزل		

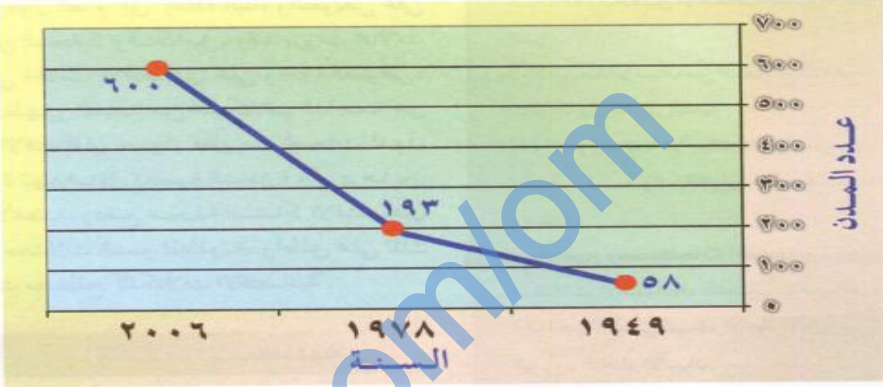
اعداد فريق بنك الأسئلة - شعبة الدراسات الاجتماعية - قسم العلوم الانسانية - دائرة تنمية الموارد البشرية - المديرية العامة للتربية والتعليم بمحافظة ظفار - سلطنة عُمان - العام الدراسي 2015/2016

88-3-6	ج5	بدأ تاريخ الصين المكتوب منذ حوالي ألف سنة :				تذكر	28
		أ- 3	ب- 4	ج- 5	د- 6		
88-3-6	ج- 1949	قامت جمهورية الصين الشعبية في العام الميلادي :				تذكر	29
		أ- 1940	ب- 1945	ج- 1949	د- 1950		
88-3-6	أ- الشرق	تقع جمهورية الصين بالنسبة لقارة آسيا في جهة :				تذكر	30
		أ- الشرق	ب- الغرب	ج- الجنوب	د- الشمال الشرقي		
88-3-6	د- الرابع	تحتل الصين من حيث المساحة على مستوى العالم المركز:				تذكر	31
		أ- الاول	ب- الثاني	ج- الثالث	د- الرابع		
89-3-6	ب- 32	تنقسم الصين إداريا الي مقاطعات ومحافظة يبلغ عددها:				تذكر	32
		أ- 30	ب- 32	ج- 33	د- 34		
389-6	د- البريطاني	كانت هونغ كونج حتى عام 1997 تحت الاحتلال:				تذكر	33
		أ- الفرنسي	ب- البرتغالي	ج- الأمريكي	د- البريطاني		
90-3-6	ب- 22%	تعد الصين من أكثر دول العالم في السكان حيث يمثل سكانها ما نسبته من سكان العالم:				تذكر	34
		أ- 20%	ب- 22%	ج- 23%	د- 25%		
88-3-6	ج16	تحيط بالصين من جهة البر والبحر العديد من الدول عددها:				تذكر	35
		أ- 12	ب- 14	ج- 16	د- 17		

اعداد فريق بنك الأسئلة - شعبة الدراسات الاجتماعية - قسم العلوم الانسانية - دائرة تنمية الموارد البشرية - المديرية العامة للتربية والتعليم بمحافظة ظفار - سلطنة عُمان - العام الدراسي 2015/2016

88-3-6	ب - ب - % 9.2	استطاعت الصين أن تحقق معدلات نمو عالية في الاقتصاد حيث بلغ في عام 2011 م :	تذكر	36
		أ - 8.2 % ب - 9.2 % ج - 10.2 % د - 11.2 %		
91-3-6	د - الصينية	ترجع اختراع البوصلة والبارود وصناعة الورق للحضارة :	تذكر	37
		أ - الهندية ب - البريطانية ج - اليابانية د - الصينية		
92-3-6	أ) 60%	تبلغ نسبة العاملين في القطاع الزراعي في الصين نسبه:	تذكر	38
		أ - 60% ب - 70% ج - 72% ج - 75%		
93-3-6	أ) الأرز	المحصول الذي يتم زراعته بكثرة في الحوض الأسفل لنهر اليانجستي:	تذكر	39
		أ - الأرز ب - الفول ج - الحبوب د - الشاي		
93-3-6	د) 1994	يعد سد الاودية الثلاثة في الصين اشهر مشروع للطاقة الكهربائية في الصين حيث بدأ انشاؤه عام:	تذكر	40
		أ - 1990 ب - 1992 ج - 1993 د - 1994		
94-3-6	ج - الفحم	يعتبر من أهم مصادر الطاقة الصينية حيث اعتمدت عليه بنسبة 68% عام 2010:	تذكر	41
		أ - النفط ب - الغاز الطبيعي ج - الفحم د - الماء		
95-3-6	ج) السيارات	احتلت الصين المرتبة الأولى عام 2011 في صناعة :	تذكر	42
		أ - الحرير ب - الأجهزة ج - السيارات د - الطائرات		

	97-3-6	ج - الزراعي	لا يعتمد الاقتصاد الصيني على قطاع الخدمات مثل اليابان ويعود ذلك إلى قوة القطاع:				تذكر	43
			أ- المصرفي	ب- الصناعي	ج - الزراعي	د- التجاري		
	96-3-6	د) الحرير	نستنتج من الصورة في الأسفل إحدى أهم الصناعات الصينية وهي صناعة:				تحليل	44
								
			أ- الورق	ب- القطن	ج - الصوف	د- الحرير		

97-3-6	600(د)	<p>من خلال الشكل التالي استخرج عدد المدن الصينية عام 2006 :</p>  <table border="1" data-bbox="869 762 1749 807"> <tr> <td>أ - 58</td> <td>ب - 193</td> <td>ج - 300</td> <td>د - 600</td> </tr> </table>	أ - 58	ب - 193	ج - 300	د - 600	تحليل	45
أ - 58	ب - 193	ج - 300	د - 600					
99-4-6	ب - النافتا	<p>- يعرف الاتحاد الذي يجمع بين الولايات المتحدة وكندا والمكسيك ب : أ - الآسيان ب - النافتا ج - الاتحاد الأفريقي د - الاتحاد الأوربي</p>	تذكر	46				
99-4-6	ج - 10	<p>- يبلغ عدد الدول في كتل رابطة الآسيان : أ - 3 ب - 7 ج - 10 د - 28</p>	تذكر	47				
99-4-6	ج - الاقتصادي	<p>- نبعت فكرة الاتحاد الأوربي بالدرجة الاولى من الفكر : أ - السياسي ب - العسكري ج - الاقتصادي د - الاجتماعي</p>	تذكر	48				
99-4-6	أ - الاتحاد الأفريقي	<p>- معظم الدول الأفريقية تتبع التكتل الاقتصادي التالي : أ - الاتحاد الأفريقي ب - النافتا ج - الآسيان د - رابطة الدول المطلة على المحيط الهادي</p>	تذكر	49				

اعداد فريق بنك الأسئلة - شعبة الدراسات الاجتماعية - قسم العلوم الانسانية - دائرة تنمية الموارد البشرية - المديرية العامة للتربية والتعليم بمحافظة ظفار - سلطنة عُمان - العام الدراسي 2015/2016

50	تذكر	- اطول انهار قارة اوربا أ - السين ب - الراين ج - الرون د - الفولجا	د - الفولجا	99-4-6
51	تذكر	- عدد دول مجلس التعاون الخليجي أ - 6 ب - 7 ج - 8 د - 10	أ - 6	99-4-6
52	تذكر	- وقعت إتفاقية ماسترخت بين الدول الأعضاء للاتحاد الأوروبي في عام : أ - 1957 ب - 1992 ج - 1995 د - 1999	ب - 1992	100-4-6
53	تذكر	- يشير الوضع الدائري للنجوم في علم الاتحاد الأوربي الى : أ - الكمال ب - الوحدة ج - الغرب د - التغيير	ب - الوحدة	100-4-6
54	تذكر	- من الدول التي لا تسعى للانضمام الى الاتحاد الاوربي : أ - تركيا ب - ايسلندا ج - الفاتيكان د - بريطانيا	ج - الفاتيكان	101-4-6
55	تذكر	- التوسع الأضخم في تاريخ الاتحاد الأوربي حدث عام : أ - 2002 ب - 2003 ج - 2004 د - 2005	ج - 2004	102-4-6
56	تذكر	- وضعت دول الاتحاد الأوربي برامج فضائية مثل ... أ - القطار السريع T.GV ب - صاروخ Arian ج - طائرات Airbus د - اليورو EURO	ب - صاروخ Arian	103-4-6
57	فهم	- العامل الذي لعب دور كبير في تحقيق التكامل بين دول الاتحاد الأوربي : أ - المواصلات ب - الدين .	د - الموقع الجغرافي	103-4-6

اعداد فريق بنك الأسئلة - شعبة الدراسات الاجتماعية - قسم العلوم الانسانية - دائرة تنمية الموارد البشرية - المديرية العامة للتربية والتعليم بحافظة ظفار - سلطنة عُمان - العام الدراسي 2015/2016

			ج - التكنولوجيا	د - الموقع الجغرافي		
58	تذكر	- اليورو عملة أوروبية موحدة حلت محل الوحدة النقدية المعروفة ب : أ - الدولار ب - الاسترليني ج - الايكو د - الفرنك	ج - الايكو	103-4-6		
59	تذكر	- اصبح اليورو العملة الموحدة لدول الاتحاد الأوروبي عام : أ - 1995 م ب - 1996 م ج - 1997 م د - 1998 م	أ - 1995	103-4-6		
60	تذكر	- اليورو العملة الموحدة للاتحاد الأوربي ما عدا دولة : أ - بريطانيا ب - فرنسا ج - هولندا د - لكسمبورج	أ - بريطانيا	103-4-6		
61	تذكر	- يقع جنوب قارة أوربا ضمن مناخ : أ - التندرا ب - البحر المتوسط ج - الاقليم الموسمي د - الاقليم البارد	ب - البحر المتوسط	103-4-6		
62	تذكر	- اطول انهار قارة اسيا : أ - الغانج ب - الهوانج هو ج - اليانجستي د - السند	ج - اليانجستي	105-4-6		
63	تذكر	- تكتل اقتصادي نشأ عام 1976 يضم عشر دول : أ - الاتحاد الأفريقي ب - رابطة الآسيان ج - الناftا د - مجلس التعاون الخليجي	رابطة الآسيان	105-4-6		
64	تذكر	- استفادت الآسيان من النجاح الاقتصادي الذي حققته دول المنطقة مثل : أ - ماليزيا واليابان ب - اندونيسيا والصين والفلبين ج - الهند والصين وفيتنام د - اليابان والصين والهند	د - اليابان والصين والهند	106-4-6		

اعداد فريق بنك الأسئلة - شعبة الدراسات الاجتماعية - قسم العلوم الانسانية - دائرة تنمية الموارد البشرية - المديرية العامة للتربية والتعليم بمحافظة ظفار - سلطنة عُمان - العام الدراسي 2015/2016

	106-4-6	ج - الازمة الآسيوية	انتكست رابطة الآسيان عام 1997 بسبب : أ - تسونامي ب - المنافسة التجارية ج - الازمة الآسيوية د - النمو الاقتصادي	تذكر	65
	108-4-6	تركيا	تأسست مجموعة الدول الثماني النامية عام 1997 في : أ - مصر ب - ماليزيا ج - نيجيريا د - تركيا	تذكر	66

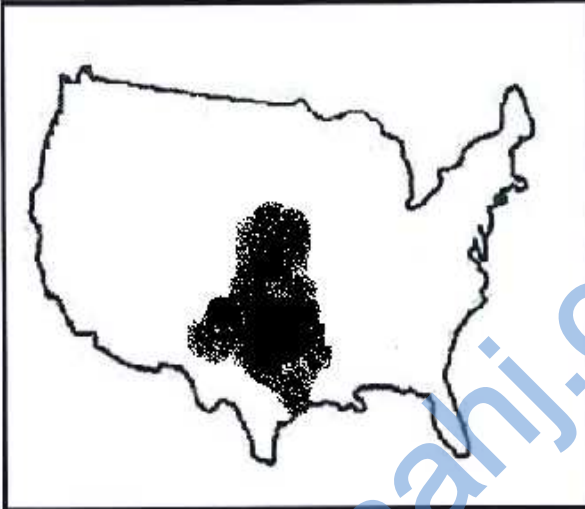

أسئلة للصف العاشر مادة الدراسات الاجتماعية الجزء الثاني الوحدة : السادسة
الفصل الدراسي الثاني الأسئلة المقالية

م	نوع السؤال	نص السؤال	نموذج الإجابة	الوحدة - الدرس - الصفحة	ملاحظات
1	تذكر	عرف المفاهيم التالية : 1. الناتج الإجمالي القومي . 2. الناتج الإجمالي المحلي . 3. القيمة المضافة . 4. رؤوس الأموال .	1- القيمة الإجمالية لكل السلع والخدمات المنتجة في البلد خلال السنة ، بما فيها صافي الدخل المتولد خارج الدولة من الاستثمارات وغيرها . 2 - قيمة السلع والخدمات في الاقتصاد القومي في فترة زمنية معينة أو فترة مالية معينة و التي تنتجها الدولة داخل اقليمها وحدودها بأيادي وطنية أو أجنبية ولكنها داخل حدود الدولة . 3 - هي مجموع الأجور و الأرباح والإيجارات والفوائد التي تدفعها مؤسسة معينة لإنجاز عمل ما ، وتساوي ثمن المبيعات ناقص ثمن المواد التي استعملت في الإنتاج . 4- قيمة المال المتوافر لاستثماره في مشروع أو عمل ما .	6 - 1 - 66 إلى 77	

<p>5 - تعرض العالم الصناعي لأزمة اقتصادية كبرى عام 1929م أدت إلى كساد الإنتاج وتراجع أسعار العملات وزيادة العرض على الطلب ، وإفلاس البنوك وفي الولايات المتحدة الأمريكية وحدها تعطل ما يقارب 30 مليون عامل عن العمل .</p> <p>6 - هي تزايد حجم الديون والعجز عن تسديدها في المدة الزمنية المتفق عليها .</p> <p>7 - الصراع السياسي بين الولايات المتحدة الأمريكية و الاتحاد السوفيتي (سابقا) بعد الحرب العالمية الثانية و الحرب الباردة كناية عن صراع بين الأفكار السياسية و المصالح الاقتصادية بين الفريقين ، وسميت بالباردة لأنه لم يستعمل فيها أي سلاح حربي ، وقد انتهت بانتهاء الاتحاد السوفيتي في مطلع تسعينات القرن العشرين .</p> <p>8 - آلة تم تصنيعها لمساعدة الانسان في القيام بالعديد من الأمور بحيث تقوم بأداء الوظائف بشكل مبرمج إلكترونيا .</p> <p>9 - هي المنطقة الجنوبية من منطقة خليج سان فرانسيسكو في كاليفورنيا ويوجد فيها عدد كبير من</p>	<p>5. الكساد الكبير .</p> <p>6 . المديونية .</p> <p>7 . الحرب الباردة .</p> <p>8 . الروبوت .</p> <p>9 . سيليكون فالي (Silicon Valley) أو وادي السيليكون .</p>	
--	---	--

		<p>مطوري ومنتجي مجال التكنولوجيا المتقدمة وترجع التسمية بسبب وجود أكبر مصنعي الشرائح المصنوعة من السيليكون الإلكترونية .</p>																					
	<p>69 - 1 - 6</p>	<p>1 - الهنود الحمر . 2 - الجنسيات الأوروبية . 3 - منطقة البحر الكاريبي و المكسيك و أمريكا الوسطى ، بسبب القرب الجغرافي وسهولة الوصول إلى الولايات المتحدة و المستوى المعيشي المنخفض في هذه البلدان . 4 - أستراليا .</p>	<p>تحليل</p> <table border="1"> <thead> <tr> <th>منطقة</th> <th>النسبة المئوية (%)</th> </tr> </thead> <tbody> <tr> <td>آسيا</td> <td>32.2</td> </tr> <tr> <td>أوروبا</td> <td>31.2</td> </tr> <tr> <td>أفريقيا</td> <td>22.2</td> </tr> <tr> <td>منطقة البحر الكاريبي، المكسيك، ووسط قارة أمريكا</td> <td>14.1</td> </tr> <tr> <td>قارة أمريكا الجنوبية</td> <td>6.8</td> </tr> <tr> <td>بقية دول العالم</td> <td>2.1</td> </tr> <tr> <td>كندا</td> <td>0.7</td> </tr> <tr> <td>أستراليا</td> <td>0.7</td> </tr> </tbody> </table> <p>2 - ادرس الشكل المقابل الذي يمثل المناطق التي وفد منها المهاجرون إلى الولايات المتحدة ، ثم أجب عن الأسئلة الآتية :</p> <p>1 - من هم السكان الأصليين لأمريكا ؟</p> <p>2 - أذكر أول الجنسيات هجرة إلى الولايات المتحدة الأمريكية ؟</p> <p>3- ما أكثر الجنسيات هجرة إلى الولايات المتحدة الأمريكية ؟ ولماذا ؟</p>	منطقة	النسبة المئوية (%)	آسيا	32.2	أوروبا	31.2	أفريقيا	22.2	منطقة البحر الكاريبي، المكسيك، ووسط قارة أمريكا	14.1	قارة أمريكا الجنوبية	6.8	بقية دول العالم	2.1	كندا	0.7	أستراليا	0.7	<p>2</p>	
منطقة	النسبة المئوية (%)																						
آسيا	32.2																						
أوروبا	31.2																						
أفريقيا	22.2																						
منطقة البحر الكاريبي، المكسيك، ووسط قارة أمريكا	14.1																						
قارة أمريكا الجنوبية	6.8																						
بقية دول العالم	2.1																						
كندا	0.7																						
أستراليا	0.7																						

			<p>4 - أذكر أقل الجنسيات هجرة إلى الولايات المتحدة في الشكل السابق ؟</p>		
	<p>6 - 1 - 1 71 إلى 76</p>	<p>1 - المناخ وتقلباته المفاجئة مثل العواصف والأعاصير والجليد والعواصف الترابية ، ضعف السوق ، التلوث ، يتطلب رأس مال كبير .</p> <p>2 - قطاع الخدمات .</p> <p>3 - يمد القطاعين (س) و (ع) بطرق الإنتاج الحديثة .</p> <p>4 - النقل ، التجارة (الداخلية والخارجية) ، الصحة ، التعليم ، الإدارة ، السياحة ، الترفيه ، البنوك .</p>	 <p>الشكل المقابل يمثل نسبة مساهمة القطاعات المختلفة في الناتج الإجمالي القومي الأمريكي . درسه ثم أجب عن الأسئلة الآتية :</p> <p>1 - عدد المشكلات التي تواجه القطاع المشار إليه بالرمز (س) ؟</p> <p>2 - ما اسم القطاع المشار إليه بالرمز (ع) ؟</p> <p>3 - كيف ساهم القطاع المشار إليه بالرمز (ص) في تطوير القطاعين (س) و (ع) ؟</p> <p>4 - اكتب أنواع الأنشطة في القطاع المشار إليه بالرمز (ع) ؟</p>	<p>1 ، 2 ، 4 تذكر 3 فهم</p>	<p>3</p>

	<p>- 1 - 6 71 إلى 74</p>	<p>/ 1</p>  <p>2 / 4 (كندا) . 3 / جبال روكي . 4 / خليج المكسيك .</p>	 <p>- من خلال خريطة الولايات المتحدة الأمريكية أجب عن على الأسئلة الآتية : 1- ظلل على الخريطة المنطقة التي تتمركز فيها الأعاصير في الولايات المتحدة . 2- الرقم الذي يشير إلى كندا . 3 - ما اسم الجبال المشار إليها بالرقم (5) .</p>	<p>/ مهاري تطبيق</p>	<p>4</p>
--	------------------------------	--	--	--------------------------	----------

		5 / البترول والغاز الطبيعي .	4- ما اسم الخليج المشار إليه بالرقم (2) . 5- سم الموارد المعدنية التي تتركز في المنطقة المظللة في الخريطة		
	6 - 1 - 66 إلى 77	1 - نسبة إلى الملاح البرتغالي أمريكو فسبوتشي الذي عرف بأن هذه الأرض المكتشفة ليست جزءاً من الهند بل أرض جديدة . 2 - بسبب تعدد الثقافة و الأجناس التي هاجرت إليها . 3 - نظراً لامتداد المساحي الكبير للولايات المتحدة الأمريكية 4- لتجنب الصرانب العالية في بلادهم . 5 - لأنه أصبح من أبرز القطاعات المحركة للاقتصاد و يمثل العمليات الرئيسية اللازمة لسيير القطاعات الأخرى	بم تفسر : 1- تسمية قارة أمريكا بهذا الاسم . 2- تتميز الولايات المتحدة الأمريكية بالتنوع العرقي والثقافي . 3 - تنوع أشكال السطح و المناخ في الولايات المتحدة الأمريكية . 4- قيام بعض رجال الأعمال الأمريكيين ببناء مصانع إنتاج النسيج في المكسيك . 5 - الاتجاه العالمي لقطاع الخدمات .	فهم	5
	6 - 1 - 67	الفرق بين خطوط الطول : 115 - 77 = 38 خط طول . علما أن الفرق بين خط طول وآخر أربع دقائق (15 خط يعادل ساعة واحدة) .	إذا كانت الساعة في مدينة واشنطن التي تقع على الساحل الشرقي للولايات المتحدة الأمريكية والواقعة	تطبيق حل مسائل	6

		<p>$38 \times 4 = 152$ دقيقة . / $152 \div 60$ (ساعة) $= 2,53$ ساعة الفرق بين المدينتين . لتحويل 0.53 ساعة إلى دقيقة (60×0.53 دقيقة) $= 31.8$ دقيقة = تقريبا 2:32 . (و لتحويل الثواني $60 \times 0.8 = 48$ ثانية .) إذن الفرق الزمني = 2:32 - بما أن لوس أنجلس تقع إلى الغرب من مدينة . - الساعة في لوس أنجلس : الساعة واثتان و ثلاثون دقيقة صباحا . (7:32 ص) .</p>	<p>على خط طول (77) غربا (العاشرة) صباحا ، فما الساعة حينئذ في مدينة لوس أنجلس التي تقع على الساحل الغربي و الواقعة على خط طول (115) غربا ؟</p>	<p>حسابية</p>	
	<p>6 - 1 - 70 إلى 71</p>	<p>1 / الموارد الطبيعية التي تتميز بها أراضي الولايات المتحدة الأمريكية ، الغنية بالمعادن والتربة الخصبة ومصادر الطاقة . 2 / الأيدي العاملة وقد ساعدت وفود المهاجرين من شتى أنحاء العالم على تأمين اليد الضرورية لدعم الاقتصاد في مراحل توسعه المستمرة . 3 / كفاءة قوة العمل ومدى استعدادها للعمل وقد ساعد التشديد على التعليم في أمريكا بما فيه التعليم التقني والتعليم المهني على نجاح الاقتصاد . 4 / الاستثمارات والمشاريع الكبرى (الداخلية والخارجية) التي تلبي المستهلك .</p>	<p>- أذكر العوامل التي أدت إلى التميز في النمو المتسارع للاقتصاد الأمريكي ؟</p>	<p>تذكر</p>	<p>7</p>

اعداد فريق بنك الأسئلة - شعبة الدراسات الاجتماعية - قسم العلوم الانسانية - دائرة تنمية الموارد البشرية - المديرية العامة للتربية والتعليم بحافظة ظفار - سلطنة عُمان - العام الدراسي 2015/2016

		5 / القيادات الإدارية التي تضمن سير العمل بسلاسة وفعالية .		
	72 - 1 - 6	<p>1. المناخ وتقلباته المفاجئة مثل العواصف والأعاصير والجليد والعواصف الترابية وارتفاع درجات الحرارة و الجفاف .</p> <p>2. ضعف السوق ، وهو ما يؤدي إلى تكدس السلع والبضائع</p> <p>3. التلوث وما يترتب عليه من مشاكل على المياه والتربة .</p> <p>4. رأس المال ، حيث تتطلب الزراعة الأمريكية رؤوس أموال كبيرة ، يلجأ المزارع إلى الاستدانة من البنوك المخصصة لذلك ، فيكون معرضاً للخسارة وزيادة المديونية وهذا يجعل بعضهم يترك العمل في المزارع .</p>	- عدد أهم المشكلات التي تتعرض لها الزراعة في الولايات المتحدة الأمريكية ؟	تذكر
	75 - 1 - 6 ، 76	<p>1 - التعدين 2 - النسيج 3 - صناعة السيارات</p> <p>4 - صناعة الطائرات 5 - مركبات الفضاء 6 -</p> <p>صناعة الأسلحة 7 - الإلكترونيات 8 - معدات البناء 9 - الأثاث 10 - الحديد والصلب 11 -</p>	- ما أهم الصناعات في الولايات المتحدة الأمريكية ؟	تذكر

		المواد الطبية 12 - الكمبيوترات .		
10	تذكر	وقعت سلطنة عمان اتفاقية التجارة الحرة مع الولايات المتحدة في 2006/1/19 م ، ما أبرز ما تضمنته هذه الاتفاقية ؟	77 - 1 - 6	- إعفاء المنتجات الاستهلاكية والصناعية وغالبية المنتجات الزراعية من الرسوم الجمركية بنسبة 100 % . - فتح الأسواق لكافة أنواع الخدمات و توفير إطار قانوني و آمن للمستثمرين . - تعزيز مجالات العمل والعمال و البيئة و الملكية الفكرية .
11	تذكر	ما هي العملة المستخدمة في اليابان؟	78 - 2 - 6	الين الياباني
12	فهم	دل على قدم التاريخ الياباني؟	78 - 2 - 6	- نشأت على ارضها حضارات متعددة – يعود تكوين الامبراطورية فيها الي قبل القرن السابع الميلادي .
13	فهم	اعط دليلا على عظمة الامبراطورية اليابانية في عهد الإمبراطور (هينو)؟	78 - 2 - 6	- شاركت اليابان في عهده في الثورة الصناعية
14	فهم	ما الذي أدى الي تدهور اليابان في منتصف القرن العشرين ؟	78 - 2 - 6	- بسبب دخول اليابان في الحرب العالمية الثانية وخسارتها امام الولايات المتحدة بعد إلقاء قنبلتين نوويتين على مدينتي هيروشيما وناجازكي ادي الي سقوط اليابان .
15	تذكر	ما القيم التي اعتمدت عليها اليابان في ازدهارها؟	78-2-6	- احترام حقوق الانسان- نبذ الحروب

	79-2-6	<p>- هي أرخبيل من الجزر تقع في الجزء الشمالي الغربي من المحيط الهادي ، وتمتد على هيئة قوس قبالة الساحل الشرقي للقارة الآسيوية يصل طول الأرخبيل إلي حوالي (3000) كم مكونا من 6852 جزيرة أهمها هوكايدو وهونشو ، شيكوكو وكيوشو.</p>	<p>وضح الموقع الجغرافي لليابان؟</p>	فهم	16
	79-2-6 ، 86	<p>- 1- اليابان عبارة عن أرخبيل من الجزر تمتد على هيئة قوس قبالة الساحل الشرق للقارة الآسيوية يصل طول الأرخبيل 3000 كم و يتكون من (6852 جزيرة) أهمها : - هوكايدو - هونشو - شيكوكو - كيوشو . ذات سطح جبلي يمثل 75 % من مساحة اليابان واشرطة ساحلية معقدة . 2- المسطحات المائية : - المحيط الهادي - بحر اليابان</p>	 <p>لاحظ الخريطة التي أمامك و أجب عما يلي :</p> <p>1- استنتج من الخريطة طبيعة السطح في اليابان ؟ 2- أستخرج المسطحات المائية المحيطة باليابان.</p>	تطبيق / استخدام النماذج	17

اعداد فريق بنك الأسئلة - شعبة الدراسات الاجتماعية - قسم العلوم الانسانية - دائرة تنمية الموارد البشرية - المديرية العامة للتربية والتعليم بمحافظة ظفار - سلطنة عُمان - العام الدراسي 2015/2016

18	فهم	علل: تقع اليابان ضمن أكثر مناطق الأرض تعرضا للزلازل والبراكين؟	- بسبب وقوعها على منطقة الضعف من الأرض ما يعرف بحلقة النار في المحيط الهادي .	79-2-6
19	تذكر	ما الذي ترتب على وقوع زلزال بقوة 9 درجات على مقياس رختر عام 2011 في اليابان؟	- نتج عنه موجات تسونامي بلغت 40مترا- موت 16الف شخص – اصابة أكثر من 6الأف- حدوث تسربات اشعاعية في محطة فوكوشيما النووية .	2- 6 - 79

6-2-
79،81 ،
86

- 1- الايجابيات اختلاف المناخ وبروز جمال الطبيعة مما ساعد على وجود حس مرهف لدي اليابانيين ساعدهم على الابداع والتطوير.
- السلبيات : وقوعها في نطاق ما يعرف بحلقة النار مما يعرضها لأخطار الزلازل والبراكين و موجات تسونامي .
- 2- المحيط الهادي - بحر اليابان استفادت اليابان من وقوعها على المحيط الهادي و بحر اليابان من استغلال هذا الموقع في إقامة العديد من المرافئ التي شكلت نقطة الانطلاقة للاقتصاد و العلاقات الدولية و تمتلك اليابان ما يزيد علة 1000 مرفأ أهمها طوكيو ، أوزاكا ، ناجويا ، كيتاشو .
- 3- بسبب صغر الاراضي السهلية خاصة حيث تتميز اليابان بأراضيها الجبلية (75 %) من مساحة اليابان وهو ما أدى الي ارتفاع اسعار الأراضي .



استعن بخريطة اليابان واجب ما يأتي ؟

- 1- ايجابيات وسلبيات موقع اليابان؟
- 2- المسطحات المائية التي تشرف عليها اليابان وأهمية وقوعها عليها؟
- 3- فسر: تتميز اليابان بارتفاع أسعار الاراضي السكنية

تقويم
تذكر
تحليل

اعداد فريق بنك الأسئلة - شعبة الدراسات الاجتماعية - قسم العلوم الانسانية - دائرة تنمية الموارد البشرية - المديرية العامة للتربية والتعليم بمحافظة ظفار - سلطنة عُمان - العام الدراسي 2015/2016

21	تذكر	ما المقصود بحلقة النار؟	79 - 2- 6 هي منطقة ضعف من القشرة الأرضية تمتد في المحيط الهادي ، وتعرض بشكل مستمر للزلازل والبراكين .
22	فهم	علل :يشكل المجتمع الياباني وحدة عرقية ولغوية تميزه عن باقي المجتمعات؟	80-2-6 يعود ذلك إلي الحروب التي تعرضت لها البلاد وما ترتب عليها من عوامل اجتماعية واقتصادية التي لم تشجع المهاجرين من الدول الأخرى السفر إليها .
23	فهم	بما تفسر يعد سكان اليابان من أكثر مجتمعات العالم شيخوخة ؟	80 - 2- 6 بسبب تزايد اعداد المسنين بشكل سريع بسبب انخفاض معدل الخصوبة بعد الحرب العالمية الثانية حيث بلغت نسبة المسنين عام 2010 (23 %) من اجمالي عدد السكان .
24	تذكر	عرف الهوية الوطنية ؟	- 2 - 6 80 هي اللغة و العادات والتقاليد الاجتماعية و الثقافية و الفنون لدولة معينة .
25	فهم	علل يعد الشعب الياباني من أكثر الشعوب حفاظا على الهوية الوطنية ؟	80 - 2-6 يحرص على ابراز هويته وعاداته وتقاليده أمام الاخرين تعبيراً عن اعتزازه وافتخاره بها.
26	معرفة	ما المقصود بكلمة كومي ؟	81 - 2- 6 هي تجمعات سكانية مهمة في حياة سكان المدن والقرى قديما وتتميز بالتعاون فيما بينها في زراعة الأرز والتحضير للمناسبات.

اعداد فريق بنك الأسئلة - شعبة الدراسات الاجتماعية - قسم العلوم الانسانية - دائرة تنمية الموارد البشرية - المديرية العامة للتربية والتعليم بمحافظة ظفار - سلطنة عُمان - العام الدراسي 2015/2016

	<p>6-2- 81 - 82 ،</p>	<p>1- الموقع الجغرافي على الساحل الاسيوي 2- القوي البشرية الهائلة المتميزة بالمهارة والالتقان والالتزام بالعمل. 3- السياسات الاقتصادية التي ساعدت علي النمو السريع ونجاح الاقتصاد بالتعاون مع الحكومة. 4- السوق الدولي ومدى استقراره وإمكانية التوسع التجاري والاستثمار الداخلي والخارجي المرتفع.</p>	<p>ما هي العوامل التي يركز عليها الاقتصاد الياباني ؟</p>	<p>تذكر</p>	<p>27</p>
	<p>6-2- 82 - 66،</p>	<p>1- الشكل يوضح خريطة كل من اليابان والولايات المتحدة وما يصاحبهما من الناتج المحلي وعدد السكان . 2- مساحة الولايات المتحدة (9,826,675 كم²) و اليابان (377,835 كم²) ما يعني أن مساحة اليابان لا تتجاوز 4 % من مساحة الولايات المتحدة الأمريكية . 3- الناتج المحلي الامريكي (10,979 بليون يورو) أما اليابان (4,240 بليون يورو) ما يعني أن اليابان أقل من نصف الناتج المحلي للولايات المتحدة الأمريكية .</p>	<p>أدرس الشكل ثم اجب عن الأسئلة التي تليه .</p>  <p>الشكل (١٦) : الولايات المتحدة الأمريكية واليابان (السكان والناتج المحلي)</p>	<p>تحليل</p>	<p>28</p>

- 1- اكتب وصفا للشكل .
- 2- قارن بين مساحة الولايات المتحدة واليابان.
- 3- قارن بين الناتج المحلي للدولتين والفرق بينهما.

	83-2-6	<p>زراعة السفوح الجبلية - بناء المدرجات - استخدام الأساليب و الوسائل التكنولوجية الحديثة في الزراعة ، وقد بدأ هذا الاهتمام كوجه عالمي فيما يعرف بالثورة الخضراء .</p>	<p>كيف تغلبت اليابان على نقص الاراضي الزراعية ؟</p>	فهم	29																																			
	83-2-6	<p>الارز والذرة والحبوب والخضار والفاكهة .</p>	<p>عدد أبرز المحاصيل الزراعية في اليابان ؟</p>	تذكر	30																																			
	- 2 - 6 84	<p>1- لأسباب طبيعية (المناخ المناسب لزراعة الأرز) و أسباب بشرية (زراعة السفوح الجبلية وبناء المدرجات و استخدام الأساليب و الوسائل التكنولوجية الحديثة في الزراعة) . 2- بسبب قلة الانتاج المحلي للحبوب لأسباب طبيعية مثل المناخ . 3 - الخضروات (13,266 ألف طن)</p>	<p>- أدرس الجدول التالي و أجب عما يلي :</p> <table border="1" data-bbox="1218 635 1865 963"> <thead> <tr> <th>معدل الاكتفاء الذاتي</th> <th>الاستهلاك المحلي بالألف طن</th> <th>الاستيراد بالألف طن</th> <th>الإنتاج المحلي بالألف طن</th> <th>المحاصيل الزراعية</th> </tr> </thead> <tbody> <tr> <td>٩٥,٩</td> <td>٩,٤٥٩</td> <td>٨٨٢</td> <td>٩,٠٧٠</td> <td>الأرز</td> </tr> <tr> <td>١٣,٤</td> <td>٦,٢٠٣</td> <td>٤,٩٧٣</td> <td>٨٢٩</td> <td>القمح</td> </tr> <tr> <td>٨٤,٢</td> <td>٤,٨٦٦</td> <td>٧٦٨</td> <td>٤,٠٩٩</td> <td>البطاطا</td> </tr> <tr> <td>٦,٨</td> <td>٥,٧٧٠</td> <td>٥,٣٨٧</td> <td>٣٩٥</td> <td>الحبوب</td> </tr> <tr> <td>٨٣,٤</td> <td>١٥,٩١٦</td> <td>٢,٦٥٥</td> <td>١٣,٢٦٦</td> <td>الخضروات</td> </tr> <tr> <td>٤٤,٣</td> <td>٨,٧٧٠</td> <td>٤,٨٦٢</td> <td>٣,٨٨٣</td> <td>الفواكه</td> </tr> </tbody> </table> <p>1 - بما تفسر : ارتفاع معدل الاكتفاء الذاتي من محصول الأرز في اليابان . 2 - بم تفسر : ارتفاع استيراد الحبوب في اليابان . 3 - ما المحصول الأكثر انتاجا حسب الجدول .</p>	معدل الاكتفاء الذاتي	الاستهلاك المحلي بالألف طن	الاستيراد بالألف طن	الإنتاج المحلي بالألف طن	المحاصيل الزراعية	٩٥,٩	٩,٤٥٩	٨٨٢	٩,٠٧٠	الأرز	١٣,٤	٦,٢٠٣	٤,٩٧٣	٨٢٩	القمح	٨٤,٢	٤,٨٦٦	٧٦٨	٤,٠٩٩	البطاطا	٦,٨	٥,٧٧٠	٥,٣٨٧	٣٩٥	الحبوب	٨٣,٤	١٥,٩١٦	٢,٦٥٥	١٣,٢٦٦	الخضروات	٤٤,٣	٨,٧٧٠	٤,٨٦٢	٣,٨٨٣	الفواكه	فهم تحليل تحليل	31
معدل الاكتفاء الذاتي	الاستهلاك المحلي بالألف طن	الاستيراد بالألف طن	الإنتاج المحلي بالألف طن	المحاصيل الزراعية																																				
٩٥,٩	٩,٤٥٩	٨٨٢	٩,٠٧٠	الأرز																																				
١٣,٤	٦,٢٠٣	٤,٩٧٣	٨٢٩	القمح																																				
٨٤,٢	٤,٨٦٦	٧٦٨	٤,٠٩٩	البطاطا																																				
٦,٨	٥,٧٧٠	٥,٣٨٧	٣٩٥	الحبوب																																				
٨٣,٤	١٥,٩١٦	٢,٦٥٥	١٣,٢٦٦	الخضروات																																				
٤٤,٣	٨,٧٧٠	٤,٨٦٢	٣,٨٨٣	الفواكه																																				

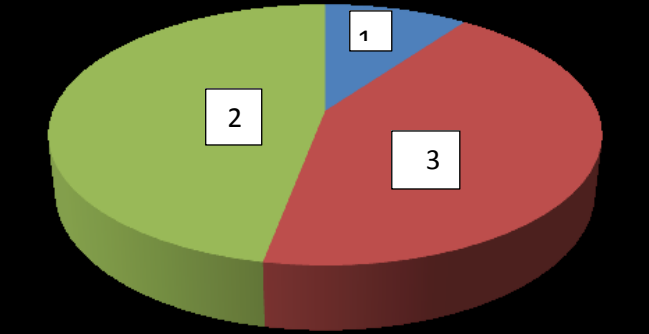
32	فهم	برأيك هل تحقق لليابان الاكتفاء الذاتي من الارز ؟ وضح ذلك ؟	لا لم يحقق لليابان الاكتفاء الذاتي من الارز ولكن اقتربت من الوصول للاكتفاء الذاتي لزيادة عدد السكان المستمر و ما يصاحبها من زيادة في معدل الاستهلاك .	84 -2 -6
33	تطبيق	يبلغ الانتاج المحلي للأسمك في اليابان (5،159) الف طن علما بان الاستهلاك المحلي للأسمك ومنتجاتها يصل حوالي (11،107) الف طن. اوجد معدل الاكتفاء الذاتي .	معدل الاكتفاء الذاتي = $\frac{\text{الانتاج المحلي}}{\text{الاستهلاك المحلي}} \times 100$ $100 \times \frac{5,195}{11,107} = 46.45\%$	84 -2 -6
34	فهم	بما تفسر : تطور الصناعات الحديثة في اليابان على الرغم من قلة المواد الخام .	بسبب الاعتماد علي الاستيراد و القوة البشرية المدربة	85 -2 -6
35	فهم	لماذا تقوم اليابان بصناعة الروبوت؟	للإفادة منها في المجالات الاقتصادية والاجتماعية	85 -2 -6
36	فهم فهم فهم	"واجهت اليابان العديد من المشكلات للنهوض باقتصاد قوي قائم على التصنيع الحديث : في ضوء العبارة السابقة وضح كيف تغلبت على المشاكل التالية : 1- طبيعة السطح الجبلية التي تشكل 75% من المساحة الكلية للبلاد؟ 2- النقص الشديد في معظم المواد الخام الاساسية 3- قلة مصادر الطاقة. 4- ضعف البنية الاساسية بعد الحرب العالمية الثانية .	1- من خلال زراعة السفوح الجبلية وبناء المدرجات واستخدام اساليب التكنولوجيا الحديثة . 2- اعتمدت على الاستيراد الخارجي . 3- الاعتماد على الاستيراد وخاصة النفط من الخارج . 4- اتباع اليابان التوجهات الحديثة (من التركيز على الزراعة إلى التركيز على الصناعة و قطاع الخدمات + زيادة الهجرة من الريف إلى المدينة و تغير التوجهات الفكرية و الثقافية لدى الشعب) من الجهد والعمل المتواصل من	-78 -2 -6 83

		<p>الحكومة والشعب معا بالإضافة إلى أسس وقوانين عدة منها احترام حقوق الانسان و نبذ الحروب .</p>			
	<p>87 -2 -6</p>	<p>اليابان على مستوى العالم :</p> <ol style="list-style-type: none"> ١- أول دولة غير غربية تتساوى مع الغرب في الحداثة والمعاصرة. ٢- الأولى عالميا في عدد براءات الاختراع المسجلة. ٣- الأولى عالميا من حيث عمر الفرد المتوقع. ٤- الثانية عالميا في مبيعات الكتب والموسيقى. ٥- الثالثة عالميا في الإنفاق على البحوث والتنمية كجزء من الناتج المحلي الإجمالي. ٦- موطن لثلاث من أكبر ٢٥ ماركة متعددة الجنسيات وأوسعها انتشارا على مستوى العالم (تويوتا، هوندا، سوني) (www.project_syndicate.com) 	<p>اذكر بعض المراكز التي حصلت عليها اليابان على مستوى العالم؟</p>	<p>تذكر</p>	<p>37</p>

38	فهم	دلل على تتنوع الظواهر التضارسية في الصين.	89-3-6 - وجود التلال والجبال والصحاري والهضاب مثل هضبة التبت مما ادي الي تنوع المناخ
39	تذكر	اين تقع جمهورية الصين؟	6 - 3 - 88 - في شرق قارة اسيا و تطل على الساحل الغربي للمحيط الهادي .
40	تذكر	ما الذي يميز الصين عن غيرها من الدول؟	88-3-6 - كثرة الدول المحيطة بها من جهة البر والبحر حيث تحيط بها 16 دولة
41	فهم	كيف تكونت هضبة التبت؟	89-3-6 - نتيجة ارتطام الصفيحة الهندية بالصفيحة الأوراسية وهو ما ادي الي ارتفاع الهضبة
42	تحليل تحليل	أدرس خريطة الصين الطبيعية التالية و أجب عما يلي : 	89-3-6، 90 - 1- أ - تنوع المناخ ما يؤدي إلى تنوع المحاصيل الزراعية و مناسبتها للحياة والسكن . - تنوع أشكال سطح الأرض " (تنوع الموارد الطبيعية من سواحل و سهول رسوبية و جبال و أنهار ... إلخ) . - بالإضافة إلى استيطان أكثر من 22 % من سكان العالم بها . - 2- هضبة التبت - سهل الصين - بحيرة بايكال - نهر هوانج . - جبال الهملايا ، كون لون ، جبال خنجان الكبرى .

اعداد فريق بنك الأسئلة - شعبة الدراسات الاجتماعية - قسم العلوم الانسانية - دائرة تنمية الموارد البشرية - المديرية العامة للتربية والتعليم بمحافظة ظفار - سلطنة عُمان - العام الدراسي 2015/2016

			1- ما اثر المساحة الكبيرة على النشاط الاقتصادي؟ 2- استخراج من الخريطة هضبة - جبل - سهل - بحيرة - نهر		
90-3-6	- بسبب زيادة عدد السكان والي بلغ 22% من سكان العالم ولحد من المشكلات الاجتماعية والاقتصادية والسياسية الناتجة عن تلك الزيادة الهائلة في عدد السكان .		لماذا طبقت الصين سياسة الطفل الواحد؟	فهم	43
91-3-6	- فتحت مناطق اقتصادية جديدة - منحت امتيازات مالية وادارية وزعت جغرافيا على جميع اراضي الصين بهدف تحقيق عدالة في التنمية و مساعدة المناطق النامية .		في سبعينات القرن العشرين بدأت الصين بتطبيق سياسة الاصلاح والانفتاح وضح لك.	فهم	44
91-3-6	الزراعة - الصناعة - الخدمات		عدد المجالات التي يتكون منها الاقتصاد الصيني؟	تذكر	45
91-3-6	- ارتفاع اسعار النفط العالمية - ارتفاع اعداد الباحثين عن عمل .		ما العقبات التي واجهها الاقتصاد الصيني	تذكر	46
92-3-6	- نتيجة التطور السريع للأنشطة غير الزراعية		لم يعد النشاط الزراعي الصيني بنفس اهميته السابقة؟	فهم	47
93-3-6	- بسبب زيادة مساحة الأراضي الصحراوية التي تشكل ثلث المساحة الاجمالية للبلاد - الجفاف الذي يسيطر على المناطق الشمالية من البلاد. - الإفراط في استغلال الأراضي الزراعية .		وضح اسباب تفاقم مشكلة التصحر في الصين ؟	تذكر	48


	93-3-6	<p>- إقامة العديد من المشاريع التي توقف استمرار التصحر حفاظا على البيئة الاحيائية والتنمية الاقتصادية والاجتماعية.</p>	كيف واجهت الحكومة الصينية مشكلة التصحر؟	تذكر	49
	93-3-6	<p>- تتميز هذه المنطقة بانبساطها وانخفاض اراضيها وتنتشر فيها البحيرات والانهار فتتوافر الموارد المائية اللازمة للزراعة .</p>	فسر . زراعة الأرز في الحوض الأسفل من حوض نهر اليانجتسي .	فهم	50
	96-3-6	<p>لأسباب عدة منها الشركات التنافسية الجديدة التي تظهر في الأسواق والتي تقدم تصاميم جديدة منافسة وبأسعار أقل الي جانب الشركات القديمة ، كما أنها تشجع المستهلكين باقتصادها للطاقة .</p>	فسر ارتفاع حجم المبيعات من الأجهزة الكهربائية المنزلية في الصين من 8% الي 14%؟	فهم	51
	91-3-6	<p>1- المجالات هي الزراعة 10% 2- الخدمات 34% 3- الصناعة 47%</p>	<p>اكتب علي الشكل عند الارقام نسب المساهمة في الاقتصاد الصيني وما يمثله كل جزء في الشكل .</p> 	تذكر	52

	<p>-88-3-6 89</p>	<p>1- بحر الصين الشرقي 2- الأرز 3- كوريا الجنوبية ، اليابان ، الفلبين</p>	 <p>من خلال الخريطة اجب عن الاسئلة التالية . 1-المسطح المائي الذي تطل عليه من جهة الشرق . 2 - ما المحصول الذي يزرع في المنطقة المشار إليها بالرقم 2 3 استخرج من الخريطة دولتين مجاورتين من جهة البحر .</p>	<p>تطبيق</p>	<p>53</p>
	<p>95-3-6</p>	<p>لتميز الصناعات الصينية بقدرتها على مواجهة الصناعات الأخرى ذات الجودة العالية من خلال انتاج صناعات مماثلة لها وبأسعار وكلفة أقل .</p>	<p>فسر سرعة انتشار الصناعات الصينية في الاسواق الداخلية والخارجية .</p>	<p>فهم</p>	<p>54</p>

اعداد فريق بنك الأسئلة - شعبة الدراسات الاجتماعية - قسم العلوم الانسانية - دائرة تنمية الموارد البشرية - المديرية العامة للتربية والتعليم بحافظة ظفار - سلطنة عُمان - العام الدراسي 2015/2016

55	فهم	عدد أبرز الصناعات في الصين ؟	96-3-6	الحديد والصلب والمنسوجات الصوفية والقطنية والحرير والمعدات الثقيلة والطائرات والمعدات الزراعية والالكترونية
56	تذكر	- ما المقصود ب التكتلات الاقتصادية .	98-4-6	تجمعات لدول متجاورة تهدف الى تنمية التجارة و تحريرها بين الدول الاعضاء ودفع عجلة النشاط الاقتصادي لتحقيق معدلات النمو المطلوبة
57	فهم	وضح أهمية التكتلات الاقتصادية بين الدول .	98-4-6	تحقيق التقارب و توثيق العلاقات بين الشعوب وارساء قواعد الاستقرار والسلام - زيادة التخصص الإقليمي في الانتاج سواء في المجال الزراعي أو الصناعي أو غيرهما ما ينعكس على زيادة حجم التجارة الخارجية و الداخلية من جهة و ازالة القيود و الحواجز الجمركية بين الدول الأعضاء من جهة أخرى ، ما يعزز القوة الاقتصادية لأعضاء التكتل على المستوى العالمي و قدرته على المساومة و التفاوض الدولي
58	تذكر	اذكر أمثلة للتكتلات الاقتصادية ؟	99-4-6	النافتا - الاتحاد الأوربي - الاتحاد الإفريقي - مجلس التعاون الخليجي .
59	تذكر	ما المقصود ب الآسيان ؟	99-4-6	رابطة دول جنوب شرق اسيا تضم عشر دول
60	تذكر	اذكر التكتلات المنظمة إليها سلطنة عمان ؟	99-4-6	رابطة الدول المطلة على المحيط الهندي مجلس التعاون الخليجي

اعداد فريق بنك الأسئلة - شعبة الدراسات الاجتماعية- قسم العلوم الانسانية- دائرة تنمية الموارد البشرية- المديرية العامة للتربية والتعليم بحافظة ظفار- سلطنة عُمان . العام الدراسي 2015/2016

	99-4-6	الاتحاد الأوروبي .	ما النتيجة المترتبة على :	فهم	61
	100-4-6	معاهدة روما: وقعت 5 مارس 1957 م من قبل ست دول وبمقتضاها شرعت هذه الدول في انشاء السوق الاوربية المشتركة معاهدة ماسترخت عام 1992 م :قيام الاتحاد الأوربي	- خسائر أوروبا من الحربين العالميتين الأولى و الثانية قارن بين معاهدة روما ومعاهدة ماسترخت	تطبيق	62
	100-4-6 102 101	1- الدول غير الاعضاء في الاتحاد الأوربي . 2- <u>سويسرا</u> : تأخير في اجراءات العبور و السفر لأنها ليست عضو في الاتحاد الأوربي . - <u>بريطانيا</u> : تغيير العملة لان بريطانيا لم تعتمد اليورو عملة لها .	1 - يشير اللون الاصفر الى 2 - ما الصعوبات التي يواجهها المسافر عند الدخول في كل من سويسرا ، بريطانيا . 	تطبيق تذكر	63


اعداد فريق بنك الأسئلة - شعبة الدراسات الاجتماعية - قسم العلوم الانسانية - دائرة تنمية الموارد البشرية - المديرية العامة للتربية والتعليم بمحافظة ظفار - سلطنة عُمان - العام الدراسي 2015/2016

	<p>99-4-6 ، 100 ، 101 ، 105</p>	<table border="1"> <tr> <td data-bbox="607 316 757 395">رابطة الآسيان</td> <td data-bbox="757 316 1039 395">الاتحاد الأوروبي</td> <td data-bbox="1039 316 1171 395">وجه المقارنة</td> </tr> <tr> <td data-bbox="607 395 757 475">10</td> <td data-bbox="757 395 1039 475">28</td> <td data-bbox="1039 395 1171 475">عدد الاعضاء</td> </tr> <tr> <td data-bbox="607 475 757 979">تكوين كتلة اقتصادية لتدعيم مسيرة التنمية و السلام والاستقرار الإقليمي</td> <td data-bbox="757 475 1039 979"> <p>1 - توحيد أوربا 2 - تحقيق الاستقرار و الرخاء لدول الأعضاء لتصبح أوروبا أكثر أمانا</p> <p>3 - ايجاد سوق موحد و توفير فرص عمل . 4 - تحفيز الدول الأوروبية الأخرى للقيام بالإصلاحات الاقتصادية والاجتماعية . 5 - جذب الاستثمارات الاجنبية</p> </td> <td data-bbox="1039 475 1171 979">الاهداف</td> </tr> </table>	رابطة الآسيان	الاتحاد الأوروبي	وجه المقارنة	10	28	عدد الاعضاء	تكوين كتلة اقتصادية لتدعيم مسيرة التنمية و السلام والاستقرار الإقليمي	<p>1 - توحيد أوربا 2 - تحقيق الاستقرار و الرخاء لدول الأعضاء لتصبح أوروبا أكثر أمانا</p> <p>3 - ايجاد سوق موحد و توفير فرص عمل . 4 - تحفيز الدول الأوروبية الأخرى للقيام بالإصلاحات الاقتصادية والاجتماعية . 5 - جذب الاستثمارات الاجنبية</p>	الاهداف	<p>قارن بين الاتحاد الأوروبي و رابطة الآسيان :</p> <table border="1"> <tr> <td data-bbox="1238 571 1447 651">رابطة الآسيان</td> <td data-bbox="1447 571 1648 651">الاتحاد الأوروبي</td> <td data-bbox="1648 571 1865 651">وجه المقارنة</td> </tr> <tr> <td data-bbox="1238 651 1447 730"></td> <td data-bbox="1447 651 1648 730"></td> <td data-bbox="1648 651 1865 730">عدد الاعضاء</td> </tr> <tr> <td data-bbox="1238 730 1447 770"></td> <td data-bbox="1447 730 1648 770"></td> <td data-bbox="1648 730 1865 770">الاهداف</td> </tr> </table>	رابطة الآسيان	الاتحاد الأوروبي	وجه المقارنة			عدد الاعضاء			الاهداف	تطبيق	64
رابطة الآسيان	الاتحاد الأوروبي	وجه المقارنة																					
10	28	عدد الاعضاء																					
تكوين كتلة اقتصادية لتدعيم مسيرة التنمية و السلام والاستقرار الإقليمي	<p>1 - توحيد أوربا 2 - تحقيق الاستقرار و الرخاء لدول الأعضاء لتصبح أوروبا أكثر أمانا</p> <p>3 - ايجاد سوق موحد و توفير فرص عمل . 4 - تحفيز الدول الأوروبية الأخرى للقيام بالإصلاحات الاقتصادية والاجتماعية . 5 - جذب الاستثمارات الاجنبية</p>	الاهداف																					
رابطة الآسيان	الاتحاد الأوروبي	وجه المقارنة																					
		عدد الاعضاء																					
		الاهداف																					
	107-4-6	<p>ازمة سيولة مؤقتة في سوق العملات تحولت الى ازمة مالية واقتصادية ذات ابعاد سياسية خطيرة عام 1997 في آسيا .</p>	<p>- عرف الازمة الآسيوية ؟</p>	تذكر	65																		

	102-4-6	<p>1- ازالة الرسوم الجمركية</p> <p>2- ازالة العقبات امام انتقال رؤوس الاموال</p> <p>3- سن سياسة مودة فى مجال الانتاج الزراعى.</p> <p>4- وذع سياسات موحدة لتشجيع النمو الاقتصادى</p> <p>5- سن القوانين التى تمنع الاحتكار</p> <p>6 - تشجيع حرية الخدمات مثل البنوك .</p>	- ما الاهداف من انشاء السوق الاوربية المشتركة.	تذكر	66
	102- 4-6	<p>1- فتح الحدود بين الاعضاء</p> <p>- حرية تنقل الافراد والسلع والخدمات</p> <p>- تعزيز التعاون من خلال السياسات المشتركة .</p> <p>2- تعدد القوميات واللغات والاتجاهات الوطنية المختلفة .</p> <p>3- أصبح الاتحاد الأوربي في المرتبة الأولى عالميا من حيث القوة التجارية ، ظهور العملة الموحدة " اليورو " ، و وجود برامج اقتصادية وعلمية متكاملة كالبرامج الفضائية و تصنيع الطائرات و السيارات و القطارات .</p>	<p>(تعزيز التنمية المتناسقة للنشاطات الاقتصادية و التوسع المستمر المتوازن والاستقرار المتزايد والارتفاع السريع في مستويات المعيشة وعلاقات اقرب بين دولها) . يثل هذا النص أحد الاشتراطات الأساسية من معاهدة المجموعة الأوروبية المشتركة ، تمعن العبارة السابقة وأجب عما يلي :</p> <p>1 - ما العوامل التي ساعدت على تحقيق المبادئ الاقتصادية للاتحاد الأوربي .</p> <p>2 - ما العقبات التي واجهت قيام السوق الاوربية المشتركة ؟</p> <p>3 - برهن على نجاح فكرة السوق الاوربية المشتركة ؟</p>	تذكر تذكر فهم	67
	103-4-6				

اعداد فريق بنك الأسئلة - شعبة الدراسات الاجتماعية - قسم العلوم الانسانية - دائرة تنمية الموارد البشرية - المديرية العامة للتربية والتعليم بحافظة ظفار - سلطنة عُمان - العام الدراسي 2015/2016

	101-4-6	<p>1- نعم لان هناك مفاوضات مستمرة من اجل انضمام اعضاء جدد وهناك دول تسعى لاستيفاء الشروط المطلوبة</p> <p>2- سويسرة والفاتيكان . لأسباب اقتصادية ودينية</p>	<p>ادرس الجدول التالي ثم اجب :</p> <p>1- هل تتوقع انضمام اعضاء جدد ؟ ولماذا ؟</p> <p>2- ما الدول التي لا تسعى للانضمام للاتحاد الأوربي ؟ ولماذا ؟</p>	تذكر تذكر	68
		<p>علم الاتحاد الأوربي يتكون من 12 نجمة صفراء موضوعة بشكل دائري على خلفية زرقاء ، اللون الأزرق يمثل الغرب " أوروبا " و العدد 12 يمثل الكمال و الوضع الدائري يرمز للوحدة ، ولا يتغير عدد النجوم بتغير عدد أعضاء الاتحاد .</p>	<p>انظر لصورة علم الاتحاد الاوربي ثم اشرح فكرة العلم .</p> 	تذكر	69

	<p>99 - 4 - 6 إلى 105</p>	<p>1- الاتحاد الأوروبي . 2- الاتحاد الأفريقي . 3- الناقتا (الولايات المتحدة الأمريكية ، كندا ، والمكسيك) 4 -</p> 	 <p>تأمل الخريطة التالية . ثم اجب عما يلي :</p> <p>1- ما اسم التكتل الاقتصادي رقم 1 ؟ 2- ما اسم التكتل الاقتصادي رقم 2 ؟ 3- ما التكتل الاقتصادي رقم 3 ؟ واذكر الاعضاء 4- ظلل على الخريطة موقع رابطة الاسيان ؟</p>	<p>تذكر من 1 3 - 4 تطبيق</p>	<p>70</p>
	<p>103-4-6</p>	<p>من خلال البرامج الاقتصادية والسياسات التي من بينها : - تشجيع الاستثمار في الدول الشرقية للاتحاد - مراقبة سياسات الاقتصاد في أوروبا الشرقية</p>	<p>- كيف تغلب الاتحاد الأوروبي على المستويات الاقتصادية بين الغرب الأوروبي القوى والشرق الأوروبي الضعيف اقتصاديا .</p>	<p>فهم</p>	<p>71</p>
	<p>103-4-6</p>	<p>البرامج الفضائية صاروخ Arian البرامج الاقتصادية مثل القطار السريع T.GV طائرات Airbus</p>	<p>اذكر امثلة لبرامج اقتصادية وعلمية للاتحاد الاوربي</p>	<p>فهم</p>	<p>72</p>

اعداد فريق بنك الأسئلة - شعبة الدراسات الاجتماعية - قسم العلوم الانسانية - دائرة تنمية الموارد البشرية - المديرية العامة للتربية والتعليم بمحافظة ظفار - سلطنة عُمان - العام الدراسي 2015/2016

106--6	أسهمت رابطة الاسيان في ايجاد حلول للعديد من المشكلات الأمنية التي كانت تسود المنطقة	- برهن على " ارتباط النمو الاقتصادي للاسيان بالاستقرار الأمني في المنطقة " .	فهم	73
106-4-6	تحولت الى دول مصنعة ومنتجة للأجهزة الكهربائية وقطع غيار السيارات و الآلات و السلع الاستهلاكية .	- كانت دول جنوب شرق اسيا مصدرة للمواد الخام الا انها بدأت بتغيير سياساتها الاقتصادية . وضح ذلك	فهم	74
107-4-6	حققت النمو السريع في المنتجات الزراعية وارتفاع معدلات نمو الانتاج وارتفاع الصادرات المصنعة و انخفاض معدلات الفقر ، و زيادة نسبة الاستثمارات و المدخرات المحلية .	فسر ما يلي : - اصبحت رابطة الاسيان واحدة من المؤسسات الاقتصادية على مستوى العالم.	فهم	75
98-4-6	بسبب دورها في تحسين الاوضاع وتحقيق الخطط التنموية الموضوعية والارتقاء بالشعوب من خلال تحسين ظروف المعيشة و زيادة معدلات الدخل .	فسر تعد التنمية الاقتصادية دافعا قويا لظهور التجارب الاقتصادية ؟	فم	76
103-4-6	اتفاقية وقعت عام 1992 بين الدول الاعضاء للاتحاد الأوربي وشملت بنود توحيد الاتحاد من الناحية الاقتصادية و السياسية والادارية والنقدية .	- ما المقصود ب اتفاقية ماسترخت	تذكر	77
103-4-6	لانا لم تستطع منافسة العملات العالمية القوية	فسر : استبدال الوحدة النقدية الايكو ب اليورو؟	فهم	78

اعداد فريق بنك الأسئلة - شعبة الدراسات الاجتماعية - قسم العلوم الانسانية - دائرة تنمية الموارد البشرية - المديرية العامة للتربية والتعليم بمحافظة ظفار - سلطنة عُمان - العام الدراسي 2015/2016

	102-4-6 ، 103	<p>- تطبيق العملة الخليجية الموحدة .</p> <p>- تطبيق التعرفة الجمركية و منع الازدواج الضريبي .</p> <p>- تسهيل الاقامة و انتقال رؤوس الأموال .</p> <p>- وضع سياسات موحدة في الانتاج الزراعي و النقل .</p> <p>- دعم الصناعات الاستراتيجية الخليجية مثل (السيارات ، و الأسلحة ، والطاقة البديلة للنفط " الطاقة النووية ")</p> <p>(يقبل من الطالب ما يفيد المعنى)</p>	اقتراح اجراءات لرفع كفاءة مجلس التعاون الخليجي ؟	تقويم	79
	105-4-6	<p>- بسبب موقعها الاستراتيجي - مساحتها حوالي 4.5 مليون كيلو متر مربع - عد السكان والى 560 مليون نسمة .</p>	فسر : رابطة الاسيان ذات اهمية كبرى لقارة آسيا .	فهم	80
	105-4-6	<p>تكوين كتلة اقتصادية قادرة على تدعيم مسيرة التنمية و السلام والاستقرار - قدرة على المنافسة ببناء اقتصاد متنوع</p>	- ما أهداف رابطة الآسيان ؟	تذكر	81
	108-4-6	<p>هي مجموعة اقتصادية تضم أكبر الدول الاسلامية ذات الاغلبية المسلمة تأسست في تركيا عام 1997 و تضم (بنغلاديش ، مصر ، إندونيسيا ، إيران ، ماليزيا ، نيجيريا ، باكستان ، تركيا)</p>	ما المقصود بـ مجموعة الدول الثماني النامية .	تذكر	84
	108-4-6	<p>- دفع المسيرة التنموية و الاقتصادية للأعضاء - والافادة من تجارب بعضها بعض .</p>	ما اهداف مجموعة الدول الثماني النامية	تذكر	85

	103-4-6	عدم اعتماد بريطانيا اليورو عملة رسمية .	<p>- استنتج المشكلة التي يواجهها المسافر من الاتحاد الأوروبي الى بريطانيا من الشكل التالي :</p> 	تحليل	86
--	---------	---	---	-------	----