

شكراً لتحميلك هذا الملف من موقع المناهج العمانية



سؤال قصير مع اختبار قصير ثاني

[موقع المناهج](#) ⇨ [المناهج العمانية](#) ⇨ [الصف العاشر](#) ⇨ [اجتماعيات](#) ⇨ [الفصل الثاني](#) ⇨ [الملف](#)

تاريخ نشر الملف على موقع المناهج: 07:40:11 2023-11-21

التواصل الاجتماعي بحسب الصف العاشر



روابط مواد الصف العاشر على تلغرام

[الرياضيات](#)

[اللغة الانجليزية](#)

[اللغة العربية](#)

[التربية الاسلامية](#)

المزيد من الملفات بحسب الصف العاشر والمادة اجتماعيات في الفصل الثاني

سؤال قصير أول واختبار قصير ثاني	1
نموذج إجابة الامتحان النهائي الرسمي لجميع المحافظات	2
الامتحان الرسمي النهائي لجميع المحافظات	3
مذكرة دفترى سر تميزي مع أسئلة اختبارية بدون الدروس المحذوفة	4
امتحان تحريبي نهائي مع نموذج الإجابة	5

من جد وجد ،،،،،،،،،، المذاكرة مع التركيز والتوكل على الله طريقك للتفوق.....

الزمن / ٢٠ دقيقة

تنبيه الامتحان في ورقتين

السؤال الاول

ضعي دائرة حول الإجابة الصحيحة من بين البدائل المعطاة:
١- المسئلة البحرية الموضحة في الشكل المجاور



ناتجة عن انهيار جزء من سقف:-

أ- كهف ب- قوس

ج-خائق د-جرف

٢-منخفض القطارة في مصر يصل عمقه إلى :

(أ) ٠.٢ متر ب- ٢.٠١ متر ج- ١٢.٠ متر د- ١٣.٠ متر

۳-یوجد خائق کولورادو العظیم فی:-

١- أسيانيا ب- كندا ج- الولايات المتحدة الامريكية د- البرازيل

٤ - تلتحم مفتات الحطام الصخري الذي يتكون أسفل المنحدرات الجبلية مكونة صخور صلبة

أ- الياردنج ب- الانسلبرج ج- الخطاف د- البريشيا

3

السؤال الثاني :

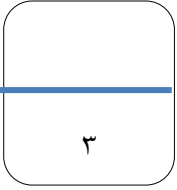
١. عرفى التعرية؟

100

٢-صنفي الاشكال التالية الى نوع التعرية التي ساهمت في تكوينها

الموائد الصحراوية - السهل الفيضي - الاقواس - الخلجان -

نوع التعرية	المائية	الريحية	البحرية
الاشكال الارضية



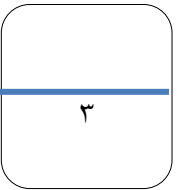
انظري إلى الصورة التي أمامك ثم اجيبي عن الاسئلة التالية



١-توضح الصورة شكل

٢-كيف يتكون

٣-تنتشر تلك الاشكال في السلطنة بما يقارب نسبة



من جد وجد ،،،،،،،،،، المذاكرة مع التركيز والتوكل على الله طريقك للتفوق.....

(الدراسات الاجتماعية)

رب أشرح لي صدري ويسر لي أمري واحلل عقدة من
لساني يفقهوا قولي ، اللهم لا سهل إلا ما جعلته سهلاً
وأنت تجعل الحزن متى شئت سهلاً يا أرحم
الراحمين.....

**الاختبار القصير الثاني في مادة الدراسات الاجتماعية الفصل الدراسي الأول
الصف العاشر**

استمارة توزيع درجات الامتحان	الدرجة	درجة الطالبة	التغذية الراجعة
السؤال الأول أربع مفردات (لكل مفردة درجة واحدة)	٤		
السؤال الثاني	٣		
السؤال الثالث (ثلاث جزئيات لكل جزئية درجة)	٣		
المجموع	١٠		

من جد وجد ،،،،،،،،،، المذاكرة مع التركيز والتوكل على الله طريقك للتفوق.....

ختامي

تکوینی

سؤال قصير

واجب منزلي

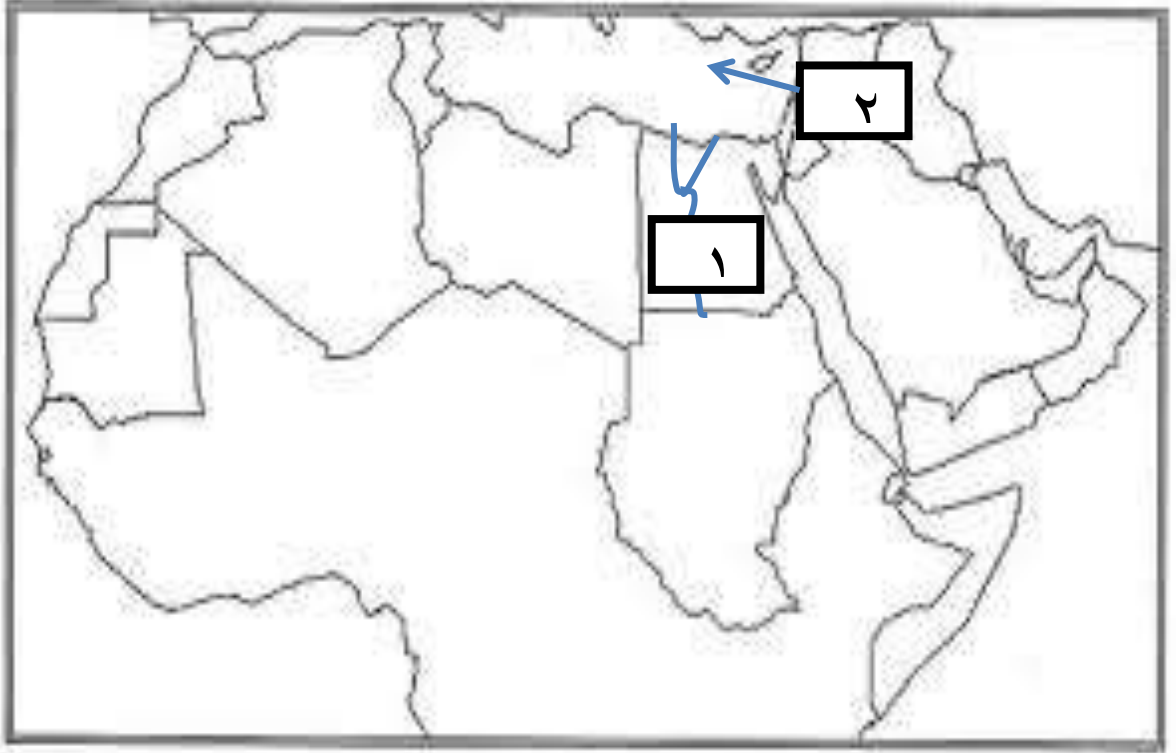
مدرسة: خديجة بنت خويلد مادة: الدراسات الاجتماعية عنوان الوحدة/العوامل الخارجية

المؤثرة في تشكيل سطح الارض

الدرس التعرية المائية الهدف من السؤال القصير / التعامل مع الخرائط

سؤال قصير (١)

انظري الي خريطة الوطن العربي التي امامك ثم اجبي عن الاسئلة التالية :-



١-يشير الرقم ١ إلى دلتا نهر والتي تتأخذ شكل

٢- مصب هذا النهر والمشار إليه بالرقم ٢ هو

٣- اذكر اهم الشروط اللازمة إلى تكون الدلتا يكتفي بذكر اثنين ؟

.....

.....