

تم تحميل هذا الملف من موقع المناهج العُمانية



\* للحصول على أوراق عمل لجميع الصفوف وجميع المواد اضغط هنا

<https://almanahj.com/om>

\* للحصول على أوراق عمل لجميع مواد الصف العاشر اضغط هنا

<https://almanahj.com/om/10>

\* للحصول على جميع أوراق الصف العاشر في مادة تقنية المعلومات وجميع الفصول, اضغط هنا

<https://almanahj.com/om/10computer>

\* للحصول على أوراق عمل لجميع مواد الصف العاشر في مادة تقنية المعلومات الخاصة بـ الفصل الأول اضغط هنا

<https://almanahj.com/om/10computer1>

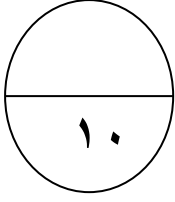
\* لتحميل كتب جميع المواد في جميع الفصول للـ الصف العاشر اضغط هنا

<https://almanahj.com/om/grade10>

\* لتحميل جميع ملفات المدرس مدرسة زيد بن حارثة اضغط هنا

للتحدث إلى بوت على تلغرام: اضغط هنا

[https://t.me/omcourse\\_bot](https://t.me/omcourse_bot)



اختبار قصير " ١ " لمادة تقنية المعلومات - للصف العاشر- الفصل الدراسي الأول- ٢٠١٣/٢٠١٤م

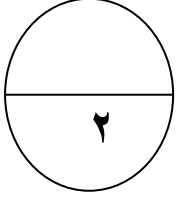
اسم الطالب : .....

السؤال الأول: اختر الإجابة الصحيحة من بين البدائل المعطاة :



١- وظيفة هذه الإشارة في لوحة المفاتيح بجهاز الكمبيوتر هي :

أ) عرض قائمة ابدأ ب) النقاط مقطع من الشاشة ج) مفتاح مسافة الجدولة د) طباعة مستند



٢- من مهام لوحة التحكم " إضافة أجهزة " فما وظيفته :

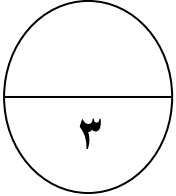
أ) تثبيت البرامج ومكونات windows وإزالتها ب) تثبيت واستكشاف أخطاء الأجهزة وإصلاحها

ج) مراجعة معلومات الكمبيوتر والنظام د) نسخ البرامج التعليمية

السؤال الثاني :

أذكر ثلاثاً من أجهزة الإخراج الخارجية الشائعة ؟

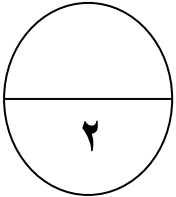
أ) ..... ب) ..... ج) .....



السؤال الثالث :

عرف المصنف في برنامج الجداول الحسابية ؟

.....



السؤال الرابع :

اكتشف سعيد عندما شغل حاسوبه أن ألوان الشاشة ليست كما كانت في المرة الماضية، فجودة الصور ودقتها ووضوحها أقل بكثير عما كانت عليه، لم يعرف سعيد كيف يعالج هذه المشكلة، فاتصل بالفني المسؤول في المؤسسة التي يعمل بها، فأخبره أن سيأتيه بعد ثلاثة أيام بسبب الضغط عليه، اضطر سعيد كي لا ينتظر طويلاً بالاتصال بأكثر من شخص من زملاءه، وبعد عناء طويل ومحاولات متكررة أخذت منه وقتاً طويلاً تمكن من حل المشكلة.

الأسئلة:

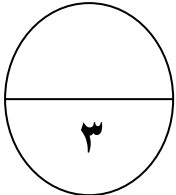
- ما هي الأسباب التي قد تؤدي لمثل هذه الحالة؟

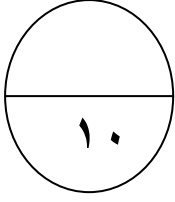
.....

- ما هو الحل لهذه الحالة؟

.....

انتهت الأسئلة مع تمنياتي لكم بالتوفيق

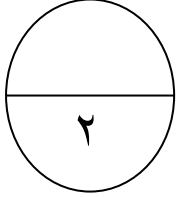




اختبار قصير " ٢ " لمادة تقنية المعلومات - للصف العاشر- الفصل الدراسي الأول- ٢٠١٣/٢٠١٤م

اسم الطالب : .....

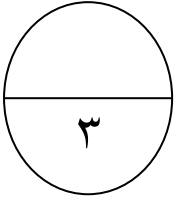
السؤال الأول: اختر الإجابة الصحيحة من بين البدائل المعطاة :



١- برنامج يضبط إعدادات الاتصالات  
أ) حساب انترنت ب) برنامج اتصالات ج) متصفح انترنت د) المودم

٢- نطاق الشبكة للمنظمات الغير ربحية يرمز له  
أ) Om ب) com ج) gov د) org

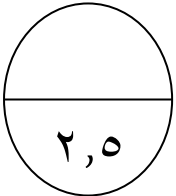
السؤال الثاني :



عرف الانترنت ؟ .....

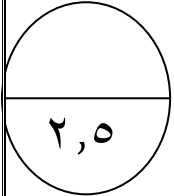
السؤال الثالث :

ما اهمية جدار الحماية Firewall لجهازك ؟

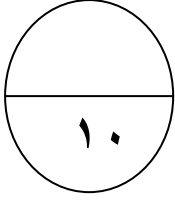


السؤال الرابع :

عندما تقوم بعمل حفظ لملف ما في جهازك يطلب منك استبداله ، ما السبب ؟ وكيف تحفظه بدون استبدال الملف الآخر ؟



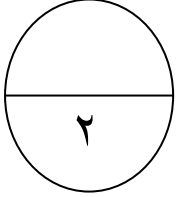
انتهت الأسئلة مع تمنياتي لكم بالتوفيق



اختبار قصير " ٢ " لمادة تقنية المعلومات - للصف العاشر- الفصل الدراسي الأول- ٢٠١٣/٢٠١٤م

اسم الطالب : .....

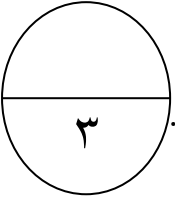
السؤال الأول: اختر الإجابة الصحيحة من بين البدائل المعطاة :



١- برنامج يضبط إعدادات الاتصالات  
أ) حساب انترنت ب) متصفح انترنت ج) برنامج اتصالات د) المودم

٢- نطاق الشبكة للشبكات يرمز له  
om ب) com ب) net ج) org د)

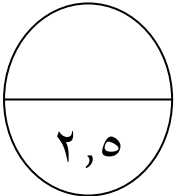
السؤال الثاني :



عرف الاكسترنانت ؟ .....

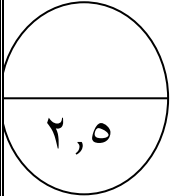
السؤال الثالث :

ما اهمية جدار الحماية لجهازك ؟



السؤال الرابع :

عندما تقوم بعمل حفظ لملف ما في جهازك يطلب منك استبداله ، ما السبب ؟ وكيف تحفظه بدون استبدال الملف الآخر ؟



انتهت الأسئلة مع تمنياتي لكم بالتوفيق