

## ملخص شرح درس الولايات المتحدة الأمريكية



### تم تحميل هذا الملف من موقع المناهج العمانية

موقع فايلاتي ← المناهج العمانية ← الصف العاشر ← اجتماعيات ← الفصل الثاني ← ملفات متنوعة ← الملف

تاريخ إضافة الملف على موقع المناهج: 2025-05-22 13:21:16

ملفات اكتب للمعلم اكتب للطالب | اختبارات الكترونية | اختبارات | حلول | عروض بوربوينت | أوراق عمل  
منهج انجليزي | ملخصات وتقارير | مذكرات وبنوك | الامتحان النهائي | للمدرس

المزيد من مادة  
اجتماعيات:

إعداد: أسماء السعدي

### التواصل الاجتماعي حسب الصف العاشر



صفحة المناهج  
العمانية على  
فيسبوك

الرياضيات

اللغة الانجليزية

اللغة العربية

التربية الاسلامية

المواد على تلغرام

### المزيد من الملفات بحسب الصف العاشر والمادة اجتماعيات في الفصل الثاني

ملخص شرح درس الأعاصير المدارية

1

اختبار قصير أول في محافظة مسندم

2

نموذج إجابة الامتحان النهائي الرسمي الموحد الدور الأول الفترة الصباحية

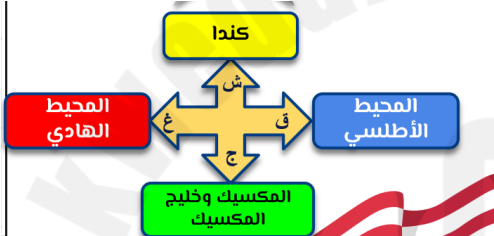

3

الامتحان النهائي الرسمي الموحد الدور الأول الفترة الصباحية

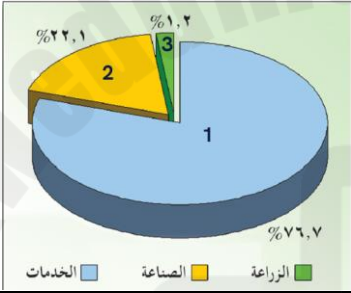

4

بوربوينت ملخص شرح درس الاحتباس الحراري

5

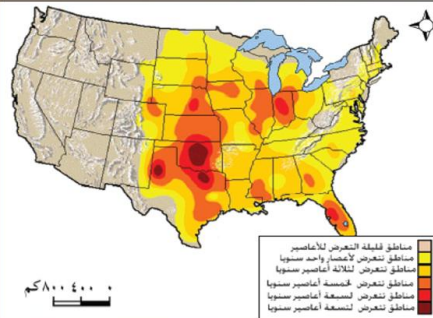

<table><tr><td>واشنطن</td><td>العاصمة</td></tr><tr><td>٢٩,٨٢٦,٦٧٥ كم٢</td><td>المساحة</td></tr><tr><td>نيويورك</td><td>أكبر المدن</td></tr><tr><td>٣١٥,٤٧٥,٠٠٠ نسمة (٢٠١٢م)</td><td>عدد السكان</td></tr><tr><td>الإنجليزية</td><td>اللغة</td></tr><tr><td>دولار أمريكي</td><td>العملة</td></tr></table>	واشنطن	العاصمة	٢٩,٨٢٦,٦٧٥ كم٢	المساحة	نيويورك	أكبر المدن	٣١٥,٤٧٥,٠٠٠ نسمة (٢٠١٢م)	عدد السكان	الإنجليزية	اللغة	دولار أمريكي	العملة	أعطي نبذة تعريفية عن الولايات المتحدة الأمريكية
واشنطن	العاصمة												
٢٩,٨٢٦,٦٧٥ كم٢	المساحة												
نيويورك	أكبر المدن												
٣١٥,٤٧٥,٠٠٠ نسمة (٢٠١٢م)	عدد السكان												
الإنجليزية	اللغة												
دولار أمريكي	العملة												
سنة ١٤٩٢ على يد الملاح الإيطالي كريستوفر كولومبوس لأنه اعتقد وصل الى الهند عن طريق الغرب	متى تم اكتشاف القارة الأمريكية فسري (أطلق كريستوفر كولومبوس على أمريكا بجزر الهند الغربية) فسري تسميه أمريكا بهذا الاسم												
لأنه الملاح البرتغالي أمريكو فسبوتشي عرف أن هذه الأرض ليست الهند وإنما أرض جديدة واكتشف معظم شواطئها وبالتالي أعطيت أسمه	متى أصبحت أمريكا موطن هجرة للمهاجرين من قارة أوروبا												
في الستينات من القرن ١٧ وامتدت الهجرة لمدة ثلاث قرون وحتى أصبحت مستعمرة انجليزية ودينية	ما الدوافع وراء هجرة المهاجرين من قارة أوروبا												
نشوب خلاف بين الحكومة البريطانية والمهاجرين الذين يعتبرون أنفسهم سكان البلد الجديد	ما السبب وراء استقلال الولايات المتحدة الأمريكية عن إنجلترا												
يوليو ١٧٧٦ بقيادة جورج واشنطن الذي أصبح أول رئيس لأمريكا ويظل يشغل المنصب لمدة ٨ سنوات	متى استقلت الولايات المتحدة الأمريكية												
١- في قارة أمريكا الشمالية ٢-	حددي موقع الجغرافي للولايات المتحدة الأمريكية												
													
٣- عدد الولايات (٥٠) ولاية داخلها ٤٨ وخارجها ولايتين *													
مقاطعة واحدة كولومبيا													
<table><tr><td>جزر الهاواي</td><td>ألاسكا</td><td>ولايات تابعة للولايات المتحدة الأمريكية</td></tr><tr><td>خارج حدود الولايات المتحدة الأمريكية</td><td></td><td></td></tr><tr><td>في المحيط الهادي</td><td>في الشمال الغربي من كندا</td><td>الموقع</td></tr><tr><td>أصبحت تحت حكم الولايات عام 1959م</td><td>تم شراؤها من روسيا عام 1867م</td><td>سنة الشراء /الحكم</td></tr></table>	جزر الهاواي	ألاسكا	ولايات تابعة للولايات المتحدة الأمريكية	خارج حدود الولايات المتحدة الأمريكية			في المحيط الهادي	في الشمال الغربي من كندا	الموقع	أصبحت تحت حكم الولايات عام 1959م	تم شراؤها من روسيا عام 1867م	سنة الشراء /الحكم	
جزر الهاواي	ألاسكا	ولايات تابعة للولايات المتحدة الأمريكية											
خارج حدود الولايات المتحدة الأمريكية													
في المحيط الهادي	في الشمال الغربي من كندا	الموقع											
أصبحت تحت حكم الولايات عام 1959م	تم شراؤها من روسيا عام 1867م	سنة الشراء /الحكم											
١-تنوع أشكال السطح (المرتفعات الشرقية (جبال الابلاش)-المرتفعات الغربية(جبال الروكي ) -السهول الوسطى ٢- تنوع الأقاليم المناخية (ست أقاليم) أرجو الرجوع الى خريطة ص ٦٨	ما النتيجة المترتبة على الامتداد المساحي للولايات المتحدة الأمريكية												

<p>١- الموقع الفلكي للولايات المتحدة الأمريكية . تقع الولايات المتحدة الأمريكية (٤٨) ولاية متصلة بعضها البعض ، باستثناء ولاية ألاسكا وولاية هاواي) ما بين درجتي ٢٤ و ٤٣ شمالاً وخطي طول ٦٨ و ١٢٥ غرباً . ٢- مميزات الموقع الجغرافي للولايات المتحدة الأمريكية : - أدى امتدادها ضمن درجات عرض متنوعة إلى تنوع في المناخات وبالتالي تنوع في المحاصيل الزراعية . - عمل امتدادها ضمن درجات خطوط الطول على تعدد المناطق الزمنية واختلاف التوقيت الزمني بين المناطق الشرقية والمناطق الغربية .</p>	<p><b>نشاط (١)</b></p> <p>أ) ارجع إلى خريطة الولايات المتحدة الأمريكية في الأطلس المدرسي (الصفحة ٥٩)، وحلّ:</p> <p>١- الموقع الفلكي للولايات المتحدة الأمريكية . ٢- مميزات الموقع الجغرافي للولايات المتحدة الأمريكية.</p>						
<p>١١٥-٧٧=٣٨ خط الفرق بين كل خط ٤ دقائق ٤*٣٨=١٥٢ تحويل الدقائق الى ساعات باستخدام الحاسبة ساعتين و ٣٢ دقيقة لان لوس أنجلوس غرب واشنطن لذلك هي متأخرة عنها بساعتين و ٣٢ دقيقة لذلك نطرح ١٢:٠٠ ظهراً من ساعتين و ٣٢ دقيقة ويتكون الساعة ٩:٢٨ صباحاً ويفضل استخدام الحاسبة في طرح</p>	<p>ب) إذا كانت الساعة في مدينة واشنطن، الواقعة على خط طول (٧٧) غرباً (١٢) ظهراً، فما الساعة حينئذٍ، في مدينة لوس أنجلوس الواقعة على خط طول (١١٥) غرباً ؟ ج) ما النتائج المترتبة على اختلاف التوقيت الزمني من منطقة إلى أخرى داخل الدولة الواحدة ؟</p>						
<table border="1"> <thead> <tr> <th>الإيجابيات</th><th>السلبيات</th></tr> </thead> <tbody> <tr> <td>استمرار حركة العمل .</td><td>إمكانية توقف التبادل الاقتصادي .</td></tr> <tr> <td>يكسب المسافرين إلى الغرب وقتاً إضافياً .</td><td>يفقد المسافر إلى الشرق جزءاً من وقته .</td></tr> </tbody> </table>	الإيجابيات	السلبيات	استمرار حركة العمل .	إمكانية توقف التبادل الاقتصادي .	يكسب المسافرين إلى الغرب وقتاً إضافياً .	يفقد المسافر إلى الشرق جزءاً من وقته .	<p>ج) ما النتائج المترتبة على اختلاف التوقيت الزمني من منطقة إلى أخرى داخل الدولة الواحدة ؟</p>
الإيجابيات	السلبيات						
استمرار حركة العمل .	إمكانية توقف التبادل الاقتصادي .						
يكسب المسافرين إلى الغرب وقتاً إضافياً .	يفقد المسافر إلى الشرق جزءاً من وقته .						
<p>ب) المناخ المعتدل والقطبي والمصراوي شبه الجاف والسبب في تنوعها هو اتساع مساحة USA . ج) تمثل أشكال سطح الأرض مورداً طبعياً لأي دولة حيث تختلف المدن والحدود باختلاف طبيعة السطح فمثلاً تسود حرفة الزراعة والصيد في السهول بينما تشتهر المناطق الجبلية باستخراج المعادن... كما يؤثر المناخ في الأنشطة الاقتصادية خاصة الزراعة فمثلاً الفصح يحتاج لدرجة حرارة معتدلة أثناء البذر ثم حرارة معتدلة مثلاً البرودة أثناء فترة النمو وفترة جفاف أثناء الحصاد ، وهناك محاصيل لا تنمو إلا في المناطق الصحراوية وأخرى لا تنمو إلا في المناطق الباردة .</p>	<p>ب) بالرجوع إلى الأطلس المدرسي (الصفحة ٣٩) حدد الأقاليم المناخية السائدة في الولايات المتحدة الأمريكية، وفُسر تنوعها. ج) وضح كيف يؤثر التدرج في الارتفاع وتنوع المناخ على النشاط الاقتصادي لأي بلد.</p>						
<p>بسبب المهاجرين الذين يفدون إليها من أوروبا وأفريقيا وآسيا وأمريكا الجنوبية والكاريبي والمكسيك وغيرها</p>	<p>فسري يتميز المجتمع الأمريكي أكثر تنوعاً</p>						
 <p>١- أوروبا ٣٦,٢% ٢- آسيا ٣٢,٢% ٣- أمريكا الشمالية، أمريكا الوسطى، أمريكا الجنوبية ٢٠,٢% ٤- أفريقيا ٥,٧% ٥- أوقيانوسيا ٠,٧% ٦- أستراليا ٠,١% ٧- بقية دول العالم ٨,٠%</p>	<p>رتبي تنازلياً المناطق التي وفدت الى الولايات المتحدة الامريكية.</p> <p>١- الكاريبي والمكسيك ووسط قارة أمريكا ٢- آسيا ٣- أوروبا ٤- أمريكا الجنوبية ٥- أفريقيا ٦- كندا ٧- بقية دول العالم ٨- أستراليا</p>						
<p>أ) ١- يحكم قريبتها من USA أيضاً ليحت هؤلاء المهاجرين عن التعم الموجود في USA . ٢- من قنات منع الهجرة ، والإجراءات الصارمة على الحدود . ٣- الأكثر : المكسيك ودول أمريكا الوسطى ؛ يحكم القرب والبعد عن العيش الكريم والدخل العالي . الأقل : أستراليا ؛ لأنها تعد من الدول المتقدمة في العالم وظروفها المعيشية شبيهة - نوعاً ما - بـ USA . ٤- نعم ؛ وذلك لارتفاع مستوى الدخل وتوفر الخدمات الرفيعة فيها . الكثافة=عدد السكان على المساحة</p>	<p><b>نشاط (٣)</b></p> <p>أ) يشير الشكلان رقم (٥٤٤) إلى معدل المهاجرين إلى الولايات المتحدة الأمريكية والمناطق التي وفدوا منها بين عامي ١٩٥١ و ١٩٩٨م. حلل هذين الشكلين مجيباً عما يلي :</p> <p>١- فسر ارتفاع معدل المهاجرين من أمريكا الجنوبية وأمريكا الوسطى . ٢- ما الأوضاع الجبلية التي طرأت في العام ١٩٩٠م ؟ ٣- ما أكثر وأقل الجنسيات هجرة إلى الولايات المتحدة ؟ ولماذا ؟ ٤- هل ما تزال الرغبة في الهجرة إلى الولايات المتحدة الأمريكية كما كانت قبل عدة قرون ؟ ولماذا ؟ ب) احسب الكثافة السكانية في الولايات المتحدة الأمريكية .</p>						
<p>١٧٩٠ وكان عددهم أربعة ملايين يتركزون في الساحل الشرقي من البلاد</p>	<p>متى كان أول تعداد في الولايات المتحدة الامريكية</p>						
<p>كل عشر سنوات</p>	<p>متى جرى التعداد في الولايات المتحدة الامريكية</p>						
<p>٣٠٠ مليون نسمة وتحتل المرتبة الثالثة بعد الصين والهند ان سكان البلاد الأصليين يطلق عليهم (الهنود) لم يعرفون الاحصنة الا بعدما وفد اليهم الأوروبيون وينطبق ذلك على اللغة والعادات والتقاليد والقوانين</p>	<p>كم يبلغ عدد سكان الولايات المتحدة الامريكية دليلي تأثر ثقافة البلد بالموطن الأصلي للمهاجرين</p>						
<p>القيمة الاجمالية لكل السلع والخدمات المنتجة خلال سنة بما فيها صافي الدخل خارج الدولة من الاستثمارات وغيرها</p>	<p>ما المقصود بالنتائج الإجمالي القومي</p>						

ما المقصود الناتج الإجمالي المحلي	قيمة جميع السلع والخدمات داخل الدولة خلال فترة زمنية (سنة)
ما هي مرتكزات الاقتصاد الأمريكي	١- اكتشاف أراضي جديدة ٢- فتح مشاريع ٣- استغلال الموارد الطبيعية ٣- اختراع الأجهزة والآلات ٥- التنمية البشرية المتواصلة
ما نتيجة التحديات الداخلية والخارجية التي واجهتها الولايات المتحدة الأمريكية في العقود الأخيرة من القرن العشرين	ما المقصود بالحرب الباردة
ما حدث للاقتصاد الأمريكي بعد الحرب الباردة	صراع سياسي بين الولايات المتحدة الأمريكية والاتحاد السوفيتي (سابقاً) وسميت بالحرب الباردة لأنها لم يكون هناك سلاح ولكن صراع في الأفكار السياسية والمصالح الاقتصادية انتهت بانتهاء الاتحاد السوفيتي في مطلع التسعينات من القرن الماضي
ما هي عوامل ومقومات الاقتصادي الأمريكي	بدأت ثورة الاتصالات والكمبيوتر أدت الى تغير الاقتصاد وطريقة عيش الناس ونمو اقتصادي
تحدثني عن الكساد الكبير	١- الموارد الطبيعية (معادن-تربة خصبة -مصادر طاقة) ٢- الأيدي العاملة ٣- كفاءة قوة العمل (التعلم التقني والمهني) ٤- الاستثمارات الداخلية والخارجية ٥- القيادات الإدارية
عددي القطاعات الصناعية الزراعة = ١,٢ % الصناعة = ٢٢,١ % الخدمات = ٧٦,٧ %	حدث سنة ١٩٢٩ أدى (افلاس البنوك زيادة العرض على الطلب -كساد الإنتاج- تراجع أسعار العملات) فقد ٣٠ مليون عامل عن العمل رجعت الى النمو الاقتصادي ١٩٣٢
ما مساحة الأراضي الزراعية	 <p>١٨ % وتتركز في الأراضي الخصبة في المناطق السهلية وسط أمريكا</p>
فسري تنوع المحاصيل الزراعية	تبعاً للأقاليم المناخية وتنوع أشكال السطح وتوافر الإمكانيات البشرية والمادية
عددي أبرز المحاصيل الزراعية	القمح والصويا والذرة والتبغ والقطن
دللي على تناقص عدد العاملين في قطاع الزراعة	بلغ ١٩٣٠ حوالي ١٢,٥ مليون تناقص الى مليون سنة ٢٠٠٩
ما المرتبة التي تحتلها الولايات المتحدة في قطاع الزراعة على مستوى العالم	الأولى عالمياً
ما المقصود بربووس الاموال	قيمة المال المتوافر للاستثمار في مشروع ما
ما هي المشكلات التي تتعرض لها الزراعة	 <p>١- المناخ وتقلباته (الأعاصير والعواصف-الجليد-الفيضانات-الجفاف-ارتفاع درجات الحرارة) ٢- ضعف السوق وتكدس البضائع ٣- التلوث (المياه-التربة) ٤- رأس المال والاستدانة التي تؤدي في حالة تعرضه للخسارة تزيد المديونية وترك العمل</p>

الشكل (٧) - مزارع القمح في كاليفورنيا



<p><b>حل نشاط (٥) صفحة ٧٣ :</b></p> <p>(أ) ١- تتوفر مساحات واسعة من الأراضي الصالحة لزراعة والتي تعد من أغنى بقاع العالم .  ٢- تنوع أشكال السطح وتنوع المناخات .  ٣- تطور الآلات الزراعية وإتباع أساليب زراعية حديثة .</p> <p>(ب) ١- جنوب وشرق ووسط USA .  ٢- الاقتصاد : يؤدي إلى انهك الاقتصاد وتكبده لخسائر كبيرة .  الأراضي الزراعية : تدمير الآلاف الهكتارات من الأراضي الزراعية .  السكان : موت وفقدان وتشريد الملايين من السكان وانتشار الأمراض الخطيرة بينهم .</p>	<p>(أ) ما العوامل التي جعلت من الولايات المتحدة قوة زراعية كبرى في العالم ؟  (ب) (كاترينا، ريتا) أسماء أعاصير قوية تعرضت لها الولايات المتحدة خلال عام ٢٠٠٥م .  ادرس الخريطة (الشكل ٨) ، وحدد :  ١- أبرز المناطق التي تتعرض للأعاصير .  ٢- ما النتائج المتوقعة من حدوث هذه الأعاصير على كلٍّ من : الاقتصاد، الأراضي الزراعية، السكان ؟</p> 
<p>لأنها المحرك الاقتصادي بأكمله ومصدر التحديث والتجديد التقني والصناعة تمد كلا من الزراعة والخدمات بطرق الإنتاج الحديثة</p> <p>القيمة المضافة وهي تعني: مجموع الأجور والأرباح والإيجارات والفوائد التي تدفعها المؤسسة لإنتاج عمل ما</p> <p>القيمة المضافة =</p> <p>ثمن المبيعات - ثمن المواد مهم جدا</p>	<p><b>فسري تعد (تعد الصناعة القطاع الثاني من النشاط الاقتصادي في الولايات المتحدة الأمريكية</b></p> <p><b>ما مؤشر لقياس التقدم الاقتصادي</b></p>
<p>١-توافر المواد الأولية ٢- القدرة على التجديد في نوعية الإنتاج ٣-تنوع المنتجات ٤-توافر الأيدي العاملة ٥-التصدير الهائل (الحقل التكنولوجي)</p>	<p><b>ما عوامل نجاح الصناعة الأمريكية</b></p>
<p>الفحم الحجري مستخرج (جبال الابلاش-والروكي والسهول الوسطى</p> <p>النفط والغاز (جبال الابلاش -الأسكا)</p>	
<p>١-البترول ٣٧٪ ٢-الغاز ٢٥٪ ٣-الفحم ٢١٪ ٤-الطاقة النووية ٩٪ ٥-الطاقة المتجددة ٨٪</p>	<p><b>معدلات استهلاك الطاقة :</b></p>
<p>١-التعدين والسبب توفر المعادن (الخدمات المستفيدة المياني-ووسائل النقل-الآليات )  ٢-النسيج (يتركز في كارولينا الجنوبية وجورجيا) اما المراحل الأخيرة من الإنتاج في جنوب البلاد والسبب رخص الأيدي العاملة</p>	<p><b>ما هي أهم الصناعات الأمريكية</b></p>
<p>لتجنب الضرائب</p>	<p><b>فسري (بعض رجال الأعمال يقيمون مصانع إنتاج النسيج في المكسيك</b></p>
<p>رخص أسعار المنتجات الصينية والنتيجة خسارة ما يقارب ٣٠٠ ألف وظيفة</p>	<p><b>ما التحديات التي يواجهها قطاع الصناعة</b></p>
<p>١-للحد من شراء المنسوجات الصينية  ٢-نعم يعتبر أحد القيود على الصادرات الصينية  ٣-حاليا أصبحت هناك توتر بسبب الضرائب</p>	<p><b>تلمع :</b></p> <p>قبل نهاية عام ٢٠٠٣م اتخذ الرئيس الأمريكي قرارًا بوضع قيود على صادرات المنسوجات الصينية إلى الولايات المتحدة ، بحيث لا تتجاوز (٧,٥ ٪) من مجمل الصادرات من المنسوجات الصينية.</p> <p><b>فكر ...</b></p> <p>١- لماذا تم اتخاذ هذا القرار ؟  ٢- هل يتخالف هذا القرار مبدأ حرية التجارة العالمية ؟  ٣- تبنياً لمستقبل استمرارية العلاقة التجارية بين الولايات المتحدة والصين .</p>

