

أسئلة الامتحان النهائي الرسمي الموحد في الدراسات



تم تحميل هذا الملف من موقع المناهج العمانية

موقع فايلاتي ← المناهج العمانية ← الصف العاشر ← اجتماعيات ← الفصل الثاني ← الامتحان النهائي ← الملف

تاريخ إضافة الملف على موقع المناهج: 2025-06-01 12:18:47

ملفات اكتب للمعلم اكتب للطالب ا اختبارات الكترونية ا اختبارات ا حلول ا عروض بوربوينت ا أوراق عمل
منهج انجليزي ا ملخصات وتقارير ا مذكرات وبنوك ا الامتحان النهائي للمدرس

المزيد من مادة
اجتماعيات:

التواصل الاجتماعي بحسب الصف العاشر



صفحة المناهج
العمانية على
فيسبوك

الرياضيات

اللغة الانجليزية

اللغة العربية

التربية الاسلامية

المواد على تلغرام

المزيد من الملفات بحسب الصف العاشر والمادة اجتماعيات في الفصل الثاني

أسئلة الامتحان النهائي الرسمي الموحد في الدراسات	1
ملخص شرح درس نشأة المذهب الإباضي	2
ملخص شرح درس الإمام جابر بن زيد وانتشار المذهب الإباضي	3
نماذج أسئلة امتحان سابقة مع نماذج الإجابة	4
ملخص شرح درس تسونامي	5

أجب عن جميع الأسئلة الآتية

أولاً: الأسئلة الموضوعية:

ظلل الشكل () المقترن بالإجابة الصحيحة لكل مفردة من المفردات الآتية:

١٢

(١) ترتيب طبقة الغلاف الجوي التي توجد فيها طبقة الأوزون بالنسبة لسطح الأرض:
☐ الأولى. ☐ الثانية. ☐ الثالثة. ☐ الرابعة.

(٢) الرقمان اللذان يشيران إلى اثنين من الأحداث التي ارتبطت بشخصية الإمام أبو عبيدة مسلم بن أبي كريمة في البطاقة التعريفية المقابلة:

- ١) تلقى علومه على يد الكثير من الصحابة ولا سيما عائشة أم المؤمنين
- ٢) كون مدرسة علمية شكل تلاميذها نواة المذهب الإباضي عرفوا بحملة العلم
- ٣) تولى قيادة المحكمة بعد مقتل الإمام عبدالله بن وهب الراسبي
- ٤) عمل بصناعة القفاف

☐ (٣، ٢).

☐ (٣، ١).

☐ (٤، ٢).

☐ (٤، ١).

(٣) أي من الآتي يعتبر من المخاطر الأولية الناتجة عن حدوث الزلازل؟

☐ الحرائق. ☐ تدمير الشوارع. ☐ الانزلاقات الأرضية. ☐ الفيضانات.

(٤) من نتائج التصحر الشديد جدًا على التربة:

☐ عملية استصلاحها مكلفة اقتصاديًا بدرجة كبيرة.

☐ تصبح التربة ذات نفاذية منخفضة جدًا.

☐ نقص في الإنتاج النباتي بمقدار ٥٠٪.

☐ عدم تواجد طبقة ملحية فيها.

(٥) الفترة الزمنية التي اكتشفت فيها قارة أمريكا:

☐ بداية القرن ١٤ م. ☐ نهاية القرن ١٤ م. ☐ بداية القرن ١٥ م. ☐ نهاية القرن ١٥ م.

يتبع ٢/

تابع أولاً: الأسئلة الموضوعية:

٦) الجدول الصحيح الذي ترتبط فيه الشخصيات الواردة في العمود الأول بما يقابلها من أحداث تاريخية في العمود الثاني:

الشخصيات	الأحداث التاريخية
عبدالله بن أباض التميمي	ضم الطائف ومكة والمدينة سنة ١٣٠هـ.
سلمة بن سعد الحضرمي	حمل فكر المذهب الأباضي إلى البربر في شمالي أفريقيا.
طالب الحق عبدالله بن يحيى	المناظر والمتحدث باسم الأباضية أمام الآخرين.

الشخصيات	الأحداث التاريخية
عبدالله بن أباض التميمي	حمل فكر المذهب الأباضي إلى البربر في شمالي أفريقيا.
سلمة بن سعد الحضرمي	المناظر والمتحدث باسم الأباضية أمام الآخرين.
طالب الحق عبدالله بن يحيى	ضم الطائف ومكة والمدينة سنة ١٣٠هـ.

الشخصيات	الأحداث التاريخية
عبدالله بن أباض التميمي	المناظر والمتحدث باسم الأباضية أمام الآخرين.
سلمة بن سعد الحضرمي	ضم الطائف ومكة والمدينة سنة ١٣٠هـ.
طالب الحق عبدالله بن يحيى	حمل فكر المذهب الأباضي إلى البربر في شمالي أفريقيا.

الشخصيات	الأحداث التاريخية
عبدالله بن أباض التميمي	المناظر والمتحدث باسم الأباضية أمام الآخرين.
سلمة بن سعد الحضرمي	حمل فكر المذهب الأباضي إلى البربر في شمالي أفريقيا.
طالب الحق عبدالله بن يحيى	ضم الطائف ومكة والمدينة سنة ١٣٠هـ.

٧) الرقم الذي يشير إلى المحافظة العمانية التي عقد فيها المؤتمر الدولي للتصحر عام ٢٠٠٢م:



- ١ ☐
- ٢ ☐
- ٣ ☐
- ٤ ☐

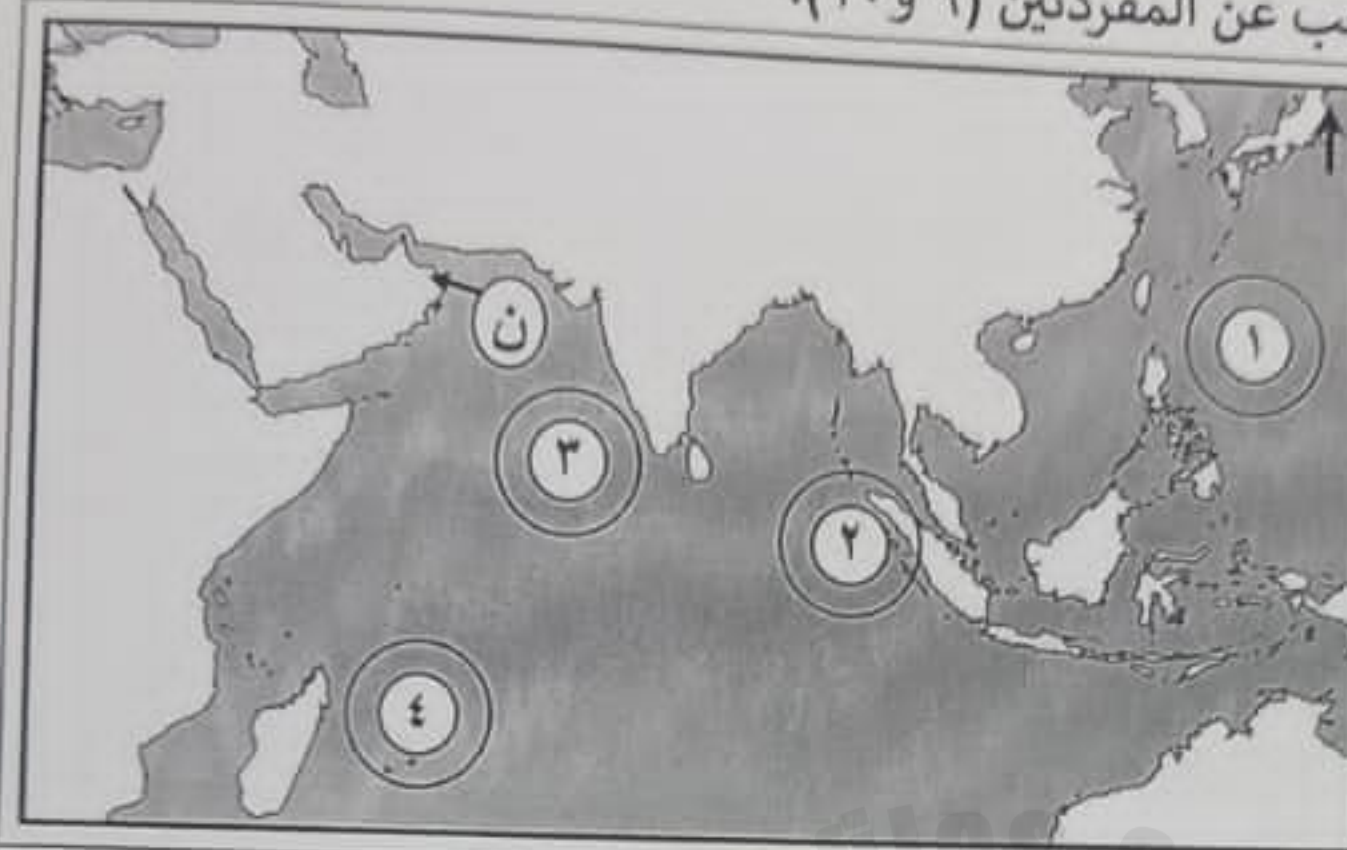
٨) المصدر الثاني في استهلاك الطاقة بنسبة ٢٥٪ في الولايات المتحدة الأمريكية:

- ☐ الغاز الطبيعي. ☐ البترول. ☐ الفحم. ☐ الطاقة النووية.

يتبع/٣

تابع أولاً: الأسئلة الموضوعية:

ادرس الشكل الذي أمامك، ثم أجب عن المفردتين (٩ و ١٠):



صباح يوم الأحد الموافق
٢٦ ديسمبر ٢٠٠٤ م
ارتعشت طبقات الأرض
في قاع المحيط الهندي
بجنوب شرق القارة
الآسيوية

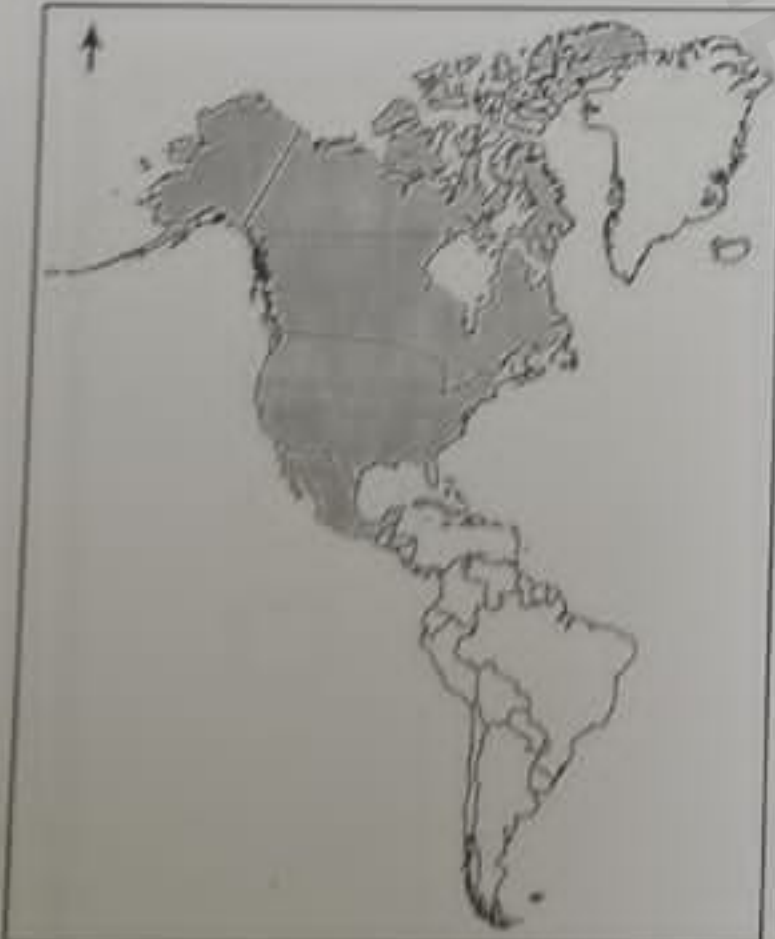
(٩) الرقم الذي يشير إلى موقع حدوث الزلزال البحري:

- ١ ☐ ٢ ☐ ٣ ☐ ٤ ☐

(١٠) الأعصار الذي تأثرت به سواحل الدولة المشار إليها بالرمز (ن) عام ٢٠٠٧ م:

- مكونو. ☐ فيت. ☐ جونو. ☐ شاهين. ☐

(١١) التكتل الاقتصادي الذي يضم الدول المظللة في الشكل المقابل:



- النافتا. ☐
الاتحاد الأفريقي. ☐
الاتحاد الأوروبي. ☐
رابطة الدول المطلة على المحيط الهندي. ☐

(١٢) الدولتان العضوان معاً في منظمتي الآسيان ومجموعة الدول الثماني النامية:

- بنجلاديش وتايلاند. ☐ إندونيسيا وماليزيا. ☐ نيجيريا والفلبين. ☐ تركيا وفيتنام. ☐

١٢

ثانيًا: الأسئلة المقالية:

(١٣)

أ- صنف الشخصيات بين القوسين حسب الأحداث التي تدل عليها في الجدول التالي:
(عبد الملك بن محمد السعدي - المهلب بن أبي صفرة - عبيد الله بن زياد - أبي الخطاب عبد الأعلى بن السمح المعافري)

الشخصيات	الأحداث
	أصبحت خراسان منذ نزول قواته العمانية بها أهم ميادين سيادة أزد عمان في المشرق في العصر الأموي.
	أصبحت طرابلس في زمنه من أهم مراكز فكر المذهب الإباضي سنة ١٤٠ هـ.
	قائد جيش الأمويين الذي أعاد سيطرة الأمويين على الحجاز وصنعاء وحضرموت.
	والي العراق الذي تمكن من ملاحقة أبي بلال مرداس وقتله بالأهواز عام ٦١ هـ.

ب-

١- فسر ما يأتي:
أ- أصبح من الممكن مراقبة الأعاصير والتحذير منها.

ب- تحرك جزيرة سومطرة عن موضعها باتجاه الجنوب الغربي بمقدار ٢٦ متراً.

٢- اكتب اثنين من فوائد البراكين:

•

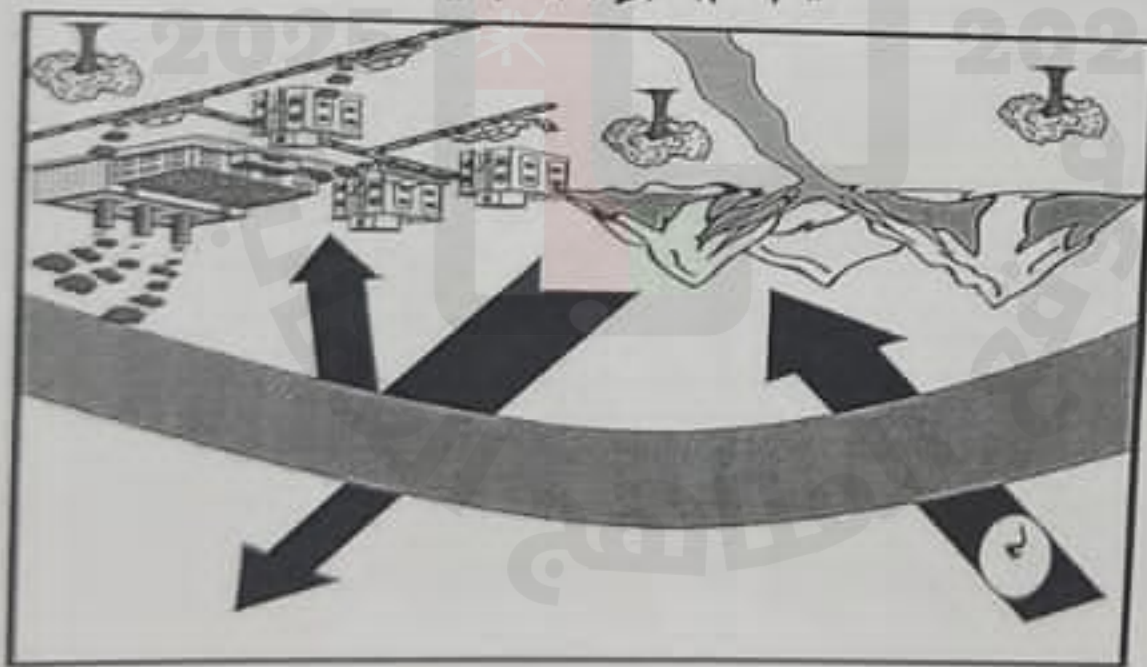
•

يتبع/٥

يَا أَيُّهَا الْمَدِينَةُ الْوَسْطَى الْأَمَامَةِ تَشِيرُ إِلَيْهِ الَّذِي لَهُ الْمَقْدُونَةُ الْخَيْرِ - 2

المشكلة البيئية الموضحة في الشكل ٣-٣

١- اكتب المشاكل البنيوية الموضحة في الشكل السابق.



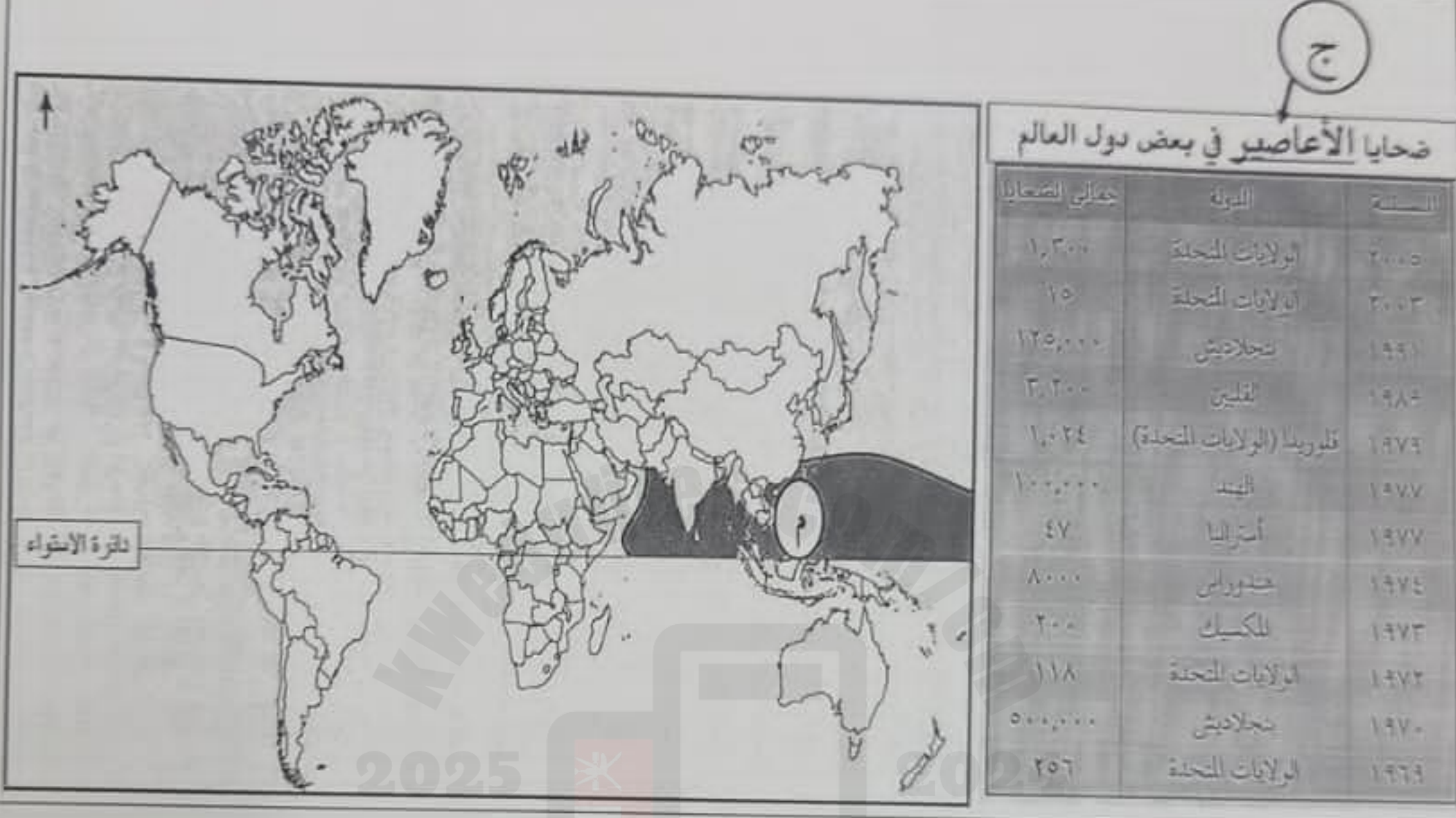
٢- عوامل الإنتاج والتمويل.

٢٠١٥ / ٢٠ / ٢٤ : العام الدراسي
الاول : الدور الثاني : الفصل الدراسي
المصنف : الماعشر : المادة :

تابع: ثانيًا: الأسئلة المقالية:

(١٥)

أ- ادرس الشكل الذي أمامك، ثم أجب عن الأسئلة التي تليه:



١- في أي فصل في السنة تنشط العواصف المدارية في المنطقة المشار إليها بالرمز (م) في الخريطة؟

٢- استخرج من الجدول الدولة التي تُعد الأكثر من حيث عدد الضحايا التي خلفتها الأعاصير.

٣- عرف المفهوم المشار إليه بالرمز (ج) في الجدول.

٤- اكتب على الخريطة السابقة اسم المحيط الذي تنشأ فيه الأعاصير التي يطلق عليها مسمى (Cyclone)

يتبع/٨

تابع: ثانيًا: الأسئلة المقالية:

- ب- ١- صنف الأقاليم المناخية بين القوسين والمشار إليها في الخريطة بالأرقام من (١-٣) بكتابتها حسب نوع الإقليم المناخي في الجدول التالي:
(الإقليم الصحراوي- الإقليم شبه الصحراوي- إقليم البحر المتوسط)



الرقم	رمز الإقليم المناخي	نوع الإقليم المناخي
١		
٢		
٣		

- ٢- اكتب نتيجة واحدة ترتبت على استنزاف المياه الجوفية في سهل الباطنة.

ج- قارن بين التكتلات الاقتصادية حسب معطيات الجدول الآتي:

م	أوجه المقارنة	القارة التي يوجد فيها	الهدف من تأسيسه
١	التكتل الاقتصادي		
٢			

يتبع/٩