

تم تحميل هذا الملف من موقع المناهج العُمانية



\* للحصول على أوراق عمل لجميع الصفوف وجميع المواد اضغط هنا

<https://almanahj.com/om>

\* للحصول على أوراق عمل لجميع مواد الصف العاشر اضغط هنا

<https://almanahj.com/om/10>

\* للحصول على جميع أوراق الصف العاشر في مادة اجتماعيات وجميع الفصول, اضغط هنا

<https://almanahj.com/om/10social>

\* للحصول على أوراق عمل لجميع مواد الصف العاشر في مادة اجتماعيات الخاصة بـ الفصل الأول اضغط هنا

<https://almanahj.com/om./10social1>

\* لتحميل كتب جميع المواد في جميع الفصول للـ الصف العاشر اضغط هنا

<https://almanahj.com/om./grade10>

للتحدث إلى بوت المناهج العمانية على تلغرام: اضغط هنا

[https://t.me/omcourse\\_bot](https://t.me/omcourse_bot)



# الامتحان التدريبي لمادة الدراسات الاجتماعية الفصل الدراسي الأول للعام الدراسي ١٤٣٧ / ١٤٣٨ هـ - ٢٠١٦ / ٢٠١٧ م

- المادة: الدراسات الاجتماعية الصف العاشر • عدد صفحات أسئلة الاختبار: (٨).
- زمن الإجابة: ساعتان • الإجابة في الورقة نفسها.

			اسم الطالب
	الصف		المدرسة

درجة السؤال		السؤال
عشرات	آحاد	
		١
		٢
		٣
		٤
		المجموع
	٦٠	المجموع الكلي

التوقيع /

اسم المصحح /

التوقيع /

اسم المراجع /

المديرية العامة للتربية والتعليم لمحافظة شمال الباطنة

الامتحان التدريبي للصف العاشر للفصل الدراسي الأول للعام الدراسي ٢٠١٦-٢٠١٧ م

المادة: الدراسات الاجتماعية	الزمن: ساعتان
الدرجة الكلية: (٦٠) درجة	تنبيه: الأسئلة في (٨) صفحات
اسم الطالب/ة:	الشعبة: .....

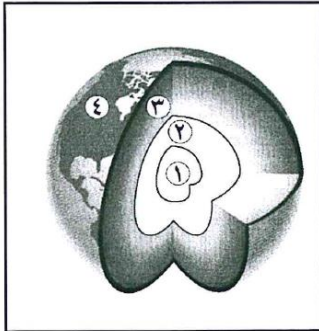
أجب عن جميع الأسئلة الآتية

السؤال الأول: ضع دائرة حول رمز الإجابة الصحيحة من بين البدائل المعطاة.

١- جميع ما يلي من الصخور النارية ما عدا:

- أ - الجرانيت      ب - الدولوميت      ج - الجابرو      د - الدونايت

٢- الرقم الذي يشير إلى طبقة الوشاح في الشكل المقابل:



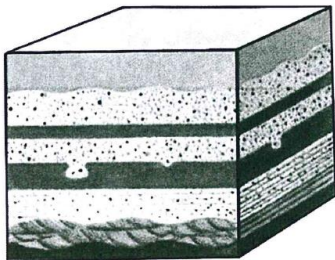
- أ. ١  
ب. ٢  
ج. ٣  
د. ٤

٣- بدأت قارة بنجاليا في المرحلة الثانية حسب نظرية زحزحة القارات بالانقسام الى قارتين هما:

- أ - لوراسيا شمالا وجندوانا جنوبا  
ب - لوراسيا جنوبا وجندوانا شمالا  
ج - لوراسيا غربا وجندوانا شرقا  
د - لوراسيا شرقا وجندوانا غربا

٤- المرحلة التي يمثلها الشكل المقابل من مراحل تكون الصخور الرسوبية:

- أ - الأولى      ب - الثانية      ج - الثالثة      د - الرابعة



(٢)

المادة: الدراسات الاجتماعية الصف: العاشر الفصل الدراسي: الأول العام الدراسي: ٢٠١٦-٢٠١٧ م

تابع/ السؤال الأول:

٥- انتصر المسلمون على الفرس في معركة:

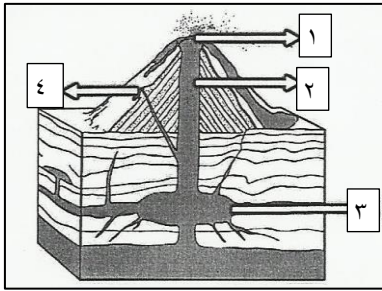
د - اليرموك

ج - صفين

ب - القادسية

أ - النهروان

٦- الرقم الذي يشير إلى الفتحات الجانبية للبركان الموضح في الشكل المقابل:



أ - ١

ب - ٢

ج - ٣

د - ٤

٧- تتولد الأمواج بصورة عامة نتيجة لـ:

د- سرعة الرياح

ج- حركة القمر

ب- البراكين

أ- الزلازل

٨- نوع الكثبان الرملية الواضحة في الصورة المقابلة:



أ- نجمية

ب- طولية

ج- برخان

د- عكسية

(٣)


المادة: الدراسات الاجتماعية الصف: العاشر الفصل الدراسي: الأول العام الدراسي: ٢٠١٦-٢٠١٧ م

تابع/ السؤال الأول:

٩- قائل عبارة (ما أجبت في الفتوى حتى سألت من هو أعلم مني) الإمام:

أ- أحمد بن حنبل      ب- مالك بن أنس      ج- أبي عبدالله الشافعي      د- أبي حنيفة النعمان

١٠- الشكل المقابل ناتج عن:



أ- النحت البحري

ب- الإرساب النهري

ج- النحت النهري

د- الإرساب البحري

١١- طريقة تتم من خلالها عملية التجوية الميكانيكية:

أ- التفلق      ب- التميؤ      ج- الكربنة      د- الأكسدة

١٢- المدينة التي تأسست فيها مدرسة الحديث:

أ- الكوفة      ب- مكة المكرمة      ج- الفسطاط      د- المدينة المنورة

(٤)

المادة: الدراسات الاجتماعية الصف: العاشر الفصل الدراسي: الأول العام الدراسي: ٢٠١٦-٢٠١٧ م

### السؤال الثاني:

أولاً: عرف كلا مما يلي:  
أ- الالتواءات.

.....

ب- التجوية.

.....

ج- التذرية.

.....

ثانياً: أ) اذكر اثنين مما يلي:

١- الأشكال الناتجة عن الإرساب البحري.

.....

.....

٢- المراكز الفكرية التي احتضنت الكثير من العلماء في عمان.

.....

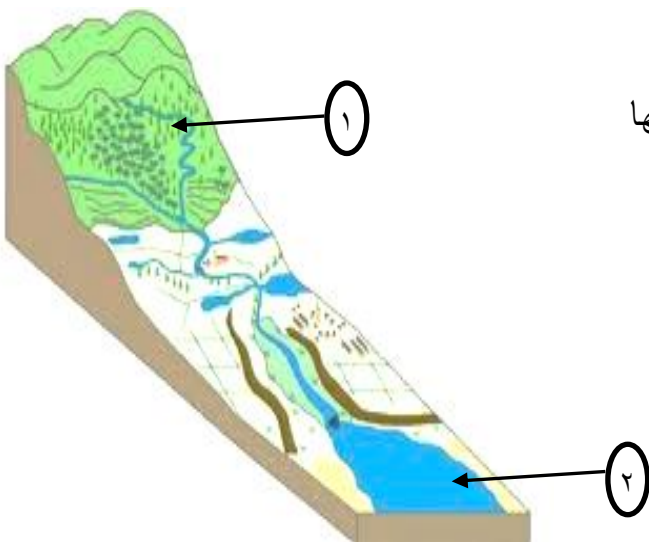
ب) ادرس الشكل المقابل ثم أجب عن الاسئلة الآتية.

١- ما المرحلة التي يمر بها النهر في المنطقة المشار إليها

بالرقم (١) ؟ .....

٢- اذكر الشكل الناتج من الإرساب النهري والمشار إليه

بالرقم (٢) .....



(٥)

المادة: الدراسات الاجتماعية الصف: العاشر الفصل الدراسي: الأول العام الدراسي: ٢٠١٦-٢٠١٧ م

تابع السؤال الثاني:

ثالثاً: صنف في الجدول آداب الاختلاف الآتية إلى آداب أخلاقية وآداب علمية.  
(عدم الغيبة – إبداء الرأي – الموضوعية – حسن الضن – البحث عن الحقيقة – الاحترام)

آداب أخلاقية	آداب علمية

١٢

السؤال الثالث:

أولاً: أ) علل ما يلي:

١- تكون جبال الهملايا.

.....

.....

٢- اختفاء بعض المذاهب الإسلامية ولم يبق لها وجود.

.....

.....

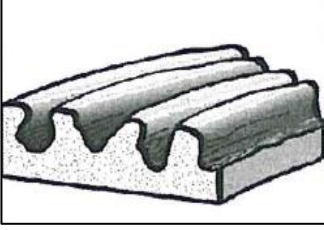
ب) قارن بين أحواض العرق وسهول الرق من حيث نوع الرواسب.

الأشكال الأرضية	نوع الرواسب
أحواض العرق	
سهول الرق	

تابع: السؤال الثالث:

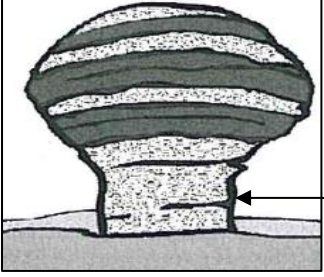
ثانيا: ادرس الشكلين المقابلين، ثم أجب عن الاسئلة التالية.

أ- ما الظاهرة الجيومورفولوجية الواضحة في الشكل (١)؟



١

ب- بم تفسر تفتت الصخور في المنطقة المشار إليها بالرقم (٢)؟



٢

ثالثا: أ) وضح كيفية تكون كل من:

١- الأقواس في المناطق الساحلية.

٢- السهل الفيضي.

ب) "تعرضت ولاية محضة لهزة أرضية بقوة (٣,٧) عام ٢٠٠٨ م حسب مصادر الرصد الزلزالي". من خلال ذلك أجب عما يلي.

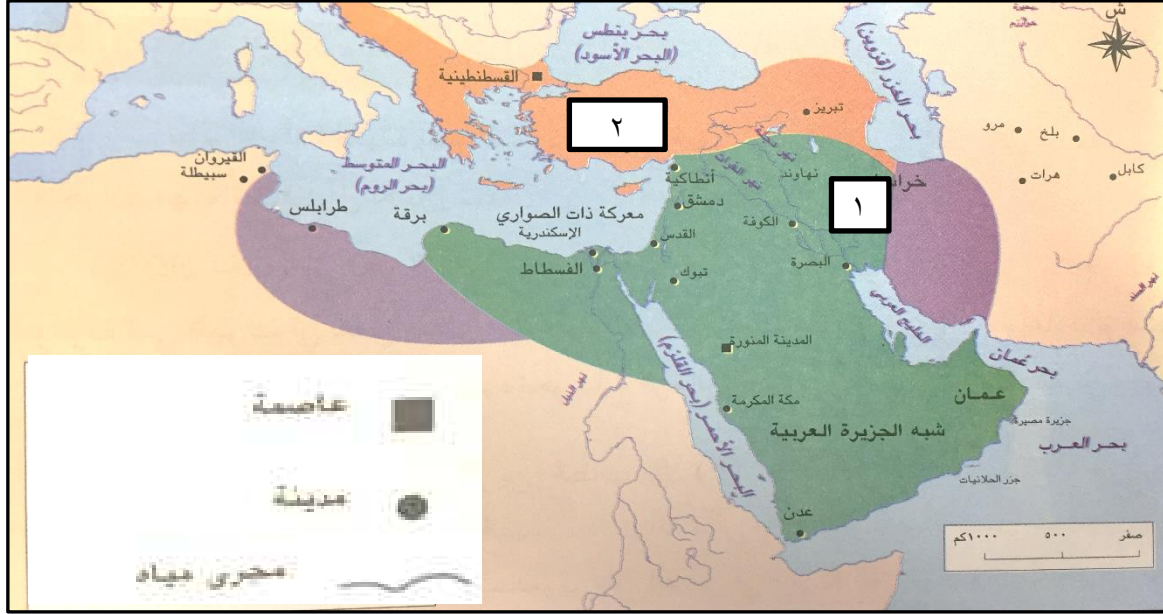
١- استنتج اثنين من الآثار الناتجة عن الهزة الأرضية التي أثرت على ولاية محضة.

٢- ما الجهاز المستخدم لمعرفة مدلول الرقم (٣,٧) الوارد في الفقرة؟



**السؤال الرابع:**

أولاً: أمامك خريطة حدود الدولة الإسلامية زمن الخلفاء الراشدين. ادرسها جيداً ثم اجب عن الاسئلة التالية.



أ- سم الخليفة الذي بدأ الحملات العسكرية على الاقليم المشار اليه بالرقم (١).

.....

ب- ما الامبراطورية المشار اليها بالرقم (٢)؟ .....

ثانياً: أ) صف طريقة ما يلي:

١- تكون اللوس.

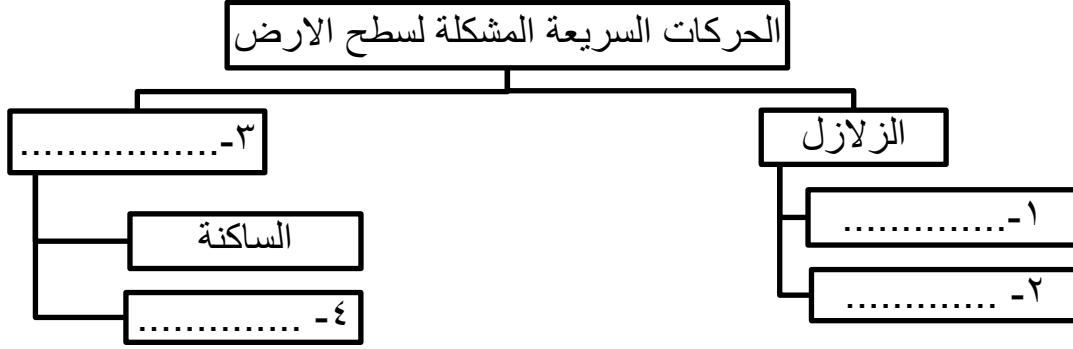
.....  
 .....  
 .....  
 .....

٢- تفتت الصخور في المناطق الباردة.

.....  
 .....  
 .....

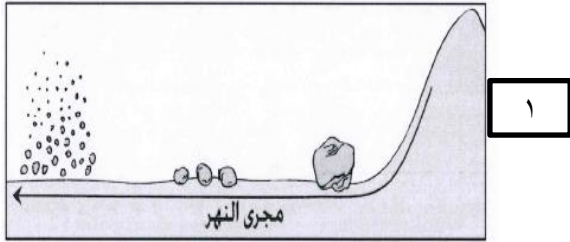
تابع: السؤال الرابع:

تابع/ ثانيًا: ب) من خلال دراستك لموضوع "العوامل الداخلية التي تسهم في تشكل سطح الأرض". أكمل المخطط التالي بطريقة صحيحة.



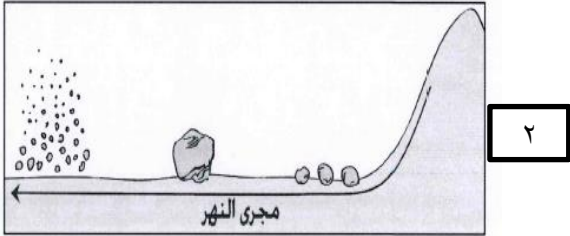
ثالثًا: أ) الشكل الذي يمثل الترتيب الصحيح للرواسب النهرية من حيث حجمها.

(اختر الإجابة)



١ ○

٢ ○



فسر إجابتك.

.....  
 .....  
 .....

ب) "أدى اتساع الدولة الإسلامية في عهد الخلفاء الراشدين والأمويين إلى اتساع الاجتهاد وتطوره عند العلماء والفقهاء المسلمين" فسر العبارة السابقة.

.....  
 .....

ج) "تنطلق الوسطية في الإسلام من فكر الرسول صلى الله عليه وسلم". وضح ذلك.

.....  
 .....

انتهت الأسئلة،، مع الأمنيات لكم بالنجاح والتفوق

عدد أوراق الإجابة (٤)



المديرية العامة للتربية والتعليم لمحافظة شمال الباطنة  
[نموذج إجابة الامتحان التدريبي للصف العاشر الاساسي لمادة الدراسات الاجتماعية]  
العام الدراسي ٢٠١٦ / ٢٠١٧ م - الفصل الدراسي الأول

الدرجة الكلية ٦٠ درجة

إجابة السؤال الأول				الدرجة: (٢٤) درجة
المفردة	البديل الصحيح	الإجابة	الدرجة	الصفحة
١	ب	الدولميت	٢	٣٣
٢	ج	٣	٢	١٦
٣	أ	لوراسيا شمالا وجندوانا جنوبا	٢	١٤
٤	د	الرابعة	٢	٣٥
٥	ب	القادسية	٢	٧٩
٦	د	٤	٢	٢٣-٢٢
٧	د	سرعة الرياح	٢	٦٧
٨	أ	النجمية	٢	٥٧
٩	ب	مالك بن أنس	٢	٩٧
١٠	ج	النحت النهري	٢	٦١
١١	أ	التفلق	٢	٤٥
١٢	د	المدينة المنورة	٢	٨٨
المجموع				٢٤ درجة

إجابة السؤال الثاني:

الجزئية	الإجابة	الدرجة	الصفحة	الوحدة
أولا	أ- الالتواءات: هي طيات أو ثنيات تصيب الأرض نتيجة الضغط الناتج عن الحركات الأرضية.	١	٢٨	الأولى
	ب- التجوية: مجموع العمليات التي تسبب تقتت الصخور وتشققها ميكانيكيا أو تحللها كيميائيا.	١	٤٢	الثانية
	ج- التذرية: عملية حت الرمال والحبيبات الناعمة من الصخور والتراب الجافة عندما تكون سرعة الرياح أكثر من ١٢ كم في الساعة.	١	٥٢	الثانية
ثانيا	(أ) ١- الرواسب الشاطئية(البلاج) / اللسان البحري / الحواجز الرملية.	٢	٧٣	الثانية
	٢- نزوى / الرستاق / صحار	٢	٨٦	الثالثة
	(يكتفى باثنين في ١ و ٢)			
	(ب) ١- الشباب	١	٦٠	الثانية
	٢- الدلتا	١	٦٤	الثانية
ثالثا	آداب أخلاقية	ثلاث درجات لكل نصف درجة	٩٣ - ٩٤	الثالثة
	الاحترام عدم الغيبة حسن الضن			
	آداب علمية			
	إبداء الرأي الموضوعية البحث عن الحقيقة			

الجزئية	الإجابة	الدرجة	الصفحة	الوحدة
أولا	(أ) ١ - نتيجة اصطدام الصفيحة الهندية بصفيحة أوراسيا/ بسبب القوة الناتجة عن ضغط الصفائح.	١	١٦	الأولى
	٢ - بسبب عدم انتشار آرائه بصفة كبيرة / بسبب تطرف أتباعه وشدة آرائه التي تتعارض مع مبادئ الإسلام.	٢	٩٨	الثالثة
	(ب)	درجتان لكل درجة	٥٣ - ٥٤	الثانية
	الأشكال الأرضية			
	أحواض العرق			
	سهول الرق			
ثانيا	أ- الiardنج	١	٥٤ - ٥٥	الثانية
	ب- بسبب تأثر الأجزاء الرخوة من هذه الصخور بنحت الرياح.	١	٥٥-٥٣	الثانية
ثالثا	(أ) ١ - تنشأ نتيجة امتداد اليابس في البحر، فتعمل الأمواج على نحت جانبي اليابسة مكونة كهفا ما تلبث أن تلتقي من الجهتين فتكون قوسا بحريا.	١	٧١	الثانية
	٢ - يتكون السهل الفيضي بطريقتين: الأولى: عن طريق النحت الجانبي ويتمثل في عملية توسيع الوادي حيث ينحت النهر في الجوانب المقعرة ويرسب على الجوانب المحدبة للمنعطفات.	١	٦٣	الثانية
	الثانية: عن طريق فيضان النهر فتنتشر الرواسب وتغطي أرض الوادي. (يكتفى بطريقة واحدة)			
	(ب) ١ - شعر به الانسان/ تأرجح الأجسام المعلقة/ أضرار طفيفة. (يكتفى باثنين)	٢	٢١	الأولى
	٢ - السيزموجراف	١	٢٠	الأولى

**إجابة السؤال الرابع:**

الجزئية	الإجابة	الدرجة	الصفحة	الوحدة
أولا	أ- الخليفة عمر بن الخطاب رضي الله عنه.	١	٧٩	الثالثة
	ب- الحضارة البيزنطية / الرومانية	١	٧٩ - ٨٠	الثالثة
ثانيا	(أ) ١- تقوم الرياح بحمل حبيبات من الغبار والرمل الخفيف من الصحراء وتبقى معلقة في الهواء لمدة طويلة لصغر حجمها ثم تسقط بفعل الأمطار والجاذبية الأرضية وتتراكم شيئا فشيئا مكونة تربة صفراء تعرف باللوس.	٢	٥٦	الثانية
	٢- تتم عملية تفتت الصخور في المناطق الباردة بفعل تسرب المياه إلى شقوق وفواصل الصخر، وهو ما يؤدي إلى تجدها ليلا، وبالتالي زيادة حجم الماء المتجمد في شقوقها فيكون من العنف لدرجة تفوق طاقة الصخر على التماسك فيتهشم ويتفتت.	١	٤٦	الثانية
	(ب) ١ + ٢ (بركانية – تكتونية – بلوتونية) كل في مربع (يكتفى باثنين) ٣- البراكين ٤- النشطة / المتقطعة / الخاملة (يكتفى بواحد)	درجتان لكل نصف درجة		
ثالثا	(أ) الإجابة (١) التفسير: يتم الإرساب النهري عندما يقل حجم المياه وتتناقص سرعتها فيبدأ النهر بإرساب المواد الكبيرة الحجم أولا وتليها الأقل حجما وهكذا بالتدريج.	١	٦٣	الثانية
	(إذا كان الاختيار الأول خاطئ تعتبر الإجابة الثانية خاطئة)	٢	٦٣	الثانية
	ب- بسبب دخول العديد من الثقافات والشعوب الى الدولة الإسلامية / وانصواء العديد من الأقاليم والبلدان ضمن حدودها / وتباين العادات والتقاليد / وما طرأ على حياة الناس من ثقافات.	١	٨٧	الثالثة
	(يكتفى بتفسير واحد) ج- لأنه يتمثل في شتى وجوه الحرية والشورى والمساواة/ ويمثل الحق والعدل والمساواة / ويحارب الطغيان والفساد والانحلال / ويدعوا الى حمل العلم والعمران والحضارة في الأرض.	١	٨٥	الثالثة
	(يكتفى بواحد)			

**\*\*\* انتهى نموذج الإجابة \*\*\***