

تم تحميل هذا الملف من موقع المناهج العُمانية



*للحصول على أوراق عمل لجميع الصفوف وجميع المواد اضغط هنا

<https://almanahj.com/om>

* للحصول على أوراق عمل لجميع مواد الصف الأول اضغط هنا

<https://almanahj.com/om/1>

* للحصول على جميع أوراق الصف الأول في مادة رياضيات ولجميع الفصول, اضغط هنا

<https://almanahj.com/om/1math>

* للحصول على أوراق عمل لجميع مواد الصف الأول في مادة رياضيات الخاصة بـ الفصل الثاني اضغط هنا

<https://almanahj.com/om/1math2>

* لتحميل كتب جميع المواد في جميع الفصول للـ الصف الأول اضغط هنا

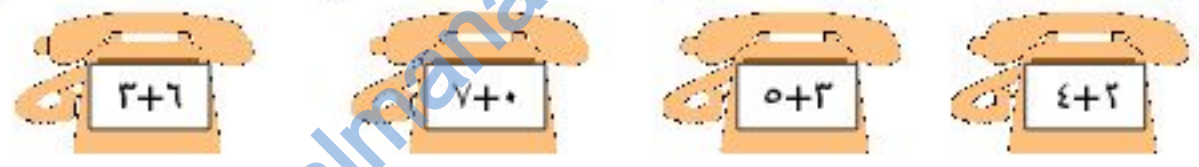
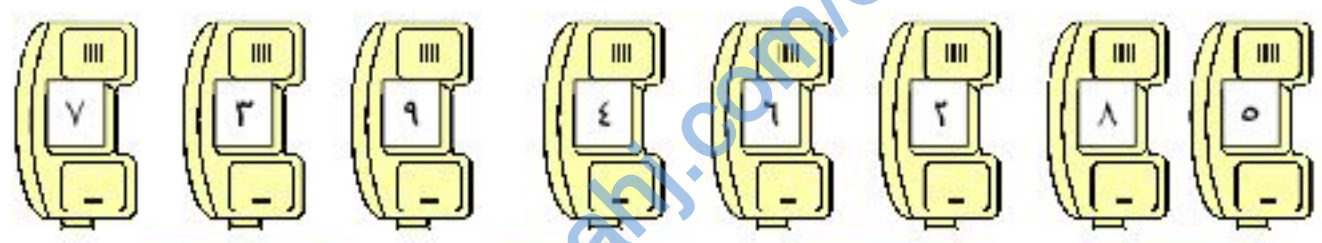
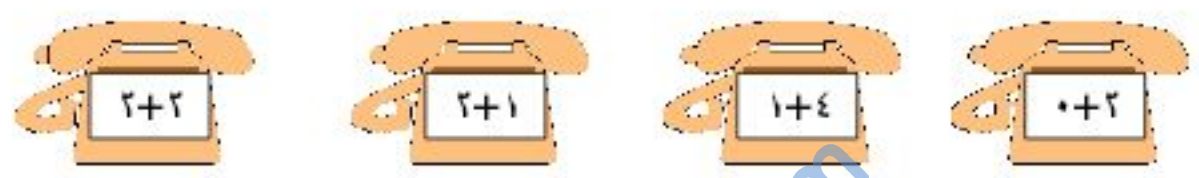
<https://almanahj.com/om/grade1>

للتحدث إلى بوت على تلغرام: اضغط هنا

https://t.me/omcourse_bot

تعرف حقائق الجمع والطرح ضمن العدد (١٠)
حل جمل مفتوحة على حقائق الجمع والطرح
ضمن العدد (١٠)

١- صل جملة الجمع بالعدد المناسب :



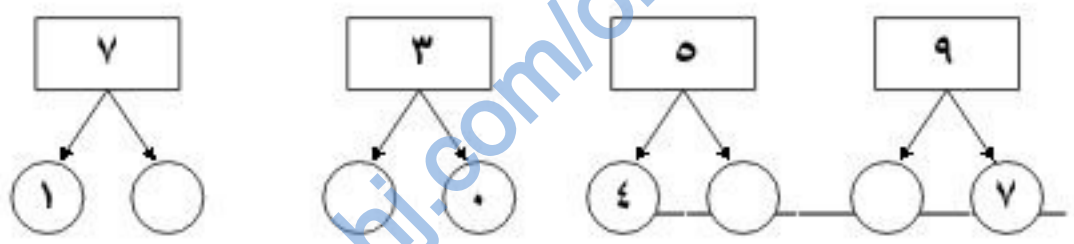
٢- اكتب العدد المناسب في الفراغ ليكون المجموع مساوياً

للعدد :

٦	٢	٤	٨
٤ +	١ +	٢ +	٦ +
.... + ٠ + ٢ + ١ + ٤

تعرف حقائق الجمع والطرح ضمن العدد (١٠)
 حل جمل مفتوحة على حقائق الجمع والطرح ضمن
 العدد (١٠)

٣ - أملأ بالعدد المناسب :



٤ - اكتب الحرف المقابل لنتاج الجمع ثم أعرف اسم
 الحيوان :

٤	ج
٦	ب
٧	د
٥	أ
٩	ز

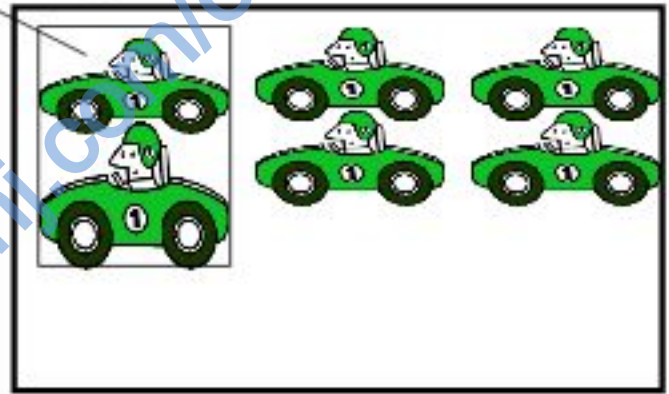

$\begin{array}{r} 0 \\ + \\ 4 \\ \hline \end{array}$	$\begin{array}{r} 3 \\ + \\ 3 \\ \hline \end{array}$	$\begin{array}{r} 8 \\ + \\ 1 \\ \hline \end{array}$	$\begin{array}{r} 2 \\ + \\ 3 \\ \hline \end{array}$

٥ - لون النواتج المتساوية باللون نفسه .

$4+4$	$0+2$
$3+4$	$3+0$
$1+1$	$6+2$
	$2+1$
	$6+1$

تمثيل عمليتي الجمع والطرح بالرموز .
تعرف العلاقة بين الجمع والطرح ضمن العدد (١٠)

١- اكتب جملة الطرح المناسبة :



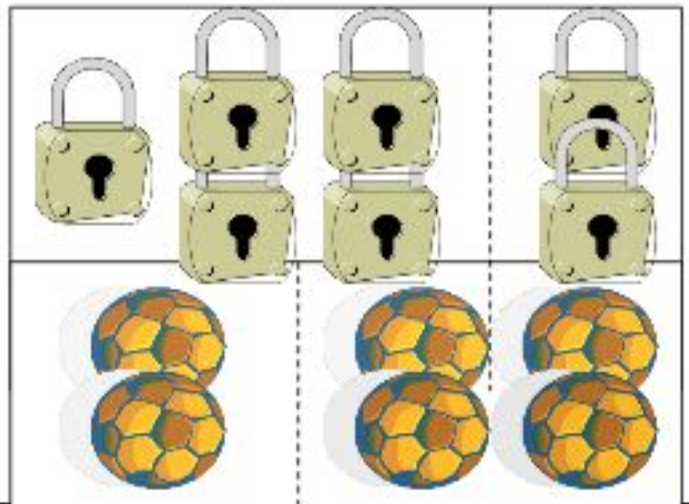
= ○

= ○

٢- املأ الفراغات بالأعداد المناسبة :

-- + --
-- + --
-- + --
= +

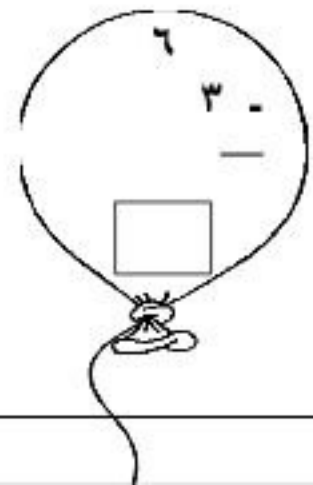
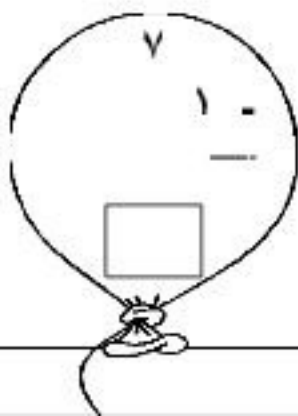
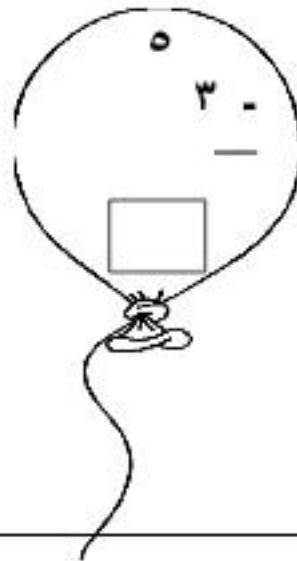
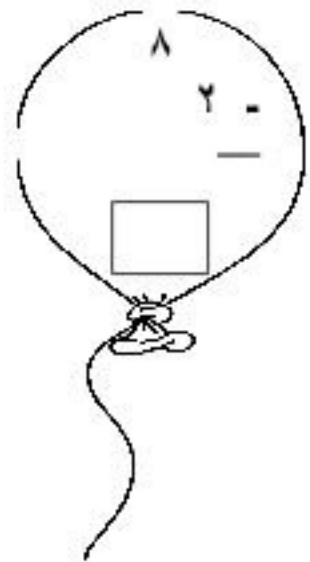
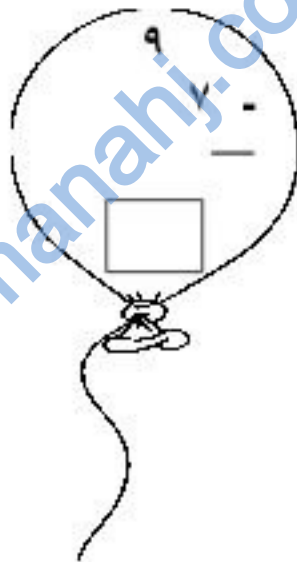

-- + --
-- + --





تعرف حقائق الجمع والطرح ضمن العدد (١٠)

* ا طرح ثم لون النواتج المتساوية باللون نفسه :



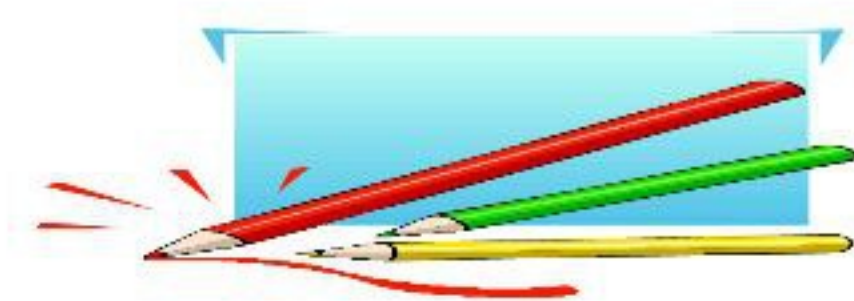
تعرف حقائق الجمع والطرح ضمن العدد (١٠)
 حل جمل مفتوحة على حقائق الجمع والطرح
 ضمن العدد (١٠)

١ - اكتبى العدد المناسب داخل :

$\begin{array}{r} 6 \\ - 4 \\ \hline \square \end{array}$	$\begin{array}{r} \square \\ + 8 \\ \hline 9 \end{array}$	$\begin{array}{r} 3 \\ + 0 \\ \hline \square \end{array}$	$\begin{array}{r} 5 \\ + 2 \\ \hline \square \end{array}$
$\begin{array}{r} 8 \\ \square - \\ \hline 6 \end{array}$	$\begin{array}{r} \square \\ - 2 \\ \hline 3 \end{array}$	$\begin{array}{r} 1 \\ \square + \\ \hline 2 \end{array}$	$\begin{array}{r} 4 \\ - 4 \\ \hline \square \end{array}$

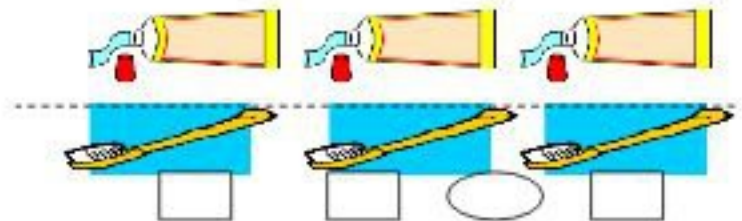

٢ - املئى الفراغات في الجدول بالأعداد المناسبة :

6	4	7	5	<input type="text"/>	0	2	1	3	<input type="text"/>
				-					+
				9					6



تمثيل عمليتي الجمع والطرح بالرموز .
تعرف العلاقة بين الجمع والطرح ضمن العدد (١٠) .
حل مسائل شفوية ومصورة على كل من عمليتي
الجمع والطرح ضمن العدد (١٠) .

٣ - عبر عن الصور بجمل رياضية مناسبة :



٤ - اجمع ثم اكتب لكل عملية جمع عمليات الطرح الممكنة :

$$\begin{array}{r} _ = _ \\ _ = _ + _ \end{array} \quad \begin{array}{r} _ = _ \\ _ = _ + _ \end{array}$$

٥ - أملأ الفراغات بما يناسب :

<input type="checkbox"/>	+	
<input type="checkbox"/>		
<input type="checkbox"/>		

<input type="checkbox"/>	
<input type="checkbox"/>	
<input type="checkbox"/>	

العد بالعشرات تصاعدياً و تنازلياً حتى العدد (٩٠)

١ - اكتب الأعداد الممثلة على العداد :

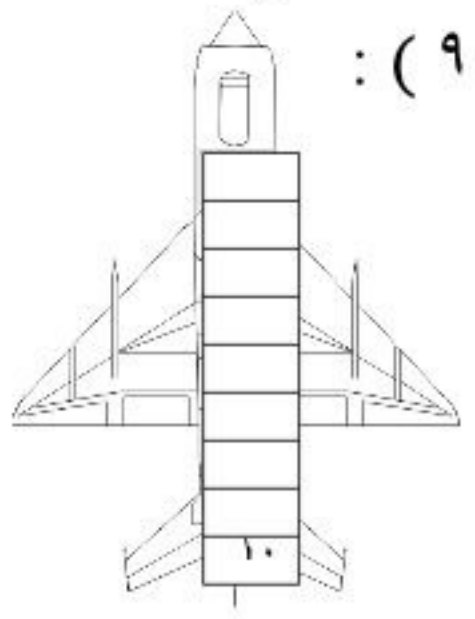
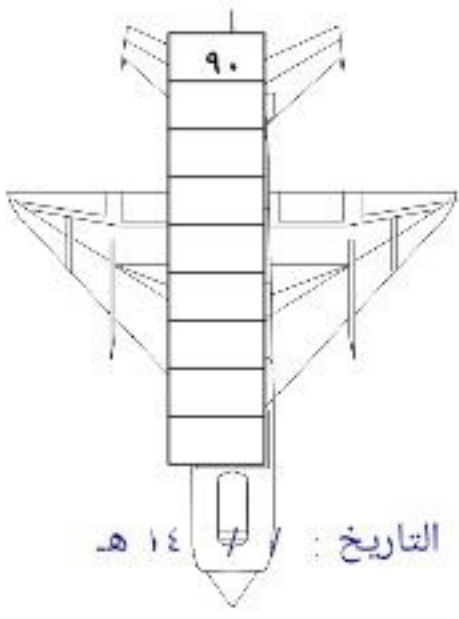
عشرا آحاد	عشرا آحاد	عشرا آحاد

٢ - اكتب الأعداد المناسبة في الفراغ :

= عشرتان = خمسون = تسع عشرات

٣ - أكمل العد تصاعدياً وتنازلياً من (١٠))

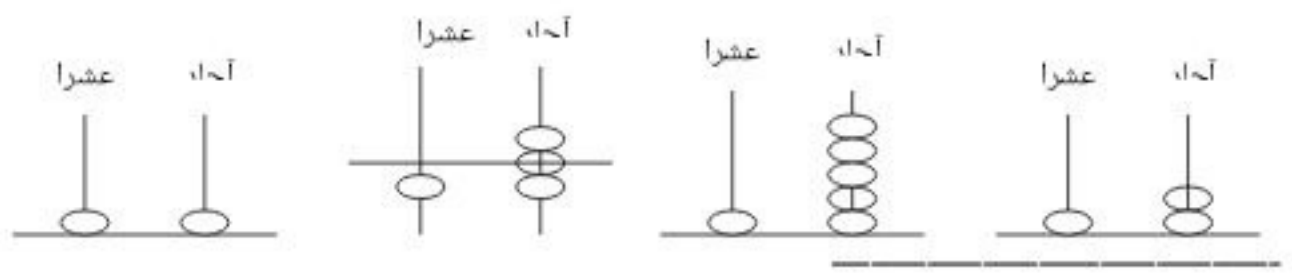
(٩٠):



almanahj.com/om

قراءة الأعداد ضمن العدد (٩٩) وكتابتها .

١ - اكتب الأعداد الممثلة على العداد :



٢ - اكتب العدد المناسب في الفراغ :

٧ =

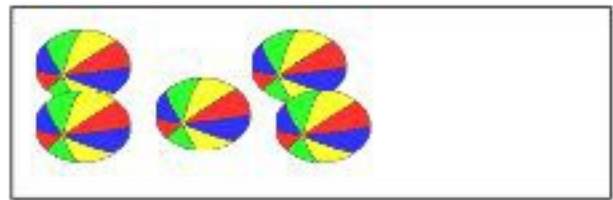
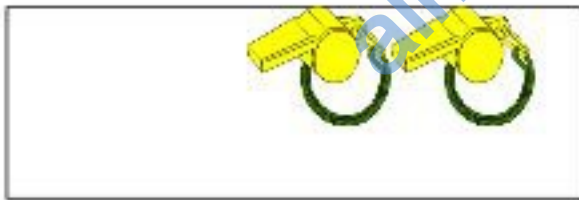
- ١٠ =

٣ - إقرأ ثم اكتب العدد المناسب :

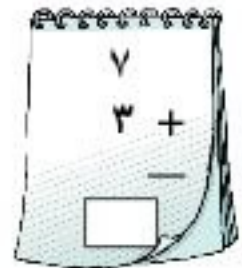
عشرة =	ثلاثة عشر =	أحد عشر =	ستة عشر =	خمسة عشر =
تسعة عشر =	سبعة عشر =	أربعة عشر =	ثمانية عشر =	اثنا عشر =

تعرف حقائق الجمع والطرح ضمن العدد (١٠)

١ - أكمل الرسم للحصول على عشرة :



٢ - اكتب العدد المناسب داخل :



ثمانون =

عشرتان =

عشرات = ٣

٣ - أكمل العد بالعشرات تصاعدياً و تنازلياً :



قراءة الأعداد ضمن العدد (٩٩) وكتابتها
تعيين القيمة المنزلية لرقم في عدد مكون من رقمين
العد بالترتيب من صفر حتى (٩٩)

1- أكمل الفراغات بالعدد المناسب :

عشرات	آحاد
.....

٢ - اكتب بالأرقام :

خمسة وأربعون = واحد وعشرون =

اثنان وثمانون = تسعة وتسعون =

٣ - أكمل بكتابة الأعداد المناسبة :

سبعة عشر = = آحاد + عشرات = +

ثلاثة وستون = = أحاد + عشرات = + =

القيمة المنزلية للرقم ٨ في العدد ٨٥ هي

القيمة المنزلية للرقم ٨ في العدد ٢٨ هي

تحديد العدد السابق والعدد التالي مباشرة لعدد معلوم ضمن العدد (٩٩)

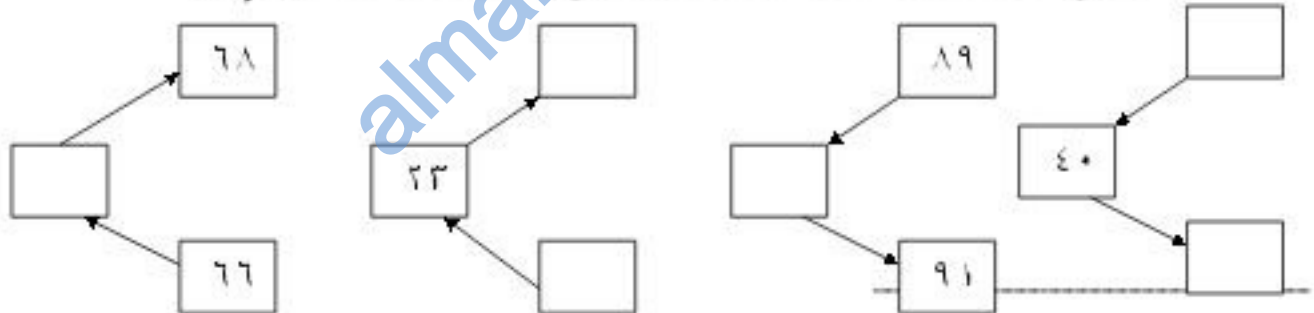
تحديد العدد الواقع بين عددين معلومين ضمن العدد (٩٩)

مقارنة الأعداد ضمن العدد (٩٩) وترتيبها تصاعديا وتنازليا

١- أكمل كتابة الأعداد بالتسلسل :



٢- أكمل سلسلة الأعداد وفق اتجاه السهم :



٣- أحيط العدد الأصغر في (أ) والعدد الأكبر في (ب)

:(

(ب)

٣٤	٧٤
٨٩	٨٠

(أ)

٢١	٢٥
٩٨	٦٨

٤ - رتب الأعداد المعطاة تنازلياً :

٦٠

٩٤

١٨

٤٩

تمييز حدود الأشكال (داخل ، خارج)

تعرف المجسمات (الكرة، الأسطوانة، المكعب)

تعرف الأشكال المستوية)

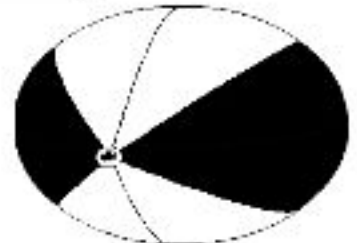
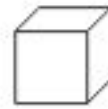
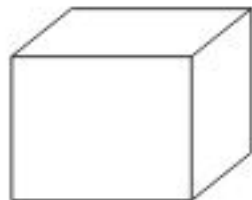
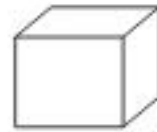
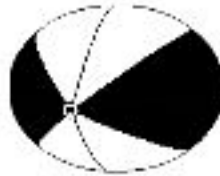
المثلث، المربع، الدائرة، المستطيل)

١ - لاحظ الصورة ثم أكمل الفراغ بكلمة (داخل أو خارج) :



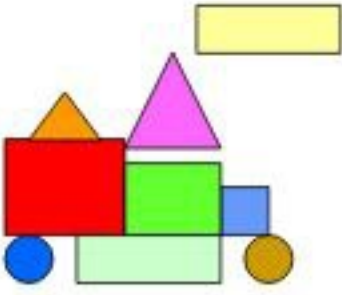
الأكواب الصندوق و الساعة الصندوق

٢ - لون باللون نفسه المجسمات ذات الشكل نفسه :



٣ - لاحظ الشكل ثم أكمل الجدول :





الشكل	العدد
○	
□	
△	
▭	

almanahj.com/om