

تم تحميل هذا الملف من موقع المناهج العُمانية



\* للحصول على أوراق عمل لجميع الصفوف وجميع المواد اضغط هنا

<https://almanahj.com/om>

\* للحصول على أوراق عمل لجميع مواد الصف الأول اضغط هنا

<https://almanahj.com/om/1>

\* للحصول على جميع أوراق الصف الأول في مادة رياضيات وجميع الفصول, اضغط هنا

<https://almanahj.com/om/1math>

\* للحصول على أوراق عمل لجميع مواد الصف الأول في مادة رياضيات الخاصة بـ الفصل الأول اضغط هنا

<https://almanahj.com/om.'/1math1>

\* لتحميل كتب جميع المواد في جميع الفصول للـ الصف الأول اضغط هنا

<https://almanahj.com/om.'/grade1>

للتحدث إلى بوت المناهج العمانية على تلغرام: اضغط هنا

[https://t.me/omcourse\\_bot](https://t.me/omcourse_bot)


(١) ظلل الشكل البيضاوي يمين الإجابة الصحيحة: (درجة):

مجسم لا وجه له:

الأسطوانة ☐المخروط ☐الكرة ☐المكعب ☐



(٢) قدر. (٢ درجة)


التقدير



٣- صل بين المجسم وعدد الأوجه : (درجة):

الاسم
٦
٥
٢

المجسم



(٣) ارسم. مجسم له ٥ أوجه مسطحة ، اوجهه الاربعة مثلثة ووجه واحد مربع. (درجة)



نموذج الاجابة للواجب ١ للمادة الرياضيات للصف الأول

المفردة	الإجابة	الدرجة	مستوى التعليم	الهدف
١	الكرة	١	معرفة	<u>1Gs2</u>
٢	التقدير ( أي عدد قريب من ١٢ ) العدد ( ١٢ )	٢	تطبيق	1Nn11
٣	الاسطوانة ( ٢ ) المكعب ( ٦ )	١	معرفة	<u>1Gs2</u>
٤	<u>الهرم ذو القاعدة المربعة</u>	١	تطبيق	<u>1Gs2</u>

اسم الطالب/ة: .....	سلطنة عمان وزارة التربية والتعليم المديرية العامة بمحافظة جنوب الشرقية مدرسة سيح السندة للتعليم الأساسي (١-٤)	السؤال القصير (١) لمادة الرياضيات للصف الأول
الصف: ١/....		
الدرجة الكلية: ٥/....		

(١) ظلل الشكل البيضاوي يمين الإجابة الصحيحة: (معرفة/ درجة):




العدد الذي يمثل الشكل هو:

١٥ ○ ١٣ ○ ١٠ ○ ١١ ○

(٢) صل بين الشكل واسمه : ( معرفة/ درجة):

الاسم
خماسي
دائرة
مثلث

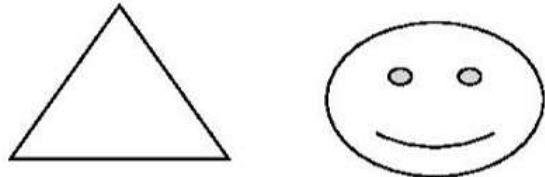


(٣) ضع هذه الكلمات في المكان المناسب: (درجة/ معرفة):



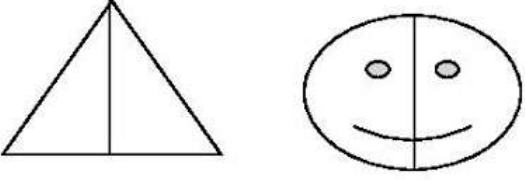
المثلث	الدائرة	المربع
--------	---------	--------



(٤) ارسم خط التماثل: (درجتين/ تطبيق):



نموذج الاجابة للسؤال القصير ١ للمادة الرياضيات للصف الأول

الم فر دة	الإجابة	الدرجة	مستوى التعليم	الهدف
١	١١	١	معرفة	<u>1Nn3</u>
٢	<p>(مثلث) </p> <p>(خماسي) </p>	١	معرفة	<u>1Gs1</u>
٣	<u>الدائرة - المربع</u>	١	معرفة	<u>1Gs1</u>
٤		٢	تطبيق	1Gs3

اسم الطالب/ة:..... الصف: ١/..... الدرجة الكلية: ٥/.....	سلطنة عمان وزارة التربية والتعليم المديرية العامة بمحافظة جنوب الشرقية مدرسة سيح السندة للتعليم الأساسي (١-٤)	السؤال القصير (٢) لمادة الرياضيات للصف الأول
---	--	---

(١) ظلل الشكل البيضاوي يمين الإجابة الصحيحة: (درجة)

العدد الذي يكون من عائلة ٣٠ هو:

34 ○

15 ○

11 ○

17 ○

(٢) أكمل سلسلة الأعداد: (درجتان)

.....	.....	.....	.....	.....	.....	.....	.....	٢٠	١٠
-------	-------	-------	-------	-------	-------	-------	-------	----	----


(٣) صل بين العقود والأعداد العقدية : (درجة)

العدد العقدي	العقود
٧٥	٤٠
٥٥	٧٠
٤٥	

(٤) ظلل ما يمثل العدد: (درجة)


١٥

نموذج الاجابة للسؤال القصير ٢ للمادة الرياضيات للصف الأول

الم فر دة	الإجابة	الدرجة	مستوى التعليم	الهدف
١	٣٤	١	معرفة	<u>1Nn4</u>
٢	١٠٠ - ٩٠ - ٨٠ - ٧٠ - ٦٠ - ٥٠ - ٤٠ - ٣٠	٢	معرفة	<u>1Nn4</u>
٣	٤٠ ( ٤٥ ) ٧٠ ( ٧٥ )	١	معرفة	<u>1Nn4</u>
٤		١	تطبيق	<u>1Nn4</u>