

شكراً لتحميلك هذا الملف من موقع المناهج العمانية



مذكرة شاملة للمادة

[موقع المناهج](#) ⇨ [المناهج العمانية](#) ⇨ [الصف الأول](#) ⇨ [علوم](#) ⇨ [الفصل الثاني](#) ⇨ [الملف](#)

تاريخ نشر الملف على موقع المناهج: 09:54:48 2024-01-01

التواصل الاجتماعي بحسب الصف الأول



روابط مواد الصف الأول على تلغرام

[الرياضيات](#)

[اللغة الانجليزية](#)

[اللغة العربية](#)

[التربية الاسلامية](#)

المزيد من الملفات بحسب الصف الأول والمادة علوم في الفصل الثاني

[واحب منزلي في وحدة المواد في عالمي](#)

1

[نشاط في وحدة المواد في عالمي](#)

2

[سؤال قصير](#)

3

[أسئلة قصيرة وواجبات منزلية](#)

4

[سؤال قصير في الاستقصاء](#)

5



مذكرة العلوم

الصف الاول

الفصل الدراسي الثاني

الدرس الأول

المواد في عالمي

نشاط (صفي - لاصفي) التاريخ:

أولاً: المواد المتوفرة في المنزل :

١ - أذكر مادة صلبة وجدت في المنزل ؟

.....

٢ - ما وظيفة هذه المادة ؟

.....

ثانياً : مواد متوفرة في الصف :-



١ - ما اسم هذا الشكل

.....

٢ - أذكر أسم المادة التي يتكون منها هذا الشكل ؟

.....

٣ - عدد مواد أخرى توجد بالصف من حولك مستعينا بالصورة التي أمامك ؟

.....



www.shutterstock.com - 117596191

تحت اشراف / ايمان ربيع

الدرس الثاني

: استخدام المواد

نشاط (صفي - لاصفي)

الرجل الآلي (الروبوت) ريكو

تأمل الصورة جيدا

وساعد الرجل الآلي (الروبوت) ريكو على توزيع المواد بالأكياس المناسبة صل
الشيء بالكيس المناسب له كما بالمثال ؟



تحت اشراف / ايمان ربيع



الدرس الثالث

تصنيف المواد

التاريخ :
الاستراتيجية: التعلم التعاوني

نشاط (صفي - لاصفي)
زمن النشاط : ١٠ دقائق

هيا يا عبقي أملأ الفراغات بكلمات مناسبة

ورق . صبون . حجر . زجاج . قماش

له الكثير من الألوان	صلب نجده في الأرض	أبيض نرسم عليه
.....

نشربه إنه نقي	نستخدمه للغسيل	قابل للكسر
ماء

** من بيئتك المحيطة بك حدد بعض المواد محددا استخداماتها؟

استخدامه

الشئ

.....

.....

.....

.....

تحت اشراف / ايمان ربيع



الدرس الرابع




واجب منزلي

السؤال الأول : اختر الاجابة الصحيحة :

- ١- يغوص في الماء
(القلم . الخشب . الحديد)
- ٢- المادة المرنة التي تستخدم في صناعة الملابس هي
(القماش . الحجر . الزجاج)
- ٣- السائل الذي تستخدمه في الغسيل هو
(الورق . الخشب . الصابون)

السؤال الثاني : أكمل الجدول التالي مستعينا بالصور :

المادة المستخدمة	الشكل
	

الوحدة الخامسة

الدرس الأول : في الملعب

هيا يا ذكي استكشف معي:-

وصل من العمود (ب) ما يناسب العمود (أ) من وصف دقيق للصورة:-

(ب)

(أ)

تأرجح

قفز

ركض

دوران




حركاتي الجميلة

التاريخ

نشاط (صفي - لا صفي)

هيا يا عبقرى نمرح ونلعب مع علومنا المرحية

*****صل من العمود (ب) ما يناسب العمود (أ)**



تدحرج

توقف

مشي

انزلاق


تحت اشراف / ايمان ربيع

نشاط (صفي - لا صفي)

زمن النشاط ١٠ دقائق الاستراتيجية (التعلم التعاوني)

هيا لنركز ونستكشف أنواع حركتنا :-

اختر الكلمة المناسبة للصورة التي أمامك مما بين القوسين



(قفز - ركض - سريع - دوران)



(قفز - مشي - توقف - بطئ)



(قفز - ركض - تأرجح - مشي)



(قفز - ركض - تأرجح - دوران)



الدرس الثاني






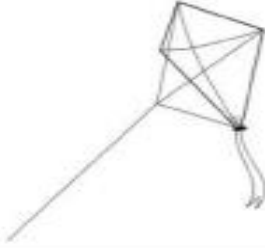


(كيف تتحرك الألعاب)

التاريخ

نشاط صفى

لون الألعاب التي تدفعها باللون الأحمر ، والألعاب التي تسحبها باللون الأزرق ثم سم كل لعبة ما إذا كانت لعبة دفع أو سحب

	
_____	_____
	
_____	_____
	
_____	_____

تحت اشراف / ايمان ربيع

- الدرس الثالث

(الدفع والسحب من حولنا)




هيا يا متفوق تأمل
الصورة وأجب

اختر من الكلمتين الآتيتين الكلمة المناسبة لصورة

(سحب - دفع)



(.....)



(.....)

الدرس الرابع

(تغيير الحركة)

التاريخ

نشاط صفي

اختر من الكلمات الآتية الكلمة المناسبة لكل صورة
(أبطئ - سريع - بطئ - أسرع)



(.....)



(.....)



(.....)



(.....)

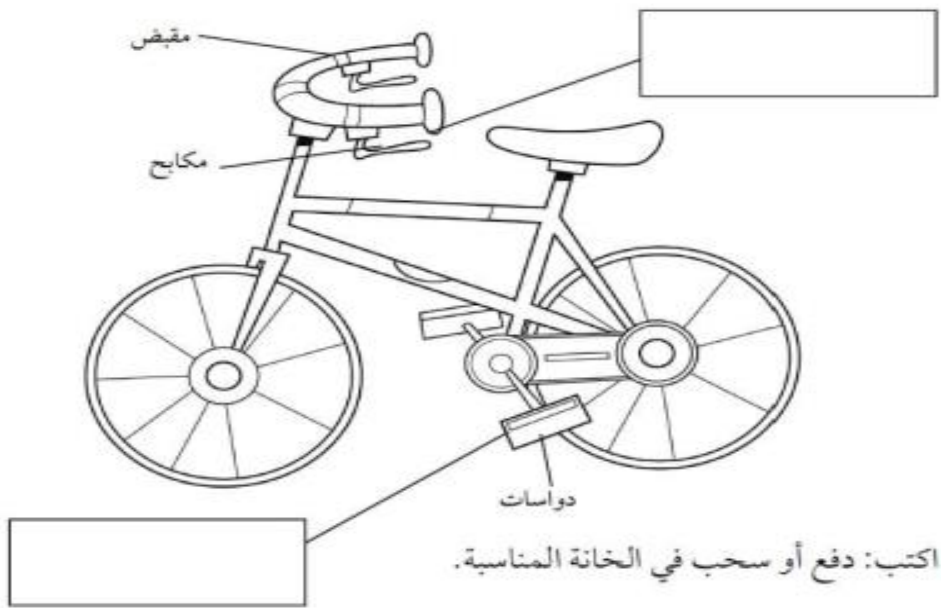


نشاط صفي

هيا لنمرح ونلعب مع الألوان الجميلة
ونلون دراجتك البخارية التي تلعب بها

دفع الدواسات يجعل الدراجة الهوائية أسرع

- لون الدواسات باللون الأخضر .
- سحب المكابح يجعل الدراجة الهوائية أبطئ أو يوقفها .
- لون المكابح باللون الأحمر .
- سحب المقبض يجعل الدراجة الهوائية تأخذ اتجاهها آخر .
- لون المقبض باللون الأزرق .
- لون ما تبقى من الدراجة باللون الأصفر .






الدرس الخامس

التاريخ

نشاط صفي

ضع علامة صح أمام الصورة التي تعبر عن الفائز الحقيقي



الوحدة السادسة

تحت اشراف / ايمان ربيع

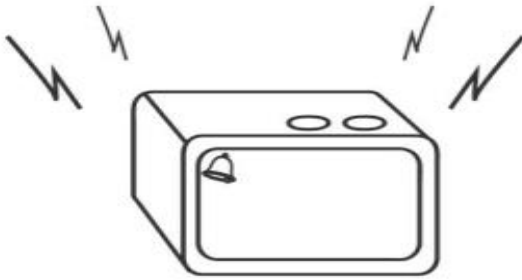

الدرس الأول

(الأصوات اللطيفة والأصوات المزعجة)

هيا يا مجتهد اختر لكل صورة الوصف المناسب لها

(صوت لطيف - صوت مزعج)

(.....)



(.....)

• ارسم أحد الطيور التي تحبها ويكون ذات صوت جميل

الدرس الثاني

تحت اشراف / ايمان ربيع

نشاط (صفي - لاصفي) زمن النشاط ()
أمامك مجموعه من المفردات التي تخص الصوت تأملها جيدا
ثم

وصل من العمود (أ) ما يناسبه من العمود (ب)

أ

١- هادئ

ب



٢- قوي



٣- ضعيف




نشاط تقييمي

تحت اشراف




والان جاء دور تقييم مافهمناه

اختر لكل صورة من الصور الأربع الوصف المناسب
لها من الكلمتين الآتيتين :
(صوت قوي - صوت ضعيف)



.....

.....



.....

.....

(- الدرس الثالث)

تحت اشراف / ايمان ربيع



(حركة الأصوات)

(نشاط صفي - لا صفي)

الاستراتيجية (التعلم التعاوني) زمن النشاط ٥ دقائق

هيا يا عبقرى

ضع علامة (V) أمام الشخص الذي يسمع أقوى صوت للجرس ثم قم بتلوين الشخص الذي يسمع أضعف صوت للجرس



تحت اشراف / ايمان ربيع

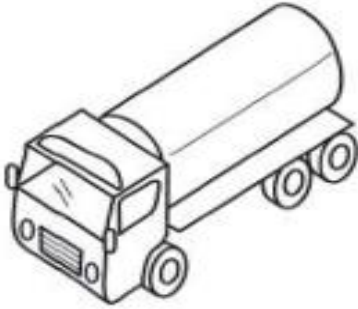

نشاط صفي

التاريخ

زمن النشاط ٥ دقائق

والان بعد ما تعرفنا على الأصوات المختلفة

ضع دائرة حول الصوت الذي تسمعه في منزلك



تحت اشراف / ايمان ربيع

الاسم :

الصف :



سلطنة عمان
وزارة التربية والتعليم
مدرسة الطالب الذكي

نشاط تقييمي

في مادة : العلوم للصف الاول

اختر الاجابة الصحيحة :

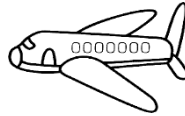
١- تصنع عجلات السيارة من مادة

أ- المطاط ب- الخشب ج- البلاستيك د- المعدن

٢- وصل بين الشكل و الكلمة المناسبة



معدن قوي



زجاج شفاف



بلاستيك خفيف



مطاط مرن

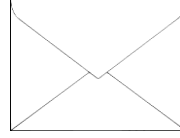

تحت اشراف / ايمان ربيع

٣- ضع علامة (√) أو (×) :

- يمكننا صناعة السفينة من الخشب لانها خفيفة وتطفو فوق الماء ()

- تصنع الوسادة من مادة البلاستيك ()

٤- ضع دائرة حول الأشياء المصنوعة من ورق :



الاسم :

الصف :



سلطنة عمان
وزارة التربية والتعليم
مدرسة الطالب الذكي

نشاط تقييمي

في مادة : العلوم للصف الاول

١- اختر من الكلمتين الأتيتين الكلمة المناسبة للصورة :
(دفع - سحب)




.....




.....



.....



.....



.....

تحت اشراف / ايمان ربيع



سلطنة عمان
وزارة التربية والتعليم
مدرسة الطالب الذكي

الاسم :
الصف :

نشاط تقييمي

في مادة : العلوم للصف الأول

السؤال الأول : ظلل الشكل يمين الاجابة الصحيحة

١- القميص مصنوع من

٢

☐ الورق

☐ القماش

☐ للمعدن

☐ الخشب

٢- من الأشياء المصنوعة من الخشب



السؤال الثاني : ضع دائرة حول الأشياء المصنوعة من الزجاج

٢



١

السؤال الثالث : ضع (ل) أمام كل عبارة من العبارات في الجدول

خطا	صح	العبارة
		المبكرة مصنوعة من مادة قوية
		الكتب مصنوعة من الورق

الاسم :

الصف :



سلطنة عمان
وزارة التربية والتعليم
مدرسة الطالب الذكي

نشاط تقييمي

في مادة : العلوم للصف الأول

السؤال الأول : ظل رمز الإجابة الصحيحة :

(درجة)

* تصنع إطارات السيارة من مطاط لأنه يسبب :

الإحتكاك ○ الإنزلاق ○ التدفء ○ الإرتداد ○

السؤال الثاني : أكمل ما يلي :

(درجة)

* تصنع النوافذ من

السؤال الثالث : ظل رمز الاجابة الصحيحة :

(درجة)

* جميع الاشياء الاتية مصنوعة من زجاج ما عدا :



السؤال الرابع : زاوج بين الشيء والمادة المصنوعة منها :

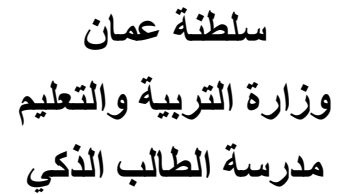
معدن

ورق

بلاستيك

قماش





نشاط تقيمي

١- ضع علامة (√) في المكان المناسب فيما يلي : (درجة)

تصنع اطارات السيارات من المطاط لأن :

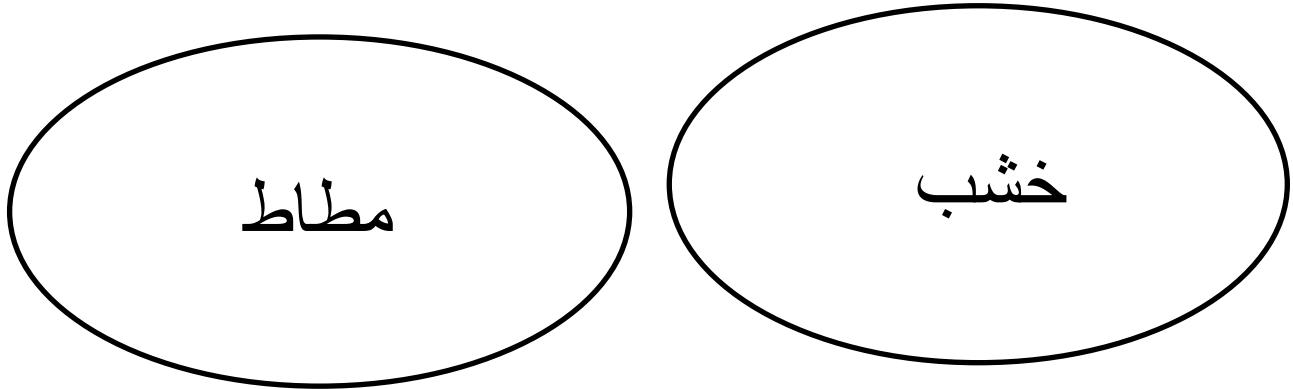
٢- صل بين الشكل والكلمة المناسبة : (درجة)

معدن



تحت اشرف / ایمان ربیع

٣- ابحث في علمك ثم ارسم أو الصق صوراً لأشياء بحسب التصنيف التالي :
(درجتين)



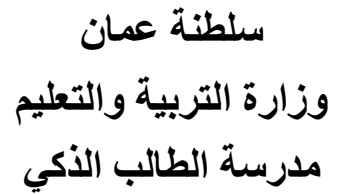
٤- فكر حمدان في صنع قارب صيد من الورق .

هل توافق علي ما يفكر فيه حمدان :

(درجة) استدلال

موافق ☐ غير موافق ☐

برر اجابتك



نشاط تقيمي

السؤال الاول : (٣ درجات)

١- مادة بيضاء نرسم عليها

٢ - مادة لامعة وباردة الملمس

السؤال الثاني : (درجتان)

أ) المادة المستخدمة في الباب هي الورق . ()

ج) يصف القلم والكرسي بأنهما مصنوعان من الخشب. ()

تحت اشراف / ایمان ربیع

الاسم :

الصف :



سلطنة عمان
وزارة التربية والتعليم
مدرسة الطالب الذكي

نشاط تقييمي

في مادة : العلوم للصف الأول

- ظلل الشكل الدائري يمين الاجابة الصحيحة :

(١ درجة)

١- يعبر مصدر صوت بشري هو صوت ؟

○ القطه ○ الطفل ○ الشجرة ○ التلفزيون

(١ درجة)

٢- يحتاج لارتداء سماعة تحمي أذنيه .

○ التلميذ ○ سائق الحافلة ○ عامل حفر الابار ○ بائع الخضار

- ضع دائرة حول الأشياء التي تصدر منها أصواتا يمكن سماعها (١ درجة)



نبات



تلفزيون



سرير



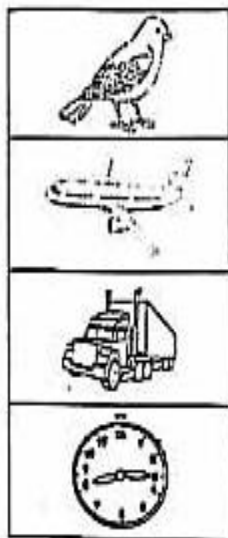
سيارة




كتب

- وصل بين العمود (أ) مع العمود (ب) بما يناسبه من صور (٢ درجة)

(ب)



(أ)



، اشراف / ايمان ربيع

الاسم :

الصف :



سلطنة عمان
وزارة التربية والتعليم
مدرسة الطالب الذكي

نشاط تقييمي

في مادة : العلوم للصف الأول

١- ظلل الاجابة الصحيحة :

* يصنع المصباح من زجاج لأنه : - (١ درجة)

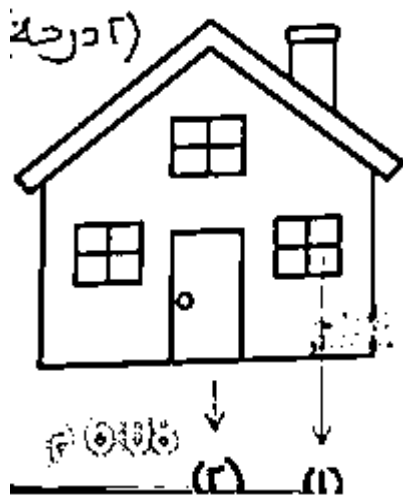
صلب 0 شفاف 0 مرن 0 دافئ 0
٢- أكمل ما يلي : - (١ درجة)

- يتكون القماش من عدة خيوط صغيرة تسمى

٣- ضع علامة (√) في المكان المناسب : (١ درجة)

يصنع هيكل السيارة من المعدن لأن : -

خطأ	صواب	العبارة
		المعدن لين ومرن
		المعدن قوي وصلب



٤- من خلال الشكل الذي امامك ، أجب عما يلي :

* تصنع المادة رقم ١ من

* تصنع المادة رقم ٢ من الخشب لأنه

الاسم :

الصف :



سلطنة عمان
وزارة التربية والتعليم
مدرسة الطالب الذكي

نشاط تقييمي

في مادة : العلوم للصف الأول

١- ظل دائرة الاجابة الصحيحة فيما يلي : (١ درجة)

تتميز بخاصية الليونة هي مادة : -

○ المعدن ○ الخشب ○ القماش ○ الزجاج

٢) أكمل العبارات التالية بكلمة واحدة فقط : (١ درجة)

- تصنع العدسة المكبرة من مادة الزجاج لأنها

- يصنع هيكل السيارة الحقيقية من مادة

٣) ادرس الصور التالية ثم ضع علامة (✓) أو علامة (x) فيما يلي : (١ درجة)



()

أ) تصنع علبة الماء من مادة المعدن

()

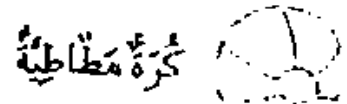
ب) يمكننا اعادة استخدام الاشياء تسمى اعادة تدوير

٤) صل صورة كل مادة بالخاصية المناسبة لها: (١ درجة)

ترتد عند الوقوع

دافئة

مرنة



تحت اشراف / ايمان ربيع