

شكراً لتحميلك هذا الملف من موقع المناهج العمانية



كتيب نماذج الأسئلة معرفة وتطبيق واستدلال

موقع المناهج ⇨ المناهج العمانية ⇨ الصف الأول ⇨ رياضيات ⇨ الفصل الأول ⇨ الملف

تاريخ نشر الملف على موقع المناهج: 2023-11-24 11:54:52 | اسم المدرس: سعاد الهاشمية بشارة الحكمانية نعمة المشايخية

التواصل الاجتماعي بحسب الصف الأول



روابط مواد الصف الأول على تلغرام

[الرياضيات](#)

[اللغة الانجليزية](#)

[اللغة العربية](#)

[التربية الاسلامية](#)

المزيد من الملفات بحسب الصف الأول والمادة رياضيات في الفصل الأول

مذكرة شاملة للمادة	1
سؤال قصير أول	2
اختبار تشخيصي	3
اختبار تحديد المستوى الأكاديمي	4
تدريبات على الأعداد من 1 إلى 10	5

نماذج للأسئلة في

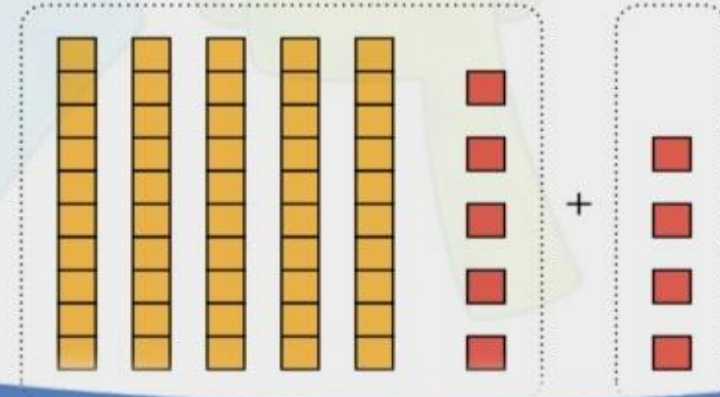
الرياضيات

الصف الأول الفصل الدراسي الأول

تطبيق

استدلال

معرفة



إعداد المعلمات:

أ. سعاد الهاشمية

أ. بشارة الحكمانية

أ. نعمة المشايخية

إشراف (مشرفة التقويم التربوي):

أ. فاطمة المسكرية

رسالتنا إلى أنفسنا وإلى كل المعلمات :

ابحث دائماً عن رغبتك الحقيقية ، واصنع الاختلاف والتميز

يبقى النجاح في كل شيء له تأثير السحر في انشراح الروح وتحقيق الذات

المحاولة بحد ذاتها انجاز.

لا تتوقف عن الحلم حتى ولو بات مستحيلاً

عندما تصل إلى عمق معنى كلمة النجاح تجد أنها ببساطة تعني الإصرار

المقدمة

الحمد لله رب العالمين والصلاة والسلام على خير المرسلين سيدنا محمد وعلى آله وصحبه أجمعين ... وبعد ،،
انطلاقاً من احتياج المعلمات لاكتساب وإتقان مهارة صياغة الأسئلة بمختلف مستوياتها (معرفة – تطبيق – استدلال) . وكذلك حاجة الطلاب للتدريب المستمر على مستويات متنوعة للأسئلة .
بادرت مجموعة من معلمات المجال الثاني إلى إعداد هذا الكتيب يشمل مستويات متنوعة للأسئلة وفق المواصفات الواردة في وثيقة التقويم التربوي، وتم هذا العمل تحت اشراف الأستاذة الفاضلة / فاطمة المسكرية مشرفة التقويم التربوي .
ويأتي هذا العمل كمساهمة من المعلمات لرفع المستوى المعرفي والمهاري لدى المعلمة وأولياء الأمور ومنه رفع المستوى التحصيلي للطلاب أملين من المولى أن يحقق الفائدة المرجوة .
*** هذا الكتيب هو جهد بشري يحتمل الصواب والخطأ ،
لذلك نسعد بملاحظاتكم ومقترحاتكم التي من شأنها الرقي بالمستوى التعليمي .

معلمات المجال الثاني

ملاحظات عامة لاستخدام الكتيب

٢

طريقة تطبيق الأسئلة
الواردة في الكتيب

١

الأساس الذي تم
وضع الأسئلة عليه .

١ / الأساس الذي تم وضع الأسئلة عليه .

❖ الأسئلة في هذا الكتيب تم صياغتها بثلاث مستويات (معرفة ، تطبيق ، استدلال) كما ورد في وثيقة التقويم التربوي وحسب عبارات استطيع أن لكل هدف مما يساهم في استعداد الطالب للتقويم الختامي للأهداف .

❖ الأهداف لا تنتهي في درس واحد وإنما تكون مقسمة في عبارات استطيع أن .

❖ أثناء التقويم النهائي للأهداف لرصد الدرجات عليها على المعلم أن ينتبه أولاً في أي درس ينتهي ذلك الهدف ومن ثم يُصاغ السؤال على الهدف شاملاً وليس على عبارة استطيع أن .

٢ / طريقة تطبيق الأسئلة الواردة في الكتيب:

ج

❖ ضرورة تنبيه الطلاب على أن السؤال قد يحتوي على أكثر من جزء مثل :
ان يجيب الطالب بنعم أو لا أو إجابة محددة ويتبع الجزئية اشرح أو فسر أو برر أو وضح أو لماذا .

ب

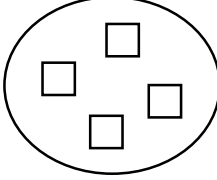


❖ توعية الطلاب بأنواع الأسئلة .
❖ سؤال اختياري وتظليل اختياري واحد فقط (أو في أحيان قليلة تكون هناك اختياران) .
❖ سؤال يحتاج إلى إكمال .
❖ مسألة حياتية تحتاج إلى استنتاج عمليات حسابية .
❖ توصيل .
❖ ترتيب .
❖ رسم .

أ

❖ تعويد الطلاب على قراءة السؤال قراءة صحيحة
❖ ضرورة التكرار على مسامع الطلاب (ماذا فهمت من السؤال أو ما المطلوب من السؤال)

كل التوفيق نرجوه لكم

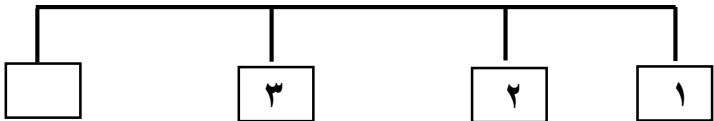
موضوع الدرس : ١- العد حتى عشرة / (١ - ١ تمييز وقراءة الأعداد حتى عشرة)

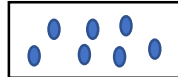



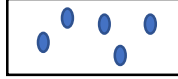

















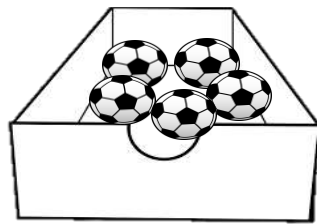
الأهداف	الأسئلة	الدرجة	تصنيف الأسئلة
<p><u>1Nn1 يضع الأعداد بالترتيب (من ١ حتى ١٠٠ تصاعديا ، من ٢٠ إلى صفر تنازليا)</u></p> <p>- استطيع أن أعد من ٠ إلى ١٠ .</p>	<p>١- عدد الأشكال هو :.</p>  <p>ظلل يمين الإجابة الصحيحة :.</p> <p>٣ ○ ٤ ○ ٥ ○ ٦ ○</p>	١	معرفة (استخراج)
<p>✦ ملاحظة عامة</p> <p>✓ الطالب في الصف الأول خلال الفصل الدراسي الأول غير متمكن من القراءة والكتابة .</p> <p>✓ الأسئلة المتنوعة تتم مناقشتها شفويا إلا بعض المهارات التي تتطلب من الطالب التدريب المستمر مثل كتابة الأعداد .. رسم الأشكال .. تحديد الأطوال .. أزواج الأعداد ... إلخ .</p> <p>✓ مع مرور الوقت تدريجيا يستطيع الطالب حل الأسئلة حسب تطوره في هذه المرحلة .</p> <p>✦ (نهدف من ذلك تعويد الطالب على إدراك التنوع في الصياغات المختلفة للأسئلة وامتلاك مهارات الاستعداد في وقت التقييم الكتابي) .</p>	<p>٢- مع فاطمة سلة تفاح</p>  <p>اكتب عدد التفاح في السلة ؟ <input type="text"/></p>	١	معرفة (استخراج)
-	-	-	تطبيق
	<p>٣- من الصورة المجاورة تقول فاطمة عدد الحيوانات ١٠ .</p>  <p>اكتشف الخطأ الذي وقعت فيه فاطمة ؟</p> <p>.....</p>	١	استدلال (تقويم)

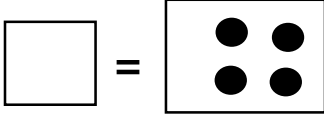








موضوع الدرس : ١- العد حتى عشرة / (١ - ١ تمييز وقراءة الأعداد حتى عشرة)







الأهداف	الأسئلة	الدرجة	تصنيف الأسئلة
<p><u>1Nn2</u> يقرأ ويكتب الأعداد من ٠ إلى ٢٠ .</p> <p>- استطيع أن اقرأ الأعداد من ٠ إلى ١٠ .</p> <div style="border: 1px solid black; padding: 10px; margin-top: 20px;"> <p>ملاحظة :</p> <p>السؤال ٢ ، ٣ ممكن يقيم فيها الطالب شفهيًا.</p> </div>	<p>١- العدد خمسة هو : ظلل يمين الإجابة الصحيحة :.</p> <p style="text-align: center;"> <input type="radio"/> ٣ <input type="radio"/> ٤ <input type="radio"/> ٥ <input type="radio"/> ٦ </p>	١	معرفة (استدعاء)
	<p>٢- اقرأ العدد في المربع ثم ارسم مدلوله داخل الدائرة</p> <div style="text-align: center;"> <div style="border: 1px solid black; padding: 2px 10px;">٤</div> <div style="border: 1px solid black; width: 50px; height: 50px; margin: 10px auto; border-radius: 50%;"></div> </div>	١	تطبيق (تمثيل)
	<p>٣- قرأ سعيد العدد في البطاقة التالية ٦ بانه اثنان</p> <p>لماذا سعيد على خطأ ؟</p> <p style="text-align: right;">(يصحح الطالب قراءة سعيد شفويا)</p>	١	استدلال (تقويم)

موضوع الدرس : ١- العد حتى عشرة / (١ - ١ تمييز وقراءة الأعداد حتى عشرة)

الأهداف	الأسئلة	الدرجة	تصنيف الأسئلة
<p><u>1Nn2</u> يقرأ ويكتب</p> <p><u>الأعداد من ٠ حتى ٢٠</u></p> <p>- استطيع أن اكتب الأعداد من ٠ إلى ١٠ .</p>	<p>١- أكمل الفراغ بكتابة العدد المناسب :.</p> 	١	معرفة (استدعاء)
	<p>٢- اكتب العدد الناقص :.</p> <p>٠ ، ١ ، ٢ ، ... ، ... ، ٥ ، ٦ ، ٧ ، ... ، ... ، ١٠ .</p>	١	معرفة (استدعاء)
	<p>٣- يُكتب العدد ثلاثة بهذه الطريقة ٣</p> <p><input type="checkbox"/> نعم <input type="checkbox"/> لا</p> <p>التصويب</p>	١	استدلال (تقويم)

الأهداف	الأسئلة	الدرجة	تصنيف الأسئلة										
<p>1Nn3 العد حتى ٢٠ مع</p> <p><u>الانتباه إلى الأرقام المشتركة بين الأعداد .</u></p> <p>- استطيع أن أعد حتى ١٠ أشياء .</p>	<p>١- صل بين العدد والتعبير الرمزي المناسب له .:</p> <table> <tr> <th>العمود الأول</th> <th>العمود الثاني</th> </tr> <tr> <td></td> <td></td> </tr> <tr> <td></td> <td></td> </tr> <tr> <td></td> <td></td> </tr> <tr> <td></td> <td></td> </tr> </table>	العمود الأول	العمود الثاني									٢	معرفة (استخراج)
	العمود الأول	العمود الثاني											
													
													
													
													
	<p>٢- اكمل رسم الخطوط لتصل للعدد ١٠ ؟</p> <div></div>	١	تطبيق (تمثيل)										
	<p>٣- يقول أحمد عدد الكرات في الصندوق ٧</p> <p>هل أحمد على صواب <input type="checkbox"/> نعم <input type="checkbox"/> لا</p> <p>وضح إجابتك</p> <div></div>	١	استدلال (تقويم)										

الأهداف	الأسئلة	الدرجة	تصنيف الأسئلة
<p>1Nc1 يعرف كل أزواج الأعداد حتى عشرة ويسجل حقائق الجمع والطرح المتعلقة بها.</p> <p>- استطيع أن أجمع مجموعتين من الأشياء لاكتشاف الأعداد التي تساوي مجموعها ١٠ .</p> <p>ملاحظة :-</p> <ul style="list-style-type: none"> ✓ الهدف أعلاه من أهداف الحساب الذهني . ✓ تم الاكتفاء ببعض التمارين التدريبية والتي من الممكن أن تسجل في دفتر الطالب في حالة إتقانه مهارة الكتابة (من أجل التدريب المستمر وإتقان مهارة الحساب الذهني) . ✓ لا يشترط مستويات تعلم مختلفة في الحساب الذهني . ✓ يتم تقييم الهدف عند انتهاؤه . ✓ التقييم شفويا للأهداف من Nc1 إلى Nc7. ✓ التقييم الكتابي للأهداف من Nc8 إلى Nc23 	<p>١- اكتب الناتج :</p> <p> و  = </p>	١	معرفة (حساب)
	<p>٢- لدى فاطمة ٧ زهرات</p> <p>ظلل دائرة واحدة لكل عبارة</p> <p>تحتاج فاطمة إضافة ٣ زهرات لتكوين ١٠</p> <p>نعم لا</p> <p>تحتاج فاطمة إضافة زهرة واحدة لتكوين ١٠</p> <p>نعم لا</p>	١	تطبيق (تنفيذ)
	<p>٣- لدي أربع بطاقات</p> <p>   </p> <p>كون بطاقتين تساويان العدد ١٠</p> <p> و </p>	١	استدلال (تركيب)

الأهداف	الأسئلة	الدرجة	تصنيف الأسئلة
<p><u>1Nc8 يفهم الجمع على أنه</u> <u>العد تصاعدياً وجمع</u> <u>مجموعتين ؛ تسجيل جمل</u> <u>الجمع المتعلقة بذلك .</u></p> <p>- استطيع أن أجمع عن طريق ضم مجموعتين من الأشياء إلى بعضها .</p>	١ -  و  = 	١	معرفة (حساب)
	٢- قطف خالد ٤ تفاحات و ٦ برتقالات اكتب العملية الحسابية التي توضح ما قطعة خالد ؟ 	١	تطبيق (تحديد)
	٣- قام أحمد بضم المجموعتين  و  وقال يعطي الناتج ٧ هل ما قالة أحمد صحيح ؟ <input type="checkbox"/> نعم <input type="checkbox"/> لا التصويب	١	استدلال (تقويم)

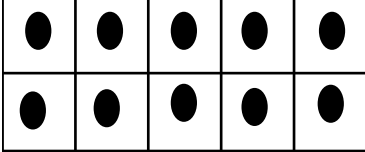
✦ ملاحظة عامة


✓ الطالب في الصف الأول خلال الفصل الدراسي الأول غير متمكن من القراءة والكتابة .


✓ الأسئلة المتنوعة تتم مناقشتها شفويا إلا بعض المهارات التي تتطلب من الطالب التدريب المستمر مثل كتابة الأعداد .. رسم الأشكال .. تحديد الأطوال .. أزواج الأعداد ... إلخ .

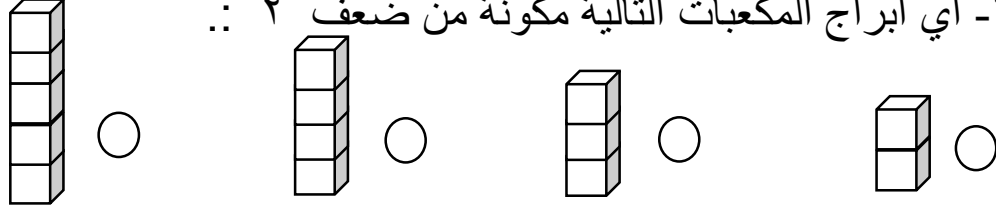
✓ مع مرور الوقت تدريجيا يستطيع الطالب حل الأسئلة حسب تطوره في هذه المرحلة .
 ✦ (نهدف من ذلك تعويد الطالب على إدراك التنوع في الصياغات المختلفة للأسئلة وامتلاك مهارات الاستعداد في وقت التقويم الكتابي) .

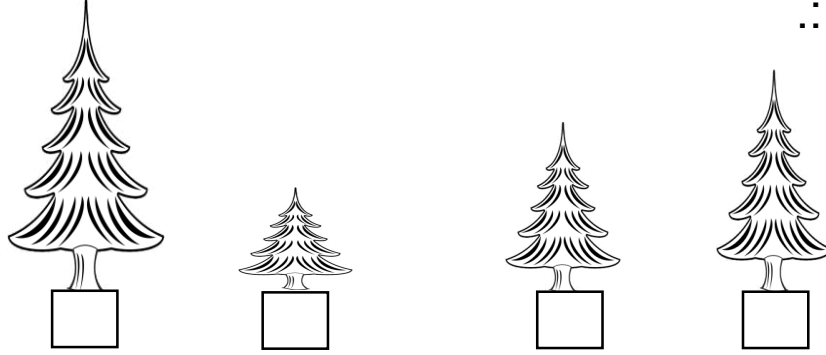


الأهداف	الأسئلة	الدرجة	تصنيف الأسئلة
<p><u>1Nc11 يجمع / يطرح عدداً</u> <u>مؤلفاً من رقم واحد بواسطة</u> <u>العد تصاعدياً والخلف .</u></p> <p>- استطيع أن أجمع عددين أو أكثر مكون كل منهما من رقم واحد عن طريق العد تصاعدي .</p>	<p>١- ناتج جمع $8 + 2 =$</p> <p>ظلل يمين الإجابة الصحيحة</p> <p>٧ ٠ ٨ ٠ ٩ ٠ ١٠ ٠</p>	١	معرفة (حساب)
	<p>٢- لديك ٣ دوائر ، ومع زميلك ٧ دوائر</p> <p>كم عدد الدوائر معكما ؟ <input type="text"/></p>	١	تطبيق (تنفيذ)
	<p>٣- قام محمد بحل الجملة العددية التالية :.</p> <p>$9 = 7 + 3$</p> <p>هل حل محمد صحيح ؟ <input type="checkbox"/> نعم <input type="checkbox"/> لا</p> <p>التصويب</p>	١	استدلال (تقويم)

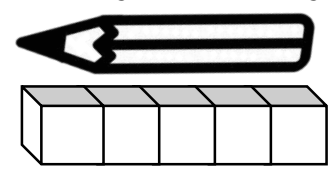
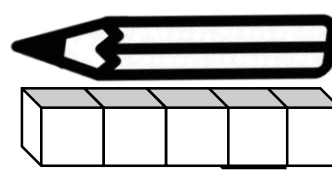
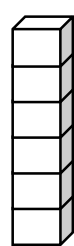
الأهداف	الأسئلة	الدرجة	تصنيف الأسئلة
<p>1Nc1 يعرف كل ازواج الأعداد حتى عشرة ويسجل حقائق الجمع والطرح المتعلقة بها.</p> <p>- استطيع أن أطرح عدد من ١٠ لإيجاد العدد المتبقي .</p>	<p>١- ناتج $10 - 2 =$</p> <p>ظلل يمين الإجابة الصحيحة :.</p> <p>٦ ○ ٧ ○ ٨ ○ ٩ ○</p>	١	معرفة (حساب)
<p>ملاحظة :.</p> <p>✓الهدف أعلاه من أهداف الحساب الذهني .</p> <p>✓تم الاكتفاء ببعض التمارين التدريبية والتي من الممكن أن تسجل في دفتر الطالب في حالة إتقانه مهارة الكتابة (من أجل التدريب المستمر وإتقان مهارة الحساب الذهني) .</p> <p>✓لا يشترط مستويات تعلم مختلفة في الحساب الذهني .</p> <p>✓يتم تقييم الهدف عند انتهاؤه .</p> <p>✓التقييم شفويا للأهداف من Nc1 إلى Nc7.</p> <p>✓التقييم الكتابي للأهداف من Nc8 إلى Nc23</p>	<p>٢- صنعت أمني ١٠ قطع من الكعك أكلنا منها ٧ .. ارسم ما تبقى من الكعك ؟</p>	١	تطبيق (تمثيل)
<p>٣- أخذ علي ٦ أقراص من الإطار العشري التالي :.</p> <p>قال علي أن العدد المتبقي ٥ .</p> <p>هل ما قاله علي صحيح ؟ <input type="checkbox"/> نعم <input type="checkbox"/> لا</p> <p>التصويب</p>		١	استدلال (تقويم)

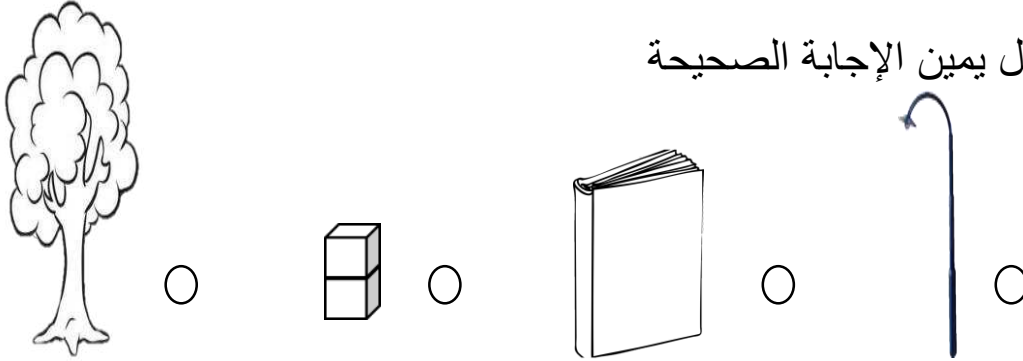
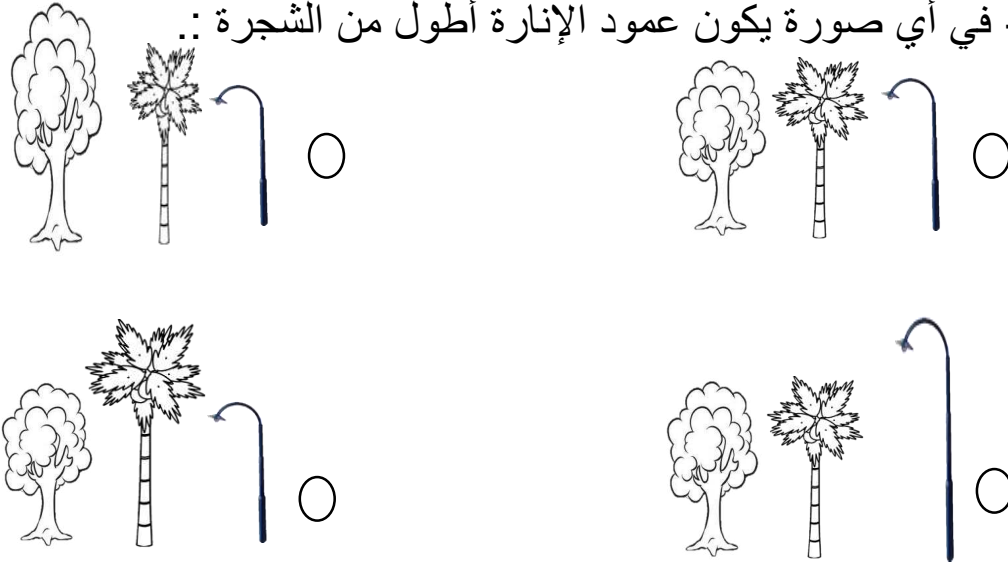
الأهداف	الأسئلة	الدرجة	تصنيف الأسئلة
<p><u>1Nc9 يفهم الطرح على أنه</u> <u>العد تنازليا و ((الأخذ بعيداً))</u> <u>أو ((الحذف)) ويسجل جمل</u> <u>الطرح المتعلقة بذلك .</u></p> <p>- استطيع أن اطرح عن طريق الأخذ .</p>	<p>١- الإطار العشري التالي : أخذت منه اثنان فإن المتبقي هو : ظلل يمين الإجابة الصحيحة : ٦ ○ ٧ ○ ٨ ○ ٩ ○</p>	١	معرفة (استخراج)
<p>✦ ملاحظة عامة</p> <p>✓ الطالب في الصف الأول خلال الفصل الدراسي الأول غير متمكن من القراءة والكتابة .</p> <p>✓ الأسئلة المتنوعة تتم مناقشتها شفويا إلا بعض المهارات التي تتطلب من الطالب التدريب المستمر مثل كتابة الأعداد .. رسم الأشكال .. تحديد الأطوال .. أزواج الأعداد ... إلخ .</p> <p>✓ مع مرور الوقت تدريجيا يستطيع الطالب حل الأسئلة حسب تطوره في هذه المرحلة .</p> <p>✦ (نهدف من ذلك تعويد الطالب على إدراك التنوع في الصياغات المختلفة للأسئلة وامتلاك مهارات الاستعداد في وقت التقييم الكتابي) .</p>	<p>٢- في القفص ١٠ طيور ، طار منها ٨ كم طيراً تبقى في القفص ؟ <input type="text"/></p> 	١	تطبيق (تنفيذ)
	<p>٤- قال سالم معي ١٠ أقلام ، أخذت أختي ٤ أقلام فأصبح لدي ٧ . هل ما قاله سالم صحيح ؟ <input type="checkbox"/> نعم <input type="checkbox"/> لا التصويب</p>	١	استدلال (تقويم)



الأهداف	الأسئلة	الدرجة	تصنيف الأسئلة
1Nc11 يجمع / يطرح عدداً مؤلفاً من رقم واحد بواسطة العد تصاعدياً وللخلف.	١- أوجد الناتج بالعد تنازلياً (يوضح خطوات الحل شفهيًا) $10 - 8 = \dots$	١	معرفة (حساب)
- استطيع أن أطرح عددين أو أكثر مكون كل منهما من رقم واحد عن طريق العد التنازلي.	٢- كم اصبعاً ستطوي ليكون الناتج ٦ ؟ <input type="text"/>	١	تطبيق (تنفيذ)
ملاحظة : يتم مناقشة السؤال الثالث مع الطلاب شفويًا لعدم تمكنهم في هذا الوقت من الكتابة .	٣- قام محمد وسالم بالعد تنازلياً للعبارة التالية : $10 - 6 =$  أيهما إجابته صحيحة ؟ <input type="checkbox"/> محمد <input type="checkbox"/> سالم برر إجابتك	١	استدلال (تقويم)

الأهداف	الأسئلة	الدرجة	تصنيف الأسئلة								
1Nc5 يعرف الأضعاف حتى ٥ على الأقل . - استطيع أن أذكر أضعاف الأعداد من ١ إلى ٥ .	١- ضعف العدد ٤ هو :. ظلل يمين الإجابة الصحيحة :. ٤٠ ٦٠ ٨٠ ١٠٠	١	معرفة (تعرف)								
ملاحظة :. ★★★★ الهدف 1Nc5 مكتمل عند نهاية الدرس ويمكن تقيمه ختامياً وشفوياً ورصد له درجة في عمود الحساب الذهني في سجل التقويم (يقيم شفوياً) .	٢- أي أبراج المكعبات التالية مكونة من ضعف ٢ :. 	١	تطبيق (تمثيل)								
★★★★ على المعلم الانتباه اثناء وضع الأسئلة الختامية ستكون مرتبطة بالهدف المنتهي شاملاً فتقيسه . وليس على عبارات استطيع ان ، حيث أن عبارات أستطيع أن تحقق جزء من الهدف فقط وصالحة للتقييم والتدريب المستمر حيث تساهم في استعداد الطالب من التمكن من حل أسئلة التقويم الختامي .	٣- يكتب أحمد أضعاف الأعداد كما في الجدول التالي :. <table border="1"><thead><tr><th>العدد</th><th>ضعفة</th></tr></thead><tbody><tr><td>٢</td><td>٤</td></tr><tr><td>٣</td><td>٦</td></tr><tr><td>٤</td><td>٥</td></tr></tbody></table> صوب الخطأ الذي وقع فيه أحمد	العدد	ضعفة	٢	٤	٣	٦	٤	٥	١	استدلال (تقويم)
العدد	ضعفة										
٢	٤										
٣	٦										
٤	٥										

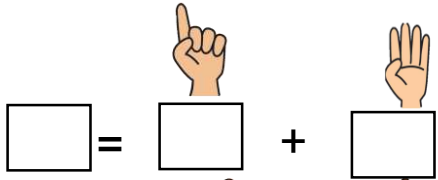
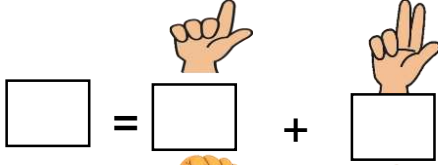

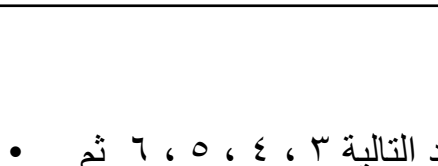
الأهداف	الأسئلة	الدرجة	تصنيف الأسئلة
<p>1MI1 يقارن بين الأطوال والأوزان بالمقارنة المباشرة ، ثم باستخدام وحدات متناسقة غير قياسية .</p> <p>- استطيع أن أقارن بين طول شيئين عن طريق وضعهما إلى جوار بعضهما أو وضع أحدهما فوق الآخر.</p>	<p>١- رتب الأشجار التالية من الأقصر إلى الأطول بكتابة الأرقام ١ ، ٢ ، ٣ ، ٤ .:</p> 	١	معرفة (التصنيف والترتيب)
<p>✓ملاحظة على اهداف حل المشكلات في درس قياس الطول :.</p> <p>✦ في الدليل تم إدراج أهداف حل المشكلات 1pt1 و 1pt9.</p> <p>✦ لا يوجد في الدليل أو كتاب التلميذ أو كتاب النشاط ما يتعلق بهذه الأهداف لذلك لم يتم صياغة أسئلة عليها .</p>	<p>٢- بجوار عمود الإنارة ارسم شجرة أقصر منه .:</p> 	١	تطبيق (تمثيل)
	<p>٣- يقول سالم في الصورة الولد أطول من الشجرة .</p> <p>- لماذا سالم على خطأ ؟ فسر إجابتك</p> <p>.....</p> <p>.....</p> <p><u>ملاحظة</u> : يجب الطالب شفويًا.</p> 	١	استدلال (تقويم)

الأهداف	الأسئلة	الدرجة	تصنيف الأسئلة
1MI1 يقارن بين الأطوال والأوزان بالمقارنة المباشرة، ثم باستخدام وحدات متناسقة غير قياسية . - استطيع أن أقارن أطوال الأشياء من طريق قياسها بالمكعبات .	١- أوجد قياس طول كل قلم .: أ-  = مكعب ب-  = مكعب ج- القلم الأقصر طوله = مكعب	٣ درجات لهذا السؤال ولكن ينتبه المعلم أثناء التقييم النهائي للهدف بالاكتماء بدرجة واحدة ولفرع واحد من هذا السؤال .	معرفة (قياس) (استخراج)
♦ ملاحظة عامة ✓ الطالب في الصف الأول خلال الفصل الدراسي الأول غير متمكن من القراءة والكتابة . ✓ الأسئلة المتنوعة تتم مناقشتها شفويا إلا بعض المهارات التي تتطلب من الطالب التدريب المستمر مثل كتابة الأعداد .. رسم الأشكال .. تحديد الأطوال .. أزواج الأعداد ... إلخ . ✓ مع مرور الوقت تدريجيا يستطيع الطالب حل الأسئلة حسب تطوره في هذه المرحلة . ♦ (نهدف من ذلك تعويد الطالب على إدراك التنوع في الصياغات المختلفة للأسئلة وامتلاك مهارات الاستعداد في وقت التقييم الكتابي) .	٢- بجوار المكعبات ارسم خط أقصر بمكعب واحد .: 	١	تطبيق (تمثيل)
	٣- طول قلم علي يساوي ٤ مكعبات وطول قلم سلمى يساوي ضعف طول قلم علي .: - طول قلم سلمى = مكعب	١	استدلال (تحليل)

الأهداف	الأسئلة	الدرجة	تصنيف الأسئلة
<p>1MI3 يستخدم لغة المقارنة ، مثل : أطول ، أقصر ، أثقل ، أخف .</p> <p>- استطيع أن أقارن الأطوال باستخدام كلمات مثل أقصر وأطول .</p>	<p>١- القلم أطول من : ظلل يمين الإجابة الصحيحة</p> 	١	معرفة (معرفة)
<p>★ ملاحظة عامة</p> <p>✓ الطالب في الصف الأول خلال الفصل الدراسي الأول غير متمكن من القراءة والكتابة .</p> <p>✓ الأسئلة المتنوعة تتم مناقشتها شفويا إلا بعض المهارات التي تتطلب من الطالب التدريب المستمر مثل كتابة الأعداد .. رسم الأشكال .. تحديد الأطوال .. أزواج الأعداد ... إلخ .</p> <p>✓ مع مرور الوقت تدريجيا يستطيع الطالب حل الأسئلة حسب تطوره في هذه المرحلة .</p> <p>★ (نهدف من ذلك تعويد الطالب على إدراك التنوع في الصياغات المختلفة للأسئلة وامتلاك مهارات الاستعداد في وقت التقييم الكتابي) .</p>	<p>٢- في أي صورة يكون عمود الإنارة أطول من الشجرة : </p>	١	تطبيق (تمثيل)

الأهداف	الأسئلة	الدرجة	تصنيف الأسئلة
<p>1M13 يستخدم لغة المقارنة ، مثل : أطول ، أقصر ، أثقل ، أخف .</p> <p>- استطيع أن أقرن الأطوال باستخدام كلمات مثل أقصر وأطول .</p>	<p>١- استخدم الكلمات التالية لتكون العبارة صحيحة في الشكل التالي :.</p> <div style="display: flex; justify-content: space-around;"> <div style="border: 1px solid black; padding: 5px;">أقصر من</div> <div style="border: 1px solid black; padding: 5px;">أطول من</div> </div> <div style="text-align: center;">  <p>أ- الشجرة الولد. ب- الولد الزرافة .</p> </div>	١	معرفة (استخراج)
<p>✦ ملاحظة عامة</p> <p>✓ الطالب في الصف الأول خلال الفصل الدراسي الأول غير متمكن من القراءة والكتابة .</p> <p>✓ الأسئلة المتنوعة تتم مناقشتها شفويا إلا بعض المهارات التي تتطلب من الطالب التدريب المستمر مثل كتابة الأعداد .. رسم الأشكال .. تحديد الأطوال .. أزواج الأعداد ... إلخ .</p> <p>✓ مع مرور الوقت تدريجيا يستطيع الطالب حل الأسئلة حسب تطوره في هذه المرحلة .</p> <p>✦ (نهدف من ذلك تعزيز الطالب على إدراك التنوع في الصياغات المختلفة للأسئلة وامتلاك مهارات الاستعداد في وقت التقويم الكتابي) .</p>	<p>٢- الشكل التالي يوضح البرج العملاق :.</p> <div style="text-align: center;">  <p>مريم أحمد</p> </div> <p>- من يستطيع أن يبني برجاً أطول من البرج العملاق ؟</p>	١	استدلال (تقويم)

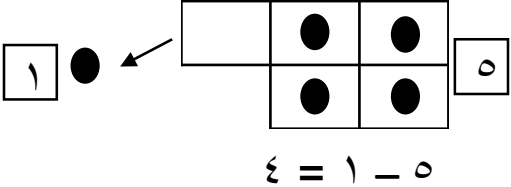
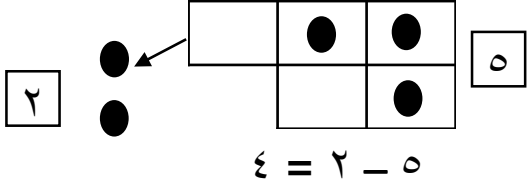
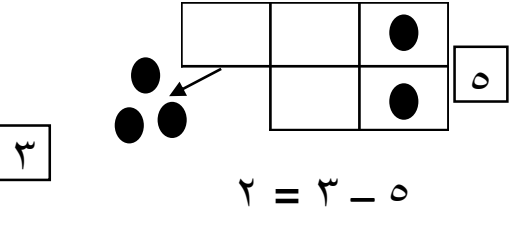
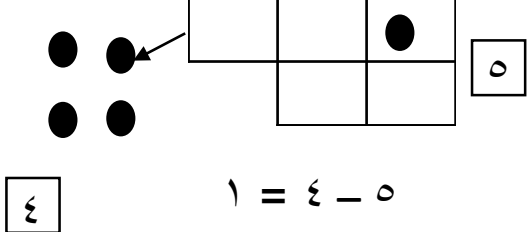
موضوع الدرس : ٤- العد ما بعد العشرة :. (٤-١ : أزواج الأعداد الأقل من عشرة)

الأهداف	الأسئلة	الدرجة	تصنيف الأسئلة
1Nc1 يعرف كل أزواج الأعداد حتى عشرة ويسجل حقائق الجمع والطرح المتعلقة بها .	* نعرف الزوج العددي / عدنان يتم إضافتهما لبعض لصنع عدد معين. * تمارين عامه تدريبية يدرب عليها المعلم في الصف ويتدرب عليها الطالب داخل المنزل (حتى يتقنها الطالب ذهنيا) . * تُسجل في دفتر الطالب .	-	-
- استطيع أن أقول كل أزواج الأعداد التي يبلغ مجموعها ١٠ .	* مثال على أزواج العدد ٥ :.    	-	-
<p>ملاحظة :.</p> <ul style="list-style-type: none"> ✓ الهدف أعلاه من أهداف الحساب الذهني . ✓ تم الاكتفاء ببعض التمارين التدريبية والتي من الممكن أن تسجل في دفتر الطالب في حالة إتقانه مهارة الكتابة (من أجل التدريب المستمر وإتقان مهارة الحساب الذهني) . ✓ لا يشترط مستويات تعلم مختلفة في الحساب الذهني . ✓ يتم تقييم الهدف عند انتهاؤه . ✓ التقييم شفويا للأهداف من Nc1 إلى Nc7. ✓ التقييم الكتابي للأهداف من Nc8 إلى Nc23 	* اذكر جميع الأزواج العددية لتكوين العدد ٥ ؟ بنفس الطريقة نوجد جميع الأزواج العددية للأعداد التالية ٣ ، ٤ ، ٥ ، ٦ ثم تسجل في دفتر الطالب . * نكتفي بتلك الأعداد ثم من نكمل إيجاد الأزواج العددية للأعداد ٧ ، ٨ ، ٩ في درس لاحق حيث أن الهدف لم ينتهي .	-	-

موضوع الدرس :. ٤- العد ما بعد العشرة: (٤ - ١ : أزواج الأعداد الأقل من عشرة)

الأهداف	الأسئلة	الدرجة	تصنيف الأسئلة						
<p>1Nc1يعرف كل أزواج الأعداد حتى عشرة ويسجل حقائق الجمع والطرح المتعلقة بها .</p> <p>- استطيع أن أكتب أزواج الأعداد والتي يبلغ مجموعها ١٠ في جمل الجمع .</p>	<ul style="list-style-type: none"> • تمارين تدريبية داخل الفصل وفي المنزل لكتابة جمل الجمع <u>حتى يتقنها الطالب ذهنيا</u>. • تسجل في دفتر الطالب . • جمل الجمع تتضمن (الأزواج العددية وعلامة (+) والنتائج) . 	-	-						
	<p>مثال :. اكتب جمل الجمع لأزواج العدد ٥ ؟</p> <table> <tr> <td>.....*</td> <td>.....*</td> </tr> <tr> <td>.....*</td> <td>.....*</td> </tr> <tr> <td>.....*</td> <td>.....*</td> </tr> </table>******	-	-
**							
.....**								
.....**								
<ul style="list-style-type: none"> • لاحظ لم يتم وضع مربعات ولم يتم وضع علامة (+) الطالب بنفسه يكتب جملة الجمع كاملة . • بنفس الطريقة نكتب جمل الجمع لأزواج الأعداد التالية ٣ ، ٤ ، ٥ ، ٦ . * نستكمل بقية جمل الجمع لأزواج الأعداد (٧ ، ٨ ، ٩) في درس لاحق . 	-	-							




موضوع الدرس : ٤- العد ما بعد عشرة / (٤ - ١ : أزواج الأعداد الأقل من عشرة)

الأهداف	الأسئلة	الدرجة	تصنيف الأسئلة
1Nc1 يعرف كل أزواج الأعداد حتى عشرة ويسجل حقائق الجمع والطرح المتعلقة بها .	<ul style="list-style-type: none"> تمارين تدريبية داخل الصف وفي المنزل لكتابة جمل الطرح (حتى يتقنها الطالب ذهنياً . تسجل في دفتر الطالب . جملة الطرح (العدد الأكبر وعلامة (-) الأزواج العددية للعدد) . 	-	-
- استطيع أن اكتب كل ازواج الأعداد التي مجموعها ١٠ في جمل الطرح .	<p>مثال : عن طريق رسم الإطار العدد ٥ أو (الأصابع شفويا)</p> <p>س ← (٥ - ٠) = ٥</p>    	-	-
	<ul style="list-style-type: none"> يسأل المعلم الطالب أسئلة سريعة ذهنية خمسة نأخذ منها ٢ كم تبقى لدي . بنفس الطريقة نكتب جمل الطرح لأزواج الأعداد (٣ ، ٤ ، ٥ ، ٦) . نكمل بقية جمل الطرح لأزواج الأعداد (٧ ، ٨ ، ٩) في درس لاحق. 	-	-

موضوع الدرس : ٤- العدد ما بعد العشرة / (٤-١ : أزواج الأعداد الأقل من عشرة)

الأهداف	الأسئلة	الدرجة	تصنيف الأسئلة
<p>1Nc2 يبدأ بالتعرف إلى أزواج الأعداد ٦ ، ٧ ، ٨ ، ٩ ، ١٠ .</p> <p>- استطيع أن استخرج كل أزواج الأعداد التي يبلغ مجموعها ٦ ، ٧ ، ٨ ، ٩ .</p>	<p>١- اذكر أزواج العدد ٥ ؟</p> <p>٢- اذكر أزواج العدد ٦ ؟</p> <p>٣- عدنان حاصل جمعها يساوي ٤ ؟</p>	-	-
<p>ملاحظة على الأهداف التالية :</p> <p>1Nc8 – 1Nc9-1Nc11</p> <p>لا يوجد تقييم لها في هذا الدرس . ووردت في الدليل ضمن أهداف الدرس ولم ترد في الوثيقة ضمن عبارات استطيع . سيتم معالجتها في الدرس رقم ١١ .</p>	<p>٤- خمسة تأخذ منها اثنين كم يتبقى لديك ؟</p> <p>٥- هل يمكنك أن تذكر زوجاً عددياً لتكوين خمسة ؟</p>	-	-
<p>ملاحظة : .</p> <p>* الأزواج العددية حتى ٦ والباقي في درس لاحق .</p>		-	-

موضوع الدرس : ٤- العد ما بعد عشرة / (٤-٢ أكثر من عشرة بقليل)

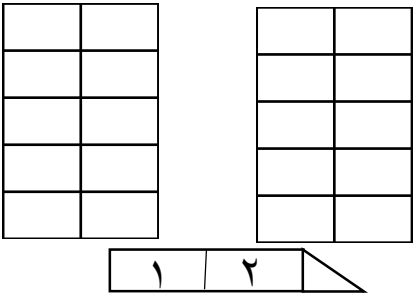
الأهداف	الأسئلة	الدرجة	تصنيف الأسئلة
<p>1Nn1 يضع الأعداد بالترتيب (من ١ حتى ١٠٠ تصاعديا ، من ٢٠ على صفر تنازليا) .</p> <p>- استطيع أن أعد من ٠ - ٢٠ .</p>	<p>١- العدد الذي يأتي بعد العدد ١٠ مباشرة هو</p> <p>ظلل يمين الإجابة الصحيحة :.</p> <p>٩٠ ٨٠ ١١٠ ١٢٠</p>	١	معرفة (استدعاء)
<p>✦ ملاحظة عامة</p> <p>✓ الطالب في الصف الأول خلال الفصل الدراسي الأول غير متمكن من القراءة والكتابة .</p> <p>✓ الأسئلة المتنوعة تتم مناقشتها شفويا إلا بعض المهارات التي تتطلب من الطالب التدريب المستمر مثل كتابة الأعداد .. رسم الأشكال .. تحديد الأطوال .. أزواج الأعداد ... إلخ .</p> <p>✓ مع مرور الوقت تدريجيا يستطيع الطالب حل الأسئلة حسب تطوره في هذه المرحلة .</p> <p>✦ (نهدف من ذلك تعويد الطالب على إدراك التنوع في الصياغات المختلفة للأسئلة وامتلاك مهارات الاستعداد في وقت التقييم الكتابي) .</p>	<p>٢- اكمل رسم العناصر في الإطارات العشرية حتى تحصل على العدد ١٣ :.</p> 	١	تطبيق (تمثيل)
	<p>٣- يقول علي أن عدد العناصر في الإطارات العشرية التالية = ١٤</p>  <p>١ ٤ </p> <p>* لماذا علي على خطأ ؟</p>	١	استدلال (تقويم)

موضوع الدرس : ٤- العد ما بعد العشرة / (٤-٢ أكثر من عشرة بقليل)

الأهداف	الأسئلة	الدرجة	تصنيف الأسئلة
<p>1Nn1 يضع الأعداد بالترتيب (من ١ حتى ١٠٠ تصاعديا ، من ٢٠ إلى صفر تنازليا) .</p> <p>- استطيع أن أعد تنازليا من ٢٠ إلى ٠ .</p>	<p>١- العدد الذي يأتي قبل العدد ٢٠ مباشرة هو :.</p> <p>ظلل يمين الإجابة الصحيحة :.</p> <p>١٦ ○ ١٧ ○ ١٨ ○ ١٩ ○</p>	١	معرفة (استدعاء)
	<p>٢- الترتيب الصحيح للعد التنازلي للأعداد (١،٥،٤،٨) :.</p> <p>ظلل يمين الإجابة الصحيحة :.</p> <p>○ ١ ، ٢ ، ٤ ، ٥ .</p> <p>○ ١ ، ٤ ، ٥ ، ٨ .</p> <p>○ ١ ، ٤ ، ٥ ، ٨ .</p> <p>○ ٨ ، ١ ، ٤ ، ٥ .</p>	١	معرفة (تصنيف وترتيب)
	<p>٣- مع أحمد عدد أقل من ١٥ بواحد فمن يكون هذا العدد ؟ <input type="text"/></p>	١	معرفة (استدعاء)

الأهداف	الأسئلة	الدرجة	تصنيف الأسئلة
<p>1Nn1 يضع الأعداد بالترتيب (من ١ حتى ١٠٠ تصاعدياً ، من ٢٠ إلى صفر تنازلياً) .</p> <p>- استطيع أن أعد تنازلياً من ٢٠ إلى ٠ .</p>	<p>٤- ارسم خطوطاً لتوصيل النقاط بالترتيب التنازلي بدءاً من العدد ٢٠ لتحصل على الشكل النهائي :.</p> <pre> ١٩ • • ٢٠ • • ١٧ • • ١٨ • • ١٥ • • ١٦ • • ١٣ • • ١٤ • • ١١ • • ١٢ </pre>	١	تطبيق (تمثيل)
	<p>٥- سلمى تقول أن بطاقة العدد ١٢ أقل من ١٠ لماذا سلمى على خطأ؟.....</p>	١	استدلال (تقويم)

موضوع الدرس : ٤- العدد ما بعد العشرة / (٤-٢ : أكثر من عشرة بقليل)

الأهداف	الأسئلة	الدرجة	تصنيف الأسئلة
<p>1Nn2 يقرأ ويكتب الأعداد من ٠ حتى ٢٠ .</p> <p>- استطيع أن أقرأ الأعداد من ٠ - ٢٠ .</p>	<p>١- يُكتب العدد ثلاثة عشر :.</p> <p>ظلل يمين الإجابة الصحيحة :.</p> <p>٣١ ○ ١٣ ○ ٣٣ ○ ٢٣ ○</p>	١	معرفة (استدعاء)
<p>٢- من بطاقة العدد التالية ١٦ :.</p> <p>ظلل دائرة واحدة لكل عبارة :.</p> <p>العدد هو تسعة عشر (نعم) (لا)</p> <p>العدد الذي بعده هو ١٧ (نعم) (لا)</p>		١	معرفة (استدعاء)
<p>٣- ارسم ما يمثل العدد ١٢ في الإطارات العشرية :.</p> 		١	تطبيق (تمثيل)
<p>٤- يقول سالم العدد في البطاقة ٢٠ بأنه عشرة ؟</p> <p>لماذا سالم على خطأ ؟</p> <p>(الإجابة شفوية إلى أن يعتاد الطالب على الكتابة)</p>		١	استدلال (تقويم)

★ ملاحظة عامة



✓ الطالب في الصف الأول خلال الفصل الدراسي الأول غير متمكن من القراءة والكتابة .

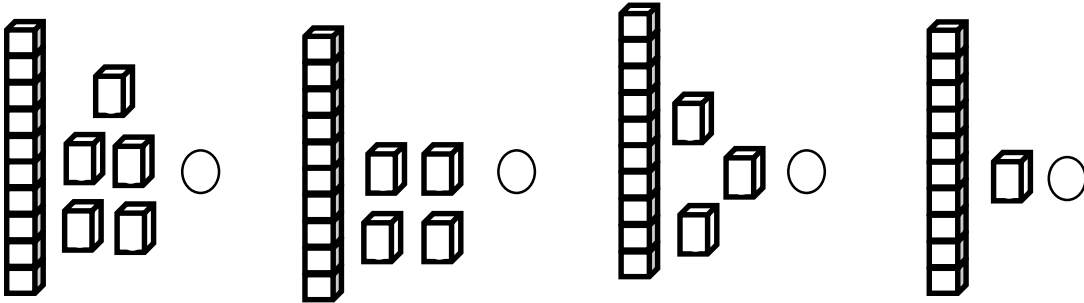
✓ الأسئلة المتنوعة تتم مناقشتها شفويا إلا بعض المهارات التي تتطلب من الطالب التدريب المستمر مثل كتابة الأعداد .. رسم الأشكال .. تحديد الأطوال .. أزواج الأعداد ... إلخ .

✓ مع مرور الوقت تدريجيا يستطيع الطالب حل الأسئلة حسب تطوره في هذه المرحلة .

★ (نهدف من ذلك تعويد الطالب على إدراك التنوع في الصياغات المختلفة للأسئلة وامتلاك مهارات الاستعداد في وقت التقييم الكتابي) .

الأهداف	الأسئلة	الدرجة	تصنيف الأسئلة																				
1Nn2 يقرأ ويكتب الأعداد من ٠ حتى ٢٠ . - استطيع أن اكتب الأعداد من ٠ - ٢٠ .	١- العدد عشرون يكتب :. ظلل يمين الإجابة الصحيحة :. ١٠ ○ ١١ ○ ١٢ ○ ٢٠ ○	١	معرفة (استدعاء)																				
	٢- اكتب العدد الذي تمثله الإطارات العشرية :. <div><table><tr><td></td><td>●</td></tr><tr><td></td><td>●</td></tr><tr><td></td><td>●</td></tr><tr><td></td><td>●</td></tr><tr><td></td><td>●</td></tr></table><table><tr><td>●</td><td>●</td></tr><tr><td>●</td><td>●</td></tr><tr><td>●</td><td>●</td></tr><tr><td>●</td><td>●</td></tr><tr><td>●</td><td>●</td></tr></table><div>العدد <input type="text"/></div></div>		●		●		●		●		●	●	●	●	●	●	●	●	●	●	●	١	معرفة (استخراج)
		●																					
	●																						
	●																						
	●																						
	●																						
●	●																						
●	●																						
●	●																						
●	●																						
●	●																						
-	-	-	تطبيق																				
	٣- يكتب حمد الأعداد من ١٠ - ٢٠ :. <div><table><tr><td>٢٠</td><td>١٩</td><td>١٧</td><td>١٨</td><td>١٢</td><td>١٥</td><td>١٤</td><td>١٣</td><td>١٦</td><td>١١</td><td>١٠</td></tr></table><p>* صحح الخطأ الذي وقع فيه حمد ؟</p></div>	٢٠	١٩	١٧	١٨	١٢	١٥	١٤	١٣	١٦	١١	١٠	١	استدلال (تقويم)									
	٢٠	١٩	١٧	١٨	١٢	١٥	١٤	١٣	١٦	١١	١٠												

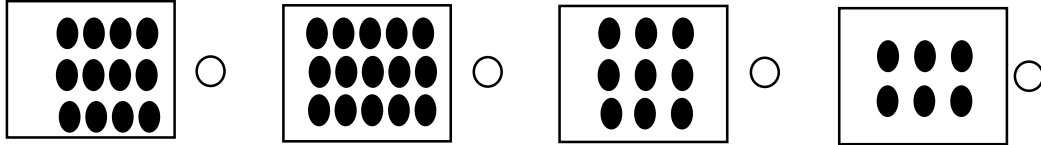


الأهداف	الأسئلة	الدرجة	تصنيف الأسئلة							
1Nn3 يعد حتى ٢٠ مع الانتباه على الأرقام المشتركة بين الأعداد . - استطيع أن أعد حتى ٢٠ شيئاً .	١- أكمل الفراغ في الشريط العددي :. <table><tr><td>١١</td><td>١٣</td><td>١٤</td><td>١٥</td><td>١٧</td><td>١٩</td><td></td></tr></table>	١١	١٣	١٤	١٥	١٧	١٩		١	معرفة (استدعاء)
	١١	١٣	١٤	١٥	١٧	١٩				
	٢- عدد المثلثات <table><tr><td></td></tr></table> 		١	معرفة (استخراج)						
٣- اكمل رسم ١٧ دائرة :. <table><tr><td>○ ○ ○ ○</td></tr><tr><td>○ ○ ○ ○</td></tr><tr><td>○ ○ ○ ○</td></tr></table>	○ ○ ○ ○	○ ○ ○ ○	○ ○ ○ ○	١	تطبيق (تمثيل)					
○ ○ ○ ○										
○ ○ ○ ○										
○ ○ ○ ○										
٤- عد راشد عدد أشجار النخيل في المزرعة وقال عددها يساوي ١٣  لماذا راشد على خطأ ؟	١	استدلال (تقويم)								

الأهداف	الأسئلة	الدرجة	تصنيف الأسئلة
<p>1Nn6 يجزئ العدد من منزلتين على آحاد وعشرات والعكس .</p> <p>- استطيع أن اكتب الأرقام من ١١ - ١٩ في صورة عشرة وبعض الأرقام الأخرى ، مثل العدد ١٩ يتكون من ٩ آحاد و ١ عشرات .</p>	<p>١- العدد ١٨ مكون من : ظلل يمين الإجابة الصحيحة : ○ ٨ آحاد و ١ عشرات ○ ٩ عشرات ○ ١ آحاد و ٨ عشرات ○ ٨ عشرات</p>	١	معرفة (تعرف)
	<p>٢- عدد مكون من واحد آحاد و ١ عشرات فمن يكون ؟ <input type="text"/></p>	١	معرفة (استدعاء)
	<p>٣- أي صورة تعبر عن العدد ١٤ : </p>	١	تطبيق (تمثيل)



الأهداف	الأسئلة	الدرجة	تصنيف الأسئلة																				
<p>1Nn6 يجزئ العدد من منزلتين على آحاد وعشرات والعكس .</p> <p>- استطيع أن اكتب الأرقام من ١١ - ١٩ في صورة عشرة وبعض الأرقام الأخرى ، مثل العدد ١٩ يتكون من ٩ آحاد و ١ عشرات .</p>	<p>٤- أكمل رسم الإطارات العشرية التي تمثل العدد ١٩ .:</p> <div> <table> <tr><td></td><td></td></tr> <tr><td></td><td></td></tr> <tr><td></td><td></td></tr> <tr><td></td><td></td></tr> <tr><td></td><td></td></tr> </table> <table> <tr><td>●</td><td>●</td></tr> <tr><td>●</td><td>●</td></tr> <tr><td>●</td><td>●</td></tr> <tr><td>●</td><td>●</td></tr> <tr><td>●</td><td>●</td></tr> </table> </div>											●	●	●	●	●	●	●	●	●	●	١	تطبيق (تمثيل)
●	●																						
●	●																						
●	●																						
●	●																						
●	●																						
	<p>٥- عدد مكون من رقمين آحاده واحد وعشراته نفس رقم آحاده ؟ <input type="text"/></p>	١	معرفة (تعرف)																				
	<p>٦- يكتب سالم العدد ١٦ في صورة عشرة على النحو التالي .:</p> <p>١ آحاد و ٦ عشرات</p> <p>لماذا سالم على خطأ ؟</p>	١	استدلال (تقويم)																				

موضوع الدرس : ٤- العد ما بعد العشرة / (٤-٢ : أكثر من عشرة بقليل)

الأهداف	الأسئلة	الدرجة	تصنيف الأسئلة
1Nn9 برتب الأعداد حتى ٢٠ على الأقل على أشرطة الأعداد . - استطيع أن أعد من ٠ - ٢٠ على الأقل على شريط الأعداد .	١- اكتب الأعداد التالية في موقعها الصحيح :. <div><div><div>٢٠</div><div></div><div></div><div></div><div>١٦</div><div>١٥</div><div></div></div><div><div>١٧</div><div>١٩</div><div>١٤</div><div>١٨</div></div></div>	١	معرفة (ترتيب)
	٢- العدد الناقص في شريط الاعداد <div><div><div></div><div>١٩</div><div>١٨</div><div>١٧</div><div>١٦</div><div>١٥</div><div>١٤</div><div>١٣</div><div>١٢</div><div>١١</div></div></div> <p>ظلل يمين الإجابة الصحيحة :.</p> <div><div>٢٠ ○</div><div>١٧ ○</div><div>١٥ ○</div><div>١١ ○</div></div>	١	معرفة (استدعاء)
	-	-	-
	٣- يرتب عُمر الأعداد من ١١ إلى ٢٠ في الشريط التالي :. <div><div><div>٢٠</div><div>١٩</div><div>١٧</div><div>١٨</div><div>١٦</div><div>١٥</div><div>١٤</div><div>١٣</div><div>١٢</div><div>١١</div></div></div> <p>ما الخطأ الذي وقع فيه عمر ؟</p>	١	استدلال (تقويم)





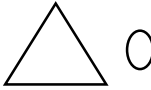



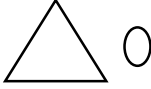
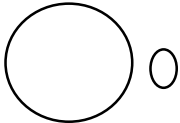


الأهداف	الأسئلة	الدرجة	تصنيف الأسئلة
1Nn8 يستخدم المفردتين ((أكثر)) و ((أقل)) ليقارن بين عددين ويعطي عدد يقع بين العددين المقارنين .	١- العدد ٢٣ : ظل دائرة واحدة لكل عبارة : - هو أقل من ٢٠ نعم لا - هو أكبر من ٢٠ نعم لا	١	معرفة (استدعاء)
- استطيع أن استخدم كلمتين أكثر وأقل للمقارنة بين عددين .	٢- العناصر التي تمثل أكثر من ١٢ : ظل يمين الإجابة الصحيحة : 		تطبيق (تمثيل)
✦ ملاحظة عامة ✓ الطالب في الصف الأول خلال الفصل الدراسي الأول غير متمكن من القراءة والكتابة ✓ الأسئلة المتنوعة تتم مناقشتها شفويا إلا بعض المهارات التي تتطلب من الطالب التدريب المستمر مثل كتابة الأعداد .. رسم الأشكال .. تحديد الأطوال .. أزواج الأعداد ... إلخ . ✓ مع مرور الوقت تدريجيا يستطيع الطالب حل الأسئلة حسب تطوره في هذه المرحلة . ✦ (نهدف من ذلك تعزيز الطالب على إدراك التنوع في الصياغات المختلفة للأسئلة وامتلاك مهارات الاستعداد في وقت التقييم الكتابي) .	٣- ارسم دوائر أقل من العدد ١٢ وأكثر من ١٠ : 	١	تطبيق (تمثيل)
٤-  عدد أقلام مريم <input type="checkbox"/> أقل من ١٠ <input type="checkbox"/> أكثر من ١٠ اشرح اجابتك		١	استدلال (تقويم)

(يجب الطالب شفويا) .

الأهداف	الأسئلة	الدرجة	تصنيف الأسئلة
1Nn11 يعطي تقدير معقولا لبعض الأشياء التي يمكن التحقق منها بعدّها ، مثلا حتى ٣٠ .	١- عدد الأقراص داخل الكيس تُقدر بأنها أقل من ٢٠ فإن من التقدير المعقول لعددّها : ظلّ يمين الإجابة الصحيحة : ٢٨ ٥ ١٧ ٥ ٢٥ ٥ ٢١ ٥	١	معرفة (استدعاء)
- استطيع أن أعطي تخميناً (تقديرًا معقولا) لعدد أشياء حتى ٣٠ .	٢- ارسم أشرطة الأعداد التي تحتاجها لنضع فيها أكثر من ١٠ عناصر وأقل من ٢٠ عنصرا : 	١	تطبيق (تمثيل)
٣- يحتوي الصندوق على أكثر من ٢٥ قلماً ، قدر سالم الأقلام بأنها ٢٠ قلماً .  صحح الخطأ الذي وقع فيه سالم ؟		١	استدلال (تقويم)



الأهداف	الأسئلة	الدرجة	تصنيف الأسئلة
1Nn11 يعطي تقديراً معقولاً لبعض الأشياء التي يمكن التحقق منها بعدّ ، مثلاً حتى ٣٠ .	١- قدر عدد النجوم <input type="checkbox"/> العدد الفعلي <input type="checkbox"/>	١	معرفة (استخراج)
- استطيع أن اتحقق من تقدير عدد من الأشياء حتى ٣٠ عن طريق العد .	٢- يقدر احمد عدد البيض داخل السلة بأنها ١٠ بيضات تحقق من عدها فوجدتها ٨ بيضات . ارسم العدد الفعلي :.		تطبيق (تمثيل)
	٤- يقدر عامر عدد الزهور بأنها ٢٠ زهرة قام بعدّها وقال أنها ٢٣ زهرة لماذا عامر على خطأ ؟.....	١	استدلال (تقويم)

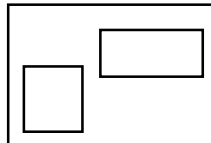
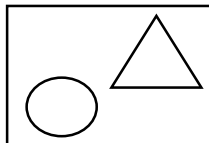
الأهداف	الأسئلة	الدرجة	تصنيف الأسئلة
<p>1Nn11 يعطي تقديراً معقولاً لبعض الأشياء التي يمكن التحقق منها بعد ، مثلاً حتى ٣٠ .</p> <p>- استطيع أن أعطي تخميناً (تقدير معقول لعدد أشياء حتى ٣٠) .</p> <p>- استطيع أن اتحقق من تقدير عدد الأشياء حتى ٣٠ عن طريق العد .</p>	<p>ملاحظة :.</p> <ul style="list-style-type: none"> الدرس يعالج نفس الأهداف فقط يضيف فكرة الضعف . تم إضافة سؤال استدلال . 	-	-
<p>ملاحظة :.</p> <p>1Nn11-1Nn3 الهدف</p> <p>مكتمل عند نهاية هذا الدرس ويمكن تقييمه ختامياً ورصد له درجة في عمود الأسئلة القصيرة أو الاختبارات في سجل التقويم</p> <p>على المعلم الانتباه أثناء وضع الأسئلة الختامية ستكون مرتبطة بالهدف المنتهي شاملاً فتقيسه .</p> <p>وليس على عبارات استطيع ان ، حيث أن عبارات أستطيع أن تحقق جزء من الهدف فقط وصالحة للتقييم والتدريب المستمر حيث تساهم في استعداد الطالب من التمكن من حل أسئلة التقويم الختامي .</p>	<ul style="list-style-type: none"> يملأ الطالب يده بخمس مكعبات يملأ المعلم يده بضعف عدد المكعبات التي يملأ بها الطالب يده . التقدير المعقول للمكعبات في يد المعلم = ٢٠ <input type="checkbox"/> نعم <input type="checkbox"/> لا <p>اشرح اجابتك ؟.....</p> <p>ملاحظة :. يقيم شفويا او يرسم المكعبات على اليد</p>	١	استدلال (تقويم)

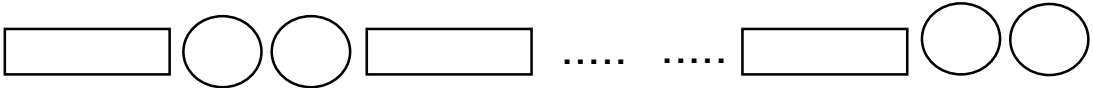

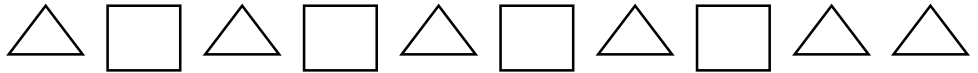
الأهداف	الأسئلة	الدرجة	تصنيف الأسئلة
<p>1Gs1 يسمى ويصنف الأشكال الثنائية الأبعاد الشائعة مثل (الدوائر والمربعات والمستطيلات والمثلثات) باستخدام ميزات مثل عدد الأضلاع أو كونه منحنى أو مستقيم . ويستخدمها لعمل أنماط وأشكال .</p> <p>- استطيع أن أسمى الأشكال الثنائية الأبعاد مثل (دائرة ، مربع ، مستطيل ، مثلث) .</p>	<p>١- شكل ثنائي الأبعاد وله ٣ جوانب هو :.</p> <p>ظلل يمين الإجابة الصحيحة :.</p> <div style="display: flex; justify-content: space-around; align-items: center;">     </div>	١	معرفة (استدعاء)
	<p>٢- الشكل الذي يمثل مستطيل هو :.</p> <p>ظلل يمين الإجابة الصحيحة :.</p> <div style="display: flex; justify-content: space-around; align-items: center;">     </div>	١	معرفة (تعرف)
	<p>٣- المستطيل هو :.</p> <p>ظلل يمين الإجابة الصحيحة :.</p> <div style="display: flex; justify-content: space-around; align-items: center;">     </div>	١	معرفة (تعرف)

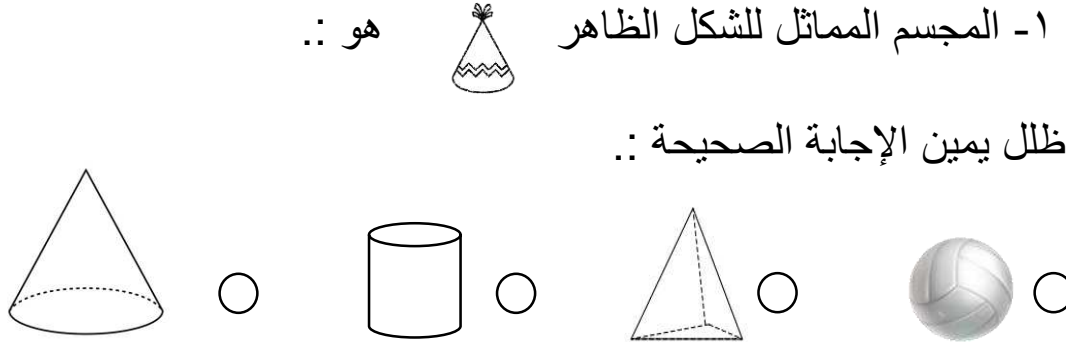

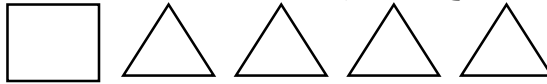
★ ملاحظة عامة

- ✓ الطالب في الصف الأول خلال الفصل الدراسي الأول غير متمكن من القراءة والكتابة .
- ✓ الأسئلة المتنوعة تتم مناقشتها شفويا إلا بعض المهارات التي تتطلب من الطالب التدريب المستمر مثل كتابة الأعداد .. رسم الأشكال .. تحديد الأطوال .. أزواج الأعداد ... إلخ .
- ✓ مع مرور الوقت تدريجيا يستطيع الطالب حل الأسئلة حسب تطوره في هذه المرحلة .
- ★ (نهدف من ذلك تعزيز الطالب على إدراك التنوع في الصياغات المختلفة للأسئلة وامتلاك مهارات الاستعداد في وقت التقييم الكتابي) .

الأهداف	الأسئلة	الدرجة	تصنيف الأسئلة
<p>1Gs1 يسمي ويصنف الأشكال الثنائية الأبعاد الشائعة مثل (الدوائر والمربعات والمستطيلات والمثلثات) باستخدام ميزات مثل عدد الأضلاع أو كونه منحنى أو مستقيم . ويستخدمها لعمل أنماط وأشكال .</p> <p>- استطيع أن أسمى الأشكال الثنائية الأبعاد مثل (دائرة ، مربع ، مستطيل ، مثلث) .</p>	<p>٤- الشكل الذي امامك يمثل منزلاً:</p>  <p>ظل دائرة واحدة لكل عبارة :</p> <p>- الباب شكل مستطيل <input type="radio"/> نعم <input type="radio"/> لا</p> <p>- النوافذ تأخذ شكل مثلث <input type="radio"/> نعم <input type="radio"/> لا</p>	١	معرفة (استخراج)
<p>- استطيع أن أسمى الأشكال الثنائية الأبعاد مثل (دائرة ، مربع ، مستطيل ، مثلث) .</p>	<p>٥- ارسم شكلاً ثنائياً الأبعاد له ٤ جوانب :</p> 	١	تطبيق (تمثيل)
<p>✓ ملاحظة عامة</p> <p>✓ الطالب في الصف الأول خلال الفصل الدراسي الأول غير متمكن من القراءة والكتابة .</p> <p>✓ الأسئلة المتنوعة تتم مناقشتها شفويًا إلا بعض المهارات التي تتطلب من الطالب التدريب المستمر مثل كتابة الأعداد .. رسم الأشكال .. تحديد الأطوال .. أزواج الأعداد ... إلخ .</p> <p>✓ مع مرور الوقت تدريجياً يستطيع الطالب حل الأسئلة حسب تطوره في هذه المرحلة .</p> <p>✦ (نهدف من ذلك تعزيز الطالب على إدراك التنوع في الصياغات المختلفة للأسئلة وامتلاك مهارات الاستعداد في وقت التقييم الكتابي) .</p>	<p>٦- يقول أحمد نحتاج إلى ٤ جوانب مستقيمة متساوية الطول لرسم مستطيل</p> <p>هل أحمد على صواب ؟ <input type="checkbox"/> نعم <input type="checkbox"/> لا</p> <p>وضح إجابتك ؟</p> <p><u>ملاحظة :</u></p> <p>يمكن الطالب يجيب شفويًا المستطيل له أربع جوانب غير متساوية .. أو كتابيًا إذا كان يمتلك مهارة الكتابة</p>	١	استدلال (تقويم)

الأهداف	الأسئلة	الدرجة	تصنيف الأسئلة				
<p>1Gs1 يسمى ويصنف الأشكال الثنائية الأبعاد الشائعة مثل (الدوائر والمربعات والمستطيلات والمثلثات) باستخدام ميزات مثل عدد الأضلاع أو كونه منحنى أو مستقيم . ويستخدمها لعمل أنماط وأشكال .</p> <p>- استطيع أن أصنف الأشكال الثنائية الأبعاد عن طريق اللون أو الحجم أو عدد الأضلاع المستقيمة أو المنحنية على سبيل المثال .</p>	<p>١- صل بين الأشكال في العمود الأول ووصف أضلاعه المناسب في العمود الثاني ::</p> <div style="display: flex; justify-content: space-around; align-items: center;"> <div style="text-align: center;"> <p>الأضلاع</p> <div style="border: 1px solid black; padding: 5px; margin: 5px;">جوانب مستقيمة</div> <div style="border: 1px solid black; padding: 5px; margin: 5px;">جوانب منحنية</div> </div> <div style="text-align: center;"> <p>الأشكال</p> <div style="border: 1px solid black; width: 40px; height: 40px; margin: 5px;"></div> <div style="border: 1px solid black; width: 40px; height: 40px; margin: 5px; transform: rotate(45deg);"></div> <div style="border: 1px solid black; width: 40px; height: 40px; margin: 5px; border-radius: 50%;"></div> </div> </div>	١	معرفة (تعرف)				
	<p>٢- ارسم الشكل الثنائي حسب الصفة المحددة ::</p> <table border="1" style="width: 100%; border-collapse: collapse; text-align: center;"> <tr> <th style="width: 50%;">أضلاع مستقيمة</th> <th style="width: 50%;">أضلاع منحنية</th> </tr> <tr> <td style="height: 100px;"></td> <td style="height: 100px;"></td> </tr> </table>	أضلاع مستقيمة	أضلاع منحنية			١	تطبيق (تمثيل)
	أضلاع مستقيمة	أضلاع منحنية					
<p>٤- صنف أحمد الأشكال الثنائية إلى مجموعتين حسب عدد الأضلاع ::</p> <div style="display: flex; justify-content: space-around; align-items: center;"> <div style="text-align: center;">  <p>٤ أضلاع مستقيمة</p> </div> <div style="text-align: center;">  <p>٣ أضلاع مستقيمة</p> </div> </div> <p>ما الخطأ الذي وقع فيه أحمد ؟</p>	١	استدلال (تقويم)					

الأهداف	الأسئلة	الدرجة	تصنيف الأسئلة
<p>1Gs1 يسمى ويصنف الأشكال الثنائية الأبعاد الشائعة مثل (الدوائر والمربعات والمستطيلات والمثلثات) باستخدام ميزات مثل عدد الأضلاع أو كونه منحنى أو مستقيم . ويستخدمها لعمل أنماط وأشكال .</p> <p>- استطيع أن أصنع أنماطا وصوراً باستخدام الأشكال الثنائية الأبعاد .</p>	-	-	معرفة
	<p>١- ارسم الأشكال المفقودة في النمط :.</p> 	١	تطبيق (تمثيل)
	<p>٢- الشكل التالي للنمط ○ △ ○ ○ △ </p> 	١	استدلال (استخلاص نتائج)
	<p>٣- يرتب حامد الأشكال الثنائية بنمط معين :.</p>  <p>ما الخطأ الذي وقع فيه حامد ؟</p>	١	استدلال (تقويم)

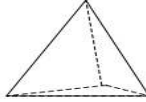





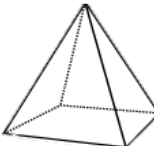

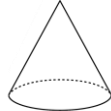



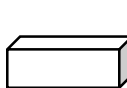





الأهداف	الأسئلة	الدرجة	تصنيف الأسئلة
<p>1Gs2 يسمى ويصنف المجسمات الشائعة (مثل المكعب ، متوازي مستطيلات ، القرص المدمج ، المخروط ، الجسم الكروي) باستخدام ميزات مثل عدد الوجوه أو الوجوه المنحنية / المسطحة ويستخدمها لعمل أنماط وأشكال .</p> <p>- استطيع أن اسمي وأصف الأشكال ثلاثية الأبعاد و(المجسمات) مثل المكعب ومتوازي الأضلاع والأسطوانة والمخروط والكرة .</p>	<p>١- المجسم المماثل للشكل الظاهر هو : .</p> <p>ظلل يمين الإجابة الصحيحة : .</p> 	١	معرفة (تعرف)
<p>٢- المجسم الذي له ستة أوجه مربعة : .</p> <p>ظلل يمين الإجابة الصحيحة : .</p> 	١	معرفة (استدعاء)	
<p>-</p>	-	-	تطبيق
<p>٣- عند صنع مجسم من مجموعة الأشكال الثنائية التالية : .</p>  <p>الشكل الناتج هو :</p>	١	استدلال (تركيب)	

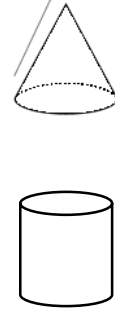
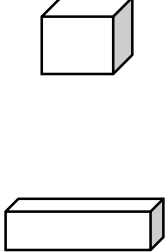




★ ملاحظة عامة

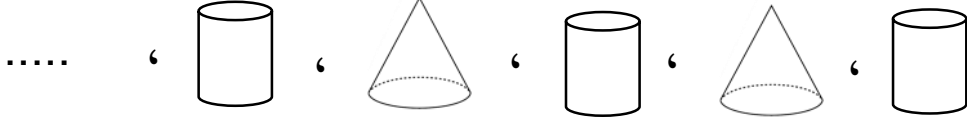
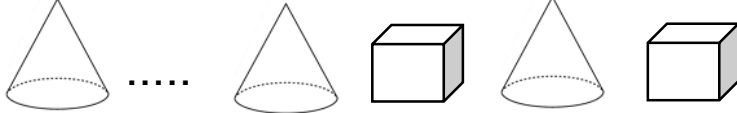
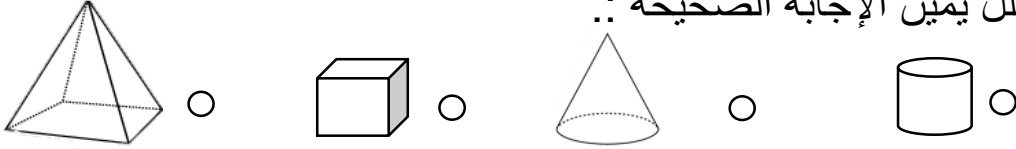
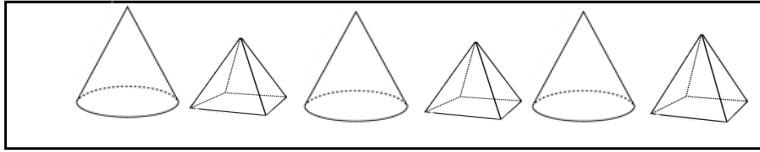

✓ الطالب في الصف الأول خلال الفصل الدراسي الأول غير متمكن من القراءة والكتابة .

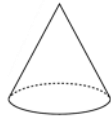
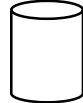

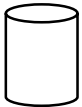
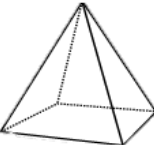
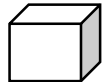
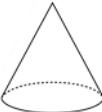
✓ الأسئلة المتنوعة تتم مناقشتها شفويا إلا بعض المهارات التي تتطلب من الطالب التدريب المستمر مثل كتابة الأعداد .. رسم الأشكال .. تحديد الأطوال .. أزواج الأعداد ... إلخ .

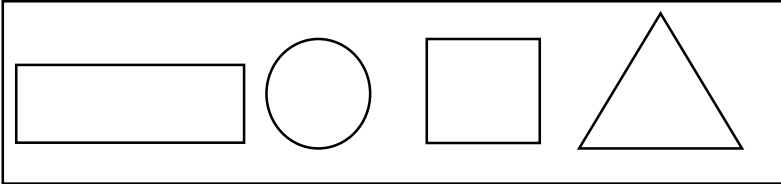
✓ مع مرور الوقت تدريجيا يستطيع الطالب حل الأسئلة حسب تطوره في هذه المرحلة .
 + (نهدف من ذلك تعويد الطالب على إدراك التنوع في الصياغات المختلفة للأسئلة وامتلاك مهارات الاستعداد في وقت التقييم الكتابي) .

الأهداف	الأسئلة	الدرجة	تصنيف الأسئلة				
<p>1Gs2 يسمى ويصنف المجسمات الشائعة (مثل المكعب ، متوازي مستطيلات ، القرص المدمج ، المخروط ، الجسم الكروي) باستخدام ميزات مثل عدد الوجوه أو الوجوه المنحنية / المسطحة ويستخدمها لعمل أنماط وأشكال .</p> <p>- استطيع أن اصنف المجسمات ، على سبيل المثال بحسب عدد الأوجه أو الأوجه المسطحة أو المنحنية .</p>	<p>١ - صنف المجسمات التالية بكتابة رقمها في المكان المناسب .:</p> <div>     </div> <div> <p>(٤) (٣) (٢) (١)</p> <table> <tr> <td>أوجه منحنية</td> <td>أوجه مسطحة</td> </tr> <tr> <td> </td> <td> </td> </tr> </table> </div>	أوجه منحنية	أوجه مسطحة			١	معرفة (تصنيف)
	أوجه منحنية	أوجه مسطحة					
<p>٢ - حو ط جميع المجسمات التي بها أوجه منحنية .:</p> <div>       </div>	١	معرفة (استدعاء)					
<p>٣ - المجسمات التي بها ٦ أوجه مسطحة هي .:</p> <p>ظلل يمين الإجابة الصحيحة .:</p> <div> <div>   </div> <div>○</div> <div>   </div> <div>○</div> <div>   </div> <div>○</div> <div>   </div> <div>○</div> </div>	١	معرفة (استدعاء)					

الأهداف	الأسئلة	الدرجة	تصنيف الأسئلة				
<p>1Gs2 يسمى ويصنف المجسمات الشائعة (مثل المكعب ، متوازي مستطيلات ، القرص المدمج ، المخروط ، الجسم الكروي) باستخدام ميزات مثل عدد الوجوه أو الوجوه المنحنية / المسطحة ويستخدمها لعمل أنماط وأشكال .</p> <p>- استطيع أن اصنف المجسمات ، على سبيل المثال بحسب عدد الأوجه أو الأوجه المسطحة أو المنحنية .</p>	<p>٤- صُنفت المجسمات كما في الجدول التالي :-</p> <table> <tr> <th>مجموعه (١)</th> <th>مجموعه (٢)</th> </tr> <tr> <td>  </td> <td>  </td> </tr> </table> <p>في أي مجموعته يمكنك وضع الكرة ؟</p> <p> <input type="checkbox"/> مجموعته (١) <input type="checkbox"/> مجموعته (٢) </p>	مجموعه (١)	مجموعه (٢)			١	استدلال (استخلاص نتائج)
مجموعه (١)	مجموعه (٢)						
							

الأهداف	الأسئلة	الدرجة	تصنيف الأسئلة
<p>1Gs2 يسمى ويصنف المجسمات الشائعة (مثل المكعب ، متوازي مستطيلات ، القرص المدمج ، المخروط ، الجسم الكروي) باستخدام ميزات مثل عدد الوجوه أو الوجوه المنحنية / المسطحة ويستخدمها لعمل أنماط وأشكال .</p> <p>- استطيع أن اضع انماطا ونماذج باستخدام المجسمات .</p>		-	معرفة
	<p>١- ارسم النمط التالي :.</p> 	١	تطبيق (تمثيل)
	<p>٢- رتب أحمد نمطاً من هذه المجسمات ، ما المجسم المفقود ؟</p>  <p>ظل يمين الإجابة الصحيحة :.</p> 	١	استدلال (استخلاص نتائج)
	<p>٣- وضع سالم المجسمات بنمط معين :.</p>  <p>ما القاعدة التي اتبعها سالم :.</p> 	١	استدلال (تعميم)

الأهداف	الأسئلة	الدرجة	تصنيف الأسئلة									
<p>1pt8 يحدد العلاقات البسيطة بين العداد والأشكال ، على سبيل المثال ، هذا العدد أكبر ١٠ مرات من هذا العدد .</p> <p>- استطيع أن أقول ما المماثل والمختلف في الأشكال .</p>	<p>١- امامك المجسمات التالية ::</p> <div>   </div> <p>المخروط الاسطوانة</p> <p>ضع علامة (✓) أمام كل عبارة ::</p> <table border="1"> <thead> <tr> <th>العبارة</th> <th>الصواب</th> <th>الخطأ</th> </tr> </thead> <tbody> <tr> <td>لكل من المخروط والاسطوانة وجه منحنى</td> <td></td> <td></td> </tr> <tr> <td>لكل من المخروط والاسطوانة ٣ أوجه</td> <td></td> <td></td> </tr> </tbody> </table>	العبارة	الصواب	الخطأ	لكل من المخروط والاسطوانة وجه منحنى			لكل من المخروط والاسطوانة ٣ أوجه			١	معرفة (تعرف)
العبارة	الصواب	الخطأ										
لكل من المخروط والاسطوانة وجه منحنى												
لكل من المخروط والاسطوانة ٣ أوجه												
	<p>٢- الشكل المشابه لمتوازي الأضلاع  في عدد الأوجه ::</p> <p>ظلل يمين الإجابة الصحيحة ::</p> <div>     </div>	١	معرفة (تعرف)									

الأهداف	الأسئلة	الدرجة	تصنيف الأسئلة
<p>1pt8 يحدد العلاقات البسيطة بين العداد والأشكال ، على سبيل المثال ، هذا العدد أكبر ١٠ مرات من هذا العدد .</p> <p>- استطيع أن أقول ما المماثل والمختلف في الأشكال .</p>	<p>٣- ارسم الشكل الثنائي الثاني المماثل للشكل الأول في <u>عدد الجوانب</u> :.</p> <div style="display: flex; justify-content: space-around; align-items: center;"> <div style="border: 1px solid black; padding: 5px; text-align: center;">الشكل الأول</div> <div style="border: 1px solid black; padding: 5px; text-align: center;">الشكل الثاني</div> </div>	١	تطبيق (تمثيل)
	<p>٤- تجمع فاطمة اشكالاً تتشابه في جوانبها المستقيمة :.</p> <div style="border: 1px solid black; padding: 10px; text-align: center;">  </div> <p>- لماذا فاطمة على خطأ ؟</p>	١	استدلال (تقويم)

الأهداف

1Gp1 يستخدم اللغة اليومية للاتجاه والمسافة لوصف حركة الأجسام .

- استطيع أن استعمل كلمات مثل فوق ، تحت ، إلى جوار ، أعلى ، أسفل ، لوصف الأشياء .

✦ ملاحظة عامة

✓ الطالب في الصف الأول خلال الفصل الدراسي الأول غير متمكن من القراءة والكتابة .

✓ الأسئلة المتنوعة تتم مناقشتها شفويا إلا بعض المهارات التي تتطلب من الطالب التدريب المستمر مثل كتابة الأعداد .. رسم الأشكال .. تحديد الأطوال .. أزواج الأعداد ... إلخ .


✓ مع مرور الوقت تدريجيا يستطيع الطالب حل الأسئلة حسب تطوره في هذه المرحلة .
✦ (نهدف من ذلك تعويد الطالب على إدراك التنوع في الصياغات المختلفة للأسئلة وامتلاك مهارات الاستعداد في وقت التقييم الكتابي) .

الأسئلة

الدرجة

تصنيف الأسئلة

٢



١- أمامك الشبكة التالية :
ضع علامة (✓) أمام كل عبارة :.

العبارة	الصواب	الخطأ
يقع المثلث أعلى الزهرة		
تقع الأسطوانة بجوار المثلث		
يقع العنكبوت أسفل التفاحة		
تقع الزهرة بجوار المثلث		

معرفة
(تعرف)

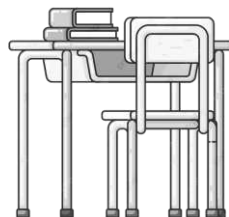
١

٢- ارسم مثلث إلى جوار الزهرة :.



تطبيق
(تمثيل)

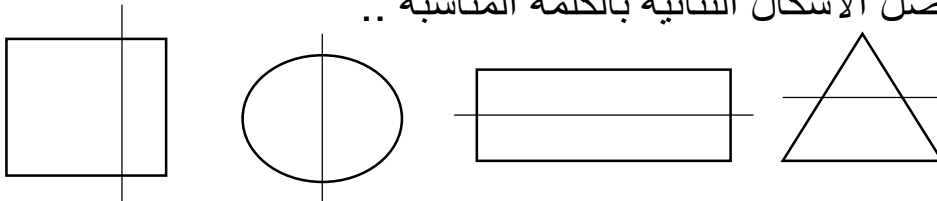
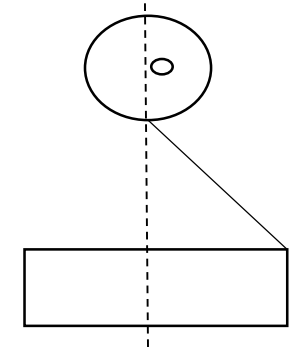
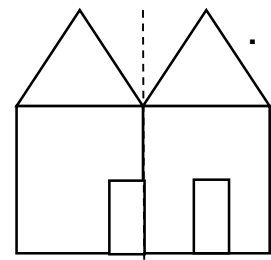
١

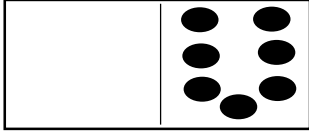

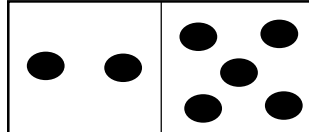
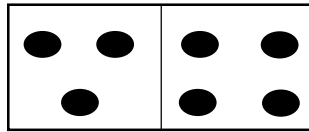
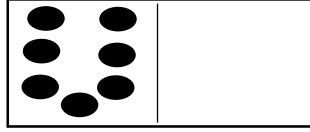
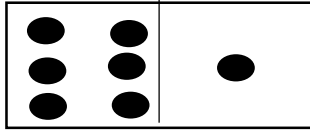
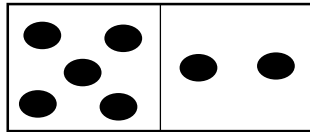
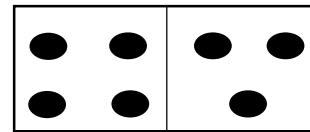


٣- يقول احمد الكتاب تحت الطاولة :.

لماذا أحمد على خطأ؟.....

استدلال
(تقويم)

الأهداف	الأسئلة	الدرجة	تصنيف الأسئلة
<p>1Gs3 يتعرف إلى خط التماثل .</p> <p>- استطيع أن أحدد ما إذا كان الشكل الثنائي متماثل .</p> <p>ملاحظة :</p> <p>الأهداف 1Gs1 ، 1Gs2 ، 1Gs3</p> <p>مكتملة عند نهاية هذا الدرس ويمكن تقييمه ختاميا ورصد له درجه في عمود الأسئلة القصيرة أو الاختبارات في سجل التقويم .</p> <p>على المعلم الانتباه أثناء وضع الأسئلة الختامية ستكون مرتبطة بالهدف المنتهي شاملا فتقيسه .</p> <p>وليس على عبارات استطيع ان ، حيث أن عبارات أستطيع أن تحقق جزء من الهدف فقط وصالحة للتقييم والتدريب المستمر حيث تساهم في استعداد الطالب من التمكن من حل أسئلة التقويم الختامي .</p>	<p>١- صل الأشكال الثنائية بالكلمة المناسبة :.</p>  <p>متماثل غير متماثل</p>	١	معرفة (تعرف)
	<p>٢- اكمل رسم الصورة لنحصل على جانب متماثل :.</p> 	١	تطبيق (تمثيل)
	<p>٣- يكمل أحمد الصورة ليحصل على منزل متماثل .</p>  <p>لماذا أحمد على خطأ ؟</p>	١	استدلال (تقويم)

الأهداف	الأسئلة	الدرجة	تصنيف الأسئلة
<p>1Nc2 يبدأ بالتعرف على أزواج الأعداد ٦ ، ٧ ، ٨ ، ٩ ، ١٠ .</p> <p>- استطيع أن استخرج بعض أزواج الأعداد التي يبلغ مجموعهما ٦ ، ٧ ، ٨ ، ٩ .</p>	<p>- الجمع : وضع كميتين مع بعضهما البعض ورمزها (+) .</p> <p>- يساوي : له نفس القيمة ورمزها (=) .</p> <p>- يتعرف الطالب ويتدرب أكثر على كتابة الجملة العددية .</p> <p>- تُسجل التمارين في دفتر الطالب ويتدرب عليها حتى (يتقنها ذهنياً) .</p> <p>- ضرورة أن يدرك الطالب أن تغير ترتيب الأعداد في عملية الجمع لا يغير ناتجهما .</p> <p>- مثال على الأزواج العددية للعدد ٧ عن طريق قطع الدومينو : .</p> <div style="display: flex; justify-content: space-around;"> <div style="text-align: center;">  $7 = 0 + 7$  $7 = 1 + 6$  $7 = 2 + 5$  $7 = 3 + 4$ </div> <div style="text-align: center;">  $7 = 7 + 0$  $7 = 6 + 1$  $7 = 5 + 2$  $7 = 4 + 3$ </div> </div> <p>أسئلة تدريبية : أ- أي عددين ناتجهما ٧ . ب- أذكر أزواج العدد ٧ ؟ ج- بنفس الطريقة تدرب الطالب على أزواج العدد ٨ ، ٩ ، ١٠ .</p>	-	-

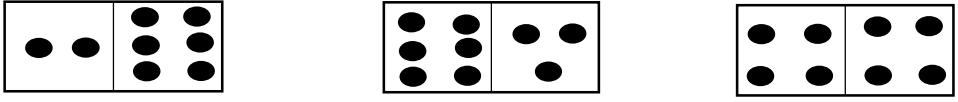
ملاحظة :

الهدف 1Nc2

مكتمل عند نهاية هذا الدرس ويمكن تقييمه ختامياً وشفوياً ورصد له درجة في عمود الحساب الذهني في سجل التقويم (يقيم شفوياً) .

على المعلم الانتباه أثناء وضع الأسئلة الختامية ستكون مرتبطة بالهدف المنتهي شاملاً فتقيسه .

وليس على عبارات استطيع ان ، حيث أن عبارات أستطيع أن تحقق جزء من الهدف فقط وصالحة للتقييم والتدريب المستمر حيث تساهم في استعداد الطالب من التمكن من حل أسئلة التقويم الختامي .

الأهداف	الأسئلة	الدرجة	تصنيف الأسئلة
1Nc15 يفهم ان تغيير ترتيب عملية الجمع لا يغير ناتجها .	١- أكمل : - إذا كانت $٧ = ٣ + ٤$ فإن $٣ + ٤ = \square$	١	معرفة (حساب)
- استطيع أن أغير ترتيب الأعداد لأجعلها أسهل في عملية الجمع .	٢- عند تدوير قطعة الدومينو التالية : فإن الجملة العددية التي تمثلها هي : ظل يمين الإجابة الصحيحة : $١ + ٥ \bigcirc$ $٥ + ٥ \bigcirc$ $٥ + ٣ \bigcirc$ $٢ + ٥ \bigcirc$	١	تطبيق (تحديد)
	٣- لدينا قطع الدومينو التالية :  (أ) (ب) (ج) - تقول منال أن قطعة الدومينو التي تعبر عن الجملة العددية $٣ + ٦$ هي <u>(ج)</u> . - لماذا منال على خطأ ؟	١	استدلال (تقويم)







الأهداف	الأسئلة	الدرجة	تصنيف الأسئلة																																																																																																			
1Nn1 يضع الأعداد بالترتيب) من ١ حتى ١٠٠ تصاعدياً ، ومن ٢٠ إلى صفر تنازلياً) . - استطيع أن أعد من ١ حتى ١٠٠ . <div>✦ملاحظة عامة ✓ الطالب في الصف الأول خلال الفصل الدراسي الأول غير متمكن من القراءة والكتابة ✓ الأسئلة المتنوعة تتم مناقشتها شفويا إلا بعض المهارات التي تتطلب من الطالب التدريب المستمر مثل كتابة الأعداد .. رسم الأشكال .. تحديد الأطوال .. أزواج الأعداد ... إلخ . ✓ مع مرور الوقت تدريجيا يستطيع الطالب حل الأسئلة حسب تطوره في هذه المرحلة . ✦ (نهدف من ذلك تعويد الطالب على إدراك التنوع في الصياغات المختلفة للأسئلة وامتلاك مهارات الاستعداد في وقت التقييم الكتابي) .</div>	١- اكمل :. - العدد الذي يأتي بعد ٣٩ مباشرةً هو	١	معرفة (استدعاء)																																																																																																			
	٢- اكمل رسم الخرز لتصل للعدد ٤٦ :. <div>○○○○○○○○○○○○○○○○ ○○○○○○○○○○○○○○○○ ○○○○○○○○○○○○○○○○ ○○○○○○○○○○○○○○○○</div>	١	تطبيق (تمثيل)																																																																																																			
	٣- يعد علي على لوحة المائة من ١ إلى ٥٠ ويظللها . <div><table><tr><td>١٠</td><td>٩</td><td>٨</td><td>٧</td><td>٦</td><td>٥</td><td>٤</td><td>٣</td><td>٢</td><td>١</td></tr><tr><td>٢٠</td><td>١٩</td><td>١٨</td><td>١٧</td><td>١٦</td><td>١٥</td><td>١٤</td><td>١٣</td><td>١٢</td><td>١١</td></tr><tr><td>٣٠</td><td>٢٩</td><td>٢٨</td><td>٢٧</td><td>٢٦</td><td>٢٥</td><td>٢٤</td><td>٢٣</td><td>٢٢</td><td>٢١</td></tr><tr><td>٤٠</td><td>٣٩</td><td>٣٨</td><td>٣٧</td><td>٣٦</td><td>٣٥</td><td>٣٤</td><td>٣٣</td><td>٣٢</td><td>٣١</td></tr><tr><td>٥٠</td><td>٤٩</td><td>٤٨</td><td>٤٧</td><td>٤٦</td><td>٤٥</td><td>٤٤</td><td>٤٣</td><td>٤٢</td><td>٤١</td></tr><tr><td>٦٠</td><td>٥٩</td><td>٥٨</td><td>٥٧</td><td>٥٦</td><td>٥٥</td><td>٥٤</td><td>٥٣</td><td>٥٢</td><td>٥١</td></tr><tr><td>٧٠</td><td>٦٩</td><td>٦٨</td><td>٦٧</td><td>٦٦</td><td>٦٥</td><td>٦٤</td><td>٦٣</td><td>٦٢</td><td>٦١</td></tr><tr><td>٨٠</td><td>٧٩</td><td>٧٨</td><td>٧٧</td><td>٧٦</td><td>٧٥</td><td>٧٤</td><td>٧٣</td><td>٧٢</td><td>٧١</td></tr><tr><td>٩٠</td><td>٨٩</td><td>٨٨</td><td>٨٧</td><td>٨٦</td><td>٨٥</td><td>٨٤</td><td>٨٣</td><td>٨٢</td><td>٨١</td></tr><tr><td>١٠٠</td><td>٩٩</td><td>٩٨</td><td>٩٧</td><td>٩٦</td><td>٩٥</td><td>٩٤</td><td>٩٣</td><td>٩٢</td><td>٩١</td></tr></table><div>صح الخطأ الذي وقع فيه علي ؟</div></div>	١٠	٩	٨	٧	٦	٥	٤	٣	٢	١	٢٠	١٩	١٨	١٧	١٦	١٥	١٤	١٣	١٢	١١	٣٠	٢٩	٢٨	٢٧	٢٦	٢٥	٢٤	٢٣	٢٢	٢١	٤٠	٣٩	٣٨	٣٧	٣٦	٣٥	٣٤	٣٣	٣٢	٣١	٥٠	٤٩	٤٨	٤٧	٤٦	٤٥	٤٤	٤٣	٤٢	٤١	٦٠	٥٩	٥٨	٥٧	٥٦	٥٥	٥٤	٥٣	٥٢	٥١	٧٠	٦٩	٦٨	٦٧	٦٦	٦٥	٦٤	٦٣	٦٢	٦١	٨٠	٧٩	٧٨	٧٧	٧٦	٧٥	٧٤	٧٣	٧٢	٧١	٩٠	٨٩	٨٨	٨٧	٨٦	٨٥	٨٤	٨٣	٨٢	٨١	١٠٠	٩٩	٩٨	٩٧	٩٦	٩٥	٩٤	٩٣	٩٢	٩١	١
١٠	٩	٨	٧	٦	٥	٤	٣	٢	١																																																																																													
٢٠	١٩	١٨	١٧	١٦	١٥	١٤	١٣	١٢	١١																																																																																													
٣٠	٢٩	٢٨	٢٧	٢٦	٢٥	٢٤	٢٣	٢٢	٢١																																																																																													
٤٠	٣٩	٣٨	٣٧	٣٦	٣٥	٣٤	٣٣	٣٢	٣١																																																																																													
٥٠	٤٩	٤٨	٤٧	٤٦	٤٥	٤٤	٤٣	٤٢	٤١																																																																																													
٦٠	٥٩	٥٨	٥٧	٥٦	٥٥	٥٤	٥٣	٥٢	٥١																																																																																													
٧٠	٦٩	٦٨	٦٧	٦٦	٦٥	٦٤	٦٣	٦٢	٦١																																																																																													
٨٠	٧٩	٧٨	٧٧	٧٦	٧٥	٧٤	٧٣	٧٢	٧١																																																																																													
٩٠	٨٩	٨٨	٨٧	٨٦	٨٥	٨٤	٨٣	٨٢	٨١																																																																																													
١٠٠	٩٩	٩٨	٩٧	٩٦	٩٥	٩٤	٩٣	٩٢	٩١																																																																																													

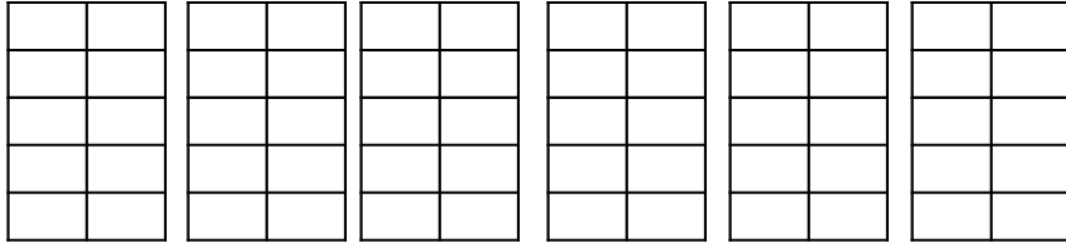
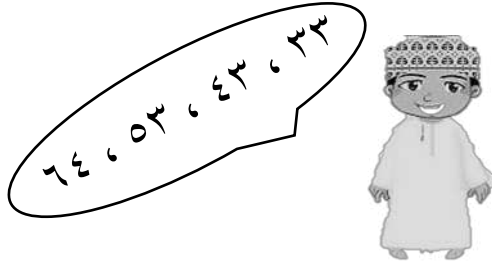
★ ملاحظة عامة

✓ الطالب في الصف الأول خلال الفصل الدراسي الأول غير متمكن من القراءة والكتابة .


✓ الأسئلة المتنوعة تتم مناقشتها شفويا إلا بعض المهارات التي تتطلب من الطالب التدريب المستمر مثل كتابة الأعداد .. رسم الأشكال .. تحديد الأطوال .. أزواج الأعداد ... إلخ .



✓ مع مرور الوقت تدريجيا يستطيع الطالب حل الأسئلة حسب تطوره في هذه المرحلة .
★ (نهدف من ذلك تعويد الطالب على إدراك التنوع في الصياغات المختلفة للأسئلة وامتلاك مهارات الاستعداد في وقت التقويم الكتابي) .

الأهداف	الأسئلة	الدرجة	تصنيف الأسئلة																																																			
1Nn4 يعد بالعشرات من الصفر ومن عدد بمنزلة واحدة حتى ١٠٠ او أكثر من ذلك بقليل . - استطيع أن أعد من ٠ حتى ١٠٠ بالعشرات .	١- اكمل السلسلة بكتابة العدد :. <table><tr><td>١٠</td><td></td><td>٣٠</td><td>٤٠</td><td></td><td>٦٠</td></tr></table>	١٠		٣٠	٤٠		٦٠	١	معرفة (استدعاء)																																													
	١٠		٣٠	٤٠		٦٠																																																
	٢- اكمل الرسم لتحصل على ٤ عشرات :. <table><tr><td><table><tr><td>●</td><td>●</td></tr><tr><td>●</td><td>●</td></tr><tr><td>●</td><td>●</td></tr><tr><td>●</td><td>●</td></tr><tr><td>●</td><td>●</td></tr><tr><td>●</td><td>●</td></tr></table></td><td><table><tr><td>●</td><td>●</td></tr><tr><td>●</td><td>●</td></tr><tr><td>●</td><td>●</td></tr><tr><td>●</td><td>●</td></tr><tr><td>●</td><td>●</td></tr><tr><td>●</td><td>●</td></tr></table></td><td><table><tr><td> </td><td> </td></tr><tr><td> </td><td> </td></tr><tr><td> </td><td> </td></tr><tr><td> </td><td> </td></tr><tr><td> </td><td> </td></tr><tr><td> </td><td> </td></tr></table></td><td><table><tr><td> </td><td> </td></tr><tr><td> </td><td> </td></tr><tr><td> </td><td> </td></tr><tr><td> </td><td> </td></tr><tr><td> </td><td> </td></tr><tr><td> </td><td> </td></tr></table></td></tr></table>	<table><tr><td>●</td><td>●</td></tr><tr><td>●</td><td>●</td></tr><tr><td>●</td><td>●</td></tr><tr><td>●</td><td>●</td></tr><tr><td>●</td><td>●</td></tr><tr><td>●</td><td>●</td></tr></table>	●	●	●	●	●	●	●	●	●	●	●	●	<table><tr><td>●</td><td>●</td></tr><tr><td>●</td><td>●</td></tr><tr><td>●</td><td>●</td></tr><tr><td>●</td><td>●</td></tr><tr><td>●</td><td>●</td></tr><tr><td>●</td><td>●</td></tr></table>	●	●	●	●	●	●	●	●	●	●	●	●	<table><tr><td> </td><td> </td></tr><tr><td> </td><td> </td></tr><tr><td> </td><td> </td></tr><tr><td> </td><td> </td></tr><tr><td> </td><td> </td></tr><tr><td> </td><td> </td></tr></table>													<table><tr><td> </td><td> </td></tr><tr><td> </td><td> </td></tr><tr><td> </td><td> </td></tr><tr><td> </td><td> </td></tr><tr><td> </td><td> </td></tr><tr><td> </td><td> </td></tr></table>													١
<table><tr><td>●</td><td>●</td></tr><tr><td>●</td><td>●</td></tr><tr><td>●</td><td>●</td></tr><tr><td>●</td><td>●</td></tr><tr><td>●</td><td>●</td></tr><tr><td>●</td><td>●</td></tr></table>	●	●	●	●	●	●	●	●	●	●	●	●	<table><tr><td>●</td><td>●</td></tr><tr><td>●</td><td>●</td></tr><tr><td>●</td><td>●</td></tr><tr><td>●</td><td>●</td></tr><tr><td>●</td><td>●</td></tr><tr><td>●</td><td>●</td></tr></table>	●	●	●	●	●	●	●	●	●	●	●	●	<table><tr><td> </td><td> </td></tr><tr><td> </td><td> </td></tr><tr><td> </td><td> </td></tr><tr><td> </td><td> </td></tr><tr><td> </td><td> </td></tr><tr><td> </td><td> </td></tr></table>													<table><tr><td> </td><td> </td></tr><tr><td> </td><td> </td></tr><tr><td> </td><td> </td></tr><tr><td> </td><td> </td></tr><tr><td> </td><td> </td></tr><tr><td> </td><td> </td></tr></table>															
●	●																																																					
●	●																																																					
●	●																																																					
●	●																																																					
●	●																																																					
●	●																																																					
●	●																																																					
●	●																																																					
●	●																																																					
●	●																																																					
●	●																																																					
●	●																																																					
✦ ملاحظة عامة ✓ الطالب في الصف الأول خلال الفصل الدراسي الأول غير متمكن من القراءة والكتابة . ✓ الأسئلة المتنوعة تتم مناقشتها شفويا إلا بعض المهارات التي تتطلب من الطالب التدريب المستمر مثل كتابة الأعداد .. رسم الأشكال .. تحديد الأطوال .. أزواج الأعداد ... إلخ . ✓ مع مرور الوقت تدريجيا يستطيع الطالب حل الأسئلة حسب تطوره في هذه المرحلة . ✦ (نهدف من ذلك تعويد الطالب على إدراك التنوع في الصياغات المختلفة للأسئلة وامتلاك مهارات الاستعداد في وقت التقييم الكتابي) .	٣- <table><tr><td> علي</td><td><div>عشرات تكون</div></td><td><div>عشرات تكون</div></td><td> سالم</td></tr></table> <div>من منهم على صواب ؟ <input type="checkbox"/> سالم <input type="checkbox"/> علي</div> <div>اشرح إجابتك</div>	 علي	<div>عشرات تكون</div>	<div>عشرات تكون</div>	 سالم	١	استدلال (تقويم)																																															
	 علي	<div>عشرات تكون</div>	<div>عشرات تكون</div>	 سالم																																																		

الأهداف	الأسئلة	الدرجة	تصنيف الأسئلة
1Nn4 يعد بالعشرات من الصفر ومن عدد بمنزلة واحدة حتى ١٠٠ او أكثر من ذلك بقليل . - استطيع ان اعد بالعشرات من الأعداد الأقل من ١٠ .	١- العدد الأكبر من ٧٥ بعشرة هو :. ظلل يمين الإجابة الصحيحة :. ٧٦ ○ ٧٠ ○ ٨٠ ○ ٨٥ ○	١	معرفة (استدعاء)
ملاحظة :. الهدف 1Nn4 مكتمل عند نهاية هذا الدرس ويمكن تقييمه ختامياً ورصد له درجة في عمود الأسئلة القصيرة او الاختبارات في سجل التقويم .	٢- ارسم العدد الكبر من ٤٣ بعشرة على اطار العشرة :. 	١	تطبيق (تمثيل)
على المعلم الانتباه اثناء وضع الأسئلة الختامية ستكون مرتبطة بالهدف المنتهي شاملا فتقيسه . وليس على عبارات استطيع ان ، حيث أن عبارات أستطيع أن تحقق جزء من الهدف فقط وصالحة للتقييم والتدريب المستمر حيث تساهم في استعداد الطالب من التمكن من حل أسئلة التقويم الختامي .	٣- يعد سميير بالعشرات كما يلي :.  هل عد سميير بطريقة صحيحة ؟ نعم لا - فسر إجابتك	١	استدلال (تقويم)

الأهداف	الأسئلة	الدرجة	تصنيف الأسئلة
<p>1Nn6 يجزئ العدد من منزلتين آحاد وعشرات والعكس .</p> <p>- استطيع أن اذكر عدداً حتى ٢٩ إذا ما أخبرت بعدد العشرات والآحاد .</p>	<p>١- اكتب العدد التالي : .</p> <p>- واحد آحاد وواحد عشرات <input type="text"/></p>	١	معرفة (استدعاء)
	<p>٢- ارسم عشرين و ٣ آحاد ؟</p> <div style="border: 1px solid black; height: 100px; width: 250px; margin: 0 auto;"></div>	١	تطبيق (تمثيل)
	<p>٣- تقول أحلام لتكوين العدد ٢٣ تحتاج إلى ٣ عشرات و ٢ آحاد : .</p> <p>- لماذا أحلام على خطأ ؟.....</p>	١	استدلال (تقويم)

الأهداف	الأسئلة	الدرجة	تصنيف الأسئلة
<p>1Nn6 يجزئ العدد من منزلتين آحاد وعشرات والعكس .</p> <p>- استطيع أن اذكر الأعداد من ٢١ حتى ٢٩ عبارة عن عشرين وأكثر بمقدار ما .</p>	<p>١- العدد ٢٦ أكثر من عشرين بمقدار : ظلل يمين الإجابة الصحيحة :.</p> <p>٣٠ ٤٠ ٥٠ ٦٠</p>	١	معرفة (استدعاء)
	<p>٢- ارسم عناصر أكثر من عشرين بمقدار اثنان :.</p> <div style="border: 1px solid black; height: 100px; width: 300px; margin: 10px auto;"></div>	١	تطبيق (تمثيل)
	<p>٣- يقول ماجد أنه لديه مكعبات أكثر من عشرين بأربعة :.</p> <div style="text-align: center;">  </div> <p>- لماذا ماجد على خطأ ؟.....</p> <p>(يجيب الطالب شفويّاً)</p>	١	استدلال (تقويم)

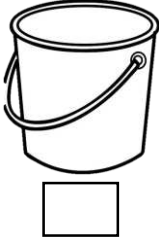

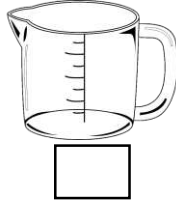




الأهداف	الأسئلة	الدرجة	تصنيف الأسئلة
<p>1Nn6 يجزئ العدد من منزلتين آحاد وعشرات والعكس .</p> <p>- استطيع أن اذكر أن الأعداد حتى ٤٩ على الأقل عبارة عن عشرات وأكثر بمقدار ما .</p>	<p>١- من بطاقة العدد ٤٨ ظل دائرة واحدة لكل عبارة : .</p> <p>- العدد في البطاقة أكبر من ٤ عشرات بمقدار ٧ <input type="radio"/> نعم <input type="radio"/> لا - العدد ٣٨ أقل من العدد في البطاقة بمقدار ١٠ <input type="radio"/> نعم <input type="radio"/> لا</p>	١	معرفة (استدعاء)
	<p>٢- اكمل الرسم لتحصل على عدد أكبر من ٣ عشرات بمقدار ٣ : .</p> <div style="border: 1px solid black; padding: 10px; text-align: center;">  </div>	١	تطبيق (تمثيل)
	<p>٣- تقول سوسن لديها عدد أكثر من ٤ عشرات بمقدار ٤ : .</p> <div style="text-align: center;">  </div> <p>- لماذا سوسن على خطأ؟</p>	١	استدلال (تقويم)

(يجيب الطالب شفويًا)

الأهداف	الأسئلة	الدرجة	تصنيف الأسئلة
<p>1Nn6 يجزئ العدد من منزلتين آحاد وعشرات والعكس .</p> <p>- استطيع أن اذكر عدداً حتى ٩٤ إذا ما اخبرت بعدد العشرات والآحاد .</p>	<p>١- اكتب العدد التالي : * ٤ عشرات واحد آحاد <input type="text"/></p>	١	معرفة (استدعاء)
	<p>٢- ارسم ٣ عشرات و ٤ آحاد : <input type="text"/> العدد <input type="text"/></p>	١	تطبيق (تمثيل)
	<p>٣- قال سالم أن أربع عشرات واثنان آحاد يكون العدد ٢٤ : لماذا أحمد على خطأ ؟</p>	١	استدلال (تقويم)

الأهداف	الأسئلة	الدرجة	تصنيف الأسئلة
<p>1pt7 يصف ويكمل النمط مثل العد والعد التنازلي بالعشرات على سبيل المثال ٨٠ ، ٩٠ ، ٧٠ .</p> <p>- استطيع أن اتحدث عن الأنماط بالأعداد .</p>	<p>١- من نمط الأعداد التالي : ٢٠ ، ٣٠ ، ٤٠ ، ٥٠ ، ٦٠ ظل دائرة واحدة لكل عبارة : - نمط العد هو عد تصاعدي عشرات <input type="radio"/> نعم <input type="radio"/> لا - نمط العد هو عد تنازلي عشرات <input type="radio"/> نعم <input type="radio"/> لا</p>	١	<p>معرفة (استدعاء)</p>
		-	تطبيق
	<p>٢- تعد سارة بنمط العشرات تنازلياً من ١٠٠ إلى ١٠ كما يلي : ١٠٠ ، ٩٠ ، ٨٠ ، ٦٠ ، ٥٠ ، ٤٠ ، ٣٠ ، ٢٠ ، ١٠ . - ما الخطأ الذي وقعت فيه سارة ؟</p>	١	<p>استدلال (تقويم)</p>

الأهداف	الأسئلة	الدرجة	تصنيف الأسئلة																											
1pt7 يصف ويكمل النمط مثل العد والعد التنازلي بالعشرات على سبيل المثال ٩٠ ، ٨٠ ، ٧٠ . - استطيع أن اتحدث عن الأنماط بالأعداد .	١- ظلل سلسلة الأعداد التي يكون نمط الآحاد فيها ٣ . <table><tr><td>١</td><td>٢</td><td>٣</td><td>٤</td></tr><tr><td>١١</td><td>١٢</td><td>١٣</td><td>١٤</td></tr><tr><td>٢١</td><td>٢٢</td><td>٢٣</td><td>٢٤</td></tr><tr><td>٣١</td><td>٣٢</td><td>٣٣</td><td>٣٤</td></tr><tr><td>٤١</td><td>٤٢</td><td>٤٣</td><td>٤٤</td></tr><tr><td>٥١</td><td>٥٢</td><td>٥٣</td><td>٥٤</td></tr></table>	١	٢	٣	٤	١١	١٢	١٣	١٤	٢١	٢٢	٢٣	٢٤	٣١	٣٢	٣٣	٣٤	٤١	٤٢	٤٣	٤٤	٥١	٥٢	٥٣	٥٤	١	تطبيق (تمثيل)			
	١	٢	٣	٤																										
١١	١٢	١٣	١٤																											
٢١	٢٢	٢٣	٢٤																											
٣١	٣٢	٣٣	٣٤																											
٤١	٤٢	٤٣	٤٤																											
٥١	٥٢	٥٣	٥٤																											
	٢- ما النمط المتبع في اشرطة الاعداد من لوحة المئة :. <table><tr><td>١١</td><td>١٢</td><td>١٣</td><td>١٤</td><td>١٥</td><td>١٦</td><td>١٧</td><td>١٨</td><td>١٩</td></tr><tr><td>٣١</td><td>٣٢</td><td>٣٣</td><td>٣٤</td><td>٣٥</td><td>٣٦</td><td>٣٧</td><td>٣٨</td><td>٣٩</td></tr><tr><td>٥١</td><td>٥٢</td><td>٥٣</td><td>٥٤</td><td>٥٥</td><td>٥٦</td><td>٥٧</td><td>٥٨</td><td>٥٩</td></tr></table> <p>ظل يمين الإجابة الصحيحة :.</p> <p>○ منزلة الآحاد من ١ – ٩ في جميع الصفوف . ○ منزلة العشرات من ١ – ٩ في جميع الصفوف . ○ منزلة الآحاد في جميع الأعداد تساوي ٣ . ○ منزلة العشرات في جميع الأعداد تساوي ١ .</p>	١١	١٢	١٣	١٤	١٥	١٦	١٧	١٨	١٩	٣١	٣٢	٣٣	٣٤	٣٥	٣٦	٣٧	٣٨	٣٩	٥١	٥٢	٥٣	٥٤	٥٥	٥٦	٥٧	٥٨	٥٩	١	استدلال (تعميم)
١١	١٢	١٣	١٤	١٥	١٦	١٧	١٨	١٩																						
٣١	٣٢	٣٣	٣٤	٣٥	٣٦	٣٧	٣٨	٣٩																						
٥١	٥٢	٥٣	٥٤	٥٥	٥٦	٥٧	٥٨	٥٩																						







الأهداف	الأسئلة	الدرجة	تصنيف الأسئلة
<p>1M12 يُقدر ويقارن السعات المختلفة عن طريق المقارنة المباشرة ثم باستخدام وحدات غير قياسية .</p> <p>- استطيع أن استنتج أي وعاء له أكبر سعة ، باستخدام الأرز أو الرمل أو المياه على سبيل المثال .</p>	<p>١- رتب الأوعية التالية من الوعاء الأكبر سعة إلى الأقل سعة بكتابة الأرقام (١ ، ٢ ، ٣ ، ٤) أسفل الأوعية .:</p> <div style="display: flex; justify-content: space-around; align-items: center;">     </div>	١	معرفة (ترتيب)
<p>٢- ارسم وعاء يتسع لكمية أكبر من وعاء سالم .:</p> <div style="display: flex; align-items: center;"> <div style="border: 1px solid black; width: 180px; height: 160px; margin-right: 20px;"></div>  </div>		١	تطبيق (تمثيل)
<p>٣- لدى أحمد أوعية بنفس الطول كما يلي .:</p> <div style="display: flex; justify-content: center; align-items: center;">   </div> <p>(أ) (ب)</p> <p>- أي الأوعية أكبر سعة ؟</p> <p>- فسر إجابتك</p>		١	استدلال (تقويم)

✦ ملاحظة عامة




✓ الطالب في الصف الأول خلال الفصل الدراسي الأول غير متمكن من القراءة والكتابة

✓ الأسئلة المتنوعة تتم مناقشتها شفويا إلا بعض المهارات التي تتطلب من الطالب التدريب المستمر مثل كتابة الأعداد .. رسم الأشكال .. تحديد الأطوال .. أزواج الأعداد ... إلخ .

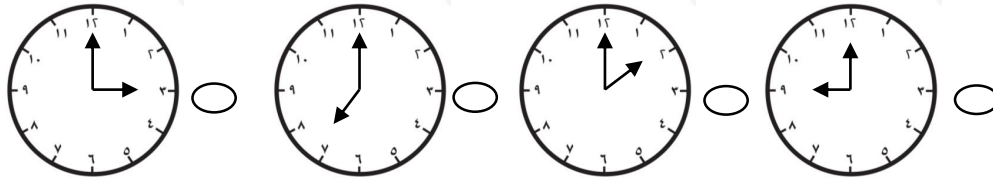
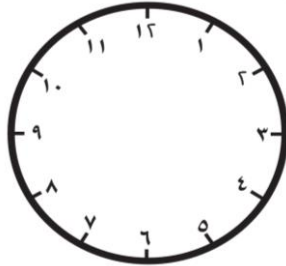
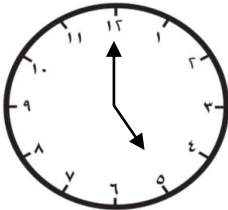
✓ مع مرور الوقت تدريجيا يستطيع الطالب حل الأسئلة حسب تطوره في هذه المرحلة .
✦ (نهدف من ذلك تعويد الطالب على إدراك التنوع في الصياغات المختلفة للأسئلة وامتلاك مهارات الاستعداد في وقت التقويم الكتابي) .

الأهداف	الأسئلة	الدرجة	تصنيف الأسئلة
<p>1M12 يُقَدَّر ويقارن السعات المختلفة عن طريق المقارنة المباشرة ثم باستخدام وحدات غير قياسية .</p> <p>- استطيع ان استعمل كلمات مثل يسع أكثر أو يسع أقل للمقارنة بين سعات الأوعية .</p>	<p>١- استخدم الكلمات التالية لتكون العبارة صحيحة : (يسع أكثر - يسع أقل)</p> <div style="display: flex; justify-content: space-around; align-items: center;">    </div> <p>(أ) من الوعاء (ج) (ج) من الوعاء (ب)</p>	١	معرفة (استدعاء)
	<p>٢- ارسم وعاء يتسع لكمية أكبر من الوعائين التاليين :.</p> <div style="display: flex; align-items: center;"> <div style="border: 1px solid black; width: 150px; height: 100px; margin-right: 20px;"></div>   </div>	١	تطبيق (تمثيل)
	<p>٣- يملئ خالد دلوين بكوب ماء</p> <div style="display: flex; align-items: center;">  <div style="margin-left: 20px;"> <p>- أي الدلوين يحمل أكثر كمية من أكواب الماء</p> <p>- فسر إجابتك؟</p> </div> </div> <div style="display: flex; justify-content: space-around; align-items: center;">   </div>	١	استدلال (تقويم)

موضوع الدرس : ٩- النقود والوقت / (٩ - ١) أهلاً بك في مطعم المدرسة (المقصف) و (٩ - ٢) النقود).


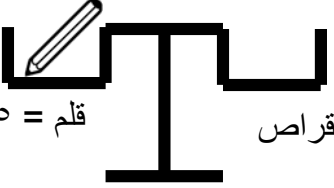
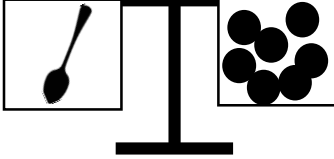
الأهداف	الأسئلة	الدرجة	تصنيف الأسئلة
1Mm1 يتعرف على جميع العملات ويتدرب على كيفية وضع النقود بالضبط باستخدام عملات أصغر .	١- العملة التي تمثل ١ ريال هي : ظلل يمين الإجابة الصحيحة : 	١	معرفة (استدعاء)
- استطيع أن أتعرف على العملات المختلفة .	٢- الأوراق النقدية التي تساوي ريال : ظلل يمين الإجابة الصحيحة : 	١	معرفة (استدعاء)
<p>✦ ملاحظة عامة</p> <p>✓ الطالب في الصف الأول خلال الفصل الدراسي الأول غير متمكن من القراءة والكتابة .</p> <p>✓ الأسئلة المتنوعة تتم مناقشتها شفويا إلا بعض المهارات التي تتطلب من الطالب التدريب المستمر مثل كتابة الأعداد .. رسم الأشكال .. تحديد الأطوال .. أزواج الأعداد ... إلخ .</p> <p>✓ مع مرور الوقت تدريجيا يستطيع الطالب حل الأسئلة حسب تطوره في هذه المرحلة .</p> <p>✦ (نهدف من ذلك تعويد الطالب على إدراك التنوع في الصياغات المختلفة للأسئلة وامتلاك مهارات الاستعداد في وقت التقييم الكتابي) .</p>	٣- حوط الأوراق النقدية التي تحتاجها لتكوين ريال واحد : 	١	استدلال (تركيب)

موضوع الدرس : ٩- النقود والوقت / (٩-٣) قراءة الوقت (١) و (٩-٤) قراءة الوقت (٢) () .

الأهداف	الأسئلة	الدرجة	تصنيف الأسئلة
<p>1Mt2 يقرأ الوقت بالساعات (الساعة) ويعرف الأوقات الرئيسية من اليوم لأقرب ساعه .</p> <p>- استطيع أن أبين على الساعة بعض أوقات الساعة الكاملة .</p>	<p>١- الساعة التي تشير على الساعة الثانية : ظلل يمين الإجابة الصحيحة :.</p> 	١	معرفة (تعرف)
	<p>٢- يقدم المطعم الشاي عند الساعة الثامنة ، لمدة ساعة واحدة . ارسم وقت انتهاء تقديم الشاي على الساعة المقابلة :.</p> 	١	تطبيق (تمثيل)
	<p>٣- يقول أحمد أن الوقت في الساعة التالية يشير إلى الساعة الثانية عشر - لماذا أحمد على خطأ ؟</p> 	١	استدلال (تقويم)

الأهداف	الأسئلة	الدرجة	تصنيف الأسئلة
1Mi1 يقارن الأوزان مقارنة مباشرة ثم باستخدام وحدات غير قياسية . - استطيع أن أقارن ثقل شيئين باستخدام ميزان .	١- من خلال الميزان التالي : ظل دائرة واحدة لكل عبارة : - الأثقل هو قطعة الحلوى <input type="radio"/> نعم <input type="radio"/> لا - الأخف هو التفاحة <input type="radio"/> نعم <input type="radio"/> لا	١	معرفة (استخراج)
✦ ملاحظة عامة ✓ الطالب في الصف الأول خلال الفصل الدراسي الأول غير متمكن من القراءة والكتابة . ✓ الأسئلة المتنوعة تتم مناقشتها شفويا إلا بعض المهارات التي تتطلب من الطالب التدريب المستمر مثل كتابة الأعداد .. رسم الأشكال .. تحديد الأطوال .. أزواج الأعداد ... إلخ . ✓ مع مرور الوقت تدريجيا يستطيع الطالب حل الأسئلة حسب تطوره في هذه المرحلة . ✦ (نهدف من ذلك تعويد الطالب على إدراك التنوع في الصياغات المختلفة للأسئلة وإملاك مهارات الاستعداد في وقت التقييم الكتابي) .	٢- الميزان الذي يمثل المقارنة الصحيحة بين ثمرة التفاح وقطعة الحلوى : 	١	استدلال (تقويم)
	٣- في الميزان التالي ما الشيء الذي يمكن وضعه في الكفة الثانية : - فسر سبب اختياري ؟	١	استدلال (تقويم)

الأهداف	الأسئلة	الدرجة	تصنيف الأسئلة
<p>1MI3 يستخدم لغة المقارنة أطول ، أقصر ، أثقل ، أخف .</p> <p>- استطيع أن استخدم كلمات مثل أخف ، أثقل ، لمقارنة مدى ثقل الأشياء .</p>	<div data-bbox="727 244 1398 411" data-label="Image"> </div> <p>١- اكتب الكلمات التالية لتكون العبارة صحيحة : (أخف من - أثقل من)</p> <div data-bbox="984 558 1508 775" data-label="Image"> </div>	١	معرفة (استخراج)
	<p>٢- سلمى تقول ان القلم أخف من الطوب ، ارسم على كفتي الميزان ما تقوله سلمى :.</p> <div data-bbox="739 922 1152 1090" data-label="Image"> </div>	١	تطبيق (تمثيل)
	<p>٣- في الميزان التالي :. يقول أحمد أن البالونة أثقل من الطوب .</p> <div data-bbox="470 1108 733 1290" data-label="Image"> </div> <p>- فسر / لماذا احمد على خطأ ؟</p>	١	استدلال (تبرير)

الأهداف	الأسئلة	الدرجة	تصنيف الأسئلة
<p>- 1MI1 يقارن الأوزان مقارنة مباشرة ثم باستخدام وحدات غير قياسية .</p> <p>- استطيع أن أتوصل إلى عدد الأشياء الخفيفة التي يمكن أن يصل وزنها إلى وزن شيء ثقيل .</p>	<p>١- عدد المكعبات التي يصل وزنها إلى وزن لعبة الدب يساوي</p> 	١	معرفة (استخراج)
	<p>٢- ارسم اقراصاً تكافئ وزن القلم :.</p>  <p>قلم = ١٥ قرصاً</p> <p>اقراص</p>	١	تطبيق (تمثيل)
	<p>٣- في الميزان التالي :.</p> <p>يقول ناصر أن عدد الأقراص التي تساوي وزن الملعقة يساوي ١٢ .</p> <p>فسر لماذا سالم على خطأ؟</p> <p>.....</p> 	١	استدلال (تبرير)

الأهداف	الأسئلة	الدرجة	تصنيف الأسئلة
<p>1Pt1 يختار الاستراتيجيات المناسبة لإجراء الحسابات ، ويشرح طريقته .</p> <p>- استطيع أن اختار كيفية التوصل إلى إجابته .</p>	<p>١- ضع التفاحة والبالونة في المكان المناسب في الميزان للمقارنة بينهما :.</p> <p>- الكفة التي ستضع فيها التفاح هي :.</p> <p>□ أ □ ب</p> <p>- اشرح كيف توصلت للإجابة ؟.....</p> <p><u>ملاحظة</u> : طالب الصف الأول يجيب شفويًا على هذا السؤال .</p>	١	استدلال (تقويم)
	<p>٢- عند استخدامك للميزان التالي :.</p> <p>ناقش الطلاب في الأسئلة التالية :.</p> <p>أ- كيف تجعل أحد الكفتين أثقل من الآخر ؟</p> <p><u>ملاحظة</u> : مناقشة شفوية .</p>	١	تطبيق (تنفيذ)

موضوع الدرس : ١١ - الأعداد الفردية والزوجية / (١١-١ : الأعداد الزوجية) .

الأهداف	الأسئلة	الدرجة	تصنيف الأسئلة
<p>1Nn5 يعد بإضافة اثنين ، ويبدأ بمعرفة الأعداد الفردية والزوجية إلى ٢٠ .</p> <p>- استطيع ان أعد بزيادة اثنين من ٠ - ٢٠ على الأقل .</p>	<p>١ - عند العد اثنتين في سلسلة الأعداد التالية : ٠ ، ٢ ، ٤ ، ٦ ، — . - يكون العدد الناقص : ظلل يمين الإجابة الصحيحة : ٧ ○ ٨ ○ ٩ ○ ١٠ ○</p>	١	معرفة (استدعاء)
	<p>٢ - أكمل سلسلة الأعداد التالية : ٠ ، ٢ ، ٤ ، ٦ ، ٨ ، — ، — .</p>	١	معرفة (استدعاء)
	<p>٣ - يريد راشد بناء ٣ أبراج ، كل برج يتكون من ٢ مكعب . كم عدد المكعبات التي يحتاجها ؟</p>	١	تطبيق (تنفيذ)
	<p>٤ - لدى راشد ٦ مكعبات ن يريد بناء أبراج من مكعبين . كم برجاً سيبنى راشد ؟</p>	١	تطبيق (تنفيذ)
	<p>٥ - يعد أحمد الأعداد بالطريقة التالية : ١٠ ، ١٢ ، ١٤ ، ١٦ ، ١٨ ، ٢٠ .</p> <p>- القاعدة التي يتبعها أحمد في العد هي —————</p>	١	استدلال (تعميم)

✦ ملاحظة عامة


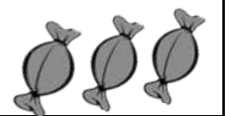
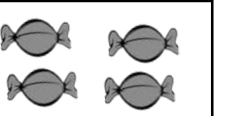
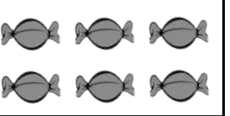
- ✓ الطالب في الصف الأول خلال الفصل الدراسي الأول غير متمكن من القراءة والكتابة
- ✓ الأسئلة المتنوعة تتم مناقشتها شفويا إلا بعض المهارات التي تتطلب من الطالب التدريب المستمر مثل كتابة الأعداد .. رسم الأشكال .. تحديد الأطوال .. أزواج الأعداد ... إلخ .
- ✓ مع مرور الوقت تدريجيا يستطيع الطالب حل الأسئلة حسب تطوره في هذه المرحلة .
- ✦ (نهدف من ذلك تعويد الطالب على إدراك التنوع في الصياغات المختلفة للأسئلة وامتلاك مهارات الاستعداد في وقت التقييم الكتابي) .



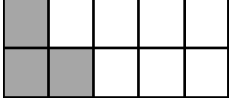

موضوع الدرس : ١١- الأعداد الفردية والزوجية / (١١-١ : الأعداد الزوجية).

الأهداف	الأسئلة	الدرجة	تصنيف الأسئلة
<p>1Nn5 يعد بإضافة اثنين ، ويبدأ بمعرفة الأعداد الفردية والزوجية إلى ٢٠ .</p> <p>- استطيع ان أعد بزيادة اثنين من ١ - ٢٠ على الأقل .</p>	<p>١- سالم يعد اثنتين بدءاً من ١ - ٢٠ ظل دائرة واحدة لكل عبارة .</p> <p>- يحصل سالم على العدد ٦ . <input type="radio"/> نعم <input type="radio"/> لا - يحصل سالم على العدد ٧ . <input type="radio"/> نعم <input type="radio"/> لا</p>	١	معرفة (استدعاء)
	<p>٢- عند العد اثنتين في هذه السلسلة : ١١ ، ١٣ ، ١٥ ، ١٧ ، فإن العدد التالي هو : ظل يمين الإجابة الصحيحة :.</p> <p>١٦ ○ ١٨ ○ ١٩ ○ ٢٠ ○</p>	١	معرفة (استدعاء)
	<p>٣- عامر يعد اثنتين بدءاً من العدد ١ .</p> <p>١-٣-٥-٦-٩-١١-١٣-١٥-١٧-١٩</p> <p>- صح الخطأ الذي وقع فيه عامر ؟</p>	١	استدلال (تقويم)

موضوع الدرس : ١١- الأعداد الفردية والزوجية / (١١-١ : الأعداد الزوجية).




الأهداف	الأسئلة	الدرجة	تصنيف الأسئلة
<p>1Nc7 يبدأ في التعرف على مضاعفات ٢ و ١٠ .</p> <p>- استطيع أن أجد مضاعفات ٢ و ١٠ .</p>	<p>المضاعف هو : عندما تُعد من الصفر بخطوات بنفس العدد .</p> <p>١- أكمل مضاعفات العدد ٢ : ٠ ، ٢ ، ٤ ، ____ ، ____ ، ____ .</p>	-	-
<p>ملاحظة :</p> <p>الهدف 1Nc7</p> <p>مكتمل عند نهاية هذا الدرس ويمكن تقييمه ختامياً وشفوياً ورصد له درجة في عمود الحساب الذهني في سجل التقويم (يقيم شفوياً) .</p>	<p>٢- الأعداد التالية ٠ ، ٢ ، ٤ ، ٨ من مضاعفات العدد ____ .</p>	-	-
<p>الهدف 1Nc7</p> <p>مكتمل عند نهاية هذا الدرس ويمكن تقييمه ختامياً وشفوياً ورصد له درجة في عمود الحساب الذهني في سجل التقويم (يقيم شفوياً) .</p> <p>على المعلم الانتباه أثناء وضع الأسئلة الختامية ستكون مرتبطة بالهدف المنتهي شاملاً فتقيسه .</p> <p>وليس على عبارات استطيع ان ، حيث أن عبارات أستطيع أن تحقق جزء من الهدف فقط وصالحة للتقييم والتدريب المستمر حيث تساهم في استعداد الطالب من التمكن من حل أسئلة التقويم الختامي .</p>	<p>٣- اذكر مضاعفات العدد ١٠ ؟</p> <p>٥ □ □ □ □ □ □ □ □ □ □</p> <p>ملاحظة : في هذا الدرس نركز على مضاعفات العدد ٢ لربطها بالعدد الزوجي .</p>	-	-

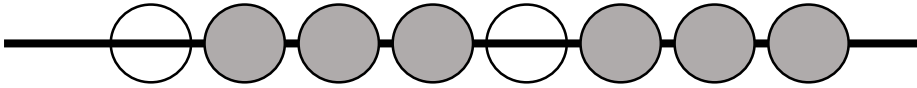

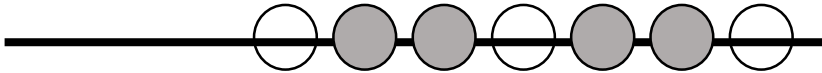
الأهداف	الأسئلة	الدرجة	تصنيف الأسئلة
<p>1Nn5 يعد بإضافة اثنين ، ويبدأ بمعرفة الأعداد الفردية والزوجية إلى ٢٠ .</p> <p>- أستطيع أن أتعرف على بعض الأعداد الفردية والزوجية حتى ٢٠ .</p>	<p>١- صل العمود الأول بما يناسبه من العمود الثاني : <div style="display: flex; justify-content: space-around; align-items: center;"> <div style="border: 1px solid black; padding: 5px; text-align: center;">عدد زوجي</div> <div style="border: 1px solid black; padding: 5px; text-align: center;">عدد فردي</div> </div> <div style="display: flex; justify-content: space-around; align-items: center;"> <div style="border: 1px solid black; padding: 5px; text-align: center;">٥</div> <div style="border: 1px solid black; padding: 5px; text-align: center;">٨</div> <div style="border: 1px solid black; padding: 5px; text-align: center;">١٠</div> <div style="border: 1px solid black; padding: 5px; text-align: center;">٧</div> </div> </p>	١	معرفة (استدعاء)
	<p>٢- عدد فردي بين ٠ و ٢٠ أحادة نفس عشراته . <div style="display: inline-block; border: 1px solid black; width: 30px; height: 20px; vertical-align: middle;"></div> العدد هو</p>	١	معرفة (استدعاء)
	<p>٣- أكلت فاطمة عدداً فردياً من قطع الشوكولاتة . ظلل ما يمثل ذلك : <div style="display: flex; justify-content: space-around; align-items: center;"> <div style="border: 1px solid black; padding: 5px; text-align: center;">  ○ </div> <div style="border: 1px solid black; padding: 5px; text-align: center;">  ○ </div> </div> <div style="display: flex; justify-content: space-around; align-items: center;"> <div style="border: 1px solid black; padding: 5px; text-align: center;">  ○ </div> <div style="border: 1px solid black; padding: 5px; text-align: center;">  ○ </div> </div> </p>	١	معرفة (استدعاء)

الأهداف	الأسئلة	الدرجة	تصنيف الأسئلة
<p>1Nn5 يعد بإضافة اثنين ، ويبدأ بمعرفة الأعداد الفردية والزوجية إلى ٢٠ .</p> <p>- استطيع أن أتعرف على بعض الأعداد الفردية والزوجية حتى ٢٠ .</p>	<p>٤- الأجزاء المظللة التي تمثل عدد زوجي : ظلل يمين الإجابة الصحيحة :.</p> <div style="display: flex; justify-content: space-around; align-items: center;"> <div style="text-align: center;">  <input type="radio"/> </div> <div style="text-align: center;">  <input type="radio"/> </div> </div> <div style="display: flex; justify-content: space-around; align-items: center;"> <div style="text-align: center;">  <input type="radio"/> </div> <div style="text-align: center;">  <input type="radio"/> </div> </div>	١	تطبيق (تمثيل)
<p>ملاحظة :</p> <p>الهدف 1Nn5</p> <p>مكتمل عند نهاية هذا الدرس ويمكن تقييمه ختامياً ورصد له درجة في عمود الأسئلة القصيرة أو الاختبارات في سجل التقويم .</p> <p>على المعلم الانتباه أثناء وضع الأسئلة الختامية ستكون مرتبطة بالهدف المنتهي شاملاً فتقيسه .</p> <p>وليس على عبارات استطيع ان ، حيث أن عبارات أستطيع أن تحقق جزء من الهدف فقط وصالحة للتقييم والتدريب المستمر حيث تساهم في استعداد الطالب من التمكن من حل أسئلة التقويم الختامي .</p>	<p>٥- راشد يقول أن جميع الأعداد في البطاقات التالية أعداد زوجية :.</p> <div style="display: flex; justify-content: center; gap: 20px;"> <div style="border: 1px solid black; padding: 5px;">١٢</div> <div style="border: 1px solid black; padding: 5px;">٨</div> <div style="border: 1px solid black; padding: 5px;">١٠</div> <div style="border: 1px solid black; padding: 5px;">٥</div> <div style="border: 1px solid black; padding: 5px;">٢</div> </div> <p>- فسر لماذا راشد على خطأ؟</p>	١	استدلال (تقويم)

موضوع الدرس : ١١- الأعداد الفردية والزوجية / (١١-١ : الأعداد الزوجية + ١١-٢ الأعداد الفردية) .

الأهداف	الأسئلة	الدرجة	تصنيف الأسئلة																				
1pt2 يستكشف المسائل العددية والألغاز . - استطيع أن استخدم الأنماط للإجابة عن الأسئلة .	١- اكمل رسم النمط التالي :. <div><div><div><div></div><div></div><div></div></div></div><div><div><div><div></div><div></div><div></div></div></div><div><div><div><div></div><div></div></div></div><div><div><div><div></div></div></div></div></div></div></div>	١	استدلال (استخلاص نتائج)																				
	٢- الشكل التالي يوضح جزء من لوحة المئة . <table><tr><td>١٠</td><td>٩</td><td>٨</td><td>٧</td><td>٦</td><td>٥</td><td>٤</td><td>٣</td><td>٢</td><td>١</td></tr><tr><td>٢٠</td><td>١٩</td><td>١٨</td><td>١٧</td><td>١٦</td><td>١٥</td><td>١٤</td><td>١٣</td><td>١٢</td><td>١١</td></tr></table> - النمط المستخدم في تظليل الأعداد هو	١٠	٩	٨	٧	٦	٥	٤	٣	٢	١	٢٠	١٩	١٨	١٧	١٦	١٥	١٤	١٣	١٢	١١	١	استدلال (تعميم)
	١٠	٩	٨	٧	٦	٥	٤	٣	٢	١													
٢٠	١٩	١٨	١٧	١٦	١٥	١٤	١٣	١٢	١١														
٣- حتى نكمل النمط التالي :. <div><div><div><div></div><div></div><div></div></div></div><div><div><div><div></div><div></div></div></div><div><div><div><div></div></div></div></div></div> يقول احمد اننا نحتاج إلى دائرتين . - هل إجابة أحمد صحيحة ؟ - فسر إجابتك ؟</div>	١	استدلال (تقويم)																					

الأهداف	الأسئلة	الدرجة	تصنيف الأسئلة															
1Nn9يرتب الأعداد إلى ما لا يقل عن ٢٠ ، ويضعها على مسار عددي . ويستخدم الأعداد الترتيبية . - أستطيع ان أقول أيهما الأول ، الثاني ، الثالث ، الرابع ، الخامس ، السادس ، السابع ، الثامن ، التاسع ، العاشر . <div>✦ملاحظة عامة ✓ الطالب في الصف الأول خلال الفصل الدراسي الأول غير متمكن من القراءة والكتابة . ✓ الأسئلة المتنوعة تتم مناقشتها شفويا إلا بعض المهارات التي تتطلب من الطالب التدريب المستمر مثل كتابة الأعداد .. رسم الأشكال .. تحديد الأطوال .. أزواج الأعداد ... إلخ . ✓ مع مرور الوقت تدريجيا يستطيع الطالب حل الأسئلة حسب تطوره في هذه المرحلة . ✦ (نهدف من ذلك تعويد الطالب على إدراك التنوع في الصياغات المختلفة للأسئلة وامتلاك مهارات الاستعداد في وقت التقييم الكتابي) .</div>	١- اشتركت الحيوانات التالية في السباق . <div><div>خط النهاية</div></div> - ضع علامة (✓) أمام كل عبارة :. <table><tr><th>العبارة</th><th>الصواب</th><th>الخطأ</th></tr><tr><td>الحيوان الذي وصل الأول هو القط .</td><td></td><td></td></tr><tr><td>الحيوان الذي وصل الرابع هو الغزال.</td><td></td><td></td></tr><tr><td>الحيوان الذي وصل الثالث هو القرد .</td><td></td><td></td></tr><tr><td>الحيوان الذي وصل الثاني هو الأرنب .</td><td></td><td></td></tr></table>	العبارة	الصواب	الخطأ	الحيوان الذي وصل الأول هو القط .			الحيوان الذي وصل الرابع هو الغزال.			الحيوان الذي وصل الثالث هو القرد .			الحيوان الذي وصل الثاني هو الأرنب .			٢	معرفة (استخراج)
العبارة	الصواب	الخطأ																
الحيوان الذي وصل الأول هو القط .																		
الحيوان الذي وصل الرابع هو الغزال.																		
الحيوان الذي وصل الثالث هو القرد .																		
الحيوان الذي وصل الثاني هو الأرنب .																		
	٢- يقف خمسة أشخاص في الطابور الذي تقف فيه . إذا كان عدد الأشخاص أمامك أربعة فإن ترتيبك هو _____ . <div></div>	١	معرفة (استخراج)															
	٣- ظلل الخرزة الثامنة :. <div></div>	١	تطبيق (تمثيل)															

الأهداف	الأسئلة	الدرجة	تصنيف الأسئلة
<p>1Nn9 يرتب الأعداد إلى ما لا يقل عن ٢٠ ، ويضعها على مسار عددي . ويستخدم الأعداد الترتيبية .</p> <p>- أستطيع ان أقول أيهما الأول ، الثاني ، الثالث ، الرابع ، الخامس ، السادس ، السابع ، الثامن ، التاسع ، العاشر .</p>	<p>٤- في سلسلة الخرز التالية ::</p>  <p>الخرزة التاسعة هي ::</p> <p>ظلل يمين الإجابة الصحيحة ::</p> 	١	استدلال (استخلاص نتائج)
<p>٥- لديك سلسلة من الخرز ، مرتبة بنمط ما ارسم الخرزة الثامنة ::</p> 	<p>١</p>	١	استدلال (استخلاص نتائج)


ملاحظة ::


الهدف 1Nn9

مكتمل عند نهاية هذا الدرس ويمكن تقييمه ختامياً ورصد له درجة في عمود الأسئلة القصيرة أو الاختبارات في سجل التقويم .

على المعلم الانتباه اثناء وضع الأسئلة الختامية ستكون مرتبطة بالهدف المنتهي شاملاً فتقيسه .

وليس على عبارات أستطيع ان ، حيث أن عبارات أستطيع أن تحقق جزء من الهدف فقط وصالحة للتقييم والتدريب المستمر حيث تساهم في استعداد الطالب من التمكن من حل أسئلة التقويم الختامي .

الأهداف	الأسئلة	الدرجة	تصنيف الأسئلة
<p>1Nn8 يستخدم أكبر أو اصغر للمقارنة بين الأعداد وإعطاء العدد الذي يقع بينهما .</p> <p>- استطيع ان أجد عدداً يقع بين عددين آخرين .</p> <p>ملاحظة : . تم وضع أسئلة سابقاً على الأهداف 1Nn2 – 1Nn1 وما زالت الأهداف لم تنتهي .</p>	<p>١- عند العد من ٢٣ على ٢٧ : ظل دائرة واحدة لكل عبارة : العدد ٢٥ من الأعداد التي تقع بين العددين <input type="radio"/> نعم <input type="radio"/> لا العدد ٢٢ من الأعداد التي تقع بين العددين <input type="radio"/> نعم <input type="radio"/> لا</p>	١	معرفة (استدعاء)
	<p>٢- الأعداد التي تقع بين ١٥ و ١٨ هي ظل يمين الإجابة الصحيحة ١٦ ، ١٥ <input type="radio"/> ١٨ ، ١٧ <input type="radio"/> ١٧ ، ١٦ <input type="radio"/> ٢٠ ، ١٩ <input type="radio"/></p>	١	معرفة (استدعاء)
	<p>٣- يفكر أحمد في رسم دوائر عددها يقع بين ١٠ و ١٢ ارسم عدد دوائر أحمد </p>	١	تطبيق (تمثيل)

الأهداف	الأسئلة	الدرجة	تصنيف الأسئلة
1Nn8 يستخدم أكبر أو أصغر للمقارنة بين الأعداد وإعطاء العدد الذي يقع بينهما .	٤- العدد الواقع بين العددين ٤٩ ، — ، ٥١ ظلل يمين الإجابة الصحيحة :: ٥٢٠ ١٥٠ ٥٠٠ ٤٠٠	١	معرفة (استدعاء)
- استطيع ان أجد عدداً يقع بين عددين آخرين .	٥- احمد يكتب الأعداد الواقعة بين ٣٠ و ٣٤ <div style="display: flex; align-items: center; justify-content: center;"> <div style="border: 1px solid black; padding: 5px; margin-right: 10px;">٣٠ ، ٣١ ، ٣٢ ، ٣٣ ، ٣٤</div>  </div> - صحح الخطأ الذي وقع فيه احمد ؟	١	استدلال (تقويم)

موضوع الدرس : ١٣- الجمع والطرح : الإضافة والحذف / (١٣- ١ المزيد من أزواج الأعداد ل ١٠) .

الأهداف	الأسئلة	الدرجة	تصنيف الأسئلة
1Nc3 يجمع أكثر من عددين صغيرين ، مع تحديد الأزواج ل ١٠ ، مثل : $١٠ + ٣ = ٣ + ٦ + ٤$	١- يتذكر الطلاب أزواج العدد ١٠ : <div style="display: flex; justify-content: space-around; align-items: center;"> <div style="border: 1px solid black; padding: 5px; margin: 2px;">١٠ + ٠</div> <div style="border: 1px solid black; padding: 5px; margin: 2px;">٩ + ١</div> <div style="border: 1px solid black; padding: 5px; margin: 2px;">٨ + ٢</div> <div style="border: 1px solid black; padding: 5px; margin: 2px;">٧ + ٣</div> <div style="border: 1px solid black; padding: 5px; margin: 2px;">٦ + ٤</div> <div style="border: 1px solid black; padding: 5px; margin: 2px;">٥ + ٥</div> </div> والعكس ...	-	-
- استطيع أن اجد عددين يبلغ مجموعهما ١٠ لمساعدتي في جمع ثلاثة أعداد .	٢- نبحث عن أزواج العدد ١٠ في مجموعة اعداد ونرسم لهما لتسهيل عملية الجمع ل ٣ أعداد . أمثلة : $١٣ = ٣ + ١٠ = ٤ + ٣ + ٦$ $١١ = ١٠ + ١ = ١ + ٩ + ١$ $١٤ = ٤ + ١٠ = ٤ + ٨ + ٢$ $١٥ = ٥ + ١٠ = ٧ + ٥ + ٣$	-	-
٣- تمارين تدريبية لدينا ٣ بطاقات جمعها معاً هو ١٢ بطاقتان تكونان زوجاً عددياً ل ١٠ $١٢ = \square + \square + \square$ $١٢ = \square + \square + \square$ $١٢ = \square + \square + \square$	٣- تمارين تدريبية لدينا ٣ بطاقات جمعها معاً هو ١٢ بطاقتان تكونان زوجاً عددياً ل ١٠ $١٢ = \square + \square + \square$ $١٢ = \square + \square + \square$ $١٢ = \square + \square + \square$	-	-

ملاحظة :

1Nn1 + 1Nn2 + 1Nn8

تم وضع أسئلة عليها وهي أهداف منتهية في هذا الدرس ويمكن تقييمه ختامياً ورصد له درجة في عمود الأسئلة القصيرة أو الاختبارات في سجل التقويم .

1Nc1 تمت سابقاً .





1Nc3 حساب ذهني شفوي تمارين عامة لأزواج العدد ١٠ .

وهي أهداف مكتملة عند نهاية هذا الدرس ويمكن تقييمها ختامياً وشفوياً ورصد له درجه في عمود الأسئلة القصيرة او الاختبارات في سجل التقويم .

ملاحظة : فكر في إجابات متعددة .

- * كتاب النشاط صفحة ٤١ ، ٤٢ تدريب مهم على العد تصاعدياً من ١٠ أو أكثر من ١٠ .
- * يتدرب الطالب ويسجل التمارين في الدفتر حتى تسهل عليه عملية جمع ٣ اعداد .

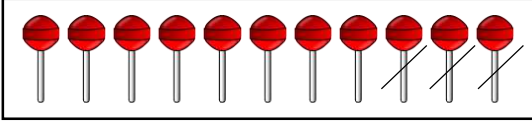
موضوع الدرس : ١٣ - الجمع والطرح : الإضافة والحذف / (١٣ - ٢ الجمع على شكل ضم) .


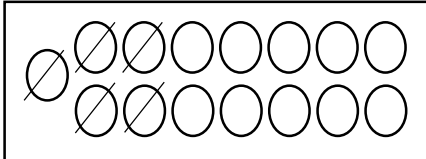

الأهداف	الأسئلة	الدرجة	تصنيف الأسئلة
<p>1Nc8 يفهم الجمع كدمج لمجموعتين أو أكثر ويكتب جملة عددية خاصة بالجمع .</p> <p>- استطيع أن اجمع عن طريق ضم مجموعتين الأشياء مع بعضها .</p>	<p>١- اجمع عناصر الأوعية التالية : .</p> <p>١-  و  = <input type="text"/></p>	١	معرفة (حساب)
	<p>٢- صندوق فيه ٨ كرات حمراء و ٧ كرات زرقاء .</p> <p>كم عدد الكرات في الصندوق ؟ (اكتب الجملة العددية)</p> <p><input type="text"/></p>	١	تطبيق (تنفيذ)
	<p>٣- دمج سالم المجموعتين</p> <p> و </p> <p>وقال إن $٦ + ٧ = ١٢$</p> <p>- هل ما قاله سالم صحيح ؟ <input type="checkbox"/> نعم <input type="checkbox"/> لا</p> <p>- فسر إجابتك ؟</p>	١	استدلال (تقويم)

موضوع الدرس : ١٣ - الجمع والطرح : الإضافة والحذف / (١٣ - ٢ الجمع على شكل ضم) .



الأهداف	الأسئلة	الدرجة	تصنيف الأسئلة
<p>1Nc14 يبدأ باستخدام العلامات + و - و = لتسجيل الحسابات في جمل الأعداد .</p> <p>- استطيع أن اكتب جملاً عددية لعرض عمليات الجمع والطرح .</p>	-	-	معرفة
	<p>١- اكتب الجملة العددية لدمج المجموعتين : .</p> <div style="display: flex; align-items: center; justify-content: center;"> <div style="border: 1px solid black; padding: 5px; margin: 5px;"> </div> و <div style="border: 1px solid black; padding: 5px; margin: 5px;"> </div> </div> <div style="display: flex; align-items: center; justify-content: center; margin-top: 20px;"> <div style="border: 1px solid black; width: 40px; height: 40px; margin-right: 10px;"></div> = <div style="border: 1px solid black; width: 150px; height: 40px; margin-left: 10px;"></div> </div>	١	تطبيق (تنفيذ)
	<p>٢- أي من الأشكال التالية يعبر عن $١٤ = ٥ + ٩$.</p> <div style="display: flex; flex-wrap: wrap; justify-content: space-around; align-items: flex-start;"> <div style="text-align: center;"> </div> <div style="text-align: center;"> </div> <div style="text-align: center;"> </div> <div style="text-align: center;"> </div> <div style="text-align: center;"> </div> <div style="text-align: center;"> </div> <div style="text-align: center;"> </div> <div style="text-align: center;"> </div> <div style="text-align: center;"> </div> </div>	١	تطبيق (تمثيل)
	<p>٣- يكتب عامر الجملة العددية لضم مجموعتين .</p> <div style="display: flex; align-items: center; justify-content: center;"> <div style="border: 1px solid black; padding: 5px; margin: 5px;"> </div> و <div style="border: 1px solid black; padding: 5px; margin: 5px;"> </div> </div> <p style="text-align: center; margin-top: 20px;">بهذه الطريقة $١٢ = ٤ + ٧$</p> <p>- لماذا عامر على خطأ ؟</p>	١	استدلال (تقويم)

موضوع الدرس : ١٣ - الجمع والطرح : الإضافة والحذف / (١٣ - ٣ الطرح على شكل الاخذ من) .



الأهداف	الأسئلة	الدرجة	تصنيف الأسئلة
<p>1Nc9 يفهم الطرح على أنه عملية العد تنازلياً والأخذ بعيداً أو الإبعاد ؛ ويدون جمل الطرح .</p> <p>- استطيع ان أطرح عن طريق أخذ الأشياء .</p>	<p>١-  أكل منهما ٣ فإن المتبقي هو <input type="text"/></p>	١	معرفة (استخراج)
	<p>٢- اشترى والدي ١٦ بيضة ، انكسر مهما ٦ بيضات . كم عدد البيض المتبقي ؟ <input type="text"/></p>	١	تطبيق (تنفيذ)
	<p>٣- لدى سالم ١٢ قلماً ، أصبحت الآن ١٠ أقلام . يدعى سالم انه أخذ منهما قلماً واحداً .</p> <p>- هل ادعاء سالم صحيح ؟ <input type="checkbox"/> نعم <input type="checkbox"/> لا</p> <p>- فسر إجابتك ؟</p>	١	استدلال (تقويم)


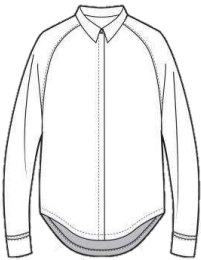

الأهداف	الأسئلة	الدرجة	تصنيف الأسئلة
1Nc14 يبدأ باستخدام علامات + ، - ، = لتسجيل العمليات الحسابية في جمل الأعداد .	١ - اكتب الجملة العددية التي يمثلها الشكل التالي :  <input type="text"/> = <input type="text"/>	١	تطبيق (تنفيذ)
- استطيع ان اكتب جملاً عددية لعرض بعض عمليات الجمع والطرح .	٢ - الجملة العددية التي تمثل الشكل التالي :  ظل يمين الإجابة الصحيحة : $10 = 5 - 15$ ○ $5 = 5 - 10$ ○ $11 = 4 - 15$ ○ $15 = 5 + 10$ ○	١	تطبيق (تحديد)
	٣ - يرسم احمد الشكل الذي يعبر عن الجملة العددية $5 = 6 - 11$.  - صحح الخطأ الذي وقع فيه احمد ؟	١	استدلال (تقويم)

الأهداف	الأسئلة	الدرجة	تصنيف الأسئلة
<p>4pt1 يتخذ قرار بالطرح او الجمع من اجل حل مشكلة بسيطة شفهيًا.</p> <p>- استطيع أن اتخذ قرار بالجمع أو الطرح لإيجاد الإجابة لمشكلة ما أو مسألة ما .</p>	<p>ملاحظات :</p> <p>١- عرض مسائل كلامية ويقرر الطالب شفهيًا ما العملية المناسبة لإيجاد الحل .</p> <p>٢- نسال مجموعة من الأسئلة كتالي : أ- ما معطيات المسألة الكلامية . ب- ما المطلوب من المسألة الكلامية . ج- ما العملية المناسبة لإيجاد حل المسألة الكلامية . د- اذا كانت العملية جمع أو طرح عبر عن الجملة العددية شفهيًا . *** (درس الحقول + درس الألوان + أغلق البوابة) من كتاب التلميذ . - الهدف يناسب الدرسين ١- الجمع على شكل ضم و ٢- الطرح على شكل الأخذ من ... الهدف لم يذكر في الدليل ولكن ذكر في الوثيقة .</p>	-	-
	<p>تمارين :</p> <p>١- توجد ٣ بقرات في الحقل الأول و ٤ بقرات في الحقل الثاني ، كم عدد البقرات في الحقلين .</p>	١	تطبيق (تنفيذ)
	<p>٢- توجد ٨ بقرات في الحقل الواحد ، فتح المزارع البوابة ، خرجت بقرتان . كم بقرة بقيت في الحقل .</p>	١	تطبيق (تنفيذ)
	<p>٣- لدينا وعائين كما في الصورة :</p> <p>كم عدد الأشياء في الوعائين ؟</p>	١	تطبيق (تنفيذ)

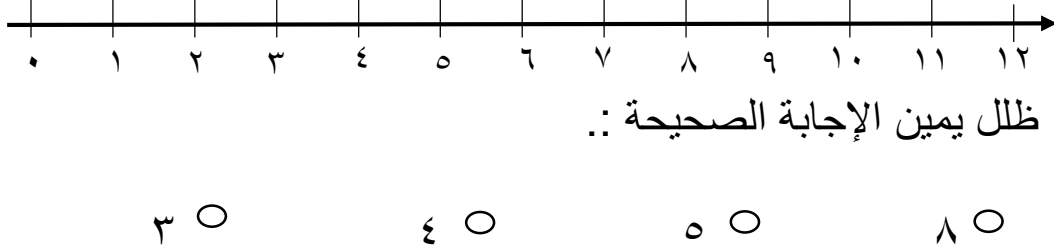
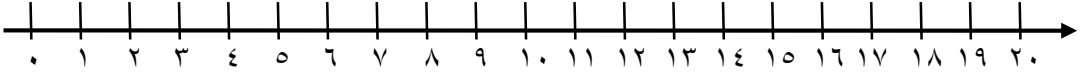
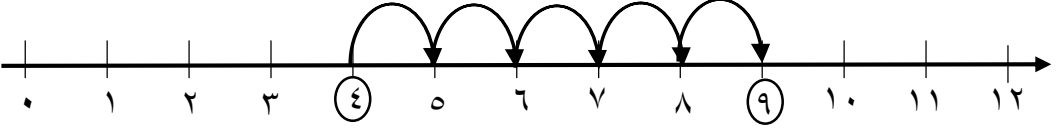


الأهداف	الأسئلة	الدرجة	تصنيف الأسئلة
<p>4pt1 يتخذ قرار بالطرح او الجمع من اجل حل مشكلة بسيطة شفهيًا.</p> <p>- استطيع أن اتخذ قرار بالجمع أو الطرح لإيجاد الإجابة لمشكلة ما أو مسألة ما .</p>	<p>٤- اشترت هند ١٠ تفاحات ، أكلت منها ٣ تفاحات . كم تفاحة بقيت مع هند ؟</p> <div style="border: 1px solid black; height: 60px; width: 250px; margin: 10px auto;"></div>	١	تطبيق (تنفيذ)
	<p>٥- الجملة العددية التي تعبر عن ٦ تفاحات حمراء و ٧ تفاحات خضراء :: ظلل يمين الإجابة الصحيحة ::</p> <div style="display: flex; justify-content: space-around; align-items: center;"> <div style="text-align: center;"> $2 + 8 \bigcirc$ $7 + 6 \bigcirc$ </div> <div style="text-align: center;"> $6 - 7 \bigcirc$ $2 - 8 \bigcirc$ </div> </div>	١	تطبيق (تحديد)
	<p><u>ملاحظة ::</u> جميع المسائل السابقة تناقش شفهيًا حسب ما جاء في خطوات الملاحظة أعلى الصفحة .</p>	-	-

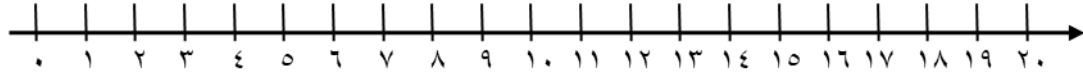
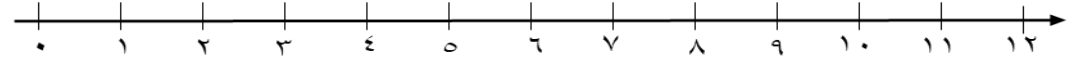
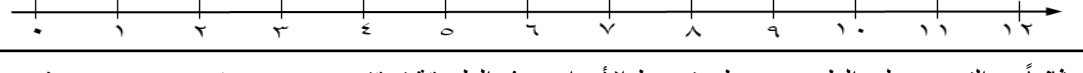
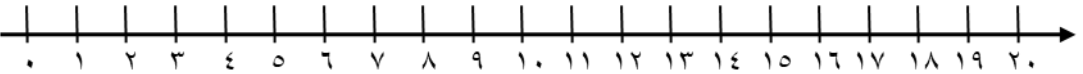
الأهداف	الأسئلة	الدرجة	تصنيف الأسئلة
<p>1pt4 يتخذ قرار بالطرح او الجمع من اجل حل مشكلة بسيطة شفهيًا.</p> <p>- استطيع أن استخدم أو استعين بأشياء لعرض إجابة لمشكلة ما أو عرض نتيجة مسألة .</p>	<p>** (يقصد بالعبرة تمثيل المسائل الكلامية ببعض الأشياء أو النماذج للوصول على حل المسألة) ملاحظات : أ- عرض المسألة وإعطاء مساحة للطالب لتمثيلها عن طريق النماذج أو المصورات . ب- يُسأل الطالب عن المجموع او المتبقي . ج- يُسأل الطالب كيف عرفت ذلك . د- كل ما سبق من الأسئلة بطريقة شفوية . ** (درس الحقول + درس الواني + أغلق البوابة) الهدف يناسب الدرسين ١٣-٢ الجمع على شكل ضم و ١٣-٣ الطرح على شكل الأخذ من ... الهدف لم يذكر في الدليل ولكن ذكر في وثيقة التقويم .</p>	-	-
	<p>١- الصورة التي تمثل ١٠ - ٤ هي : ظلل يمين الإجابة الصحيحة : </p>	١	تطبيق (تمثيل)
	<p>٢- في الحقل يوجد ١٥ جزرة ، أكل منها الأرنب خمس جزرات . كم جزرة تبقت في الحقل ؟ - مثل ذلك داخل الحقل . - ثم المناقشة الشفهية للوصول على إجابة .</p> 	٢	تطبيق (تمثيل)

الأهداف	الأسئلة	الدرجة	تصنيف الأسئلة
<p>1pt4 يتخذ قرار بالطرح او الجمع من اجل حل مشكلة بسيطة شفهيًا.</p> <p>- استطيع أن استخدم أو استعين بأشياء لعرض إجابة لمشكلة ما أو عرض نتيجة مسألة .</p>	<p>٣- لديك وعائين ، ضع في كل وعاء ٥ أشياء : أ- مثل الأشياء داخل الوعائين :  ب- كم عدد الأشياء في الوعائين ؟ <input type="text"/> ج- كيف عرفت ذلك ؟</p>	٢	تطبيق (تمثيل)
<p>ملاحظة :</p> <p>الهدف 1Pt4</p> <p>مكتمل عند نهاية هذا الدرس ويمكن تقييمه ختامياً ورصد له درجة في عمود حل المشكلات في سجل التقويم .</p> <p>على المعلم الانتباه اثناء وضع الأسئلة الختامية ستكون مرتبطة بالهدف المنتهي شاملاً فتقيسه . وليس على عبارات استطيع ان ، حيث أن عبارات أستطيع أن تحقق جزء من الهدف فقط وصالحة للتقييم والتدريب المستمر حيث تساهم في استعداد الطالب من التمكن من حل أسئلة التقويم الختامي .</p>	<p>٤- يوجد في القميص الأول ٥ أزرار والقميص الثاني ٤ أزرار . أ- ارسم الأزرار على كل قميص :  القميص الثاني  القميص الأول ب- كم عدد الأزرار في القميصين ؟ ج- كيف عرفت ذلك ؟</p>	٢	تطبيق (تمثيل)

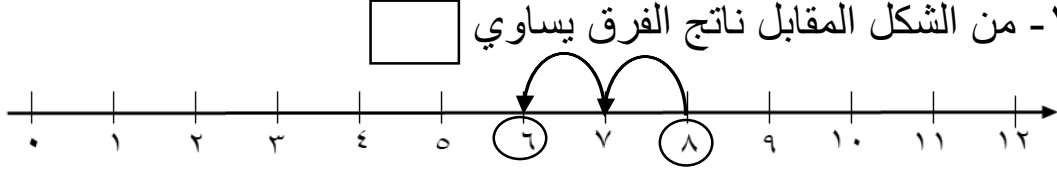
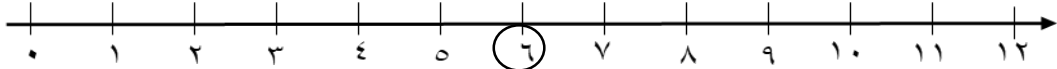
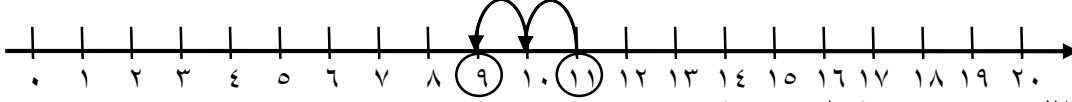
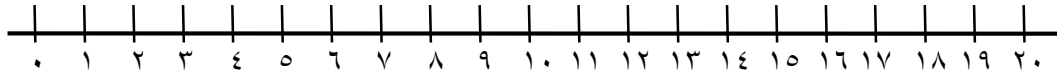
موضوع الدرس : ١٣ - الجمع والطرح : الإضافة والحذف / (١٣-٤ خط الأعداد (١) إيجاد الفرق).

الأهداف	الأسئلة	الدرجة	تصنيف الأسئلة
<p>1Nc10 يفهم الفرق على انه الإبعاد أو الحذف أو الأخذ بعيداً .</p> <p>- استطيع أن استخدم خط الأعداد ليساعدني على إيجاد الفرق بين عددين .</p>	-	-	معرفة
	<p>١- من خلال خط الأعداد التالي الفرق بين ٨ و ٥ .:</p>  <p>ظلل يمين الإجابة الصحيحة .:</p>	١	تطبيق (تمثيل)
	<p>٢- ارسم القفزات على خط الأعداد لمعرفة الفرق بين ١٥ و ١٠ .</p> 	١	تطبيق (تمثيل)
	<p>٣- يستخدم سالم خط الأعداد لإيجاد الفرق بين ٩ و ٥ كما يلي .:</p>  <p>- صحح الخطأ الذي وقع فيه سالم ؟.....</p>	١	استدلال (تقويم)

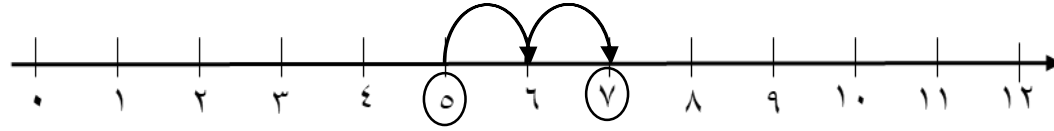
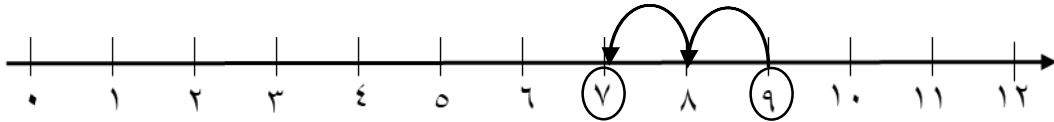

موضوع الدرس : ١٣- الجمع والطرح : الإضافة والحذف / (١٣-٥ خط الأعداد (٢) إضافة وطرح اثنين) .

الأهداف	الأسئلة	الدرجة	تصنيف الأسئلة
<p>1Nc12 يجد ٢ أكثر أو ٢ أقل من أي عدد حتى ٢٠ ، ويسجل القفزات على خط الأعداد .</p> <p>- استطيع ان استخدم خط الأعداد ليساعدني على جمع او طرح ٢ .</p>	<p>أولاً: التدرّب على الجمع عن طريق خط الأعداد وهذه الطريقة تحقق جزء من هدف 1Nc11 حيث يستطيع الطالب جمع عددين من رقم ١ عن طريق العدد التصاعدي عندما يرسم القفزات للأمام .</p> <p>** حيث لم يتم الإشارة إلى الجمع عن طريق العدد التصاعدي في هذا الدرس ولكن ذلك واضحاً من خلال استخدام خط الأعداد حسب اتجاه القفزات .</p> <p>- استعمل خط الأعداد لإيجاد ناتج الجمع : .</p> $\square = 2 + 12$  $\square = 2 + 3$  $\square = 2 + 8$ 	-	-
	<p>ثانياً: التدرّب على الطرح عن طريق خط الأعداد وهذه الطريقة تحقق جزء من هدف 1Nc11 حيث يستطيع الطالب طرح عددين عن طريق العد التنازلي . عندما يرسم القفزات للخلف .</p> <p>** حيث لم تتم الإشارة على الطرح عن طريق التنازلي في هذا الدرس ولكن ذلك واضحاً من خلال استخدام خط الأعداد حسب اتجاه القفزات .</p> <p>- استعمل خط الأعداد لإيجاد ناتج الطرح : .</p> $\square = 2 - 10$ 	-	-

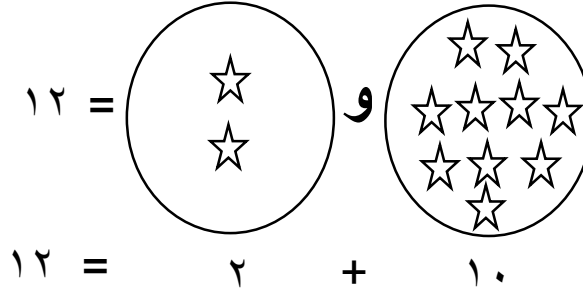
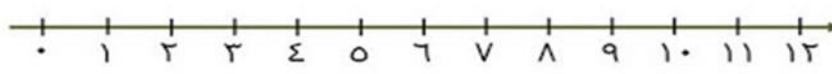
موضوع الدرس : ١٣ - الجمع والطرح : الإضافة والحذف / (١٣ - ٥ خط الأعداد (٢) إضافة وطرح اثنين) .


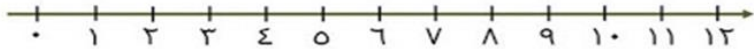
الأهداف	الأسئلة	الدرجة	تصنيف الأسئلة
<p>1Nc12 يجد ٢ أكثر أو ٢ أقل من أي عدد حتى ٢٠ ، ويسجل القفزات على خط الأعداد .</p> <p>- استطيع ان استخدم خط الأعداد ليساعدني على جمع او طرح ٢ .</p> <p>ملاحظة : السؤال الأول نفس السؤال الثاني ولكن الأول مستوى معرفة والثاني تطبيق</p>	<p>١- من الشكل المقابل ناتج الفرق يساوي <input type="text"/></p> 	١	معرفة (استخراج)
	<p>١- في خط الأعداد التالي عند إضافة اثنان للعدد ٦ فإن ناتج الجمع هو -</p>  <p>ظلل يمين الإجابة الصحيحة :.</p> <p>٤ ○ ٦ ○ ٨ ○ ١٠ ○</p>	١	تطبيق (تنفيذ)
	<p>٢- العملية الحسابية التي يمثلها خط الأعداد التالي :.</p>  <p>ظلل يمين الإجابة الصحيحة :.</p> <p>٢ - ١١ ○ ٢ + ٩ ○ ١٠ + ١١ ○ ٩ - ١١ ○</p>	١	تطبيق (تحديد)
	<p>٣- استخدم خط الأعداد لإيجاد :.</p> <p><input type="text"/> = ٢ - ١٥</p> 	١	تطبيق (تمثيل)

موضوع الدرس : ١٣ - الجمع والطرح : الإضافة والحذف / (١٣ - ٥ خط الأعداد (٢) إضافة وطرح اثنين) .

الأهداف	الأسئلة	الدرجة	تصنيف الأسئلة
1Nc12 يجد ٢ أكثر أو ٢ أقل من أي عدد حتى ٢٠ ، ويسجل القفزات على خط الأعداد . - استطيع ان استخدم خط الأعداد ليساعدني على جمع او طرح ٢ .	٤ - يستخدم أحمد خط الأعداد ليمثل العملية الحسابية التالية : $٧ - ٥ = ٢$  - هل توافق احمد على إجابته ؟ <input type="checkbox"/> نعم <input type="checkbox"/> لا - فسر إجابتك ؟	١	استدلال (تقويم)
ملاحظة :- 1Nc1-1Nc3- 1NC10 ★★ 1NC11 و 1NC12 أهداف مكتملة عند نهاية هذا الدرس.	٥ - يستخدم سعيد خط الأعداد لإيجاد ناتج $٩ + ٢$ ، فيرسم بهذه الطريقة  - هل سعيد على صواب ؟ <input type="checkbox"/> نعم <input type="checkbox"/> لا - اشرح إجابتك ؟	١	استدلال (تقويم)
★★★ على المعلم الانتباه اثناء وضع الأسئلة الختامية ستكون مرتبطة بالهدف المنتهي شاملا فتقيسه . وليس على عبارات استطيع ان ، حيث أن عبارات أستطيع أن تحقق جزء من الهدف فقط وصالحة للتقييم والتدريب المستمر حيث تساهم في استعداد الطالب من التمكن من حل أسئلة التقويم الختامي .	٦ -  عندما يقفز الأرنب إلى الخلف اثنان فإن العدد الذي يصل إليه هو <input type="checkbox"/> ٩ <input type="checkbox"/> ١٣ - اشرح اجابتك ؟	١	استدلال (تقويم)

موضوع الدرس : ١٣ - الجمع والطرح : الإضافة والحذف / (١٣-٥ خط الأعداد (٢) تذكير باستراتيجيات الجمع والطرح).

الأهداف	الأسئلة	الدرجة	تصنيف الأسئلة
<p>1pt1 يختار استراتيجية مناسبة للعمليات الحسابية مع شرح خطوات الحل</p> <p>- استطيع ان اختار استراتيجية مناسبة للتوصل إلى إجابات عمليات الجمع .</p>	<p>ملاحظة : قبل التطرق لعرض الأسئلة الخاصة بالهدف 1pt1</p> <p>* حيث أن الطلاب ما زالوا في مرحلة الصف الأول كمرحلة تأسيسه . نوضح لهم الاستراتيجيات التي تعلموها لجمع وطرح الأعداد مع شرح مثال يوضح ذلك مثل : .</p> <p>أ- طرق الجمع</p> <p>١- جمع الأجسام (العناصر)</p> <p>١٢ = </p> <p>١٢ = ٢ + ١٠</p> <p>٢- استخدام خط الأعداد : ١٢ = ٢ + ١٠</p> <p></p> <p>٣- استخدام الأعداد التي تضاف إلى عشرة : .</p> <p>$12 = 2 + 6 + 4 = 6 + 2 + 4$</p> <p>٤- العد التصاعدي : ١٢ = ٢ + ١٠ نعد تصاعديا بعد ١٠ .</p> <p>٥- تغيير ترتيب الأعداد : ١٢ = ٢ + ١٠</p> <p>١٢ = ١٠ + ٢</p>	-	-


الأهداف	الأسئلة	الدرجة	تصنيف الأسئلة
<p>1pt1 يختار استراتيجية مناسبة للعمليات الحسابية مع شرح خطوات الحل</p> <p>- استطيع ان اختار استراتيجية مناسبة للتوصل إلى إجابات عمليات الجمع .</p>	<p>ب- طرق الطرح</p> <p>١- طرح الأجسام (العناصر)</p>  $٨ = ٢ - ١٠$ <p>٢- استخدام حقائق الجمع ذات الصلة : $٢ + ٨ = ١٠$ فإن $١٠ - ٨ = ٢$</p> <p>٣- العد تنازلياً : $١٠ - ٢ = ٨$ نعد تنازلياً مرتين بدءاً من ١٠ يتبقى ٨ .</p> <p>٤- العد باستخدام خط الأعداد</p>  $٨ = ٢ - ١٠$ <p>- الآن بعد ان يتعرف عليها الطالب مُجملته في صفحة واحدة لكل عملية الجمع او الطرح .</p> <p>- يمكننا وضع أسئلة للطالب لإيجاد ناتج الجمع أو الطرح مع شرح شفوي أو كتابي للطريقة التي استخدمها</p>	-	-

الأهداف	الأسئلة	الدرجة	تصنيف الأسئلة
<p>1pt1 يختار استراتيجية مناسبة للعمليات الحسابية مع شرح خطوات الحل</p> <p>- استطيع ان اختار استراتيجية مناسبة للتوصل إلى إجابات عمليات الجمع .</p> <p>ملاحظة على الهدف :</p> <p>1Nn6 لا يتعلق بدرس الجمع والطرح وإنما يتم معالجته ف الدرس رقم ١٤ . والهدفين 1Pt1- 1Pt4 لم يرد ذكرهما في الدليل ولكن ورد ذكرهما في الوثيقة .</p>	<p>١- اختر طريقة لإيجاد ناتج العملية التالية $10 + 2$</p> <p>٢- اشرح كيف تتوصل إلى إيجاد ناتج العملية التالية $12 + 2$</p> <p>ملاحظة :</p> <p>الأهداف 1Nn1-1Nn2-1Nn8 مكتملة عند نهاية هذا الدرس ويمكن تقييمها ختامياً ورصد لها درجة في عمود الأسئلة القصيرة او الاختبارات في سجل التقويم .</p> <p>على المعلم الانتباه اثناء وضع الأسئلة الختامية ستكون مرتبطة بالهدف المنتهي شاملا فقيسه . وليس على عبارات استطيع ان ، حيث أن عبارات أستطيع أن تحقق جزء من الهدف فقط وصالحة للتقييم والتدريب المستمر حيث تساهم في استعداد الطالب من التمكن من حل أسئلة التقويم الختامي .</p>	١	تطبيق (تنفيذ)

موضوع الدرس : ١٤ - ترتيب الأعداد (٢) / (١٤ - ١ : ترتيب الأعداد) .

الأهداف	الأسئلة	الدرجة	تصنيف الأسئلة
1Nn6 يبدأ بتجزئة الأعداد إلى عشرات وآحاد والعكس . - استطيع أن أقسم الأعداد حتى ٩٩ إلى عشرات وآحاد .	ملاحظة : الدرس عبارة عن ترتيب الأعداد بالاستفادة من التجزئة وما زال الهدف غير منتهي (التقويم مستمر) . ١- صل العمود الأول بما يناسبه من العمود الثاني : <div style="display: flex; justify-content: space-around; align-items: center;"> <div style="border: 1px solid black; padding: 5px; text-align: center;">العمود الأول</div> <div style="border: 1px solid black; padding: 5px; text-align: center;">العمود الثاني</div> </div> <div style="display: flex; justify-content: space-around; align-items: center; margin-top: 10px;"> <div style="border: 1px solid black; padding: 5px; text-align: center;">العدد الأكبر</div> <div style="border: 1px solid black; padding: 5px; text-align: center;">العدد الأصغر</div> </div> <div style="display: flex; justify-content: space-around; align-items: center; margin-top: 10px;"> <div style="border: 1px solid black; padding: 5px; text-align: center;">٢٣</div> <div style="border: 1px solid black; padding: 5px; text-align: center;">١٦</div> <div style="border: 1px solid black; padding: 5px; text-align: center;">٣٥</div> </div>	١	معرفة (استدعاء)
	٢- ترتيب الأعداد ١٨ ، ٢٦ ، ٤ من الأصغر إلى الأكبر : ظل يمين الإجابة الصحيحة : <div style="display: flex; justify-content: space-around; align-items: center; margin-top: 20px;"> <div style="text-align: center;">١٨ ، ٢٦ ، ٤ ○</div> <div style="text-align: center;">٤ ، ١٨ ، ٢٦ ○</div> </div> <div style="display: flex; justify-content: space-around; align-items: center; margin-top: 10px;"> <div style="text-align: center;">٢٦ ، ١٨ ، ٤ ○</div> <div style="text-align: center;">٤ ، ٢٦ ، ١٨ ○</div> </div>	١	معرفة (ترتيب)
	٣- العدد الذي يأتي أولاً في خط الأعداد فسر إجابتك ؟ ٢٩ □ ١٩ □	١	استدلال (تقويم)
	٤- من البطاقات التالية <div style="display: flex; justify-content: space-around; align-items: center; margin-top: 10px;"> <div style="border: 1px solid black; padding: 5px; text-align: center;">٣٣</div> <div style="border: 1px solid black; padding: 5px; text-align: center;">٣٠</div> <div style="border: 1px solid black; padding: 5px; text-align: center;">٣٥</div> <div style="border: 1px solid black; padding: 5px; text-align: center;">٣٧</div> </div> <div style="display: flex; justify-content: space-around; align-items: center; margin-top: 20px;"> <div style="text-align: center;">٣٧ □</div> <div style="text-align: center;">٣٥ □</div> </div> العدد الأكبر هو اشرح إجابتك ؟	١	استدلال (تقويم)

الأهداف	الأسئلة	الدرجة	تصنيف الأسئلة
<p>1Pt3 يجد العديد من التركيبات ، مثال : مجموعات من ٣ قطع من الأقمشة الملونة المختلفة .</p> <p>- استطيع أن أعمل وفق خطة للعثور على جميع الإجابات المحتملة .</p>	<p>• * <u>ملاحظة</u> : لتوضيح الهدف 1pt3 وعبرة استطيع أن (لربط الموضوع بالرياضيات) <u>مثل</u> : * <u>مجموعة بطاقات من منزلة واحدة</u> (مثل ٣ بطاقات أعداد مختلفة ويصنع منها أكبر عدد مكون من رقمين أو منزلتين) * <u>النقود</u> : عندما يكون ١٦ ريالاً من مجموعة أوراق نقدية مختلفة . في كل الحالات السابقة يكون لدية خطة في إيجاد كل التركيبات للحصول على إجابات مختلفة .</p>	-	-
	<p>١- لديك ٣ بطاقات عددية</p> <div style="text-align: center;"> <div style="display: inline-block; border: 1px solid black; padding: 5px; margin: 5px;">٢</div> <div style="display: inline-block; border: 1px solid black; padding: 5px; margin: 5px;">٣</div> <div style="display: inline-block; border: 1px solid black; padding: 5px; margin: 5px;">١</div> </div> <p>- كون من البطاقات السابقة اكبر عدد من الأعداد المكونة من منزلتين</p> <div style="text-align: center;"> <div style="border: 1px solid black; width: 40px; height: 30px; display: inline-block; margin: 5px;"></div> <div style="border: 1px solid black; width: 40px; height: 30px; display: inline-block; margin: 5px;"></div> <div style="border: 1px solid black; width: 40px; height: 30px; display: inline-block; margin: 5px;"></div> <div style="border: 1px solid black; width: 40px; height: 30px; display: inline-block; margin: 5px;"></div> </div> <p>..</p> <div style="text-align: center;"> <div style="border: 1px solid black; width: 40px; height: 30px; display: inline-block; margin: 5px;"></div> <div style="border: 1px solid black; width: 40px; height: 30px; display: inline-block; margin: 5px;"></div> <div style="border: 1px solid black; width: 40px; height: 30px; display: inline-block; margin: 5px;"></div> <div style="border: 1px solid black; width: 40px; height: 30px; display: inline-block; margin: 5px;"></div> </div> <p>- ما هي الخطة التي عملت بها للعثور على جميع الإجابات المحتملة .</p> <p>يشرح الطالب شفويًا</p>	١	استدلال (تركيب)

الأهداف	الأسئلة	الدرجة	تصنيف الأسئلة
<p>1Pt3 يجد العديد من التركيبات ، مثال : مجموعات من ٣ قطع من الأقمشة الملونة المختلفة .</p> <p>- استطيع أن أعمل وفق خطة للعثور على جميع الإجابات المحتملة .</p> <p>ملاحظة ::</p> <p>الهدف 1Pt3</p> <p>مكتمل عند نهاية هذا الدرس ويمكن تقييمه ختامياً ورصد له درجة في عمود حل المشكلات في سجل التقييم .</p> <p>على المعلم الانتباه اثناء وضع الأسئلة الختامية ستكون مرتبطة بالهدف المنتهي شاملاً فتقيسه .</p> <p>وليس على عبارات استطيع ان ، حيث أن عبارات أستطيع أن تحقق جزء من الهدف فقط وصالحة للتقييم والتدريب المستمر حيث تساهم في استعداد الطالب من التمكن من حل أسئلة التقييم الختامي .</p>	<p>٢- يريد احمد شراء العبة</p> <p>١٦ ريال</p> <p>أ- حوط الأوراق النقدية اللازمة لشراء اللعبة ::</p>   <p>أو السؤال :- اكتب الطرق المحتملة لتحصل على ١٦ ريال نت الأوراق النقدية التالية ::</p> <p>الطريقة الأولى ::</p> <p>الطريقة الثانية ::</p>	-	-
	<p>ب- مع سالم ٣ أوراق نقدية مجموعهما ١٥ فما هذه الأوراق ؟</p>	١	استدلال (تحليل)
	<p>ج- مع أحمد ٣ أوراق نقدية مجموعهما ١١ فما هذه الأوراق ؟</p> <p>في كل مرة يسأل المعلم الطالب ما هي الخطة التي فكرت بها لتحصل على الإجابة ؟ الطالب يشرح شفويًا ** يحتاج الطالب إلى تدريب أكثر .</p>	١	استدلال (تحليل)