

تم تحميل هذا الملف من موقع المناهج العُمانية



* للحصول على أوراق عمل لجميع الصفوف وجميع المواد اضغط هنا

<https://almanahj.com/om>

* للحصول على أوراق عمل لجميع مواد الصف الأول اضغط هنا

<https://almanahj.com/om/1>

* للحصول على جميع أوراق الصف الأول في مادة رياضيات ولجميع الفصول, اضغط هنا

<https://almanahj.com/om/1math>

* للحصول على أوراق عمل لجميع مواد الصف الأول في مادة رياضيات الخاصة بـ الفصل الثاني اضغط هنا

<https://almanahj.com/om/1math2>

* لتحميل كتب جميع المواد في جميع الفصول للـ الصف الأول اضغط هنا

<https://almanahj.com/om/grade1>

* لتحميل جميع ملفات المدرس مجموعة المجال الثاني التربوية الالكترونية اضغط هنا

للتحدث إلى بوت على تلغرام: اضغط هنا

https://t.me/omcourse_bot

الصف الأول



الرياضيات

التعلم القبلي:

كم عدد الأطفال في هذه الشريحة؟

أوجد نصف العدد.

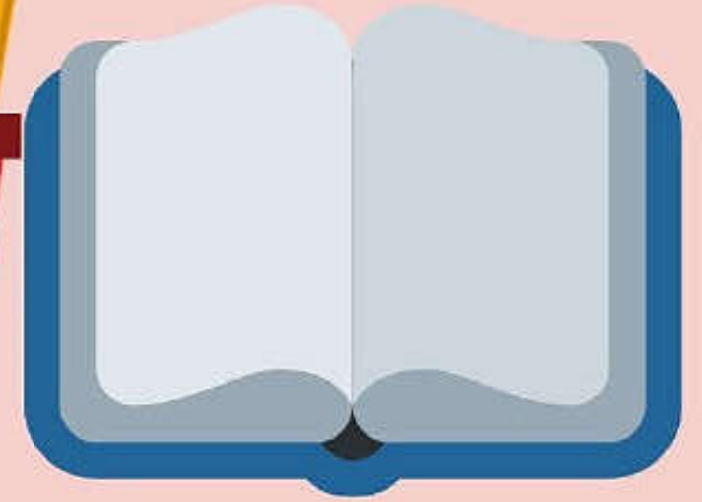

كم عدد البنات؟

أوجد ضعف عدد البنات.



التمهيد

لنكتشف ما هو الشكل المخبأ



3-22 أنصاف الأشكال



مثلث



بائرة



مربع



مستطيل



بيضاوي



معيّن



خماسي



نجمة



سداسي

الأهداف التعليمية



(1Nn12) يجد أنصاف الأعداد الصغيرة والأشكال عبر طيها, ويميز الأشكال التي تم تنصيفها

(1Nc20) يجد أنصاف الأعداد الزوجية لعناصر (أشياء) حتى 10



أنا أستطيع

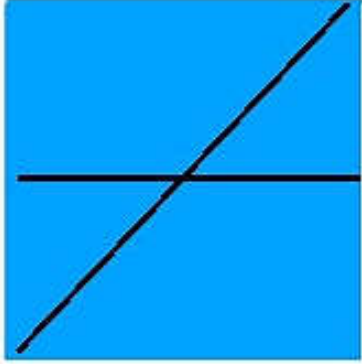
أستطيع أن أجد نصف الشكل عبر طيه

أستطيع أن أتعرف الشكل عند تضليل نصفه

مفردات التعلم


النصف: جزء من شيء قسم إلى قطعتين
متساويتين






فكر جيداً يا بطل:
ما اسم الشكل الهندسي الذي
أمامك؟

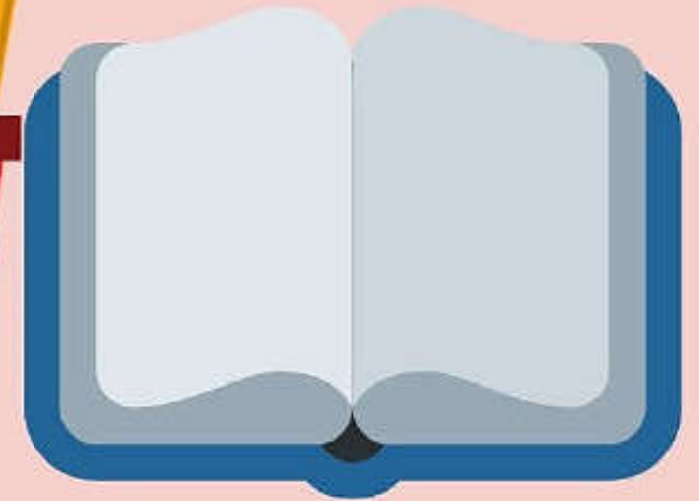
لو قمنا برسم خط في منتصف هذا
الشكل ما الأشكال الجديدة التي
يمكن أن تحصل عليها؟




ما هو
النصف؟




almanahj.com/om






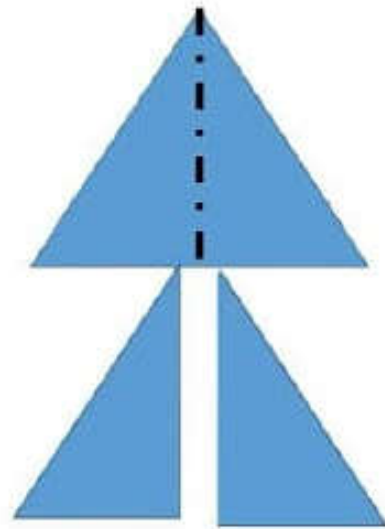
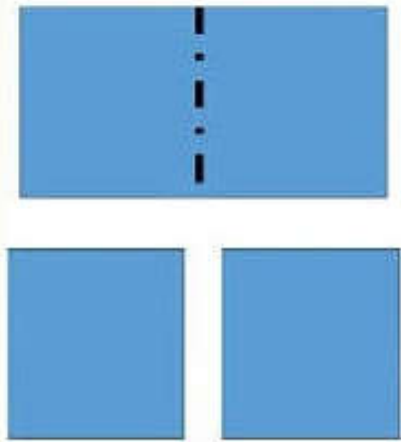
ما هو
النصف؟




almanahj.com/om



ما هو
النصف؟






ما هو
النصف؟

اقترح طرقاً
أخرى لتقسيم
الأشكال إلى
نصفين


almanahi.com/om



اغلاق الدرس

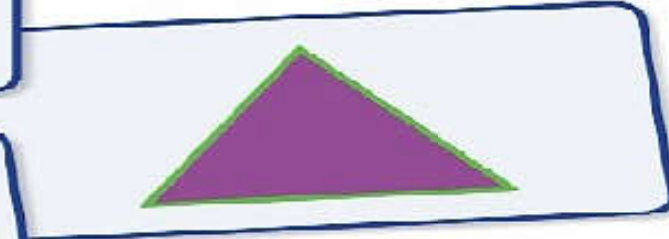



افتح كتاب التلميذ صفحة

40



أنصاف الأشكال


استخدمت مختلفاً : أبداً كل
مرة.



الوحدة ٣ : الأشكال الأساسية، ١١-٣ أنصاف الأشكال

هيا نلعب معا

<https://wordwall.net/play/12650/135/566>



الواجب المنزلي

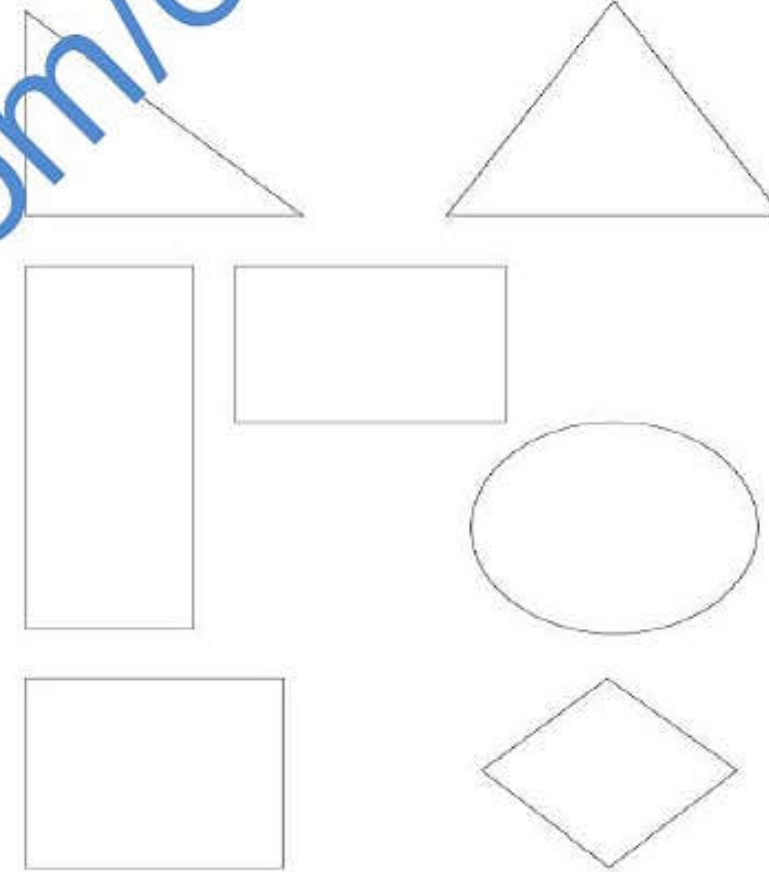
كتاب النشاط صفحة 35 + 36



الأشكال

ستحتاج إلى: مقص.

قُصَّ كُلُّ الأشكالِ إلى نصفين. تحدَّث إلى زميلِكَ عن الأشكال الجديدة التي حصلتُما عليها بعدَ القصِّ. هل حصلتُما على الأشكال نفسها؟



35

التعلم
الذاتي

لو اشتريت بيضة كندر رقت بفتحها حتى تحصل على
الشوكولاته والهدية ماذا يحدث للبيضة في رأيك

