

شكراً لتحميلك هذا الملف من موقع المناهج العمانية



سؤال قصير أول

موقع المناهج ⇨ المناهج العمانية ⇨ الصف الأول ⇨ رياضيات ⇨ الفصل الأول ⇨ الملف

تاريخ نشر الملف على موقع المناهج: 2023-11-23 17:59:43

التواصل الاجتماعي بحسب الصف الأول



روابط مواد الصف الأول على تلغرام

[الرياضيات](#)

[اللغة الانجليزية](#)

[اللغة العربية](#)

[التربية الاسلامية](#)

المزيد من الملفات بحسب الصف الأول والمادة رياضيات في الفصل الأول


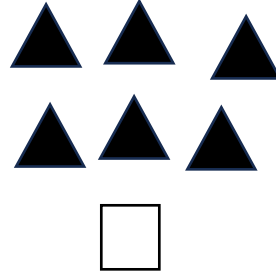


اختبار تشخيصي	1
اختبار تحديد المستوى الأكاديمي	2
تدريبات على الأعداد من 1 إلى 10	3
مذكرة متكاملة من سلسلة تعلم وامرح	4
ملزمة شاملة خاصة بالنظام الجديد	5

أدوات التقويم	الدرجة الكلية	درجة الطالب
سؤال قصير	٥	



اسم الطالب: الصف: التاريخ:

(درجة واحدة)



(درجة واحدة)

$6+1$

$8+7$

$10+0$

$5+4$

$5+5$



$4+2$

السؤال الثاني: ضع دائرة حول أزواج العدد عشرة

السؤال الثالث: أكمل ما يأتي

الإطار العشري التالي أخذت منه ٣ دوائر فإن المتبقى هو :

(درجة واحدة)



السؤال الرابع: صل كل عدد بضعفه

(درجتان)

١٠

١

٦

٤

٢

٥

٨