

## ملخص وحدة السحب والدفع



### تم تحميل هذا الملف من موقع المناهج العمانية

موقع فايلاتي ← المناهج العمانية ← الصف الأول ← علوم ← الفصل الثاني ← ملفات متنوعة ← الملف

تاريخ إضافة الملف على موقع المناهج: 00:06:53 2025-05-21

ملفات اكتب للمعلم اكتب للطالب ا اختبارات الكترونية ا اختبارات ا حلول ا عروض بوربوينت ا أوراق عمل  
منهج انجليزي ا ملخصات وتقارير ا مذكرات وبنوك ا الامتحان النهائي ا للمدرس

المزيد من مادة  
علوم:

### التواصل الاجتماعي بحسب الصف الأول



صفحة المناهج  
العمانية على  
فيسبوك

الرياضيات

اللغة الانجليزية

اللغة العربية

التربية الاسلامية

المواد على تلغرام

### المزيد من الملفات بحسب الصف الأول والمادة علوم في الفصل الثاني

سؤال قصير حول درس الدفع والسحب معرفة وفهم

1

مراجعة شاملة لدروس المنهج

2

كراسة الأنشطة الشاملة

3

أسئلة قصيرة وواجبات منزلية مع نماذج الإجابة

4

النشاط العملي الأول

5



# ملخص وحدة السحب والدفع



• كيف يتحرك الأولاد في الصور التالية؟



تأرجح



قفز



دوران



ركض

عندما نسحب الأشياء  
فإننا نقربها منا




عندما ندفع الأشياء  
فإننا نبعدنا عنها



تتحرك الأشياء من حولنا بقوتين هما:

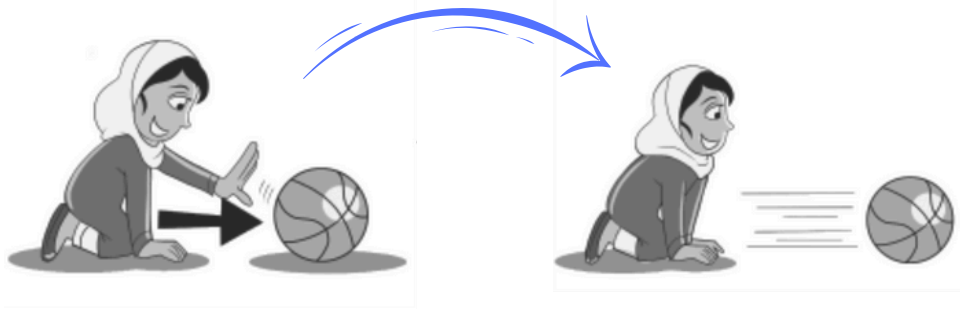
السحب



الدفع



• يمكننا تسريع الكرة بدفعها بقوة اكبر



• تغيير الحركة في الدراجة:



١- صل من العمود (أ) ما يناسبه من العمود (ب):

(ب)



(أ)

يدور

يقفز

يتأرجح

يركض

يتزحلق

٢- اختر الكلمة المناسبة من بين القوسين للصورة التي أمامك:

( دوران - ركض - قفز - تأرجح )



( دوران - ركض - قفز - تأرجح )



### ٣- سمي الألعاب التالية ما إذا كانت لعبة دفع أم سحب:



.....



.....



.....



.....



.....



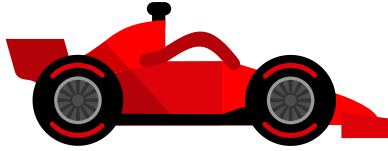

.....

### ٤- لون اتجاه الحركة الصحيح لسحب الكرسي:



٥- اختر من الكلمات الآتية الكلمة المناسبة لكل صورة:

( سريع - بطيء )



.....

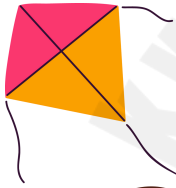
.....

.....

.....

٦- ماذا يحدث للطائرة الورقية في وجود الرياح؟

تطير ( أسرع - أبطأ )



٧- أيدفع الولد العربة أم يسحبها؟

( يدفع - يسحب )

