

تم تحميل هذا الملف من موقع المناهج العُمانية



* للحصول على أوراق عمل لجميع الصفوف وجميع المواد اضغط هنا

<https://almanahj.com/om>

* للحصول على أوراق عمل لجميع مواد الصف الأول اضغط هنا

<https://almanahj.com/om/1>

* للحصول على جميع أوراق الصف الأول في مادة رياضيات ولجميع الفصول, اضغط هنا

<https://almanahj.com/om/1math>

* للحصول على أوراق عمل لجميع مواد الصف الأول في مادة رياضيات الخاصة بـ الفصل الثاني اضغط هنا

<https://almanahj.com/om/1math2>

* لتحميل كتب جميع المواد في جميع الفصول للـ الصف الأول اضغط هنا

<https://almanahj.com/om/grade1>

* لتحميل جميع ملفات المدرس مجموعة المجال الثاني التربوية الالكترونية اضغط هنا

للتحدث إلى بوت على تلغرام: اضغط هنا

https://t.me/omcourse_bot

النقود


الصف الأول

رياضيات

almanah.com



قَبْلَ أَنْ نَبْدَأَ نَتَذَكَّرُ مَعاً قُورَاعِدَ الْحَصَّةِ الْإِفْتَرَا ضِيَّةِ





خَمْسُونَ بَيْسَةً



خَمْسٌ وَعِشْرُونَ بَيْسَةً



عَشْرُ بَيْسَاتٍ



خَمْسُ بَيْسَاتٍ

almanahj.com/lom





عبارات انا استطيع

يستطيع أن أتعرف على العملات الورقية المختلفة
وأعرف أن لكل منها قيمة مختلفة.



المفردات

النقود ، الثمن ، التكلفة ، دفع
، يشتري



التعلم القلبي

ما النقود؟

لماذا نحتاج إلى النقود؟

almanahij.com/lom

almanahj.com/om

الشعر



حجر نرد بالنقود



سير الدرس

فئة النص ريال
كم تساوي من فئة المئة بيسة ؟



فئة الريال ريال
كم تساوي من فئة
النص بيسة ؟



رحلة البحث عن الأسئلة مع المحقق كونا



ما قيمة
النقود التي
ظهرت على
الوجه
العلوي
لحجر النرد

20 ريال

10 ريال

5 ريال

50 ريال



ما قيمة النقود
التي ظهرت
للوجه الأمامي
لحجر النرد

5 ريال

نص ريال

ريال

50 ريال





كم يكون
مجموع عدد
النقود التي
على أوجه
حجر النرد

١٤ ريال

١٦ ريال

١١ ريال

١٧ ريال







١٠٠ بيعة




١٠٠ بيعة



٥٠٠ بيعة

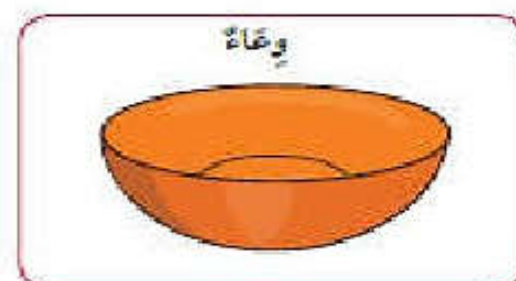


هيا يا ابطال
من يساعد
خديجة في
معرفة السعر



النُّقُودُ، النُّقُودُ!

الأدوات التي نحتاجها:



افتح كتاب التلميذ



النقود

أ- ضعي علامة (/) امام العبارة الصحيحة وعلامة (x) امام العبارة الخطأ

- ١- عند الشراء من المقصف اقف و ازاحم احدا ()
- ٢- العملية النقدية لسلطنة عمان هي ريال ()
- ٣- بعد الشراء على أن أتأكد من النقود المتبقية ()

ب- صل قنوات النقود بما يعادلها:-



هيا
يا ابطال
نحل هذا
النشاط






لدى أحمد 3 ريالات ولدى
أدهم 5 ريالات ولدى خالد
5 ريالات أيضا فكم ريالا
معهم الثلاثة النقود التي
لدى أحمد



LOVE ME
PLEASE!!



مع أحمد هذه النقود ساعد أحمد في
معرفة كم يكون معه



Cute



أشترى ادم وبسمة دفترين مدرسة ثمن الدفتر
الواحد 1 ريال وقلمين ثمن القلم الواحد نصف ريال و
فكم ريالاً دفع ادم وبسمة معا؟



ابحث في وسائل الانترنت
اسأل من هو اكبر منك
سناً عن 5 عملات مختلفة
لخمسة دول واكتب العملة
مع اسم البلد

free printable invitation - drawio.com



شبكة النقود

المفردات: النقود، أكثر، أقل، كم، المجموع، عدد، الكمية.

اجمع النقود في كل صف.
اجمع النقود في كل عمود.

ستحتاج إلى: عملات من كل الفئات.

مثال

٧	١ ريال	١ ريال	١ ريال
٣٥	١٠ ريال	٢٠ ريال	١ ريال
١٩	١ ريال	١ ريال	١ ريال
	١١	٢٢	٣٠

١ ريال	١ ريال	٢٠ ريال
١٠ ريالات	١٠ ريالات	١ ريال
٥ ريالات	١ ريال	٥ ريالات

اكتب شبكتك الخاصة

١ ريال	٢٠ ريال	٥ ريالات
١٠ ريالات	٥ ريالات	١ ريال
٥ ريالات	١ ريال	٢٠ ريال

٥ ريالات	١ ريال	٥ ريالات
١٠ ريالات	١ ريال	١ ريال
٢٠ ريال	١ ريال	١ ريال

والآن
مع
كتاب
النشاط



نشاط اثرائي

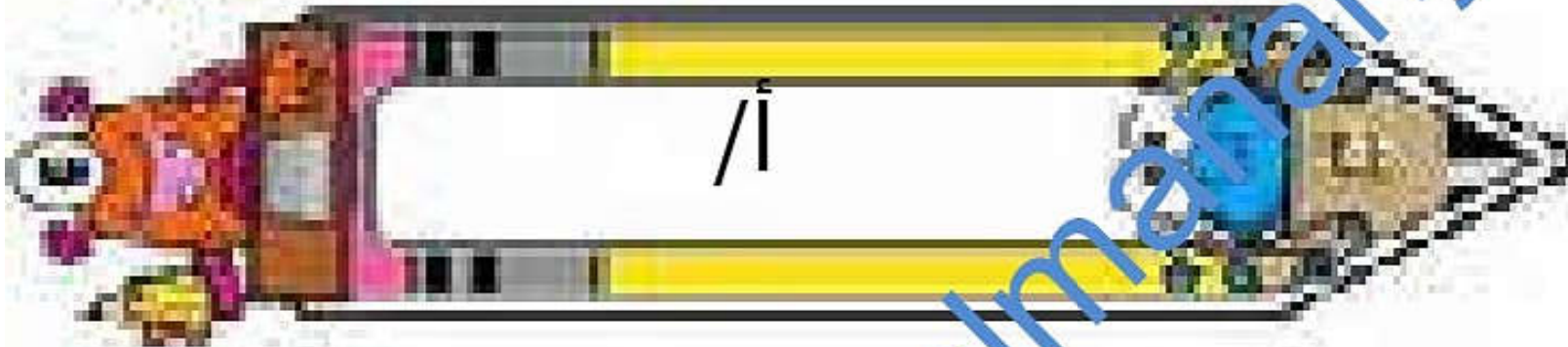
اذا كان لديك 20 ريال وقمت بشراء
كره ثمنها 3 ريال واشتريت حقيبة ثمنها
5 ريالات وقمت بشراء دراجة ثمنها 5
ريال كم انفقت ؟
وكم تبقي لدي؟

تفريد التعليم

نشاط مثابرة

كم يكون عدد النقود
التي امامك وتمثل
كم من الفئات عند
جمعها





انتهى الدرس

