

## شكراً لتحميلك هذا الملف من موقع المناهج العمانية



## سؤال قصير أول نموذج ثاني

[موقع المناهج](#) ⇨ [المناهج العمانية](#) ⇨ [الصف الأول](#) ⇨ [علوم](#) ⇨ [الفصل الأول](#) ⇨ [الملف](#)

تاريخ نشر الملف على موقع المناهج: 05:47:36 2023-12-06

## التواصل الاجتماعي بحسب الصف الأول



## روابط مواد الصف الأول على تلغرام

[الرياضيات](#)

[اللغة الانجليزية](#)

[اللغة العربية](#)

[التربية الاسلامية](#)

## المزيد من الملفات بحسب الصف الأول والمادة علوم في الفصل الأول


<a href="#">سؤال قصير أول</a>	1
<a href="#">أنشطة تدريبية وملخص الوحدة الأولى</a>	2
<a href="#">سؤال قصير أول نموذج ثاني</a>	3
<a href="#">سؤال قصير أول</a>	4
<a href="#">كراسة أنشطة شاملة للمادة</a>	5

## السؤال القصير الأول في مادة العلوم للصف الأول

الاسم : ..... الصف : .....

السؤال الأول : ظلل الدائرة يمين الإجابة الصحيحة :

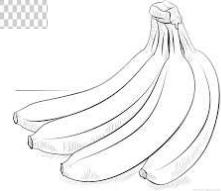



١- الشيء الحي من بين الصور التالية هو:



(1) \_\_\_\_\_

السؤال الثاني :

نهض سالم من النوم وهو يعاني من ألم في بطنه بسبب العشاء الذي تناوله ، ضع دائرة حول الطعام الذي تناوله سالم وقت العشاء:



(١)

السؤال الثالث:





يقول أحمد يسمى صغير الأسد شبل و تقول مريم صغير الأسد يسمى ديسم ،

اكتب ايهما على صواب؟.....

(١)

السؤال الرابع:

صل بين البيئة و الحيوان الذي يعيش فيها :

الحيوان





البيئة
