

شكراً لتحميلك هذا الملف من موقع المناهج العمانية



ملف الإنجاز للطالب

موقع المناهج ← المناهج العمانية ← الصف الأول ← رياضيات ← الفصل الثاني ← الملف

التواصل الاجتماعي بحسب الصف الأول



روابط مواد الصف الأول على تلغرام

[الرياضيات](#)

[اللغة الانجليزية](#)

[اللغة العربية](#)

[التربية الاسلامية](#)

المزيد من الملفات بحسب الصف الأول والمادة رياضيات في الفصل الثاني

مذكرة غير محلولة	1
تدريبات على الجمع والطرح بواسطة خط الأعداد	2
تدريبات على الجمع والطرح	3
ملف الإنجاز للطالب	4
مذكرة مفكر غير محلولة	5

ملف

الانجاز

إعداد وتجميع :

أ. منى الريامي . أ. زعيمة الحلطية .

أ. مريم المجينية . أ. خولة العرفانية .

٢٠٢٢ م / ٢٠٢٣ م

المادة:

اسم الطالب:

الصف:

معلم المادة:

مقدمة

الفاضل ولي الأمر :

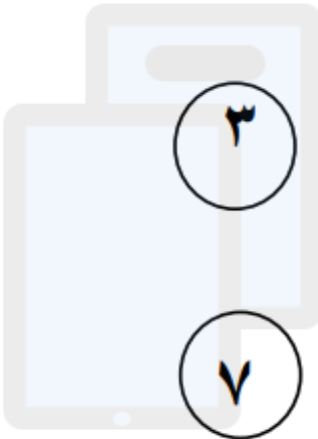
تحية طيبة وبعد : نقدم لكم في هذا الكتيب مجموعة من الأنشطة المتنوعة في مادة الرياضيات للصف الأول في الفصل الدراسي الأول. ونرجو منكم تشجيع الطالب على حل الأنشطة ومساعدته إن أخطأ وعدم الحل من قبلكم وتعويده على الحل بمفرده وبخط يده وسوف يتم متابعة الكتيب من قبل المعلمة في الفصل الثاني .

اقرأ الأعداد التالية ثم تضع الأم علامة (√) أسفل العدد الذي تقرأه قراءة صحيحة.

٢٨	٢٦	٢٠	١٦	٢٣	١٢	٦
----	----	----	----	----	----	---

أنت الآن ممتاز في قراءة وكتابة الأعداد، قم بعد الأشياء وصلها

بالرقم الصحيح







٣

٧


٤

٥

٨

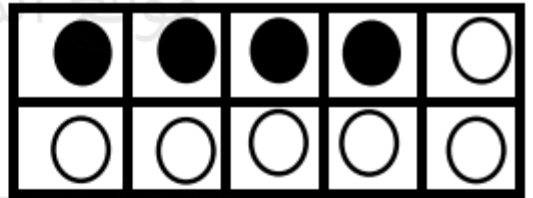


اكتب الأعداد من ١ إلى ٢٠

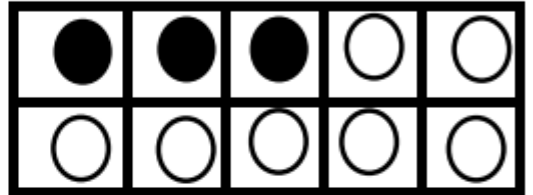


اكتب مكونات العدد ١٠

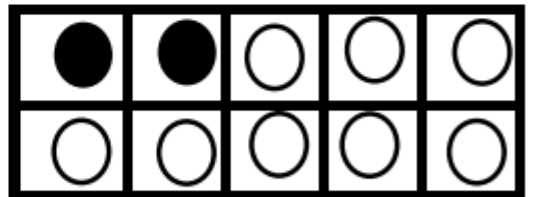
١٠ = +



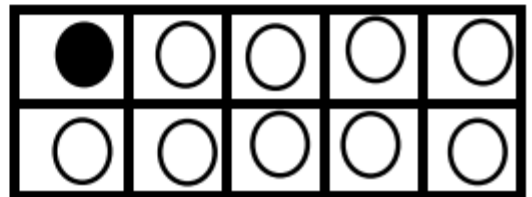
..... = +



..... = +



..... = +



اقرأ الأعداد التالية ثم تضع الأم علامة ($\sqrt{\quad}$) أسفل العدد الذي تقرأه قراءة صحيحة.

٨٧	٧٣	٦٢	٥٦	٣٩	٢٨	١٧
----	----	----	----	----	----	----

١- ناتج جمع $٨ + ٢ =$ تم تحميل هذا الملف من

ظل يمين الإجابة الصحيحة

١٠٠

٩٠

٨٠

٧٠

٢- لديك ٣ دوائر ، ومع زميلك ٧ دوائر

كم عدد الدوائر معكما ؟

٣- قام محمد بحل الجملة العددية التالية ::

$$٩ = ٧ + ٣$$

هل حل محمد صحيح ؟ نعم لا


التصويب

اكتب الأعداد من ١ إلى ٤٠

تم تحميل هذا الملف من


موقع المناهج العمانية

أوجد الناتج :



$$\dots = 3 - 10$$

*أشطب على الأشكال حسب الجملة العددية لتعرف المتبقي



$$\dots = 4 - 10$$

اكمل سلاسل الأعداد التالية :

			١٠	٩
--	--	--	----	---

			١٠	١١
--	--	--	----	----

١- ناتج $10 - 2 =$

تم تحميل هذا الملف من

موقع المناهج العُمانية : ظلل يمين الإجابة الصحيحة :

٩٠

٨٠

٧٠

٦٠

alManahj.com/om

٢- صنعت أمي ١٠ قطع من الكعك أكلنا منها ٧ .. ارسم ما تبقى من الكعك ؟

٣- أخذ علي ٦ أقراص من الإطار العشري التالي .:

●	●	●	●	●
●	●	●	●	●

قال علي أن العدد المتبقي ٥ .

هل ما قاله علي صحيح ؟ نعم لا

التصويب

اكمل السلاسل التالية:

			١٩	١٨
			٢٢	٢٣

١- ضعف العدد ٤ هو ..

ظلل يمين الإجابة الصحيحة ..

٤٠ ٦٠ ٨٠ ١٠٠

٢- أي أبراج المكعبات التالية مكونة من ضعف ٢ ..



٣- يكتب أحمد أضعاف الأعداد كما في الجدول التالي ..

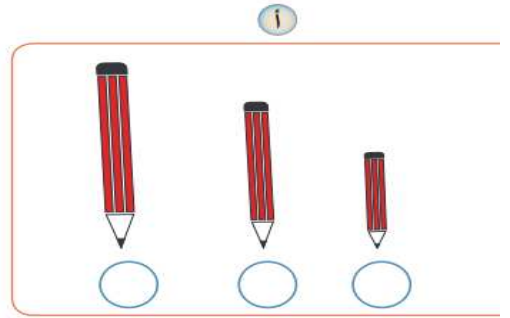
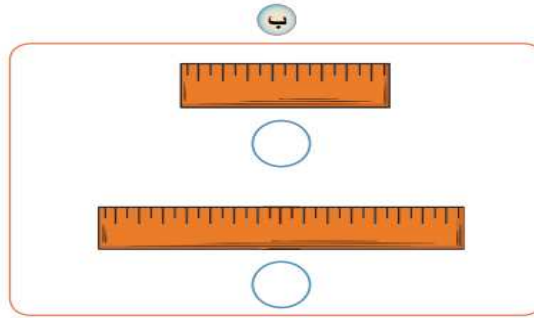
العدد	ضعفة
٢	٤
٣	٦
٤	٥

صوب الخطأ الذي وقع فيه أحمد

اكتب الأعداد من ١ إلى ٥٠

تم تحميل هذا الملف من
موقع المناهج العُمانية
alManahj.com/om

أضع علامة (✓) أسفل الأطول:



ألون الأقصر باللون الأصفر وألون الأطول باللون الأحمر:



اكمل سلاسل الأعداد :

			٢٥	٢٤
--	--	--	----	----

			٣٥	٣٦
--	--	--	----	----

تم تحميل هذا الملف من موقع المناهج العمانية

أَكْتُبِ الأَعْدَادَ بِالتَّسْلُسلِ تَصاعُدياً مِنْ ٤ إلى ١٦

○	○	○	○	○	○	○	○	○	○	○	○	○
---	---	---	---	---	---	---	---	---	---	---	---	---

أَكْتُبِ الأَعْدَادَ بِالتَّسْلُسلِ تَصاعُدياً مِنْ ١ إلى ١١

○	○	○	○	○	○	○	○	○	○	○	○
---	---	---	---	---	---	---	---	---	---	---	---

أَكْتُبِ الأَعْدَادَ بِالتَّسْلُسلِ تَصاعُدياً مِنْ ١٢ إلى ٢٠


○	○	○	○	○	○	○	○	○	○	○
---	---	---	---	---	---	---	---	---	---	---

اقرأ الأعداد التالية :

٩٤	٩٠	٤١	٣٨	٢٩	١٤	٧
----	----	----	----	----	----	---

ألون الأشكال:

بالأخضر ▲ بالأصفر ■ بالأزرق ● بالبنّي ■




تم تحميل هذا الملف من
موقع المناهج العُمانية
alManahj.com/om

أ



ب



اكتب الأعداد من ٢٠ إلى ٥٠

تم تحميل هذا الملف من
موقع المناهج العُمانية

١) أضع دائرة حول الشكل الذي يمثل كرة:



٢) أضع دائرة حول الشكل الذي يمثل أسطوانة:



٣) أضع دائرة حول الشكل الذي يمثل مكعبًا:



أوجد الناتج :

○ = ٣ + ١٦ (ج)

○ = ٩ + ٤ (ب)

○ = ٥ + ٧ (أ)

○ = ٨ + ١٢ (و)

○ = ١٠ + ١٠ (هـ)

○ = ٧ + ٨ (د)

تم تحميل هذا الملف من
موقع المناهج العُمانية



١- قدر عدد النجوم

العدد الفعلي

٢- يقدر احمد عدد البيض داخل السلة بأنها ١٠ بيضات تحقق من عدها فوجدها ٨ بيضات .



ارسم العدد الفعلي .:

اكمل جدول الأعداد

	٣٠			٢٧				٢٣	٢٢
		٣٩			٣٦			٣٣	

صل بخط بين العدد والتمثيل الذي يناسبه :

تم تحميل هذا الملف من موقع المناهج العُمانية Manahj.com/om

	١٥
	٦
	٢٠
	١٩
	١١
	٩
	١٣

ما القِيَمَةُ المَكَانِيَّةُ للرقْمِ ٤ في العَدَدِ ٤٥؟

اكتب القِيَمَةَ المَكَانِيَّةَ لِكُلِّ رَقْمٍ في الأَعْدَادِ الآتِيَةِ:

- أ ٣٥ ← ٥ و ٣٠
- ب ٢٦ ← و
- ج ٤٧ ← و
- د ٣٨ ← و

(٧) أكمل الجدول الآتي بما يناسبه:

العَدَدُ	٥٧	٨٥	٥٩	٥٠
القِيَمَةُ المَكَانِيَّةُ للرقْمِ ٥	٥٠	٥	٥

أوجد ناتج ما يلي :

$$= 6 - 10$$

$$= 2 + 8$$

$$= 3 - 15$$

$$= 6 + 9$$

$$= 6 - 24$$

$$= 3 + 17$$

اكمل سلاسل الأعداد :

			٧٤	٧٣
--	--	--	----	----

			٥١	٥٢
--	--	--	----	----

(١) أرتب الأعداد الآتية ترتيبًا تصاعديًا (من الأصغر إلى الأكبر):

١١ ، ٣ ، ٤ ، ٨ ، ٩






١٥ ، ٦ ، ٢٠ ، ٩ ، ١٤

(٢) أرتب الأعداد الآتية ترتيبًا تنازليًا (من الأكبر إلى الأصغر):

٢٠ ، ١٨ ، ٧ ، ٣ ، ١٧

٣ ، ٧ ، ٢٠ ، ١١ ، ٥

(٣) أكمل الرسم حسب النمط في كل مما يأتي :

.....					
-------	---	---	---	---	---

(٤) أكمل الرسم حسب النمط في كل مما يأتي :

.....						
-------	---	---	--	---	---	---

اكتب الأعداد من ١ إلى ٧٠

تم تحميل هذا الملف من

موقع المناهج العُمانية

ظلل الدائرة التي تشير للإجابة الصحيحة :

alManahj.com/om

• العدد الأكبر مما يلي :

٢٩ ○

٩١ ○

٥٩ ○

٧٥ ○

• ٦ عشرات و ٩ أحاد =

٦٩ ○

٩٠ ○

٦٦ ○

٩٦ ○

أعد قفزيًا اثنتين ٢ تصاعديًا وأكمل الأعداد الناقصة:

٣ ، ، ٧ ، ، ١١

أ

..... ، ، ، ١٢ ،

ب

أعد قفزيًا اثنتين ٢ تنازليًا وأكمل الأعداد الناقصة.

..... ، ، ، ٣ ،

أ

..... ، ، ١٤ ، ١٦ ، ، ١٠

ب

alManahj.com/om

تقول فاطمة أن $17 = 9 + 7$


لا

نعم

هل إجابتها صحيحة؟

فسر

أَكْتُبْ عَدَدَ (المثلثاتِ، والمربعاتِ، والمستطيلاتِ، والدوائرِ) في
الشكل الآتي:



عَدَدُ الدَّوَائِرِ =

عَدَدُ المَرَبَّعَاتِ =

عَدَدُ المَثَلَّثَاتِ =

عَدَدُ المَسْتَطِيلَاتِ =

اكتب بعض أزواج العدد ٧

..... +

..... +

..... +

..... +

من أواج العدد ٩ (اختر الإجابة)

٦ + ٤

٦ + ٣

٦ + ٢

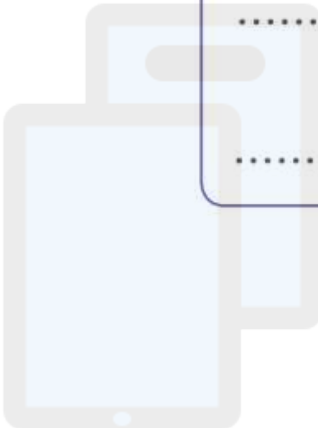
أوجد الناتج :

أ

$$\dots\dots\dots = 8 + 2 \qquad \dots\dots\dots 10 = 2 + 8$$
$$\dots\dots\dots = 8 - 10 \qquad \dots\dots\dots = 2 - 10$$

ب

$$\dots\dots\dots = 13 + 7 \qquad \dots\dots\dots = 7 + 13$$
$$\dots\dots\dots = 13 - 7 \qquad \dots\dots\dots = 7 - 13$$



أكمل سلاسل الأعداد alManahj.com/om

			٨٧	٨٦
--	--	--	----	----

			٧٤	٧٥
--	--	--	----	----

اشترى محمد كتاباً بـ ٦ ريالاً ، واشترى حذاءً بـ ٣ ريالاً . ما إجمالي مشترياته ؟

المجموع = + = ريالاً

بمناسبة تفوقك في الدراسة ، أعطاك معلمك ٣ ريالاً وأعطتك أسرته


٨ ريالاً ، فكم أصبح لديك ؟

أصبح لدي = + = ريال

أقارن بين سعة كل إناءين في كل مما يلي وأحوظ على الإجابة الصحيحة:



أكثر
أقل
يساوي



أكثر
أقل
يساوي



أكثر
أقل
يساوي



اقرأ الأعداد التالية :

٦٩	٩٠	٥١	٤٢	١٨
----	----	----	----	----

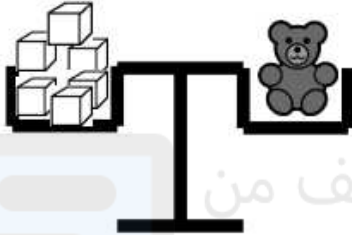
اكتب الوقت :



اكتب الأعداد تنازلياً من ٢٠ إلى ٠

								١٩	٢٠

١- عدد المكعبات التي يصل وزنها إلى وزن لعبة الدب

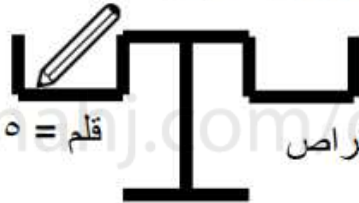


يساوي

تم تحميل هذا الملف من

موقع المناهج العمانية

٢- ارسم اقراصاً تكافئ وزن القلم .:

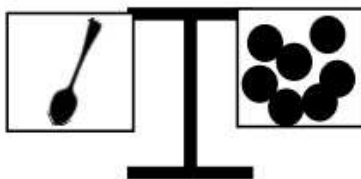


قلم = ١٥ قرصاً

اقراص

٣- في الميزان التالي .:


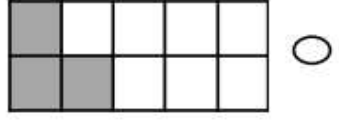
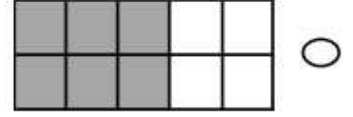
يقول ناصر أن عدد الأقراص التي تساوي وزن الملاعقة يساوي ١٢ .



فسر لماذا سالم على خطأ؟

.....

٤- الأجزاء المظلمة التي تمثل عدد زوجي ::
ظلل يمين الإجابة الصحيحة ::



٥- راشد يقول أن جميع الأعداد في البطاقات التالية أعداد زوجية ::

١٢ ٨ ١٠ ٥ ٢

- فسر لماذا راشد على خطأ؟

alManahj.com/om

حوط الأعداد الفردية :

٥٢

٨١

١٥

٤٩

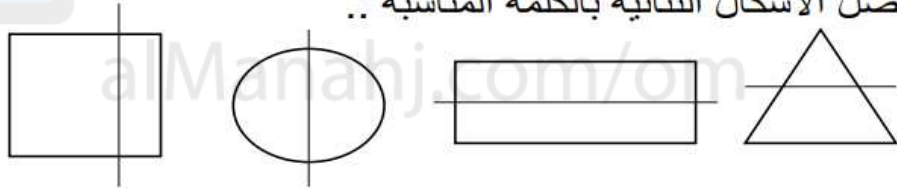
٧٤

اكتب الأعداد من ٥٠ إلى ١٠٠

تم تحميل هذا الملف من

موقع المناهج العمانية

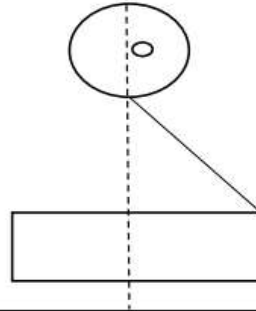
١- صل الأشكال الثنائية بالكلمة المناسبة .:



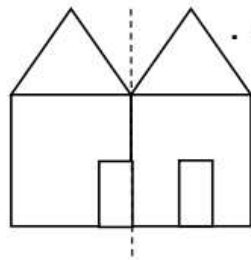
غير متماثل

متماثل

٢- اكمل رسم الصورة لنحصل على جانب متماثل .:



٣- يكمل أحمد الصورة ليحصل على منزل متماثل .



لماذا أحمد على خطأ؟