

تم تحميل هذا الملف من موقع ملفات الكويت التعليمية



[com.kwedufiles.www//:https](https://www.kwedufiles.com)

*للحصول على أوراق عمل لجميع الصفوف وجميع المواد اضغط هنا

* للحصول على أوراق عمل لجميع مواد الصف التاسع اضغط هنا

<https://kwedufiles.com/9>

* للحصول على جميع أوراق الصف التاسع في مادة اجتماعيات وجميع الفصول, اضغط هنا

<https://kwedufiles.com/9social>

* للحصول على أوراق عمل لجميع مواد الصف التاسع في مادة اجتماعيات الخاصة بـ الفصل الأول اضغط هنا

<https://www.kwedufiles.com/9social1>

* لتحميل كتب جميع المواد في جميع الفصول للـ الصف التاسع اضغط هنا

<https://www.kwedufiles.com/grade9>

* لتحميل جميع ملفات المدرس التوجيه الفني للإجتماعيات اضغط هنا

[bot_kwlinks/me.t//:https](https://t.me/bot_kwlinks)

للحصول على جميع روابط الصفوف على تلغرام وفيسبوك من قنوات وصفحات: اضغط هنا

الروابط التالية هي روابط الصف التاسع على مواقع التواصل الاجتماعي

مجموعة الفيسبوك

صفحة الفيسبوك

مجموعة التلغرام

بوت التلغرام

قناة التلغرام

رياضيات على التلغرام



أسئلة تفصيلية للكتاب



وزارة التربية
الإدارة العامة لمنطقة الفروانية التعليمية
التوجيه الفني للاجتماعيات
أ. دلال الأنصاري
معه فني أول اجتماعيات

مرشد الصف التاسع (الكويت والعالم)

فريق الاعداد

أ. عالية الدواس
أ. هدى المطيري
أ. بشاير ملك
أ. عهود البغلي

تنسيق ومراجعة:

رئيسة قسم الاجتماعيات في مدرسة رقية بنت محمد : أ. جليله الدغيم

إشراف عام : الموجه الفني : حمد إبراهيم البحوه

مكتب التوجيه الفني للاجتماعيات : أ. دلال الأنصاري

المقدمة:

يعد وضع أسئلة الاختبارات موضوعا حساسا، ودقيقا، إذ تشكل الأسئلة المقياس الأساسي في معرفة تطور الطالب، ومدى تحصيله الذي اكتسبه خلال دراسته للمادة، لذلك يجب أن توضع هذه الأسئلة بدقة كبيرة، بحيث تكون شاملة للمقرر الدراسي ومراعية لمستوى الطلبة، ولذلك يسرنا أن نقدم لكم الاستكمال لسلسلة المرشد الشامل مرشد الصف التاسع مقرر دولة الكويت والعالم أسئلة تفصيلية واضحة، وشاملة لجميع أسئلة بناء الاختبارات مع مراعاة معايير صياغة الاختبار والتي تم استخلاصها من ملف معايير صياغة الأسئلة المدرج في موقع التوجيه الفني للاجتماعيات ، نهديها الى كل من احتاج اليها من متعلمين ومعلمين ورؤساء أقسام سائلين المولى - سبحانه وتعالى - أن نكون قد وفقنا في تقديم المادة وعرضها وينفع به - حفظ الله الكويت وشعبها

فريق الإعداد

اعداد : الوحدة الاولى أ: عالية الدواس / الوحدة الثانية أ: هدى المطيري / الوحدة الثالثة أ: بشاير ملك الوحدة الرابعة أ: عهود البغيلي
مراجعة وتنسيق ر.ق مدرسة رقية بنت محمد : جليله الدغيم
اشراف عام : الموجه الفني : حمد ابراهيم البحوه



الأسئلة الموضوعية

١. أكمل العبارات التالية بما يناسبها فيما درست :

١. العالم الذي استخدم مصطلح علم البيئة الطبيعية كمفهوم جديد يدرس في الجامعات اسمه
٢. ظهر علم الطبيعة في العصر الحديث في منتصف القرن
٣. الخط الاساسي لخطوط الطول يطلق عليه اسم
٤. خط طول ١٨٠ الذي يبدأ منه اليوم يسمى
٥. خط الأساس لدوائر العرض اسمه
٦. تقع دولة الكويت ما بين دائرتي عرض ٢٨,٤٥ - ٣٠,٠٥ شمال خط
٧. أكبر دول العالم من حيث المساحة دولة اسمها
٨. أصغر دول العالم من حيث المساحة دولة اسمها
٩. تقع الفاتيكان في قلب العاصمة الإيطالية واسمها
١٠. تبلغ مساحة دولة الكويت
١١. كلما ارتفعنا من سطح الأرض ١٥٠م تقل درجة الحرارة بمقدار
١٢. أقل المظاهر التضاريسية صلاحية للاستقرار البشري والتوسع الزراعي
١٣. أفضل المناطق صلاحية للاستقرار البشري يمثلها مظهر تضاريسي اسمه
١٤. أول عربي تسلق أعلى قمة في العالم اسمه
١٥. أعلى قمة في العالم اسمها
١٦. أدنى بقاع الأرض منطقة اسمها
١٧. تعرضت دولة الكويت لأمطار غزيرة في عام ١٩٣٤ م وسميت
١٨. تعرضت دولة الكويت لأمطار غزيرة في عام ١٩٥٤ م وسميت
١٩. العام الذي تعرضت فيه دولة الكويت لأمطار غزيرة لمدة اسبوع أدت لتعطيل الجهات الحكومية في الدولة
٢٠. تقع دولة الكويت ضمن الإقليم المناخي
٢١. تغطي البحار والمحيطات من مساحة الكرة الأرضية حوالي
٢٢. أفضل البيئات على وجه الكرة الأرضية بيئة تسمى

٢ (اكتب المفاهيم أو المصطلحات الدالة على العبارات التالية :

المفهوم	العبرة
١	الإطار الذي يعيش فيه الإنسان ويحصل على مقومات حياته ويتفاعل فيها مع عناصر البيئة الأخرى
٢	كل ما يحيط بالإنسان من ظاهرات حية وغير حية ليس للإنسان أي دخل في وجودها وتتمثل في بنية الأرض والتضاريس والمناخ والنبات الطبيعي والحيوانات
٣	التفاعل المستمر بين مكونات البيئة الذي يحفظ استقرارها النسبي في زمن محدد دون أن تتأثر أي مكون على المكونات الأخرى
٤	موقع الدولة بالنسبة لخطوط الطول ودوائر العرض
٥	موقع الدولة في مكان معين
٦	موقع الدولة بالنسبة لليابس والماء
٧	الملامح الرئيسية لشكل سطح الأرض من مرتفعات ومنخفضات وأودية وسهول
٨	عملية نحت وتشكيل سطح الأرض ونقل المفتتات الصخرية وإرسابها في مكان آخر من خلال الرياح والمياه الجارية والجليد والأمواج والمياه الجوفية
٩	كل مرتفع من الأرض وله قمة لا يقل ارتفاعها عن ١٠٠٠ متر
١٠	أرض مرتفعة وسطحها مستو وتمتد على مساحة كبيرة
١١	مساحة كبيرة من سطح الأرض تتميز باستوائها وقلّة ارتفاعها
١٢	حالة الجو خلال فترة زمنية طويلة
١٣	مساحة من الأرض ذات خصائص مناخية متشابهة ومتميزة عن غيرها

٣) ظلل الخيار الصحيح من بين الخيارات التي تلي كل عبارة :

١- ظهر علم البيئة الطبيعية في العصر الحديث في منتصف القرن:			
١٧م	١٨م	١٩م	٢٠م
٢- تقع دولة الكويت ضمن الإقليم المناخي:			
الاستوائي	البارد	المعتدل	الصحراوي الحار
٣- تحدد دولة الكويت من جهة الشمال والشمال الغربي جمهورية اسمها:			
العراق	السعودية	إيران	البحرين
٤- تحدد دولة الكويت من جهة الجنوب والجنوب الغربي دولة اسمها :			
البحرين	السعودية	قطر	الإمارات
٥- يحد دولة الكويت من جهة الشرق مسطح مائي اسمه:			
البحر الأحمر	خليج عمان	الخليج العربي	بحر العرب
٦- تقع دولة الكويت بالنسبة للخليج العربي في جهة:			
الجنوب الشرقي	الجنوب الغربي	الشمال الشرقي	الشمال الغربي
٧- تقع دولة الكويت بالنسبة لقارة آسيا في جهة:			
الجنوب الشرقي	الجنوب الغربي	الشمال الشرقي	الشمال الغربي
٨- تقع دولة الكويت بالنسبة لشبه الجزيرة العربية في جهة:			
الجنوب الشرقي	الجنوب الغربي	الشمال الشرقي	الشمال الغربي
٩- أكبر دول العالم من حيث المساحة دولة اسمها:			
الهند	الصين	روسيا	الولايات المتحدة
١٠- أصغر دول العالم من حيث المساحة دولة اسمها:			
البحرين	قطر	الكويت	الفاتيكان
١١- تبلغ مساحة دولة الكويت:			
١٧,٨١٧ كم ^٢	١٧,٨١٨ كم ^٢	١٧,٨١٩ كم ^٢	١٧,٨٢٠ كم ^٢
١٢- العام الذي تعرضت فيه دولة الكويت لإمطار غزيرة وسميت الهدامة الأولى:			
١٩٣٠	١٩٣٢	١٩٣٤	١٩٣٧
١٣- العام الذي تعرضت فيه دولة الكويت لإمطار غزيرة وسميت بالهدامة الثانية:			
١٩٥٣	١٩٥٤	١٩٥٥	١٩٥٦
١٤- تبلغ نسبة مساحة الماء على الكرة الأرضية حوالي:			
٪٧١	٪٧٢	٪٧٣	٪٧٤
١٥- أفضل البيئات على وجه الكرة الأرضية البيئة:			
البحرية	الجبلية	المعتدلة	الحارة
١٦- تقع الفاتيكان في قلب العاصمة الإيطالية اسمها:			
باريس	لندن	روما	مدريد

٤) صوب ما تحته خط في العبارات التالية:

الرقم	العبارة	التصويب
١.	ظهر علم الطبيعة في العصر الحديث في منتصف القرن ١٧ م	
٢.	خط الأساس لخطوط الطول يسمى خط الاستواء	
٣.	خط طول ١٨٠ الذي يبدأ منه اليوم يسمى خط جرينتش	
٤.	أكبر دول العالم من حيث المساحة دولة اسمها الفاتيكان	
٥.	تقع الفاتيكان في عاصمة إيطاليا اسمها روسيا	
٦.	تبلغ مساحة دولة الكويت ١٩,٨١٨ كم ٢	
٧.	كلما ارتفعنا من سطح الأرض ١٥٠م تقل درجة الحرارة بمقدار درجتين	
٨.	أقل المظاهر التضاريسية صلاحية للاستقرار البشري والتوسع الزراعي هي سهول	
٩.	أدنى بقاع الأرض منطقة اسمها إفريست	
١٠.	تقع دولة الكويت ضمن الإقليم المناخي الاستوائي	
١١.	تعرضت دولة الكويت لأمطار غزيرة في عام ١٩٣٤ م وسميت الهادمة الثانية	

٥) استنتج الرابط بين العناصر التالية :

- ١- الإنسان + البيئة + الموارد الطبيعية = (.....)
- ٢- تربة + ماء + ضوء + حرارة + رطوبة + رياح = (.....)
- ٣- تكاثر + الاستجابة + الإخراج + الحركة + النمو + الإيض + التعرية = (.....)
- التصحّر + التلوّث + قطع الأشجار = (.....)
- ٤- الفلكي + النسبي + المكاني = (.....)
- ٥- مرتفعات + منخفضات + أودية + سهول = (.....)

(٧) صنف الكلمات التالية إلى مكانها المناسب في الجدول التالي:

١/ الموقع الفلكي - الموقع المكاني - الموقع النسبي

موقع الدولة بالنسبة لخطوط الطول ودوائر العرض	موقع الدولة في مكان معين	موقع الدولة بالنسبة لليابس والماء
----------------------------------------------	--------------------------	-----------------------------------

٢/ النباتات - الرطوبة - الإنسان - الضغط الجوي

العوامل المؤثرة في التضاريس	عناصر المناخ
-----------------------------	--------------

٣- الجنوب الغربي - الشمال الشرقي - الشمال الغربي

موقع الكويت بالنسبة لقارة آسيا	موقع الكويت بالنسبة لشبه الجزيرة العربية	موقع الكويت بالنسبة للخليج العربي
--------------------------------	------------------------------------------	-----------------------------------

(٦) من أنا؟



أول من استخدم مصطلح
البيئة الطبيعية في
منتصف القرن الـ ١٩ م
أنا



أنا أعلى قمة في العالم
أمثل



الملامح الرئيسية لشكل سطح الأرض
أنا

(٩) أكمل المخططات السهمية التالية :

(١٠) أو اكتب عنوانا للمخططات السهمية التالية :



٩- عناصر المناخ

الرياح

١٠- الأقاليم المناخية في العالم

حارة

١١- أنواع البيئة الطبيعية

بيئة تضاريسية

١٢- أقسام البيئة التضاريسية

بحرية

صحراوية

١٣- بيئة مناخية

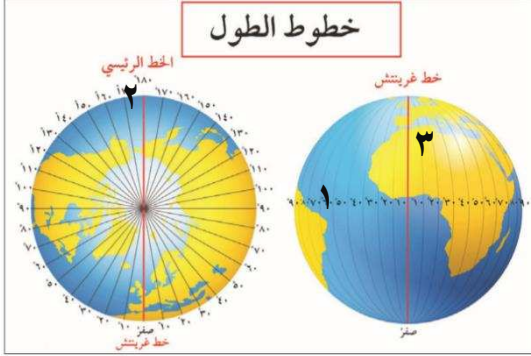
حاره

(١١) اختر للمجموعة (أ) ما يرتبط بها من المجموعة (ب) بوضع الرقم المناسب.

المجموعة (أ)	الرقم المناسب	المجموعة (ب)
هضاب	١ / الألب - الأنديز - الأبلش	
سهول	٢ / كمبرلي - التبت - أثيوبيا	
جبال	٣ / سيبيريا - السلفاس - البمباس	

المجموعة (أ)	الرقم المناسب	المجموعة (ب)
الأقاليم الحارة	١ / المناخ الاستوائي	
الأقاليم المعتدلة الباردة	٢ / مناخ غرب أوروبا	
الأقاليم الباردة	٣ / مناخ البحر المتوسط	
الأقاليم المعتدلة الدفيئة	٤ / مناخ التندرا	

١٤ / لاحظ الشكل المقابل ، ثم أجب عن الأسئلة التالية :



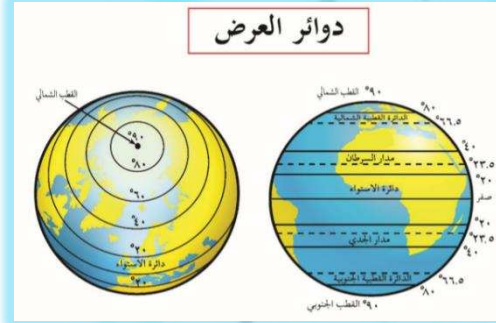
(١) لاحظ الصورة المقابلة ثم أجب عما يلي :

(أ) خط الطول الذي يحمل قيمة صفر يمثل الرقم

(ب) الخط رقم ١٨٠ يمثل الرقم

(٢) اذكر اثنين من خصائص خطوط الطول

١.
٢.
٣.



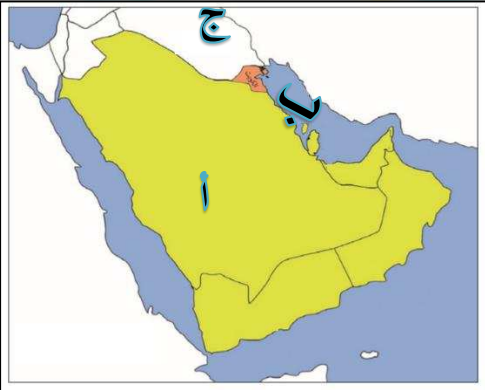
(٢) لاحظ الصورة المقابلة ثم أجب عما يلي :

(أ) دوائر العرض تقسم الكرة الأرضية الى جهتين هما

(ب) عدد دوائر العرض يبلغ

(٢) اذكر اثنين من خصائص دوائر العرض

-
-



(٣) لاحظ الخريطة المقابلة ثم أجب عما يلي :

❖ تقع دولة الكويت بالنسبة لشبه الجزيرة العربية


في جهة

❖ تطل دولة الكويت على سطح مائي

يحمل الحرف

❖ الدولة التي تحد دولة الكويت من جهة الشمال

تحمل الحرف



(٤) لاحظ الشكل المقابل ثم أجب عما يلي :

• كل مرتفع من الأرض وله قمة لا يقل ارتفاعها

عن ١٠٠٠ متر يمثل الرقم

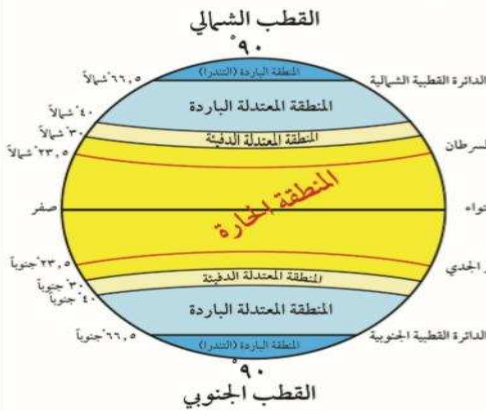
• أفضل المظاهر التضاريسية استقرار السكاني

يمثله الرقم

عرف التضاريس :

.....

الأقاليم المناخية في العالم



(٥) لاحظ الشكل المقابل ثم أجب عما يلي:

أ/ اكتب نوعين من الأقاليم التي تقع شمال خط الاستواء حتى ٤٠ شمالا

١ /

٢ /

ب/ اكتب ميزة للأقاليم المناخية الحارة

ج/ الأقاليم الواقعة بين دائرتي عرض ٦٠-٩٠ درجة شمالا وجنوبا اسمها الأقاليم

(٥) لاحظ الخريطة المقابلة ثم أجب عما يلي:

- هضبة أثيوبيا يمثلها الرقم ()
- جبال أطلس يمثلها الرقم ()
- هضبة نجد يمثلها الرقم ()

ف

ف

ف

(١) فرق بين كل مما يلي :

١- الجبال والهضاب من حيث المفهوم

الهضاب	الجبال
.....
.....

(٢) علل / اذكر السبب.

١ - تقسيم الكرة الأرضية إلى مجموعه من الخطوط الوهمية المتقاطعة وهي خطوط الطول ودوائر العرض.

٢- تنوع القارات بمظاهرها التضاريسية.

٣- اتخاذ الجبال أشكال المسننة.

٤- تعد السهول من أفضل مناطق الاستقرار البشري.

(ج)

(أ)

(د)

(ب)

(٣) برهن على صحة العبارة التالية:

١ - البيئة المعتدلة من أفضل البيئات للعيش على وجه الأرض.

(ج)

(أ)

(د)

(ب)

(٤) عدد

١- مميزات البيئة الطبيعية

(ج)

(أ)

(د)

(ب)

٢- أهمية السهول.

(ب)

(أ)

٣- عدد خصائص الكائنات الحية.

(ب)

(أ)

٤- عدد مميزات أشجار السهول الاستوائية

(ب)

(أ)

(٥) قارن بين كل مما يأتي :-

١ / الجبال والهضاب والسهول

أوجه المقارنة	الجبال	الهضاب	السهول
النسبة
التمثيل البياني			
التعريف

٢ / روسيا والفاتيكان من حيث المطلوب:

أوجه المقارنة	روسيا	الفاتيكان
الترتيب / المركز
المساحة

٣ / خطوط الطول ودوائر العرض حسب المطلوب :

وجه المقارنة	خطوط الطول	دوائر العرض
خط الأساس ورقمه
العدد
الخصائص
الأهمية

٤/ مميزات كل من البيئات المذكورة في الجدول

وجه المقارنة	البيئة البحرية.	البيئة المعتدلة.	البيئة الجبلية.
مميزات

٥/ الأقاليم المناخية من حيث المطلوب:

الأقاليم المناخية	الأقاليم الحارة	الأقاليم المعتدلة الدفيئة	الأقاليم المعتدلة الباردة	الأقاليم الباردة
دوائر العرض				
مثال				
المميزات				

٦/ أقرأ الفقرة التالية ثم أجب على الأسئلة التي تليها :

(التضاريس يقصد بها الملامح الرئيسية لشكل سطح الأرض من مرتفعات ومنخفضات وأودية وسهول ، تختلف القارات بمساحتها كما تختلف بمظاهرها التضاريسية ، وإنها تتنوع كلما

١ - ما المقصود بالتضاريس؟

.....

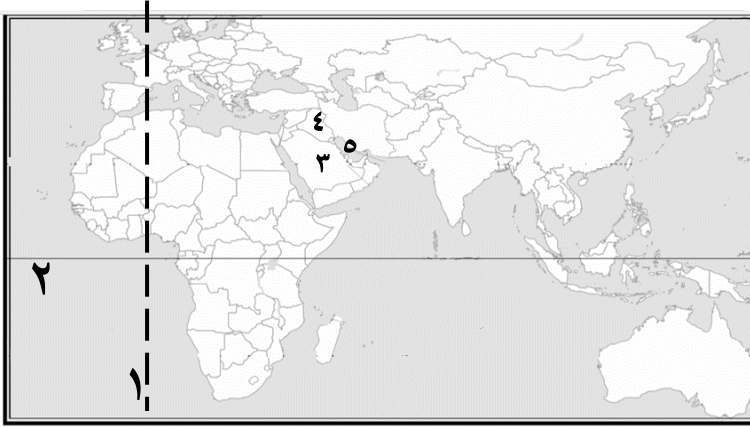
٢- اذكر اثنين من أشكال التضاريس؟

..... ب

٣- علل تختلف القارات بمساحتها كما تختلف بمظاهرها التضاريسية

.....

٧ / لاحظ خريطة العالم السياسية ثم أجب عن الأسئلة التالية :



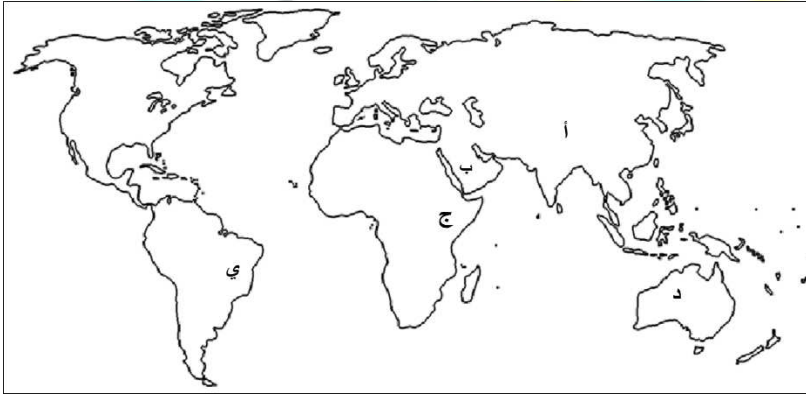
اكتب مدلول الأرقام على كلام ما يأتي :

- خط الطول الأساسي يمثل الرقم
- خط العرض الأساسي يمثل الرقم
- مسطح الخليج العربي يمثل الرقم
- الدولة التي تحد دولة الكويت من جهة الشمال والشمال الغربي يمثلها

اكتب مدلول الأرقام والرموز والأشكال على كلام ما يأتي : ص ٢٥



- جبال الهملايا يمثلها الرقم
- جبال عسير يمثلها الرقم
- جبال الحجاز يمثلها الرقم
- جبال أطلس يمثلها الرقم
- جبال الألب يمثلها الرقم
- جبال اسكندنافيا يمثلها الرقم
- السلاسل الجبلية الأسترالية يمثلها الرقم
- جبال روكي يمثلها الرقم
- جبال الابلاش يمثلها الرقم
- جبال الأنديز يمثلها الرقم

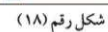
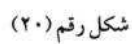
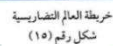

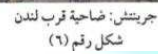
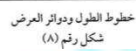


- هضبة التبت تحمل الحرف
- هضبة نجد تحمل الحرف
- هضبة أثيوبيا تحمل الحرف
- هضبة كمبوري تحمل الحرف
- هضبة البرازيل تحمل الحرف



- الرمز ① يمثل
- الرمز * يمثل
- الشكل ■ يمثل
- الشكل ● يمثل
- الشكل □ يمثل

ملحق الخرائط والصور:





١. أكمل العبارات التالية بما يناسبها فيما درست :

- ١) الاستهلاك والانتاج المسؤولان هدف للتنمية المستدامة يحمل الرقم
- ٢) المرحلة التي استطاع الانسان ان يجمع طعامه تسمى مرحلة
- ٣) المرحلة التي أحدث بها الانسان تغييرات كبيرة في البيئة تسمى
- ٤) النباتات التي تخزن المياه والمواد الغذائية في سيقانها وجذورها اسم
- ٥) المرحلة التي تم اكتشاف النار فيها تسمى مرحلة
- ٦) أقوى المراحل التي مربها الانسان مع البيئة هي مرحلة
- ٧) المجموعة المسئولة عن تدهور النظام البيئي تسمى العناصر
- ٨) بلغ عدد سكان العالم عام ٢٠١٧ حوالي نسمة
- ٩) يطلق على مجموعة العناصر الحية المستهلكة اسم
- ١٠) العناصر التي تضم المقومات الأساسي لاستمرار الحياة تسمى العناصر
- ١١) العمل من أجل المناخ هدف للتنمية المستدامة يحمل
- ١٢) الأمين العام للأمم المتحدة الذي وصف بأن الأشجار والغابات بأنها رئة كوكب الأرض اسمه
- ١٣) تحتفل الأمم المتحدة في كل عام باليوم الدولي للغابات في تاريخ
- ١٤) تأسست حركة الحزام الأخضر في عام
- ١٥) مؤسس حركة الحزام الأخضر عام ١٩٧٧ الناشطة
- ١٦) العام الذي حصلت فيه الناشطة الكينية وانجاري ماثي على جائزة نوبل للسلام

٢) اكتب المفاهيم أو المصطلحات الدالة على العبارات التالية :

المفهوم أو المصطلح	العبرة
١)	التوزيع الأمثل للموارد الطبيعية التي توفرها البيئة لعملية التنمية المستدامة
٢)	عدد السكان / مساحة الدولة
٣)	القوانين والأنظمة التي تعمل على تنظيم العلاقات الاجتماعية بين الأفراد والنشاطات الممارسة من الانسان داخل البيئة ص ٤٤
٤)	الاعتناء بالحيوانات الداجنة وتوليدها بما في ذلك الأبقار والأحصنة والدجاج ويستخدم كمصدر للطعام أو الموارد
٥)	مجموعة من العناصر الحية وغير الحية تتفاعل مع بعضها البعض ضمن وحدة بيئية متجانسة ونظام متوازن ودقيق وتعتمد كل مجموعة على الأخرى
٦)	علم دراسة العلاقات المتداخلة لعناصر المكان الذي يعيش فيه الأحياء

٣) ظلل الخيار الصحيح من بين الخيارات التي تلي كل عبارة :

١- اسم المرحلة التي تم اكتشاف النار فيها:			
الصيد والقنص	التصنيع	الجمع	الزراعة
٢- عدد مراحل تطور علاقة الانسان بالبيئة :			
سبعة	خمسة	ستة	ثمانية
٣- أقوى المراحل التي مربها الانسان مع البيئة هي مرحلة:			
التصنيع	الجمع	الصيد	الزراعة
٤- مجموعة من العناصر الحية والغير حية تتفاعل مع بعضها البعض ضمن وحدة بيئية متجانسة اسمها :			
البيئة الاجتماعية	البيئة الطبيعية	النظام الايكولوجي	التنمية المستدامة
٥- بلغ عدد سكان العالم عام ٢٠١٧ حوالي			
٥,٥	٦,٥	٧,٥	٨,٥
٦- العناصر التي تضم المقومات الأساسية لاستمرار الحياة:			
الغير حية	المستهلكة	المنتجة	المحللة
٧- هدف التنمية المستدامة (العمل من أجل المناخ) يحمل الرقم:			
١١	١٢	١٣	١٤
٨- تحتفل الأمم المتحدة باليوم الدولي للغابات من كل عام في تاريخ:			
٢١ مارس	٢٢ مارس	٢٣ مارس	٢٤ مارس
٩- العام الذي حصلت الناشطة الكينية وانجاري ماثي على جائزة نوبل للسلام:			
٢٠٠٤ م	٢٠٠٥ م	٢٠٠٦ م	٢٠٠٧ م

٤) استنتج الرابط بين العناصر التالية :

- ١) الجمع والالتقاط + الصيد والقنص + استئناس الحيوانات والرعي + الزراعة + التصنيع = (.....)
- ١) الغير حية + الحية المنتجة + الحية المستهلكة + الحية المحللة = (.....)
- ٢) الماء + الهواء + الغازات + أشعة الشمس + الصخور + التربة + المعادن = (.....)

(٥) من أنا أو ماذا أمثل أو من نحن أو من نكون :



أنا ناشطة كينية حصلت على
جائزة نوبل للسلام عام ١٩٧٧
اسمى

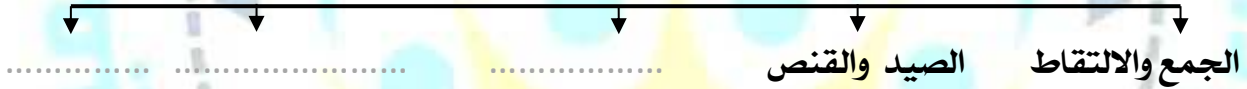
نمثل عناصر لنظام اسمه

نمثل مجموعة موارد
أوجدنا الله للإنسان
نحن



(٦) أكمل المخططات السهمية التالية :

مراحل تطور علاقة الإنسان بالبيئة



عناصر النظام الايكولوجي



(٧) اختر للمجموعة (أ) ما يناسبها من المجموعة (ب) بوضع الرقم المناسب بين القوسين .

المجموعة (أ)	الرقم	المجموعة (ب)
بيئة نامية حضاريا		١ / يكون فيها الانسان صاحب قدرات علمية محدودة لا تمكنه من استغلال موارد البيئة
بيئة حضارية متقدمة		٢ / يملك فيها الانسان قدرات علمية وتكنولوجية كبيرة تمكنه من استغلال مواردها حسب رغباتها



(١) لاحظ الشكل المقابل ثم أكمل العبارات التالية بما يناسبها :

- أ) يمثل الشكل الذي أمامك أحد أهداف التنمية المستدامة
- ب) يحمل الهدف الرقم

الأسئلة المقالية : ف

(١) أقرأ الفقرة التالية ثم أجب على الأسئلة التي تليها :

ذكر الأمين العام للأمم المتحدة السيد أنطونيو غوتيريس بمناسبة (اليوم الدولي للغابات) ٢١ مارس "بان الأشجار والغابات رثة كوكب الأرض ورمز للكرامة البشرية وأنها تقوم بدور أساسي في استمرارية الحياة "

- ١- من هو الأمين العام للأمم المتحدة ؟
- ٢- متى تحتفل الأمم بيوم العالمي للغابات؟
- ٣- اقترح عنوان للفقرة

(٢) علل لما يلي .

١- لم يكن الانسان مؤثرا في البيئة بشكل سلبي في المرحلة الأولى

٢- ترتبط العناصر الحية المنتجة ارتباط وثيق بمجموعة العناصر غير الحية

٣- اهتمام الأمم المتحدة باليوم الدولي للغابات

٤- حصول الناشطة الكينية وانجاري ماثاي على جائزة نوبل للسلام

(٣) برهن على صحة العبارة التالية:

١ - البيئة الطبيعية التي أوجدها الله للإنسان كانت ولا تزال لها أثر إيجابي عليه

فأ..... ب.....

٢ - (أن الانسان مالك زمام الأمور)

فأ..... ب.....

٣ - (استطاع الانسان أن يضمن ازدهار الزراعة ونمو الثروة الحيوانية)

فأ..... ب.....

(٤) اجب على الاسئلة التالية :

١ - ما العلاقة بين علم الاقتصاد والبيئة

أ..... ج.....

ب..... د.....

٢ - ماهي العوامل التي أثرت على طبيعة العلاقة بين الانسان وبيئته

فأ..... ب.....

٣ - ماهي عناصر النظام الايكولوجي

أ..... ج.....

ب..... د.....

٤ - ماهي الأعمال التي تلحق الضرر بالغابات

أ..... ب.....

(٥) عدد :

١ - مراحل تطور علاقة الانسان بالبيئة

أ..... ج.....

ب..... د.....

(٦) اكتب فيما درست عن التالي :

أهمية زراعة الأشجار على كوكب الأرض	طرق الحفاظ على الغابات والأشجار
.....
.....
.....

(٧) قارن بين عناصر النظام الايكولوجي من حيث المطلوب :

أوجه المقارنة	العناصر غير الحية	العناصر الحية المنتجة	العناصر الغير المستهلكة	العناصر الحية المستهلكة (المحللة)
العناصر التي تنضم لها
دورها
العلاقة فيما بينهم

ملحق الصور

اعداد : الوحدة الاولى أ: عالية الدواس / الوحدة الثانية أ: هدى المطيري / الوحدة الثالثة أ: بشاير ملك / الوحدة الرابعة أ: عهود البغيلي
مراجعة وتنسيق ر.ق مدرسة رقية بنت محمد : جليله الدغيم
اشراف عام : الموجه الفني : حمد ابراهيم البحوه



الأسئلة الموضوعية

١. أكمل العبارات التالية بما يناسبها فيما درست :

- ١- تعاني الكثير من الدول الصناعية من التلوث الناتج من
- ٢- المرحلة التي ينهار فيها النظام الأيكولوجي ويصبح غير قادر على العطاء تسمى
- ٣- حادثة المفاعل النووي التي تسببت في انهيار النظام الأيكولوجي بالاتحاد السوفييتي اسمه
- ٤- تم إطفاء آخر بئر نفطي في تاريخ
- ٥- عدد الآبار الكويتية التي قامت القوات العراقية بحرقها عام ١٩٩١
- ٦- يبلغ غاز النيتروجين من مكونات الغلاف الجوي حوالي
- ٧- أشد أنواع التلوث خطرا يسمى
- ٨- تعرضت مياه الخليج العربي لتلوث مائي نتج عنه تدمير البيئة البحرية في عام
- ٩- هدف التنمية المستدامة تحت شعار الحياة تحت الماء يحمل الرقم
- ١٠- تعرضت الكويت لتلوث هوائي ومائي بسبب
- ١١- تحتوي تربة دولة الكويت على نسبة عالية من الرمل قد تصل إلى نسبة
- ١٢- وحدة قياس ضغط الصوت volume تعرف باسم
- ١٣- إذا تجاوز مستوى الصوت DB85 يصبح
- ١٤- للتلوث الضوضائي نوعان المؤقت و
- ١٥- خصصت الأمم المتحدة يوم عالمي للتصحر في
- ١٦- يحتفل العالم من كل عام بيوم مكافحة الجفاف والتصحر في تاريخ
- ١٧- صنفت درجات التصحر في مؤتمر نيروبي عام
- ١٨- الهيئة الكويتية المسؤولة عن الاشراف على محميات الطبيعة تسمى
- ١٩- تعتمد دول مجلس التعاون الخليجي على مياه التحلية بنسبة
- ٢٠- اهتمت الأمم المتحدة لمشكلة ندرة المياه فخصصت يوم له في
- ٢١- الغاز الرئيسي المسبب الاحتباس الحراري
- ٢٢- الغازات الدفيئة التي تقوم بتدفئة جو الأرض هما غاز ثاني أكسيد الكربون وغاز

٢) اكتب المفاهيم أو المصطلحات الدالة على العبارات التالية :

المفهوم	العبرة
١ -	أي تغير غير مرغوب فيه في الخواص الطبيعية أو الكيميائية أو البيولوجية للبيئة المحيطة والذي قد يتسبب في إضرار الحياة والكائنات الأخرى
٢ -	حدوث أي تغير في تركيب الهواء سواء كان عن طريق الغازات أو الأدخنة أو الرماد أو الأتربة أو الإشعاعات أو غير ذلك.
٣ -	كل تغير في طبيعة الماء وخواصه الطبيعية بحيث يصبح غير صالح للكائنات الحية سواء كان هذا التغير فيزيائياً أو كيميائياً أو بيولوجياً.
٤ -	خلل ذو طبيعة فيزيائية أو كيميائية أو حيوية، مصدره نشاط إنساني يؤدي إلى عدم التوازن بين مكونات التربة
٥ -	خليط متناثر من الأصوات ذات استمرارية غير مرغوب فيها
٦ -	تناقض في قدرة الإنتاج البيولوجي للأرض أو تدهور خصوبة الأراضي المنتجة بالمعدل الذي يكسبها ظروف تشبه الأحوال المناخية الصحراوية
٧ -	عدم وجود ما يكفي من الموارد المائية المتاحة لتلبية مطالب استخدام المياه داخل المنطقة
٨ -	توفر كميات كافية من المياه ذات النوعية الجيدة الضرورية، وفي الوقت نفسه توفر كميات المياه المطلوبة لاستدامة وتعزيز وظائف النظم الأيكولوجية المهمة
٩ -	الزيادة في متوسط حرارة الأرض والذي نتج عن التغيرات المناخية واضطراب الأنظمة البيئية بسبب زيادة كمية غاز ثاني أكسيد الكربون CO ₂ والميثان

٣) صوب ما تحته خط في العبارات التالية :

الرقم	العبرة	التصويب
١ .	يصبح النظام الأيكولوجي في التلوث المدمر غير قادر على العطاء بسبب تشابه مستوى الاتزان	
٢ .	قام الغزو العراقي الغاشم بعمليات تفجير نجم عنها حرق ٧٧٣ بئراً	
٣ .	نسبة المياه المالحة في كوكب الأرض لا تتعدى ٣٪	
٤ .	العام الذي تعرضت فيه مياه الخليج العربي للتلوث هو ١٩٩٢م	
٥ .	تحتوي تربة دولة الكويت على نسبة عالية من الرمل تصل إلى ٩٨٪	
٦ .	يقاس ضغط الصوت بالمتر	
٧ .	خصصت الأمم المتحدة يوم لجذب الانتباه لأهمية المياه العذبة في ٢٢ يونيو	
٨ .	صنف التصحر لدرجات في مؤتمر الأمم المتحدة عام ١٩٧٧	
٩ .	تعتمد دول مجلس التعاون الخليجي على مياه التحلية بنسبة ١٨٪	
١٠ .	من الغازات الدفيئة التي تساهم في تدفئة جو الأرض غاز النيتروجين	

٤) ظلل الخيار الصحيح من بين الخيارات التي تلي كل عبارة :

١/ تعاني الكثير من الدول من الدول الصناعية من التلوث الناتج من النشاط :			
أ) الزراعي	ب) التجاري	ج) الصناعي	د) البحري
٢/ عدد الآبار الكويتية التي قامت القوات العراقية بحرقها عام ١٩٩١ يبلغ :			
أ) ٧٣٥ بئرا	ب) ٧٣٦ بئرا	ج) ٧٣٧ بئرا	د) ٧٣٨ بئرا
٣/ يبلغ غاز النيتروجين من مكونات الغلاف الجوي حوالي :			
أ) ٧٥٪	ب) ٧٦٪	ج) ٧٧٪	د) ٧٨٪
٤/ يقاس ضغط الصوت:			
أ) البارومتر	ب) الديسيبل	ج) الفولت	د) كيلومتر
٥/ اليوم العالمي الذي خصصته الأمم المتحدة للتصحر:			
أ) ١٧ ابريل	ب) ١٧ مايو	ج) ١٧ يونيو	د) ١٧ يوليو
٦/ مصادر المياه العذبة :			
أ) البحر	ب) المحيط	ج) الخليج	د) الينابيع
٧/ مصادر المياه التقليدية:			
أ) تحلية مياه البحر	ب) الأمطار الصناعية	ج) معالجة مياه الصرف	د) المياه السطحية
٨/ مصادر المياه غير التقليدية:			
أ) الأمطار	ب) الأمطار الصناعية	ج) المياه الجوفية	د) المياه السطحية
الغازات الدفيئة التي تقوم بتدفئة جو الأرض هما غاز الميثان وغاز.....			
أ) ثاني أكسيد الكربون	ب) النيتروجين	ج) الأوكسجين	د) الهيدروجين

٥) استنتج الرابط بين العناصر التالية :

- ١/ نيتروجين + أكسجين + غازات أخرى = (.....)
- ٢/ الأمطار + المياه الجوفية + المياه السطحية = (.....)
- ٣/ تحلية مياه البحر + الأمطار الصناعية + معالجة مياه الصرف = (.....)
- ٤/ مياه التحلية + مياه السدود + مياه الصرف الصحي + المياه الجوفية = (.....)
- ٥/ نفط + فحم + غاز = (.....)
- ٦/ كيوتو + باريس + مراكش + الدولي للأرض = (.....)

٦) ضع الحرف (أ) أمام العبارة الصحيحة ، والحرف (ب) أمام العبارة الخاطئة مع التصويب:

الرقم	العبارة	أ	ب	التصويب
٢	تخلو بعض مناطق في الكرة الأرضية من التلوث المقبول			
٣	يشكل الأكسجين نسبة ٧٨٪ من مكونات الغلاف الجوي			
٤	تسبب الغزو العراقي بتلوث هوائي كبير في دولة الكويت عام ١٩٩١			
٥	يعتبر التلوث المائي أشد أنواع التلوث خطراً			
٦	ليس لتربة الكويت قدرة على الاحتفاظ بالماء الكثير			
٧	التربة جزء لا يتجزأ من النظام البيئي			
٨	كل ما يصيب النظام البيئي لا يصيب التربة			
٩	إذا تجاوز الصوت DB85 يصبح مستوى آمناً			
١٠	يقاس ضغط الصوت بالديسيبل			
١١	يوجد علاقة قوية بين التربة والغذاء			
١٢	التصحّر المعتدل يقلل عائد الإنتاج النباتي بنسبة ٥٠٪ - ٩٠٪			
١٣	التصحّر الشديد يقلل عائد الإنتاج بنسبة ٥٠٪ - ٩٠٪			
١٥	تعاني دول الكويت من التصحر في فترات الصيف			
١٦	يوجد ضغط كبير على المياه العذبة على مستوى العالم ودول مجلس التعاون			
١٧	صنف التصحر لدرجات في مؤتمر نيروبي عام ١٩٧٧			
١٨	تشكل مياه السدود نسبة ٢٠٪ من مصادر المياه العذبة في دول مجلس التعاون			
١٩	استعمال الوقود الأحفوري ساهم في زيادة تركيز غاز ثاني أكسيد الكربون في الجو			

٧) أكمل المخططات السهمية التالية :

مشكلات البيئة الطبيعية



(٨) اكتب عنوانا للمخططات السهمية التالية :





أنا منظمة حددت
أسباب تجعل التربية
أساس لمستقبل
الأرض المستدام هي

FAO

امثل أحد جهود دولة الكويت
بالحفاظ على البيئة أنا



Environment Public Authority

الأسئلة المقالية :

(١) عدد لما يلي

١- مشكلات البيئة الطبيعية

- أ)
ب)
ج)
د)

٢- مظاهر التصحر

- أ)
ب)
ج)
د)

٣- أسباب ندرة المياه

- أ)
ب)
ج)
د)

٤ مظاهر ندرة المياه في العالم

- أ)
ب)
ج)
د)

٥- طرق المحافظة على المياه

- أ)
ب)
ج)
د)

٧- أسباب ندرة المياه بدول مجلس التعاون لدول الخليج العربية

- أ)
ب)
ج)
د)

اعداد : الوحدة الاولى : عالية الدواس / الوحدة الثانية : هدى المطيري / الوحدة الثالثة : بشاير ملك / الوحدة الرابعة : أ: عهود البغيلي
مراجعة وتنسيق : ر.ق مدرسة رقية بنت محمد : جليله الدغيم
اشراف عام : الموجه الفني : حمد ابراهيم البحوه

٨- مظاهر الاحتباس الحراري بكوكب الأرض

- أ)
ب)
ج)
د)

٩ - الجهود الدولية لمكافحة التغير المناخي

- أ)
ب)
ج)
د)

١٠- سبب التصحر في فترات فصل الصيف معاناة لدولة الكويت

- أ)
ب)

(٢) يرهن على صحة العبارة التالية:

١/ (التلوث المائي أشد أنواع التلوث خطرا)

٢/ (وجود علاقة قوية بين التربة والغذاء)

٣/ (يشكل التلوث الضوضائي خطرا على الإنسان)

٤/ (أولت الأمم المتحدة اهتمام كبير بمشكلة التصحر)

٥/ (قامت دولة الكويت بجهود عديدة للتغلب على مشكلة التصحر)

(٢) فرق بين كل مما يلي :

١- درجات التلوث -

درجة التلوث	التلوث المقبول	التلوث الخطر	التلوث المدمر
حجم الضرر الناتج عنه
مثال

٢- مفاهيم كل من التالية :

التلوث الهوائي	التلوث المائي
.....

٣- مصادر تلوث التربة -

مصدر التلوث	مصادر ميكانيكية	مصادر حيوية	مصادر كيميائية
مثال

٤- أنواع التلوث الضوضائي :

النوع	المزمن	المؤقت
المستوى
الناتج

٥- درجات التصحر حسب مؤتمر نيروبي ١٩٧٧ م

التصنيف	تصحر طفيف	تصحر معتدل	تصحر شديد	تصحر شديد جدا
أثره
المظهر المصاحب له
درجة التأثير

اعداد : الوحدة الاولى أ: عالية الدواس / الوحدة الثانية أ: هدى المطيري / الوحدة الثالثة أ: بشاير ملك الوحدة الرابعة أ: عهود البغيلي
مراجعة وتنسيق : ر.ق مدرسة رقية بنت محمد : جليله الدغيم اشراف عام : الموجه الفني : حمد ابراهيم البحوه

٦- أسباب مشكلة التصحر:

طبيعية	بشرية
.....

٧- أسباب مشكلة التصحر في الكويت :

طبيعية	بشرية
.....
.....

٨- أقسام ندرة المياه :

ندرة مادية	ندرة معنوية
.....
.....

٩- الأسباب الطبيعية والبشرية للاحتباس الحراري للأرض

طبيعية	بشرية
.....
.....

١٠- مفاهيم كل مما يلي:

التلوث الضوضائي المؤقت	التلوث الضوضائي المزمّن	التلوث الضوضائي

١- التلوث البيئي :

٢- التلوث الهوائي:

٣- التلوث المائي:

٤- تلوث التربة:

٥- التصحر:

٦- ندرة المياه :

٧- الأمن المائي:

٨- الاحتباس الحراري:

٥) اكتب فيما درست حول :

١/ كيفية ضمان استمرارية المياه العذبة في دول مجلس التعاون لدول الخليج العربي

أ)
ب)

٢ / حلول ظاهرة الاحتباس الحراري

أ)
ب)

٣ / حلول فردية يقوم بها السكان لتقليل من ظاهرة الاحتباس الحراري

أ)
ب)
ج)
د)

٤ / تعرضت دولة الكويت للتلوث الهوائي والمائي

(٦) علل / اذكر السبب :

١- يعتبر التلوث المائي أشد أنواع التلوث خطرا

٢- التربة هي أساس للمستقبل المستدام لكوكب الأرض
حددت منظمة الأغذية والزراعة للأمم المتحدة fao التربة أساس لكوكب الأرض

٣. يعتبر الضوضاء شكل من أشكال التلوث البيئي الذي يصعب تجنبه

٤. الاهتمام الدولي لحل مظاهر التصحر

٥. فقد أرض دولة الكويت لقدرتها الإنتاجية وخصوبتها.

٦. ندرة المياه على كوكب الأرض

٧. تعد عملية تحلية البحر أفضل من عملية نقل المياه إلى الخارج

٨. اطلاق اسم الغازات الدفيئة على ثاني أكسيد الكربون والميثان

٩. الاهتمام العالمي بالتغيرات المناخية وخاصة الاحتباس الحراري

١٧ / لاحظ الشكل المقابل ، ثم أجب عن الأسئلة التالية :



(١) أكمل العبارات التالية بما يناسبها :
الشكل المقابل يمثل نوع من أنواع التلوث المدمر

.....
مكان الحدث : ..
النتائج المترتبة عليه



(٢) أكمل العبارات التالية بما يناسبها :
الشكل المقابل يمثل
اذكر اثنين من أضرارها

.....
.....

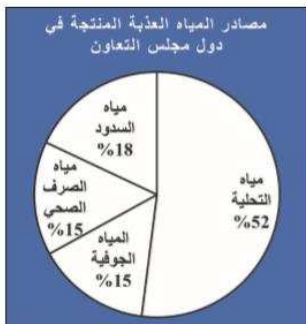


(٣) أكمل العبارات التالية بما يناسبها :

- تعرضت مياه الخليج العربي للتلوث عام

- أسباب تلوث مياه الخليج العربي

- نتائج تلوث مياه الخليج العربي



(٤) أكمل العبارات التالية بما يناسبها :

- الشكل المقابل يمثل

.....
يمثل انتاج مياه التحلية نسبة

تشير نسبة ١٨ ٪ الى

اعداد : الوحدة الاولى أ: عالية الدواس / الوحدة الثانية أ: هدى المطيري / الوحدة الثالثة أ: بشاير ملك / الوحدة الرابعة أ: عهود البغيلي
مراجعة وتنسيق : ر.ق مدرسة رقية بنت محمد : جليله الدغيم
اشراف عام : الموجه الفني : حمد ابراهيم البحوه

٨) ضع عنوانا مناسباً لـ... (الصور التالية :



.....

.....

.....



.....

١٦) لاحظ الصورة التي أمامك ، ثم أكتب الحدث التاريخي الدال عليها :

.....
.....



الوجه المقارنة	التلوث الهوائي	التلوث المائي	تلوث التربة	التلوث الضوضائي
مصادر
أضراره

أسباب ندرة المياه	مظاهرها	كيفية المحافظة على المياه
.....

اعداد : الوحدة الاولى أ: عالية الدواس / الوحدة الثانية أ: هدى المطيري / الوحدة الثالثة أ: بشاير ملك / الوحدة الرابعة أ: عهد البغيلي
مراجعة وتنسيق : ر.ق مدرسة رقية بنت محمد : جليله الدغيم
اشراف عام : الموجه الفني : حمد ابراهيم البحوه



١. أكمل العبارات التالية بما يناسبها فيما درست :

- ١- عدد الدول التي ساهمت ضمن قوات التحالف لتحرير دولة الكويت بلغ
- ٢- نظام تحديد المواقع العالمي مبني على الأقمار الصناعية
- ٣- التجارة الدولية تساعد على نقل الملوثات من مناطق الإنتاج الى
- ٤- الهجرة الدولية تتمثل بالهجرة المتزايدة من البلدان النامية الى البلدان
- ٥- منظمة الدول المصدرة للنفط هي
- ٦- تقدم دولة الكويت المساعدات المالية لمختلف دول العالم من خلال
- ٧- أكبر الدول المانحة في العالم. قدمت العديد من المنح للدول النامية اسمها
- ٨- منظمة دولية تهدف الى رفع مستوى التعاون بين دول العالم في مجال التربية والتعليم والثقافة هي
- ٩- الوكالة اليابانية للتعاون الدولي هي الجهة الرسمية لتقديم المساعدات في الدولة واسمها



٢. ظلل الخيار الصحيح من بين الخيارات التي تلي كل عبارة :

١ / كافة التفاعلات الدولية وحركات الشعوب وتبادل السلع والأفكار وتشمل العلاقات السياسية والاقتصادية والاجتماعية والثقافية			
أ- العلاقات الدولية	ب- السياسات الدولية	ج- التعاون الدولي	د- العلاقات الاجتماعية
٢ / عدد الدول التي ساهمت ضمن قوات التحالف لتحرير دولة الكويت			
أ- ٣٣	ب- ٣٤	ج- ٣٥	د- ٣٦
٣ / النشاط الموجه نحو الخارج لمعالجة مشاكل ما وراء الحدود وأخرى ضمن الحدود			
أ- السياسة الدولية	ب- السياسة الخارجية	ج- الدبلوماسية	د- التعاون الدولي
٤ / منظمة الدول المصدرة للنفط			
أ- اليونسكو	ب- الأوبك	ج- GPS	د- الأوبك
١٠ - أكبر الدول المانحة في العالم. قدمت العديد من المنح للدول النامية اسمها			
أ- أمريكا	ب- بريطانيا	ج- اليابان	د- هولندا

٣) اكتب المفاهيم أو المصطلحات الدالة على العبارات التالية :

المفهوم أو المصطلح	العبرة
١-	نظام تحديد المواقع العالمي مبني على الأقمار الصناعية
٢-	منظمة الدولة المصدرة للنفط
٣-	جهود مبذولة بين دول العالم من « أجل تحقيق مصلحة الدول المتعاونة وفي سبيل تحقيق الأمن والسلم الدوليين ومواجهة التحديات السياسية والاجتماعية والاقتصادية والأمنية »
٤-	هي عبارة عن تقديم قروض او منح مالية او تبديل دين
٥-	هي تقديم الدعم المباشر للمشروعات الوطنية بالاستعانة بالجهات الخارجية من اجل تطوير وتحسين خدمات الدولة
٦-	يقصد بها المعونات الاغاثية والغذائية المباشرة التي تلجأ الدول اليها في الحالات الخاصة
٧-	هي احدى هم لمنظمات التي تهدف الى المساهمة في رفع مستوى التعاون بين دول العالم في مجال التربية والتعليم

العلاقات الدولية	العلاقات السياسية الدولية	العلاقات الاقتصادية الدولية	العلاقات الاجتماعية الدولية
.....
.....
.....
.....

السياسة الخارجية	الدبلوماسية
.....
.....

(٤) أكمل المخططات السهمية التالية:

١/ طرق التواصل في العلاقات الدولية



الأسئلة المقالية : ف

(١) فرق بين كل مما يلي :

- ١- طرق تواصل العلاقات الدولية المباشرة والغير مباشرة -

العلاقات الدولية المباشرة	العلاقات الدولية الغير مباشرة
.....

٢- التجارة الدولية من حيث المميزات والعيوب

عيوب التجارة الدولية	مميزات التجارة الدولية
١-	١-
٢-	٢-
٣-	٣-

٣- التعاون الدولي من حيث المساعدات المالية والمساعدات الطارئة

مساعدات مالية	مساعدات طارئة	مساعدات فنية:
.....

(٢) علل (اذكر السبب) :

١/ نشأة الحركة التجارية بين الدول:

-
-

٢/ للإنترنت لأهمية في التقدم العلمي والتكنولوجي

-
-

٣/ تساهم التجارة الدولية في تلوث البيئة عالميا

-

٤/ حوالي ثلث إجمالي إنتاج الغذاء ينتهي إلى التعفن في صناديق المستهلكين والتجار

-

٥/ أسباب نقص الغذاء كل عام

-

(٣) عدد :

أ/ أوجه التعاون بين دولة الكويت والحكومات الأخرى.

..... (ب).....

ب/ العوامل المؤثرة على العلاقات السياسية بين الدول

..... (ب).....

ج/ اهداف السياسة الخارجية.

..... (ب).....

..... (ج).....

د. أدوات تنفيذ السياسة الخارجية

..... (ب).....

..... (ج).....

هـ العوامل المؤثرة في العلاقات الاقتصادية الدولية

..... (ب).....

..... (ج).....

و- أشكال العلاقات الاجتماعية الدولية تقوم حكومة دولة الكويت

..... (ب).....

..... (ج).....

ي- أشكال المساعدات التي يمثلها التعاون الدولي لتعزيز التنمية الاجتماعية

..... (ب).....

(٤): اكتب ما تعرفه عن:

أ) مشكلات الهجرة الدولية

.....

ب) دور دولة الكويت في الميدان الثقافي

..... (ب).....

ب) الهدف من انشاء المنظمات الدولية في ميدان الثقافة والتعليم

..... (ب).....

«إننا نتطلع إلى مزيد من العمل المشترك في المنظمات الإقليمية والدولية لتحقيق الأهداف التي نؤمن بها معا لتحقيق عالم يسوده الأمن والاستقرار، وتحقيق فيه تنمية مستدامة»

١) من قائل الخطاب؟

٢) ما السياسة التي تحرص دولة الكويت على انتهاجها لاستقرار الاقتصاد

«التعاون بن دول وشعوب العالم لبناء مصالح مشتركة قائمة على مبادئ لا تحيد عنها هي عدم التدخل في شؤون الآخرين والحفاظ على حسن الجوار والتمسك بقواعد الشرعية الدولية وأسس القانون الدولي وصولا إلى الحفاظ على الأمن والسلم الدوليين والسعي دوما لمد يد العون للدول وتقديم المساعدات الإنسانية لكل محتاج في مختلف بقاع الأرض عبر الصندوق الكويتي للتنمية الاقتصادية العربية الذراع الرئيسي للدبلوماسية الكويتية فضلا عن المؤسسات الخيرية الكويتية الأخرى مستلهمة بذلك مبادئ ديننا الإسلامي الحنيف والإرث الكبير للأجيال السابقة من أهل الكويت وقيمنا العربية السامية الداعية إلى التآلف والمحبة وتبادل المنافع واستحق بذلك بلدنا وبكل جدارة تسميته مركزا للعمل الإنساني».

١) من قائل الخطاب؟

ب) اكتب مبادئ السياسة الخارجية لدولة الكويت

ج) مهاو الذراع الرئيسي للدبلوماسية الكويتية؟

د) علل تسميته الكويت مركزا للعمل الإنساني

اعداد : الوحدة الاولى :أ.عالية الدواس / الوحدة الثانية:أ. هدى المطيري / الوحدة الثالثة: أ. بشاير ملك / الوحدة الرابعة: أ. عهود البغيلي
مراجعة وتنسيق : ر.ق مدرسة رقية بنت محمد : جليله الدغيم
اشراف عام : الموجه الفني :حمد ابراهيم البحوه

أدوات تنفيذ السياسة الخارجية



شكل رقم (٨٣) استخدام القوة السياسية



شكل رقم (٨٤) الدبلوماسية



شكل رقم (٨٥) المونيات الخارجية



شكل رقم (٨٦) استخدام وسائل الإعلام



أحد أنشطة منظمة الأمم المتحدة للطفولة (اليونسكو)
شكل رقم (٩٦)



مبادرة كويتية لإنشاء مدرسة في دولة نامية
شكل رقم (٩٧)



شكل رقم (٨٠)

الوفاء السفير الأسترالي جيلبرت يمدبريت يمدبريت عام معهد الكويت للأبحاث
العلمية لتناقشة سبل التعاون العلمي والبيئي لتطبيق رؤية الكويت
لعام ٢٠٣٥



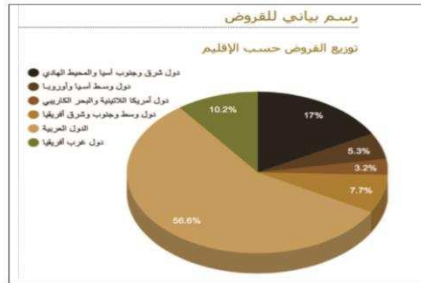
شكل رقم (٨١)

الوفاء وزير الدفاع البريطاني مايكل فالكون بوزير الدفاع الكويتي
الشيخ نasser الصباح بهدف تعزيز التعاون العسكري بين المملكة
الكويتية ودولة الكويت



شكل رقم (٨٢)

زيارة السفير الأمريكي سيجفريد مانديت لجمعية الجهاد الوطنية حيث تم توفير
المعدات والتأثيرات الطبية الأمريكية



شكا ، قـ (٩٤) دائرة سائنة ضد الفـ ضـ التـ يقدمها الصندوق



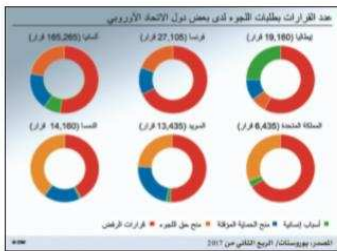
شكل رقم (٧٨) يوضح العلاقات الدولية غير المباشرة



شكل رقم (٧٧) يوضح العلاقات الدولية المباشرة



شكل رقم (٩٠) أكثر الدول تلوثاً



شكل رقم (٩١) رسم بياني لطلبات اللجوء



شكل رقم (٩٣)

نسب استهلاك الطاقة في العالم - المصدر أهداف التنمية المستدامة،
الأمم المتحدة

أهداف التنمية المستدامة

