

تم تحميل هذا الملف من موقع ملفات الكويت التعليمية



[com.kwedufiles.www//:https](https://www.kwedufiles.com)

\*للحصول على أوراق عمل لجميع الصفوف وجميع المواد اضغط هنا

\* للحصول على أوراق عمل لجميع مواد الصف الثامن اضغط هنا

<https://kwedufiles.com/8>

\* للحصول على جميع أوراق الصف الثامن في مادة اجتماعيات ولجميع الفصول, اضغط هنا

<https://kwedufiles.com/8social>

\* للحصول على أوراق عمل لجميع مواد الصف الثامن في مادة اجتماعيات الخاصة بـ الفصل الأول اضغط هنا

<https://www.kwedufiles.com/8social1>

\* لتحميل كتب جميع المواد في جميع الفصول للـ الصف الثامن اضغط هنا

<https://www.kwedufiles.com/grade8>

\* لتحميل جميع ملفات المدرس منطقة مبارك الكبير التعليمية اضغط هنا

[bot\\_kwlinks/me.t//:https](https://t.me/bot_kwlinks)

للحصول على جميع روابط الصفوف على تلغرام وفيسبوك من قنوات وصفحات: اضغط هنا

الروابط التالية هي روابط الصف الثامن على مواقع التواصل الاجتماعي

مجموعة الفيسبوك

صفحة الفيسبوك

مجموعة التلغرام

بوت التلغرام

قناة التلغرام

رياضيات على التلغرام



وزارة التربية

الإدارة العامة لمنطقة مبارك الكبير التعليمية

كنترول مبارك الكبير

امتحانات الفصل الدراسي الأول  
٢٠٢٠ / ٢٠١٩

الصف	الثامن
المادة	الاجتماعيات



وزارة التربية 	نموذج إجابة امتحان نهاية الفصل الدراسي الأول	العام الدراسي : ٢٠١٩ / ٢٠٢٠
التوجيه الفني للاجتماعيات	لمقرر دولة الكويت والعالم الإسلامي	الزمن : ساعة و ٤٥ دقيقة
الإدارة العامة لمنطقة مبارك الكبير التعليمية	للفصل الثامن	عدد الأوراق : ٥

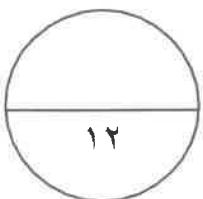
### السؤال الأول موضوعي: يتكون من ( أ - ب ) .

#### ( أ ) : أكمل العبارات التالية بما يناسبها مما درست :-

( ٦ درجات لكل نقطة درجة )

- ١- انطلق شعاع الحضارة الإسلامية في بقاع الأرض في كافة الميادين في القرن الثامن الميلادي ص ١٧
  - ٢- العالم الذي قام بكتابة كتاب الصيدلة في الطب يسمى البيروني ص ١٩
  - ٣- من أشهر السهول في دولة الكويت و الذي يمتد من جون الكويت باتجاه الجنوب سهل يسمى برقان ص ٥٨
  - ٤- مدينة في خراسان تم إنشاء ديوان الماء فيها تسمى مرو ص ٢٧
  - ٥- الإقليم المناخي الذي تقع من ضمنه دولة الكويت اسمه الصحراوي ص ٦٣
  - ٦- أمير دولة الكويت الذي تم بعهده افتتاح المسجد الكبير اسمه الشيخ جابر الأحمد الصباح ( رحمه الله ) ص ٣١
- ( ب ) اختر البديل المناسب من بين البدائل التي تلي كل عبارة بوضع خطأ تحتها :- ( ٦ درجات لكل نقطة درجة )

- ١- العام الذي أصدرت فيه الجمعية العامة للأمم المتحدة قرارا بإدخال اللغة العربية ضمن اللغات الرسمية . ص ٢١
- ١٩٥٣ م - ١٩٦٣ م - ١٩٧٣ م - ١٩٨٣ م
- ٢- استحدثت الخليفة الراشد الثاني عمر بن الخطاب منصب إداري جديد يلقب بـ . ص ٢٥
- الوالي - الوزير - القاضي - المحتسب
- ٣- حوض أو منخفض طبيعي على سطح الأرض . ص ٥٣
- السهول - الجبل - التل - الوادي
- ٤- الخليفة العباسي الذي شجع على العلم وحركة الترجمة . ص ٣٧
- هشام بن عبد الملك - المأمون - معاوية بن ابي سفيان - عبد الملك بن مروان
- ٥- لقب الشيخ صباح الأحمد الصباح بقائد العمل الإنساني في عام . ص ٢٤
- ٢٠١٤ م - ٢٠١٥ م - ٢٠١٦ م - ٢٠١٧ م
- ٦- إحدى الدول الأوروبية التالية تعتبر من دول العالم الإسلامي . ص ٥١
- ألمانيا - أسبانيا - ألمانيا - إيطاليا



السؤال الثاني موضوعي: يتكون من ( أ - ب ) .

( أ ) : أكمل المخططات السهمية التالية :-

( ٦ درجات لكل نقطة درجة )

مميزات المظاهر العمرانية في الحضارة الإسلامية ص ٣٠

المنابر

الأسوار/الزخارف

القباب / المآذن

للحضارة الإسلامية فضل في النهضة الأوروبية في عدد من المجالات ص ٤٢ و ٤٣

مجال الجغرافيا

مجال استخراج المياه الجوفية

مجال الفلسفة

أهم العمائر المدنية في العالم الإسلامي ص ٣٤ و ٣٥

قصر الرصافة

قصر عمرة / قصر الحمراء

قصر الخضراء

( ٦ درجات لكل نقطة درجة )

( ب ) صوب ما تحته خط في العبارات التالية :-



م	العبارات	التصويب
١	الدولة الإسلامية التي احتلت المركز الثاني على مستوى العالم في الإنتاج البحري <u>المغرب</u>	<u>أندونيسيا ص ٧٤</u>
٢	الدولة الإسلامية التي تحتل المركز الأول في إنتاج معدن الذهب <u>جمهورية مالي</u>	<u>أوزباكستان ص ٧٠</u>
٣	العالم الذي قام بتأليف كتاب نزهة المشتاق في اختراق الآفاق هو <u>أبو بكر الرازي</u>	<u>الإدريسي ص ٤٢</u>
٤	تقع دول العالم الإسلامي ضمن <u>ثلاث قارات</u>	<u>أربع قارات ص ٥١</u>
٥	يبلغ إنتاج العالم الإسلامي من الحبوب حوالي ١٠٪ من جملة الإنتاج العالمي	<u>١٤٪ ص ٧٢</u>
٦	سلسلة جبلية تقع في قارة أوروبا ضمن الدول الإسلامية تعرف باسم سلسلة <u>جبال أطلس</u>	<u>جبال الألب الدينارية ص ٥٤</u>

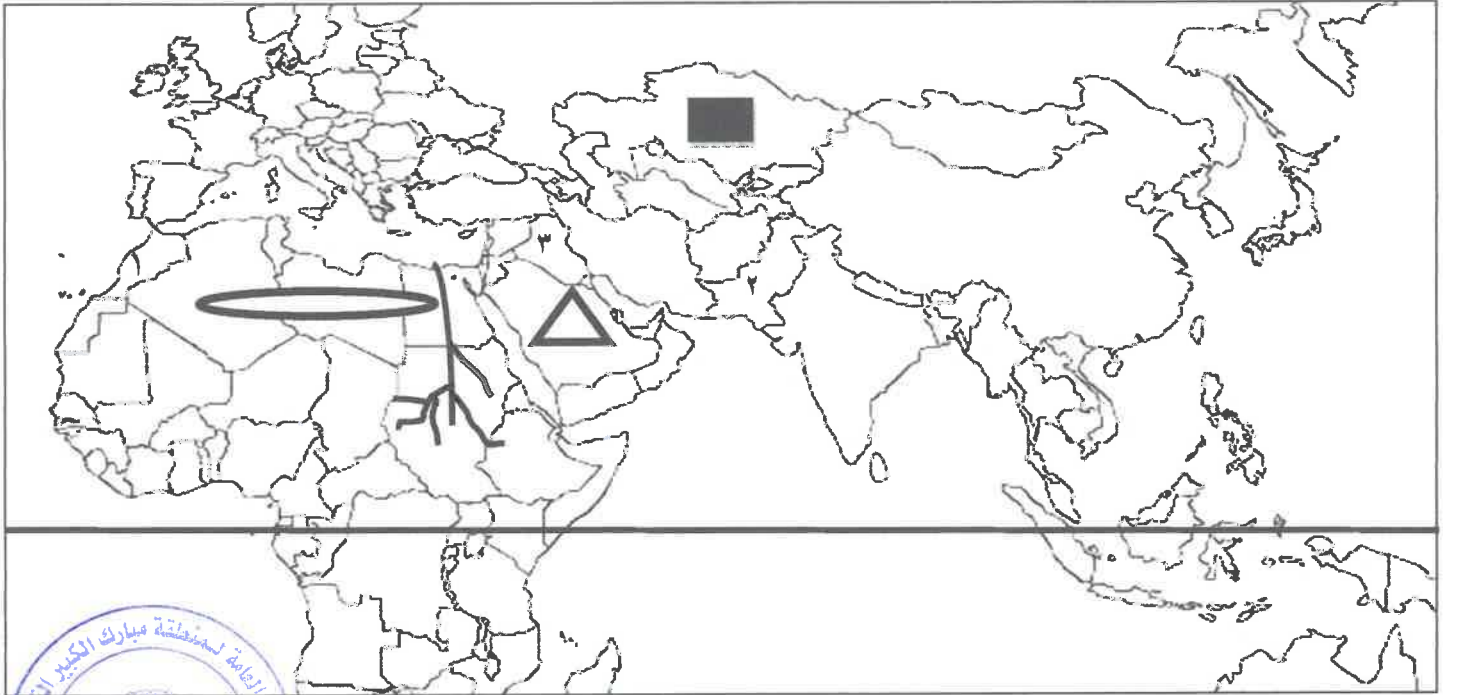
السؤال الثالث موضوعي: يتكون من ( أ - ب ) .

( أ ) : صنف أسماء المساجد التالية حسب موقعها في العالم الإسلامي في الجدول الذي يليها : ص ٣٢ و ٣٣  
( ٦ درجات لكل نقطة درجة )

( المسجد النبوي - مسجد السلطان أحمد - جامع الزيتونة - جامع قرطبة - جامع الأزهر - المسجد الأقصى )

اسم الدولة / المدينة	إسطنبول	الأندلس	تونس	المدينة المنورة	القدس	القاهرة
اسم المسجد	<u>مسجد السلطان أحمد</u>	<u>جامع قرطبة</u>	<u>جامع الزيتونة</u>	<u>المسجد النبوي</u>	<u>المسجد الأقصى</u>	<u>جامع الأزهر</u>

( ب ) : لاحظ خريطة العالم الإسلامي الصماء ، ثم أجب عن الأسئلة التي تليها :- ( ٦ درجات لكل نقطة درجة )



١- ضع رمز  على هضبة أفريقيا الشمالية . ص ٥٦

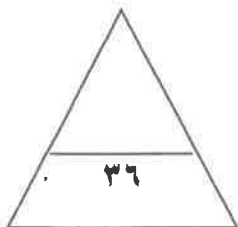
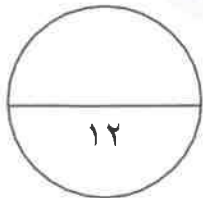
٢- ضع رمز  على الدولة التي انطلقت منها الحضارة الإسلامية . ص ١٧

٣- ضع رمز  على أكبر دولة إسلامية . ص ٥٢

٤- ارسم سهول نهر النيل في موقعة الصحيح على الخريطة . ص ٥٩

٥- من أهم المراكز العلمية للحضارة الإسلامية بيت الحكمة يمثلته الرقم ٣ ص ٣٨

٦- ارسم خط الاستواء في موقعه الصحيح على الخريطة ص ٦٣



مجموع درجات السؤال الأول

( ٣ )

السؤال الرابع مقال: يتكون من ( أ - ب ) .

( ٤ درجات لكل نقطة درجة )

( أ ) : فرق من حيث المفهوم بين كلاً من :-

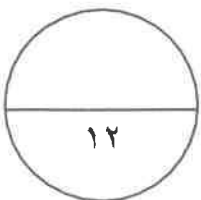
المناخ ص ٦٤	الطقس ص ٦٤
هو حالة الجو خلال فترة زمنية طويلة من حيث عناصره وهي درجة الحرارة والرطوبة والأمطار والضغط الجوي	هو حالة الجو في مكان لمدة قصيرة تتراوح بين يوم أو عدة أيام من حيث عناصره وهي درجة الحرارة والرطوبة والأمطار والضغط الجوي

الخراج ص ٢٨	الجزية ص ٢٩
ضريبة الأرض الزراعية التي تخرج مبلغاً مالياً معيناً من ناتج المحصول الزراعي	مبلغ من المال يدفعه الرجال من غير المسلمين من (أهل الذمة) ممن هم قادرون على حمل السلاح نظير حماية الدولة لهم

( ٨ درجات لكل نقطة درجة )

( ب ) : أجب عن الأسئلة التالية :-

- ١- جهود المسلمين في الزراعة . ص ٢٦  
- شق القنوات المائية / إقامة السدود  
- تنظيم وسائل الري
- ٢- العوامل التي أدت إلى ازدهار العلم وظهور العلماء . ص ٣٧  
- تشجيع العلماء ورعاية وتمويل القيادات السياسية لهم من خلفاء وملوك وسلطانين وأمرأء /  
- التنافس العلمي بين الدول الإسلامية / حركة التعريب ( الترجمة ) للكتب القديمة اليونانية والهندية والفارسية .. إلخ / الرخاء الاقتصادي
- ٣- العوامل التي لعبت دوراً في تنوع المناخ في دول العالم الإسلامي . ص ٦٣  
- امتداد دول العالم الإسلامي على مساحة شاسعة / الموقع بالنسبة لدوائر العرض  
- الإطلالة على عدة مسطحات مائية في معظم أجزائه / التنوع في التضاريس من جبال و هضاب و سهول و
- ٤- مراكز إشعاع الحضارة الإسلامية إلى أوروبا . ص ٤١  
- بلاد الأندلس / جزيرة صقلية  
- بلاد الشام





السؤال الخامس مقال: يتكون من ( أ - ب - ج ) .

( أ ) : عرف المفاهيم التالية :-

( ٢ درجات لكل نقطة درجة )

- ١- الهضبة : ارض مرتفعة سطحها مستو ، وتمتد في مساحة واسعة ص ٥٦
- ٢- الجوت: هونبات ينمو في المناطق الاستوائية و الموسمية تؤخذ أغصانه وتوضع تحت الماء وتطمر بالطين وبعد أيام يستخرج وتعزل ويصنع منها الحبال و الأحذية و الحقائب و الأقمشة الخشنة ص ٧٣

( ب ) علل لما يلي ( اذكر السبب ) :-

( ٥ درجات لكل نقطة درجة )

- ١- تعتبر المناطق السهلية أكثر المناطق التضاريسية جذبا للسكان . ص ٥٨
- استخدامها كموانئ طبيعية / تشيد المدن / تركز السكان فيها لسهولة التنقل
- ٢- اجتمع المسلمون في سقيفة بني ساعدة بعد وفاة الرسول صلى الله عليه وسلم . ص ٢٥
- لاختيار أول خليفة للمسلمين عن طريق الشورى
- ٣- سميت الزكاة بهذا الاسم . ص ٢٨
- لأنه فيها تزكية للنفس وتطهيرها
- ٤- تركزت زراعة الأرز في ماليزيا و باكستان و إندونيسيا و بنغلادش . ص ٧٣
- بسبب المناخ الملائم / توفر المياه / التربة الخصبة
- ٥- سميت مرتفعات الحجاز بهذا الاسم . ص ٥٥
- لأنها تحجز بين سهل تهامة في الغرب عن هضبة نجد في الشرق

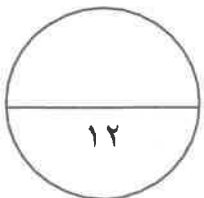


( ج ) : أقرأ الفقرة التالية ثم أجب عما يليها من الأسئلة :-

( ٥ درجات لكل نقطة درجة )

" للحضارة الإسلامية أسس قوية ثابتة جعلتها حضارة عالمية شاملة مرنة واستفادت منها العديد من الشعوب على مدار التاريخ ."

- ١- عرف ما تحته خط . ص ١٨
- هي كل ما يطرأ على المجتمع من تقدم وتطور و رقي سواء في الجانب المادي أو الروحي
- ٢- أسس الحضارة الإسلامية . ص ٢٠
- الدين الإسلامي / اللغة العربية
- الحضارات الأخرى
- ٣- عدد خصائص الحضارة الإسلامية . ص ٢٢ و ٢٣
- حضارة تسامح / حضارة إيمان و عمل / حضارة إنسانية
- حضارة عالمية / حضارة شمولية



( ٥ )

انتهت الأسئلة ..... تمنياتنا بالتوفيق والنجاح