

تم تحميل هذا الملف من موقع ملفات الكويت التعليمية



[com.kwedufiles.www//:https](https://www.kwedufiles.com)

*للحصول على أوراق عمل لجميع الصفوف وجميع المواد اضغط هنا

* للحصول على أوراق عمل لجميع مواد الصف الثامن اضغط هنا

<https://kwedufiles.com/8>

* للحصول على جميع أوراق الصف الثامن في مادة علوم ولجميع الفصول, اضغط هنا

<https://kwedufiles.com/8science>

* للحصول على أوراق عمل لجميع مواد الصف الثامن في مادة علوم الخاصة بـ الفصل الأول اضغط هنا

<https://www.kwedufiles.com/8science1>

* لتحميل كتب جميع المواد في جميع الفصول للـ الصف الثامن اضغط هنا

<https://www.kwedufiles.com/grade8>

* لتحميل جميع ملفات المدرس قسم العلوم اضغط هنا

[bot_kwlinks/me.t//:https](https://t.me/bot_kwlinks)

للحصول على جميع روابط الصفوف على تلغرام وفيسبوك من قنوات وصفحات: اضغط هنا

الروابط التالية هي روابط الصف الثامن على مواقع التواصل الاجتماعي

مجموعة الفيسبوك

صفحة الفيسبوك

مجموعة التلغرام

بوت التلغرام

قناة التلغرام

رياضيات على التلغرام

وزارة التربية

ممنطقة الجهراء التعليمية

مدرسة عبد اللطيف سعد الشمال المتوسطة بنين

قسم العالوم



بنك اسئلة الصف الثامن المتوسط

الفصل الدراسي الأول (نموذج الاجابة)

٢٠٢٠ / ٢٠١٩

إعداد

قسم العلوم

مدير المدرسة

أ/ بدر سماح الشمري

الموجه الفني

أ/ مبارك الظفيري

رئيس القسم

أ/ سعيد التلاوي

السؤال الأول - اختر الإجابة العلمية الصحيحة من الإجابات التالية

١- حالة المادة التي تكون فيها جزيئات المادة مترابطة وتتحرك حركة اهتزازية

☒ الصلبة ☐ السائلة ☐ الغازية ☐ البلازما

٢- تتميز جزيئات المادة في الحالة الغازية الغازات بأنها

☐ مترابطة ☒ مترابطة ☐ المسافات بينها كبيرة ☐ المسافات البينة قريبة جدا

٣- يعتبر عنصر من المواد رديئة التوصيل للتيار الكهربائي

☒ الكربون ☐ النحاس ☐ الألومنيوم ☐ الحديد

٤- عندما يتم تسخين المادة الصلبة فإنها تتحول لسائل وبالتالي

☒ تتحرك الجزيئات أسهل ☐ تتحرك الجزيئات أصعب ☐ تتقارب الجزيئات ☐ لا يحدث شيء

٥- أصغر جسيم لعنصر ما له خواص العنصر.

☐ الإلكترون ☐ النواة ☐ البروتون ☒ الذرة

٦- مركز الذرة حيث تتواجد البروتونات .

☐ الإلكترون ☒ النواة ☐ النيوترون ☐ البروتون

٧- جسيم في الذرة له شحنة كهربائية موجبه .

☐ النيوترون ☐ الإلكترون ☐ النواة ☒ البروتون

٨- جسيم في الذرة لا شحنة له .

☐ النواة ☐ الإلكترون ☐ البروتون ☒ النيوترون

٩- جسيم في الذرة له شحنة كهربائية سالبه

☐ النواة ☐ البروتون ☐ النيوترون ☒ الإلكترون

١٠- جزيئات المادة التي تتحرك حركة اهتزازية

☒ صلبة ☐ سائلة ☐ غازية ☐ بلازما

١١ أحد العناصر التالية عنصر خامل المستوى الخارجي يحتوي على ٨ إلكترونات

${}^6\text{C}$ ☐

${}^9\text{F}$ ☐

${}^7\text{N}$ ☐

${}^{10}\text{Ne}$ ☒

١٢ عدد الدورات في الجدول الدوري .

28 ☐

7 ☒

8 ☐

2 ☐

١٣ عدد المجموعات في الجدول الدوري .

32 ☐

18 ☒

8 ☐

2 ☐

١٤ - يتشبع المستوى الرئيسي الأول بعدد إلكترون

32 ☐

18 ☐

8 ☐

2 ☒

١٥ - يتشبع المستوى الرئيسي الثالث بعدد إلكترون

32 ☐

18 ☒

8 ☐

2 ☐

السؤال الثاني :- اكتب بين القوسين الاسم أو المصطلح العلمي الدال على كل عبارة من العبارات التالية .

١- أصغر جسيم لعنصر ما له خواص العنصر. (**الذرة**)

٢- مركز الذرة حيث تتواجد البروتونات والنيوترونات . (**النواة**)

٣- جسيم في الذرة له شحنة كهربائية موجبة . (**البروتونات**)

٤ - جسيم في الذرة لا شحنة له . (**النيوترونات**)

٥- جسيم في الذرة له شحنة كهربائية سالبة. (**الإلكترونات**)

٦- عدد البروتونات التي توجد داخل النواة (**العدد الذري**)

٧- مجموع لأعداد البروتونات والنيوترونات داخل نواة العنصر (**العدد الكتلي**)

٨- صف أفقي من الجدول الدوري (**الدورة**)

٩- عمود رأسي من الجدول الدوري (**المجموعة**)

١٠ - ذرة فقدت أو اكتسبت إلكترون للوصول لحالة الاستقرار (**الأيون**)

- ١١ - قوة التماسك التي تربط الذرات أو الأيونات مع بعضها البعض (**الروابط الكيميائية**)
- ١٢ - قوة التجاذب الكهربائي الساكن بين الأيونات المختلفة في الشحنة (**الرابطة الأيونية**)
- ١٣ - تفسير الروابط الكيميائية بين الذرات والايونات وتتكون روابط جديدة بين الذرات والايونات المختلفة (**التفاعل الكيميائي**)
- ١٤ - تفاعلات يصاحبها انطلاق طاقة حرارية (**تفاعلات طاردة للحرارة**)
- ١٥ - تفاعلات يصاحبها امتصاص طاقة حرارية (**تفاعلات ماصة للحرارة**)
- ١٦ - مجموع كتل المواد الداخلة يساوي مجموع كتل المواد الناتجة (**قانون بقاء الكتلة**)
- ١٧ - تعبير موجز يمثل التفاعل الكيميائي وصفا وكما (**المعادلة الكيميائية**)

ب- في الرسم المقابل أكمل البيانات

26	→	العدد الذري
Fe	←	رمز العنصر
الحديد	→	اسم العنصر
Iron	→	
55.847	←	الكتلة الذرية

السؤال الثالث :- اكتب كلمة صحيحة بين القوسين أو خاطئة أمام العبارات التالية

- ١- تتركز كتلة الذرة في النواة (**صحيحة**)
- ٢- العدد الذري هو عدد البروتونات (**صحيحة**)
- ٣- المسافة بين جزيئات الماء أقل من المسافة بين جزيئات الثلج (**خطأ**)
- ٤- خواص المواد تعتمد على خواص الجزيئات (**صحيحة**)
- ٥- عناصر المجموعة الثامنة تكون روابط تساهمية (**خطأ**)
- ٦- حجم الايون الموجب أكبر من حجم الذرة (**خطأ**)
- ٧- المادة المساعدة تدخل في التفاعل الكيميائي (**خطأ**)
- ٨- عدد الدورات بالجدول تسع دورات (**خطأ**)
- ٩- صدأ الحديد من التغيرات الكيميائية السريعة (**خطأ**)
- ١٠- الرابط الأيونية تتم بين الفلزات واللافلزات (**صحيحة**)
- ١١- العناصر بالجدول الدوري مرتبة حسب الزيادة بالعدد الذري (**صحيحة**)

السؤال الرابع :- علل لما يأتي

- ١- الذرة متعادلة كهربائياً
..... لأن عدد الشحنات الموجبة يساوي عدد الشحنات السالبة
- ٢- نواة الذرة موجبة
..... لأنها تحتوي على بروتونات موجبة ونيوترونات متعادلة الشحنة
- ٣- اشتعال شريط الماغنسيوم طارد للحرارة
..... لأنه يصاحبه انطلاق طاقة حرارية
- ٤- ذرات الغازات النبيلة لا تكون روابط كيميائية
..... لأن المستوى الخارجي مكتمل
- ٥- عناصر المجموعة الواحدة تتشابه بالخواص الكيميائية
..... لأن لها نفس العدد من الكترونات التكافؤ
- ٦- انتشار رائحة العطر بسرعة في اتجاه الغرفة من زجاجة ساعة
..... لأن جزيئات الغاز تتحرك حركة عشوائية في جميع الإتجاهات

السؤال الخامس :- اختر العبارة المناسبة من المجموعة ب واكتب رقمها امام المجموعة أ

رقم مناسب	أ	ب
(١) (٢)	مادة لها شكل ثابت وحجم ثابت مادة لها شكل ثابت وحجم متغير	١- الحالة الصلبة ٢- الحالة السائلة ٣- الحالة الغازية
(١) (٢)	عدد البروتونات في الذرة مجموع أعداد البروتونات والنيوترونات	١- العدد الذري ٢- العدد الكتلي ٣- عدد النيوترونات
(١) (٣)	تفاعل طارد للحرارة تفاعل ماص للحرارة	١- حرق الفحم ٢- انصهار الثلج ٣- ذوبان قرص الفوار
(١) (٢)	العناصر التي توجد على يسار الجدول العناصر التي توجد على يمين الجدول	١- الفلزات ٢- اللافلزات ٣- أشباه الفلزات
(٢) (١) (٣)	جسيمات تحمل شحنة سالبة تدور حول النواة جسيمات تحمل شحنة موجبة توجد داخل النواة جسيمات تحمل شحنة متعادلة الشحنة	١- البروتونات ٢- الإلكترونات ٣ - النيوترونات

السؤال السادس :- ماذا تتوقع أن يحدث

- ١- وضع قطرة من الحبر في كأس به ماء
.....ينتشر الحبر في الماء.....
- ٢- عند وضع ٥٠ سم من الماء مع ٤٠ سم من الكحول
.....يتكون حجم أقل من ٩٠ سنتيمتر مكعب.....
- ٣- عندما تفقد الذرة إلكترون
.....تتحول إلى أيون موجب.....
- ٤- عندما تكتسب الذرة إلكترون
.....تتحول إلى أيون سالب.....
- ٥- إضافة عامل حفاز
.....تزيد سرعة التفاعل الكيميائي.....
- ٦- عند رفع درجة الحرارة لتفاعل كيميائي
.....تزيد سرعته.....

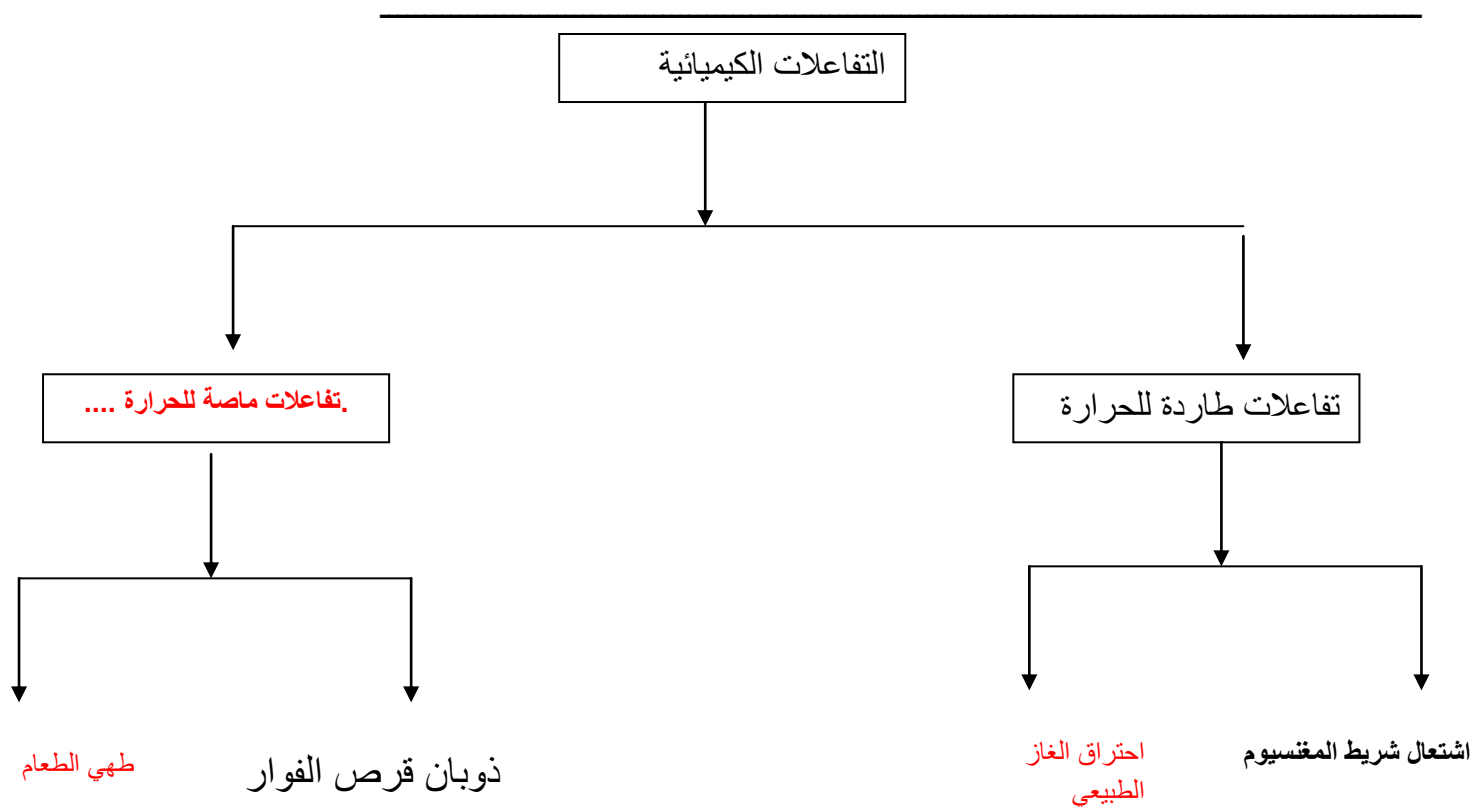
أكمل الجدول التالي

وجه المقارنة	4 He 2	7 Li 3	35 Cl 17
العدد الذري	٢	٣	١٧
العدد الكتلي	٤	٧	٣٥
عدد النيوترونات	٢	٤	١٨
عدد الإلكترونات	٢	٣	١٧
عدد البروتونات	٢	٣	١٧

حدد مكان العناصر التالية في الجدول الدوري

١ - 20Ca	الدورةالرابعة.....	المجموعة	..الثانية..
٢ - 17Cl	الدورةالثالثة.....	المجموعة	..السابعة..
٣ - 11Na	الدورةالثالثة.....	المجموعة	..الأولى..
٤ - 9F	الدورةالثانية.....	المجموعة	..السابعة..

أكمل خريطة المفاهيم التالية



الوحدة التعليمية الثانية : الماء

السؤال الأول : اختر الإجابة الصحيحة علميا لكل من العبارات التالية وظلل المربع الذي أمامها :

١- درجة الحموضة ال (pH) التي توصي بها منظمة الصحة العالمية للماء الصالح للشرب تتراوح بين :

☐ (٢.٥ و ٣.٥) ☐ (٤.٥ و ٥.٥) ☐ (٦.٥ و ١٠.٥) ☒ (٦.٥ و ٨.٥)

٢-مصدر من مصادر المياه العذبة تتم تعبئة مياه الشرب منه دون الحاجة لتنقيتها هو

☐ البحر ☒ الآبار العذبة ☐ البحيرات ☐ الخباري

السؤال الثاني : اكتب كلمة صح أمام العبارة الصحيحة وكلمة خطأ أمام العبارة الخاطئة

١- الماء هو الوسط الذي تتم فيه العمليات الحيوية في جسم الكائن الحي (...صح..)

٢- الماء من أهم العوامل الضرورية لعملية البناء الضوئي في النبات (...صح..)

٣- نسبة الماء المالح ٣% بينما نسبة الماء العذب ٩٧ % من ماء الأرض (..خطأ..)

٤- الماء العذب الصالح للشرب يكون خاليا من الأملاح (...خطأ..)

٥- تتم عملية التقطير على مرحلتين هما تبخير ثم تكثيف (...صح..)

السؤال الثالث : في الجدول التالي اختر العبارة من المجموعة (ب) واكتب رقمها أمام ما يناسبها من عبارات المجموعة (أ)

الرقم		الرقم	
(..٢.)	- المياه التي تكون نسبة الأملاح فيها بين ٠.٣ إلى ٠.٥ ml/l	١	مياه الآبار
(.١..)	- المياه التي تكون نسبة الأملاح فيها بين ٠.٥ إلى ٣٥ ml/l	٢	المياه العذبة
(..٣.)	- المياه التي تكون نسبة الأملاح فيها بين ٣٥ إلى ٥٠ ml/l	٣	مياه البحر

السؤال الرابع : أي مما يلي لا ينتمي للمجموعة مع ذكر السبب :

١- (الأنهار – الجداول – البحر – المستنقعات)

الذي لا ينتمي :البحر..... السبب :لأنه ماء مالح والباقي ماء عذب.....

٢- (الكالسيوم – الرصاص – المغنيسيوم – الصوديوم)

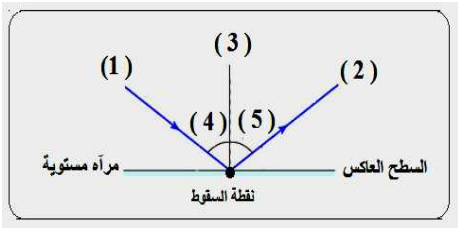
الذي لا ينتمي :الرصاص..... السبب :لأنه يلوث الماء أما الباقي ضروري لصحة الإنسان..

السؤال الخامس : علل لكل مما يلي تعليلا علميا سليما :

- ١- يجب غلي ماء البرك (الخباري) قبل استعماله
.....لقتل الميكروبات.....
- ٢- نستخدم فلاتر للماء في منازلنا
.....لتنقية الماء.....

الوحدة التعليمية الثالثة : انعكاس الضوء

السؤال الأول : اختر الإجابة الصحيحة لكل من العبارات التالية وظلل المربع الذي أمامها :



من الرسم الذي أمامك أجب عما يلي :

١- الرقم ١ يشير إلى :

☐ الشعاع المنعكس ☐ زاوية الانعكاس ☐ زاوية السقوط ☒ الشعاع الساقط

٢- الزاوية المحصورة بين الشعاع (١) والعمود المقام من نقطة السقوط تسمى :

☐ الشعاع المنعكس ☐ زاوية الانعكاس ☒ زاوية السقوط ☐ الشعاع الساقط

٣- الرقم ٢ يشير إلى :

☒ الشعاع المنعكس ☐ زاوية الانعكاس ☐ زاوية السقوط ☐ الشعاع الساقط

٤- الزاوية المحصورة بين الشعاع (٢) والعمود المقام من نقطة السقوط تسمى :

☐ الشعاع المنعكس ☒ زاوية الانعكاس ☐ زاوية السقوط ☐ الشعاع الساقط

٥- إذا كانت قيمة الزاوية (٤) تساوي (٦٠) درجة فإن قيمة الزاوية (٥) تساوي :

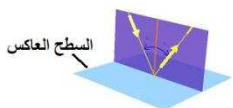
٩٠ ☐

٦٠ ☒

٤٥ ☐

٣٠ ☐

٦- من الرسم يتضح أن الشعاع الساقط والشعاع المنعكس وعمود الانعكاس تقع جميعها في مستو واحد



☐ يصنع زاوية منفرجة مع السطح العاكس

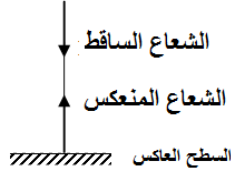
☐ يوازي السطح العاكس

■ عمودي على السطح العاكس □ يصنع زاوية حادة مع السطح العاكس

٧- الشعاع الساقط عموديا على السطح العاكس تكون زاوية سقوطه تساوي :

□ ٩٠ □ ٤٥ ■ صفر □ ١٨٠

٨- الشعاع الساقط عموديا على السطح العاكس ينعكس على نفسه لأن



□ زاوية سقوطه لا تساوي زاوية انعكاسه

□ زاوية سقوطه تساوي زاوية انعكاسه وكل منها تساوي ٩٠ درجة

■ زاوية سقوطه تساوي زاوية انعكاسه وكل منها تساوي ٠ درجة

□ زاوية سقوطه تساوي زاوية انعكاسه وكل منها تساوي ٤٥ درجة

٩- جميع الأجسام التالية نراها لأنها تصدر أشعة ضوئية تصل إلى العين مباشرة عدى :



□



□



■



□

١٠- جميع الأجسام التالية نراها لأنها تعكس الضوء الساقط عليها إلى العين ما عدا :

■ الشمس

□ الكرسي

□ القمر

□ الجدار

١١- الذي لا نستطيع رؤيته لأنه لا يعكس الضوء :

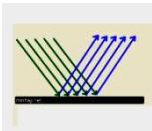
■ الهواء

□ العلم

□ الكتاب

□ القمر

١٢- الانعكاس في الشكل المجاور يحدث عندما يسقط الضوء على :



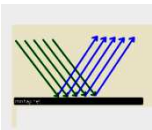
□ جسم الإنسان

□ الشجر

■ المرايا

□ الخشب

١٣- الانعكاس في الشكل المجاور تكون فيه الأشعة المنعكسة في :



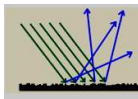
□ عدة اتجاهات

□ ثلاثة اتجاهات

□ اتجاهين

■ اتجاه واحد

١٤- الانعكاس في الشكل المجاور يحدث عندما يسقط الضوء على :



□ الماء الساكن

□ الأسطح الفلزية المصقولة ■ الجدار

□ المرآة المستوية

١٥- وقف مشعل أمام مرآة مستوية وعلى بعد ٥٠ سم منها فإن صورته التقديرية داخل المرآة تكون على بعد :

- ☐ ٢٥ ☒ ٥٠ ☐ ٧٥ ☐ ١٠٠

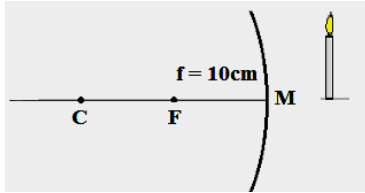
١٦- يرمز للبعد البؤري بالرمز :

- ☐ R ☒ f ☐ C ☐ V

١٧- العلاقة التي تربط بين البعد البؤري ونصف قطر التكور:

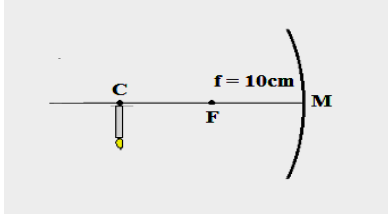
- ☐ C=f ☒ R=2f ☐ f=2R ☐ f=R

١٨- من الشكل نستنتج أن الجسم الموضوع أمام المرآة المقعرة على بعد :



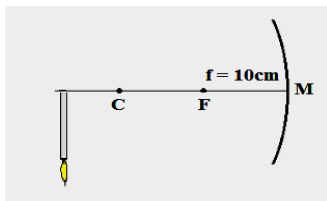
- ☒ أقل من ١٠ سم ☐ أكبر من ١٠ سم
☐ يساوي ١٠ سم ☐ بين ١٠ و ٢٠ سم

١٩- من الشكل نستنتج أن الجسم الموضوع أمام المرآة المقعرة على بعد :



- ☒ يساوي ٢٠ سم ☐ بين ١٠ و ٢٠ سم
☐ أقل من ١٠ سم ☐ أكبر من ٢٠ سم

٢٠- من الشكل نستنتج أن الجسم الموضوع أمام المرآة المقعرة على بعد :



- ☒ بين ١٠ و ٢٠ سم ☐ يساوي ٢٠ سم
☐ أكبر من ٢٠ سم ☐ أقل من ١٠ سم

السؤال الثاني : اكتب كلمة (صح) أمام العبارة الصحيحة وكلمة (خطأ) أمام العبارة الخاطئة :

١- يسمى الشعاع الصادر عن المصدر الضوئي بالشعاع المنعكس (..صح....)

- ٢- الشعاع الساقط هو الشعاع المنعكس عن سطح ما (خطأ...)
- ٣- الزاوية بين الشعاع الساقط وعمود الانعكاس هي زاوية السقوط (صح...)
- ٤- زاوية السقوط تساوي زاوية الانعكاس (صح..)
- ٥- يحدث الانعكاس المنتظم عند سقوط الأشعة الضوئية على سطح خشن (خطأ..)
- ٦- تكون الأشعة المنعكسة بالانعكاس المنتظم متوازية وفي اتجاه واحد (صح..)
- ٧- يحدث الانعكاس المنتظم عند سقوط الأشعة الضوئية على سطح ماء مضطرب (خطأ..)
- ٨- ينطبق قانون الانعكاس على الانعكاس المنتظم وغير المنتظم (صح...)
- ٩- يستخدم الميكروسكوب في الغواصات لرؤية الأجسام فوق سطح الماء (خطأ..)
- ١٠- الصورة المتكونة في المرآة المستوية تقديرية معكوسة معتدلة (صح..)
- ١١- المسافة بين الجسم والمرآة المستوية أكبر منها بين الصورة والمرآة (خطأ..)
- ١٢- السطح العاكس للمرآة المقعرة من الخارج (خطأ..)
- ١٣- السطح العاكس للمرآة المحدبة من الداخل (خطأ..)
- ١٤- عند سقوط أشعة ضوئية على مرآة مقعرة تتجمع في نقطة تسمى البؤرة (صح..)
- ١٥- ترى صورتك مكبرة في المرآة المقعرة ومصغرة في المرآة المحدبة (صح..)
- ١٦- المسافة بين البؤرة وقطب المرآة تسمى البعد البؤري (صح..)
- ١٧- العلاقة بين البعد البؤري ونصف قطر التكور ($R=2f$) (صح..)
- ١٨- البؤرة تقع في منتصف المسافة بين قطب المرآة ومركز التكور (صح..)
- ١٩- تستخدم في الطباخ الشمسي والأفران مرآة محدبة (خطأ..)
- ٢٠- نصف قطر التكور يساوي البعد البؤري (خطأ..)
- ٢١- يرمز للبؤرة بالرمز (f) والبعد البؤري بالرمز (F) (خطأ..)
- ٢٢- تستخدم المرآة المحدبة في صالونات الحلاقة وعند طبيب الأسنان (خطأ..)
- ٢٣- تستخدم المرآة المحدبة على جانبي السيارة وفي المحلات ومواقف السيارات (صح..)

السؤال الثالث : في الجدول التالي اختر العبارة من المجموعة (ب) واكتب رقمها أمام ما يناسبها من عبارات المجموعة (أ) :

الرقم	المجموعة (أ)	الرقم	المجموعة (ب)
(.٣..)	-الزاوية بين الشعاع المنعكس وعمود الانعكاس	١	زاوية السقوط
(.١.)	-الزاوية بين الشعاع الساقط وعمود الانعكاس	٢	زاوية الانكسار
(.٣..)	-الشعاع الضوئي المنعكس عن سطح ما	٣	زاوية الانعكاس
(.٢.)	-الشعاع الصادر عن مصدر ضوئي والساقط على جسم ما	١	الشعاع المنكسر
(.٣.)	-يحدث عند سقوط الأشعة الضوئية على سطح أملس مصقول	٢	الشعاع الساقط
(.٣.)	-يحدث عند سقوط الأشعة الضوئية على سطح خشن	٣	الشعاع المنعكس
(.١.)	-زاوية السقوط تساوي زاوية الانعكاس	١	انكسار الضوء
(.٣..)	-الشعاع الساقط والشعاع المنعكس وعمود الانعكاس جميعها تقع في مستوى عمودي على السطح العاكس	٢	الانعكاس المنتظم
(.٢.)	-ارتداد الأشعة الضوئية نتيجة سقوطها على سطح جسم ما	٣	الانعكاس غير المنتظم
(.٢.)	-صورة تقديرية معتدلة مصغرة تكونها المرآة	١	القانون الأول للانعكاس
(.١..)	-صورة تقديرية معتدلة مساوية للجسم تكونها المرآة	٢	انعكاس الضوء
(.٣..)	-صورة تقديرية معتدلة مكبرة تكونها المرآة	٣	القانون الثاني للانعكاس
(.٣..)	-مرآة سطحها العاكس هو السطح الداخلي	١	المستوية
(.٢..)	-مرآة سطحها العاكس هو السطح الخارجي	٢	المحدبة
		٣	المقعرة

السؤال الرابع : ادرس الرسومات التالية جيدا ثم أجب عن المطلوب

١- أكمل البيانات على الرسم

٢- المسافة بين (F) و (M) تسمى ...البعد البؤري...

٣- المسافة بين (C) و (M) تسمى نصف قطر التكور...

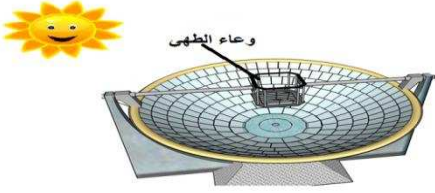
مركز التكور

البؤرة

قطب المرأة

٤- إذا كانت المسافة بين (F) و (M)

تساوي 5 سم فإن المسافة بين (C) و (M) تساوي ... ١٠ سم....



١- ما اسم الجهاز الذي أمامك :الفرن الشمسي.....

٢- أي نوع من المرايا يستخدم فيه ؟ : ...مرآة مقعرة...

٣- لماذا وضع وعاء الطهي في هذا الموضع ؟ :لأن المرأة المقعرة تجمع الضوء في هذه النقطة...

السؤال الخامس : قارن بين المرأة المقعرة والمرأة المحدبة كما في الجدول :

وجه المقارنة	المرأة المقعرة	المرأة المحدبة
اتجاه السطح العاكس	للدخل	للخارج
حجم الصورة	مكبرة	مصغرة
نوع البؤرة	حقيقية	تقديرية
الاستخدامات	صالونات التجميل وعند طبيب الأسنان	المحلات التجارية والمرايا الجانبية للسيارات

السؤال السادس : علل لكل مما يلي تعليلا علميا سليما

١- تصمم المصابيح اليدوية ومصابيح السيارات بحيث يوضع المصباح في بؤرة مرآة مقعرة

.....لتنعكس الأشعة متوازية فتضيء الطريق أمام المصباح.....

٢- الصورة التي تكونها كل من المرأة المستوية والمقعرة تكون دائما تقديرية

.....لأنها تنتج من تلاقي امتدادات الأشعة المنعكسة.....

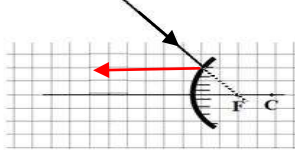
٣- بؤرة المرأة المقعرة حقيقية

.....لأنها تنتج من تلاقي الأشعة المنعكسة.....

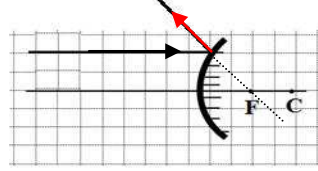
٤- بؤرة المرآة المحدبة تقديرية

..... لأنها تنتج من تلاقي امتدادات الأشعة المنعكسة.....

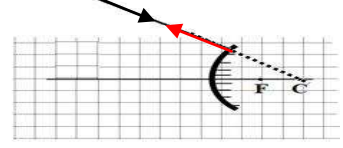
السؤال السابع : أ) وضح بالرسم طريقة انعكاس الأشعة الضوئية عند سقوطها على مرآة محدبة كما في الأشكال التالية :



شعاع ساقط يمر امتداده من
البؤرة ينعكس موازيا للمحور
الأصلي...



شعاع ساقط مواز لمحور
الأساسي ينعكس ... مارا بالبؤرة.

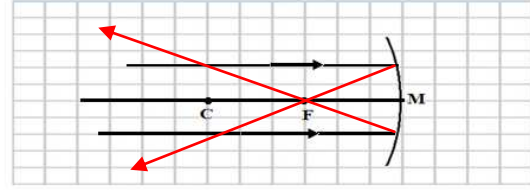


شعاع ساقط يمر امتداده من مركز
التكور ينعكس على نفسه..

ب) أكمل مسار الأشعة المنعكسة بواسطة المرآة المقعرة واستنتج صفات الصورة المتكونة في كل من الحالات التالية :

١- الجسم في اللانهاية

صفات الصورة : حقيقية. و .. مقلوبة.. و .. مصغرة جدا.

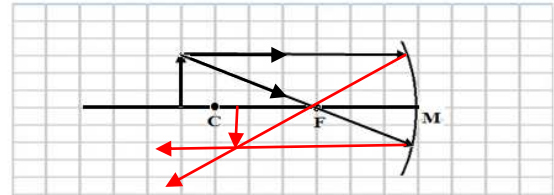


مكان تكون الصورة : في البؤرة....

٢- الجسم أبعد من مركز التكور

صفات الصورة : حقيقية. و .. مقلوبة. و .. مصغرة.

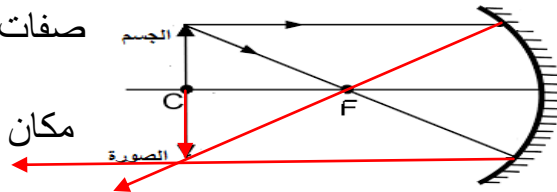
مكان تكون الصورة : .. بين البؤرة ومركز التكور..



٣- الجسم واقع في مركز التكور

صفات الصورة : حقيقية. و .. مقلوبة. و .. مساوية للجسم.

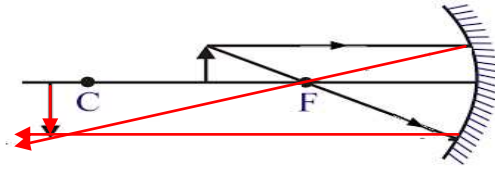
مكان تكون الصورة : ... في مركز التكور....



٤- الجسم بين البؤرة ومركز التكور

صفات الصورة : حقيقية. و مقلوبة. و مكبرة.

مكان تكون الصورة : أبعد من مركز التكور...



الوحدة التعليمية الثالثة : انكسار الضوء

السؤال الأول : اختر الإجابة الصحيحة لكل من العبارات التالية وظلل المربع الذي أمامها :

١- انحراف الأشعة الضوئية عن مسارها المستقيم نتيجة انتقالها بين وسطين شفافين مختلفين في الكثافة الضوئية :

☐ انعكاس الضوء ☒ انكسار الضوء ☐ تشتت الضوء ☐ حيود الضوء

٢- قدرة الوسط على كسر الأشعة الضوئية تسمى الكثافة

☐ النسبية ☐ العددية ☒ الضوئية ☐ المادية

٣- سرعة الضوء تكون أكبر ما يمكن في :

☐ الماء ☒ الهواء ☐ الزجاج الخشن ☐ الزجاج المصقول

٤- إذا كانت زاوية سقوط الشعاع الضوئي في الهواء تساوي ٦٠ درجة فإن زاوية انكساره في الماء تساوي

☐ ٩٠ ☐ ٦٠ ☐ ٦٥ ☒ ٤٥

٥- إذا كانت زاوية سقوط الشعاع الضوئي في الزجاج ٣٥ درجة فإن زاوية انكساره في الهواء تساوي

☐ ٣٠ ☐ ٣٥ ☐ ٦٠ ☒ ٢٥

٦- الرسم الصحيح الذي يوضح انتقال الشعاع الضوئي من الهواء إلى الزجاج :



٧- الرسم الصحيح الذي يوضح انتقال الشعاع الضوئي من الماء إلى الهواء :



٨- من الشكل زاوية الانكسار يمثلها الرقم :



٢	<input type="checkbox"/>	١
<input type="checkbox"/>	٤	<input type="checkbox"/>

- ٩- جسم زجاجي شفاف يكسر الأشعة الساقطة عليه ويجعلها تنحرف عن مسارها
- ☐ مرآة مستوية ☒ عدسة ☐ مرآة محدبة ☐ مرآة مقعرة
- ١٠- جميعها يكسر الأشعة الضوئية الساقطة عليه ويحرفها عن مسارها ما عدا :
- ☐ العدسة ☐ المنشور ☐ متوازي المستطيلات الزجاجي ☒ المرآة

السؤال الثاني: في الجدول التالي اختر العبارة من المجموعة (ب) واكتب رقمها أمام ما يناسبها من عبارات المجموعة (أ).

الرقم	المجموعة (أ)	الرقم	(ب)
(..٢.)	-نقطة في منتصف جسم العدسة وعلى المحور الأساسي لها	١	البؤرة
(..١.)	-نقطة في منتصف المسافة بين المركز البصري ومركز التكور	٢	قطب العدسة
		٣	المركز البصري
(..٣.)	-عدسة مكبرة لامة أو مجمعة وهي سميكة عند الوسط ورقيقة عند الأطراف	١	العدسة اللاصقة
(..٢.)	-عدسة تصغر ومفرقة للأشعة وهي رقيقة عند الوسط وسميكة عند الأطراف	٢	العدسة المقعرة
		٣	العدسة المحدبة
(..٣.)	-المسافة بين البؤرة والمركز البصري للعدسة	١	نصف قطر التكور
(..١.)	-المسافة بين مركز لتكور والمركز البصري للعدسة	٢	المحور الأصلي
(..٢.)	-خط مستقيم يمر بمركزي تكر العدسة	٣	البعد البؤري
(..١.)	-الصورة التي تنتج من تلاقي الأشعة المنكسرة أو المنعكسة ويمكن استقبالها على حائل	١	الصورة الحقيقية
(..٢.)	-الصورة التي تنتج من تلاقي امتدادات الأشعة المنعكسة أو المنكسرة ولا يمكن استقباله على حائل	٢	الصورة التقديرية
		٣	الصورة الضوئية

السؤال الثالث : اكتب بين القوسين كلمة (صح) أمام العبارة الصحيحة وكلمة (خطأ) أمام العبارة الخاطئة :

- ١- سرعة الضوء أكبر ما يمكن في الهواء وأقل ما يمكن في الزجاج (..صح..)

- ٢- الكثافة الضوئية هي قدرة الوسط على عكس الأشعة الضوئية (خطأ..)
- ٣- كلما زادت الكثافة الضوئية للوسط زادت سرعة الضوء فيه (خطأ..)
- ٤- عندما ينتقل الضوء من وسط أقل إلى وسط أكبر في الكثافة الضوئية ينكسر مقترباً من عمود الانكسار (صح..)
- ٥- عندما ينتقل الضوء من وسط أكبر إلى وسط أقل في الكثافة الضوئية ينكسر مبتعداً عن عمود الانكسار (صح..)
- ٦- عندما يسقط الضوء عمودياً على السطح الفاصل بين وسطين شفافين لا ينكسر (صح..)
- ٧- عندما ينتقل الضوء من الهواء إلى الماء تكون زاوية الانكسار أقل من زاوية السقوط (صح..)
- ٨- عندما ينتقل الضوء من الزجاج إلى الهواء تكون زاوية الانكسار أكبر من زاوية السقوط (صح..)
- ٩- يرمز للمركز البصري للعدسة بالرمز V (صح..)
- ١٠- البؤرة نقطة تقع في منتصف العدسة وعلى المحور الأساسي لها (خطأ..)
- ١١- إذا كان البعد البؤري لعدسة يساوي ٥ سم فإن نصف قطر تكورها يساوي ٢٠ سم (خطأ..)
- ١٢- العدسة المحدبة تفرق الأشعة الضوئية بينما العدسة المقعرة تجمعها (خطأ..)
- ١٣- الشعاع الساقط موازياً للمحور الأصلي للعدسة المحدبة ينكسر ماراً بالبؤرة (صح..)

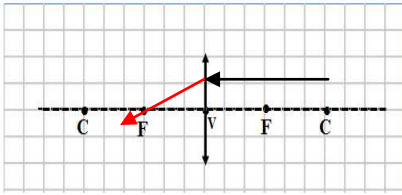
السؤال الرابع : علل لكل مما يأتي تعليلاً علمياً سليماً

- ١- الشعاع الساقط عمودياً على السطح الفاصل بين وسطين شفافين ينفذ على استقامته دون أن ينكسر..... لأن زاوية سقوطه صفر فإن زاوية انكساره ستكون صفر.....
- ٢- زاوية السقوط أكبر من زاوية الانكسار عندما ينتقل الشعاع الضوئي من الهواء إلى الماء..... لأن الشعاع ينكسر مقترباً من عمود الانكسار.....
- ٣- زاوية السقوط أقل من زاوية الانكسار عندما ينتقل الشعاع الضوئي من الزجاج إلى الهواء..... لأن الشعاع ينكسر مبتعداً عن عمود الانكسار.....
- ٤- يظهر القلم مكسوراً عند وضعه مائلاً في كوب ماء..... بسبب انكسار الضوء.....
- ٥- نرى أرضية حمام السباحة أعلى من موقعها الحقيقي..... بسبب انكسار الضوء.....

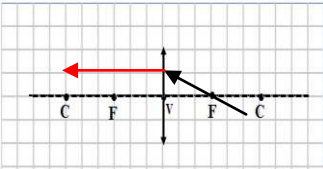
السؤال الخامس : قارن بين كل من العدسة المحدبة والعدسة المقعرة كما في الجدول :

وجه المقارنة	العدسة المحدبة	العدسة المقعرة
الرسم		
وصف العدسة	سميكة عند الوسط. رقيقة عند الحواف.	سميكة عند الحواف. رقيقة عند الوسط.
صورة الجسم (مكبرة – مصغرة)	مكبرة	مصغرة
نوع البؤرة	حقيقية	تقديرية

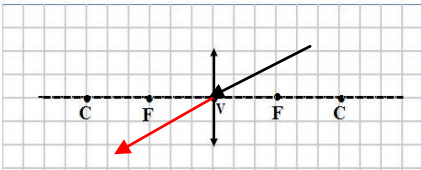
السؤال السادس : أ) أكمل مسار الشعاع الضوئي في العدسة المحدبة في كل من الحالات التالية



١- إذا سقط الشعاع موازيا للمحور الأصلي فإنه ينكسر .. مارا بالبؤرة...




٢- إذا سقط الشعاع مارا بالبؤرة فإنه ينكسر ... موازيا... للمحور الأصلي

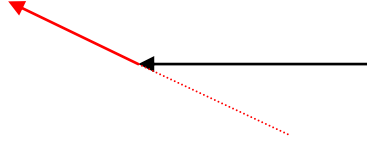


٣- إذا سقط الشعاع مارا بالمركز البصري فإنه لا ينكسر....

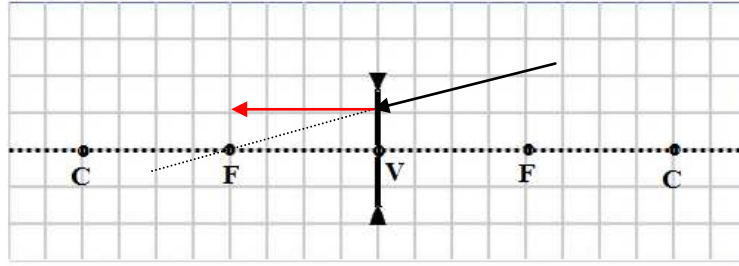
ب) أكمل مسار الأشعة الضوئية في العدسة المقعرة في الحالات التالية :

١ – إذا سقط الشعاع موازيا للمحور الأصلي فإنه ينكسر بحيث يمر .. امتداده... بالبؤرة

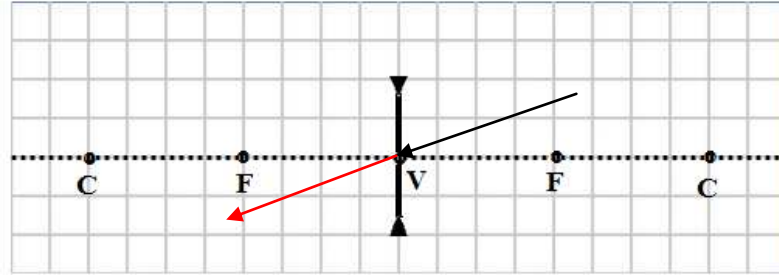




٢- إذا سقط الشعاع بحيث يمر امتداده بالبؤرة فإنه ينكسر ...موازيا... للمحور الأصلي

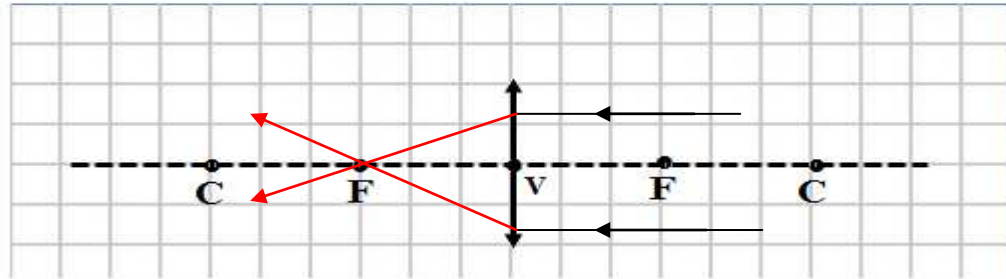


٣ - إذا سقط الشعاع مارا بالمركز البصري فإنه ..ينفذ على استقامته....




ج (أكمل مسار الأشعة الضوئية واستنتج صفات الصورة

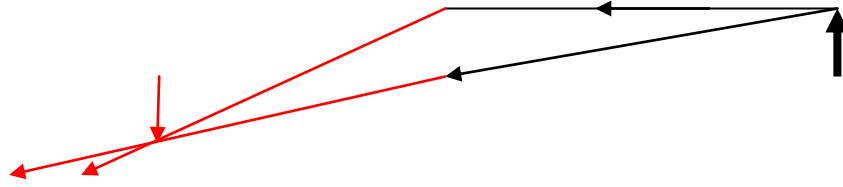
١ - الجسم بعيد جدا



صفات الصورة : حقيقية. و مقلوبة. و مصغرة جدا. / مكانها : ..في البؤرة..

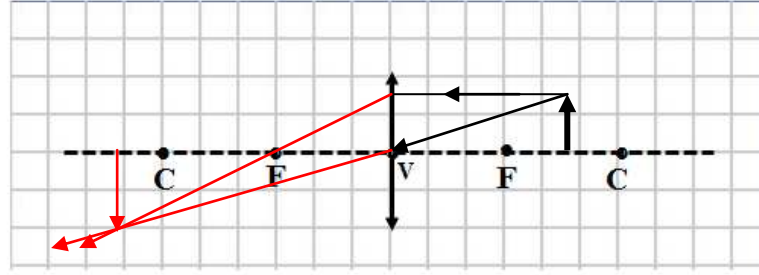
٢ - الجسم أبعد قليلا من مركز التكور





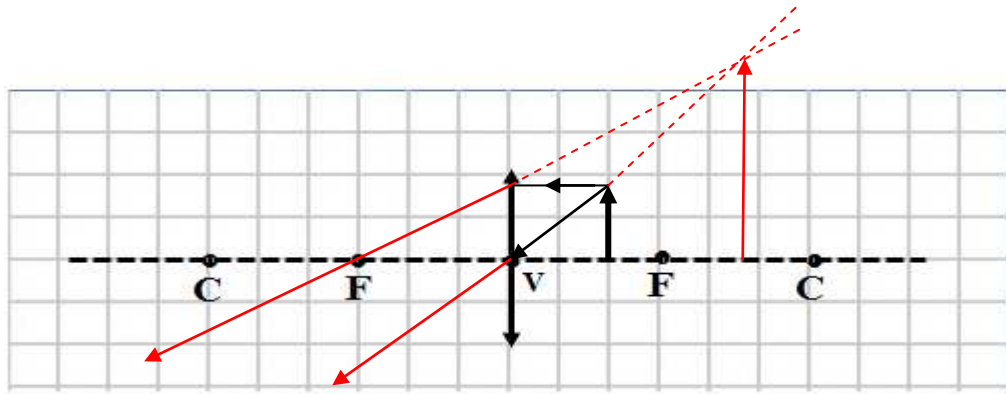
صفات الصورة : حقيقية. و مقلوبة. و مصغرة. / مكانها : بين البؤرة ومركز التكور.

٣ - الجسم بين البؤرة ومركز التكور



صفات الصورة : حقيقية. و مقلوبة. و مكبرة. / مكانها : أبعد من مركز التكور..

٤ - الجسم بين البؤرة والمركز البصري



صفات الصورة : تقديرية. و معتدلة. و مكبرة. / مكانها : .. بجانب الجسم..

الوحدة التعليمية الرابعة : العين والرؤية

السؤال الأول : الإجابة الصحيحة لكل من العبارات التالية وظل المربع الذي أمامها :

- ١- الجزء الخارجي من العين ويحمي أجزاء العين الداخلية
☐ القرنية ☐ المشيمية ☐ الشبكية ☒ الصلبة

٢- الجزء الأمامي من الصلبة وهو جسم شفاف يكبر الضوء عندما يمر من خلاله

☐ القرنية ☒ الشبكية ☒ القرنية ☐ المشيمية

٣- الجزء الملون من العين ويتحكم بكمية الضوء التي تدخل إلى العين

☐ القرنية ☐ البؤبؤ ☒ القرنية ☐ الشبكية

٤- طبقة في العين تحتوي خلايا عصبية تحول الصورة المتكونة عليها إلى سيالات عصبية

☒ الشبكية ☐ القرنية ☐ القرنية ☐ الصلبة

٥- عدسة العين نوعها :

☐ مقعرة ☒ محدبة ☐ مقعرة مستوية ☐ محدبة مستوية

٦- الصورة المتكونة في الخزانة ذات الثقب

☐ تقديرية مصغرة ☒ حقيقية مقلوبة مصغرة ☐ تقديرية مساوية ☐ حقيقية مقلوبة مكبرة

السؤال الثاني : اكتب بين القوسين كلمة (صح) أمام العبارة الصحيحة وكلمة (خطأ) أمام العبارة الخاطئة :

١- الصلبة هي الجزء الداخلي للعين ويحمي الأجزاء الداخلية (خطأ..)

٢- القرنية جسم شفاف يكبر الضوء عندما يمر من خلاله (صح..)

٣- البؤبؤ هو الجزء الملون من العين (خطأ..)

٤- القرنية تحكم في كمية الضوء الداخل إلى العين (صح..)

٥- عدسة العين عدسة محدبة تكسر الأشعة لتكون صورة واضحة على الشبكية (صح..)

٦- لا تستطيع عدسة العين تغيير بعدها البؤري (خطأ..)

٧- تحول الخلايا الموجودة في الشبكية الصور الواقعة عليها إلى سيالات عصبية (صح..)

٨- انعكاس وانكسار الضوء هما المسببان للرؤية عند الإنسان (صح..)

٩- يعالج قصر النظر بعدسة محدبة بينما يعالج طول النظر بعدسة مقعرة (خطأ..)

١٠- في قصر النظر تكون الصورة خلف الشبكية (خطأ..)

١١- الصورة المتكونة في العين حقيقية مقلوبة مصغرة (صح..)

١٢- تسمى عين الحشرة بالعين المركبة لأنها تتكون من عدد كبير من العدسات (صح..)

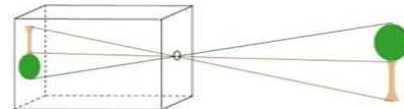
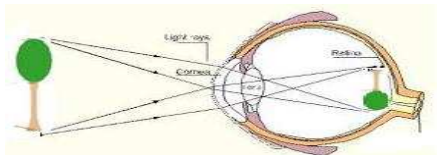
السؤال الثالث: في الجدول التالي اختر العبارة من المجموعة (ب) واكتب رقمها أمام ما يناسبها من عبارات المجموعة (أ).

الرقم		الرقم
(٣٠٠)	- القرحة	
(١٠٠)	- القرنية	
(٢٠٠)	- البؤبؤ	
(١٠٠)	- العين في إضاءة الغرفة	
(٣٠٠)	- العين في مكان مظلم	
(٢٠٠)	- العين في الإضاءة القوية	
(٢٠٠)	- الشخص المصاب بقصر النظر	
(١٠٠)	- الشخص المصاب بطول النظر	
(٣٠٠)	- الشخص السليم	

السؤال الرابع : قارن بين كل من قصر النظر وطول النظر كما في الجدول :

وجه المقارنة	قصر النظر	طول النظر
الأعراض	لا يرى الأجسام البعيدة..بوضوح	لا يرى الأجسام القريبة..بوضوح
مكان تكون الصورة	تتكون الصورة أمام الشبكية	تتكون الصورة خلف الشبكية
العلاج	يعالج بعدسة مقعرة..	يعالج بعدسة محدبة...

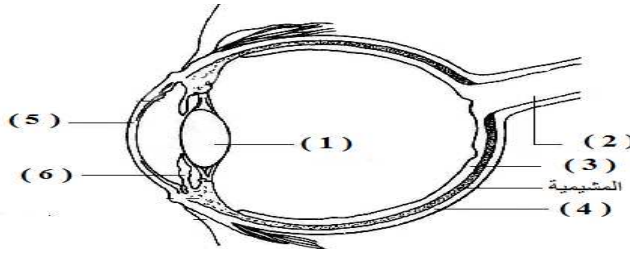
السؤال الخامس : ادرس الرسومات التالية ثم أجب عن المطلوب :



١-

ما وجه الشبه بين العين والكاميرا من حيث صفات الصورة المتكونة في كل منهما ؟

.....كلاهما يكون صورة حقيقية مقلوبة مصغرة.....



أ (جسم شفاف يمثل الجزء الأمامي من الصلبة يكسر الضوء عندما يمر خلاله يسمى .القرنية. ويمثله الرقم ..5..

ب (جسم شفاف يكسر الأشعة الضوئية المارة خلاله يسمى ..العدسة.. ويمثله الرقم ...1..

ج (الجزء الملون من العين ويتحكم بحجم البؤبؤ يسمى ..القرنية... ويمثله الرقم6..

د (وظيفته نقل السوائل العصبية إلى المخ يسمى .العصب البصري.. ويمثله الرقم ..2....

الوحدة : الأرض والفضاء

الوحدة التعليمية : التجوية والتعرية

السؤال الأول : اختر الإجابة الصحيحة علميا لكل من العبارات التالية وضع علامة (√) في المربع المقابل لها :

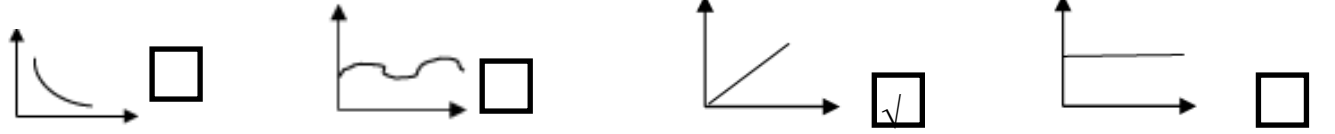
١- العملية الأسرع التي تحدث تغير في سطح الأرض ولا يمكن ملاحظتها هي

☐ العواصف ☐ البراكين ☐ الفيضانات ☐ هطول المطر

٢- يتمدد الماء ويزداد حجمه عندما تنخفض درجة حرارته عن

☒ ٤ درجة ☐ ٤,٥ درجة ☐ ٥ درجة ☐ ٥,٥ درجة

٣- العلاقة الرياضية التي توضح قوة الرياح وطاقتها



٤- التجوية التي تحدث بفعل الكائنات الحية تدعى تجوية

☐ ميكانيكية ☐ فيزيائية ☐ كيميائية ☒ بيولوجية

٥- الغاز المسئول عن تكون أكاسيد فلزية في بعض الصخور هو

☒ O₂ ☐ N₂ ☐ CO₂ ☐ H₂

٦- الغاز المسئول عن تكوين حمض الكربونيك عند تفاعله مع الماء في بعض الصخور

☐ O₂ ☐ N₂ ☒ CO₂ ☐ H₂

٧- عمليات التجوية والتعرية مستمرة وتتكون من عمليتي

☐ نقل و ترسيب ☒ هدم وبناء ☐ نقل وبناء ☐ هدم ونقل

٨- عندما تضعف سرعة الرياح وتلقي حمولتها من الرمل يتكون

☐ الأعمدة الرضية ☒ الكثبان الرملية ☐ خط الساحل ☐ الصواعد

السؤال الثاني : اكتب بين القوسين كلمة (صحيحة) للعبارة الصحيحة وكلمة (خطأ) للعبارة غير الصحيحة علميا في كل مما يأتي :

١- تعتبر الصخور من المواد الرديئة التوصيل للحرارة (صحيحة)


٢- التجمد والتفاوت في درجات الحرارة من عوامل التجوية الكيميائية (خطأ)

٣- تجمد الماء في الصخور من مسببات التجوية البيولوجية (خطأ)

- ٤- المنطقة الفقيرة بالغطاء النباتي تتأثر تأثر ضعيفا بالرياح (خطأ)
- ٥- التجوية هي تفتت الصخر وتحلله بمكانه (صحيحة)
- ٦- ينتج عن عملية التكرين الصواعد و النوازل (صحيحة)
- ٧- أكسيد الفلز الناتج من الأكسدة يتصف بالصلابة (خطأ)
- ٨- الحيوانات الحفارة من مسببات التجوية الميكانيكية (صحيحة)
- ٩- الرياح الضعيفة قادرة على حمل الحصى (خطأ)
- ١٠- كلما ازدادت قوة الماء قلت كمية الرمال المنقولة في المناطق الزراعية (خطأ)
- ١١- تزداد التعرية بالرش في المناطق الصحراوية (صحيحة)
- ١٢- تتكون الأعمدة الأرضية نتيجة سقوط الأمطار على أجزاء من سطح الأرض مختلفة في تكوينها (صحيحة)
- ١٣- تعتبر الأمواج أقوى العناصر البحرية تأثيرا على السواحل (صحيحة)
- ١٤- لا يختلف تأثر خط الساحل بالأمواج باختلاف نوع الصخر المكون له (خطأ)
- ١٥- تعتبر التعرية من أسباب انحسار الأراضي الزراعية (صحيحة)
- ١٦- عمليتي التجوية والتعرية هما عمليتي هدم وبناء (صحيحة)
- ١٧- يعتبر الترسيب عملية هدم (خطأ)
- ١٨- رغم حدوث البراكين والزلازل والتجوية والتعرية تظل القشرة الأرضية في حالة اتزان (صحيحة)
- ١٩- تلعب عملية التعرية دورا كبيرا في تكوين التربة (صحيحة)
- ٢٠- تساهم الطحالب في التجوية البيولوجية (صحيحة)

السؤال الثالث : في الجدول التالي اختر العبارة أو الشكل من المجموعة (ب) واكتب رقمها أمام ما يناسبها من عبارات المجموعة (أ) :

الرقم	المجموعة (أ)	المجموعة (ب)
(١)	المنطقة الأكثر تعرضا للتعرية	<p> ■ غطاء نباتي ■ غطاء صحراوي 1 2 3 </p>
(٢)	المنطقة الأقل تعرضا للتعرية	

	التجوية الكيميائية التجوية البيولوجية	(٥) (٤)
H_2 O_2 CO_2 9 8 7	الغاز المسبب للتكربن الغاز المسبب للأكسدة	(٧) (٨)

المجموعة (ب)	المجموعة (أ)	الرقم
	معدل التعرية كبير معدل التعرية قليل	(١) (٢)
4- تغير لون الصخور للأحمر 5- تكون الصواعد والهوابط 6- تشقق الصخور	التكربن الأكسدة	(٥) (٤)
7- التجوية الميكانيكية 8- التجوية الكيميائية 9- التجوية البيولوجية	تجمد الماء الأكسدة	(٧) (٨)

السؤال الرابع : علل لما يلي تعليلا علميا سليما :

١- تتفكك بعض أنواع صخور المناطق الصحراوية بسبب التفاوت في درجات الحرارة والفروق الموسمية بين الفصول

٢- تتكون الصواعد والهوابط في الكهوف بسبب عملية التكربن التجوية الكيميائية

٣- بعض الصخور يتغير لونها إلى الأحمر مع مرور الزمن بسبب عملية الأكسدة (تفاعل فلز الخور الأكسجين مكون أكسيد الصخر)

٤- بعض النباتات لها القدرة على تفتيت الصخور بسبب إفراز جذور النباتات الأحماض العضوية التي تساعد على تفتيت الصخر / نمو جذور النباتات يؤدي إلى تشقق الصخر

٥- تساهم الطحالب في عملية التجوية البيولوجية لأنها تفرز أحماضا ضعيفة تعمل على إضعاف الصخور

٦- المناطق الفقيرة بالغطاء النباتي تتأثر تأثرا بالغا بالرياح

لأنها تفتقد إلى جذور النباتات التي تثبت الأتربة في مكانها

٧- تقل عملية التعرية في المناطق الزراعية
لأن جذور النباتات تثبت حبيبات التربة وتعيق عملية نقلها

٨- تزداد التعرية بالرش (المطر) في المناطق الصحراوية
بسبب قلة النباتات التي تثبت حبيبات التربة وتعيق عملية نقلها

٩- تعتبر الأمواج أقوى العناصر البحرية تأثيراً على السواحل
لأن الأمواج تعمل على دحرجة الصخور المتهشمة نتيجة التجوية وتصادمها مع بعضها فتتفتت إلى قطع أصغر وتعمل
الرواسب المنقولة بالأمواج كورق صنفرة يحت الصخور

١٠- تعتبر عملية الترسيب عملية بناء
لأنها تعمل على تكون مظاهر جديدة

١١- عملية التعرية بالرياح عملية هدم
لأنها تعمل على إزالة مظاهر موجودة وإخفائها