

تم تحميل هذا الملف من موقع ملفات الكويت التعليمية



[com.kwedufiles.www//:https](https://www.kwedufiles.com)

\*للحصول على أوراق عمل لجميع الصفوف وجميع المواد اضغط هنا

\* للحصول على أوراق عمل لجميع مواد الصف الثامن اضغط هنا

<https://kwedufiles.com/8>

\* للحصول على جميع أوراق الصف الثامن في مادة اجتماعيات وجميع الفصول, اضغط هنا

<https://kwedufiles.com/8social>

\* للحصول على أوراق عمل لجميع مواد الصف الثامن في مادة اجتماعيات الخاصة بـ الفصل الأول اضغط هنا

<https://www.kwedufiles.com/8social1>

\* لتحميل كتب جميع المواد في جميع الفصول للـ الصف الثامن اضغط هنا

<https://www.kwedufiles.com/grade8>

[bot\\_kwlinks/me.t//:https](https://t.me/bot_kwlinks)

للحصول على جميع روابط الصفوف على تلغرام وفيسبوك من قنوات وصفحات: اضغط هنا

الروابط التالية هي روابط الصف الثامن على مواقع التواصل الاجتماعي

مجموعة الفيسبوك

صفحة الفيسبوك

مجموعة التلغرام

بوت التلغرام

قناة التلغرام

رياضيات على التلغرام



قسم الاجتماعيات

الصف الثامن

هذه التدريبات لا تغني عن الكتاب المدرسي

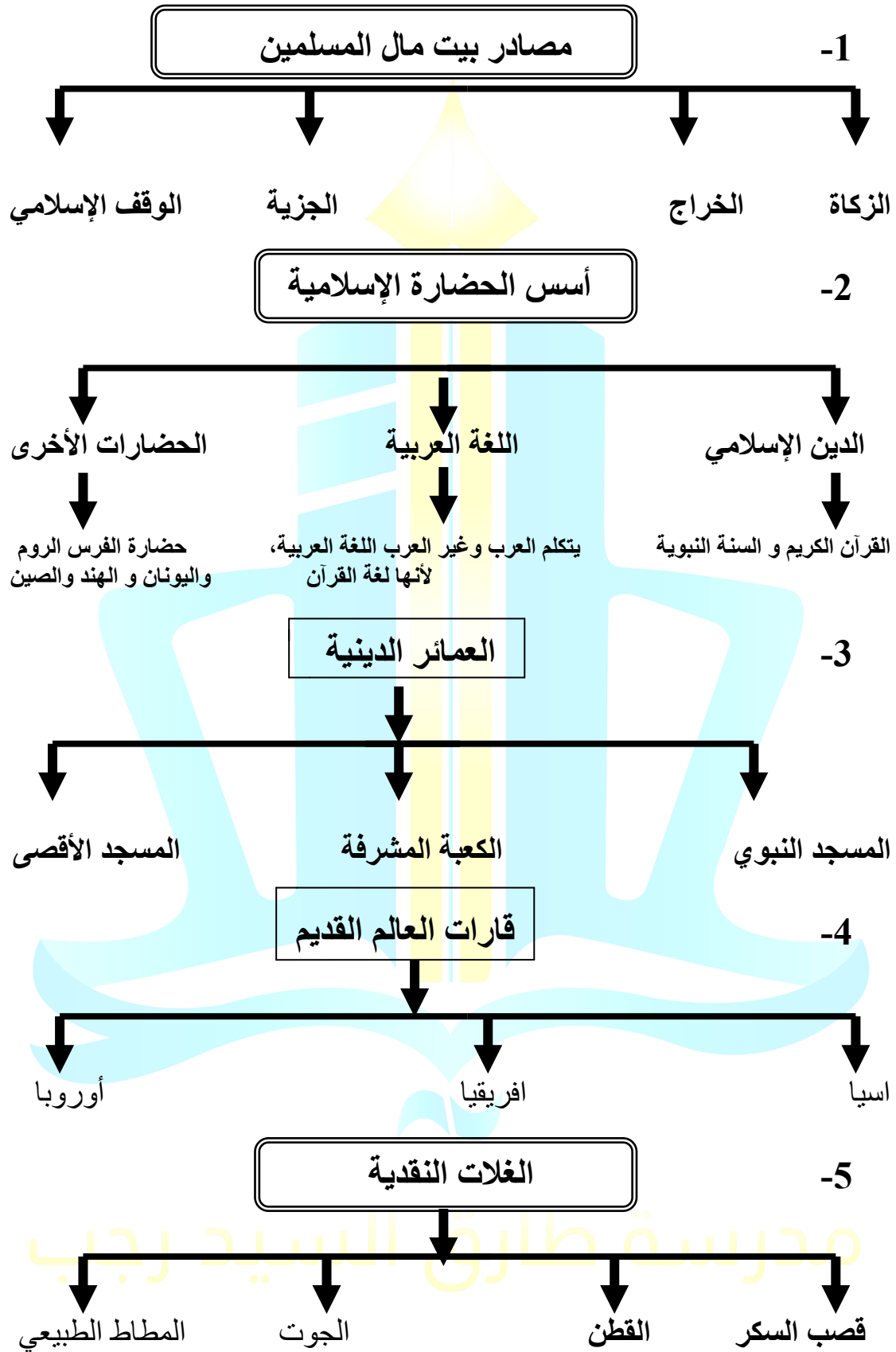
اسم الطالب: ..... الفصل: .....

ملحوظة : هذه التدريبات والشروحات لا تغني عن الكتاب المدرسي

**ورقة مراجعة للصف الثامن ( الفصل الدراسي الأول )**  
**السؤال الأول:- عرف المفاهيم التالية:-**

1	الحضارة	كل ما يطرأ على المجتمع من من تقدم وتطور و رقي سواء في الجانب المادي أو الجانب الروحي .
2	الزكاة	هي ركن من أركان الإسلام يخرجها المسلمون الأغنياء للمستحقين من الفقراء وتجب الزكاة في الأموال النقدية 2,5% كما تجب على الثروات الأخرى .
3	الخراج	ضريبة الأراضي زراعية التي تخرج مبلغا من ناتج المحصول الزراعي .
4	الجزية	مبلغ مالي يدفعه الرجال غير المسلمين ممن هم قادرون على حمل السلاح نظير حماية الدولة لهم.
5	الوقف الإسلامي	صدقة جارية يوقفها المرء في حياته لوجه الخير و البر ويكون أجرها و نفعها ما دامت باقية ويستمر الأجر حتى بعد وفاته .
6	الفسيفساء	مجموعة من المكعبات الزجاج الملون و الشفاف و قطع من الحجر الأبيض و الأسود تثبت فوق طبقة من الإسمنت تعطي منظر جميل .
7	المساجد	تقام فيها الصلوات و خطبة الجمعة و التعليم الديني .
8	القصور	هي مقر الحاكم و المكان الذي يضم المؤسسات كالوزارة و الدواوين .
9	أهل الذمة	هم النصارى و اليهود الذين ظلوا على دينهم مع دفع الجزية .
10	مجريط	هي مدريد الحالية عاصمة إسبانيا .
11	الأرابيسك	من الصناعات الخشبية وسميت بهذا الاسم نسبة إلى العرب
12	التضاريس	هي اشكال سطح الأرض .
13	الوادي	حوض او منخفض طبيعي على سطح الأرض .
14	السهول	أجزاء فسيحة من سطح الأرض تتميز باستوائها و قلة ارتفاعها .
15	الهضبة	أرض مرتفعة سطحها و تمتد مساحة واسعة .
16	الجبل	هو كل قمة لا يقل ارتفاعها عن 1000 متر تقريبا .
17	التل	يشبه الجبل و لكن ارتفاعه أقل من 1000 متر .
18	المناخ	هو حالة الجو خلال فترة زمنية طويلة.
19	الطقس	هو حالة الجو خلال فترة زمنية قصيرة تتراوح بين يوم و عدة أيام .
20	الإقليم المناخي	هو مساحة الأرض التي تتصف بعناصر مناخية متشابهة .
21	احتياطي النفط	هو كمية النفط المخزونة في باطن الأرض و لم تستخرج بعد .
22	الغلات النقدية	هي المحاصيل التي تزرع من أجل التصدير مثل القطن .
23	الجوت	هو نبات ينمو في المناطق الاستوائية و الموسمية و يصنع منها الحبال و الأحذية و الاقمشة الخشنة .
24	يورانيوم	معدن خام يستخدم في محطات الطاقة النووية .

السؤال الثاني: - أكمل المخططات السهمية التالية :-



**السؤال الثالث:- اختر من المجموعة (أ) ما يناسبها من المجموعة (ب):-**

المجموعة ( أ )	المجموعة ( ب )	
1- بناء الخليفة الأموي معاوية بن أبي سفيان ويقع في دمشق .	( 2 ) قصر عمرة	
2- بناء الخليفة يزيد بن الوليد و يقع في الأردن .	( 3 ) الرصافة	
3- بناء الخليفة هشام بن عبد الملك و يقع في سوريا.	( 1 ) قصر الخضر	

مراكز إشعاع الحضارة الإسلامية إلى أوروبا	الدولة الحالية التي تمثلها	
1- بلاد الأندلس	( 3 ) إيطاليا	
2- بلاد الشام	( 1 ) أسبانيا و البرتغال	
3- صقلية	( 2 ) سوريا - لبنان - الأردن - فلسطين	

المجموعة ( أ )	المجموعة ( ب )	
1- الدولة الإسلامية الأولى في إنتاج اليورانيوم .	(3) تركيا	
2- الدولة الإسلامية الأولى في إنتاج الذهب .	(1) كازخستان	
3- الدولة الإسلامية الأولى إنتاج الفضة .	(2) أوزباكستان	

**السؤال الرابع : - أجب على الاسئلة التالية : -**

- 1- عدد الشعوب التي كونت الحضارة الإسلامية ؟  
العرب و الفرس و الترك و الأفارقة و الآسيويين و الهنود و الأوروبيين .
- 2- ما خصائص الحضارة الإسلامية ؟  
1- حضارة تسامح . 2- حضارة إيمان وعمل . 3- حضارة إنسانية . 4- حضارة عالمية . 5- حضارة شمولية .
- 3- ما أهم المراكز العلمية في الحضارة الإسلامية ؟  
1- المسجد الحرام في مكة المكرمة و المسجد النبوي في المدينة .  
2- بيت الحكمة في بغداد .  
3- المرصد الفلكي في مراغة في أذربيجان .  
4- مجمع باي كاليان في مدينة بخري في أوزباكستان .

4 - كيف انعكس أثر خصائص الحضارة الإسلامية على دولة الكويت ؟  
حيث نشأ الشعب الكويتي على الحب و التسامح والمساواة و العمل على فعل الخير من خلال تأسيس المؤسسات و الهيئات و الجمعيات الخيرية .

5- عدد أهم المؤسسات الخيرية في دولة الكويت و التي تهتم بالعمل الإنساني؟

1- بيت الزكاة . 2- الهيئة الخيرية الإسلامية العالمية .

6- اذكر أهم المناصب السياسية في الحضارة الإسلامية ؟

- الخليفة - الوالي - الحاجب - القاضي .

7- رتب الخلفاء الراشدين ترتيباً تصاعدياً من حيث فترة توليهم الخلافة ؟

1- أبو بكر الصديق 11هـ إلى 13 هـ .

2- عمر بي الخطاب 13 هـ إلى 23 هـ .

3- عثمان بن عفان 23هـ إلى 35 هـ .

4- علي بن أبي طالب 35 هـ إلى 40 هـ .

8- عدد جهود المسلمين في الزراعة ؟

1- شق القنوات المائية و الترعة .

2- إقامة السدود .

3- تنظيم وسائل الري .

9- كيف اهتمت الدولة الإسلامية في الصناعة ؟

أهتمت الدولة الإسلامية في العديد من الصناعات مثل :

1- صناعة السفن .

2- صناعة الأسلحة .

3- صناعة الورق .

4- صناعة الأدوية .

10- ما هي العوامل التي أدت إلى ازدهار العلم و ظهور العلماء ؟

1- تشجيع و تمويل العلماء من قبل القيادات السياسية من ملوك و سلاطين و أمراء .

2- التنافس العلمي بين الدول الإسلامية .

3- حركة التعريب ( الترجمة ) للكتب القديمة اليونانية و الهندية و الفارسية و غيرها .

4- الرخاء الإقتصادي .

11 - كيف انتقلت الحضارة الإسلامية إلى أوروبا و الاستفادة منها ؟

من خلال حركة الترجمة و العلاقات التجارية .

12- اذكر أسماء القارات التي يمتد بها العالم الإسلامي ؟

- آسيا و أفريقيا و أوروبا و أمريكا الجنوبية .

13 - اذكر أهمية السهول ؟

أ- استخدامها كموانئ طبيعية .

ب- تشييد المدن .

ت- تركيز السكان فيها لسهولة التنقل .

14 - عدد أنواع السهول في العالم ؟

أ- السهول الفيضية النهرية .

ب- السهول الساحلية .

مقدمة طارق السيد رجب



15 - عدد العوامل التي لعبت دوراً في تنوع المناخ في دول العالم الإسلامي ؟

- أ- امتداد دول العالم الإسلامي على مساحة شاسعة .
- ب- الموقع بالنسبة لدوائر العرض
- ت- الإطلالة على عدة مسطحات مائية في معظم أجزائه.
- ث- التنوع في التضاريس .

16 - ما الفرق بين إنتاج النفط و احتياطي النفط ؟

- إنتاج النفط : هو استخراج النفط من باطن الأرض و استخدامه .
- احتياطي النفط : هو كميات النفط المخزونة في باطن الأرض .

17 - ما هي الصناعات التي يمكن إنتاجها من النفط الخام ؟

- المستحضرات الدوائية
- الأسمدة
- المبيدات الحشرية

18 - ما هي انعكاسات إنتاج النفط على صحة الانسان ؟

- تؤثر على صحة الانسان بشكل سلبي لأنها تلوث الهواء .

19 - عدد بعض المعادن في دول العالم الإسلامي ؟

- اليورانيوم
- الذهب
- الفضة
- الحديد
- النحاس
- القصدير
- الفوسفات

20 - اذكر اهم استخدامات معدن اليورانيوم ؟

- إنتاج الطاقة النووية لأغراض عسكرية .
- صناعة الدبابات و الصواريخ .

21 - اذكر العوامل التي تساعد على الإنتاج الزراعي ؟

- التربة الخصبة .
- المناخ .
- وجود البحيرات و الأنهار و الآبار .
- سقوط الامطار .
- كثرة السكان و الايادي العاملة .

22 - عدد أهم مصادر الإنتاج في دول العالم الإسلامي ؟

- أ- مصادر طبيعية : المحيطات و البحار - المياه العذبة .
- ب- مصادر غير طبيعية : الاستزراع السمكي .

23 - اذكر أسماء الدول الإسلامية التي تطل على أكثر من سطح مائي ؟

- مصر - السعودية - ايران جزر المالديف - تركيا .

24 - اذكر أسماء الدول الإسلامية التي لا تطل على سطح مائي ( مغلقة ) ؟

- تشاد - النيجر - مالي .

## السؤال الخامس : - علل لما يأتي:-

- 1- قلة عدد السكان في المناطق الجبلية في دول العالم الإسلامي ؟  
بسبب قلة وجود الأكسجين و شدة انحدارها و صعوبة التنقل و ندرة المياه .
- 2- تسمية مرتفعات الحجاز بهذا الاسم ؟  
لأنها تحجز بين سهل تهامة في المغرب عن هبة نجد في الشرق .
- 3- الكثافة السكانية عالية في الكويت و دول الخليج على الرغم من وقوعهم في الإقليم الصحراوي الحار ؟  
ذلك لتوافر العوامل التي أدت إلى جذب السكان و منها الأمن و الأمان و الرعاية الصحية و توافر فرص العمل .
- 4- تركز زراعة الأرز في ماليزيا و باكستان و إندونيسيا و بنغلادش ؟  
بسبب وقوعهم في الإقليم الاستوائي و الموسمي الحار و ارتفاع درجة الحرارة و كثرة الأمطار .

## السؤال السادس: - أكمل ما يأتي:-

- 1- قامت الدولة الإسلامية في القرن الثامن الميلادي .
- 2- تميز المسلمون في تجارتهم حيث وصلوا إلى إندونيسيا .
- 3- عالم ألف كتاب الصيدلة في الطب يسمى البيروني .
- 4 -ألف البيروني 180 مؤلفاً بينما الجاحظ ألف 350 كتاباً.
- 5- دخلت اللغة العربية ضمن اللغات الرسمية في ديسمبر 1973.
- 6- اعتبار 18 ديسمبر من كل عام ، يوم الاحتفال باللغة العربية .
- 7- العالم اليوناني الذي اخترع جدول الضرب يسمى فيثاغورس .
- 8- لقب سمو الأمير الشيخ صباح الأحمد الجابر الصباح بقائد العمل الإنساني من قبل الأمم المتحدة في 9 سبتمبر 2014م.
- 9- اجتمع المسلمين بعد وفاة الرسول صلى الله عليه و سلم في 12 من ربيع الأول عام 11هـ في سقيفة بني ساعدة .
- 10 - بعد وفاة الرسول صلى الله عليه وسلم ظهر منصب إداري جديد يسمى ال خليفة .
- 11 - الخليفة الذي استحدث منصب المحتسب هو عمر بن الخطاب رضي الله عنه .
- 12 - من مظاهر إهتمام الحضارة الإسلامية بالزراعة إنشاء ديوان الماء في مدينة مرو الواقعة في خراسان " إيران حالياً " .
- 13- اسهمت التجارة في نشر الدين الإسلامي .
- 14- صادرات العالم الإسلامي في التبادل التجاري : التمور والفواكة واللبن و الخيول العربية .
- 15- واردات العالم الإسلامي في التبادل التجاري : الأخشاب و التوابل و الذهب .
- 16- محطة تم اكتشافها في دولة الكويت كانت استراحة لقوافل الحجاج تسمى محطة الشجي .



- 17- من الطرق التجارية البحرية قريتان في جزيرة فيلكا تعودان للعصر الإسلامي هما قرية القرينية و القصور .
- 18- الجهة المسؤولة عن الوقف في دولة الكويت هي وزارة الأوقاف و الشؤون الإسلامية .
- 19- من أهم المظاهر العمرانية في دولة الكويت هو المسجد الكبير .
- 20- تم افتتاح المسجد الكبير في عهد الشيخ جابر الأحمد الصباح في عام 1986م .
- 21- صمم المسجد الكبير وفق الطراز الأندلسي الإسلامي .
- 22- مسجد يقع في المدينة المنورة أنشئ خلال شهرين من الهجرة هو المسجد النبوي.
- 23- مسجد يشمل قبة الصخرة و المسجد القبلي يقع في القدس هو المسجد الأقصى المبارك .
- 24 - تقع جامعة الزيتونة في تونس و جامع قرطبة في الأندلس .
- 25 - قصر يقع في مدينة غرناطة بالأندلس يتميز و بالسقوف المزخرفة يسمى قصر الحمراء .
- 26 - تميز المجتمع الإسلامي بسماع القصص و الحكايات في مجالس تسمى القصاص و الوعاظ .
- 27- عالم مسلم يرجع له الفضل في تطوير فكرة الكامرة يسمى الحسن بن الهيثم .
- 28- ألف 350 كتاباً و أهمها " كتاب الحيوان " يسمى الجاحظ .
- 29- عالم مسلم أهتم في مجال الفلسفة و أثر في العالم الإنجليزي روجير بيكون يسمى الكندي
- 30 عالم مسلم أهتم في مجال الجغرافيا و كان يؤمن بكروية الأرض يسمى الشرif الإدريسي .
- 31- استفاد الأوروبيون من طريقة نقل الرسائل جواً عن طريق الحمام الزاجل .
- 32- تضم قارة آسيا 27 دولة إسلامية و إفريقيا تضم 26 دولة إسلامية .
- 33- تضم قارة أوروبا دولتين إسلاميتين هما البوسنة و الهرسك و ألبانيا و أمريكا الجنوبية دولة واحدة هي سورينام
- 34 - أن العالم الإسلامي يقع بين خطي طول 18 غرباً إلى 141 شرقاً.
- 35 - جمهورية كازاخستان أكبر الدول الإسلامية من حيث المساحة و اصغر دول العام الإسلامي هي جمهورية المالديف .
- 36 - تقع دولة الكويت في الإقليم المناخي الصحراوي .
- 37 - الدولة التي يوجد بها أكثر من إقليم مناخي هي تركيا .
- 38 - أهم مصادر الطاقة في العالم هما النفط و الغاز الطبيعي .
- 39 - ينتج العالم الإسلامي من النفط الخام 41,5% من اجمالي الإنتاج العالمي .
- 40 - احتلت إندونيسيا المركز الثاني على مستوى العالم في الإنتاج البحري في عام 2014م .
- 41 - يبلغ انتاج العالم الإسلامي للحبوب حوالي 14% من اجمالي الإنتاج العالمي.
- 42 - تل دولة الكويت الذي يقع بالجنوب هو تل وارة .

السؤال السابع : - ضع خط تحت الخيار الصحيح من بين الخيارات التي تلي كل عبارة :

1- المسجد الأموي يقع في :

1- القاهرة 2- دمشق 3- إسطنبول 4- تونس

2 - جامع عمرو بن عاص يقع في :

1- الفسطاط 2- الأندلس 3- تونس 4- القاهرة

3 - الجامع الأزهر يقع في :

1- إسطنبول 2- تونس 3- القاهرة 4- دمشق

4 - مسجد السلطان أحمد يقع في :

1- دمشق 2- القاهرة 3- تونس 4- إسطنبول

5- اقل الأقاليم انتشار في دول العالم الإسلامي هو :

1- الاستوائي .

2- المداري .

3- الصحراوي .

4- القاري المتطرف شديد البرودة .

6- الدولة الإسلامية التي يوجد بها أكثر من إقليم مناخي هي :

1- العراق

2- السودان

3- تركيا

4- مصر

7- حوض او منخفض طبيعي على سطح الأرض هو :

1- السهول

2- الوادي

3- التل

4- الهضبة

8- تبلغ مساحة العالم الإسلامي حوالي..... مليون كم2.

1- 22

2- 32

3- 45

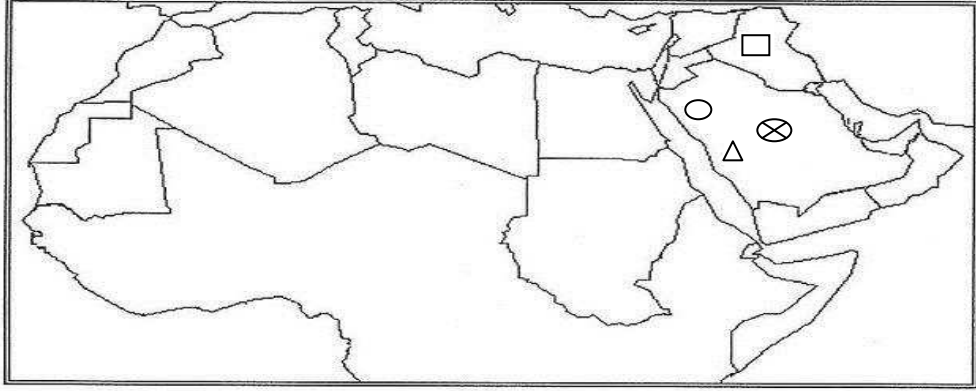
4- 42

السؤال الثامن :- قارن بين :

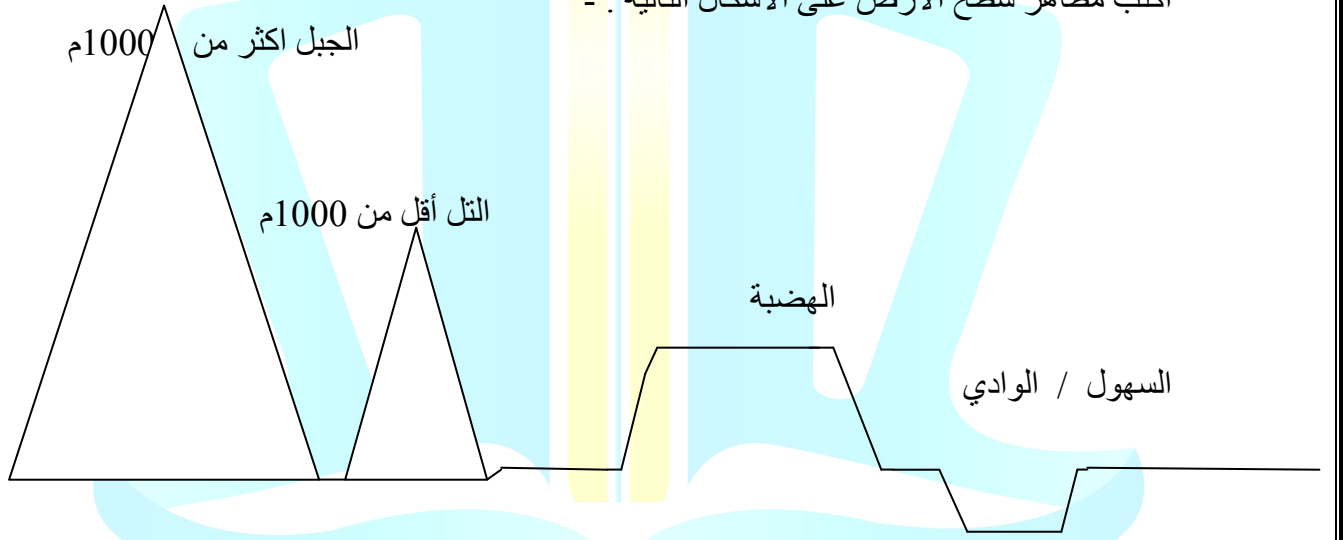
وجه المقارنة	المناخ	الطقس
التعريف	حالة الجو خلال فترة زمنية طويلة .	حالة الجو خلال فترة زمنية قصيرة ( أيام )
وجه المقارنة	الجبل	التل
التعريف	كل ما له قمة و يزيد ارتفاعه عن 1000 متر .	يشبه الجبل و لكن هو ما يقل عن 1000 متر .

**السؤال التاسع :- علي خريطة الوطن العربي الصماء حدد ما يأتي :-**

- 1- مكة المكرمة بوضع الإشارة  $\Delta$
- 2- المدينة النورة بوضع الإشارة  $\bigcirc$
- 3- بيت الحكمة في بغداد بوضع الإشارة  $\square$
- 4- هضبة نجد بوضع الإشارة  $\otimes$



أكتب مظاهر سطح الأرض على الأشكال التالية :-



مدرسة طارق السيد رجب