

تم تحميل هذا الملف من موقع المناهج الكويتية



منطقة الفروانية التعليمية

الملف إجابة الاختبار النهائي لمنطقة الفروانية التعليمية

موقع المناهج ← ملفات الكويت التعليمية ← الصف الثامن ← اجتماعيات ← الفصل الأول

روابط مواقع التواصل الاجتماعي بحسب الصف الثامن



روابط مواد الصف الثامن على تلغرام

[الرياضيات](#)

[اللغة الانجليزية](#)

[اللغة العربية](#)

[التربية الاسلامية](#)

المزيد من الملفات بحسب الصف الثامن والمادة اجتماعيات في الفصل الأول

مسودة كتاب الطالب في مادة الاجتماعيات لعام 2018	1
خطة توزيع منهج العام الجديد في مادة الاجتماعيات	2
حل الوحدة الاولى في مادة الاجتماعيات	3
ورقة عمل في مادة الاجتماعيات	4
ورقة عمل في مادة الاجتماعيات	5



وزارة التربية
الإدارة العامة لمنطقة الفروانية التعليمية
التوجيه الفني للاجتماعيات

العام الدراسي : ٢٠٢٥ / ٢٠٢٦ م
الزمن : ساعة ونصف
عدد الأوراق : (٦)

امتحان الفترة الدراسية الأولى
لمقرر الكويت والعالم الإسلامي
للفصل الثامن المتوسط

نموذج الإجابة

السؤال الأول (موضوعي) يتكون من (أ - ب - ج - د - هـ - و) : (٣٠ درجة)
(أ) ظل الخيار الصحيح من بين الخيارات التي تلي كل عبارة : (٥ = ١ × ٥)

١- العام الذي تم فيه إدخال اللغة العربية ضمن اللغات الرسمية في هيئة الأمم المتحدة : ص ٢٠

١٩٧١م	١٩٧٢م	١٩٧٣م	١٩٧٤م
-------	-------	-------	-------


٢- المدينة التي عَرَف منها المسلمون صناعة الورق الرخيص : ص ٣٧

دمشق	الفسطاط	اليمامة	سمرقند
------	---------	---------	--------

٣- القارة التي تقع فيها هضبة الصحراء الكبرى : ص ٥٨

آسيا	إفريقيا	أستراليا	أوروبا
------	---------	----------	--------

٤- الصورة المقابلة تشير إلى نوع من أنواع المزروعات : ص ٧٨



الأرز	الشعير
الذرة	القمح

٥- الدولة الإسلامية التي تحتل المركز الثاني على مستوى العالم في الإنتاج البحري لعام ٢٠١٤م : ص ٨٢

باكستان	عمان	إندونيسيا	المغرب
---------	------	-----------	--------

(ب) صَنَّف أسماء علماء المسلمين حسب ما هو موضح في الجدول : (٥ = ١ × ٥)
(البيروني - جابر بن حيان - الخوارزمي - ابن سينا - الشريف الإدريسي)

الجبر و المقابلة	القانون المسعودي	أسرار الكيمياء	رسم خريطة العالم	القانون في الطب
الخوارزمي	البيروني	جابر بن حيان	الشريف الإدريسي	لابن سينا
ص ٤٤	ص ٤٤	ص ٤٤	ص ٤٥	ص ٤٦

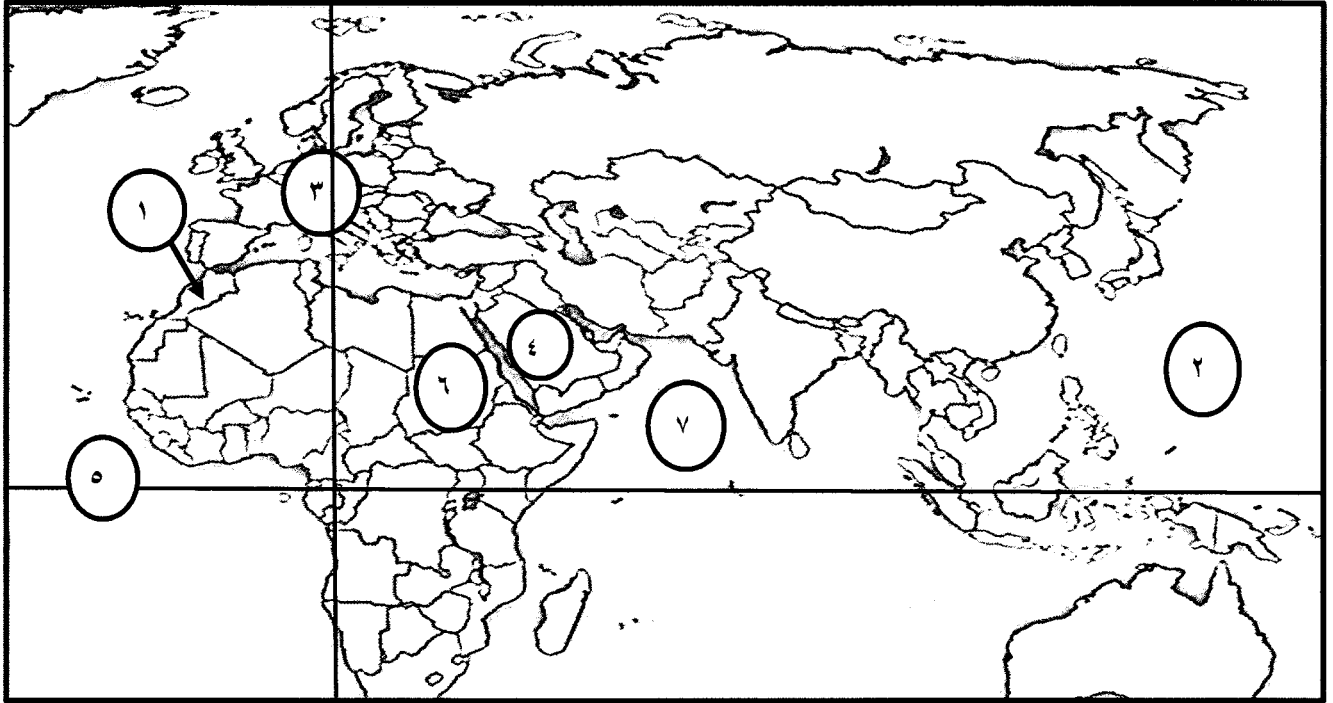
تابع السؤال الأول (موضوعي) :

(ج) صحّح ما تحته خط بكتابة الإجابة الصحيحة بين القوسين : (٥ = ١ × ٥)

- ١- المدينة التي انطلقت منها الدعوة الإسلامية تسمى المدينة المنورة. (مكة المكرمة) ص ١٦
- ٢- الخاصية الحضارية التي تشير إليها الآية الكريمة «وَكَذَلِكَ جَعَلْنَاكُمْ أُمَّةً وَسَطًا» تسمى متطورة. (وسيطية) ص ٢٤
- ٣- العام الذي حدثت فيه معركة ذات الصواري البحرية ٢٤هـ. (٣٤هـ) ص ٣٦
- ٤- الدولة التي تشتهر سهولها بإنتاج محصول الفول السوداني تسمى جمهورية السودان. (السنغال) ص ٦٢
- ٥- النسبة المئوية لإنتاج العالم الإسلامي من إجمالي الغاز الطبيعي في العالم نحو ٢٦%. (٣٦%) ص ٧١

(د) لاحظ خريطة العالم الإسلامي الصماء التي أمامك ثم اكتب الرقم الدال على العبارات التالية :

(٥ = ١ × ٥)



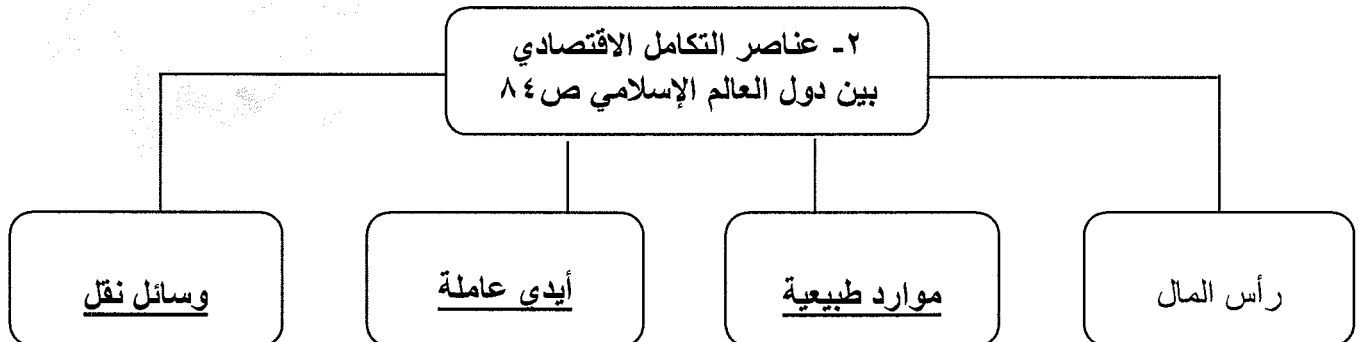
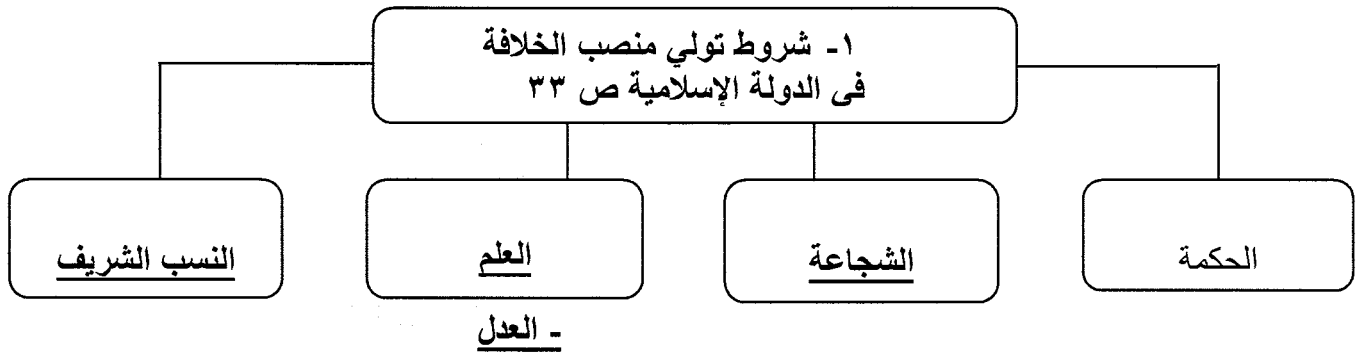
- ١- المغرب يمثله على الخريطة الرقم. (١) ص ٨١
- ٢- المحيط الهندي يمثله على الخريطة الرقم. (٧) ص ٥٤
- ٣- هضبة نجد يمثّلها على الخريطة الرقم. (٤) ص ٥٨
- ٤- السودان يمثله على الخريطة الرقم. (٦) ص ٨١
- ٥- خط الاستواء يمثله على الخريطة الرقم. (٥) ص ٦٣

تابع السؤال الأول (موضوعي) :

هـ) اختر من القائمة (ب) ما يناسبها من القائمة (أ) وذلك بوضع الرقم المناسب في المكان الصحيح :
(٤ = ١ × ٤)

القائمة (أ)	الرقم المناسب	القائمة (ب)
١- دولة الخلافة الراشدة . ص ١٧	٤	إسطنبول.
٢- الدولة الاموية . ص ١٧	٣	بغداد.
٣- الدولة العباسية . ص ١٧	١	المدينة المنورة والكوفة.
٤- الدولة العثمانية . ص ١٧	٢	دمشق.

و) أكمل المخططات السهمية التالية بما يناسبها : (٦ = ١ × ٦)



السؤال الثاني (مقال) يتكون من (أ - ب - ج) : (١٠ درجة)

(أ) اقرأ الفقرة التالية ثم أجب عما يليها من أسئلة : (٤ درجات)

تحتل الحضارة الإسلامية مكانة رفيعة بين كبرى الحضارات التي عرفها التاريخ ، فهي من أطولها عمراً ، وأعماها أثراً في مسيرة البشرية ، وللحضارة الإسلامية جوانب روحية وجوانب مادية. وقامت الحضارة الإسلامية على أسس قوية و ثابتة، فانطلقت منها نحو الازدهار والرفي.

١- عرّف ما تحته خط. ص ١٩ (درجة)

- كل ما يطرأ على المجتمع من تقدم ورقي في جميع نواحي الحياة الروحية والمادية.

٢- استخرج من الفقرة جانب من جوانب الحضارة الإسلامية. ص ١٩ (درجة) (يكتفى بنقطة)

- الجوانب الروحية. - الجوانب المادية.

٣- اذكر أسس قيام الحضارة الإسلامية. ص ٢٠ (درجتان) (يكتفى بنقطتين)

- الدين الإسلامي - اللغة العربية.

- الحضارات الأخرى.

(ب) فرّق بين كل مما يلي من حيث المفهوم : (٤ درجات)

السدود ص ٣٥	قنوات الري ص ٣٥
- الجدار الذي يبني لقطع مجرى النهر لمنع تدفق فيضانه أو لمنع سيول الأمطار في الأودية، وجعلها خزانات لمياه الشرب والري .	- مجرى مائي تحت الأرض يربط بين سلسلة من آبار المياه الجوفية لاستغلالها لري مساحات شاسعة من الأراضي الزراعية.
سهول ساحلية ص ٦١	سهول فيضيه ص ٦١
- الأراضي المنبسطة التي تجاور سواحل البحار والمحيطات.	- الأراضي المنخفضة التي تكوّنت من التربة التي حملتها مياه الأنهار.

(ج) نفذ ما هو مطلوب فيما بين القوسين : (درجتان)

١- زيادة الإنتاج الزراعي في دول العالم الإسلامي. (العوامل) ص ٧٦ (يكتفى بنقطتين)

- التربة الخصبة. - المناخ. - سقوط الأمطار.

- وجود البحيرات والأنهار والآبار. - كثرة السكان والأيدي العاملة.

السؤال الثالث (مقال) يتكون من (أ - ب - ج) : (١٠ درجة)

(أ) عدد اثنين لكل مما يلي : (٤ درجات)

- ١- عوامل ازدهار الحضارة الإسلامية .
ص ٢٥ (درجتان) (يكتفى بنقطتين)
- العامل السياسي .
- العامل الاقتصادي .
- العامل العلمي الثقافي .
- العامل الأخلاقي .

- ٢- خصائص موقع دول العالم الإسلامي .
ص ٥٣ (درجتان) (يكتفى بنقطتين)
- التحكم بالعديد من الممرات المائية الهامة .
- تنوع الموارد الطبيعية والاقتصادية .
- منطقة التقاء قارات العالم القديم والحضارات .
- تنوع الأقاليم المناخية في دول العالم الإسلامي .

(ب) قارن بين كل مما يلي : (٤ درجات)

المقارنة	معدن اليورانيوم ص ٧٤	معدن الفوسفات ص ٧٤
الدولة الأولى في الإنتاج	جمهورية كازاخستان (درجة)	المملكة المغربية (درجة)
أهم الصناعات	- صناعة الطاقة النووية، - صناعة الزجاج . (درجة) (يكتفى بنقطة)	- صناعة الأسمدة . - صناعة المنظفات . (درجة) (يكتفى بنقطة)

(ج) عرّف ما يلي : (درجتان)

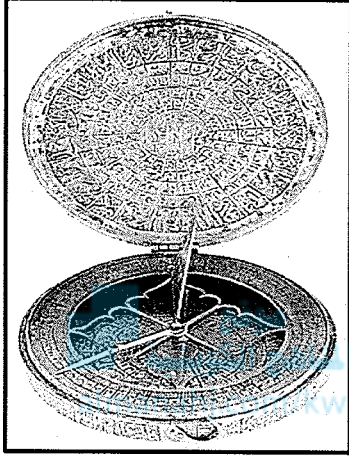
- ١- بيت مال المسلمين : المبنى أو المكان الذي تحفظ فيه الأموال العامة للدولة الإسلامية التي جمعت من موارد متنوعة .
ص ٣٩
- ٢- المعدن : عنصر أو مركب كيميائي بطبيعته ناتج عن عمليات جيولوجية .
ص ٧٣

(١٠ درجات)

السؤال الرابع (مقال) يتكون من (أ - ب - ج) :

(٤ درجات)

أ (لاحظ الصورة التي أمامك ثم أجب عن الأسئلة المقابلة لها :



ص ٣٨

١- ما اسم هذه الأداة؟

- البوصلة.

ص ٣٨

٢- ما المقصود بها؟

- أداة ملاحية لتحديد الاتجاهات وتحتوي على مؤشر مغناطيسي يدور بحرية ليوجه نفسه دائماً نحو الشمال.

ص ٣٨

٣- كيف طور المسلمون هذه الأداة؟

- تثبتت الإبرة المغناطيسية فيها بدل ما كانت عائمة.

٤- لماذا تعتبر هذه الأداة ذات أهمية في انتعاش الحركة التجارية ؟ ص ٣٨

- سهّلت معرفة الاتجاهات على القوافل والسفن التجارية الإسلامية.

(٤ درجات)

ب (علّل لما يلي :

ص ٥٦ (درجتان) (يكتفى بنقطتين)

١- يقل تركيز السكان في الجبال.

- قلة وجود الأوكسجين.

- شدة انحدارها.

- صعوبة التنقل.

- انخفاض الضغط الجوي.

ص ٦٤ (درجتان) (يكتفى بنقطتين)

٢- تنوع الأقاليم المناخية في دول العالم الإسلامي.

- امتداد دول العالم الإسلامي على مساحة شاسعة.

- إطلالة على عدة مسطحات مائية في معظم أجزائه.

- الموقع بالنسبة لدوائر العرض.

- التنوع في أشكال التضاريس (جبال - هضاب - سهول - تلال).

(درجتان)

ج (اكتب عن :

ص ٨١ (يكتفى بنقطتين)

١- تطوير قطاع الثروة الرعوية في دول العالم الإسلامي.

- الدعم المادي.

- الرعاية البيطرية.

- إنشاء المحميات.

- زراعة الأعلاف.

انتهت الإجابة ،،،