

تم تحميل هذا الملف من موقع المناهج الكويتية



الملف نماذج اختبارات تجريبية شاملة

موقع المناهج ⇐ ملفات الكويت التعليمية ⇐ الصف السابع ⇐ اجتماعيات ⇐ الفصل الأول

روابط مواقع التواصل الاجتماعي بحسب الصف السابع



روابط مواد الصف السابع على تلغرام

الرياضيات	اللغة الانجليزية	اللغة العربية	التربية الاسلامية
---------------------------	----------------------------------	-------------------------------	-----------------------------------

المزيد من الملفات بحسب الصف السابع والمادة اجتماعيات في الفصل الأول

كتاب الطالب في مادة الاجتماعيات للعام الدراسي 2018	1
حل الوحدة الاولى في مادة الاجتماعيات	2
تلخيص رائع في مادة الاجتماعيات	3
حل الوحدة الثانية في مادة الاجتماعيات	4
تلخيص ممتاز في مادة الاجتماعيات	5



مدرسة التميز النموذجية ابتدائي - متوسط - ثانوي

نموذج اختبار تجريبي

مادة الاجتماعيات

الصف السابع

الفصل الدراسي الأول



2026 / 2025
الفصل الدراسي الأول

السؤال الأول: يتكون من (أ - ب - ج)

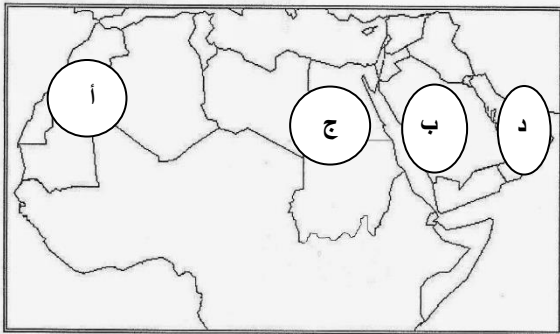
(أ) ضع علامة (✓) امام العبارة الصحيحة وعلامة (x) أمام عبارة الغير صحيحة فيما يلي.

ت	العبارة
1	تبلغ مساحة الوطن العربي الاجمالية حوالي 500، 13م كم 2
2	أكبر الأقاليم المناخية امتدادا في الوطن العربي إقليم اسمه المداري
3	حضارة قديمة مركزها مدينة البتراء اسمها الأنباط
4	العام الذي دارت فيه معركة ذات السلاسل 13 هـ
5	أحد رموز الثورة السنوسية القائد عمر المختار

(ب) اختر الإكمال المناسب للعبارة التالية من بين الخيارات التي تلي كلا منها وضع خطأ تحتها.

1 - الدولة العربية التي تحد الوطن العربي غربا

(الكويت - جزر القمر - الصومال - المغرب)



2. الحرف الذي يمثل الخليج العربي على الخريطة

(أ - ب - ج - د)

3. الشكل المقابل يمثل أحد مظاهر حضارة

(سبأ - مصر - جرمة - فيلكا)



4. أهم مراكز تجارة العرب قبل الإسلام مدينة اسمها

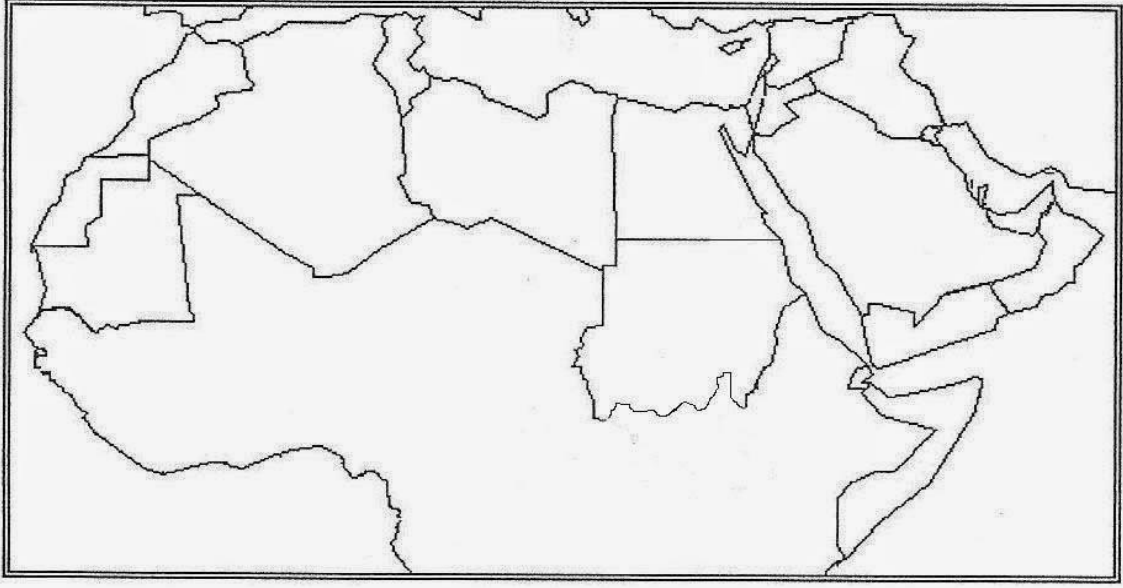
(المدينة - بغداد - القاهرة - مكة)

5. المسطح المائي الي يفصل بين الجناح الأفريقي والجناح الآسيوي

(البحر الأحمر - البحر المتوسط - بحر العرب - البحر الأسود)



ج. امامك خريطة الوطن العربي الصماء نفذ عليها ما يلي



د. حدد على الخريطة باستخدام الرموز.



1. الخليج العربي بالرمز ☆ ☆
2. الدولة العربية التي يمر بها خط جرينتش بالرمز ○
3. جبل توبقال في المغرب بالرمز △
4. وادي الحياة ليبيا بالرمز ↗ ↗
5. موطن حضارة الكوش ⊕

هـ (أكمل العبارات التالية بما يناسبها مما درست.

1. عدد الدول العربية في الجناح الأفريقي حوالي
2. منخفضات طبيعية تمتد بين التضاريس المختلفة
3. فترة زمنية محددة يتميز فيها الانسان بطريقة عيش مختلفة عن العصور الأخرى
4. أحد المراكز الأدبية للعرب قبل الإسلام سوق
5. الأراضي المنبسطة التي تمتد على جانبي الأنهار تسمى



السؤال الثاني: يتكون من (أ - ب - ج)

أ. اكتب المفهوم أو المصطلح الدال على العبارات التالية.

الاسم	العبرة
1.	السيطرة على الموارد والثروات لصالح الدول المستعمرة
2.	مكان الإقليم او الدولة على سطح الأرض بالنسبة للموقع النسبي والفلكي
3.	تعد من أقدم نظم الكتابة في افريقيا منذ القرن الثالث ق.م
4.	علم توجيه وقيادة المركبة البحرية
5.	جهود الشعوب لمواجهة الاستعمار بهدف التحرر واستعادة السيادة الوطنية

ب. صنف العبارات التالية حسب الجدول.

(انخفاض مستوى التعليم -توفر موارد طبيعية - نشر الدين المسيحي - تراجع السلطة السياسية)

أوضاع الوطن العربي	أطماع الدول الاوربية
1.....	1.....
2.....	2.....

عرف ما يلي.

1.الوطن العربي

مدرسة التميز النموذجية

(ابتدائي - متوسط - ثانوي)



السؤال الثالث: يتكون من (أ - ب - ج)

اجب عمايلي.

1 - عوامل قيام الحضارات.

أ. ب.

2. أهمية الموقع الجغرافي لدولة الكويت بالنسبة للوطن العربي.

أ.

ب.

3. أشكال التضاريس.

أ. ب.

ب. أكتب فيما يلي.

1. الأقليم المناخية في الوطن العربي.

أ.

ب.

2. معالم حضارة الكوش.

أ.

ب.

3. طرق انتشار الإسلام.

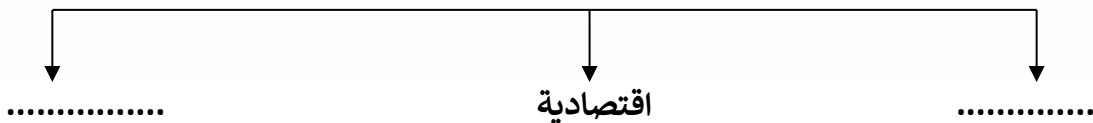
أ.

ب - مدرسة التميز النموذجية

ج. (ابتدائي - متوسط - ثانوي)

ج. أكمل المخطط السهمي التالي.

1. اثار الاستعمار



السؤال الرابع: (أ) اقرأ الفقرة التالية ثم أجب عما يليها من أسئلة من خلال مما درست.

(مرت دولة الكويت بمرحلة مهمة من تاريخها حين وقعت اتفاقية الحماية مع بريطانيا والتي استمرت اثنين وستون عاما أثبتت دولة الكويت قدرتها بالحفاظ على كيانها السياسي وتطوير مؤسساتها

1.أسباب اتفاقية الحماية البريطانية عام 1899م

أ. ب.

2. ملامح الحياة في دولة الكويت تحت الحماية (1899 – 1950 م)

أ. ب.



ج.

3.ألعام الميلادي الذي وقعت فيه اتفاقية الحماية.

عام.....م

4. مظاهر استقلال دولة الكويت.

أ.

ب.

ج.

ج. قارن بين كلا من حسب الجدول.

أوجه المقارنة	خطوط الطول	دوائر العرض
العدد
الخط الرئيسي
الأهمية

(ابتدائي - متوسط - ثانوي)

انتهت الاسئلة



السؤال الأول: يتكون من (أ - ب - ج)

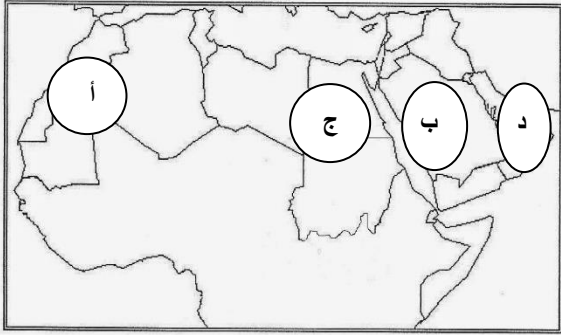
(أ) ضع علامة (√) امام العبارة الصحيحة وعلامة (x) أمام عبارة الغير صحيحة فيما يلي.

ت	العبارات	العلامة
1	تبلغ مساحة الوطن العربي الاجمالية حوالي 500، 13م كم 2	√
2	أكبر الأقاليم المناخية امتدادا في الوطن العربي اقليم اسمه المداري	x
3	حضارة قديمة مركزها مدينة البتراء اسمها الأنباط	√
4	العام الذي دارت فيه معركة ذات السلاسل 13 هـ	x
5	أحد رموز الثورة السنوسية القائد عمر المختار	√

(ب) اختر الإكمال المناسب للعبارات التالية من بين الخيارات التي تلي كلا منها وضع خطأ تحتها.

1 - الدولة العربية التي تحد الوطن العربي غربا

(الكويت - جزر القمر - الصومال - المغرب)



2 - الحرف الذي يمثل الخليج العربي على الخريطة

(أ - ب - ج - د)

3 - الشكل المقابل يمثل أحد مظاهر الحضارة

(سبأ - بابل - جرمه - مصر)



4 - أهم مراكز تجارة العرب قبل الإسلام مدينة اسمها

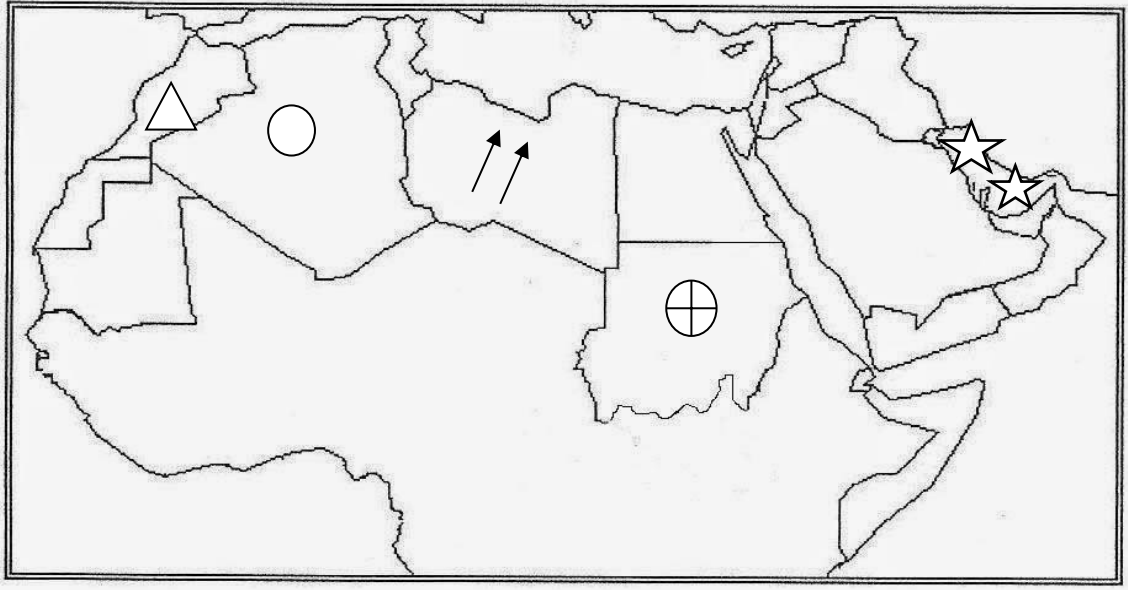
(المدينة - بغداد - القاهرة - مكة)

5- المسطح المائي الي يفصل بين الجناح الأفريقي والجناح الآسيوي

(البحر الأحمر - البحر المتوسط - بحر العرب - البحر الأسود)



ج. أمامك خريطة الوطن العربي الصماء نفذ المطلوب عليها.



د. حدد على الخريطة باستخدام الرموز.



1. الخليج العربي بالرمز ☆ ☆
2. الدولة العربية التي يمر بها خط جرينتش بالرمز ○
3. جبل توبقال في المغرب بالرمز △
4. وادي الحياة ليبيا بالرمز ↗ ↗
5. موطن حضارة الكوش ⊕

هـ) أكمل العبارات التالية بما يناسبها مما درست.

1. عدد الدول العربية في الجناح الأفريقي حوالي 12
2. منخفضات طبيعية تمتد بين التضاريس المختلفة الوديان
3. فترة زمنية محددة يتميز فيها الإنسان بطريقة عيش مختلفة عن العصور الأخرى العصر التاريخي
4. أحد المراكز الأدبية للعرب قبل الإسلام سوق عكاظ
5. الأراضي منبسطة تمتد على جانبي الأنهار تسمى السهول الفيضية



السؤال الثاني. يتكون من (أ - ب - ج)

أ. اكتب المفهوم أو المصطلح الدال على العبارات التالية.

الاسم	العبرة
1.الاستعمار الاقتصادي	السيطرة على الموارد والثروات لصالح الدول المستعمرة
2.الموقع الجغرافي	مكان الإقليم او الدولة على سطح الأرض بالنسبة للموقع النسبي والفلكي
3. الكتابة النبطية	تعد من أقدم نظم الكتابة في افريقيا منذ القرن الثالث ق.م
4. الملاحة	علم توجيه وقيادة المركبة البحرية
5. المقاومة	جهود الشعوب لمواجهة الاستعمار بهدف التحرر واستعادة السيادة الوطنية

ب. صنف العبارات التالية حسب الجدول.

(انخفاض مستوى التعليم -توفر موارد طبيعية - نشر الدين المسيحي - تراجع السلطة السياسية)

أوضاع الوطن العربي	أطماع الدول الاوربية
1.تراجع السلطة السياسية 2.انخفاض مستوى التعليم	1. نشر الدين المسيحي 2.توفر موارد طبيعية

عرف ما يلي.

1.الوطن العربي. مجموعة من الدول العربية يجمعها عدد من السمات المشتركة كالدين واللغة والعادات والتقاليد ووحدة المصير



السؤال الثالث: يتكون من (أ - ب - ج)

اجب عما يلي.

1 - عوامل قيام الحضارات.

أ. الموقع الجغرافي ب. اعتدال المناخ

2. أهمية الموقع الجغرافي لدولة الكويت بالنسبة للوطن العربي.

أ. نقطة اتصال بين اجزائه والعالم

ب. منفذا بحريا ساهم في ازدهار حركة التجارة

3. أشكال التضاريس.

أ. الجبال ب. الوديان

ب. أكتب فيما يلي مما درست.

1. الأقليم المناخية في الوطن العربي.

أ. الإقليم المداري

ب. الإقليم الصحراوي

2 - معالم حضارة الكوش.

أ. اهرامات مروي

ب. ارض الذهب

3. طرق انتشار الإسلام.

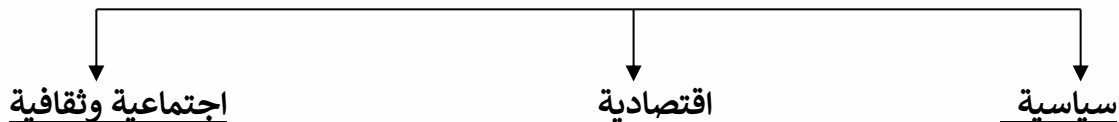
أ. الفتوحات الاسلامية

ب. الدعوة السلمية

ج. التجارة

ج. أكمل المخطط السهمي التالي.

1. اثار الاستعمار



السؤال الرابع. (أ) اقرأ الفقرة التالية ثم أجب عما يليها من أسئلة من خلال مما درست.

(مرت دولة الكويت بمرحلة مهمة من تاريخها حين وقعت اتفاقية الحماية مع بريطانيا والتي استمرت اثنين وستون عاما أثبتت دولة الكويت قدرتها بالحفاظ على كيائها السياسي وتطوير مؤسساتها

1. أسباب اتفاقية الحماية البريطانية عام 1899م.

أ. التهديدات الخارجية ومحاولات السيطرة عليها ب. أهمية الموقع الجغرافي لدولة الكويت

2. ملامح الحياة في دولة الكويت تحت الحماية (1899-1950 م)

أ. اكتشاف النفط وبداية التصدير ب. السيادة الداخلية بيد الأسرة الحاكمة

ج. تطور النشاط التجاري والتنظيم الإداري

3. ألام الميلادي الذي وقعت فيه اتفاقية الحماية.

عام 1899م

4. مظاهر استقلال دولة الكويت.

أ. صدور العملة ب. رفع علم الكويت د. اصدار الدستور

ج. قارن بين كلا من حسب الجدول.

أوجه المقارنة	خطوط الطول	دوائر العرض
العدد	360	180
اسم الخط الرئيسي	جرينتش	الاستواء
الأهمية	معرفة فرق التوقيت بن الدول	تقسيم الأرض الى أقاليم مناخية

مدرسة التميز النموذجية

(ابتدائي - متوسط - ثانوي)



السؤال الأول: (موضوعي) ويتكون من (أ- ب).

(أ) ظلل الخيار الصحيح من بين الخيارات التي تلي كل عبارة.

1. نباتات تنمو في الغابات المعتدلة.

اللاثل	السنديان	الابنوس	العرفج
--------	----------	---------	--------

2. يقع سهلي نهر دجلة والفرات في دولة.

مصر	العراق	الأردن	الصومال
-----	--------	--------	---------

3. مدينة تعرف بالمدينة الوردية.

نبذة	دلمون	البتراء	برقة
------	-------	---------	------

4. حضارة الكوش في بلاد النوبة عاصمتها.

البتراء	بابل	القاهرة	مروي
---------	------	---------	------

6. العالم المسلم الذي اخترع الغرفة المظلمة.

ابن النفيس	الكندي	العبادي	ابن الهيثم
------------	--------	---------	------------

(ب) أكمل العبارات التالية بما يناسبها مما درست.

- 1- اهم مراكز تجارة العرب قبل الإسلام مدينة اسمها.....
- 2- العام الذي دارت فيه معركة ذات السلاسل..... (ابتدائي - متوسط - ثانوي)
- 3- حضارة قديمة مركزها مدينة البتراء اسمها.....
- 4- العصر الذي بدأ فيه الانسان بالتنقل وصيد الحيوانات اسمه.....
- 5- كل ما يطرأ على المجتمع. من تقدم وتطور ورقى في جميع نواحي الحياة اسمها.....



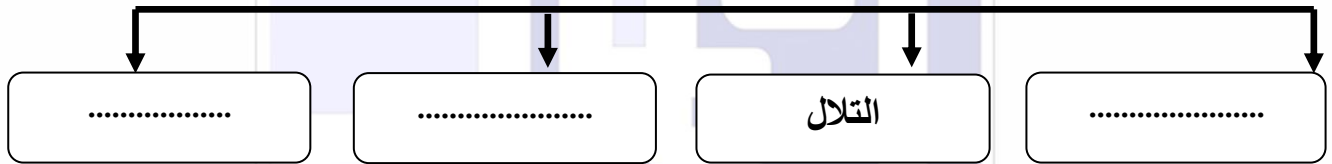
(ج) صوب ما تحته خط في العبارات التالية.

م	العبرة	التصويب
1	الدولة العربية التي اتبعت النظام الاتحادي <u>تونس</u>
2	عالم مسلم الف كتاب شرح تشريح القانون اسمه <u>الكندي</u>
3	موقع اثري في عمان اكتشفت فيه مدافن دائرية <u>جرمة</u>
4	من أبرز معالم الحضارة الفرعونية <u>سد مأرب</u>
5	تنتشر الحشائش المعتدلة (الاستبس) في دولة <u>مصر</u>

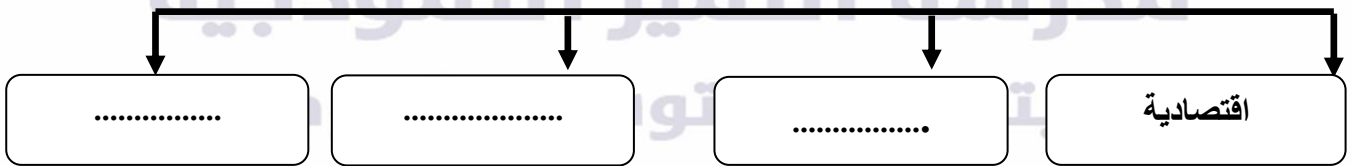
السؤال الثاني ويتكون من (أ- ب- ج)

(أ) أكمل المخططات السهمية التالية.

1. اشكال التضاريس



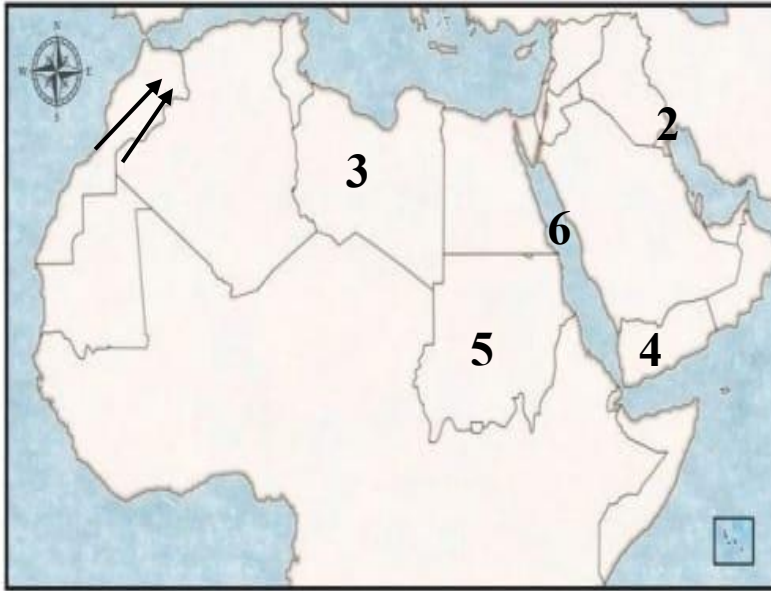
2. آثار الاستعمار



(ب) اكتب المفهوم أو المصطلح الدال على العبارات التالية.

م	العبرة	المفهوم أو المصطلح
1	مكان الدولة او الإقليم على سطح الأرض بالنسبة للموقع الفلكي والموقع النسبي.
2	اشكال سطح الارض.
3	كل ما يطرأ على المجتمع من تقدم ورقي في جميع نواحي الحياة خلال فترة زمنية..
4	عبادة الأصنام والأوثان

(ج) لاحظ خريطة شبه الجزيرة العربية الصماء ثم اكتب الرقم الدال على العبارات التالية.



1. الدولة التي توجد بها حضارة جرمة يمثلها الرقم (.....)
2. المسطح المائي الذي يفصل بين افريقي والاسيوي يمثلها الرقم (.....)
3. الحضارة التي يوجد بها سد مأرب يمثلها الرقم (.....)
4. جبل توبقال يمثلها الرمز (.....)
5. دولة الكويت يمثلها الرقم (.....)

مدرسة التميز النموذجية

(ابتدائي - متوسط - ثانوي)



السؤال الرابع: (مقالي) ويتكون من (أ- ب- ج)

(أ) علل لما يأتي.

1. اكتسب الوطن العربي موقعاً هاماً.

.....

2. تعرف البتراء بالمدينة الوردية.

.....

3. لقب العالم حنين العبادي بشيخ المترجمين.

.....

(ب) قارن بين كل حسب الجدول.

وجه المقارنة	الحضارة الفرعونية	حضارة بابل
الموقع الجغرافي
أبرز المعالم

(ج) عدد اثنين لكل مما يلي.

1- عوامل قيام الحضارات.

.....

مدرسة التميز النموذجية

2- أنواع النباتات في الوطن العربي. (ابتدائي - متوسط - ثانوي)

.....

.....

.....

3. اسباب اتفاقية الحماية البريطانية عام 1899 م

.....

.....



السؤال الخامس: (مقالي) ويتكون من (أ. ب)

(أ) اجب عما يلي.

1. طرق انتشار الاسلام.

.....

.....

.....

2. السمات المشتركة التي تحدد هوية دول الوطن العربي.

.....

.....

.....

3. أهمية السهول الاقتصادية والجغرافية.

.....

.....

.....



(ج) عرف ما يلي.

1. الوديان.

2. الملاحة

3. الاستعمار

4. الاسطرلاب.

5. الأنباط

6. الاستقلال.

انتهت الأسئلة



السؤال الأول: (موضوعي) ويتكون من (أ- ب).

(أ) ظلل الخيار الصحيح من بين الخيارات التي تلي كل عبارة.

1. نباتات تنمو في الغابات المعتدلة.

العرفج	الابنوس	السنديان	الاثل
--------	---------	----------	-------

2. يقع سهلي نهر دجلة والفرات في دولة.

الصومال	الأردن	العراق	مصر
---------	--------	--------	-----

3. مدينة تعرف بالمدينة الوردية.

برقة	البتراء	دلمون	نبته
------	---------	-------	------

4. حضارة الكوش في بلاد النوبة عاصمتها.

مروي	القاهرة	بابل	البتراء
------	---------	------	---------

5. العالم المسلم الذي اخترع الغرفة المظلمة.

ابن الهيثم	العبادي	الكندي	ابن النفيس
------------	---------	--------	------------

(ب) أكمل العبارات التالية بما يناسبها مما درست.

1. اهم مراكز تجارة العرب قبل الإسلام مدينة اسمها مكة
2. العام الذي دارت فيه معركة ذات السلاسل 12هـ
3. حضارة قديمة مركزها مدينة البتراء اسمها الأنباط
4. العصر الذي بدأ فيه الانسان بالتنقل وصيد الحيوانات اسمه الجليدي
5. كل مايطراً على المجتمع المستقر من تقدم وتطور ورفي في جميع نواحي الحياة اسمها الحضارة



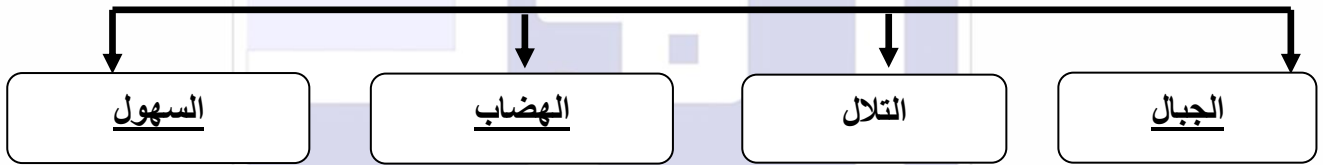
(ج) صوب ما تحته خط في العبارات التالية.

م	العبارة	التصويب
1	الدولة العربية التي اتبعت النظام الاتحادي <u>تونس</u> .	الامارات
2	عالم مسلم ألف كتاب شرح تشريح القانون اسمه <u>الكندي</u>	ابن النفيس
3	موقع أثري في عمان اكتشفت فيه مدافن دائرية <u>جرمة</u>	بوشر
4	من أبرز معالم الحضارة الفرعونية <u>سد مأرب</u> .	أبو الهول
5	تنتشر الحشائش المعتدلة (الاستبس) في دولة <u>مصر</u> .	المغرب

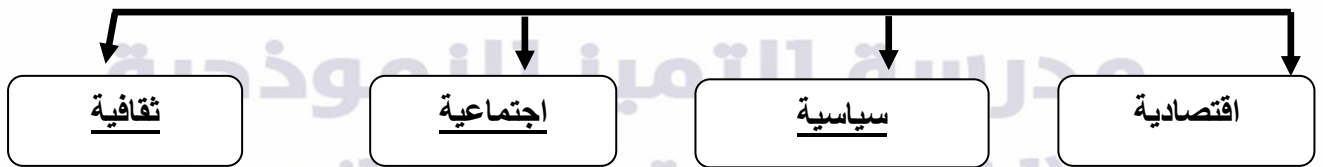
السؤال الثاني موضوعي ويتكون من (ا-ب -ج).

(ا) أكمل المخططات السهمية التالية.

1. اشكال التضاريس



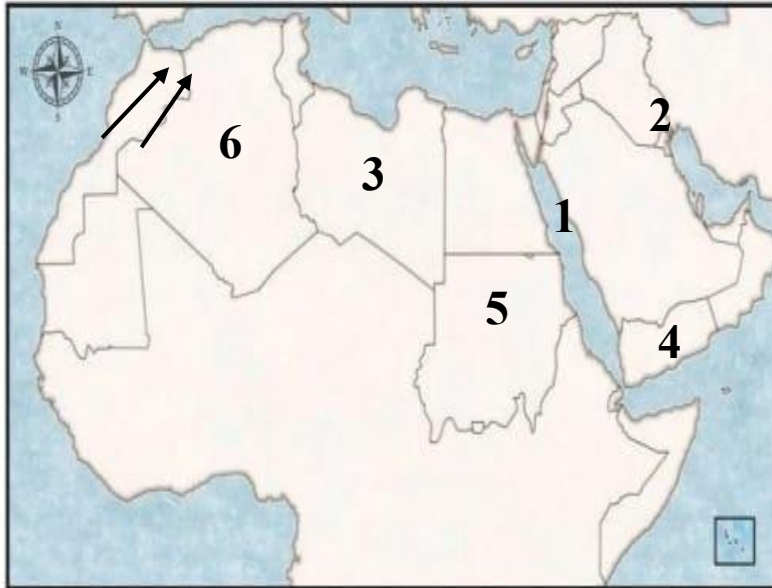
2. آثار الاستعمار



(ب) اكتب المفهوم أو المصطلح الدال على العبارات التالية.

م	العبرة	المفهوم أو المصطلح
1	مكان الدولة او الإقليم على سطح الأرض بالنسبة للموقع الفلكي والموقع النسبي.	الموقع الجغرافي
2	اشكال سطح الارض.	التضاريس
3	كل ما يطرأ على المجتمع من تقدم ورقي في جميع نواحي الحياة خلال فترة زمنية..	الحضارة
4	عبادة الأصنام والأوثان	الوثنية

ج. لاحظ خريطة الوطن العربي الصماء ثم اكتب الرقم الدال على العبارات التالية.



1. الدولة التي يوجد بها حضارة جرمه

يمثلها الرقم (3)

2. المسطح المائي الذي يفصل بين

الجناح الاسيوي والافريقي يمثله الرقم (1)

3. الحضارة التي يوجد بها سد مأرب يمثلها

الرقم (4)

4. جبل توبقال يمثله الرمز ()

5. دولة الكويت يمثلها الرقم (2)

مدرسة التميز النموذجية

(ابتدائي - متوسط - ثانوي)



السؤال الثالث: (مقالي) ويتكون من (أ- ب- ج).

(أ) علل لما يلي.

1- اكتسب الوطن العربي موقعا جغرافيا هاما.

. لان له حدودا بحرية وبرية واسعة.

2- تعرف البتراء بالمدينة الوردية.

. بسبب لون صخورها.

3. لقب العالم حنين العبادي بشيخ المترجمين.

. لإتقانه أربع لغات

(ب) قارن بين كل من.

وجه المقارنة	الحضارة الفرعونية	حضارة بابل
الموقع الجغرافي	مصر	العراق
أبرز المعالم	أبو الهول	شرائع حمورابي

(ج) عدد اثنين لكل مما يلي.

1- عوامل قيام الحضارات.

. الموقع الجغرافي . المناخ المعتدل.

. العنصر البشري

2. أنواع النباتات في الوطن العربي.

. غابات

. الحشائش.

. النباتات الصحراوية.

3. اسباب اتفاقية الحماية البريطانية عام 1899 م.

. الموقع الجغرافي الهام لدولة الكويت

. التهديدات الخارجية ومحاولات السيطرة عليها



السؤال الرابع: (مقالي) ويتكون من (أ- ب).

(أ). اجب عما يلي.

1.. طرق انتشار الاسلام.

. الدعوة السلمية. . التجارة

. الفتوحات العسكرية.

2- السمات المشتركة التي تحدد هوية دول الوطن العربي.

. الدين الاسلامي.

. اللغة العربية.

. التاريخ المشترك.

3.اهمية السهول الاقتصادية والجغرافية.

. توفر موانئ طبيعية . تساعد على استقرار السكان . تشييد المدن

(ب) عرف ما يلي.

1.الوديان. منخفضات طبيعية تمتد بين التضاريس المختلفة

2.الملاحة. علم توجيه وقيادة المركبة البحرية.

3.الاستعمار. استيلاء دولة قوية على دولة أخرى واخضاعها لها بالقوة والسيطرة عليها

4.الاسطرلاب. آلة فلكية تستخدم في الملاحة والفلك لقياس الزوايا

(ابتدائي - متوسط - ثانوي)

5.الأنباط. عرب سكنوا من شمال الحجاز الى جنوب بلاد الشام

6.الاستقلال. حصول الدولة على الحق الكامل في إدارة شئونها الداخلية والخارجية

انتهت الأسئلة



مدرسة التميز النموذجية

(ابتدائي - متوسط - ثانوي)

