

تم تحميل هذا الملف من موقع ملفات الكويت التعليمية



[com.kwedufiles.www//:https](https://www.kwedufiles.com)

*للحصول على أوراق عمل لجميع الصفوف وجميع المواد اضغط هنا

* للحصول على أوراق عمل لجميع مواد الصف السابع اضغط هنا

<https://kwedufiles.com/7>

* للحصول على جميع أوراق الصف السابع في مادة رياضيات وجميع الفصول, اضغط هنا

<https://kwedufiles.com/7math>

* للحصول على أوراق عمل لجميع مواد الصف السابع في مادة رياضيات الخاصة بـ الفصل الأول اضغط هنا

<https://www.kwedufiles.com/7math1>

* لتحميل كتب جميع المواد في جميع الفصول للـ الصف السابع اضغط هنا

<https://www.kwedufiles.com/grade7>

[bot_kwlinks/me.t//:https](https://t.me/bot_kwlinks)

للحصول على جميع روابط الصفوف على تلغرام وفيسبوك من قنوات وصفحات: اضغط هنا

الروابط التالية هي روابط الصف السابع على مواقع التواصل الاجتماعي

مجموعة الفيسبوك

صفحة الفيسبوك

مجموعة التلغرام

بوت التلغرام

قناة التلغرام

رياضيات على التلغرام

وزارة التربية

الإدارة العامة لمنطقة الأحمدية التعليمية

التوجيه الفني للرياضيات

نموذج اجابة امتحان نهاية الفترة الدراسية الاولى — الصف السابع — العام الدراسي : ٢٠٢٢/٢٠٢٣ م
المجال الدراسي : الرياضيات
زمن الامتحان : ساعتان وربع

الإجابة

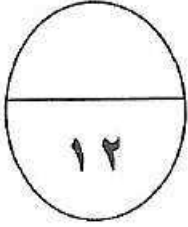
عدد الصفحات : ٦
مكتروال
الحمد

أولاً : المقالية

ملاحظة : تراعى الحلول الأخرى في جميع الأسئلة

سؤال الأول:

(أ) أوجد الناتج :



$$3 = (-7) + 10$$



$$48 = 12 \times 4$$



$$8 = 9 \div 72$$



١ درجة الناتج

(ب) أوجد الناتج :

$$43,092 = 8,52 + 34,9892$$

١ درجة

١ ١ ١

34,9892

٢ درجة

خطوات الجمع

8,52 +

43,092



(ج) أراد محمد وأصدقائه شراء ١٣ تذكرة لحضور مباراة رياضية في مدينة دبي وكان سعر التذكرة الواحدة ٢٠,٦٧ درهم . فكم سيدفع محمد وأصدقائه ثمنًا لشراء التذاكر ؟

$$26871 \text{ دينار} = 20,67 \times 13$$

١ درجة لمباراة الضرب

٣ درجة خطوات

الضرب

20.67

13 x

268.1

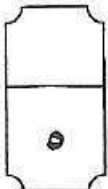
20.67. +

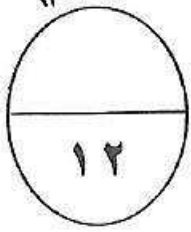
26871

المبلغ الذي سيدفعه محمد وأصدقائه

هو ٢٦٨,٧١ ديناراً

١ درجة الناتج النهائي





السؤال الثاني:

(أ) من مخطط الساق والأوراق أوجد كلا مما يلي :-

القيم : ٤٤ ، ٤٣ ، ٤٠ ، ٢٥ ، ٢١ ، ٢١ ، ١٦

$$\text{المدى} = 44 - 16 = 28$$

$$\text{الوسيط} = 25$$

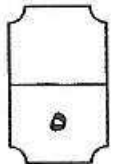
$$\text{المتوال} = 21$$

$$\text{المتوسط الحسابي} = \frac{44 + 43 + 40 + 25 + 21 + 21 + 16}{7}$$

$$= \frac{210}{7}$$

$$= 30$$

الساق	الأوراق
١	٦
٢	١١٥
٤	٠٣٤



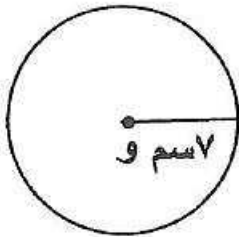
(ب) أوجد مساحة الشكل المقابل حيث و هي مركز الدائرة

$$\left(\frac{22}{7} = \pi \text{ مستخدما} \right)$$

$$\text{المساحة} = \pi \text{ نق}^2$$

$$7 \times 7 \times \frac{22}{7} =$$

$$= 154 \text{ سم}^2$$




(ج) باستخدام طريقة التحليل أوجد مايلي :

$$\sqrt{196}$$

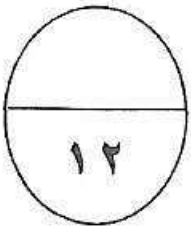
$$7 \times 2 =$$

$$14 =$$

$$\begin{array}{r} 2 \quad 2 \\ \times 2 \quad 2 \\ \hline 4 \quad 4 \\ \times 7 \quad 7 \\ \hline 1 \quad 1 \end{array}$$



السؤال الثالث :



(أ) حل المتباينة التالية :-

$$ص - ٨ < ١٨$$

$$ص - ٨ + ٨ < ١٨ + ٨$$

$$ص < ٢٦$$


$$ص < ٢٦$$

حل المتباينة هو كل عدد صحيح أكبر من ٢٦

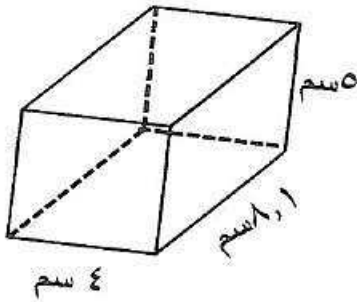
٣

١

١



(ب) أوجد حجم المجسم في الشكل المقابل :



حجم المجسم = الطول × العرض × الارتفاع

$$ح = ل \times ض \times ع$$

$$ح = ٨,١ \times ٤ \times ٥$$

$$ح = ٢٠ \times ٨,١$$

$$ح = ١٦٢ \text{ سم}^٣$$

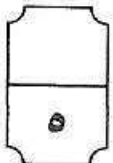
١

١

١

١

١



(ج) حل المعادلة التالية :


٢

١

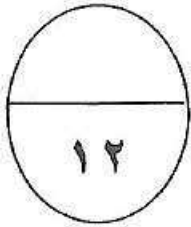
$$١,١٢ + م = ٢,٣٤$$

$$١,١٢ - ١,١٢ + م = ٢,٣٤ - ١,١٢$$

$$م = ١,٢٢$$



السؤال الرابع :




(أ) أوجد الناتج :-

$$7 \div \left(\frac{1}{2} (2 - 9) + 14 \right) =$$

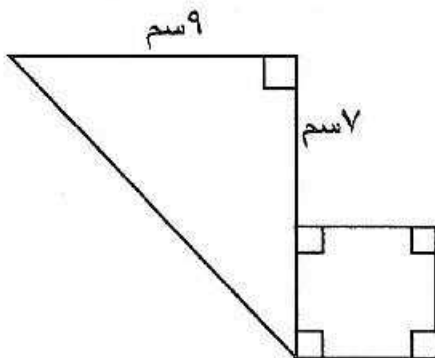
$$\frac{1}{2} \div \left(\frac{1}{2} (7) + 14 \right) =$$

$$\frac{1}{2} \div \frac{29}{2} =$$

$$\frac{1}{2} \times \frac{2}{29} = \frac{1}{29}$$



(ب) أوجد مساحة الشكل المقابل :



$$\frac{1}{2}$$

مساحة المثلث = $\frac{1}{2} \times \text{القاعدة} \times \text{الارتفاع}$

$$\frac{1}{2}$$

$$= \frac{1}{2} \times 9 \times 7 = 31.5 \text{ سم}^2$$

$$\frac{1}{2}$$

مساحة المربع = طول الضلع \times نفسه

$$\frac{1}{2}$$

$$= 5 \times 5 = 25 \text{ سم}^2$$

$$\frac{1}{2}$$

المساحة الكلية = مساحة المثلث + مساحة المربع

$$\frac{1}{2}$$

$$= 31.5 \text{ سم}^2 + 25 \text{ سم}^2 =$$

$$56.5 \text{ سم}^2$$



(ج) رتب مجموعة الأعداد التالية ترتيباً تصاعدياً :-

1,47 ، 1,008 ، 1,009 ، 1,725 ، 1,6

الترتيب التصاعدي :

1,008 ، 1,009 ، 1,47 ، 1,6 ، 1,725

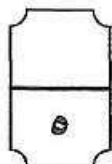
$$\frac{1}{2}$$

$$\frac{1}{2}$$

$$\frac{1}{2}$$

$$\frac{1}{2}$$

$$\frac{1}{2}$$



موقع المناهج الكويتية

تابع نموذج اجابة امتحان نهاية الفترة الدراسية الأولى للصف السابع رياضيات / العام الدراسي (٢٠١٩-٢٠٢٠ م)

ثانيا : الأسئلة الموضوعية

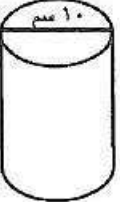

في البنود (٤-١) عبارات ظلل ① إذا كانت العبارة صحيحة ، و ② إذا كانت العبارة خاطئة :

١	القيمة المكانية للرقم الذي تحته خط في العدد $٠,٠٩٨$ هو $٠,٩٠$	①	②
٢	$٤^٢ = ٢^٤$	①	②
٣	$٥^- = (٩^-) + (٤^-)$	①	②
٤	إذا كانت ● تمثل ٥٠٠ متعلم في تمثيل بياني بالمصورات فإن ◐ تمثل ٣٧٥ متعلما .	①	②

في البنود من (٥-١٢) لكل بند أربعة اختيارات واحدة فقط منها صحيح ظلل الرمز الدال على الاختيار الصحيح :

٥	أفضل تقدير لنتاج : $٦٧٥,٣ + ٢٤,٩$ هو :	① ٦٠٠	② ٧٠٠	③ ٨٠٠	④ ٩٠٠
٦	العدد ٢٦٨٠٠ بالصورة العلمية :	① $٢٦,٨ \times ١٠^٢$	② $٢٦,٨ \times ١٠^٣$	③ $٢٦,٨ \times ١٠^٤$	④ $٢٦,٨ \times ١٠^٥$
٧	إذا كانت $٢س + ٨ = ١٢^-$ فإن س =	① ٢	② ١٠	③ ١٠-	④ ٢-
٨	$٤٣٢,٦$ سم =	① $٤٣,٢٦$ مم	② $٤,٣٢٦$ مم	③ $٤٣٢,٦$ مم	④ ٤٣٢٦ مم
٩	شكل سداسي منتظم طول كل ضلع من أضلاعه ٢,٣ مم فإن محيطه يساوي	① ١٣,٨ سم	② ٢,٩ سم	③ ٨,٣ سم	④ ٤,٦ سم
١٠	عدد الرؤوس التي يحويها الجسم المعطى يساوي :	① ٣	② ٤	③ ٢	④ ١



موقع المباحج الكويتية (٢٠١٩-٢٠٢٠ م) / العام الدراسي رياضيات / الصف السابع	
<p>١١ مساحة سطح الأسطوانة الموضحة في الشكل المقابل تساوي :</p>  <p> <input type="radio"/> أ 70π سم^٢ <input type="radio"/> ب 120π سم^٢ <input type="radio"/> ج 150π سم^٢ <input type="radio"/> د 100π سم^٢ </p>	
<p>١٢ من خلال التمثيل البياني المقابل إذا كان الدخل الشهري للأسرة ٥٠٠ دينار فإن ما تدخره الأسرة شهريا هو :</p>  <p> <input type="radio"/> أ ٢٠ دينار <input type="radio"/> ب ٣٥٠ دينار <input type="radio"/> ج ٥٠ دينار <input type="radio"/> د ٣٥ دينار </p>	

جدول إجابة الأسئلة الموضوعية

١	<input type="radio"/> أ	<input checked="" type="radio"/> ب		
٢	<input checked="" type="radio"/> أ	<input type="radio"/> ب		
٣	<input type="radio"/> أ	<input checked="" type="radio"/> ب		
٤	<input checked="" type="radio"/> أ	<input type="radio"/> ب		
٥	<input type="radio"/> أ	<input checked="" type="radio"/> ب	<input type="radio"/> د	<input type="radio"/> ج
٦	<input type="radio"/> أ	<input type="radio"/> ب	<input type="radio"/> ج	<input checked="" type="radio"/> د
٧	<input type="radio"/> أ	<input type="radio"/> ب	<input checked="" type="radio"/> ج	<input type="radio"/> د
٨	<input type="radio"/> أ	<input type="radio"/> ب	<input type="radio"/> ج	<input checked="" type="radio"/> د
٩	<input checked="" type="radio"/> أ	<input type="radio"/> ب	<input type="radio"/> ج	<input type="radio"/> د
١٠	<input type="radio"/> أ	<input type="radio"/> ب	<input type="radio"/> ج	<input checked="" type="radio"/> د
١١	<input type="radio"/> أ	<input checked="" type="radio"/> ب	<input type="radio"/> ج	<input type="radio"/> د
١٢	<input type="radio"/> أ	<input type="radio"/> ب	<input checked="" type="radio"/> ج	<input type="radio"/> د

تمنياتنا لكم بالتوفيق والنجاح