

تم تحميل هذا الملف من موقع ملفات الكويت التعليمية



[com.kwedufiles.www//:https](https://www.kwedufiles.com)

*للحصول على أوراق عمل لجميع الصفوف وجميع المواد اضغط هنا

* للحصول على أوراق عمل لجميع مواد الصف السابع اضغط هنا

<https://kwedufiles.com/7>

* للحصول على جميع أوراق الصف السابع في مادة رياضيات وجميع الفصول, اضغط هنا

<https://kwedufiles.com/7math>

* للحصول على أوراق عمل لجميع مواد الصف السابع في مادة رياضيات الخاصة بـ الفصل الأول اضغط هنا

<https://www.kwedufiles.com/7math1>

* لتحميل كتب جميع المواد في جميع الفصول للـ الصف السابع اضغط هنا

<https://www.kwedufiles.com/grade7>

* لتحميل جميع ملفات المدرس مدرسة طارق السيد رجب المتوسطة للبنين اضغط هنا

[bot_kwlinks/me.t//:https](https://t.me/bot_kwlinks)

للحصول على جميع روابط الصفوف على تلغرام وفيسبوك من قنوات وصفحات: اضغط هنا

الروابط التالية هي روابط الصف السابع على مواقع التواصل الاجتماعي

مجموعة الفيسبوك

صفحة الفيسبوك

مجموعة التلغرام

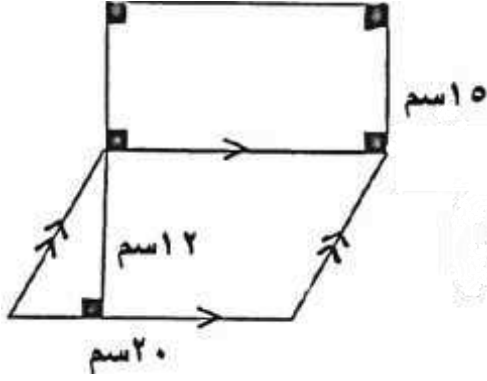
بوت التلغرام

قناة التلغرام

رياضيات على التلغرام

مساحات أشكال مستوية أخرى

١ في الشكل المقابل : أوجد مساحة السطح:

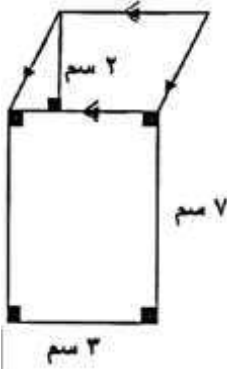


مساحة المستطيل =

مساحة متوازي الأضلاع =

المساحة الكلية للسطح =

٢ أوجد مساحة السطح الموضح بالرسم المقابل:

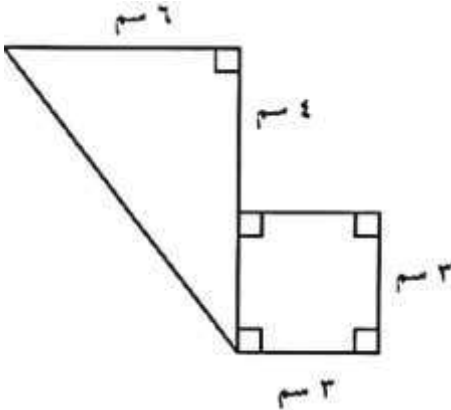


مساحة المستطيل =

مساحة متوازي الأضلاع =

المساحة الكلية للسطح =

٣ أوجد المساحة الكلية للشكل التالي:

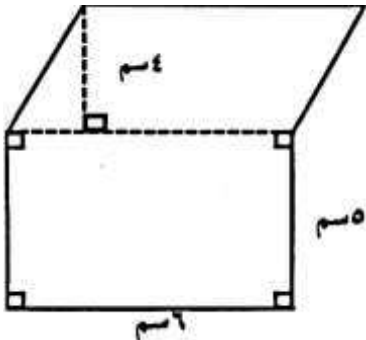


مساحة المربع =

مساحة المثلث =

المساحة الكلية للشكل =

٤ أوجد مساحة الشكل المقابل:



مساحة المستطيل =

مساحة متوازي الأضلاع =

المساحة الكلية للشكل =