

تم تحميل هذا الملف من موقع ملفات الكويت التعليمية



[com.kwedufiles.www//:https](https://www.kwedufiles.com)

\*للحصول على أوراق عمل لجميع الصفوف وجميع المواد اضغط هنا

\* للحصول على أوراق عمل لجميع مواد الصف السابع اضغط هنا

<https://kwedufiles.com/7>

\* للحصول على جميع أوراق الصف السابع في مادة اجتماعيات وجميع الفصول, اضغط هنا

<https://kwedufiles.com/7social>

\* للحصول على أوراق عمل لجميع مواد الصف السابع في مادة اجتماعيات الخاصة بـ الفصل الأول اضغط هنا

<https://www.kwedufiles.com/7social1>

\* لتحميل كتب جميع المواد في جميع الفصول للـ الصف السابع اضغط هنا

<https://www.kwedufiles.com/grade7>

للحصول على جميع روابط الصفوف على تلغرام وفيسبوك من قنوات وصفحات: اضغط هنا [bot\\_kwlinks/me.t//:https](https://t.me/bot_kwlinks)

الروابط التالية هي روابط الصف السابع على مواقع التواصل الاجتماعي

مجموعة الفيسبوك

صفحة الفيسبوك

مجموعة التلغرام

بوت التلغرام

قناة التلغرام

رياضيات على التلغرام



# مراجعة الاجتماعيات



الفصل الدراسي الأول

2019/2018م

الصف السابع

مراجعة الفصل الاول مادة الاجتماعيات  
الصف سابع 2018م

السؤال الأول : أكمل الفراغات التالية :

1- مساحة واسعة من الأرض تمتد ضمن قارة آسيا وأفريقيا تسمى .....



- 2- أنزل القرآن الكريم باللغة .....
- 3- القارة المجاورة لقارة أفريقيا من جهة الشرق تسمى .....
- 4- يفصل بين قارة أفريقيا وقارة أوروبا البحر .....
- 5- الدولة العربية التي تقع بعيدا عن الوطن العربي تسمى .....
- 6- يفصل بين الجناح العربي الآسيوي والجناح الأفريقي البحر .....
- 7- يبلغ عدد دول الوطن العربي..... دولة .
- 8- تبلغ مساحة الوطن العربي..... مليون كم2 .
- 9- مجرى مائي ضيق يشق لأغراض الري والنقل .....
- 10- الموقع بالنسبة لخطوط الطول ودوائر العرض يسمى .....
- 11- يحد الوطن العربي من الشمال البحر .. دولة .....
- 12- يربط مضيق باب المندب بين البحر .. وخليج .....
- 13- أرض مستوية ومساحتها كبيرة تسمى .....
- 14- تمتد في بلاد المغرب العربي سلسلة جبال تسمى .....
- 15- يوجد جبل الشيخ في مرتفعات.....
- 16- هضبة نجد تقع في دولة عربية تسمى .....
- 17- تقسم السهول في الوطن العربي إلى هي سهول ..... وسهول .....
- 18- أكبر هضبة عربية في الجناح الأفريقي تسمى .....
- 19- الرياح المحلية التي تهب على مصر تسمى.....
- 20- الحشائش الحارة في الوطن العربي تسمى..... والمعتدلة تسمى .....
- 21- اهم العوامل المؤثرة في تنوع النبات الطبيعي .....،.....
- 22- النباتات التي لديها القدرة على تخزين المياه في سيقانها هي .....
- 23- النباتات التي لديها جذور طويلة وعميقة هي .....
- 24- تستخدم أخشاب أشجار الغابات المدارية في صناعة .....،.....
- 25- يعتمد على حشائش الأستبس في تربية .....،.....
- 26- من أهم النباتات الصحراوية في البيئة الكويتية .....،.....
- 27- الحملة الكويتية التطوعية لترشيد استهلاك المياه تسمى .....
- 28- يجري في العراق نهريين هما .....،.....
- 29- كل ما يطرأ على المجتمع من تقدم وتطور في جميع نواحي الحياة يسمى .....
- 30- عرفت الكتابة عند القدماء المصريين باسم الكتابة .....
- 31- أول هرم تم بنائه في تاريخ الحضارة المصرية بشكله المدرج هو هرم.....

- 32- إشتهر المصريون القدماء بعدد من الصناعات أهمها .....،.....
- 33- تقدم المصريين القدماء في عدد من العلوم مثل .....،.....
- 34- يطلق اسم الرافدين أو ما بين النهرين علي دولة عربية اسمها .....
- 35- من أشهر ملوك حضارة بابل ملك اسمه.....
- 36- اخترع السومريون كتابة عرفت بالكتابة .....وسميت نسبة الى .....
- 37- الكتابة المسمارية عند السومريون تألفت من .....حرف .
- 38- تعددت الصناعات في بلاد الرافدين منها .....،.....،.....
- 39- قامت حضارات في شبه الجزيرة العربية في منطقتين هما .....،.....
- 40- عاصمة مملكة سبأ مدينة تسمى .....
- 41- عرف أهل اليمن الأبجدية وكانت تتألف من.....حرفاً ، وكانت تكتب بالخط .....
- 42- اسم أطلق علي البحرين قديماً في مرحلة النفوذ الفارسي هو .....
- 43- عرفت دلمون عند الشعوب القديمة بأنها الارض .....
- 44- اشتهرت حضارة دلمون بصناعة .....
- 45- قامت الحضارة العربية والإسلامية على .....،.....
- 46- من أهم مظاهر الحضارة الإسلامية في أوروبا جامعة .....

**السؤال الثاني: ضع علامة ( √ ) أمام العبارات الصحيحة وعلامة ( X ) أمام العبارات غير الصحيحة**

1. يمتد الوطن العربي في قارة آسيا و أفريقيا. ( )
2. يقع الوطن العربي في موقع متوسط بالنسبة للعالم. ( )
3. عاصمة جمهورية جزر القمر مدينة مروني . ( )
4. مساحة الوطن العربي تبلغ 14 مليون كم2 . ( )
5. انزل القرآن الكريم باللغة الفرنسية . ( )
6. يمتد الجزء الاكبر من الوطن العربي في شمال قارة افريقيا . ( )
7. يطل الوطن العربي من الغرب على المحيط الهندي. ( )
8. الدولة العربية التي يمر بها خط الاستواء هي الصومال . ( )
9. الدولة العربية التي يمر بها خط جرينيتش هي المغرب . ( )
10. يعتبر الصقر من طيور البيئة الصحراوية . ( )
11. يربط بين الخليج العربي وخليج عمان قناة السويس . ( )
12. يقع الوطن العربي بالنسبة لقارة أفريقيا في جهة الشمال. ( )

13. تنافست الدول الاستعمارية للسيطرة على الوطن العربي منذ القرن 18م. ( )
14. توجد جبال أطلس في بلاد المغرب العربي. ( )
15. الجبل الاخضر يقع في دولة عمان و ليبيا . ( )
16. جبل الشيخ يقع في مرتفعات البحر الاحمر الشرقية . ( )
17. جبال اطلس تقع في ثلاث دول تونس والجزائر والمغرب . ( )
18. جبال مرة تقع في دولة الصومال . ( )
19. جبال البحر الاحمر الغربية تقع في مصر والسودان . ( )
20. توجد مرتفعات الأحجار في السعودية. ( )
21. توجد هضبة نجد في وسط قارة أفريقيا. ( )
22. من اهم السهول النهرية في الجناح العربي الافريقي سهول نهر النيل . ( )
23. اهم السهول في الجناح العربي الاسيوي سهول نهري دجلة والفرات . ( )
24. حالة الجو لفترة زمنية قصيرة تسمى الطقس. ( )
25. الرياح المحلية التي تهب على شبه الجزيرة العربية تسمى السموم. ( )
26. تختلف نوع حشائش السافانا حسب كمية الأمطار. ( )
- 35- اختر السومريون كتابة عرفت باسم الكتابة المسمارية . ( )
- 36- ظهرت الشرائع القانونية في بلاد الرافدين في عهد حمورابي . ( )
- 37- تحتوي شريعة حمورابي على 180 مادة قانونية . ( )
- 38- النهر مجرى مائي مالح ينحدر على الدوام وينتهي الي بحر . ( )
- 39- عاصمة مملكة معين مدينة ريدان . ( )
- 40- من أشهر ملوك مملكة حمير الملكة بلقيس . ( )
- 41- اشتهرت حضارة دلمون بصناعة الأختام . ( )
- 42- أول نزول الوحي على الرسول صلى الله عليه وسلم في المدينة المنورة . ( )
- 43- عرفت دلمون قديماً باسم الارض المقدسة . ( )
- 44- تم العثور على بقايا لمعبد قديمة في البحرين أهمها معبد ابوسمبل . ( )
- 45- أرسل النبي عيسى عليه السلام بدعوة إلي الديانة اليهودية . ( )

**السؤال الثالث : اختر الاجابة الصحيحة من بين الاقواس وضع خطأ تحتها :-**

- 1- تتكون جمهورية جزر القمر من عدة جزر عددها .....  
( 2 - 3 - 4 - 5 )
- 2- انضمت جمهورية جزر القمر للجامعة العربية عام .....

( 1991 - 1992 - 1993 - 1994 )

3- عدد الدول العربية يبلغ .....

( 8 - 15 - 18 - 22 )

4- عدد الدول العربية في الجناح الافريقي .....دولة .

( 6 - 7 - 9 - 10 )

5- عدد الدول العربية في الجناح الآسيوي .....دولة .

( 10 - 11 - 12 - 13 )

6- تبلغ مساحة الوطن العربي .....م كم 2 .

( 13,5 - 15,5 - 16,5 - 17,5 )

7- تبلغ مساحة الوطن العربي بالنسبة لمساحة العالم .....%

( 6 - 8 - 10 - 11 )

8- عرفت الابجدية في بلاد اليمن وكانت تتألف من .....حرف .

( 27 - 28 - 29 - 30 )

9- موقع حضارة دلمون .....الخليج .

( شمال - وسط - غرب - شرق )

10- سميت دلمون قبل الفتح الاسلامي باسم .....

( سبأ - معين - أوال - حمير )

11- عاصمة الكلدانيون تسمى .....

( أكد - بابل - أشور - أور )

12- تعرف الرياح المحلية في الكويت باسم .....

( السموم - الخماسين - الهبوب - الطوز )

#### السؤال الرابع : عرف المفاهيم التالية :-

1. الوطن العربي : .....

2. المضيق : .....

3. القناة : .....

4. الموقع الاستراتيجي : .....
5. الموقع الفلكي : .....
6. خطوط الطول : .....
7. دوائر العرض : .....
8. الموقع النسبي : .....
9. المياه الجوفية : .....
10. الجبل : .....
11. الهضبة : .....
12. السهل : .....
13. السهول الفيضية ( النهرية ) : .....
14. السهول الساحلية : .....
15. التضاريس : .....
16. الضغط الجوي : .....
17. الطقس : .....
18. المناخ : .....
19. المسطحات المائية : .....
20. الاقليم : .....
21. النبات الطبيعي : .....
22. الحشائش الحارة : .....
23. الحشائش المعتدلة : .....
24. النهر : .....
25. البحيرة : .....
26. الافلاج : .....
27. الحضارة : .....
28. هرم سقارة المدرج : .....
- 23- حمورابي : .....
- 24- أوال : .....

السؤال الخامس : علل لما يأتي :-

1 - للوطن العربي أهمية جغرافية.

أ- .....  
ب- .....

2 - للوطن العربي أهمية اقتصادية.

أ- .....  
ب- .....

3 - الأهمية الحضارية و الثقافية للوطن العربي .

أ- .....  
ب- .....

4- الأماكن القريبة من خط الاستواء تتميز بارتفاع حرارتها على مدار السنة.

\* .....  
\* .....

5- فصل الشتاء في شمال الوطن العربي تنخفض درجة الحرارة .

.....

6- تنوع المناخ في الوطن العربي .

\* .....  
\* .....

7- تعتبر تربة السهول الفيضية من أكثر أنواع التربة خصوبة .

.....

8- تنخفض درجة الحرارة في بعض المدن العربية صيفا .

.....

9- تعد الهضاب أكثر الأشكال التضاريسية انتشارا في الوطن العربي.

.....

10- الأهمية الحضارية و الثقافية للوطن العربي .

أ- .....  
ب - .....

11- قيام المصريين القدماء بتحنيط الموتى .

.....

12 - اهتمام المصريين القدماء بالزراعة .

.....

13- تعتبر قناة السويس أهم شريان ملاحى في العالم.



.....

14- تنافس الدول الاستعمارية للسيطرة على الوطن العربي.

.....

15- الأماكن القريبة من خط الاستواء تتميز بارتفاع حرارتها على مدار السنة.

.....

16- كانت حرفة الزراعة عند السومريون هي الحرفة الرئيسية .

.....

17- معرفة سكان بلاد الرافدين للزراعة .

.....

18- اشتغال الاشوريون بالرعي .

.....

19- قيام الحضارات في بلاد الرافدين .

.....

20- عدم ظهور التماثيل في فنون العرب .

.....

السؤال السادس :- أجب عن الاسئلة التالية :-

1- ما أهمية المياه في حياة الانسان ؟

.....

2- اكتب أهم الأنهار في الوطن العربي ؟

.....

3- عدد خصائص الأنهار في الوطن العربي ؟

.....

4- ما أهمية موقع الوطن العربي ؟

.....

5- ما أهم الصفات الأساسية التي يتميز بها موقع الوطن العربي ؟

.....\*

6- ما الدول العربية المطلة على المحيط الاطلسي ؟

\*

7- يقع الجبل الاخضر في دولتين . ما هما ؟

\*

8- تقسم الجبال في الوطن العربي إلى عدة أنواع اكتبهم ؟

\*

\*

9- تنقسم الهضاب في الوطن العربي إلى قسمين اكتبهم ؟

\*

10- اكتب أهم السهول الساحلية الوطن العربي في الجناح الآسيوي ؟

\*

11- ما العوامل المؤثرة في مناخ الوطن العربي؟

أ- ..... ب - .....

ج- ..... د- .....

12- ما تأثير المسطحات المائية في المناخ؟

\*

13- تسمى الرياح المحلية في مصر باسم .....، وفي الكويت باسم .....

وفي السعودية باسم .....

14- أهمية قناة السويس بالنسبة للوطن العربي ؟

15- ما العوامل الرئيسة المؤثرة في تنوع النبات الطبيعي في الوطن العربي؟

\*

\*

16- أهم خصائص السهول الفيضية ( النهرية ) .

17- ما أثر تعدد المناخات وأشكال التضاريس في نباتات الوطن العربي ؟

18- الخصائص النباتية للنباتات الصحراوية ؟

\*

\*

\*

\*

19- اذكر أهم محطات تحليه المياه في الكويت ؟

.....\*

20- اذكر أهم عوامل قيام الحضارة ؟

.....

22- أهم عوامل قيام الحضارة المصرية القديمة ؟


.....

23- أهم عوامل قيام الحضارة في شبه الجزيرة العربية ؟

.....\*

السؤال السابع : - أكمل المخططات السهمية التالية :-


1- عناصر المناخ هي :



2- مقومات الهوية العربية هي :



3- الحيوانات السائدة في البيئة الصحراوية




4- أشجار الغابات المعتدلة هي :



5- أشجار الغابات الحارة هي :



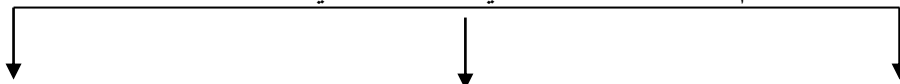
6- عوامل قيام الحضارات



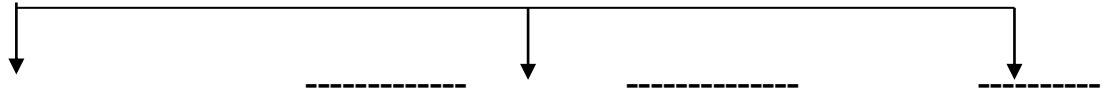
8- أهم الأنشطة التي مارسها سكان دلمون



9- أهم الديانات السماوية في الوطن العربي



.....  
.....  
.....  
10- طرق انتقال الحضارة العربية والإسلامية إلى أوروبا



السؤال الثامن :- صنف ما يلي :-

.....

( الساج - الصنوبر - الاستبس - التين الشوكي - الفلين - الابنوس - الزيتون - الصبار )

غابات حارة	غابات مدارية	حشائش	نباتات صحراوية

- مظاهر السطح التالية حسب الجدول :

( النيل - أطلس - الشطوط - تهامة - الفرات - نجد - عسير - الاحساء )

الجبال	الهضاب	السهول	الانهار

- المسطحات المائية التالية حسب الجدول :

( العربي - الاحمر - الهندي - السويس - الاطلسي - المتوسط )

البحار	الخلجان	المحيطات

السؤال التاسع :- قارن بين :-

.....

وجه المقارنة	خطوط الطول	دوائر العرض
العدد		

		خط الأساس
		الأهمية

## 2- الغابات المدارية و الغابات المعتدلة من حيث

وجه المقارنة	الغابات المدارية	الغابات المعتدلة
خصائصها		
التوزيع الجغرافي		
أهم أشجارها		

## 3- حشائش السافان وحشائش الاستبس من حيث:

وجه المقارنة	حشائش السافانا	حشائش الاستبس
التعريف		
التوزيع الجغرافي		

## - الديانات السماوية الثلاثة من حيث الكتاب ، النبي المرسل

الديانة	الكتاب	النبي
الإسلام		
المسيحية		

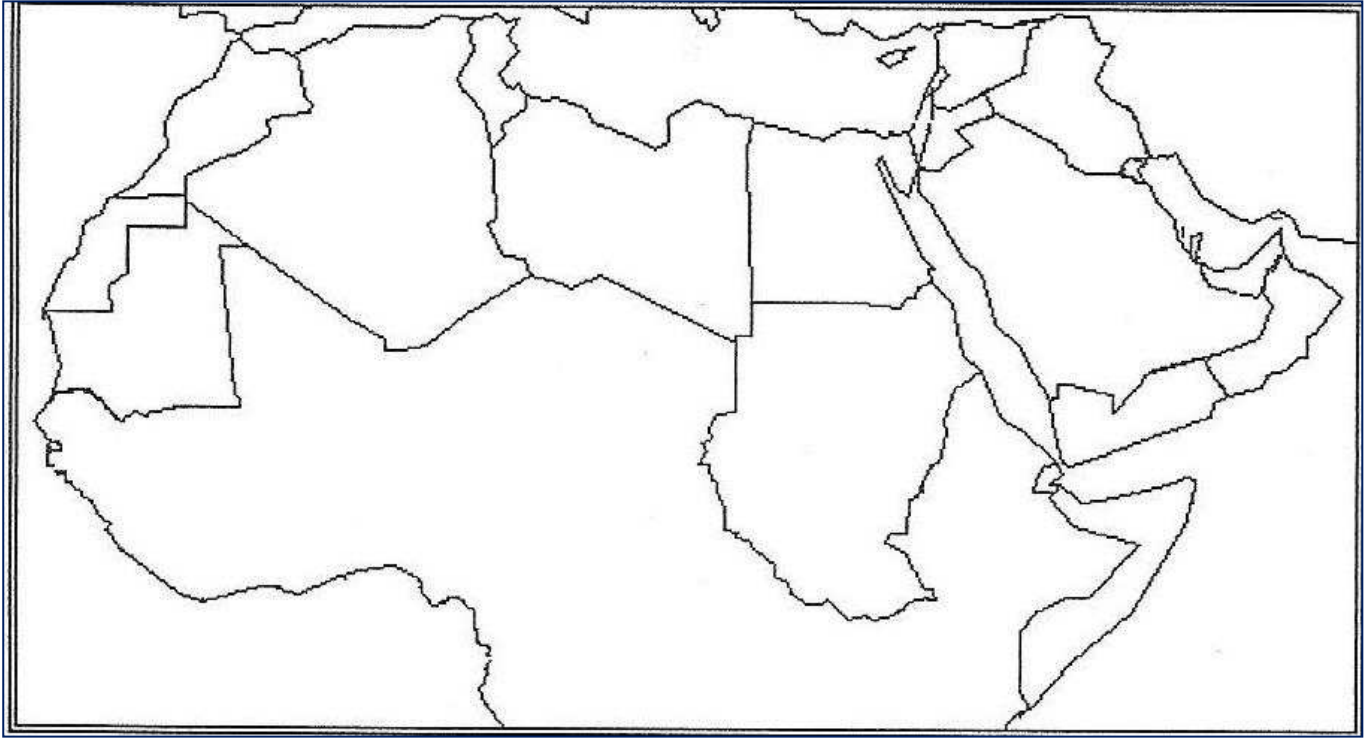
		اليهودية
--	--	----------

(ب)		(أ)
الحضارة	الرقم المناسب	المدينة
عاصمة حضارة السومريون		1- مدينة مأرب
عاصمة البابليون		2- مدينة ريدان
عاصمة الآشوريون		3- مدينة أور
عاصمة مملكة خُمير		4- أوال
عاصمة مملكة سبأ		5- آشور
اسم أطلق علي البحرين قديماً		6- بابل

السؤال العاشر : اختر من المجموعة ( أ ) ما يناسبها من أرقام المجموعة ( ب ) :-

اسم الحضارة	السومريون	الأكاديون	البابليون	الآشوريون	الكلدانيون
العاصمة					
اشهر الملوك	///////////////// ///////////////// /////////////////				

السؤال الحادي عشر :- لاحظ خريطة الوطن العربي ثم نفذ المطلوب :-



أ – حدد المطلوب بالكتابة:

- 1- دولة الجزائر .
- 2- مضيق باب المندب.
- 3- جبال أطلس.
- 4- قارة أوربا.

ب – نفذ المطلوب:

1. ضع الرمز ( # ) مكان سيناء.
2. ضع الرمز ( X ) مكان مضيق جبل طارق .
3. ضع الرمز ( Ø ) مكان قناة السويس.
4. ضع الرمز ( Δ ) مكان الجبل الأخضر.
5. ضع الرمز ( ■ ) مكان هضبة نجد .
6. ظلل الدولة التي يمر منها خط الاستواء .
7. ضع الرمز □ مكان هضبة الشطوط .

11 – رياح الهبوب

8. رياح السموم بالرمز

\*\*\*\*\*

HA