

تم تحميل هذا الملف من موقع ملفات الكويت التعليمية



[com.kwedufiles.www//:https](https://www.kwedufiles.com)

\*للحصول على أوراق عمل لجميع الصفوف وجميع المواد اضغط هنا

\* للحصول على أوراق عمل لجميع مواد الصف السابع اضغط هنا

<https://kwedufiles.com/7>

\* للحصول على جميع أوراق الصف السابع في مادة اجتماعيات وجميع الفصول, اضغط هنا

<https://kwedufiles.com/7social>

\* للحصول على أوراق عمل لجميع مواد الصف السابع في مادة اجتماعيات الخاصة بـ الفصل الأول اضغط هنا

<https://www.kwedufiles.com/7social1>

\* لتحميل كتب جميع المواد في جميع الفصول للـ الصف السابع اضغط هنا

<https://www.kwedufiles.com/grade7>

[bot\\_kwlinks/me.t//:https](https://t.me/bot_kwlinks)

للحصول على جميع روابط الصفوف على تلغرام وفيسبوك من قنوات وصفحات: اضغط هنا

الروابط التالية هي روابط الصف السابع على مواقع التواصل الاجتماعي

مجموعة الفيسبوك

صفحة الفيسبوك

مجموعة التلغرام

بوت التلغرام

قناة التلغرام

رياضيات على التلغرام



١٠٠



وزارة التربية  
الإدارة العامة لمنطقة الفروانية التعليمية  
التوجيه الفني للاجتماعيات

مقرر / الكويت والوطن العربي

زمن الإجابة: ساعة ونصف  
عدد الأوراق : ( ٦ )

امتحان نهاية الفترة الدراسية الأولى  
( الصف السابع )  
للعام الدراسي ( ٢٠١٩ / ٢٠٢٠ م )  
نموذج الإجابة

أجب عن جميع الأسئلة التالية :-

السؤال الأول ( موضوعي ) ويتكون من ( أ - ب - ج - د - هـ - و ) : ( لكل إجابة درجة )

أ ( صوب ما تحته خط في العبارات التالية :-

- ١- أكثر الأشكال التضاريسية انتشاراً في الوطن العربي تسمى التلال . ← الهضاب ص ٤٠
- ٢- الرياح المحلية التي تهب على جمهورية مصر العربية تسمى الطوز . ← الخماسين ص ٤٨
- ٣- موقع الدولة بالنسبة لليابسة والماء يسمى الموقع الفلكي . ← النسبي ص ٣٣
- ٤- مسطح مائي تحيط به اليابسة من جميع الاتجاهات يسمى النهر . ← البحيرة ص ٦٠
- ٥- أشهر ممالك اليمن القديمة وورد ذكرها في القرآن الكريم هي معين . ← سبأ ص ٨٦
- ٦- نزلت الديانة اليهودية على سيدنا موسى عليه السلام وكتابها الإنجيل . ← التوراة ص ٩٠

ب ( صنف الأسماء الواردة ما بين القوسين بمكانها الصحيح في الجدول التالي :

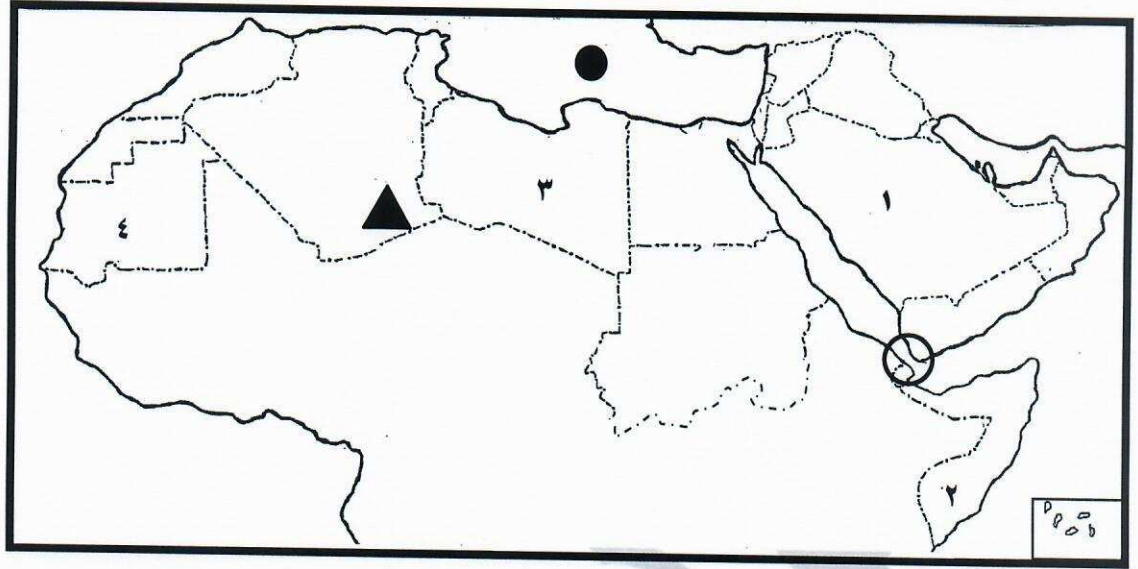
[ نجد - النيل - عسير - الشطوط - مره - دجلة ]

هضاب ص ٤٠	جبال ص ٣٨	أنهار ص ٤٢
الشطوط	عسير	النيل
نجد	مره	دجلة



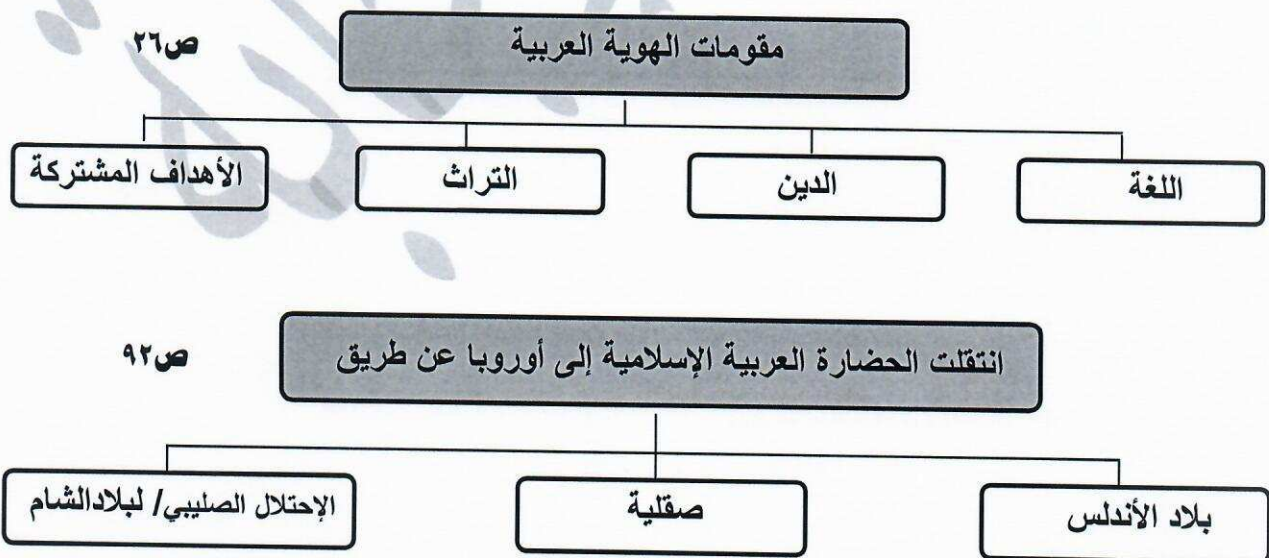
## تابع السؤال الأول :

ج) لاحظ خريطة الوطن العربي ثم أجب عن الأسئلة التي تليها :



- الشكل (▲) يرمز إلى جبال تسمى ..... (الأحجار) ..... ص ٣٨
- الشكل (●) يرمز إلى مسطح مائي يسمى ... (البحر المتوسط) ..... ص ٣٨
- الرقم ( ١ ) يمثل على الخريطة دولة عربية تسمى .... (المملكة العربية السعودية) ..... ص ٣٣
- الدولة العربية التي يمر بها خط الإستواء يمثلها على الخريطة الرقم ..... ( ٢ ) ..... ص ٣٢
- الشكل (⊗) يمثل مضيق يسمى ..... (باب المندب) ..... ص ٢٩

د) أكمل المخططات السهمية التالية :



## تابع السؤال الأول :

هـ) اكتب المفهوم أو المصطلح الدال على العبارات التالية :-

المفهوم أو المصطلح	التعريف
النبات الطبيعي	النبات الذي ينمو تلقائياً عقب سقوط المطردون تدخل من الإنسان . ص ٥١
السهول الساحلية	نوع من أنواع السهول تتكون من الأراضي المنبسطة التي تجاور سواحل البحار والمحيطات . ص ٤٢
الوطن العربي	مجموعة من الدول العربية التي يجمعها عدد من السمات المشتركة ويمتد ضمن قارتين . ص ٢٢
المياه الجوفية	المياه التي توجد في جوف الأرض ( باطن الأرض ) . ص ٦٠

و) اختر الإجابة الصحيحة من بين البدائل التي تلي كل عبارة بوضع خط تحتها :-

- ١- اسم "أوال" أطلق قديماً قبل الفتح الإسلامي على :  
( العراق - اليمن - مصر - البحرين ) ص ٨٨
- ٢- كل ما ارتفع من الأرض وله قمة لا يقل ارتفاعها عن ١٠٠٠ متر :  
( التل - الوادي - الجبل - الهضبة ) ص ٣٨
- ٣ - تمثل نسبة مساحة الوطن العربي بالنسبة لمساحة العالم حوالي :  
( ١٠ % - ٢٠ % - ٣٠ % - ٤٠ % ) ص ٢٣
- ٤ - عرفت الكتابة " الهيروغليفيه " عند حضارة :  
( بلاد الرافدين - بلاد الشام - دلمون - مصر القديمة ) ص ٧٧
- ٥- نزل القرآن الكريم على سيدنا محمد ﷺ - عام :  
( ٦٠٠ م - ٦١٠ م - ٦٢٠ م - ٦٣٠ م ) ص ٩٠



## السؤال الثاني : يتكون من : [ أ ، ب ]

### أ) عدد لكل مما يلي : ٦ درجات ( يكتفى بنقطتين فقط )

درجتان ص ٧٥

- ١- العوامل التي ساعدت على قيام الحضارة المصرية القديمة .
  - تنوع الصخور والمعادن .
  - امتداد الصحراء .
  - نهر النيل .
  - اعتدال المناخ وجفافه .

- ٢- أهم الحيوانات السائدة في المناطق الصحراوية في الوطن العربي . ( ما يراه المصحح مناسب ) درجتان ص ٥٥
  - الإبل .. الماعز .. الضب .. الأرناب البرية
  - أنواع من الطيور كالصقور والبوم والحبارى
  - أنواع من الحشرات كالجراد والعقارب والخنفس .
  - الزواحف كالأفاعي والحيوانات القارضة كالقثران والجربوع .

درجتان ص ٥٩

- ٣- صفات المطر في الوطن العربي .
  - تذبذب كمية المطر بين عام وآخر / كما أنها تسقط في أيام معدودة .
  - الأمطار في الوطن العربي تقتصر على الأطراف الشمالية والجنوبية منها .
  - تتصف بأنها قليلة بصفة عامة ( ما عدا مناطق الجبال ) .

### ب) فرق بين كل مما يلي : ( ٤ درجات / لكل تعريف درجة )

القناة	ص ٢٨	المضيق	ص ٢٨
مجرى مائي صناعي ضيق يشق لأغراض الري أو النقل		ممر مائي ضيق يصل بين بحرين أو محيطين أو أي مساحتين كبيرتين نسبياً من الماء .	
الطقس	ص ٤٤	المناخ	ص ٤٤
حالة الجو لمدة قصيرة تتراوح بين يوم أو عدة أيام من حيث درجة الحرارة والرطوبة والأمطار والرياح والضغط الجوي .		حالة الجو خلال فترة زمنية طويلة من حيث درجة الحرارة والرطوبة والأمطار .	

**السؤال الثالث : ويتكون من ( أ - ب ) :**

**أ) اقرأ الفقرة التالية ثم أجب عن الأسئلة التي تليها : ( ٦ درجات )**

" تمتاز حضارة بلاد الرافدين بموقع ممتاز وبخصوبة تربتها ووفرة مياهها العذبة . وقد قامت فيها حضارات متتالية اشتهرت بالتقدم والرفي بما قدمته للإنسانية من إنجازات كثيرة " .

١- عرف ما تحته خط في الفقرة السابقة .

- **حضارة :** كل ما يطرأ على المجتمع من تقدم وتطور ورفي في جميع نواحي الحياة الدينية والسياسية والاقتصادية والاجتماعية والفكرية .  
( درجة ) ص ٧١

٢- استخرج من الفقرة السابقة العوامل التي ساعدت على قيام الحضارة في بلاد الرافدين . ( ٣ درجات ) ص ٧٩

- الموقع الممتاز - خصوبة التربة - وفرة المياه العذبة

٣- اذكر أسماء اثنين فقط من الحضارات التي قامت في بلاد الرافدين . ( درجتين ) ص ٧٩-٨٠

- السومريون / الأكاديون / الكلدانيون / البابليون / الآشوريون .


**ب) قارن بين كل من : ( ٤ درجات ) ص ٥٢**

أوجه المقارنة	الحشائش الحارة ( السافانا )	الحشائش المعتدلة ( الأستبس )
التعريف	- حشائش طويلة يختلف نوعها حسب كمية الأمطار . درجة	- حشائش قصيرة نوعاً ما تنمو في الشتاء خلال موسم سقوط الأمطار . درجة
الحيوانات التي تربي عليها ( يكتفى بمنال واحد فقط )	تربي عليها الماشية درجة	الأغنام / الإبل / الخيول / الحمير درجة



**السؤال الرابع : ويتكون من ( أ - ب ) :**

**أ) لاحظ الصورة التي أمامك ثم أجب الأسئلة التالية :**



- ١- ما اسم النبات في الصورة المقابلة ؟ ( درجة ) ص ٥٤  
- نبات الصبار / نبات صحراوي
- ٢- عدد الوسائل التي تتخذها النبات الصحراوية لمقاومة الجفاف .  
- جذورها طويلة ( ٣ درجات ) ص ٥٢  
- القدرة على خزن المياه . ( ما يراه المصحح مناسب )  
- تحمي نفسها بلحاء سميك وأوراق إبرية .

**ب) اكتب فيما يلي : ( يكتفى بنقطتين )**

درجتان ص ٥٧

- ١- مصادر المياه في الوطن العربي .  
- مياه الأنهار  
- الأمطار / الأفلاج  
- المياه الجوفية  
- البحيرات / مياه البحار / المحيطات / الخليج

درجتان ص ٤٦

- ٢- العوامل التي تؤثر في مناخ الوطن العربي .  
- الموقع بالنسبة لدوائر العرض  
- القرب او البعد عن المسطحات المائية  
- الرياح  
- التضاريس

درجتان ص ٦٣

- ٣- الطرق التي نستطيع من خلالها المحافظة على ثروة المياه وتخفيف مشكلتها .  
- ترشيد استخدام المياه و الحد من التبذير في المنازل .  
- الحد من هدر المياه في الري باستخدام الطرق الحديثة ( الرش بالتنقيط والمحوري )  
- الاستفادة من المياه الجوفية ، ومنع تسرب الأملاح الملوثة إليها .  
- تطوير استعمال مياه الصرف الصحي المعالجة في الزراعة .  
- إقامة البحيرات والسدود لتجميع مياه الأمطار والسيول والاستفادة منها في فصل الجفاف .  
- توقيع اتفاقيات مع الدول المشاركة ودول المنبع لتحقيق المصالح المشتركة بين الدول العربية .