

تم تحميل هذا الملف من موقع المناهج الكويتية



منطقة الفروانية التعليمية

الملف أسئلة الاختبار النهائي لمنطقة الفروانية التعليمية

موقع المناهج ⇌ ملفات الكويت التعليمية ⇌ الصف السادس ⇌ اجتماعيات ⇌ الفصل الأول

روابط مواقع التواصل الاجتماعي بحسب الصف السادس



روابط مواد الصف السادس على تلغرام

[الرياضيات](#)

[اللغة الانجليزية](#)

[اللغة العربية](#)

[التربية الاسلامية](#)

المزيد من الملفات بحسب الصف السادس والمادة اجتماعيات في الفصل الأول

نموذج احابة اختبار لمنطقة مبارك الكبير عام 2016	1
اوراق عمل مهمة في مادة الاجتماعيات	2
بنك اسئلة ممتاز في مادة الاجتماعيات	3
بنك معلومات مهم في مادة الاجتماعيات	4
تلخيص اجتماعيات بشكل مبسط	5



وزارة التربية
الإدارة العامة لمنطقة الفروانية التعليمية
التوجيه الفني للاجتماعيات

امتحان الفترة الدراسية الاولى
لمادة دولة الكويت ودول الخليج العربية
للفص السادس المتوسط

العام الدراسي : ٢٠٢٥ / ٢٠٢٦ م
الزمن : ساعة و نصف
عدد الأوراق : (٥)

السؤال الأول الموضوعي ويتكون من (أ - ب - ج - د - هـ - و - ي) :

(أ) ظلل الخيار الصحيح من بين الخيارات التي تلي كل عبارة :

١- الجهة التي تقع فيها منطقة دول الخليج العربية بالنسبة لقارة آسيا هي :

الجنوبية الغربية	الجنوبية الشرقية	الشمالية الغربية	الشمالية الشرقية
------------------	------------------	------------------	------------------

٢- الجزيرة الكويتية التي قامت فيها الحضارة الهلنستية هي :

كبر	وربة	فيلكا	أم النمل
-----	------	-------	----------

٣- العام الذي تأسست فيه المملكة العربية السعودية هو :

١٩٣١ م	١٩٣٢ م	١٩٣٣ م	١٩٣٤ م
--------	--------	--------	--------

٤- نبات طبيعي (زهرته) تعتبر الزهرة الوطنية لدولة الكويت :

الهرم	الرمث	الثدا	العرفج
-------	-------	-------	--------

٥- يبلغ عدد محطات تحلية مياه البحر في دولة الكويت :

٧	٨	٩	١٠
---	---	---	----

٦- المدينة التي نزل فيها دين الإسلام على النبي محمد ﷺ في القرن السابع الميلادي :

مكة	الحجاز	يثرب	الطائف
-----	--------	------	--------

(ب) صنف أنواع الحيوانات في دول الخليج العربية حسب مكانها الصحيح في الجدول التالي :


(الصقور - الماعز - الزبيدي - الهامور - الحباري - الأغنام)

الحيوانات البرية	الحيوانات البحرية	الطيور
.....
.....

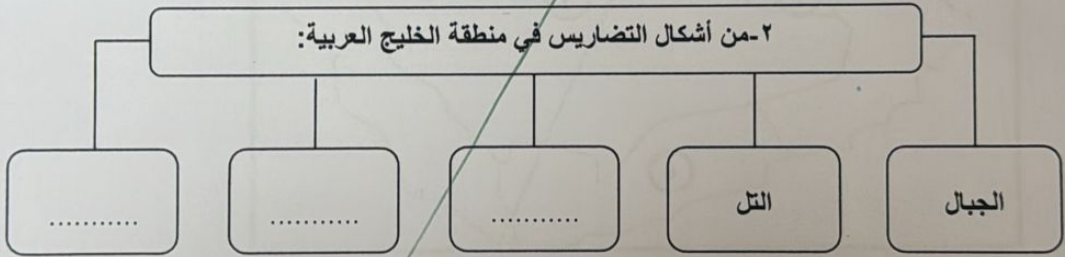
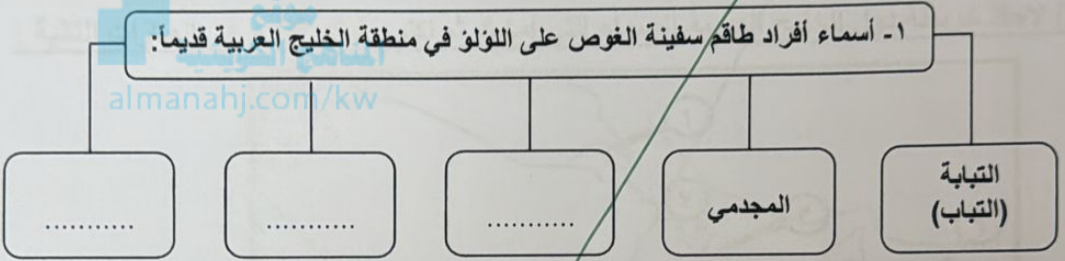
تابع السؤال الأول الموضوعي :

ج) وزع الكلمات التالية حسب مسار خط سير هجرة العتوب من البداية إلى الاستقرار :

(الصبية - القرين - الزبارة)



د) أكمل المخططات السهمية التالية بما يناسبها :



هـ) أكتب اسم الحرفة اليدوية في منطقة الخليج العربية في الفراغات أسفل الصورة:



.....



.....



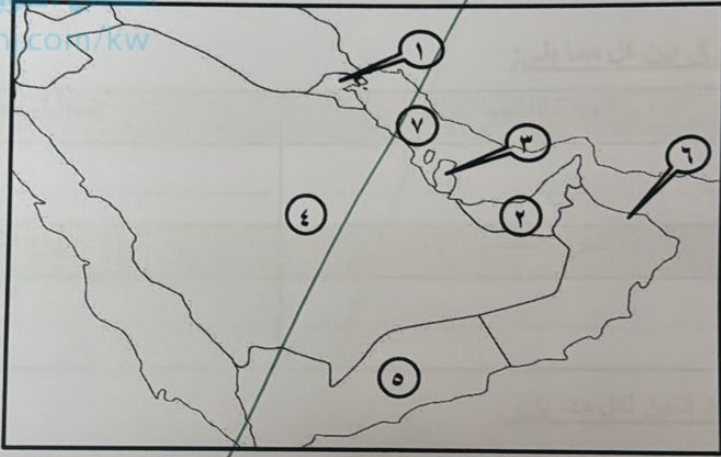
.....

تابع السؤال الأول الموضوعي :

(و) صحّح ما تحته خط بكتابة الإجابة الصحيحة بين القوسين :

- ١- عناصر الطقس والمناخ مختلفة (.....)
- ٢- أول محطة لتحلية مياه البحر في دولة الكويت تسمى الدوحة (.....)
- ٣- الحضارة التي ظهرت في مملكة البحرين تسمى تاروت (.....)
- ٤- الموقع الذي حدثت فيه معركة ذات السلاسل بين المسلمين والفرس يسمى الشقيا (.....)
- ٥- التغير الدائم في مكان الإقامة يسمى الانتقال (.....)
- ٦- مياه توجد في باطن الأرض تسمى الواحة (.....)

(ي) لاحظ خريطة دول الخليج العربية الصماء التي أمامك ثم اكتب الرقم الدال على العبارات التالية :



- عاصمة سلطنة عمان يمثلها على الخريطة الرقم. ()
- دولة استقرت فيها هجرة المعاضيد يمثلها على الخريطة الرقم. ()
- هضبة نجد يمثلها على الخريطة الرقم. ()
- منطقة الروضتين يمثلها على الخريطة الرقم. ()
- الدولة التي تقع فيها حضارة هيلي يمثلها على الخريطة الرقم. ()
- مسطح الخليج العربي يمثلها على الخريطة الرقم. ()

درجة السؤال الأول بالحروف

السؤال الثاني المقالى ويتكون من : (أ - ب - ج) :
أ) لاحظ الصورة التى أمامك ثم أجب عما يليها من أسئلة :

١- اقترح عنوان مناسباً للصورة المقابلة.

.....

٢- علل خشب الساج أفضل أنواع الخشب المستخدم في صناعة السفن قديماً.

.....

٣- أذكر أشهر أنواع السفن في منطقة الخليج العربية قديماً.

.....

.....

المناهج الكويتية

almanahj.com/kw

ب) فرق بين كل مما يلى:

الهجرة الخارجية	الهجرة الداخلية
.....
الموقع النسبي	الموقع الفلكي
.....

ج) عدد اثنين لكل مما يلى :

١- طرق التجارة البرية القديمة بين دول الخليج.

.....

.....

٢- وسائل صيد الأسماك القديمة في منطقة الخليج العربية.

.....

.....

درجة السؤال الثاني بالحروف.....

السؤال الثالث المقالى ويتكون من : (أ - ب - ج - د)

أ) قارن بين كل مما يلى :

أوجه المقارنة	خطوط الطول	دوائر العرض
الخط الرئيسي
العدد

ب) علل لما يلى :

١- القماش أكثر البضائع التجارية استيراداً في منطقة الخليج العربي قديماً. [www.almanahi.com/kw](http://almanahi.com/kw)

٢- أطلق على الكويت قديماً اسم القرين.

ج) أكتب اثنين من العوامل التالية :

١- الهجرات الداخلية في منطقة الخليج العربية.

٢- نشأة الحضارة في منطقة الخليج العربية .

د) عرف المفاهيم التالية:

١- الحضارة .

٢- الكوت .

درجة السؤال الثالث بالحروف

انتهت الأسئلة ،،،