



بنك أسئلة الصف الخامس الإبتدائي

مقرر وطني الكويت

الفصل الدراسي الأول – العام الدراسي ٢٠٢٥ - ٢٠٢٦ م

إعداد

وزارة التربية
التوجيه الفني العام للاجتماعيات

أ. فاطمة علي

أ. أسماء المهنا محمد علي العتيبي

أ. منى القلاف

أ. حصة الخالدي

الموجه العام للاجتماعيات بالتكليف : أ. محمد علي العتيبي



بنك أسئلة الصف الخامس

مقرر وطني الكويت

الفصل الدراسي الأول

٢٠٢٥-٢٠٢٦ م

الوحدة التعليمية الأولى

موقع وطني الكويت





الأسئلة الموضوعية:

اكتب المفاهيم أو المصطلحات العلمية الدالة على العبارات التالية :

م	المفهوم أو المصطلح	التعريف
١-	هي أشكال المياه على سطح الكرة الأرضية .
٢-	جزء من البحر أو المحيط يمتد في اليابسة .
٣-	مسطح مائي كبير جدا .
٤-	مسطح مائي أصغر من المحيط .
٥-	مساحة كبيرة من اليابسة يحيط بها الماء .
٦-	ممر مائي ضيق من الماء يفصل بين مسطحين مائيين .
٧-	هو مجموعة من الدول تجمعها سمات مشتركة مثل الدين الإسلامي - اللغة العربية - والتراث والتاريخ .
٨-	مجموعة من الدول التي يكون فيها عدد المسلمين ٥٠ % فأكثر من مجموع السكان .

اكتب الرابط أو العنصر المشترك بين مجموعة العناصر لكل ما يلي :

الدين	اللغة	التاريخ	التراث
أوروبا	آسيا	أفريقيا
الهادي	الهندي	الأطلسي



أكمل العبارات التالية بما يناسبها :

- ١- تغطي المياه من سطح الأرض (المسطحات المائية) نسبة %
- ٢- تمثل اليابسة من مساحة الأرض (القارات) حوالي %
- ٣- الكوكب الوحيد الذي توجد عليه الحياة
- ٤- أكبر المحيطات مساحة هو
- ٥- أكبر قارات العالم مساحة وأكثرها في عدد السكان تسمى
- ٦- أصغر قارات العالم من حيث المساحة اسمها
- ٧- تقع دولة الكويت في قارة اسمها
- ٨- قارة غير مأهولة بالسكان اسمها
- ٩- تطل دولة الكويت ودول الخليج العربية على مسطح مائي اسمه
- ١٠- يبلغ عدد المحيطات في العالم محيطات.
- ١١- يبلغ عدد قارات العالم من قارات.
- ١٢- تقع الكويت بالنسبة لشبة الجزيرة العربية في جهة
- ١٣- تقع الكويت بالنسبة للخليج العربي في جهة
- ١٤- يبلغ عدد دول الوطن العربي دولة .
- ١٥- تقع دولة الكويت بالنسبة للوطن العربي في
- ١٦- يفصل بين دول الوطن العربي في قارتي آسيا وأفريقيا مسطح مائي يسمى
- ١٧- الوطن العربي يقع وسط العالم ويمتد بين قارتي آسيا و
- ١٨- تقع دولة الكويت بالنسبة للعالم الإسلامي في
- ١٩- عدد القارات التي يمتد فيها العالم الإسلامي
- ٢٠- مجموعة من الدول التي يكون فيها عدد المسلمين ٥٠ % فأكثر من مجموع السكان تسمى



صنف الكلمات التالية إلى مكانها المناسب في الجدول الذي يليها :

١- (الأطلسي – أمريكا الجنوبية – الهادي – أمريكا الشمالية – الهندي – أستراليا)


محيطات	قارات
.....

٢- (باب المندب – جبل طارق – هرمز - قناة السويس)

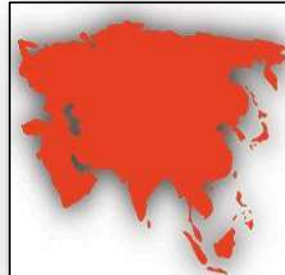
المضيق الذي يفصل بين كل من	الخليج العربي وخليج عمان	البحر الأحمر وخليج عدن	البحر الأحمر والبحر المتوسط	البحر المتوسط والمحيط الأطلسي
.....

اكتب العامل المشترك لمدلولات الصور التالية في المكان المناسب :

.....
.....



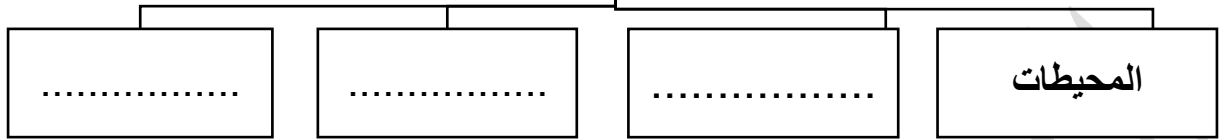
.....



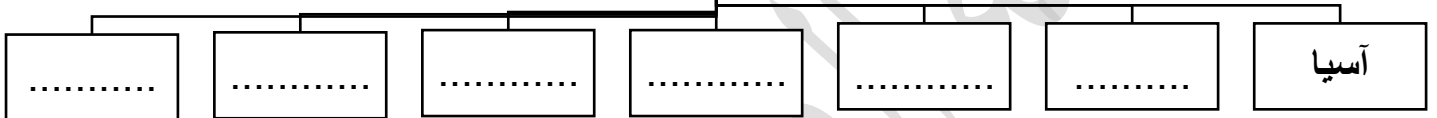


أكمل المخططات السهمية التالية :

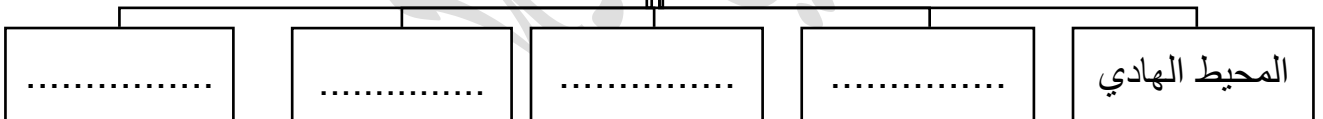
١- أنواع المسطحات المائية



٢- قارات الكرة الأرضية



٣- أسماء المحيطات



٤- دول الخليج العربية





ظلّل الخيار الصحيح من بين الخيارات التي تلي كل عبارة:

١. الكوكب الذي نعيش فيه :

المريخ	الأرض	المشتري	زحل
--------	-------	---------	-----

٢- يبلغ عدد دول الوطن العربي :

٢٢ دولة	٢٣ دولة	٢٤ دولة	٢٥ دولة
---------	---------	---------	---------

٣-- تقع الكويت بالنسبة للخليج العربي في جهة :

الشمال الشرقي	الشمال الغربي	الجنوب الشرقي	الجنوب الغربي
---------------	---------------	---------------	---------------

٤- أصغر قارة من حيث المساحة :

أوروبا	أمريكا الجنوبية	أستراليا	أفريقيا
--------	-----------------	----------	---------

٥- يبلغ عدد المحيطات في العالم :

٥ محيطات	٦ محيطات	٧ محيطات	٨ محيطات
----------	----------	----------	----------

٦- تبلغ نسبة مساحة اليابسة على الكرة الأرضية :

٢٧٪	٢٨٪	٢٩٪	٣٠٪
-----	-----	-----	-----

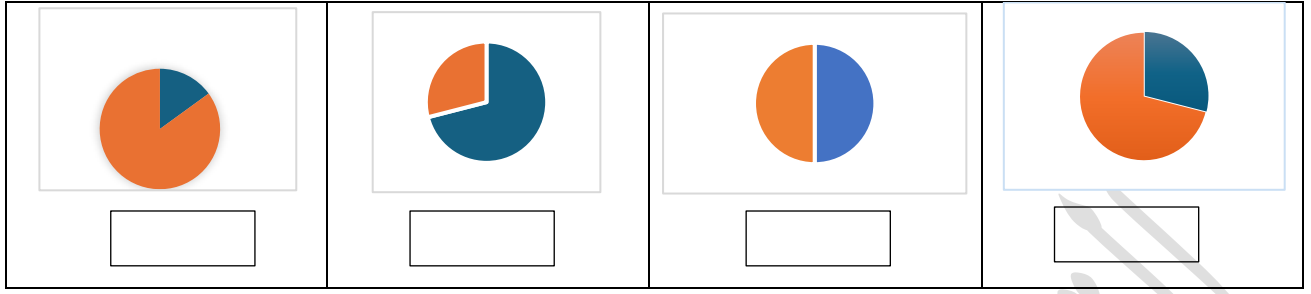
٧- تقع دولة الكويت بالنسبة لشبه الجزيرة العربية في جهة :

الشمال الغربي	الشمال الشرقي	الجنوب الغربي	الشمال الشرقي
---------------	---------------	---------------	---------------

٨- المحيط الأكبر مساحةً:

الهندي	الهادي	الأطلسي	المتجمد الجنوبي
--------	--------	---------	-----------------

٩- نسبة الماء من سطح الكرة الأرضية يمثلها الشكل



١٠- المسطح المائي الذي تطل عليه الكويت بالخريطة المقابلة :

بحر العرب	البحر الاحمر	الخليج العربي	البحر الأبيض المتوسط
-----------	--------------	---------------	----------------------

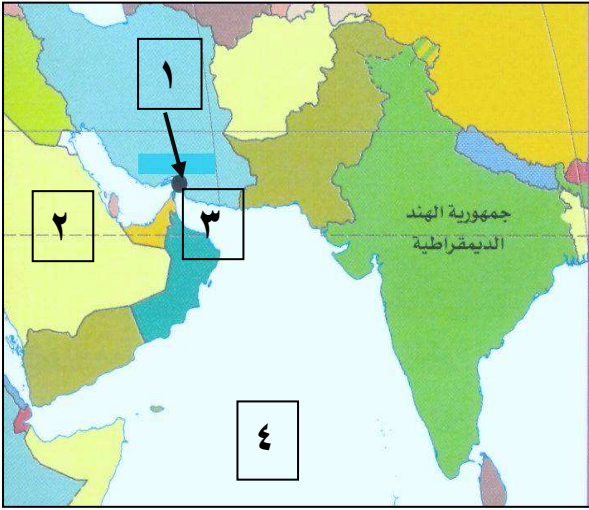


١١- اللون الأبيض بالخريطة المقابلة يمثل دول :

العالم الغربي	الخليج العربية	العالم الإسلامي	الوطن العربي
---------------	----------------	-----------------	--------------

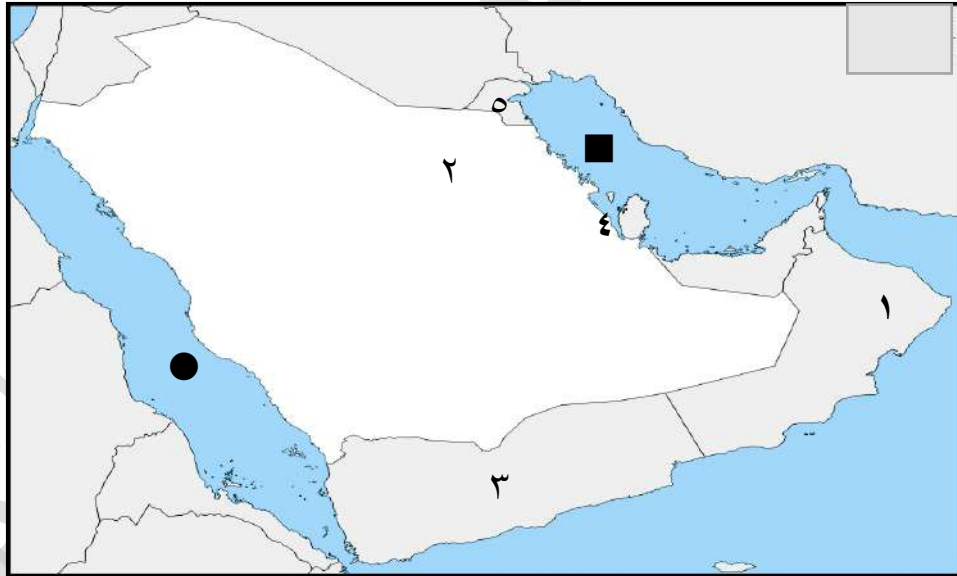


لاحظ الخريطة التي أمامك جيداً ثم أجب عما يليها من أسئلة :



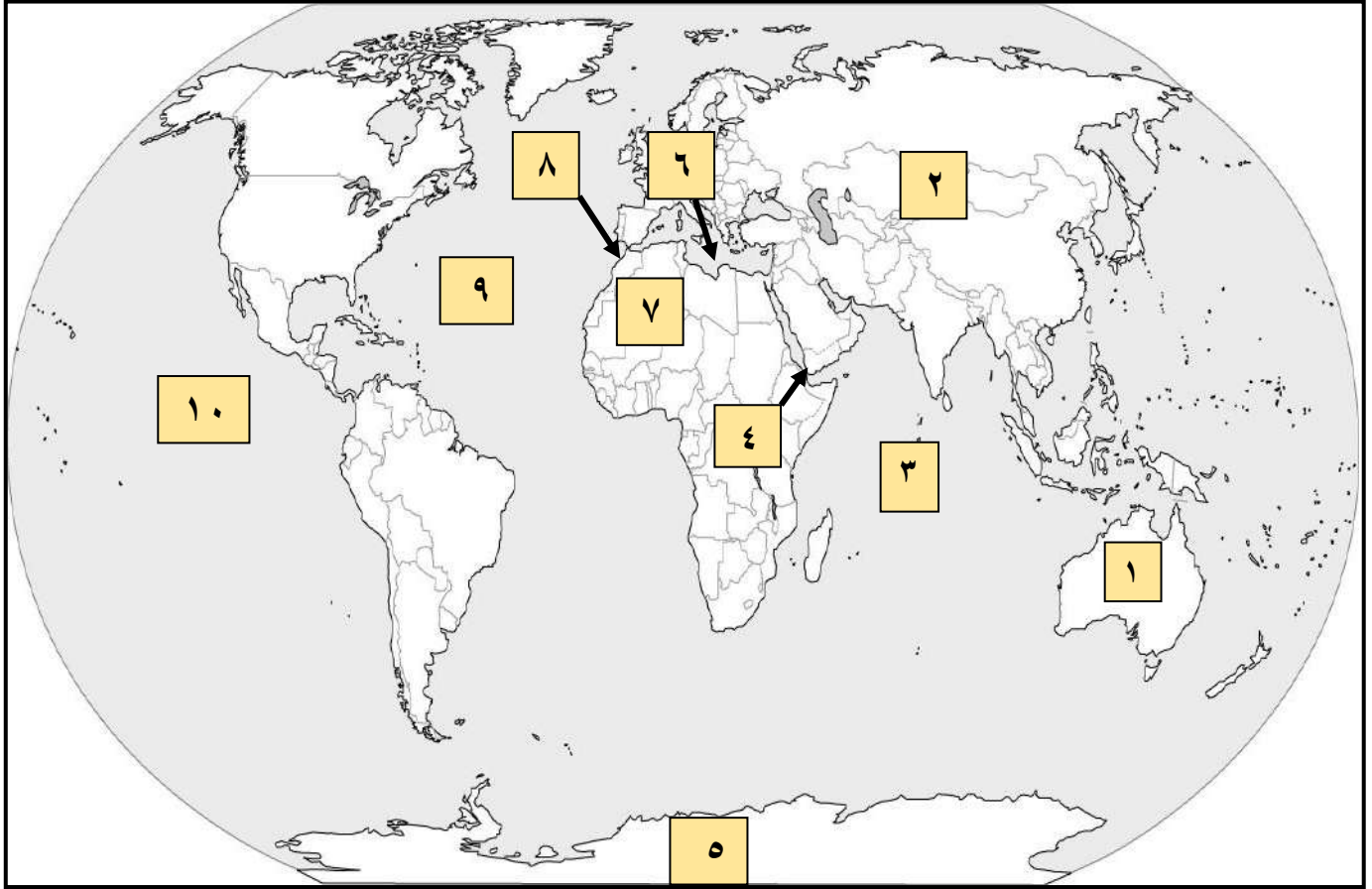
- ١- خليج عمان يمثل على الخريطة الرقم
- ٢- رقم (١) يمثل مضيق يسمى
- ٣- المحيط الهندي يمثل على الخريطة الرقم
- ٤- رتب المسطحات المائية التالية من الأكبر إلى الأصغر
(الخليج - المحيط - البحر)
(..... - -)

أمامك خريطة شبه الجزيرة العربية – أكتب الرقم الدال على العبارات التالية :



- ١- الدولة الخليجية التي تطل على الخليج العربي و بحر العرب يمثلها على الخريطة الرقم ()
- ٢- المسطح المائي الذي يفصل بين قارتي آسيا وأفريقيا يمثل على الخريطة ()
- ٣- المسطح المائي الذي تطل عليه جميع دول الخليج العربية يمثل على الخريطة الرمز ()
- ٤- دولة الكويت يمثلها على الخريطة الرقم ()

أمامك خريطة العالم – أكتب الرقم الدال على العبارات التالية:



- ١- القارة غير المأهولة بالسكان يمثلها على الخريطة الرقم ().
- ٢- أكبر القارات من حيث المساحة يمثلها على الخريطة الرقم ().
- ٣- المحيط الهندي يمثلته على الخريطة الرقم ().
- ٤- المحيط الهادي يمثلته على الخريطة الرقم ().
- ٥- أصغر القارات من حيث المساحة يمثلها على الخريطة الرقم ().
- ٦- البحر المتوسط يمثلته على الخريطة الرقم ().
- ٧- مضيق جبل طارق يمثلته على الخريطة الرقم ().
- ٨- مضيق باب المندب يمثلته على الخريطة الرقم ().



الأسئلة المقالية

عرف المفاهيم و المصطلحات التالية :

- ١- مسطحات مائية :
- ٢- محيط :
- ٣- بحر :
- ٤- خليج :
- ٥- قارة :
- ٦- مضيق :
- ٧- وطن العربي :
- ٨- عالم إسلامي :

علل لكل مما يلي :

- ١- تسمية دول الخليج العربية بهذا الاسم .

- ٢- أهمية موقع الوطن العربي .

- ٣- أهمية موقع العالم الإسلامي.



عدد ما يلي – أكتب فيما يلي :

١- المسطحات المائية على سطح الكرة الأرضية .

.....

٢- المحيطات في العالم

.....

.....

٣- أسماء القارات في العالم

.....

.....

٤- دول الخليج العربية .

.....

.....

٥- السمات المشتركة بين دول الوطن العربي .

.....

.....

٦- القارات التي يمتد فيها العالم الإسلامي .

.....

٧- مميزات العالم الإسلامي .

.....





فرق بين كل مما يلي من حيث المفهوم :

البحر	الخليج
.....


المحيط	القارة
.....


قارن بين كل مما يلي :

		أوجه المقارنة
.....	اسم القارة
.....	مميزاتها

مثل النسب التالية بدوائر بيانية :

- ١- تتكون الكرة الأرضية من مياه تغطي ٧١% من سطح الأرض (المسطحات المائية)
ويابسة تمثل ٢٩% من مساحة سطح الأرض (القارات) .







بنك أسئلة الصف الخامس

مقرر وطني الكويت

الفصل الدراسي الأول

٢٠٢٥ - ٢٠٢٦ م

الوحدة التعليمية الثانية

الموارد الطبيعية في وطني الكويت





الأسئلة الموضوعية:

أكمل العبارات التالية بما يناسبها :

١. المناخ الذي يميز وطني الكويت اسمه
٢. الموارد الطبيعية تنقسم إلى موارد حية وموارد
٣. النباتات الطبيعية في وطني الكويت تنقسم إلى نباتات معمرة ونباتات
٤. نباتات تنمو طوال العام في وطني الكويت مثل العرفج و
٥. حشائش تنبت بعد سقوط الأمطار مثل الربلة و
٦. الحيوانات في وطني الكويت تتميز بقدرتها على
٧. الخليج الذي يطل عليه وطني الكويت اسمه
٨. أدوات صيد الأسماك قديماً الحظرة والسالية و
٩. الهيئة المشرفة على المحميات الطبيعية في وطني الكويت اسمها
١٠. الهيئة المشرفة على عملية استزراع الأسماك في وطني الكويت اسمها
١١. محمية طبيعية تعد نقطة عبور مهمة للطيور المهاجرة التي تمر في وطني الكويت في مواسم الهجرة
اسمها
١٢. موطناً مهماً للكثير من الكائنات البحرية اسمه



ضع خطأ تحت الخيار الصحيح من بين الخيارات التي تلي كل عبارة :

- ١- المناخ في وطني الكويت مناخ :
أ- صحراوي ب- استوائي ج- شبه جاف د- شبه استوائي
- ٢- موسم التخيم في وطني الكويت محدد في فصل :
أ- الشتاء ب- الصيف ج- الربيع د- الخريف
- ٣- حشائش تنمو بعد سقوط الأمطار هي نباتات :
أ- معمرة ب- حولية (موسمية) ج- دائمة د- مزروعة
- ٤- محمية تقع على الساحل الغربي لجنون الكويت وتعد نقطة عبور مهمة للطيور المهاجرة :
أ- الجهراء ب- صباح الأحمد الطبيعية ج- جابر الكويت البحرية د- اللياح
- ٥- المحمية البحرية التي تقع في رأس الزور في وطني الكويت :
أ- الجهراء ب- الوفرة ج- صباح الأحمد الطبيعية د- جابر الكويت البحرية

صنف الكلمات التالية إلى مكانها المناسب في الجدول الذي يليها :

(رياح - حيوانات - نباتات - نفط - شمس - غاز طبيعي - الأسماك - ماء)


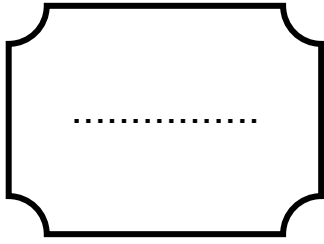
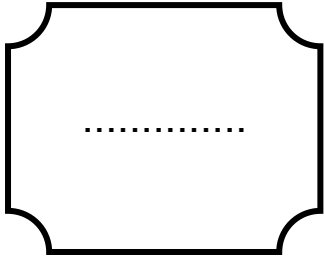
الموارد غير الحية	الموارد الحية
.....

(العرفج - الرمث الربلة - الخزامى)

نباتات معمرة (دائمة)	نباتات حولية (موسمية)
.....



اكتب العامل المشترك لمدلولات الصور التالية في المكان المناسب :



ضع علامة (✓) إذا كانت العبارة صحيحة وعلامة (x) إذا كانت العبارة خاطئة في كل مما يلي :

- ١- يتميز وطني الكويت بمناخ صحراوي حار جاف صيفاً دافئ قليل الأمطار شتاءً . ()
- ٢- نباتات وطني الكويت غير قادرة على التكيف مع الجفاف و الحرارة . ()
- ٣- نبات الخزامى من النباتات المعمرة الدائمة . ()
- ٤- أصبحت أعداد الحيوانات في تناقص مستمر بسبب التلوث البيئي و الصيد الجائر. ()
- ٥- منطقة الشقايا تعتبر من المناطق الرعوية في وطني الكويت. ()
- ٦- اعتمد الكويتيون على الأسماك كغذاء رئيسي بسبب وفرته في مياه البحر و جودته. ()
- ٧- تقع محمية الجهراء على الساحل الشرقي لجون الكويت . ()
- ٨- شاركت مجموعة من الفرق التطوعية بزراعة ألف شتلة من نبات العرفج. ()
- ٩- تتمثل الموارد الحية في النبات و الحيوان و الأسماك . ()
- ١٠- الهيئة العامة للبيئة هي الجهة المشرفة على المحميات الطبيعية . ()



الأسئلة المقالية :

عرف المفاهيم والمصطلحات التالية:

- موارد طبيعية :
- نبات طبيعي :
- نباتات معمرة (دائمة) :
- نباتات حولية (موسمية) :
- محمية طبيعية :
- فقع :
- استزراع الأسماك :
- شعاب مرجانية :
- عمل تطوعي :

قارن بين كل مما يلي :

أوجه المقارنة	النباتات المعمرة (الدائمة)	النباتات الحولية (الموسمية)
التعريف أو المفهوم
الأمثلة



فرق بين كل مما يلي :

١- مصطلحي النبات الطبيعي والمحمية الطبيعية .

المحمية الطبيعية	النبات الطبيعي
.....


٢- أمثلة لأنواع الموارد الطبيعية .

موارد غير حية	موارد حية
.....

٣- تعريف النباتات المعمرة والنباتات الحولية .

نباتات حولية (موسمية)	نباتات معمرة (دائمة)
.....

أكتب مدلولات الصور التالية في الفراغ الذي يليه:



.....



.....



.....



أكتب دلالات الشعارات والرموز التالية :



.....



.....



.....

أكتب طرق صيد الأسماك قديما



.....

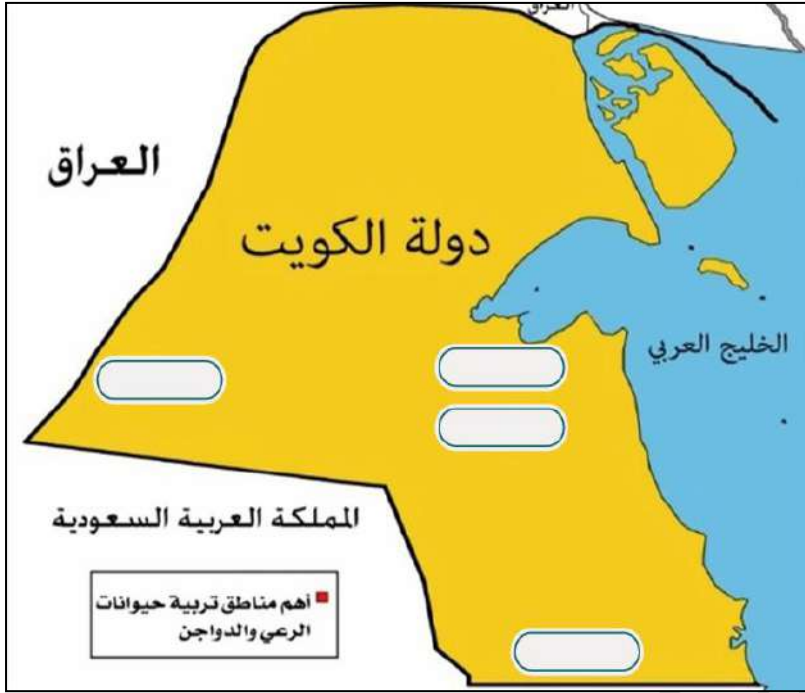


.....



.....

لاحظ خريطة دولة الكويت الصماء ثم نفذ عليها ما يلي :



- المناطق الرعوية في وطني الكويت

لاحظ الصور المقابلة ثم أجب عن الأسئلة التالية :



- النبات البري في الصورة اسمه
- ينمو في الصحراء بعد



- المشكلة :
- سبب المشكلة :
- طريقة العلاج :



علل لما يلي :

١- تلعب النباتات الطبيعية دور مهم في حياتنا .

-
-

٢- النبات الطبيعي في وطني الكويت كميته محدوده .

-
-

٣- إقامة المحميات الطبيعية في وطني الكويت .

-
-
-

٤- في وطني الكويت أصبحت أعداد الحيوانات في تناقص مستمر .

-
-

٥ - يشجع وطني الكويت على الإهتمام بحيوانات الرعي والدواجن .

-

٦- اعتماد الكويتيون على الأسماك في غذائهم.

-
-

٧ - تعد الشعب المرجانية موطناً مهماً للكثير من الكائنات البحرية .

-
-
-



٨ - تسمية محمية جابر الكويت البحرية باسم المغفور له الشيخ جابر الأحمد الصباح .

.....

٩ - زراعة ألف شتلة من نبات القرم في محمية الجهراء .

.....

عدد ما يلي – أكتب فيما يلي :

١ - المشكلات التي تواجه النباتات الطبيعية في وطني الكويت .

.....

٢ - أنواع النبات الطبيعي .

.....

٣ - جهود وطني الكويت في المحافظة على النباتات الطبيعية .

.....

.....

.....

٤ - وسائل تكيف الحيوانات مع البيئة .

.....

.....

٥ - أسباب انخفاض أعداد الحيوانات في وطني الكويت .

.....

٦ - جهود وطني الكويت في المحافظة على الحياة البرية .

.....

.....

٧ - أهم مناطق تربية الحيوانات الرعوية والدواجن في وطني الكويت .

.....



٨- أشهر أنواع الأسماك في وطني الكويت .

..... -

٩- طرق وأدوات صيد الأسماك قديماً .

..... -

١٠- المشكلات التي تواجه الثروة البحرية .

..... -
..... -
..... -
..... -

١١- جهود وطني الكويت في المحافظة على الثروة البحرية .

..... -
..... -

١٢- أهم المحميات الطبيعية الموجودة في وطني الكويت .

..... -
..... -
..... -

١٣- الهدف من إنشاء المحميات الطبيعية .

..... -
..... -



بنك أسئلة الصف الخامس

مقرر وطني الكويت

الفصل الدراسي الأول

٢٠٢٥ - ٢٠٢٦ م

الوحدة التعليمية الثالثة

الثروات الاقتصادية في وطني الكويت





الأسئلة الموضوعية:

ظل الخيار الصحيح من بين الخيارات التي تلي كل عبارة :

١- أكبر حقل نفطي اكتشف عام ١٩٣٨ م في وطني الكويت :

بحرة	برقان	الصابرية	الدرة
------	-------	----------	-------

٢- أول مصفاة نفط في وطني الكويت وتعد من أكبر مصافي العالم :

ميناء الأحمدى	ميناء عبدالله	ميناء الشعبية	ميناء الزور الحديثة
---------------	---------------	---------------	---------------------

٣- آبار النفط التي أحرقتها قوات النظام العراقي البائد قبل أن تخرج من أراضي وطني الكويت عددها :

٧٠٧	٧١٧	٧٢٧	٧٣٧
-----	-----	-----	-----

٤- مصدر الطاقة الرئيسي والأول في العالم :

الغاز الطبيعي	النفط	الكهرباء	الفحم
---------------	-------	----------	-------

٥- العام الذي اكتشف فيه بئر بحرة في وطني الكويت :

١٩٣٦ م	١٩٤٦ م	١٩٥٦ م	١٩٦٦ م
--------	--------	--------	--------

٦- الميناء الذي صدرت منه أول شحنة نفط كويتي :

الشويخ	الأحمدى	الشعبية	عبدالله
--------	---------	---------	---------

٧- نسبة احتياطي النفط الكويتي بالنسبة لاحتياطي النفط في العالم :

١٠٪	٢٠٪	٣٠٪	٤٠٪
-----	-----	-----	-----



٨- الحاكم الذي اكتشف النفط في عهده اسمه الشيخ :

جابر بن مبارك	سالم بن مبارك	أحمد الجابر الصباح	عبدالله السالم
---------------	---------------	--------------------	----------------

٩- العام الذي اكتشف فيه النفط الخفيف في حقل الصابرية :

٢٠٠٢ م	٢٠٠٣ م	٢٠٠٤ م	٢٠٠٥ م
--------	--------	--------	--------

اكتب المفاهيم أو المصطلحات العلمية الدالة على العبارات التالية :

م	المفهوم أو المصطلح	التعريف
١-	سائل أسود كثيف قابل للاشتعال تكون في أعماق الأرض.
٢-	المنتجات التي تصنع أو تنتج داخل الكويت من خلال المصانع والشركات الوطنية والمزارع .
٣-	كمية النفط المخزونة في باطن الأرض .
٤-	كميات النفط الخام التي تستخرج للاستفادة منها .
٥-	عملية فصل النفط إلى مواد مختلفة مثل : البنزين ، الديزل ، الكيروسين ، الزيوت ، والغازات .



ضع علامة (✓) إذا كانت العبارة صحيحة وعلامة (x) إذا كانت العبارة خاطئة في كل مما يلي :

- ١- الذهب الأسود اسم يُطلق على النفط . ()
- ٢- اكتشف حقل الصابرية في عهد الشيخ جابر الأحمد الصباح . ()
- ٣- مصفاة ميناء عبدالله تعد الأحدث والأكبر من نوعها في وطني الكويت . ()
- ٤- احتفل وطني الكويت بإطفاء آخر بئر في ٦ نوفمبر ١٩٩١ م . ()
- ٥- تتمثل المنتجات الاستهلاكية في الاسمنت والطابوق والأنابيب الخرسانية والحديد . ()
- ٦- مصفاة ميناء الزور الجديدة أول مصفاة تبنيها شركة البترول الوطنية بالكامل في المنطقة . ()
- ٧- حقل برقان أكبر حقل نفطي في وطني الكويت . ()
- ٨- استغرق إطفاء الآبار النفطية المشتعلة على يد قوات النظام العراقي البائد ستة أشهر . ()
- ٩- تتنوع المنتجات الوطنية الاقتصادية في وطني الكويت . ()
- ١٠- يصدر وطني الكويت النفط الخام و مشتقاته بنسبة ٩٤٪ من الصادرات . ()
- ١١- حقل الدرة و حقل الحوت هي حقول برية في وطني الكويت . ()
- ١٢- احتفل وطني الكويت بإطفاء آخر بئر مشتعلة في عهد الشيخ جابر الأحمد الصباح . ()
- ١٣- يستخدم الديزل و الكيروسين للشاحنات و التدفئة . ()
- ١٤- حفر أول بئر نفطي في منطقة الصابرية . ()
- ١٥- صدرت أول شحنة من النفط الكويتي عام ١٩٤٦ م . ()



صنف الكلمات التالية إلى مكانها المناسب في الجدول الذي يليها :

البنزين - ألبان - طابوق - إسمنت - مخبوزات - الزيوت والشحوم

منتجات استهلاكية	منتجات إنشائية	منتجات نفطية
.....
.....

أكمل الأحداث التاريخية للنفط الكويتي على الخط الزمني التالي:



رتب مراحل تصدير النفط في وطني الكويت :

- ينقل النفط و مشتقاته للموانئ البحرية . ☐
- يستخرج النفط من باطن الأرض. ☐
- تكرير النفط . ☐
- يحمل على سفن ضخمة ليصدر إلى دول العالم. ☐



أكتب مدلولات الصور في الفراغات أدناه :





أكمل العبارات التالية بما يناسبها :

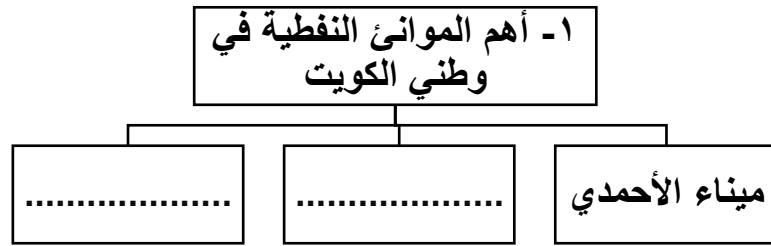
- ١- العام الذي تم فيه اكتشاف حقل برقان هو
- ٢- أكبر حقل نفطي في الكويت اسمه
- ٣- أهم الموانئ النفطية في وطني الكويت ميناء الأحمدى و الزور و
- ٤- حقل الدرة و الحوت من الحقول
- ٥- كمية النفط المخزونة في باطن الأرض تسمى
- ٦- أنشأ وطني الكويت شركة البترول الوطنية الكويتية لتشغيل
- ٧- العام الذي قامت فيه قوات النظام العراقي البائد بحرق آبار النفط
- ٨- احتفل وطني الكويت بإطفاء آخر بئر مشتعلة في حقل اسمه
- ٩- المنتجات التي تصنع أو تنتج داخل الكويت من خلال المصانع والشركات الوطنية والمزراع تسمى
- ١٠- المصفاة التي تعمل بجانب مصفاة الأحمدى لتكرير كميات ضخمة من النفط اسمها
- ١١- عدد آبار النفط الكويتية التي أحرقتها النظام العراقي البائد



- ١٢- عملية فصل النفط إلى مواد مختلفة مثل البنزين ، الديزل ، الكيروسين ، الزيوت والغازات اسمها
- ١٣- المصفاة الأحداث والأكبر من نوعها في وطني الكويت وثاني أكبر مصافي النفط في الشرق الأوسط اسمها
- ١٤- مادة طبيعية عبارة عن سائل أسود كثيف قابل للاشتعال تكون في أعماق الأرض اسمه
- ١٥- الحاكم الذي اكتشف حقل الصابرية في عهده اسمه
- ١٦- الميناء الذي صدرت منه أول شحنة نفط كويتي يسمى
- ١٧- أول بئر نفطي اكتشف في وطني الكويت عام ١٩٣٦ م اسمه
- ١٨- المنتجات الوطنية الاقتصادية في وطني الكويت نفطية وإنشائية و
- ١٩- تتميز المنتجات الوطنية بجودتها العالية و
- ٢٠- الحاكم الذي احتفل وطني الكويت بإطفاء آخر بئر مشتعلة في عهده اسمه
- ٢١- أول مصفاة تبنيها شركة البترول الوطنية بالكامل في المنطقة اسمها
- ٢٢- يبلغ احتياطي النفط الكويتي بالنسبة لاحتياطي النفط في العالم %
- ٢٣- الألبان والمخبوزات والفواكه والخضروات تعتبر منتجات اسمها
- ٢٤- كميات النفط الخام التي تستخرج للاستفادة منها تسمى
- ٢٥- الحاكم الذي اكتشف النفط في عهده اسمه
- ٢٦- اكتشف النفط الخفيف في حقل اسمه
- ٢٧- العام الذي اكتشف فيه النفط في وطني الكويت م
- ٢٨- اللقب الذي يطلق على النفط يسمى
- ٢٩- العام الذي اكتشف فيه حقل الصابرية م
- ٣٠- يصدر وطني الكويت النفط الخام ومشتقاته بنسبة %



أكمل المخططات السهمية التالية بما يناسبها :



الأسئلة المقالية :

فرق بين كل مما يلي من حيث التعريف :

إنتاج النفط	احتياطي النفط
.....
.....



علل لما يلي :

١- أهمية إيرادات النفط في وطني الكويت .

.....

.....

.....

٢- دعم المواطن للمنتجات الوطنية الاقتصادية.

.....

.....

.....

.....

٣- للنفط أهمية كبيرة .

.....

.....

.....

.....

عدد ثلاثة لكل مما يلي :

١- جهود وطني الكويت في استثمار الثروة النفطية .

.....

.....

.....

٢- الآثار المترتبة على حرق آبار النفط الكويتية .

.....

.....

.....



٣- جهود وطني الكويت في مواجهة التلوث البيئي الناجم عن حرق الآبار .

- -
- -
- -

٤- مصافي تكرير النفط في وطني الكويت .

- -
- -
- -

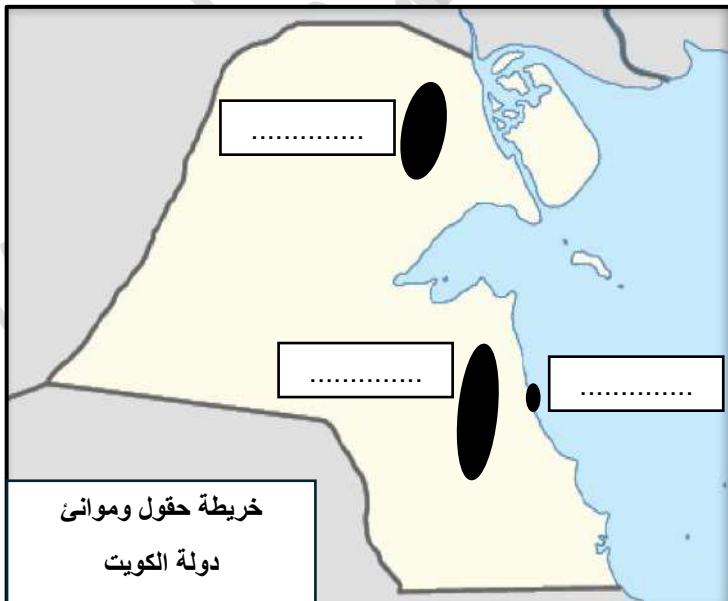
٥- أهم الموانئ النفطية في وطني الكويت.

- -
- -
- -

٦- المنتجات الوطنية الاقتصادية .

- -
- -
- -

لاحظ خريطة حقول وموانئ دولة الكويت واكتب عليها ما يلي:



- ١- حقل برقان .
- ٢- حقل الصابرية .
- ٣- ميناء الأحمدى .



بنك أسئلة الصف الخامس


مقرر وطني الكويت

الفصل الدراسي الأول

٢٠٢٥ - ٢٠٢٦ م

الوحدة التعليمية الرابعة

الطاقة وطني الكويت





الأسئلة الموضوعية :

ضع علامة (✓) إذا كانت العبارة صحيحة وعلامة (x) إذا كانت العبارة خاطئة في كل مما يلي :

- ١- الطاقة هي القدرة على القيام بعمل معين . ()
- ٢- الطاقة التي تنتهي ولا يمكن تعويضها في زمن قصير هي الطاقة المستدامة . ()
- ٣- مصادر الطاقة المستدامة هي الشمس ، الرياح ، الماء . ()
- ٤- مميزات الطاقة غير المستدامة أنها لا تنتج طاقة حرارية كبيرة جدا . ()
- ٥- مصادر الطاقة غير المستدامة هي الفحم فقط . ()
- ٦- بدأت خدمة الكهرباء في وطني الكويت عام ١٩٤٠م . ()
- ٧- أكثر أنواع الطاقة استخداما في العالم هي الكهرباء . ()
- ٨- تستخدم الكهرباء في تشغيل المصانع وتشغيل أجهزة المستشفيات وإنارة الشوارع . ()
- ٩- يستخدم الماء في الشرب وري المزروعات والتنظيف وغيرها . ()
- ١٠- أقدم محطة لتوليد الكهرباء في وطني الكويت هي محطة الصبية . ()
- ١١- تعد طاقة الرياح طاقة غير نظيفة لأنها تلوث البيئة . ()
- ١٢- دوار الرياح هي أداة تحول حركة الرياح إلى طاقة . ()
- ١٣- أنشأت محطة الشقايا لتوليد الكهرباء وتسخين المياه باستخدام طاقة الماء . ()
- ١٤- يوفر مشروع محطة الشقايا ١٥٪ من احتياجات وطني الكويت من الكهرباء . ()
- ١٥- يتشابه الغاز الطبيعي مع النفط في التمرکز بين طبقات الصخور العميقة في باطن الأرض ()
- ١٦- من مميزات الغاز الطبيعي أن له لون وله رائحة . ()



١٧- يستخدم الغاز الطبيعي في الطبخ والتدفئة وتحلية مياه البحر . ()

١٨- من مقومات منطقة الشقاي سهولة التضاريس ، سطوع الشمس ، شدة الحرارة ، استمرار حركة الرياح طوال العام . ()

١٩- ألواح الطاقة الشمسية لا توفر الكهرباء . ()

٢٠- ترشيد الاستهلاك هو الاستخدام الأمثل للموارد . ()

٢١- أطلقت وزارة التربية حملة (وفر) لتوفير الطاقة . ()

أكمل العبارات التالية بما يناسبها :

١- القدرة على القيام بعمل معين تسمى

٢- الطاقة التي لا تنتهي ولا تنفذ وتعرف بالطاقة النظيفة تسمى

٣- مصادر الطاقة المستدامة هي : الشمس ، الرياح ، و.....

٤- تمتاز الطاقة غير المستدامة بأنها متوفرة حالياً بكميات كبيرة وتنتج طاقة

٥- مصادر الطاقة غير المستدامة هي : الفحم ، النفط ، و

٦- العام الذي بدأت فيه خدمة الكهرباء في وطني الكويت عام

٧- أكثر أنواع الطاقة استخداماً في العالم اسمها

٨- أقدم محطة لتوليد الكهرباء في وطني الكويت اسمها

٩- الطاقة النظيفة التي لا تلوث البيئة اسمها

١٠- دارة الرياح هي أداة تحول حركة الرياح إلى

١١- محطة الشقاي تولد الكهرباء باستخدام طاقتي الشمس و

١٢- تبلغ نسبة الكهرباء التي توفرها محطة الشقاي لوطني الكويت %



- ١٣- أحد مصادر الطاقة غير المستدامة يتميز بأنه صديق للبيئة اسمه
- ١٤- الوزارة التي أطلقت حملة (وفر) اسمها

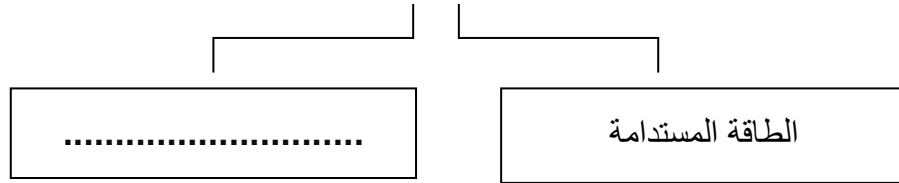
اكتب المفاهيم أو المصطلحات العلمية الدالة على العبارات التالية :

- ١- (.....) الطاقة التي لا تنتهي ولا تنفذ وتعرف بالطاقة النظيفة .
- ٢- (.....) القدرة على القيام بعمل معين .
- ٣- (.....) الطاقة التي تنتهي ولا يمكن تعويضها في زمن قصير .
- ٤- (.....) أداة تحول حركة الرياح إلى طاقة .
- ٥- (.....) الاستخدام الأمثل للموارد .

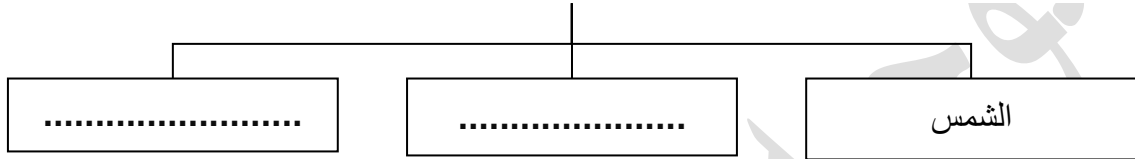


أكمل المخططات السهمية التالية :

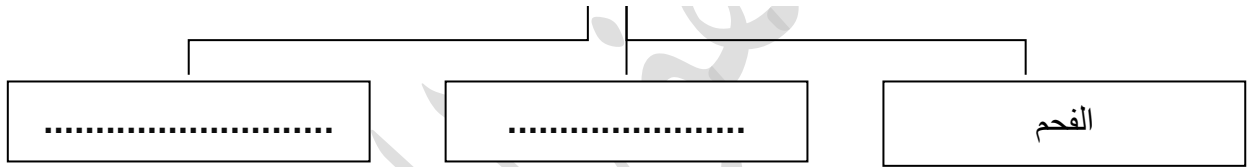
١- أنواع الطاقة :



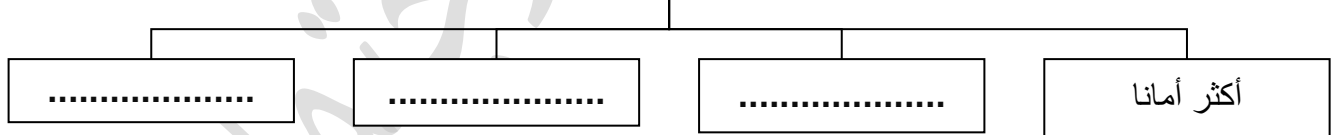
٢- مصادر الطاقة المستدامة :



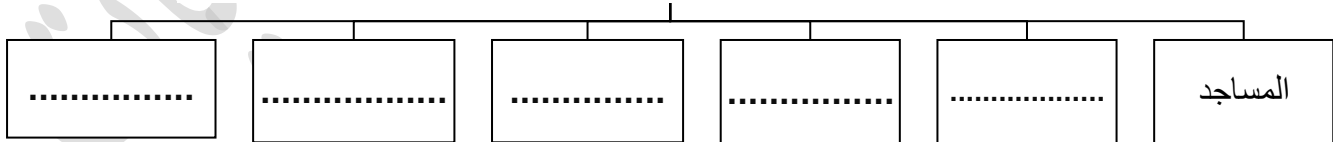
٣- مصادر الطاقة غير المستدامة :



٤- مميزات الغاز الطبيعي:



٥- المنشآت التي تستخدم الطاقة الشمسية في وطني الكويت :

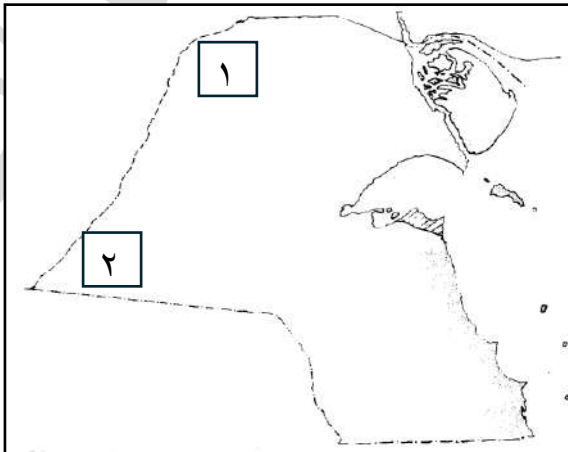




ضع خطا تحت الخيار الصحيح من بين الخيارات التي تلي كل عبارة :

- ١- الطاقة التي لا تنتهي ولا تنفذ وتعرف بالطاقة النظيفة:
- أ- الطاقة غير المستدامة ب- الطاقة المستدامة ج- الطاقة الحركية د- الطاقة الحرارية
- ٢- من مميزات الطاقة المستدامة أنها :
- أ- تنفذ ب- غير متوفرة ج- اقتصادية د- باهضة الثمن
- ٣- العام الذي بدأت فيه خدمة الكهرباء في وطني الكويت:
- أ- ١٩٣١م ب- ١٩٣٢م ج- ١٩٣٣م د- ١٩٣٤م
- ٤- أقدم محطة لتوليد الكهرباء في وطني الكويت :
- أ- الجهراء ب- الصبية ج- الشويخ د- الزور
- ٥- المحطة التي تستخدم طاقة الرياح لتوليد الكهرباء وتسخين الماء في وطني الكويت:
- أ- الشقايا ب- الجهراء ج- حولي د- الأحمدى
- ٦- توفر محطة الشقايا احتياجات وطني الكويت من الكهرباء ما يمثل نسبة : ص ٩٥
- أ- ١٠% ب- ١٥% ج- ٢٠% د- ٢٥%

أمامك خريطة دولة الكويت ، اكتب الرقم الدال على العبارة التالية :



- ١- منطقة الشقايا تحمل على الخريطة رقم ()

اكتب العامل المشترك لمدلولات الصور التالية في المكان المناسب :

.....




.....



.....



.....



.....





صنف العبارات بين الاقواس حسب ماهو مطلوب منك في الجداول التالية :

١- (الشمس / النفط / الرياح / الفحم / الماء / الغاز الطبيعي)

الطاقة غير المستدامة	الطاقة المستدامة
.....
.....
.....

٢- (ري المزروعات / تشغيل المصانع / الشرب / التنظيف / إنارة الشوارع / وسائل التبريد)

استخدامات الماء	استخدامات الكهرباء
.....
.....
.....

الأسئلة المقالية :

فرق بين كل مما يلي حسب المطلوب في الجدول التالي :

الطاقة غير المستدامة	الطاقة المستدامة	أوجه المقارنة
.....	التعريف
.....	المميزات



علل لما يلي:

١- إنشاء محطات توليد الطاقة .

.....

٢- إنشاء محطات تحلية مياه البحر .

.....

٣- أهمية الطاقة في حياتنا .

.....

٤- تعد طاقة الرياح طاقة نظيفة .

.....

٥- تعد طاقة الرياح طاقة مستدامة .

.....

٦- إنشاء مشروع محطة الشقايا للطاقة المستدامة .

.....

٧- تركيب ألواح الطاقة الشمسية .

.....

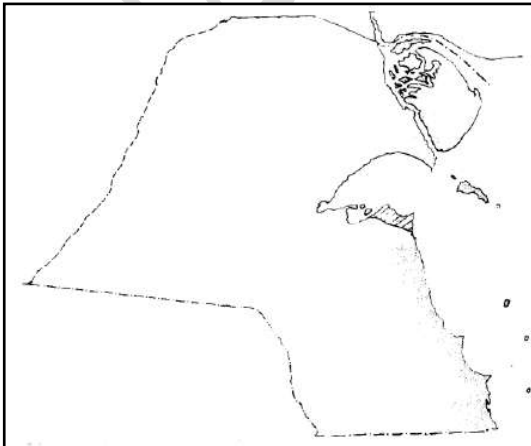
٨- انطلاق حملة (وفر) الوطنية .

.....

لاحظ الخريطة التي أمامك جيدا ثم أجب عن السؤال التالي :

١- حدد موقع منطقة الشقايا على خريطة دولة الكويت

بوضع الرمز (×)





عدد ما يلي (اكتب فيما يلي):

١- أنواع الطاقة .

..... -

٢- مصادر الطاقة المستدامة .

..... -

٣- مميزات الطاقة المستدامة .

..... -

٤- مصادر الطاقة غير المستدامة .

..... -

٥- استخدامات الكهرباء في حياتنا .

..... -

..... -

..... -

٦- استخدامات الماء في حياتنا .

..... -

٧- محطات توليد الطاقة في وطني الكويت .

..... -

..... -

٨- مميزات طاقة الرياح .

..... -

٩- استخدامات طاقة الرياح .

..... -

١٠- مميزات الغاز الطبيعي .

..... -



١١ - استخدامات الغاز الطبيعي .

..... - -

١٢ - مقومات منطقة الشقاي .

..... -
..... -

١٣ - المنشآت التي تستخدم الطاقة الشمسية في وطني الكويت .

..... -
..... -

١٤ - أهداف حملة وفر .

..... -
..... -
..... -

١٥ - طرق ترشيد استهلاك الطاقة .

..... -
..... -
..... -

لاحظ الصور المقابلة ثم أجب على الأسئلة التالية :



١ - ما اسم هذه الأداة ؟

.....

٢ - ما هي مميزاتها ؟

.....

٣ - ما اسم المحطة التي تستخدم هذه الطاقة في وطني الكويت ؟

.....



١- ما اسم هذه الطاقة ؟

.....

٢- ما هي مميزاتها ؟

.....

٣- أين تستخدم ؟

.....



١- ما اسم الحملة الوطنية لتوفير الطاقة ؟

.....

٢- ما اسم الوزارة التي أطلقت هذه الحملة ؟

.....

٣- ما هي أهداف هذه الحملة ؟

.....

.....

.....