

تم تحميل هذا الملف من موقع المناهج الكويتية



مدرسة التميز النموذجية

الملف أوراق عمل شاملة حول الجغرافيا والموارد الطبيعية والبيئة في الكويت

[موقع المناهج](#) ⇨ [ملفات الكويت التعليمية](#) ⇨ [الصف الخامس](#) ⇨ [اجتماعيات](#) ⇨ [الفصل الأول](#)

روابط مواقع التواصل الاجتماعي بحسب الصف الخامس



روابط مواد الصف الخامس على تلغرام

[الرياضيات](#)

[اللغة الانجليزية](#)

[اللغة العربية](#)

[التربية الاسلامية](#)

المزيد من الملفات بحسب الصف الخامس والمادة اجتماعيات في الفصل الأول

نموذج احابة اختبار لمنطقة الجهراء لعام 2016 في مادة الاجتماعيات	1
نماذج اختبارات مجمعة في مادة الاجتماعيات	2
اسئلة تدريبية ممتازة في مادة الاجتماعيات	3
تلاخيص مهمة للكورس الاول في مادة الاجتماعيات	4
مراجعة عامة في مادة الاجتماعيات	5

أوراق عمل الوحدة الأولى والثانية

مادة الاجتماعيات

موقع
المنهج الكويتية
almanahj.com/kw

الفصل الدراسي الأول 2025 – 2026 م

للمصف (الخامس)

مدرسة التميز النموذجية

(ابتدائي - متوسط - ثانوي)



إعداد
قسم الاجتماعيات



اجب عن الأسئلة التالية

أولاً: أكمل العبارات التالية بما يناسبها مما درست :

- 1- نسبة اليابس من إجمالي مساحة الكرة الأرضية يقدر بحوالي %
- 2- نسبة المسطحات المائية من إجمالي الكرة الأرضية يقدر بحوالي..... %
- 3- أكبر المحيطات مساحة يسمى
- 4- أكبر قارات العالم من حيث المساحة والسكان هي
- 5- أصغر قارات العالم مساحة هي
- 6- القارة غير المأهولة بالسكان تسمى
- 7- تقع دولة الكويت ودول الخليج العربية على سطح مائي يسمى
- 8- تقع دولة الكويت بالنسبة للخليج العربي في جهة
- 9- تقع دولة الكويت بالنسبة لشبه الجزيرة العربية في جهة
- 10- المسطح المائي الذي يفصل بين الجناح الأفريقي والآسيوي يسمى
almanahi.com/kw
- 11- يبلغ عدد دول الوطن العربي حوالي
- 12- تقع دولة الكويت بالنسبة للوطن العربي في جهة
- 13- يمتد العالم الإسلامي في أربع قارات هي آسيا وأفريقيا وأوروبا و
- 14- تنقسم النباتات الطبيعية في دولة الكويت إلى نباتات معمرة ونباتات
- 15- فطر بري موسمي ينمو في الصحراء بعد سقوط الأمطار يسمى
- 16- حددت دولة الكويت مواسم التخميم في فصل
- 17- من أدوات صيد الأسماك قديماً و و
- 18- المحمية التي تقع على الساحل الغربي لجنون الكويت تسمى
- 19- المحمية البحرية التي تقع في رأس الزور بالكويت تسمى
- 20- الهيئة المشرفة على المحميات الطبيعية بالكويت تسمى

ثانياً: ضع علامة (✓) إذا كانت العبارة الصحيحة وعلامة (x) إذا كانت العبارة خاطئة في كل مما يلي:

م	العبارة	العلامة
1	مساحة اليابس على سطح الكرة الأرضية أكبر من الماء.	
2	تقع دولة الكويت في قارة آسيا.	
3	الوطن العربي يمتد في قارتي آسيا وأوروبا.	
4	العالم الإسلامي يمتد في خمس قارات.	
5	النباتات والحيوانات والأسماك من الموارد الطبيعية الحية.	
6	الرمث والعرفج من النباتات الحولية.	
7	تتميز الحيوانات في وطني الكويت بقدرتها على التكيف مع البيئة المحيطة بها	
8	شاركت فرق تطوعية مع الهيئة العامة للبيئة في زراعة ألف شتلة من نبات الخزامي	



ثالثاً: اكتب المفاهيم أو المصطلحات الدالة على العبارات التالية:

م	المفهوم / المصطلح	التعريف
1		مسطح مائي كبير جداً
2		جزء من البحر أو المحيط يمتد في اليابسة.
3		أشكال المياه على سطح الكرة الأرضية.
4		مساحة كبيرة من اليابسة يحيط بها الماء.
5		مجموعة من الدول التي يكون فيها عدد المسلمين 50% فأكثر
6		كل ما أوجده الله سبحانه وتعالى في الطبيعة دون تدخل الإنسان.
7		النبات الذي ينمو دون تدخل الإنسان.
8		تربية الأسماك بأنواعها المختلفة تحت ظروف محكمة وتحت سيطرة الإنسان
9		أماكن تخصصها الدولة لحماية الحيوانات والنباتات المهددة بالانقراض.
10		تقديم المساعدة طوعية من أجل تحقيق الخير للفرد والمجتمع.

رابعاً: ظلل الخيار الصحيح من بين الخيارات التي تلي كل عبارة مما يلي:

1- يبلغ عدد دول الوطن العربي

20 دولة	21 دولة	22 دولة	23 دولة
---------	---------	---------	---------

2- تقع الكويت بالنسبة لشبه الجزيرة العربية في جهة:

الشمال الشرقي	الشمال الغربي	الجنوب الشرقي	الجنوب الغربي
---------------	---------------	---------------	---------------

3- الإقليم المناخي الذي تقع ضمنه بلادي الكويت اسمه:

الصحراوي	المعتدل	الاستوائي	الموسمي الحار
----------	---------	-----------	---------------

4- من أمثلة النباتات المعمرة:

الريلة	العرفج	الخزامي	العنبريل
--------	--------	---------	----------

5- تم تحديد مواسم التخديم حفاظاً على النباتات الطبيعي في فصل:

الصيف	الشتاء	الربيع	الخريف
-------	--------	--------	--------

6- أهم مناطق تربية الحيوانات في وطني الكويت هي:

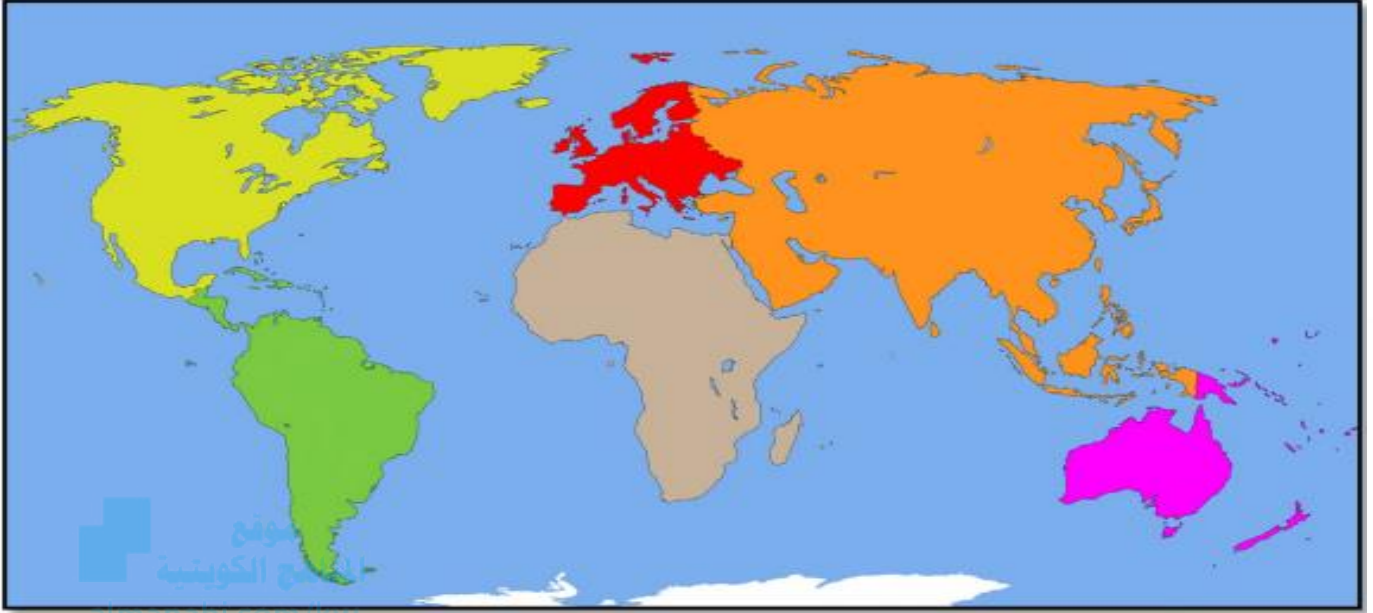
الجهراء	الصابرية	الصليبية	الأحمدي
---------	----------	----------	---------

7- مسطح مائي أصغر من المحيط:

المحيط	البحر	الخليج	القناة
--------	-------	--------	--------

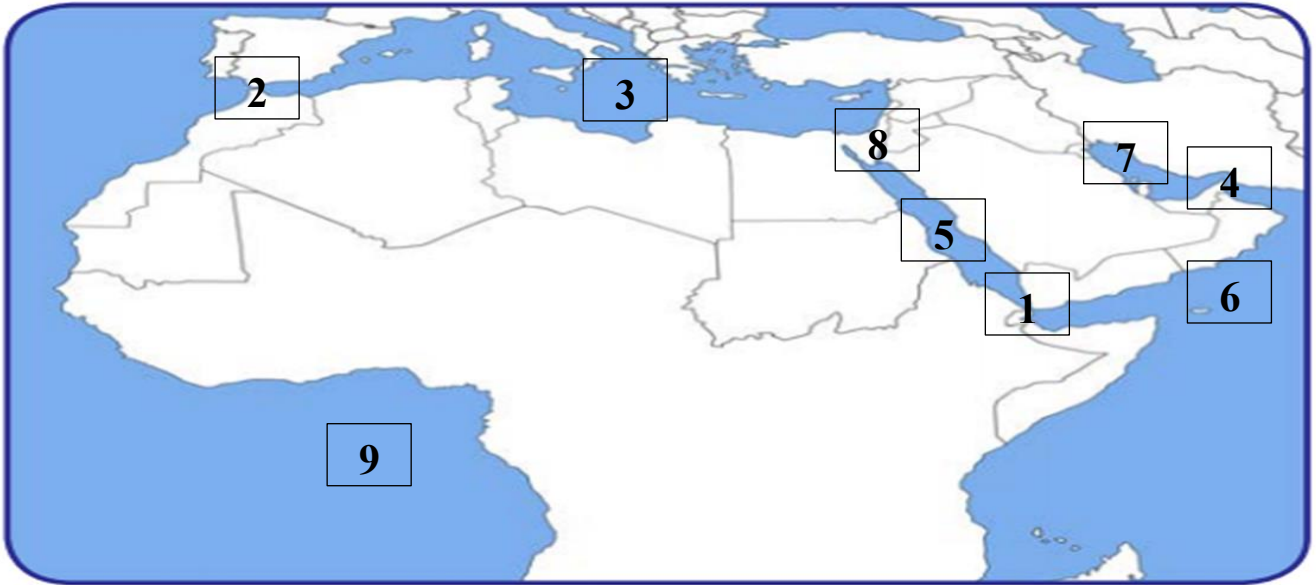


خامساً: لاحظ خريطة العالم الصماء ثم نفذ المطلوب:



- أكبر قارات العالم مساحة بالرقم (1)
- أصغر قارات العالم مساحة بالرقم (3)
- القارة غير المأهولة بالسكان بالرقم (2)
- القارة التي تقع بها دولة الكويت بالرقم (4)
- اكتب أسماء المحيطات على الخريطة.
- اكتب أسماء القارات العالم على الخريطة.
- ضع الشكل ■ على القارات التي يمتد بها العالم الإسلامي.

سادساً: لاحظ خريطة الوطن العربي ثم اكتب الرقم الدال على العبارات التي تليها:



- مضيق هرمز يمثلته الرقم
- مضيق باب المندب يمثلته الرقم
- الخليج العربي يمثلته الرقم
- مضيق جبل طارق يمثلته الرقم
- البحر المتوسط يمثلته الرقم
- قناة السويس يمثلها الرقم
- البحر الذي يفصل بين الجناح الأفريقي والآسيوي يمثلته الرقم



سابعاً: قارن بين كل من حسب المطلوب في الجدول التالي:

أوجه المقارنة	النبات المعمر (الدائم)	النبات الحولي (الموسمي)
التعريف		
أمثلة		

أوجه المقارنة	الموارد الطبيعية الحية	الموارد الطبيعية غير الحية
أمثلة		

ثامناً: عرف المفاهيم التالية:

م	المفهوم	التعريف
1	البحر	
2	القارة	
3	المضيق	
4	الوطن العربي	
5	العالم الإسلامي	
6	الفقع	
7	استزراع الأسماك	
8	المحمية الطبيعية	
9	العمل التطوعي	
10	الموارد الطبيعية	



تاسعاً: علل لما يلي:

1- تسمية دول الخليج العربية بهذا الأسم.

..... -

2- للوطن العربي أهمية كبيرة في الملاحة والتجارة البحرية.

..... -

3- أهمية موقع دولة الكويت.

..... -

4- أهمية الموارد الطبيعية.

موقع
المناهج الكويتية
almanahj.com/kw

..... -

5- تعد النباتات الطبيعية ذات أهمية كبيرة في حياتنا.

..... -

6- اقامة المحميات الطبيعية في دولة الكويت.

..... -

7- التناقص المستمر لأعداد الحيوانات البرية.

..... -

8- يشجع وطني الكويت على الاهتمام بالحيوانات الرعوية والدواجن.

(ابتدائي - متوسط - ثانوي)

..... -

9- تعد الشعاب المرجانية موطناً مهماً للكثير من الكائنات البحرية.

..... -

10- اعتماد الكويتيون على الأسماك في غذائهم.

..... -



عاشراً: اجب عما يلي:

1- عدد مميزات العالم الإسلامي.

..... -
..... -

2- عدد السمات المشتركة بين دول الوطن العربي.

..... -
..... -

3- المشكلات التي تواجه النباتات الطبيعية في دولة الكويت.



4- جهود الكويت في المحافظة على النباتات الطبيعية.

..... -
..... -
..... -

5- مميزات الحياة الحيوانية في وطني الكويت.

..... -
..... -

6- جهود الكويت في المحافظة على الحياة البرية.

..... -
..... -

7- عدد المشكلات التي تواجه الثروة البحرية.

..... -
..... -

8- جهود الكويت في المحافظة على الثروة البحرية.

..... -
..... -



أولاً: أكمل العبارات التالية بما يناسبها مما درست :

- 1- نسبة اليابس من إجمالي مساحة الكرة الأرضية يقدر بحوالي **29 %**
- 2- نسبة المسطحات المائية من إجمالي الكرة الأرضية يقدر بحوالي **71 %**
- 3- أكبر المحيطات مساحة يسمى **الهادي**
- 4- أكبر قارات العالم من حيث المساحة والسكان هي **آسيا**
- 5- أصغر قارات العالم مساحة هي **أستراليا**
- 6- القارة غير المأهولة بالسكان تسمى **القارة القطبية الجنوبية**
- 7- تقع دولة الكويت ودول الخليج العربية على سطح مائي يسمى **الخليج العربي**
- 8- تقع دولة الكويت بالنسبة للخليج العربي في جهة **الشمال الغربي**
- 9- تقع دولة الكويت بالنسبة لشبه الجزيرة العربية في جهة **الشمال الشرقي**
- 10- المسطح المائي الذي يفصل بين الجناح الأفريقي والآسيوي يسمى **البحر الأحمر**
- 11- يبلغ عدد دول الوطن العربي حوالي **22 دولة**
- 12- تقع دولة الكويت بالنسبة للوطن العربي في جهة **الشرق**
- 13- يمتد العالم الإسلامي في أربع قارات هي آسيا وأفريقيا وأوروبا و **أمريكا الجنوبية**
- 14- تنقسم النباتات الطبيعية في دولة الكويت إلى نباتات معمرة ونباتات **حولية**
- 15- فطر بري موسمي ينمو في الصحراء بعد سقوط الأمطار يسمى **الفقع**
- 16- حددت دولة الكويت مواسم التخميم في فصل **الربيع**
- 17- من أدوات صيد الأسماك قديماً **الحظرة و القرقور و السالية**
- 18- المحمية التي تقع على الساحل الغربي لجنون الكويت تسمى **صباح الأحمد**
- 19- المحمية البحرية التي تقع في رأس الزور بالكويت تسمى **جابر الأحمد البحرية**
- 20- الهيئة المشرفة على المحميات الطبيعية بالكويت تسمى **الهيئة العامة للبيئة**

ثانياً: ضع علامة (✓) إذا كانت العبارة الصحيحة وعلامة (x) إذا كانت العبارة خاطئة في كل مما يلي:

م	العبارة	العلامة
1	مساحة اليابس على سطح الكرة الأرضية أكبر من الماء.	x
2	تقع دولة الكويت في قارة آسيا.	✓
3	الوطن العربي يمتد في قارتي آسيا وأوروبا.	x
4	العالم الإسلامي يمتد في خمس قارات.	x
5	النباتات والحيوانات والأسماك من الموارد الطبيعية الحية.	✓
6	الرمث والعرفج من النباتات الحولية.	x
7	تتميز الحيوانات في وطني الكويت بقدرتها على التكيف مع البيئة المحيطة بها	✓
8	شاركت فرق تطوعية مع الهيئة العامة للبيئة في زراعة ألف شتلة من نبات الخزامي	x



ثالثاً: اكتب المفاهيم أو المصطلحات الدالة على العبارات التالية:

م	المفهوم / المصطلح	التعريف
1	المحيط	مسطح مائي كبير جداً
2	الخليج	جزء من البحر أو المحيط يمتد في اليابسة.
3	المسطحات المائية	أشكال المياه على سطح الكرة الأرضية.
4	القارة	مساحة كبيرة من اليابسة يحيط بها الماء.
5	العالم الإسلامي	مجموعة من الدول التي يكون فيها عدد المسلمين 50% فأكثر
6	الموارد الطبيعية	كل ما أوجده الله سبحانه وتعالى في الطبيعة دون تدخل الإنسان.
7	النبات الطبيعي	النبات الذي ينمو دون تدخل الإنسان.
8	استزراع الأسماك	تربية الأسماك بأنواعها المختلفة تحت ظروف محكمة وتحت سيطرة الإنسان
9	المحمية الطبيعية	أماكن تخصصها الدولة لحماية الحيوانات والنباتات المهددة بالانقراض.
10	العمل التطوعي	تقديم المساعدة طوعية من أجل تحقيق الخير للفرد والمجتمع.

رابعاً: ظلل الخيار الصحيح من بين الخيارات التي تلي كل عبارة مما يلي:

1- يبلغ عدد دول الوطن العربي

20 دولة	21 دولة	22 دولة	23 دولة
---------	---------	---------	---------

2- تقع الكويت بالنسبة لشبه الجزيرة العربية في جهة:

الشمال الشرقي	الشمال الغربي	الجنوب الشرقي	الجنوب الغربي
---------------	---------------	---------------	---------------

3- الإقليم المناخي الذي تقع ضمنه بلادي الكويت اسمه:

الصحراوي	المعتدل	الاستوائي	الموسمي الحار
----------	---------	-----------	---------------

4- من أمثلة النباتات المعمرة:

الريلة	العرفج	الخزامي	العنبريل
--------	--------	---------	----------

5- تم تحديد مواسم التخديم حفاظاً على النباتات الطبيعي في فصل:

الصيف	الشتاء	الربيع	الخريف
-------	--------	--------	--------

6- أهم مناطق تربية الحيوانات في وطني الكويت هي:

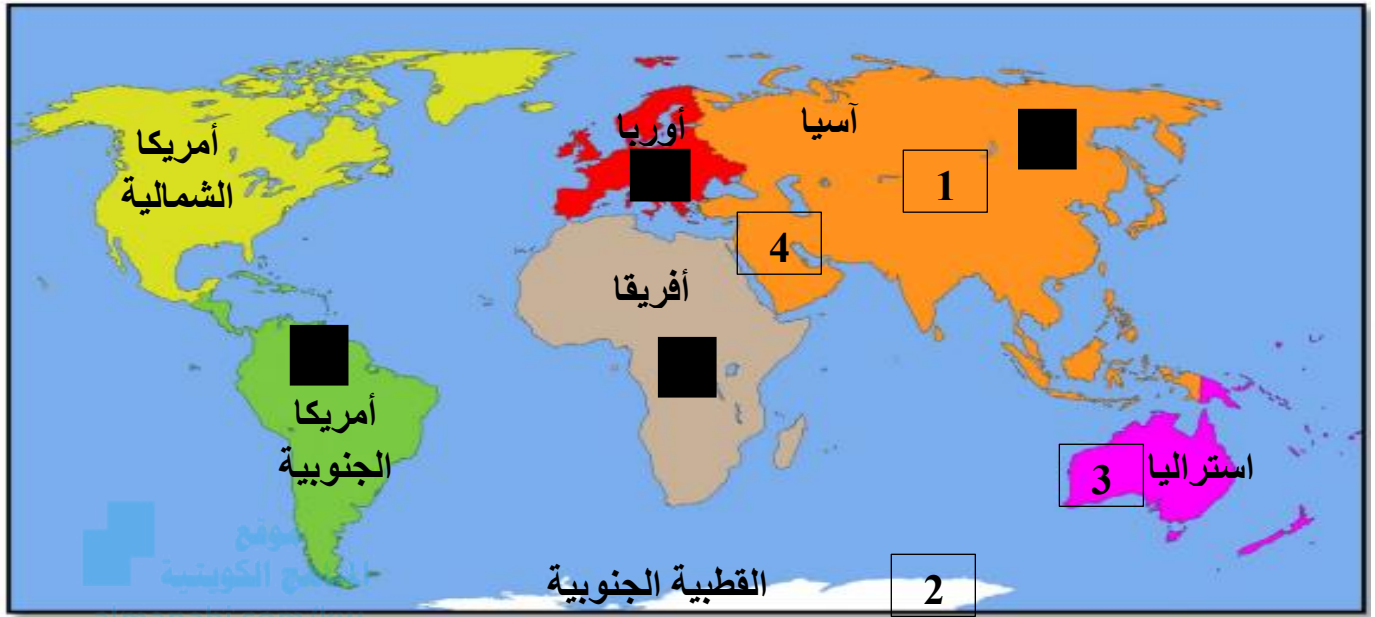
الجهراء	الصابرية	الصليبية	الأحمدي
---------	----------	----------	---------

7- مسطح مائي أصغر من المحيط:

المحيط	البحر	الخليج	القناة
--------	-------	--------	--------

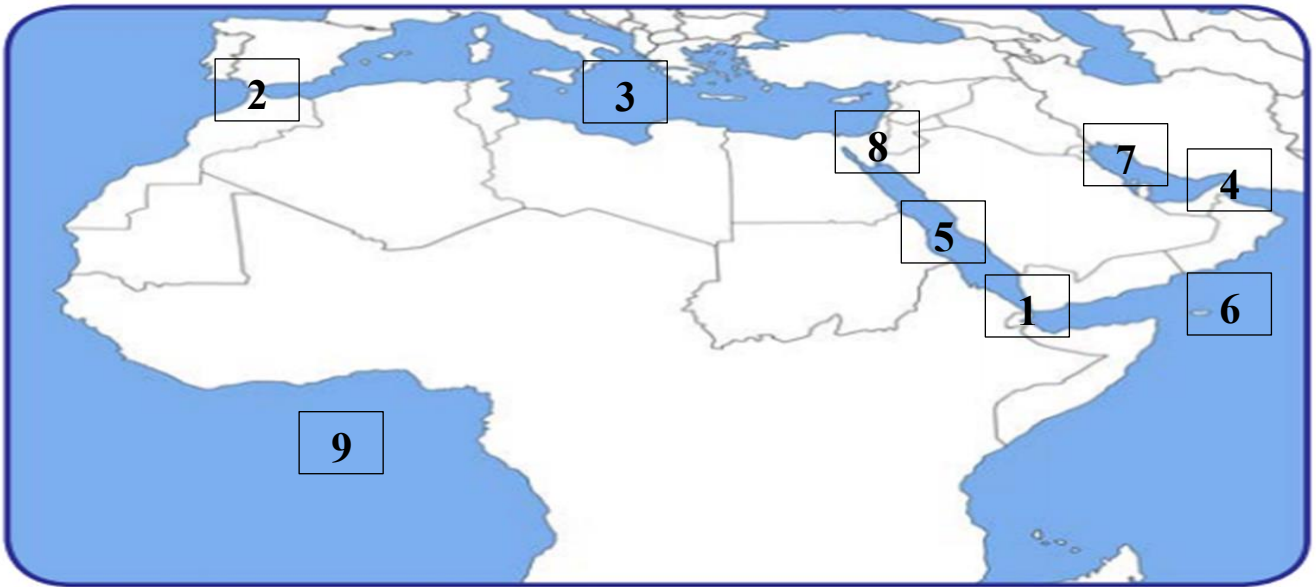


خامساً: لاحظ خريطة العالم الصماء ثم نفذ المطلوب:



- أكبر قارات العالم مساحة بالرقم (1)
- أصغر قارات العالم مساحة بالرقم (3)
- اكتب أسماء المحيطات على الخريطة.
- اكتب أسماء القارات التي تمتد بها العالم الإسلامي.
- القارة غير المأهولة بالسكان بالرقم (2)
- القارة التي تقع بها دولة الكويت بالرقم (4)
- اكتب أسماء القارات العالم على الخريطة.

سادساً: لاحظ خريطة الوطن العربي ثم اكتب الرقم الدال على العبارات التي تليها:



- مضيق هرمز يمثلته الرقم 4
- مضيق باب المندب يمثلته الرقم 1
- البحر المتوسط يمثلته الرقم 3
- البحر الذي يفصل بين الجناح الأفريقي والآسيوي يمثلته الرقم 5
- الخليج العربي يمثلته الرقم 7
- مضيق جبل طارق يمثلته الرقم 2
- قناة السويس يمثلها الرقم 8



سابعاً: قارن بين كل من حسب المطلوب في الجدول التالي:

أوجه المقارنة	النبات المعمر (الدائم)	النبات الحولي (الموسمي)
التعريف	نباتات تنمو طوال العام	حشائش تنبت بعد سقوط الأمطار
أمثلة	العرفج والرمث	الريلة والخزامي

أوجه المقارنة	الموارد الطبيعية الحية	الموارد الطبيعية غير الحية
أمثلة	النباتات والحيوانات والأسماك	الشمس والماء والرياح والغاز الطبيعي والنفط

ثامناً: عرف المفاهيم التالية:

م	المفهوم	التعريف
1	البحر	مسطح مائي أصغر من المحيط
2	القارة	مساحة كبيرة من اليابسة يحيط بها الماء.
3	المضيق	ممر مائي ضيق من الماء يفصل بين مسطحين مائيين.
4	الوطن العربي	مجموعة من الدول تجمعها سمات مشتركة مثل الدين الإسلامي واللغة العربية والتراث والتاريخ.
5	العالم الإسلامي	مجموعة من الدول التي يكون فيها عدد المسلمين 50% فأكثر من مجموع السكان.
6	الفقع	فطر بري موسمي ينمو في الصحراء بعد سقوط الأمطار
7	استزراع الأسماك	تربية الأسماك بأنواعها المختلفة تحت ظروف محكمة وتحت سيطرة الإنسان
8	المحمية الطبيعية	أماكن تخصصها الدولة لحماية الحيوانات والنباتات المهددة بالانقراض.
9	العمل التطوعي	تقديم المساعدة طوعية من أجل تحقيق الخير للفرد والمجتمع.
10	الموارد الطبيعية	كل ما أوجده الله سبحانه وتعالى في الطبيعة دون تدخل الإنسان.



تاسعاً: علل لما يلي:

- 1- تسمية دول الخليج العربية بهذا الأسم.
- لأنها تقع على سطح مائي اسمه الخليج العربي.
- 2- للوطن العربي أهمية كبيرة في الملاحة والتجارة البحرية.
- لأنه يشرف على العديد من المضائق المائية.
- 3- أهمية موقع دولة الكويت.
- يقع في وسط العالم.
- موقع متميز له دور في ربط طرق التجارة العالمية.
- 4- أهمية الموارد الطبيعية.
- نستفيد منها في حياتنا.
- 5- تعد النباتات الطبيعية ذات أهمية كبيرة في حياتنا.
- لاعتمادنا عليها كمصدر للحطب والوقود ورعي الحيوانات.
- 6- اقامة المحميات الطبيعية في دولة الكويت.
- حماية الكائنات الحية من الانقراض.
- أماكن مهمة لأغراض البحث العلمي.
- 7- التناقص المستمر لأعداد الحيوانات البرية.
- بسبب التلوث البيئي والرعي الجائر.
- 8- يشجع وطني الكويت على الاهتمام بالحيوانات الرعوية والدواجن.
- زيادة إنتاج اللحوم ومنتجات الألبان والبيض.
- تحقيق الأمن الغذائي وسد حاجة البلاد الغذائية.
- 9- تعد الشعاب المرجانية موطناً مهماً للكثير من الكائنات البحرية.
- توفر لهم المأوى والغذاء والحماية.
- 10- اعتماد الكويتيون على الأسماك في غذائهم.
- وفرفته في مياه البحر وجودة أنواعه.

عاشراً: اجب عما يلي:

- 1- عدد مميزات العالم الإسلامي.
- يحتل موقع متوسط بين قارات العالم.
- يشغل مساحة واسعة شبه متصلة من اليابسة.
- 2- عدد السمات المشتركة بين دول الوطن العربي.
- الدين الإسلامي
- اللغة العربية
- التراث
- التاريخ
- 3- المشكلات التي تواجه النباتات الطبيعية في دولة الكويت.
- قلة الأمطار
- الرعي الجائر
- 4- جهود الكويت في المحافظة على النباتات الطبيعية.
- إنشاء المحميات الطبيعية.
- سن القوانين لمنع إتلاف وتدمير وقطع النباتات الطبيعية.
- تحديد مواسم التخميم في فصل الربيع.
- 5- مميزات الحياة الحيوانية في وطني الكويت.
- تنوع الكائنات الحية.
- القدرة على التكيف مع البيئة المحيطة.
- مقاومة الجفاف وتخزين المياه
- بعضها لديها القدرة على التلون حسب المكان.
- 6- جهود الكويت في المحافظة على الحياة البرية.
- حظر صيد الحيوانات والطيور في مواسم تكاثرها.
- إنشاء محميات للحيوانات والطيور لحمايتها من الانقراض.
- 7- عدد المشكلات التي تواجه الثروة البحرية.
- التلوث
- ارتفاع درجات الحرارة.
- الصيد الجائر
- تدمير الشعاب المرجانية
- 8- جهود الكويت في المحافظة على الثروة البحرية.
- تحديد مواسم صيد الأسماك
- منع الصيد الجائر
- إنشاء محميات بحرية
- استزراع الأسماك.