

تم تحميل هذا الملف من موقع المناهج الكويتية



مدرسة التميز النموذجية

الملف نماذج اختبارات التقويم الثاني

موقع المناهج ← ملفات الكويت التعليمية ← الصف الرابع ← رياضيات ← الفصل الأول

روابط مواقع التواصل الاجتماعي بحسب الصف الرابع



روابط مواد الصف الرابع على تلغرام

[الرياضيات](#)

[اللغة الانجليزية](#)


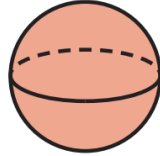
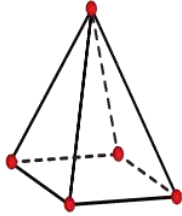
[اللغة العربية](#)

[التربية الاسلامية](#)

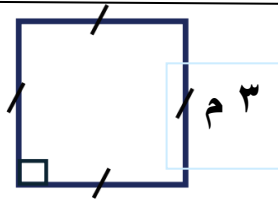
المزيد من الملفات بحسب الصف الرابع والمادة رياضيات في الفصل الأول

مسودة كتاب الطالب لعام 2018	1
توزيع مقرر الرياضيات للصف الرابع منهج حديد عام 2018	2
كفايات الوحدة الاولى في مادة الرياضيات منهج كفايات حديد	3
كفايات الوحدة الثانية في مادة الرياضيات	4
اختبار مسح في مادة الرياضيات	5

السؤال الأول : أ) اكتب اسم الجسم (كرة ، شبه مكعب ، هرم)



ب) أوجد محيط المربع



المحيط = =

السؤال الثاني ظلّل (✓) إذا كانت العبارة صحيحة، وظللّ (x) إذا كانت العبارة خطأ.



المخروط له رأس واحدة ووجه واحد

أ



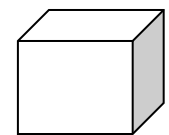
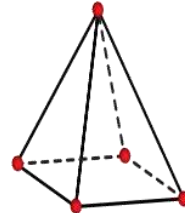
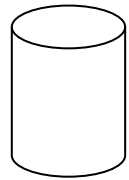
أضلاع المربع غير متساوية في الطول

ب

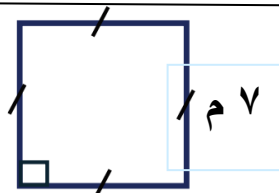
الصف: الرابع

اسم الطالب/

السؤال الأول : أ) اكتب اسم المجسم (اسطوانة ، مكعب ، هرم)



ب) أوجد محيط المربع



المحيط = =

السؤال الثاني ظلّل (✓) إذا كانت العبارة صحيحة، وظللّ (x) إذا كانت العبارة خطأ.



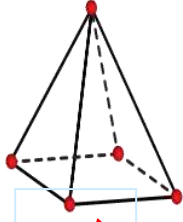
زوايا المربع ليست قوائم



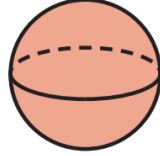
الكرة لها رأس واحدة ووجه واحد




السؤال الأول : أ) اكتب اسم الجسم (كرة ، شبه مكعب ، هرم)



هرم

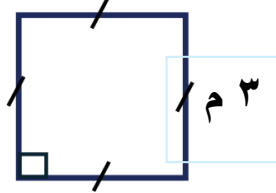


كرة




شبه مكعب

ب) أوجد محيط المربع




المحيط = = ٣ + ٣ + ٣ + ٣ = ١٢ م

السؤال الثاني ظلّ (✓) إذا كانت العبارة صحيحة، وظلّ (x) إذا كانت العبارة خطأ.



المخروط له رأس واحدة ووجه واحد



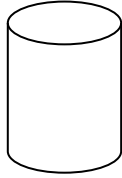
أضلاع المربع غير متساوية في الطول



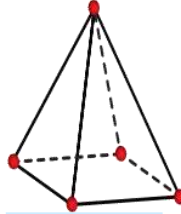
الصف: الرابع

اسم الطالب/

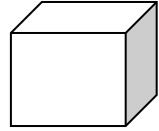
السؤال الأول : أ) اكتب اسم المجسم (اسطوانة ، مكعب ، هرم)



اسطوانة

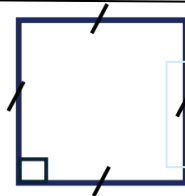


هرم




مكعب

ب) أوجد محيط المربع




المحيط = = ٧ + ٧ + ٧ + ٧ = ٢٨ م

السؤال الثاني ظلّل (✓) إذا كانت العبارة صحيحة، وظللّ (x) إذا كانت العبارة خطأ.



زوايا المربع ليست قوائم



الكرة لها رأس واحدة ووجه واحد

