

تم تحميل هذا الملف من موقع المناهج الكويتية



مدرسة التميز النموذجية

الملف أوراق عمل شاملة في جغرافية وتاريخ الكويت

[موقع المناهج](#) ⇨ [ملفات الكويت التعليمية](#) ⇨ [الصف الرابع](#) ⇨ [اجتماعيات](#) ⇨ [الفصل الأول](#)

روابط مواقع التواصل الاجتماعي بحسب الصف الرابع



روابط مواد الصف الرابع على تلغرام

[الرياضيات](#)

[اللغة الانجليزية](#)

[اللغة العربية](#)

[التربية الاسلامية](#)

المزيد من الملفات بحسب الصف الرابع والمادة اجتماعيات في الفصل الأول

مسودة كتاب الطالب في مادة الاجتماعيات	1
الوحدة الاولى في مادة الاجتماعيات لعام	2
مراجعة عامة في مادة الاجتماعيات	3
تدريبات مهمة في مادة الاجتماعيات لعام	4
اوراق عمل مهمة في مادة الاجتماعيات	5

أوراق عمل الوحدة الأولى والثانية

مادة الاجتماعيات

موقع
المنهج الكويتية
almanahj.com/kw

الفصل الدراسي الأول 2025 – 2026 م

للمصف (الرابع)

مدرسة التميز النموذجية

(ابتدائي - متوسط - ثانوي)



إعداد
قسم الاجتماعيات



اجب عن الأسئلة التالية

(1) أكمل العبارات التالية بما يناسبها مما درست :

- 1- الدولة التي تقع في الجنوب والجنوب الغربي للكويت تسمى
- 2- الدولة التي تقع في الشمال والشمال الغربي للكويت تسمى
- 3- المسطح المائي الذي يحده الكويت من جهة الشرق يسمى
- 4- تبلغ مساحة دولة الكويت حوالي
- 5- تقع دولة الكويت بالنسبة للوطن العربي في جهة
- 6- تقع دولة الكويت بالنسبة لشبه الجزيرة العربية في جهة
- 7- يبلغ عدد جزر الكويت جزر
- 8- أكبر جزيرة في الكويت من حيث المساحة تسمى
- 9- الجزيرة التي تقع داخل جون الكويت هي
- 10- الخور الموجود في جنوب الكويت يسمى
- 11- الخور الموجود جهة أقصى شمال شرق الكويت يسمى
- 12- المنطقة التي هاجر منها العتوب في بادية نجد تسمى
- 13- أول حاكم لدولة الكويت هو
- 14- دارت معركة الرقة بين الكويتيون و
- 15- الحاكم الذي أطلق عليه أسد الجزيرة هو
- 16- العام الذي تم فيه بناء سور الكويت الثالث هو
- 17- المدرسة التي افتتحت في عهد الشيخ أحمد الجابر تسمى
- 18- الميناء الذي صُدرت منه أول شحنة نفط في الكويت هو عام
- 19- اختفت مهنة الغوص على اللؤلؤ في عهد الشيخ
- 20- الدولة التي ظهر بها اللؤلؤ الصناعي هي

(2) ضع علامة (✓) إذا كانت العبارة الصحيحة وعلامة (x) إذا كانت العبارة خاطئة في كل مما يلي:

م	العبارة	العلامة
1	تحتل دولة الكويت موقعاً متوسطاً بالنسبة للعالم.	
2	وادي جال الزور هو إحدى التضاريس الموجودة في دولة الكويت.	
3	الآثار الموجودة على الدينار الكويتي تقع في جزيرة بوبيان.	
4	مناخ دولة الكويت يسمى المناخ المداري.	
5	أطلق على الأسر التي هاجرت من بادية نجد اسم العتوب.	
6	الانتصار في معركة الرقة دليل على التعاون والتكاتف بين أهل الكويت.	
7	ظهر النفط في الكويت في عهد الشيخ سالم بن مبارك الصباح.	
8	عقدت اتفاقية الحماية بين الكويت وبريطانيا عام 1899م.	



(3) اكتب المفاهيم أو المصطلحات الدالة على العبارات التالية:

م	المفهوم / المصطلح	العبرة
1		وسيلة لتصغير الأشياء الحقيقية.
2		أرض مستوية المساحة وواسعة.
3		قطعة من اليابس تحيط بها المياه من جميع الجهات.
4		النبات الذي ينمو في الطبيعة دون تدخل من الإنسان.
5		انتقال الإنسان من مكان لآخر للإقامة فيه.
6		نسبة لفعل عتب أي التنقل من مكان إلى آخر.
7		تصغير القرن أي التل.
8		باب كبير أو مدخل رئيسي وغالباً ما يكون جزءاً من سور يحيط بمدينة.

(4) ظلل الخيار الصحيح من بين الخيارات التي تلي كل عبارة مما يلي:

1- الجهة التي يقع فيها وطني الكويت بالنسبة للخليج العربي هي:

الشمال الشرقي	الشمال الغربي	الجنوب الشرقي	الجنوب الغربي
---------------	---------------	---------------	---------------

2- الوادي الذي يوجد في غرب الكويت يسمى:

جال الزور	الدبدبة	الجهراء	الباطن
-----------	---------	---------	--------

3- الجزيرة الوحيدة التي كانت مأهولة بالسكان هي:

فيلكا	بوبيان	ام النمل	مسكان
-------	--------	----------	-------

4- النبات الذي تنمو منه الزهرة الوطنية يسمى:

الربلة	العرفج	الخزامي	العنبر
--------	--------	---------	--------

5- المرحلة الأولى لهجرة العتوب كانت إلى:

الصبية	البصرة	قطر	القرين
--------	--------	-----	--------

6- الشيخ الذي حدثت في عهده معركة الرقة هو:

صباح بن جابر	عبدالله بن صباح	مبارك الصباح	أحمد الجابر
--------------	-----------------	--------------	-------------

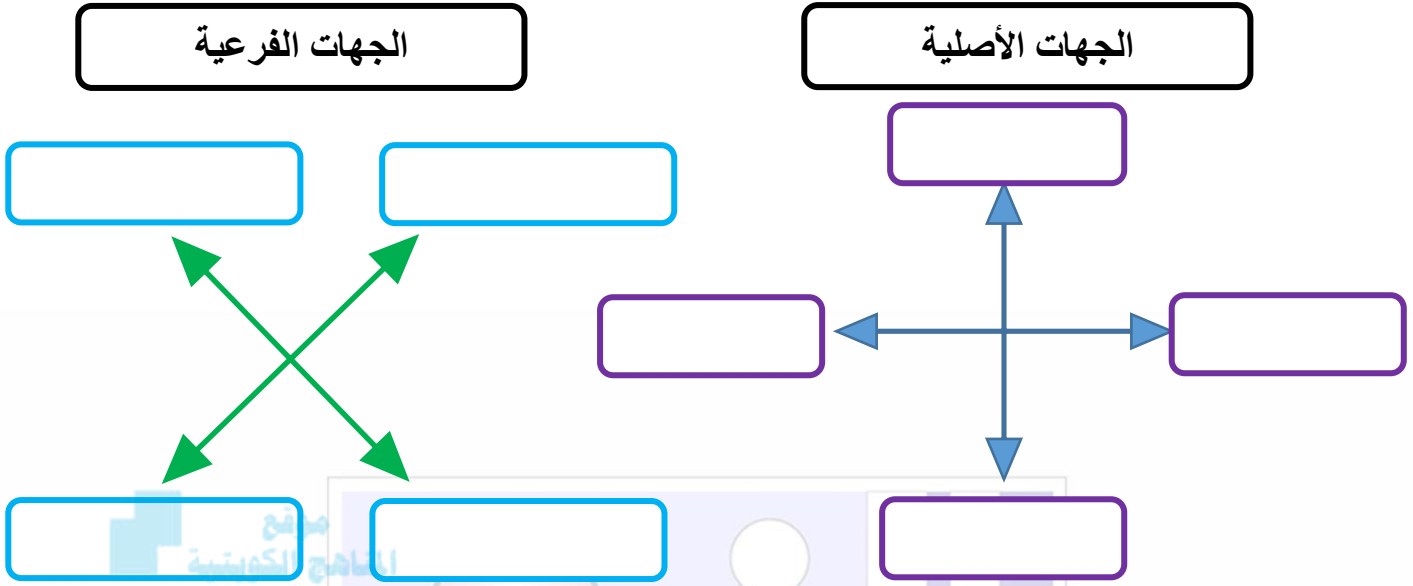
7- الدولة التي عقدت معها الكويت اتفاقية الحماية هي:

المانيا	روسيا	بريطانيا	ايطاليا
---------	-------	----------	---------

8- الشيخ الذي تم في عهده بناء سور الكويت الثالث:

مبارك الصباح	سالم بن مبارك	جابر بن مبارك	أحمد الجابر
--------------	---------------	---------------	-------------

(5) أكمل الشكل التالي:



(6) اكمل عناصر الخريطة التالية:



(7) امامك خريطة صماء لدولة الكويت نفذ عليها ما يلي:

- دولة العراق بالرقم (1)
- دولة السعودية بالرقم (2)
- الخليج العربي بالرقم (3)
- أكبر جزيرة بالكويت بالرقم (4)
- جزيرة فيلكا بالرقم (5)
- ظلل ///// موقع وادي الباطن
- ضع ▲ على موقع تلال جال الزور
- ضع ■ على موقع سهل الدبدبة
- ضع ✕ على موقع معركة الرقة



(8) فرق بين كل من:

السهل	التل

الرأس	الخور

المناخ	الطقس

القرين	الكوت

هجرة العتوب الأولى	هجرة العتوب الثانية

(9) قارن بين كل من:

وجه المقارنة	النباتات الطبيعية	الحيوانات البرية
المميزات		
الأمثلة		

(10) اكمل الجدول التالي:

معركة الرقة		
الأطراف المتنازعة	الأسباب	النتيجة



(11) علل لما يلي:

1- وجود آثار في جزيرة فيلكا.

.....

2- فقر الغطاء النباتي في الكويت.

.....

3- هجرة العتوب من موطنهم الأصلي في نجد

.....

4- تسمية العتوب بهذا الاسم.

.....



5- اختيار الشيخ صباح الأول كأول حاكم للكويت.

.....

6- سبب معركة الرقة

.....

7- تسمية معركة الرقة بهذا الاسم.

.....

8- سبب عقد اتفاقية الحماية.

.....

مدرسة التميز النموذجية
(ابتدائي - متوسط - ثانوي)

9- بناء سور الكويت الثالث.

.....

10- طمع الدول العظمى في السيطرة على الكويت.

.....

11- اختفاء تجارة اللؤلؤ في الكويت.

.....



(12) اجب عما يلي:

1- أهمية الجهات في حياتنا.

..... -
..... -

2- أهمية موقع الكويت.

..... -
..... -



3- مميزات ساحل دولة الكويت

..... -

4- مميزات مناخ الكويت الصحراوي.

..... -

5- بنود اتفاقية الحماية.

..... -
..... -

6- اذكر أسماء بوابات السور الثالث.

..... -
..... -

7- ملامح الحياة من الناحية الاقتصادية في عهد الشيخ أحمد الجابر.

..... -

8- ملامح الحياة من الناحية السياسية في عهد الشيخ أحمد الجابر.

..... -
..... -

9- ملامح الحياة من الناحية التعليمية في عهد الشيخ أحمد الجابر.

..... -



(1) أكمل العبارات التالية بما يناسبها مما درست :

- 1- الدولة التي تقع في الجنوب والجنوب الغربي للكويت تسمى **العراق**
- 2- الدولة التي تقع في الشمال والشمال الغربي للكويت تسمى **المملكة العربية السعودية**
- 3- المسطح المائي الذي يحده الكويت من جهة الشرق يسمى **الخليج العربي**
- 4- تبلغ مساحة دولة الكويت حوالي **17.818 كم²**
- 5- تقع دولة الكويت بالنسبة للوطن العربي في جهة **الشرق**
- 6- تقع دولة الكويت بالنسبة لشبه الجزيرة العربية في جهة **الشمال الشرقي**
- 7- يبلغ عدد جزر الكويت **9** جزر
- 8- أكبر جزيرة في الكويت من حيث المساحة تسمى **بوبيان**
- 9- الجزيرة التي تقع داخل جون الكويت هي **أم النمل**
- 10- الخور الموجود في جنوب الكويت يسمى **خور المفتاح**
- 11- الخور الموجود جهة أقصى شمال شرق الكويت يسمى **خور عبدالله**
- 12- المنطقة التي هاجر منها العتوب في بادية نجد تسمى **الهدار**
- 13- أول حاكم لدولة الكويت هو **صباح بن جابر**
- 14- دارت معركة الرقة بين الكويتيون و **بني كعب**
- 15- الحاكم الذي أطلق عليه أسد الجزيرة هو **مبارك الصباح**
- 16- العام الذي تم فيه بناء سور الكويت الثالث هو **1920م**
- 17- المدرسة التي افتتحت في عهد الشيخ أحمد الجابر تسمى **الأحمدية**
- 18- الميناء الذي صُدرت منه أول شحنة نفط في الكويت هو **الأحمدي** عام **1946م**
- 19- اختفت مهنة الغوص على اللؤلؤ في عهد الشيخ **أحمد الجابر**
- 20- الدولة التي ظهر بها اللؤلؤ الصناعي هي **اليابان**

(2) ضع علامة (✓) إذا كانت العبارة الصحيحة وعلامة (x) إذا كانت العبارة خاطئة في كل مما يلي:

م	العبارة	العلامة
1	تحتل دولة الكويت موقعاً متوسطاً بالنسبة للعالم.	✓
2	وادي جال الزور هو إحدى التضاريس الموجودة في دولة الكويت.	x
3	الآثار الموجودة على الدينار الكويتي تقع في جزيرة بوبيان.	x
4	مناخ دولة الكويت يسمى المناخ المداري.	x
5	أطلق على الأسر التي هاجرت من بادية نجد اسم العتوب.	✓
6	الانتصار في معركة الرقة دليل على التعاون والتكاتف بين أهل الكويت.	✓
7	ظهر النفط في الكويت في عهد الشيخ سالم بن مبارك الصباح.	x
8	عقدت اتفاقية الحماية بين الكويت وبريطانيا عام 1899م.	✓



(3) اكتب المفاهيم أو المصطلحات الدالة على العبارات التالية:

م	المفهوم / المصطلح	العبرة
1	الخريطة	وسيلة لتصغير الأشياء الحقيقية.
2	السهل	أرض مستوية المساحة وواسعة.
3	الجزيرة	قطعة من اليابس تحيط بها المياه من جميع الجهات.
4	النبات الطبيعي	النبات الذي ينمو في الطبيعة دون تدخل من الإنسان.
5	الهجرة	انتقال الإنسان من مكان لآخر للإقامة فيه.
6	العتوب	نسبة لفعل عتب أي التنتقل من مكان إلى آخر.
7	القرين	تصغير القرن أي التل.
8	الدروازة	باب كبير أو مدخل رئيسي وغالباً ما يكون جزءاً من سور يحيط بمدينة.

(4) ظلل الخيار الصحيح من بين الخيارات التي تلي كل عبارة مما يلي:

1- الجهة التي يقع فيها وطني الكويت بالنسبة للخليج العربي هي:

الشمال الشرقي	الشمال الغربي	الجنوب الشرقي	الجنوب الغربي
---------------	---------------	---------------	---------------

2- الوادي الذي يوجد في غرب الكويت يسمى:

جال الزور	الدبدبة	الجهراء	الباطن
-----------	---------	---------	--------

3- الجزيرة الوحيدة التي كانت مأهولة بالسكان هي:

فيلكا	بوبيان	ام النمل	مسكان
-------	--------	----------	-------

4- النبات الذي تنمو منه الزهرة الوطنية يسمى:

الربلة	العرفج	الخزامي	العنبر
--------	--------	---------	--------

5- المرحلة الأولى لهجرة العتوب كانت إلى:

الصبية	البصرة	قطر	القرين
--------	--------	-----	--------

6- الشيخ الذي حدثت في عهده معركة الرقة هو:

صباح بن جابر	عبدالله بن صباح	مبارك الصباح	أحمد الجابر
--------------	-----------------	--------------	-------------

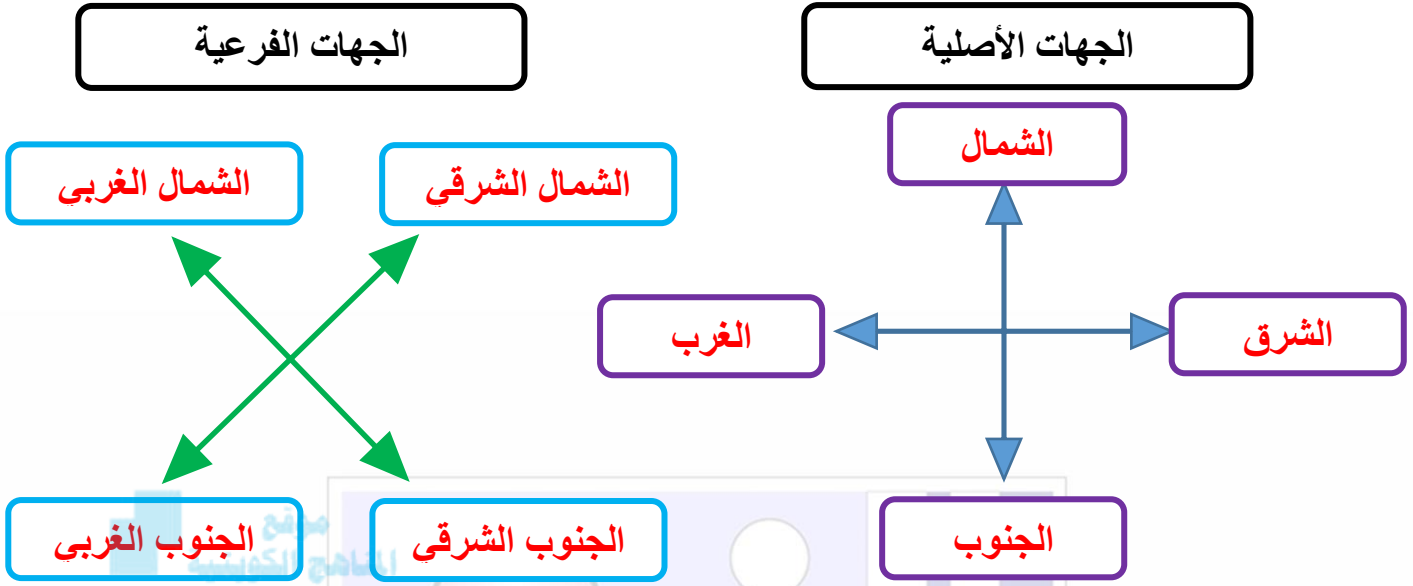
7- الدولة التي عقدت معها الكويت اتفاقية الحماية هي:

المانيا	روسيا	بريطانيا	ايطاليا
---------	-------	----------	---------

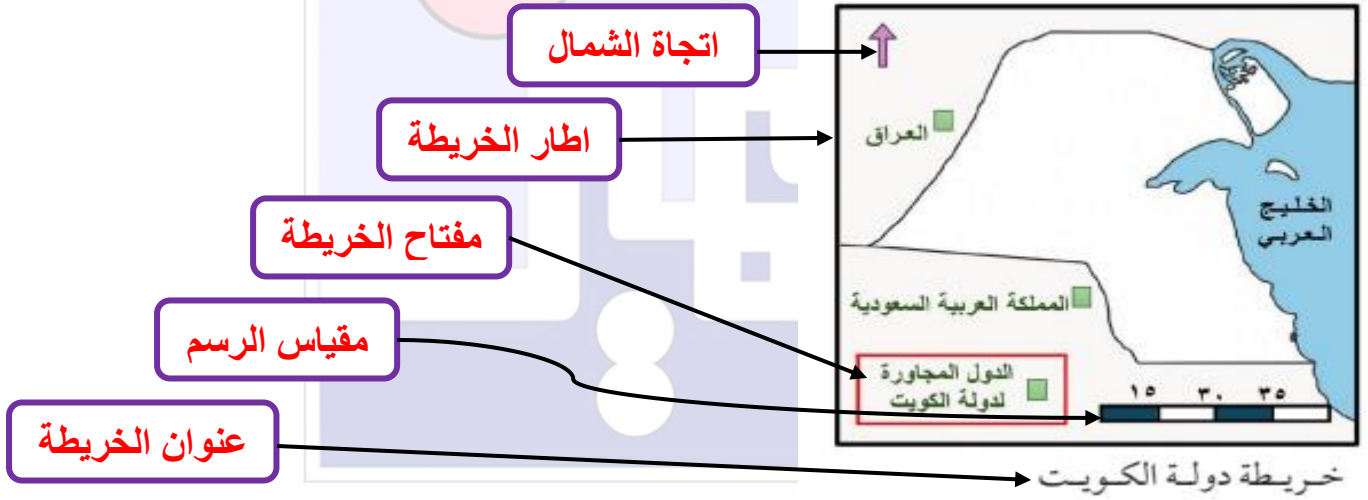
8- الشيخ الذي تم في عهده بناء سور الكويت الثالث:

مبارك الصباح	سالم بن مبارك	جابر بن مبارك	أحمد الجابر
--------------	---------------	---------------	-------------

(5) أكمل الشكل التالي:

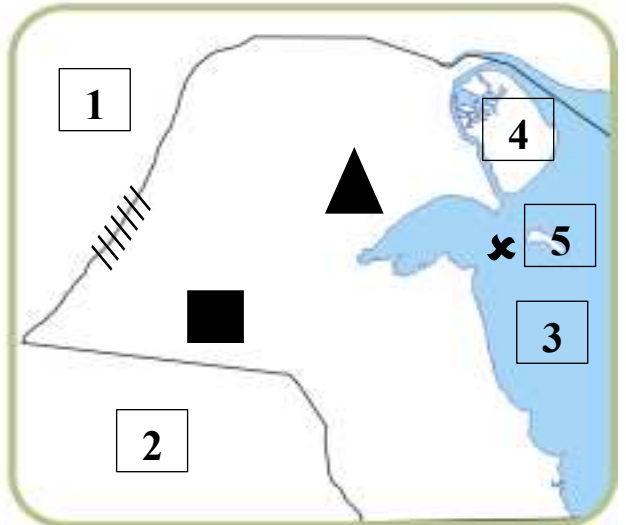


(6) اكمل عناصر الخريطة التالية:



(7) امامك خريطة صماء لدولة الكويت نفذ عليها ما يلي:

- دولة العراق بالرقم (1)
- دولة السعودية بالرقم (2)
- الخليج العربي بالرقم (3)
- أكبر جزيرة بالكويت بالرقم (4)
- جزيرة فيلكا بالرقم (5)
- ظلل // على موقع وادي الباطن
- ضع ▲ على موقع تلال جال الزور
- ضع ■ على موقع سهل الدبدبة
- ضع ✕ على موقع معركة الرقة



(8) فرق بين كل من:

السهل	التل
أرض مستوية المساحة وواسعة	أرض مرتفعة قليلاً عن مستوى الأراضي المحيطة بها

الرأس	الخور
جزء من اليابس داخل الماء	لسان من الماء داخل اليابس

المناخ	الطقس
حالة الجو خلال فترة زمنية طويلة لا تقل عن ثلاثين عاماً	حالة الجو خلال فترة زمنية قصيرة من يوم إلى أسبوع

القرين	الكوت
تصغير القرن أي التل	الحصن الصغير الذي يُستخدم لتخزين الأسلحة والمؤن

هجرة العتوب الأولى	هجرة العتوب الثانية
من الهدار إلى قطر مكثوا فيها حوالي 50 عام اكتسبوا خلالها المهارات البحرية	غادروا قطر بحراً بواسطة السفن باتجاه الشمال إلى منطقة الصبية ثم القرين

(9) قارن بين كل من:

وجه المقارنة	النباتات الطبيعية	الحيوانات البرية
المميزات	غطاء نباتي فقير بسبب الظروف الصحراوية	القدرة على تحمل ظروف البيئة الصحراوية القاسية
الأمثلة	الرمث / الهرم / العرفج	الجمال / الضب / الجربوع

(10) اكمل الجدول التالي:

معركة الرقة		
الأطراف المتنازعة	الأسباب	النتيجة
الكويتيون ✖ بني كعب	تطور وازدهار التجارة في الموانئ الكويتية	انتصار الكويت



(11) علل لما يلي:

- 1- وجود آثار في جزيرة فيلكا.
- لأنها الجزيرة الوحيدة التي كانت مأهولة بالسكان.
- 2- فقر الغطاء النباتي في الكويت.
- بسبب الظروف الصحراوية القاسية (شدة الحرارة والجفاف وقلة الأمطار).
- 3- هجرة العتوب من موطنهم الأصلي في نجد.
- بسبب الجفاف والقحط الذي أصاب تلك المنطقة.
- 4- تسمية العتوب بهذا الأسم.
- نسبة لفعل عتب أي التنقل من مكان إلى آخر.
- 5- اختيار الشيخ صباح الأول كأول حاكم للكويت.
- لما تميز به من صفات حميدة منها: (العدل / الشجاعة / الحكمة).
- 6- سبب معركة الرقة.
- تطور وازدهار التجارة في الموانئ الكويتية.
- 7- تسمية معركة الرقة بهذا الاسم.
- لأن المياه بهذه المنطقة البحرية غير عميقة.
- 8- سبب عقد اتفاقية الحماية.
- حماية الكويت من أطماع الدول العظمى في السيطرة عليها.
- 9- بناء سور الكويت الثالث.
- لحماية مدينة الكويت من الأخطار الخارجية.
- 10- طمع الدول العظمى في السيطرة على الكويت.
- لموقعها الاستراتيجي المتميز.
- 11- اختفاء تجارة اللؤلؤ في الكويت.
- بسبب ظهور اللؤلؤ الصناعي في اليابان واكتشاف النفط.

(12) اجب عما يلي:

- 1- أهمية الجهات في حياتنا.
- معرفة اتجاه القبلة لأداء فريضة الصلاة. - موقع وطني الكويت.
- معرفة موقع الدول التي تحيط بنا.
- 2- أهمية موقع الكويت.
- يحتل موقعاً متوسطاً بالنسبة للعالم.
- يمثل المعبر التجاري بين خطوط الملاحة البرية والبحرية.
- 3- مميزات ساحل دولة الكويت
- رملي منبسّط. - قليل التعاريج. - ضحل المياه.
- 4- مميزات مناخ الكويت الصحراوي.
- حار جاف صيفاً. - بارد شتاءً وقليل الأمطار.
- 5- بنود اتفاقية الحماية.
- على الشيخ مبارك ألا يتنازل أو يبيع أو يؤجر أي جزء من أراضيه لدولة أجنبية دون موافقة مسبقة من الحكومة البريطانية.
- 6- اذكر أسماء بوابات السور الثالث.
- الجهراء - الشامية - الشعب - دسمان - المقصب
- 7- ملامح الحياة من الناحية الاقتصادية في عهد الشيخ أحمد الجابر.
- اختفاء تجارة اللؤلؤ. - ظهور النفط في الكويت.
- 8- ملامح الحياة من الناحية السياسية في عهد الشيخ أحمد الجابر.
- مجالس المشاركة الشعبية في الحكم: (مجلس الشورى / المجلس البلدي / المجلس التشريعي).
- 9- ملامح الحياة من الناحية التعليمية في عهد الشيخ أحمد الجابر.
- افتتحت أول مدرسة نظامية (المدرسة الأحمدية).

