

تم تحميل هذا الملف من موقع المناهج الكويتية



مدرسة التميز النموذجية

الملف نماذج اختبارات تحصيلية في الإحصاء والبيانات والهندسة

موقع المناهج ← ملفات الكويت التعليمية ← الصف الرابع ← رياضيات ← الفصل الأول

روابط مواقع التواصل الاجتماعي بحسب الصف الرابع



روابط مواد الصف الرابع على تلغرام

[الرياضيات](#)

[اللغة الانجليزية](#)

[اللغة العربية](#)

[التربية الاسلامية](#)

المزيد من الملفات بحسب الصف الرابع والمادة رياضيات في الفصل الأول

مسودة كتاب الطالب لعام 2018	1
توزيع مقرر الرياضيات للصف الرابع منهج حديد عام 2018	2
كفايات الوحدة الاولى في مادة الرياضيات منهج كفايات حديد	3
كفايات الوحدة الثانية في مادة الرياضيات	4
اختبار مسح في مادة الرياضيات	5

السؤال الأول :



(ب) أكمل :

عدد الزوار في شهر ابريل _____

عدد الزوار في شهر فبراير _____

(أ) لمجموعة القيم : ٤ ، ٤ ، ٩ أوجد :

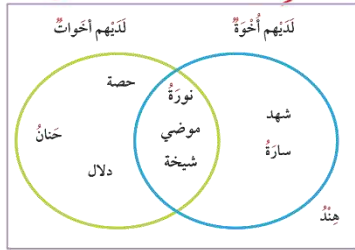
الوسيط والمنوال .

المدى =

الوسيط هو _____

المنوال هو _____


السؤال الثاني : (١) استعين بمخطط ثن الذي يوضح تصنيف بعض المتعلمات، وأجب عن الأسئلة التالية:



كم عدد المتعلمات اللواتي عندهن أخوات فقط ؟

كم عدد المتعلمات اللواتي عندهن أخوه ؟

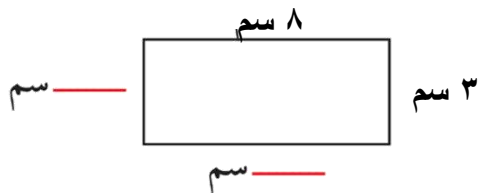
(٢) احسب مساحة المنطقة المستطيلة .



م = _____

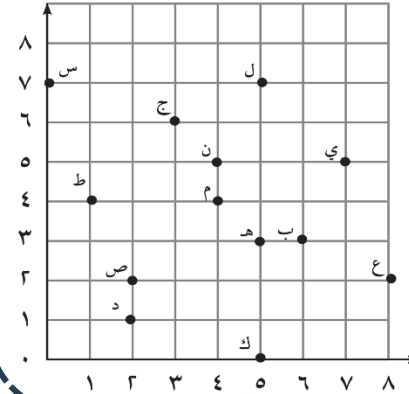
السؤال الثالث : (أ)

أكمل المطلوب على الرسم .



تابع الأسئلة خلف

١ سم النقطة التي يحددها كل من الأزواج المرتبة بحسب الشبكة



(٦ ، ٣)

(٥ ، ٤)

(٥ ، ٧)

السؤال الرابع : أولاً : في البنود (١ - ٢)

ظلل (أ) إذا كانت العبارة صحيحة وظلل (ب) إذا كانت العبارة خاطئة

(١)	زوايا المربع قوائم	(أ)	(ب)
(٢)	الزوجان المرتبان (٣ ، ٧) و (٧ ، ٣) يمثلان نفس النقطة على شبكة الأحداثيات	(أ)	(ب)

ثانياً: في البنود (٣-٥)

لكل بند أربعة اختيارات واحد منها فقط صحيح . ظلل الرمز الدال على الإجابة الصحيحة

اِسْتَحْدِمْ مَخْطَطَ كارول وَأَجِبْ عَنِ الْأَسْئَلَةِ التَّالِيَةِ:

لا يلعب كرة القدم	يلعب كرة القدم	
ناصر جاسم	يوسف سلمان	العمر ٩ سنوات
مشعل	حمد جمال	العمر أكبر ٩ سنوات

٣- من المتعلم الذي عمره أكبر من ٩ سنوات ؟

(أ) مشعل (ب) يوسف (ج) جاسم (د) ناصر

٤- من المتعلم الذي يلعب كرة القدم وعمره أكبر من ٩ سنوات ؟

(أ) يوسف (ب) جمال (ج) جاسم (د) مشعل

٥- ما الخاصية التي تجمع كلا من يوسف وناصر ؟

(أ) العمر ٩ سنوات (ب) يلعب كرة القدم (ج) لا يلعب كرة القدم (د) العمر أكبر من ٩ سنوات

السؤال الأول :



(ب) أكمل :

عدد الزوار في شهر يناير _____

عدد الزوار في شهر مارس _____

(أ) لمجموعة القيم : ٢ ، ٨ ، ٨ أوجد :

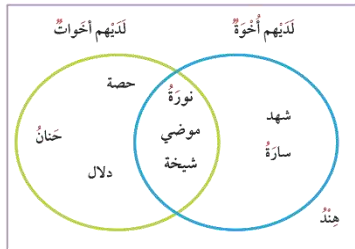
الوسيط والمنوال .

المدى =

الوسيط هو _____

المنوال هو _____


السؤال الثاني : (١) استعين بمخطط فن الذي يوضح تصنيف بعض المتعلمات، وأجب عن الأسئلة التالية:



كم عدد المتعلمات اللواتي ليس عندهن أخوات فقط ؟

كم عدد المتعلمات اللواتي عندهن أخوه وأخوات معا ؟

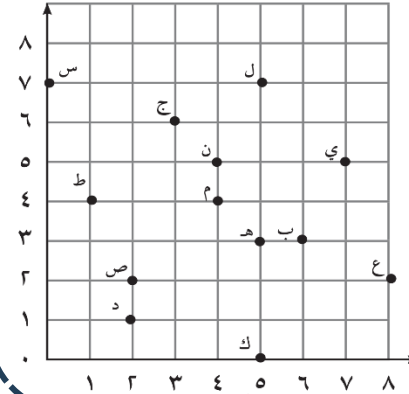
(٢) احسب مساحة المنطقة المستطيلة .



_____ م =

السؤال الثالث : (أ)

١ سم النقطة التي يحددها كل من الأزواج المرتبة بحسب الشبكة

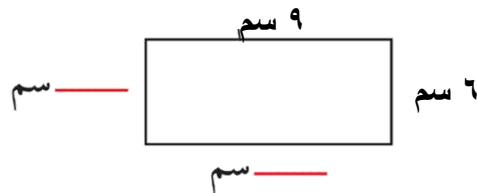


(١ ، ٤) _____

(٤ ، ٤) _____

(٥ ، ٠) _____

٣ أكمل المطلوب على الرسم .



تابع الأسئلة خلف

السؤال الرابع : أولاً : في البنود (١ - ٢)

ظلل (أ) إذا كانت العبارة صحيحة وظلل (ب) إذا كانت العبارة خاطئة

(١)	زوايا المربع ليست قوائم	(أ)	(ب)
(٢)	الزوجان المرتبان (٥ ، ٨) و (٨ ، ٥) يمثلان نفس النقطة على شبكة الأحداثيات	(أ)	(ب)

ثانياً: في البنود (٣-٥)

لكل بند أربعة اختيارات واحد منها فقط صحيح . ظلل الرمز الدال على الإجابة الصحيحة

اِسْتَحْدِمْ مَخْطَطَ كارول وَأَجِبْ عَنِ الْأَسْئَلَةِ التَّالِيَةِ:

لا يلعب كرة القدم	يلعب كرة القدم	
ناصر جاسم	يوسف سلمان	العمر ٩ سنوات
مشعل	حمد جمال	العمر أكبر ٩ سنوات

٣- من المتعلم الذي عمره ٩ سنوات ؟

(أ) مشعل (ب) حمد (ج) جاسم (د) جمال

٤- من المتعلم الذي لا يلعب كرة القدم وعمره أكبر من ٩ سنوات ؟

(أ) يوسف (ب) جمال (ج) جاسم (د) مشعل

٥- ما الخاصية التي تجمع كلا من مشعل وناصر ؟

(أ) العمر ٩ سنوات (ب) يلعب كرة القدم (ج) لا يلعب كرة القدم (د) العمر اكبر من ٩ سنوات

اجابة نموذج ١

السؤال الأول :



(ب) أكمل :

عدد الزوار في شهر إبريل ٢٥٠٠٠

عدد الزوار في شهر فبراير ٣٠٠٠٠

amanahj.com/kw

(أ) لمجموعة القيم : ٩ ، ٤ ، ٤ ، أوجد :

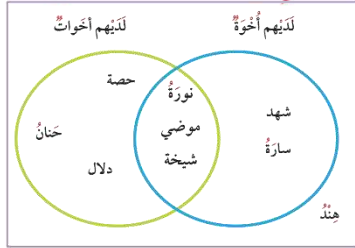
الوسيط والمنوال .

$$\text{المدى} = 9 - 4 = 5$$

الوسيط هو ٤

المنوال هو ٤


السؤال الثاني : (١) استعين بمخطط ثن الذي يوضح تصنيف بعض المتعلمات، وأجب عن الأسئلة التالية:



كم عدد المتعلمات اللواتي عندهن أخوات فقط ؟ ٣

كم عدد المتعلمات اللواتي عندهن أخوة ؟ ٥

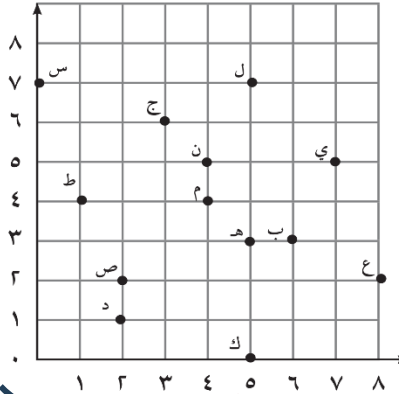
(٢) احسب مساحة المنطقة المستطيلة .



٨ وحدات مربعة = م

السؤال الثالث : (أ)

١ سم النقطة التي يحددها كل من الأزواج المرتبة بحسب الشبكة

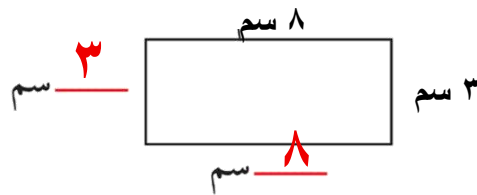


ج (٦، ٣)

ن (٥، ٤)

ي (٥، ٧)

٣ أكمل المطلوب على الرسم .



تابع الأسئلة خلف

السؤال الرابع : أولاً : في البنود (١ - ٢)

ظل (أ) إذا كانت العبارة صحيحة وظلل (ب) إذا كانت العبارة خاطئة

(١)	زوايا المربع قوائم	<input checked="" type="radio"/> أ	<input type="radio"/> ب
(٢)	الزوجان المرتبان (٣ ، ٧) و (٧ ، ٣) يمثلان نفس النقطة على شبكة الأحداثيات	<input type="radio"/> أ	<input checked="" type="radio"/> ب

ثانياً: في البنود (٣-٥)

لكل بند أربعة اختيارات واحد منها فقط صحيح . ظلل الرمز الدال على الإجابة الصحيحة

اِسْتَحْدِمْ مَخْطَطَ كارول وَأَجِبْ عَنِ الْأَسْئَلَةِ التَّالِيَةِ:

يلعب كرة القدم	لا يلعب كرة القدم	
يوسف	ناصر	العمر ٩ سنوات
سلمان	جاسم	
حمد	مشعل	العمر أكبر ٩ سنوات
جمال		

٣- من المتعلم الذي عمره أكبر من ٩ سنوات ؟

☒ أ مشعل ☐ ب يوسف ☐ ج جاسم ☐ د ناصر

٤- من المتعلم الذي يلعب كرة القدم وعمره أكبر من ٩ سنوات ؟

☐ أ يوسف ☒ ب جمال ☐ ج جاسم ☐ د مشعل

٥- ما الخاصية التي تجمع كلا من يوسف وناصر ؟

☒ أ العمر ٩ سنوات ☐ ب يلعب كرة القدم ☐ ج لا يلعب كرة القدم ☐ د العمر اكبر من ٩ سنوات

اجابة نموذج ٢

السؤال الأول :



(ب) أكمل :

عدد الزوار في شهر يناير ٢٠,٠٠٠

عدد الزوار في شهر مارس ١٥,٠٠٠

الجمهورية التونسية
amanahj.com/kw

(أ) لمجموعة القيم : ٢ ، ٨ ، ٨ أوجد :

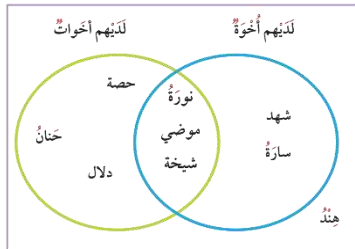
الوسيط والمنوال .

$$\text{المدى} = 8 - 2 = 6$$

الوسيط هو ٨

المنوال هو ٨


السؤال الثاني : (١) استعين بمخطط فن الذي يوضح تصنيف بعض المتعلمات، وأجب عن الأسئلة التالية:



كم عدد المتعلمات اللواتي ليس عندهن أخوات ؟ ٣

كم عدد المتعلمات اللواتي عندهن أخوه وأخوات معا ؟ ٣

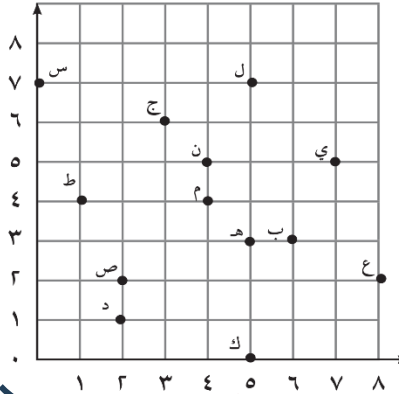
(٢) احسب مساحة المنطقة المستطيلة .



$$6 = \text{٦ وحدات مربعة}$$

السؤال الثالث : (أ)

١ سم النقطة التي يحددها كل من الأزواج المرتبة بحسب الشبكة

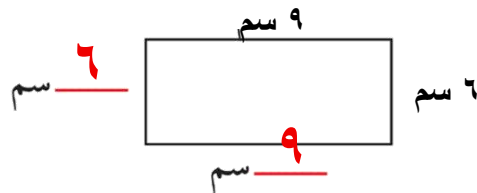


ط (٤، ١)

م (٤، ٤)

ك (٠، ٥)

٢ أكمل المطلوب على الرسم .



تابع الأسئلة خلف

السؤال الرابع : أولاً : في البنود (١ - ٢)

ظلل (أ) إذا كانت العبارة صحيحة وظلل (ب) إذا كانت العبارة خاطئة

(١)	زوايا المربع ليست قوائم	(أ)	(ب)
(٢)	الزوجان المرتبان (٥ ، ٨) و (٨ ، ٥) يمثلان نفس النقطة على شبكة الأحداثيات	(أ)	(ب)

ثانياً: في البنود (٣-٥)

لكل بند أربعة اختيارات واحد منها فقط صحيح . ظلل الرمز الدال على الإجابة الصحيحة

اِسْتَحْدِمْ مَخْطَطَ كارول وَأَجِبْ عَنِ الْأَسْئَلَةِ التَّالِيَةِ:

يلعب كرة القدم	لا يلعب كرة القدم	
يوسف سلمان	ناصر جاسم	العمر ٩ سنوات
حمد جمال	مشعل	العمر أكبر ٩ سنوات

٣- من المتعلم الذي عمره ٩ سنوات ؟

(أ) مشعل (ب) حمد (ج) جاسم (د) جمال

٤- من المتعلم الذي لا يلعب كرة القدم وعمره أكبر من ٩ سنوات ؟

(أ) يوسف (ب) جمال (ج) جاسم (د) مشعل

٥- ماالخاصية التي تجمع كلا من مشعل وناصر ؟

(أ) العمر ٩ سنوات (ب) يلعب كرة القدم (ج) لا يلعب كرة القدم (د) العمر اكبر من ٩ سنوات