

تم تحميل هذا الملف من موقع المناهج الكويتية



مدرسة التميز النموذجية

الملف أوراق عمل التقويمي الثاني

موقع المناهج ← ملفات الكويت التعليمية ← الصف الرابع ← رياضيات ← الفصل الأول

روابط مواقع التواصل الاجتماعي بحسب الصف الرابع



روابط مواد الصف الرابع على تلغرام

[الرياضيات](#)

[اللغة الانجليزية](#)

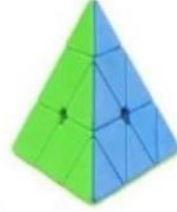
[اللغة العربية](#)

[التربية الاسلامية](#)

المزيد من الملفات بحسب الصف الرابع والمادة رياضيات في الفصل الأول

مسودة كتاب الطالب لعام 2018	1
توزيع مقرر الرياضيات للصف الرابع منهج حديد عام 2018	2
كفايات الوحدة الاولى في مادة الرياضيات منهج كفايات حديد	3
كفايات الوحدة الثانية في مادة الرياضيات	4
اختبار مسح في مادة الرياضيات	5

❖ اكتب اسم الجسم الذي يشابه الأشياء التالية.



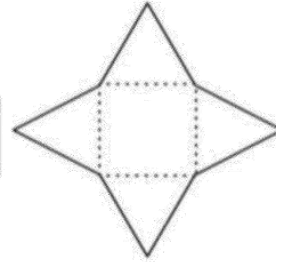
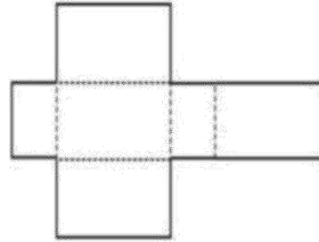
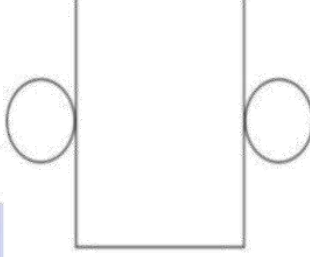
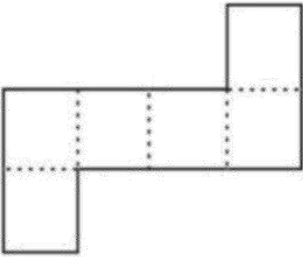
.....

.....

.....

.....

❖ اكتب اسم الجسم الذي يمثله كل مخطط مما يلي :



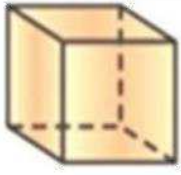
.....

.....

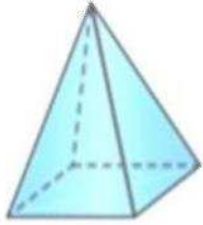
.....

.....

❖ أكمل الجدول التالي بوضع (✓) في عمود (صح) ووضع (X) في عمود (خطأ).



(أ)



(ب)

العبارة	صح	خطأ
الشكلان (أ)، (ب) يرتكزان علي وجه مستطيل		
الشكلان (أ)، (ب) لهما نفس عدد الأوجه		
عدد رؤوس الشكل (أ) ٨ رؤوس وعدد أحرف الشكل (ب) ٨ أحرف		

❖ اكتب اسم الجسم .


_____ له ستة وجوه مستطيلة واثننا عشر حرفاً .

_____ له وجه واحد مربع وأربعة وجوه مثلثة .

_____ ليس لديه رؤوس ولا أوجه مستوية .

خواص المربع والمستطيل

❖ اكتب اسم كل من المضلعات التالية :



.....

.....

.....

.....

❖ أكمل لتحصل على عبارة صحيحة.

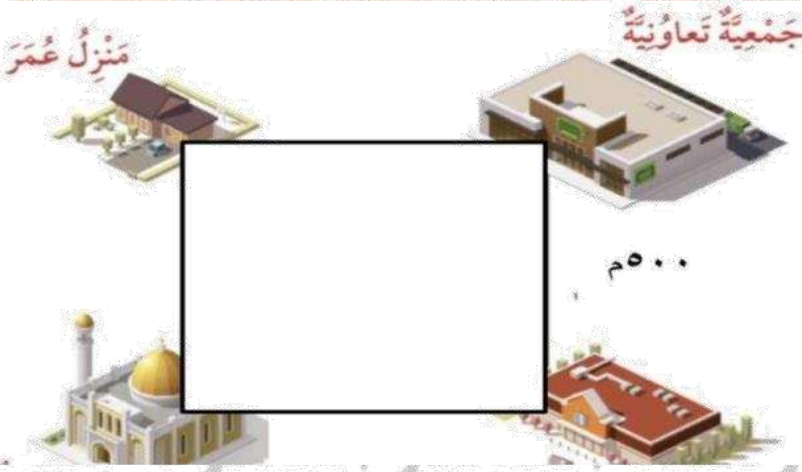
❑ للمربع ---- زوايا قوائم

❑ زوايا المستطيل -----



❑ أطوال أضلاع المربع ----- في الطول

❑ كل ضلعين متقابلين في المستطيل ----- في الطول


❖ يوضح الشكل أدناه طريقاً علي شكل مربع ، إذا خرج عمر من منزله إلى الجمعية التعاونية فما المسافة التي قطعها ؟ وإذا خرج من منزله إلى المسجد ، فما هي المسافة التي قطعها؟



❖ ظلل (✓) إذا كانت العبارة صحيحة وظلل (×) إذا كانت العبارة خطأ .



• أضلاع المربع متساوية في الطول



• زوايا المستطيل قوائم