

تم تحميل هذا الملف من موقع ملفات الكويت التعليمية



[com.kwedufiles.www//:https](https://www.kwedufiles.com)

*للحصول على أوراق عمل لجميع الصفوف وجميع المواد اضغط هنا

* للحصول على أوراق عمل لجميع مواد مرحلة متوسطة اضغط هنا

<https://kwedufiles.com/31>

* للحصول على جميع أوراق مرحلة متوسطة في مادة الامتحانات ولجميع الفصول, اضغط هنا

<https://kwedufiles.com/31exam>

* للحصول على أوراق عمل لجميع مواد مرحلة متوسطة في مادة الامتحانات الخاصة بـ الفصل الأول اضغط هنا

<https://www.kwedufiles.com/31exam1>

* لتحميل كتب جميع المواد في جميع الفصول للـ مرحلة متوسطة اضغط هنا

<https://www.kwedufiles.com/grade31>

* لتحميل جميع ملفات المدرس منطقة الأحمدية التعليمية اضغط هنا

[bot_kwlinks/me.t//:https](https://t.me/bot_kwlinks)

للحصول على جميع روابط الصفوف على تلغرام وفيسبوك من قنوات وصفحات: اضغط هنا

الروابط التالية هي روابط مرحلة متوسطة على مواقع التواصل الاجتماعي

مجموعة الفيسبوك

صفحة الفيسبوك

مجموعة التلغرام


بوت التلغرام

قناة التلغرام

رياضيات على التلغرام

كل نقطة بدرجة واحدة

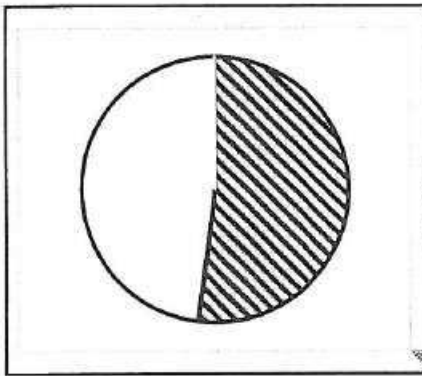
السؤال الخامس : مقالتي ويتكون من (أ - ب)
(أ) لاحظ الشعار بالشكل المقابل ثم اجب عما يلي :-



الذي رقم عنوان هدف التنمية المستدامة في الشكل المقابل. ص ٧٦
.....رقم ٦ بعنوان المياه النظيفة والنظافة الصحية.....

٢- عدد - طرق المحافظة على المياه. ص ٧٧ ويكتفي بنقطتين

- أ- بناء محطات معالجة مياه الصرف.
- ب- الحد من الإفراط في سحب المياه الجوفية.
- ت- بناء السدود لتخزين مياه الأمطار.
- ث- استخدام أساليب ري حديثة للحفاظ على كمية المياه.
- ج- التوعية بوسائل الإعلام المختلفة بأهمية المياه.
- ح- سن قوانين وتشريعات للحد من هدر المياه.



٣- حول نسبة مصادر المياه العذبة المنتجة في دول مجلس التعاون

من تحلية مياه البحر ٥٢% الى دائرة بيانية في المربع المقابل.

(درجتان = درجة على الرسم ودرجة على صحة الرسمة)

(ب) اكتب فيما يلي:

١ مصادر التلوث المائي. ص ٦٤ ويكتفي بثلاثة نقاط

- أ- إلقاء المخلفات الصناعية الصلبة والسائلة.
- ب- التلوث الحراري الناتج عن التخلص من المياه الساخنة المستخدمة في تبريد آلات المصانع عن طريق سكبها بالبحار.
- (المفاعلات النووية)
- ت- التلوث النفطي الناتج عن تسريب أثناء تصدير البترول وغسل خزانات ناقلات البترول.
- ث- إلقاء مياه الصرف الصحي.

٢- أدوات تنفيذ السياسة الخارجية للدولة. ص ٩٥ ويكتفي بنقطتين

- أ- الدبلوماسية.
- ب- استخدام القوة السياسية.
- ت- استخدام وسائل الإعلام في شرح وجهة نظر الدولة وسياساتها.
- ث- المعونات الخارجية.
- ج- المقاطعة الاقتصادية.
- ح- توقيع المعاهدات والاتفاقيات.



نموذج الإجابة في 4 صفحات

وزارة التربية

الإدارة العامة لمنطقة الأحمدى التعليمية

التوجيه الفني للغة الإنجليزية



2020 / 2019

نهاية الفترة الدراسية الأولى

KwEduFiles.com

الزمن ساعتان

المجال الدراسي : اللغة الإنجليزية

المفردات - الاستيعاب المقروء - القواعد - التعبير الكتابي - التمهيد للأحمدى

Total (60 Marks)

I- Reading (30 Marks)

A- VOCABULARY (14 Marks)

a) Choose the correct answer from a, b, c & d: (4 x 2 = 8 Ms.)

14

1- I'm so happy because all my friends still my birthday.

a- remember

b- sink

c- melt

d- prefer

2- The food in that Chinese restaurant is very Why don't you try it?

a- poisonous

b- worried

c- exhausted

d- tasty

3- Desalination plants are built to help rich countries..... salt from sea water.

a- take out

b- move to

c- decide on

d- pass away

4- Reading the early in the morning is my father's daily routine.

a- patterns

b- newspapers

c- spikes

d- spheres

b) Fill in the spaces with the most suitable words from the list: (4 x 1½ = 6 Ms)

(hastily - feed - finally - miss - waste)

5- Some sea animals **feed** on plants and other small kinds of fish.

6- My brother has **finally** got his driving license after doing three tries.

7- The teacher advised me not to **waste** my time and to prepare for the tests.

8- I felt terrible pain in my stomach, so I **hastily** called the ambulance for help.

B) Reading Comprehension (16 Marks)

16

Read the following passage carefully, then answer the following questions:

New toys are always nice-looking. As I was shopping, I saw a bright scooter. I couldn't keep my eyes off it. The way it shined in the light kept drawing my eyes. My dad noticed that and said, "Sophia, you have a scooter already, a really nice one!"

We left the shop, with me taking one last **glance** back at the new scooter. I knew my scooter was nice, and it still worked even though I got it for my birthday 3 years ago.

A week later, Dad and I went back to the shop. I kept my eyes open. The scooter was still there but with a big sale sign on it! Dad looked at the price and said, "I know you have been thinking about this scooter a lot, and you haven't asked for much lately. You have been helpful, too. The sale price of the scooter is pretty good, but I can't just buy **this** for you. What if I pay for part of it, then I lend the rest of the money?". "No, Dad! Thank you so much, I don't need it anymore." Said Sophia.

A) Choose the best answer from a ,b ,c and d: (6× 2 = 12 Marks)

9- The best title for this passage is:

- a- A Happy Family
c- A Birthday Party

- b- A New Toy
d- An Amazing Day

10- The underlined word "**glance**" in paragraph (2) means:

- a- a big smile
c- a quick look

- b- a hard work
d- a loud shout

11- The underlined word "**this**" in paragraph (3) refers to:

- a- the shop
c- the sign

- b- the price
d- the scooter

12- Sophia wanted to buy a scooter because:

- a- Her scooter was broken lately.
b- She liked the new scooter so much.
c- She has enough money to buy another one.
d- She didn't ask for much lately.

الصفحة الثالثة

تابع امتحان مادة اللغة الإنجليزية / الصف السادس / نهاية الفترة الدراسية الأولى 2019 – 2020

13- According to the text, all the following statements are **TRUE EXCEPT**:

- a- There was a big sale in the shop.
- b- The scooter was bright in the shop.
- c- **Sophia was not helpful to her father.**
- d- The father and the girl went back to the shop a week later.

KwEduFiles.com

14- The writer's advice to children is:

- a- to always keep old things at home.
- b- not to get whatever their friends ask for.
- c- to buy new toys whenever they see them.
- d- **not to ask for much from their parents.**

B) Answer the following questions: (2×2= 4 Marks)

15- When did Sophia get her first scooter?

She got it three years ago.

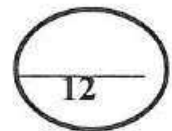
16- Do you think Sophia's father was a rich man? Why?

I don't think that Sophia's father was a rich man because he couldn't buy the scooter.

II- WRITING (30 Marks)

A) Grammar (12 Marks)

a) Cloze Test



Choose the correct answer : (4 X 2 = 8 Marks)

17- I always enjoy (**shopping** - shop - shopped) with my family every week. Last Friday I saw a little boy. The boy was lost while he (walks - **was walking** - walked) in the mall. He (ask - is asking - **asked**) me to help him. I called his father (**who** - which - where) came quickly and took his son.

b) Transformation

Do as shown between brackets :(2×2=4 Marks)

21- Our Grandparents used to eat in restaurants.

(Make negative)

Our Grandparents didn't use to eat in restaurants.

22- If you visit Kuwait Towers,

(Complete the sentence)

If you visit Kuwait Towers, you will enjoy your time there.

(Any reasonable answers are accepted)

الصفحة الرابعة

تابع امتحان مادة اللغة الإنجليزية / الصف السادس / نهاية الفترة الدراسية الأولى 2019 – 2020

B - Writing (14 Marks)

“Life in the past was very simple in old Kuwait.”

Plan and write one paragraph (not less than 6 sentences) about **Kuwait in the past** with the help of the following guide words:

live – houses – tents – pearl diving – buy– happy



C) Spelling (4 Marks)

Correct the following scrambled words in brackets : (4 X 1 = 4 Marks)

23- Some people like to (collcet) old coins and stamps.

collect

24- The boy was (firghetned) after watching a scary film.

frightened

25- We see different kinds of fish and sea animals in the (aqauiyum).

aquarium

26- It takes a lot of (praictce) to play the piano well.

practice

انتهت الأسئلة
Good Luck



وزارة التربية

الزمن : ساعة ونصف

الإدارة العامة لمنطقة الأحمدى التعليمية

الدرجة : ستون

التوجيه الفني للتربية الإسلامية

(نموذج إجابة)

عدد الأوراق: ٧

امتحان نهاية الفترة الدراسية الأولى لمادة التربية الإسلامية

KwEduFiles.com

(الصف السابع) للعام الدراسي ٢٠١٩ - ٢٠٢٠ م

الإجابة
النموذجية
مكتروول
الأحمدى

" اللهم لا سهل إلا ما جعلته سهلاً وأنت تجعل الحزن إذا شئت سهلاً "

ملحوظة : تأكد أن عدد الأوراق (٧) مختلفة ثم أجب عن جميع الأسئلة الآتية :

السؤال الأول: (في مجال حفظ الحديث الشريف) :- (١٠ درجات)

أكمل كتابة الأحاديث الشريفة الآتية :-

أ- عن عائشة - رضي الله عنها - أن رسول الله - ﷺ - قال:

" خلقت الملائكة من نور / وخلق الجان

من مارج من نار وخلق آدم مما وصف لكم " ص ١٠٢

ب- قال رسول الله - ﷺ - " إياكم والحسد / فإن الحسد يأكل الحسنات،

كما تأكل النار الحطب. " ص ٧٦

ج- عن أبي هريرة - رضي الله عنه - قال : قال رسول الله - ﷺ - " تجد من شر الناس

يوم القيامة عند الله ذا الوجهين، الذي يأتي هؤلاء بوجه وهؤلاء بوجه " ص ١٥٢



السؤال الثاني : (في مجال العقيدة) : (٩ درجات) :

(أ) ضع علامة (√) مقابل العبارة الصحيحة وعلامة (x) مقابل العبارة غير الصحيحة فيما يأتي:

KwEduFiles.com

١- الغيب النسبي يعرفه الأنبياء عن طريق الوحي . (√) ص ٢١



٢- ظهر جبريل - عليه السلام- للسيدة مريم في صورته الحقيقية . (x) ص ١٠٥

٣- الملك الموكل بالمطر والنبات والأرزاق هو إسرافيل عليه السلام . (x) ص ١١١

(ب) اختر التكملة الصحيحة من بين الأقواس فيما يأتي:

١- كل أمر نستطيع أن نتوصل إلى مشاهدته بالوسائل الحسية هو:

(عالم الشهادة - عالم الغيب - عالم الملك) ص ١٩



٢- من صور ادعاء علم الغيب:

(الحسد - السحر - قراءة الصحف) ص ٢٣

٣- من صفات الملائكة التي تدل على حسن أخلاقهم:

(الجمال - العلم - الحياء) ص ٢٣

(ج) أكمل ما يأتي بما يناسبه من خلال دراستك:

١- الملك الموكل بقبض الأرواح هو ملك الموت ص ١١١

٢- الملائكة لا يوصفون بالذكورة ولا بـ الأنوثة ص ١٠٣

٣- تتأذى الملائكة بالرائحة الكريهة مثل رائحة البصل و ص ١٠٦

/الثوم / السجائر / القذارة / الأوساخ (أو نحو ذلك)



السؤال الثالث : (في مجال الحديث وعلومه) : (٨ درجات)

٨

*- من حديث جبريل - عليه السلام- الذي بين مراتب الدين
عن عمر بن الخطاب - رضي الله عنه - قال : بينما نحن عند رسول الله - ﷺ - ذات يوم

إذ طلع علينا رجل قال : فأخبرني عن الإيمان قال :
" أن تؤمن بالله وملائكته وكتبه ورسله واليوم الآخر وتؤمن بالقدر خيره وشره "
قال : صدقت

من خلال فهمك للحديث الشريف السابق أكمل ما يأتي :

١- أسلم عمر بن الخطاب رضي الله عنه سنة .. ست .. من الهجرة ،
واشتهر بلقب .. أمير المؤمنين / أو الفاروق .. ص ٢٨

٢- أعلى مراتب الدين مرتبة .. الإحسان .. ص ٢٩

٣- كلمة صدقت تدل على .. الانتباه .. وحضور القلب ص ٣١

ب- عن عمر بن الخطاب - رضي الله عنه - قال : قال رسول الله - ﷺ - : إنما الأعمال بالنيات ،
وإنما لكل امرئ ما نوى فمن كانت هجرته إلى الله ورسوله ، فهجرته إلى الله ورسوله ،
ومن كانت هجرته لدنيا يصيبها أو امرأة يتزوجها فهجرته إلى ما هاجر إليه "

*- من خلال فهمك للحديث أجب بكلمة (نعم) أو (لا) فيما يأتي :

١- الهجرة هي الانتقال من بلد الشرك إلى بلد الإسلام . (.. نعم) ص ١١٧

٢- النيات تدل على صلاح العمل وفساده . (.. نعم) ص ١١٧

٣- من شروط قبول العمل الصالح إظهار الطاعات تفاخرا . (.. لا) ص ١٢٢

٤- إذا أخلص العبد في طاعته كثرت عليه الوسوس . (.. لا) ص ١٢٠



السؤال الرابع : (في مجال السيرة والتراجم) : (٩ درجات)

١- صل بين المجموعة (أ) وما يناسبها من المجموعة (ب) بوضع الرقم المناسب في الجدول التالي:

م	المجموعة (أ)	الرقم	المجموعة (ب)
١	بعثة سيدنا محمد - ﷺ - نقلت البشر	٣	بالرؤيا الصادقة في منامه. ص ١٢٥
٢	الرسول - ﷺ - يجيد التعامل	١	من ظلام الجهل إلى نور الإيمان. ص ١٣٠
٣	بدأت بوادر الوحي على النبي - ﷺ -	٢	مع الناس بأدب واحترام. ص ٤٣
		—	قيمة العلم ومنزلته. ص ١٢٦



(ب) اختر التكملة الصحيحة من بين القوسين فيما يلي:

١- كان النبي - ﷺ - إذا مشى مع أصحابه يجعلهم:
(عن يمينه - خلفه - أمامه) ص ٣٩

٢- كان ورقة بن نوفل يتعبد الله تعالى على الديانة:
(اليهودية - النصرانية - الإسلامية) ص ١٢٧

٣- شهد النبي - ﷺ - حلفا لمناصرة الضعفاء وهو في عمر:
(العشرين - الثلاثين - الأربعين) ص ٣٨



(ج) أكمل ما يأتي بما يناسبه من خلال دراستك:

١- عرف سيدنا محمد - ﷺ - في شبابه بين قومه بـ ... الصادق الأمين ص ٣٥

٢- نزل الوحي على النبي - ﷺ - وهو في سن ... الأربعين ص ١٢٥

٣- المرأة التي دافعت عن النبي - ﷺ - في أحد هي ... نسيبة بنت كعب ص ٤٢





السؤال الخامس : في مجال الفقه : - (٩ درجات)

أ- ضع علامة (√) مقابل العبارة الصحيحة وعلامة (x) مقابل العبارة غير الصحيحة فيما يأتي:

١- من شروط الأذان دخول وقت الصلاة. (√..) ص ٤٦

٢- قراءة الفاتحة في كل ركعة ركن من الصلاة. (√..) ص ٦٤

٣- إذا فعل المصلي شيئاً من مكروهات الصلاة بطلت صلاته. (x..) ص ١٣٢



ب) صنف الكلمات التي بين القوسين حسب المطلوب في الجدول التالي:

(الإسلام - دخول الوقت - ستر العورة - العقل - استقبال القبلة - البلوغ) ص ٥٦

شروط وجوب الصلاة	شروط صحة الصلاة
الإسلام	دخول الوقت
العقل	ستر العورة
البلوغ	استقبال القبلة



ج) أكمل ما يأتي بما يناسبه من خلال دراستك:

١- من واجبات الصلاة تكبيرات ... الانتقال ص ١٤٠

٢- يقول المصلي آمين بعد قراءة ... الفاتحة ص ١٤٢

٣- يثاب المصلي على فعل سنن الصلاة ولا يُعاقب على ... تركها ص ١٤٢





السؤال السادس : (في مجال التهذيب) : (٩ درجات)

(أ) اختر المصطلح المناسب من بين القوسين واكتبه في الفراغ المناسب الذي يليه:

(الحقد - الحسد - الغبطة - النميمة)

١- (... الحسد) تمنى زوال نعمة المحسود وانتقالها إلى الحاسد. ص ٧٢

٢- (..الحقد) إضرار الشر للناس إذا لم يتمكن من الانتقام منهم ص ٧٢

٣- (...النميمة) السعي بين الناس بالإفساد والإيقاع بينهم . ص ١٥١

٤- (..الغبطة) تمنى الخير مثل الذي عند الغير دون ضرر به ص ٧٣

ب- ظل (ص) إذا كانت العبارة صحيحة ، وظلل (خ) إذا كانت العبارة غير صحيحة فيما يأتي :-



١	الرضا بما قسم الله وقاية من الحسد . ص ٧٩	ص	خ
٢	الغيبة هي ذكر محاسن الإنسان في غيبته . ص ١٥١	ص	خ
٣	الجوارح كلها مرتبطة باللسان في الاستقامة والاعوجاج. ١٥٠	ص	خ

(ج) (اللسان نعمة عظيمة، صغير في حجمه عظيم في طاعته) ص ١٥٠

*- أخرج من العبارة السابقة قيمة، ثم حدد مظهرها سلوكيا لها

*- القيمة: حفظ اللسان



*- المظهر السلوكي: أصون لساني عن الكلام القبيح (ونحو ذلك)



السؤال السابع : في مجال الثقافة الإسلامية :- (٦ درجات)

ضع كل كلمة من الكلمات التي بين القوسين أمام ما يناسبها في الجدول التالي:

(محبة طبيعية - محبة ألفة - محبة إشفاق) ص ٨٢

نوعها	المحبة
...محبة إشفاق	محبة الوالد لولده
...محبة طبيعية	محبة الجائع للطعام
...محبة ألفة	محبة الأصدقاء



(ب) ضع الرقم من المجموعة (س) أمام ما يناسبه من المجموعة (ص) فيما يأتي:

م	المجموعة (س)	الرقم	المجموعة (ص)
١	الحب عاطفة إنسانية نبيلة ص ٨١	٢	أنه خلقتي ورزقتي وهداني للإسلام.
٢	من أسباب محبتي لله تعالى ص ٨٢	٣	اتباع سنته والصلاة والسلام عليه .
٣	من دلائل محبتي للنبي - ﷺ - ٩١	١	لا يملكها إلا أصحاب القلوب الصافية.
		—	محبة العبودية خاصة بالله عز وجل ص ٨١



انتهت الأسئلة والإجابة والله الموفق،،،

الإجابة

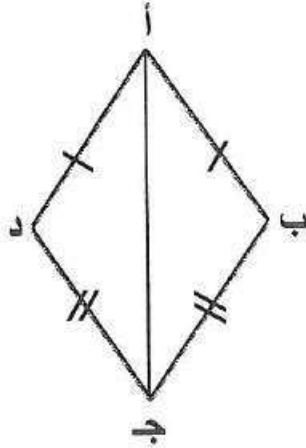
العام الدراسي :
عدد الأوراق : (٥)
المدة : ١٢٠ دقيقة

أولا : أسئلة المقال

(وضح خطوات الحل في جميع أسئلة المقال)

KwEduFiles.com

السؤال الأول :



(أ) في الشكل المجاور أ ب ج د شكل رباعي فيه :
أ ب = أ د ، ب ج = د ج
اثبت أن : (١) \triangle أ ب ج \cong \triangle د ج أ
(٢) أ ج منتصف (ب أ د)

في \triangle أ ب ج ، \triangle د ج أ
أ ب = أ د
ب ج = د ج
أ ج مشترك

∴ ينطبق المثلثين بحالة (ض ، ض ، ض)
وهو المطلوب أولا
وينتج أن :

$$\angle \text{أ ج ب} = \angle \text{أ ج د}$$

∴ أ ج منتصف (ب أ د) وهو المطلوب ثانيا

ب (استخدم مخطط الساق والأوراق المزدوج التالي الذي يعطي أطوال مجموعتين لبعض المتعلمين بالسنتيمتر لاكمال مايلي :

(١) عدد المتعلمين الذين يبلغ طولهم ١٦٣ سنتيمترا في المجموعة (أ) يساوى ٢

(٢) طول أقصر متعلم في المجموعة (أ) يساوى ١٤٠

(٣) طول أطول متعلم في المجموعة (ب) يساوى ١٧٥

(٤) عدد المتعلمين في المجموعة (أ) يساوى ١٣

(٥) المنوال للمجموعة (أ) يساوى ١٦٣

(٦) الوسيط للمجموعة (ب) يساوى ١٥٣

المجموعة (ب)	المجموعة (أ)
٥٣	١٣
٣	١٤
٣٠	١٥
٣٠	١٦
٥٠	١٧
	١٨

١

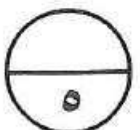
١

١

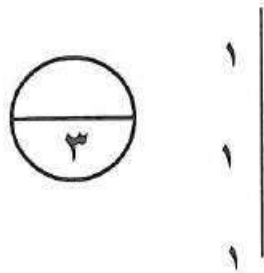
١

١

١



(ج) إذا كانت $E = \{س : س عدد زوجي أكبر من ١ وأصغر من ٩\}$ ، $K = \{٠، ٣، ٤، ٦\}$ أوجد كلا مما يلي بذكر العناصر:



$$E = \{٨، ٦، ٤، ٢\}$$

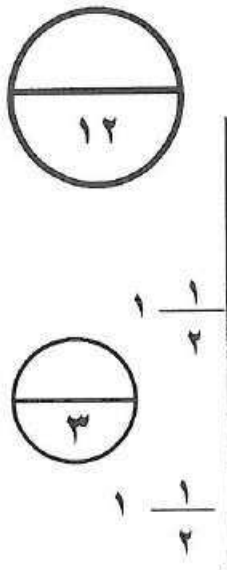
$$K \cap E = \{٦، ٤\}$$

KwEduFiles.com

$$K \cup E = \{٨، ٦، ٤، ٢، ٠\}$$

السؤال الثاني :

(أ) إذا كانت $S = \{١، ٢، ٣، ٤، ٥، ٦\}$ أكتب كلا من العلاقات التالية بذكر العناصر :



(١) علاقة "ضعف" من S إلى S

$$E = \{(١، ٢)، (٢، ٤)، (٣، ٦)\}$$

$$(٢) E = \{(أ، ب) : أ، ب \in S، أ \neq ب\}$$

$$E = \{(١، ١)، (٢، ٢)، (٣، ٣)\}$$

ب (في الشكل المقابل

$$\overline{AB} \cong \overline{OH}، \angle A = \angle O، \angle B = \angle O$$

$$\angle ADB = \angle ODH \text{ اثبت أن : } \overline{AD} \cong \overline{OH}$$

في $\triangle ADB$ ، $\angle ADB = \angle ODH$

$$\angle A = \angle O، \angle B = \angle O، \angle ADB = \angle ODH$$

$$\therefore \angle ADB = \angle ODH$$

في $\triangle ADB$ ، $\angle ADB = \angle ODH$

$$\overline{AB} \cong \overline{OH} \text{ معطى}$$

$$\angle ADB = \angle ODH \text{ برهانا}$$

$$\angle A = \angle O \text{ معطى}$$

\therefore ينطبق المثلثان بحالة (ز . ض . ز)

$$\overline{AD} \cong \overline{OH}$$

تابع السؤال الثاني :

ج (أوجد الناتج في أبسط صورة : $\frac{63}{10} \div 49 = 6 \frac{3}{10} \div 49$

$$\frac{10}{63} \times 49 =$$

$$\frac{70}{63} =$$

$$7 \frac{9}{63} =$$

KwEduFiles.com

السؤال الثالث :

أ) يستغرق ١٤ عاملا ١٢ ساعة لجني محصول الطماطم من إحدى المناطق الزراعية أحسب عدد العمال اللازم لجني المحصول في ٨ ساعات لنفس المنطقة الزراعية وب نفس كفاءة العمال ؟

بفرض أن عدد العمال هو س ، التناسب عكسي

$$\frac{8}{12} = \frac{14}{س}$$

$$س = \frac{12 \times 14}{8} = 21 \text{ عاملا}$$

ب) رتب الأعداد التالية ترتيبا تنازليا موضحا خطوات الحل :

$$٥,٤ - , ٥,٢٥ , ٥ \frac{1}{5} - , ٥ \frac{1}{3}$$

$$\text{الترتيب التنازلي هو } ٥ \frac{1}{3} , ٥,٢٥ - , ٥ \frac{1}{5} - , ٥,٤$$

١ لكل ترتيبية

ج) من الشكل المقابل أكمل ما يلي :

$$س = \{ ٩ , ٤ , ٥ , ٣ \}$$

$$ص = \{ ٩ , ١ , ٦ \}$$

$$ص \cup س = \{ ٩ , ٦ , ٥ , ٤ , ٣ , ١ \}$$

$$س \cap ص = \{ ٩ , ٤ , ٥ , ٣ \} = \emptyset$$

ظل المنطقة التي تمثل $ص \cap س$

السؤال الرابع:



(أ) إذا كانت $S = \{3, 1\}$ ، $V = \{5, 3, 2, 1, 0\}$

وكانت V تطبيقاً معرفاً كما يلي

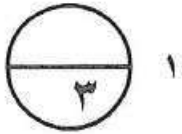
$V: V \rightarrow S$ حيث $V(s) = 2s - 1$

أكمل الجدول التالي ثم أوجد مدى التطبيق V

KwEduFiles.com

الجدول درجتين

س	١	٣
$2s - 1$	$2 \times 1 - 1$	$2 \times 3 - 1$
$V(s)$	١	٥



المدى = $\{5, 1\}$

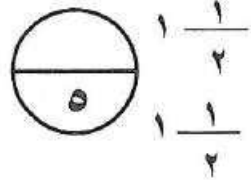
(ب) أوجد النسبة المئوية التي تمثل ٣٦ من ٧٥
نفرض أن النسبة المئوية هي ن

$$N = \frac{36}{75} \times 100\% = 48\%$$

(٢) جهاز رياضي سعره الأصلي ١٢٠ دينار يضاف اليه نسبة ١٢٪ توصيل
فما هو سعره عند التوصيل ؟

$$\text{خدمة التوصيل} = 120 \times \frac{12}{100} = 14,4 \text{ دينار}$$

$$\text{الثمن عند التوصيل} = 120 + 14,4 = 134,4 \text{ دينار}$$



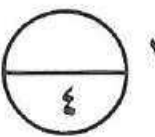
(ج) أوجد عددين صحيحين متتاليين يقع بينهما العدد $15,18$

$$9 < 15,18 < 16$$

$$\sqrt{9} < \sqrt{15,18} < \sqrt{16}$$

$$3 < \sqrt{15,18} < 4$$

أي أن : العدد $15,18$ يقع بين العددين ٣ ، ٤



ثانيا : البنود الموضوعية

أولاً: في البنود من (١) إلى (٤) ظلل الدائرة (أ) إذا كانت العبارة صحيحة، (ب) إذا كانت العبارة خاطئة :

(١)	مكعب حجمه ٢١٦ سم ^٣ فإن طول حرفه ٠,٠٠٦ سم	(أ)	(ب)
(٢)	العدد صفر ليس أصغر الأعداد النسبية	(أ)	(ب)
(٣)	Δ س ص ع ، Δ ل م ن متطابقان	(أ)	(ب)
(٤)	المتوسط الحسابي لمجموعة من القيم يمكن أن يتساوى مع احدى هذه القيم	(أ)	(ب)

ثانياً: في البنود من (٥) إلى (١٢) لكل بند أربعة اختيارات واحدة فقط صحيحة ظللني ورقة الإجابة الرمز الدال على الإجابة الصحيحة

(٥) إذا كانت $\sim = \{٣، ٤، ٥\}$ ، $\sim = \{٤، ٥، ١+ل\}$ وكانت $\sim = ص$ فإن ل =

(أ) ١ (ب) ٢ (ج) ٣ (د) صفر

(٦)
$$= \frac{|٤ - ١|}{١٠٠}$$

(أ) ٢٥% (ب) ٤% (ج) ٠,٠٤ (د) ٠,٠٤

(٧) طول ضلع المربع الذي مساحته $١\frac{٩}{١٦}$ سم^٢ بالسنتيمترات يساوي :

(أ) $١\frac{٢}{٣}$ (ب) $١\frac{١}{٤}$ (ج) $\sqrt{\frac{١٣}{٩}}$ (د) $\frac{٤}{٥}$

(٨) ٣٠% من عدد ما يساوي ٤٥ فإن العدد هو :

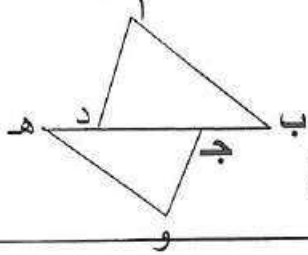
(أ) ١٥ (ب) ٧٥ (ج) ١٥٠ (د) ٢٥٠

(٩) إذا كان قياسا زاويتين في أحد مثلثين متطابقين هما 35° ، 50° فإن قياسا زاويتين في المثلث الآخر يمكن أن يكونا :

- أ 30° ، 50° (ب) 55° ، 95° (ج) 35° ، 95° (د) 80° ، 50°

(١٠) في الشكل المجاور: إذا كان $\triangle ABC \cong \triangle DEF$ و هـ ج فإن العبارة الصحيحة مما يلي هي :

- أ $\angle C = \angle F$ (ب) $AB = DE$ (ج) $AB = DE$ (د) $\angle C = \angle F$



(١١) المدى لمجموعة البيانات التالية : ١٩ ، ٩٠ ، ٩٢ ، ٩٤ ، ٩٤ هو :

- أ ١١٣ (ب) ٩٢ (ج) ٩٤ (د) ٧٥

(١٢) إذا كانت ع دالة من سـ الى صـ حيث $S = \{2, 4, 5\}$ ، $V = \{6, 7\}$ فإن

الزوج المرتب الذي لا ينتمي الى ع مما يلي هو :

- أ (٢، ٦) (ب) (٤، ٧) (ج) (٦، ٤) (د) (٥، ٧)

جدول الإجابات الموضوعية



١	٢	ب	ج	د
٢	٢	ب	ج	د
٣	٢	ب	ج	د
٤	٢	ب	ج	د
٥	٢	ب	ج	د
٦	٢	ب	ج	د
٧	٢	ب	ج	د
٨	٢	ب	ج	د
٩	٢	ب	ج	د
١٠	٢	ب	ج	د
١١	٢	ب	ج	د
١٢	٢	ب	ج	د

الإجابة النموذجية

الوقت: ٢٠١٩-٢٠٢٠ م
الزمن: ساعة ونصف وأربعون دقيقة
عدد الأوراق: (٧)

نموذج الإجابة

امتحان نهاية الفترة الدراسية الأولى
لمقرر/ الكويت والعالم
للفيف التاسع متوسط

وزارة التربية
الإدارة العامة لمنطقة الاحمدى التعليمية
التوجيه الفني للاجتماعيات
KwEduFiles.com

كل نقطة بدرجة واحدة

السؤال الأول : الموضوعي ويتكون من (أ- ب - ج)
(أ) أكمل العبارات التالية بما يناسبها:

- (١) مساحة دولة الكويت الاجمالية تبلغ ... ١٧,٨١٨ كم^٢ ص ٢٠
- (٢) يطلق على الأقاليم المناخية الواقعة بين دائرتي عرض ٥٠° - ٩٠° شمالا وجنوبا اسم الباردة ص ٢٨
- (٣) الشاعر المقابل يمثل جائزة دولية اسمها ... نوبل ص ٥٣
- (٤) درجة التلوث في منطقة المفاعل النووي تشرنوبل تسمى... المدمر ص ٦٢
- (٥) الدولة التي استضافة المؤتمر الدولي للأرض عام ١٩٩٢ م اسمها... البرازيل... ص ٨١



(ب) اكتب المفاهيم أو المصطلحات الدالة على العبارات التالية:

١ الموقع الفلكي ص ١٨	موقع الدولة بالنسبة لخطوط الطول ودوائر العرض.
٢ التعرية ص ٢٤	-عملية نحت وتشكيل سطح الأرض، ونقل المفتتات الصخرية وإرسابها في مكان آخر من خلال الرياح والمياه الجارية والجليد والأمواج والمياه الجوفية.
٣	...الاقتصاد البيئي ص ٤٣ ...	-التوزيع الأمثل للموارد الطبيعية التي توفرها البيئة لعملية التنمية المستدامة.
٤ تلوث التربة ... ص ٦٧	- خلل ذو طبيعة فيزيائية أو كيميائية أو حيوية، مصدره نشاط إنساني يؤدي الى عدم الاتزان بين مكونات التربة
٥	...تصحّر معتدل ص ٧٣	- حدوث تلف بدرجة متوسطة للغطاء النباتي وتكوين كتبان رملية صغيرة مما يقلل عائد الإنتاج بنسبة ١٠% - ٥٠%

تابع / السؤال الأول:

كل نقطة بدرجة واحدة

(ج) ضع خطأ تحت الخيار الصحيح من بين الخيارات التي تلي كل عبارة:

www.kutdufiles.com
ضع خطأ تحت الخيار الصحيح من بين الخيارات التي تلي كل عبارة: ص ١٩

أ - ١٥٠

ب - ١٦٠

ج - ١٧٠

د - ١٨٠

٢- احد مظاهر التضاريس على سطح الأرض وتمثل نسبة ٣٣% من مساحة القارات : ص ٢٤

أ - الهضاب

ب- الجبال

ج- السهول

د- وديان

٣- تقل درجة الحرارة درجة واحدة كلما ارتفعنا عن سطح الأرض: ص ٢٣

أ - ٥٠ متر

ب- ١٠٠ متر

ج- ١٥٠ متر

د- ٢٠٠ متر

٤- احد مصادر المياه الغير تقليدية : ص ٧٧

أ - تحلية مياه البحر

ب- الامطار

ج- المياه الجوفية

د- المياه السطحية

٥- الجزء المضلل بالدائرة البيانية الذي يمثل نسبة غاز النتروجين في كوكب الأرض: ص ٦٣

أ -

ب -

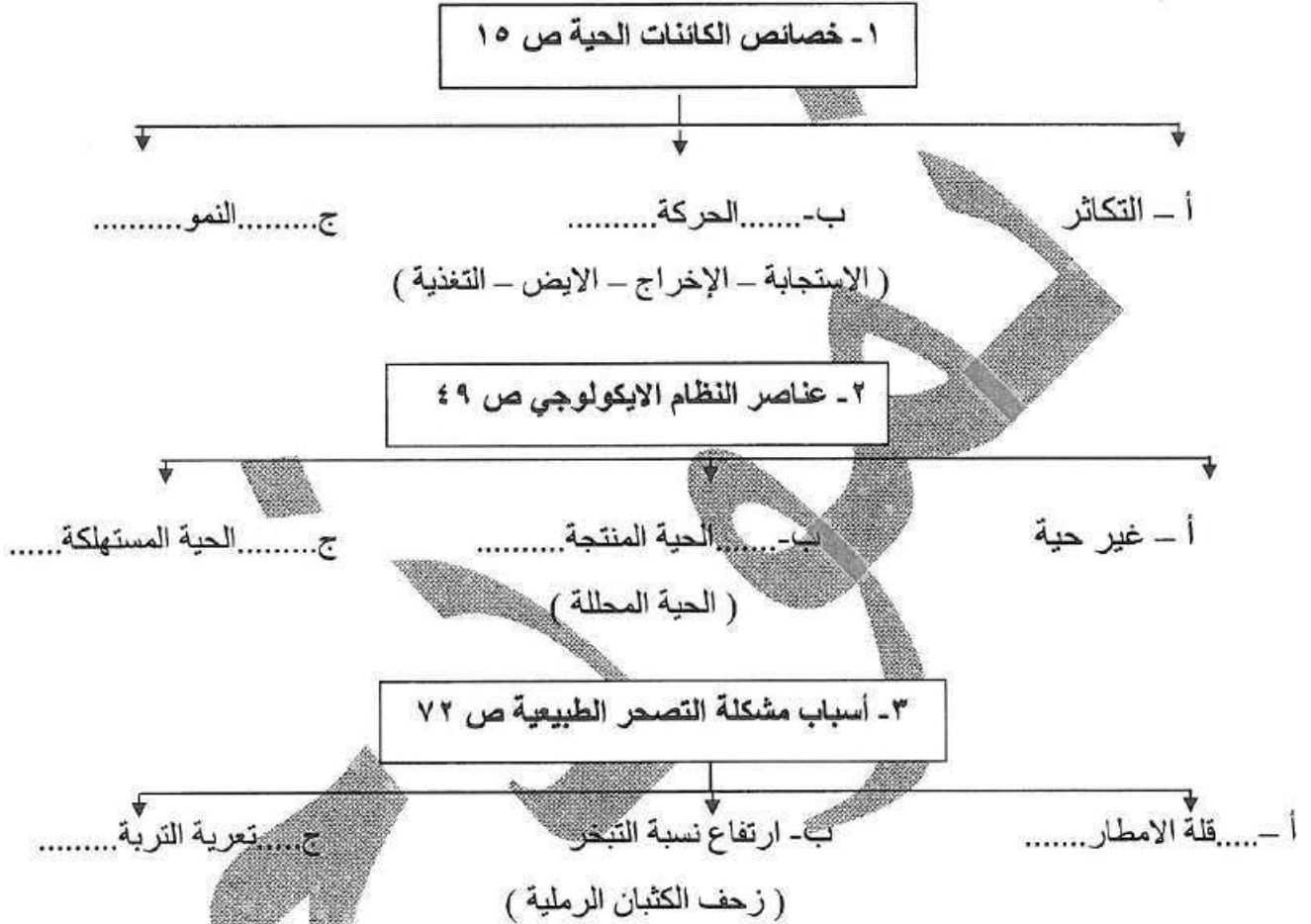
ج -

د -

السؤال الثاني : الموضوعي ويتكون من (أ - ب - ج)

(أ) أكمل المخطط السهمي التالي:

KwEduFiles.com

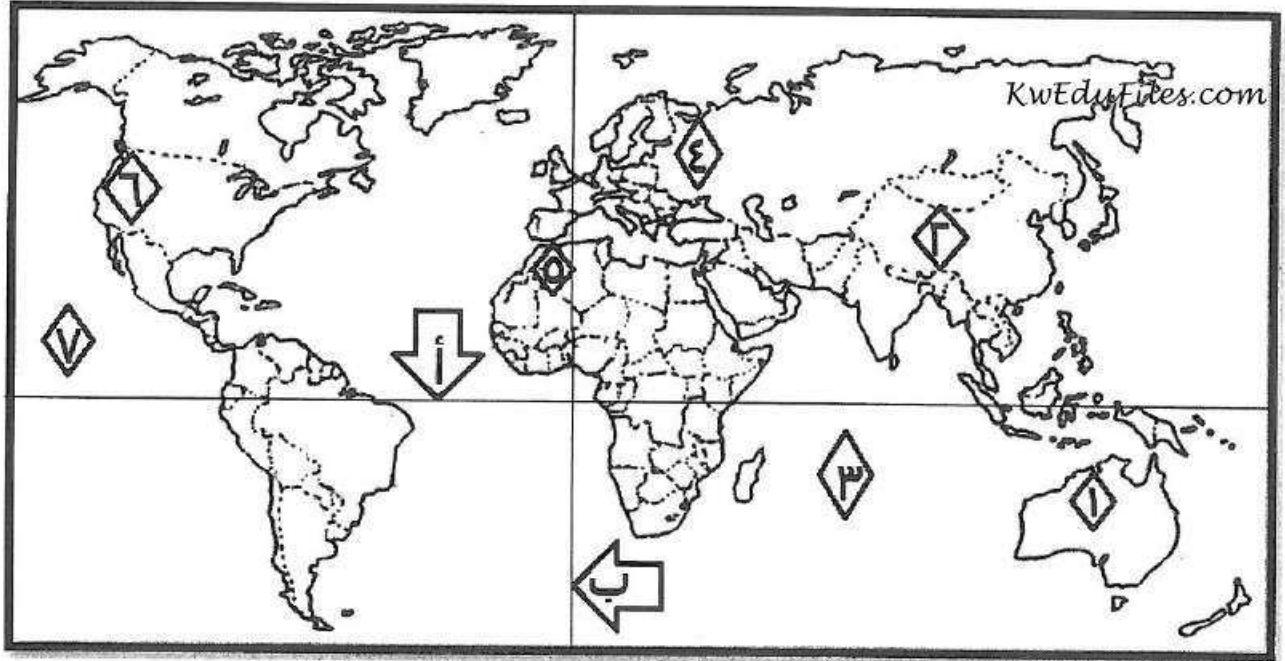


(ب) صنف الدول التالية حسب درجة التحضر في الجدول التالي: ص ٤٤

أوكرانيا - كندا - الهند - استراليا

دول متقدمة حضارياً	دول نامية حضارياً
- كندا	- اوكرانيا
- استراليا	- الهند

(ج) لاحظ خريطة العالم ثم أكتب الرقم او الحرف الدال على العبارات التالية :



- جبال اطلس يمثلها الرقم.....٥..... ٢٥
- السهل الأوروبي العظيم يمثلته الرقم٤..... ٢٥
- هضبة كمبرلي يمثلها الرقم.....١..... ٢٥
- دائرة الاستواء يمثلها الحرف.....أ..... ص ١٩
- المحيط الهادي يمثلته الرقم٧..... ص ٢٠

كل نقطة بدرجة واحدة

السؤال الثالث: مقالي ويتكون من (أ - ب)

(أ) اقرأ الفقرة التالية ثم أجب عما يليها من أسئلة:-

((تعتبر الضوضاء شكلاً من أشكال التلوث البيئي له خطورته ومن الصعب تجنبه، وهو في تزايد مستمر نتيجة للتقدم التكنولوجي والتمدن السكاني والاعتماد المتزايد على استخدام الآلة في شتى نواحي الحياة، وتعرف وحدة قياس ضغط الصوت بالديسيبل وإذا تجاوز ٨٥ DB يصبح مستوى الصوت مدمر وخطر على الإنسان.))

١- عرف ما تحته خط : خليط متنافر من الأصوات ذات استمرارية غير مرغوب فيها.....ص ٦٩

٢- اذكر - أسم وحدة قياس ضغط الصوت بالديسيبل.....ص ٦٩

٣- عدد - مصادر التلوث الضوضائي . ص ٩٦ ويكتفى بنقطتين

أ- آلات المصانع أثناء تشغيلها.

ب- ضجيج أعمال البناء والتشييد وهو أكثر أنواع انتشاراً.

ت- أصوات وسائل النقل من سيارات وشاحنات وقطارات وغيرها وخصوصاً بالمدن الكبرى.

ث- أصوات الآلات المنزلية الحديثة مثل التكيف والغسيل والتلفاز.

(ب) علل لما يلي:-

١- تعد السهول من أفضل مناطق الاستقرار البشري. ص ٢٤ ويكتفى بنقطتين

أ- موانئ طبيعية .

ب- سهولة بناء المساكن عليها.

ت- تركيز السكان فيها لسهولة التنقل .

٢- أهمية زراعة الأشجار على كوكب الأرض . ص ٥٢ ويكتفى بنقطتين

أ- الحفاظ على المناخ وتخفيف ارتفاع درجة الحرارة وكمية التلوث.

ب- توفر الأخشاب كمورد اقتصادي مهم.

ت- توفير الغذاء.

ث- مصدراً أساسياً لفلتر الهواء، وإنتاج الأكسجين، والتخلص من ثاني أكسيد الكربون.

ج- تخفيف من سرعة الرياح .

٣- نشأة حركة التجارة بين دول العالم. ص ٩٩

أ . حاجة الدول المنتجة إلى أسواق لتصريف منتجاتها ليعود بالنفع عليها وعلى سكانها

ب . حاجة الدول المستهلكة لاستيراد السلع والخدمات وموارد الخام التي لا تتوفر في أراضيها.

كل نقطة بدرجة واحدة

السؤال الرابع : مقالتي ويتكون من (أ - ب)

(أ) قارن بين كل مما يلي:

الأقاليم المناخية المعتدلة الباردة ص ٢٨	الأقاليم المناخية المعتدلة الدفيئة ص ٢٧	وجه المقارنة الموقع بالنسبة لدوائر العرض
بين دائرتي عرض ٥٤٠-٥٦٠ شمالاً وجنوباً	بين دائرتي عرض ٥٣٠-٥٤٠ شمالاً وجنوباً	
وتتمتاز هذه الأقاليم بالاعتدال مع الميل للبرودة وخاصة في أشهر الشتاء.	ويتمتاز بالاعتدال مع الميل الى ارتفاع درجة الحرارة صيفاً والدفء شتاء.	مميزاته

مرحلة الصيد والقتل ص ٤٧	مرحلة الجمع والالتقاط ص ٤٦	٢- وجه المقارنة
يستخدم قدرات الخلقية والعقلية في دراسة حركات الحيوانات اليومية والموسمية كما بدأ يعمل على صناعة أسلحة الصيد وتطويرها وكان أهم مستحدث في هذه المرحلة هو اكتشاف النار.	يجمع طعامه لما تجود به النباتات البرية من ثمار أوراق أو درنات وكانت هذه المرحلة لا تطلب منهم مشقة ومجهود وأثر الإنسان على بيئته في هذه المرحلة لا يكاد لا يتجاوز أثر غيره من الأحياء الأخرى.	دور الانسان

(ب) عرف المفاهيم والمصطلحات التالية: -

١	تصحّر شديد جداً	ص ٧٣	حدوث حركة كثبان رملية كبيرة نتج عنها الأخاديد والأودية العميقة والكبيرة مما جعل التربة تفقد قدرتها الإنتاجية بنسبة أكثر من ٩٠%
٢	الأمن المائي	ص ٧٨	توفر الكميات الكافية من المياه ذات النوعية الجيدة الضرورية، وفي الوقت نفسه توفر كميات المياه المطلوبة لاستدامة وتعزيز وظائف النظم الإيكولوجية الهامة
٣	العلاقات الدولية	ص ٩١	كافة التفاعلات الدولية وحركات الشعوب وتبادل السلع والأفكار وتشمل العلاقات السياسية والاقتصادية والاجتماعية والثقافية.
٤	نظام GPS	ص ١٠٠	نظام تحديد المواقع العالمي مبني على الأقمار الصناعية