

تم تحميل هذا الملف من موقع ملفات الكويت التعليمية



[com.kwedufiles.www//:https](https://www.kwedufiles.com)

\*للحصول على أوراق عمل لجميع الصفوف وجميع المواد اضغط هنا

\* للحصول على أوراق عمل لجميع مواد الصف الثالث اضغط هنا

<https://kwedufiles.com/3>

\* للحصول على جميع أوراق الصف الثالث في مادة علوم وجميع الفصول, اضغط هنا

<https://kwedufiles.com/3science>

\* للحصول على أوراق عمل لجميع مواد الصف الثالث في مادة علوم الخاصة بـ الفصل الأول اضغط هنا

<https://www.kwedufiles.com/3science1>

\* لتحميل كتب جميع المواد في جميع الفصول للـ الصف الثالث اضغط هنا

<https://www.kwedufiles.com/grade3>

\* لتحميل جميع ملفات المدرس تطبيق خدمة الطالب اضغط هنا

[bot\\_kwlinks/me.t//:https](https://t.me/bot_kwlinks)

للحصول على جميع روابط الصفوف على تلغرام وفيسبوك من قنوات وصفحات: اضغط هنا

الروابط التالية هي روابط الصف الثالث على مواقع التواصل الاجتماعي

مجموعة الفيسبوك

صفحة الفيسبوك

مجموعة التلغرام

بوت التلغرام

قناة التلغرام

رياضيات على التلغرام

## ما أهمية غطاء جسم الطائر؟



### Why Is the Bird's Covering Important?

#### Properties of Birds

#### النَّشاط (1) خَصَائِصُ الطُّيُورِ

لاحظ الطَّيْرَ، ثُمَّ اكْمِلِ الْمَطْلُوبَ فِي الْجَدْوَلِ:

م	اسْمُ الطَّائِرِ	خَصَائِصُهُ الْعَامَّةُ
1	العصفور	<p>له منقار لتناول الحبوب .</p> <p>له جناحان للطيران .</p> <p>يغطي جسمه ريش .</p>

#### Bird's Covering

#### النَّشاط (2) غِطَاءُ جِسْمِ الطَّائِرِ

افحص غطاء جسم الطائر، ثُمَّ اكْمِلِ الْمَطْلُوبَ فِي الْجَدْوَلِ:



الرَّقْمُ	اسْمُ الطَّائِرِ	نَوْعُ الرِّيشِ
1	الحمام	<p>حَوْلَ الرِّقْبَةِ ..... قصير</p> <p>فِي الْجَنَاحِ ..... طويل</p>
2	الصقر	<p>عَلَى الصَّدْرِ ..... قصير</p> <p>فِي الذَّيْلِ ..... طويل</p>

تَوَقَّعْ وَظِيفَةَ الرِّيشِ:

1. حَوْلَ الرِّقْبَةِ وَعَلَى الصَّدْرِ ..... للحماية
2. فِي الذَّيْلِ وَفِي الْجَنَاحِ ..... للطيران



ألصق الريش المناسب في المكان المناسب على جسم الطائر.



# كَيْفَ تَتَغَذَّى الطُّيُورُ؟



How Do Birds Get Food?







Birds' Beaks

مَنَاقِيرُ الطُّيُورِ



النَّشَاطُ (1)

لَا حِظَّ مَنَاقِيرِ الطُّيُورِ، ثُمَّ اكْمِلِ الْمَطْلُوبَ فِي الْجَدْوَلِ:

أرْسِمِ الْمِنْقَارَ	اسْمُ الطَّائِرِ	
	بط	
	دجاج	
	صقر	



تطبيق خدمة الطالب

تطبيق خدمة الطالب 50152882



## Differences Between Birds' Beaks

## النشاط (2) اختلاف مناقير الطيور

ألصق صورة الطائر المناسب حسب نوع غذائه في المكان المخصص في الجدول:



## نشاط ذهني



صِف بِجُمْلَةٍ مِنْ إِنشَائِكَ الْمِنْقَارَ الْمَوْضَحَ فِي  
الصُّورَةِ، ثُمَّ حَدِّدْ نَوْعَ الْغِذَاءِ.  
.....  
منقار الصقر معقوف  
.....  
يتغذى على اللحوم .  
.....

## بماذا تَتَمَيَّزُ الطُّيُورُ؟





### What Are Birds' Characteristics?

#### Birds' Claws

#### النَّشَاطُ (1) أصابعُ أَرْجُلِ الطُّيُورِ

افْحَصْ أَرْجُلَ الطَّائِرِ، ثُمَّ اكْمِلِ الْمَطْلُوبَ فِي الْجَدْوَلِ:

اسْمُ الطَّائِرِ	الْبَيْئَةُ (بَرِّيَّةٌ - بَحْرِيَّةٌ)	أَرْسُمِ الْأَرْجُلَ
1	عصفور ..... برية	
2	بطة ..... بحرية	

#### Birds' Shapes

#### النَّشَاطُ (2) أشكالُ أجسامِ الطُّيُورِ

افْحَصْ شَكْلَ جِسْمِ الطَّائِرِ، ثُمَّ اكْمِلِ الْمَطْلُوبَ فِي الْجَدْوَلِ:

اسْمُ الطَّائِرِ	أَرْسُمِ شَكْلَ الْجِسْمِ
1	حمام ..... 
2	أوز ..... 





## نشاط ذهني

طائر الحبارى أحد الطيور المميّزة في البيئة الكويتية.  
ابحث عن خصائص طائر الحبارى التي تمكنه من العيش في البيئة الكويتية.



خصائص طائر الحبارى	
نوع البيئة	برية
لون الريش	بنى
حجم الطائر	متوسط
نوع الغذاء	النمل والخنافس و النباتات





1. لَاحِظْ أَرْجُلَ الطُّيُورِ فِي الشَّكْلِ التَّالِي، ثُمَّ أَخْبِرْ:



أَيُّ مِنَ الطَّائِرِينَ يَسْتَطِيعُ السَّبَاحَةَ؟  
السَّبَبُ: وجود جلد بين الأصابع يساعد على السباحة.

2. يُشِيرُ الرَّسْمَانِ إِلَى رَأْسَيْنِ لَطَّائِرَيْنِ.



عَلَّلْ سَبَبَ عُزُوفِ الطَّائِرِ رَقْمَ 2 أَغْلَاهُ عَنْ تَنَاوُلِ قِطْعَةٍ مِنَ اللَّحْمِ.  
لأن منقاره مدبب وليس معقوف.







3. النَّعَامُ طَيْرٌ كَبِيرٌ لَهُ جَنَاحَانِ وَلَا يَطِيرُ.  
مَا هُوَ، بِاعْتِقَادِكَ، سَبَبُ عَدَمِ قُدْرَةِ النَّعَامِ عَلَى الطَّيْرَانِ؟  
لأن وزنه ثقيل واجنحته ضعيفة .



4. هَلْ يُمَكِّنُ اعْتِبَارُ الْخَفَاشِ مِنَ الطُّيُورِ؟  
أَعْطِ سَبَبًا وَاحِدًا.  
السَّبَبُ: نعم  
لأن له اجنحة يطير بها .



تطبيق خدمة الطالب 50152882