

تم تحميل هذا الملف من موقع المناهج الكويتية



مدرسة التميز النموذجية

الملف أوراق عمل الوحدة الأولى 2025 و 2026

[موقع المناهج](#) ⇨ [ملفات الكويت التعليمية](#) ⇨ [الصف الثاني](#) ⇨ [اجتماعيات](#) ⇨ [الفصل الثاني](#)

روابط مواقع التواصل الاجتماعي بحسب الصف الثاني



روابط مواد الصف الثاني على تلغرام

[الرياضيات](#)

[اللغة الانجليزية](#)

[اللغة العربية](#)

[التربية الاسلامية](#)

المزيد من الملفات بحسب الصف الثاني والمادة اجتماعيات في الفصل الثاني

[تحميل كتاب الطالب القسم الأول منهاج جديد](#)

1

[خطة توزيع المنهج 2025 و 2026م](#)

2

مادة الاجتماعيات

موقع
المنهج الكويتية
almanahj.com/kw

الفصل الدراسي الثاني 2025 – 2026 م

للف (الثاني)

مدرسة التميز النموذجية

(ابتدائي - متوسط - ثانوي)



إعداد
قسم الاجتماعيات



اجب عن الأسئلة التالية

(1) ضع علامة (✓) إذا كانت العبارة الصحيحة وعلامة (x) إذا كانت العبارة خاطئة في كل مما يلي:

م	العبارة	العلامة
1	عدد محافظات وطني الكويت يبلغ (7) سبع محافظات.	
2	توفر الدولة للسكان الخدمات الأساسية في كل منطقة سكنية.	
3	برج خليفة يقع في دولة البحرين.	
4	تقام المسرحيات والعروض الفنية والندوات الثقافية في مركز عبدالله السالم الثقافي.	
5	تقع جزيرة فيلكا عند مدخل جون الكويت في الخليج العربي.	
6	صورة أبراج الكويت توجد على عملة الكويت الوطنية فئة (الرربع دينار).	

(2) ظلل الخيار الصحيح من بين الخيارات التي تلي كل عبارة مما يلي:

1- يبلغ عدد محافظات وطني الكويت:

(5) محافظات	(6) محافظات	(7) محافظات	(8) محافظات
-------------	-------------	-------------	-------------

2- من أكبر المشاريع الثقافية في وطني الكويت، فيه معارض عن العلوم والطبيعة والفضاء:

مركز عبدالله السالم الثقافي	مركز جابر الأحمد الثقافي	متحف بيت العثمان	المركز العلمي
-----------------------------	--------------------------	------------------	---------------

3- يبلغ عدد جزر وطني الكويت:

(7) جزر	(8) جزر	(9) جزر	(10) جزر
---------	---------	---------	----------

4- صورة مجلس الأمة توجد على العملة الورقية الوطنية فئة:

(1/2) دينار	(5) دينار	(10) دينار	(20) دينار
-------------	-----------	------------	------------

5- العملة المعدنية الوطنية تحمل صورة:

سفينة البوم	أبراج الكويت	مجلس الأمة	المسجد الكبير
-------------	--------------	------------	---------------



(3) صنف المفاهيم التالية في مكانها الصحيح:

معالم	السياحة	منطقة	الجزيرة	محافطة	إيكاروس	بنك الكويت الوطني	الإدخال
-------	---------	-------	---------	--------	---------	-------------------	---------

م	المفهوم	العبرة
1		الجهة المسؤولة عن إصدار النقود في وطني الكويت.
2		مساحة كبيرة وتتكون من عدة مناطق سكنية.
3		نحتفظ بجزء من المال ونضعه في الحصالة.
4		مكان أو مبنى مشهور يميز الوطن ويقصده الناس للزيارة والترفيه.
5		الاسم الذي كان يطلق على جزيرة فيلكا قديماً.
6		السفر إلى دول أخرى لقضاء وقت ممتع ومشاهدة الأماكن الجميلة.
7		تتكون من عدة أحياء وقطع سكنية بها البيوت والمساجد والمدارس.
8		قطعة من اليابس تحيط بها المياه من جميع الجهات.

(4) صل بين الصور التالية في المجموعة (أ) وما يعبر عنها ويناسبها من المجموعة (ب):

م	المجموعة (أ)	المجموعة (ب)
1		مركز الشيخ عبدالله السالم الثقافي
2		مبنى بنك الكويت المركزي
3		برج خليفة في دولة الإمارات
4		مركز الشيخ جابر الأحمد الثقافي



اجابة الأسئلة

(1) ضع علامة (✓) إذا كانت العبارة الصحيحة وعلامة (x) إذا كانت العبارة خاطئة في كل مما يلي:

م	العبارة	العلامة
1	عدد محافظات وطني الكويت يبلغ (7) سبع محافظات.	x
2	توفر الدولة للسكان الخدمات الأساسية في كل منطقة سكنية.	✓
3	برج خليفة يقع في دولة البحرين.	x
4	تقام المسرحيات والعروض الفنية والندوات الثقافية في مركز عبدالله السالم الثقافي.	x
5	تقع جزيرة فيلكا عند مدخل جون الكويت في الخليج العربي.	✓
6	صورة أبراج الكويت توجد على عملة الكويت الوطنية فئة (الربع دينار).	x

(2) ظلل الخيار الصحيح من بين الخيارات التي تلي كل عبارة مما يلي:

1- يبلغ عدد محافظات وطني الكويت:

(5) محافظات	(6) محافظات	(7) محافظات	(8) محافظات
-------------	-------------	-------------	-------------

2- من أكبر المشاريع الثقافية في وطني الكويت، فيه معارض عن العلوم والطبيعة والفضاء:

مركز عبدالله السالم الثقافي	مركز جابر الأحمد الثقافي	متحف بيت العثمان	المركز العلمي
-----------------------------	--------------------------	------------------	---------------

3- يبلغ عدد جزر وطني الكويت:

(7) جزر	(8) جزر	(9) جزر	(10) جزر
---------	---------	---------	----------

4- صورة مجلس الأمة توجد على العملة الورقية الوطنية فئة:

(1/2) دينار	(5) دينار	(10) دينار	(20) دينار
-------------	-----------	------------	------------

5- العملة المعدنية الوطنية تحمل صورة:

سفينة البوم	أبراج الكويت	مجلس الأمة	المسجد الكبير
-------------	--------------	------------	---------------







(3) صنف المفاهيم التالية في مكانها الصحيح:

معالم	السياحة	منطقة	الجزيرة	محافظة	إيكاروس	بنك الكويت الوطني	الإدخار
-------	---------	-------	---------	--------	---------	-------------------	---------

م	المفهوم	العبارة
1	بنك الكويت الوطني	الجهة المسؤولة عن إصدار النقود في وطني الكويت.
2	محافظة	مساحة كبيرة وتتكون من عدة مناطق سكنية.
3	الإدخار	نحتفظ بجزء من المال ونضعه في الحصالة.
4	معالم	مكان أو مبنى مشهور يميز الوطن ويقصده الناس للزيارة والترفيه.
5	إيكاروس	الاسم الذي كان يطلق على جزيرة فيلكا قديماً.
6	السياحة	السفر إلى دول أخرى لقضاء وقت ممتع ومشاهدة الأماكن الجميلة.
7	منطقة	تتكون من عدة أحياء وقطع سكنية بها البيوت والمساجد والمدارس.
8	الجزيرة	قطعة من اليابس تحيط بها المياه من جميع الجهات.

(4) صل بين الصور التالية في المجموعة (أ) وما يعبر عنها ويناسبها من المجموعة (ب):

م	المجموعة (أ)	المجموعة (ب)
1		مركز الشيخ عبدالله السالم الثقافي
2		مبنى بنك الكويت المركزي
3		برج خليفة في دولة الإمارات
4		مركز الشيخ جابر الأحمد الثقافي

