


تم تحميل هذا الملف من موقع المناهج الكويتية



الملف نماذج اختبارات التويمي الأول مع نماذج الإجابات 2025 و 2026م

[موقع المناهج](#) ⇌ [ملفات الكويت التعليمية](#) ⇌ [الصف الثاني](#) ⇌ [رياضيات](#) ⇌ [الفصل الثاني](#)

روابط مواقع التواصل الاجتماعي بحسب الصف الثاني



روابط مواد الصف الثاني على تلغرام

<a href="#">الرياضيات</a>	<a href="#">اللغة الانجليزية</a>	<a href="#">اللغة العربية</a>	<a href="#">التربية الاسلامية</a>
---------------------------	----------------------------------	-------------------------------	-----------------------------------

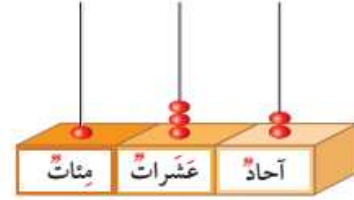
المزيد من الملفات بحسب الصف الثاني والمادة رياضيات في الفصل الثاني

<a href="#">تدريبات</a>	1
<a href="#">وسائل الوحدة الحادية عشر</a>	2
<a href="#">مذكرة</a>	3
<a href="#">مذكرة مهمة</a>	4
<a href="#">مذكرة مهمة</a>	5

## السؤال الأول : اكتب رمز العدد :

مئات	عشرات	وحدات
		

موقع  
المنهج الكويتية  
almanahj.com/kw




## السؤال الثاني : حوّل الإجابة الصحيحة فيما يلي :

(١) القيمة المكانية للرقم ٧ في العدد ٧٢٥ هي :

٧

٧٠٠

٧٠

(٢) القيمة المكانية للرقم ٨ في العدد ٤٨٥ هي :

٨

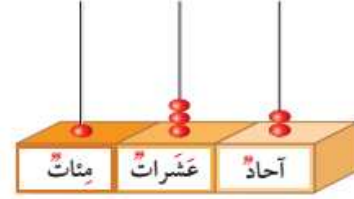
٨٠

٨٠٠

الإجابة

السؤال الأول : اكتب رمز العدد :

مئات	عشرات	وحدات
		



٢٠٥

١٣٢

السؤال الثاني : حوّل الإجابة الصحيحة فيما يلي :

(١) القيمة المكانية للرقم ٧ في العدد ٧٢٥ هي :

٧

٧٠٠

٧٠

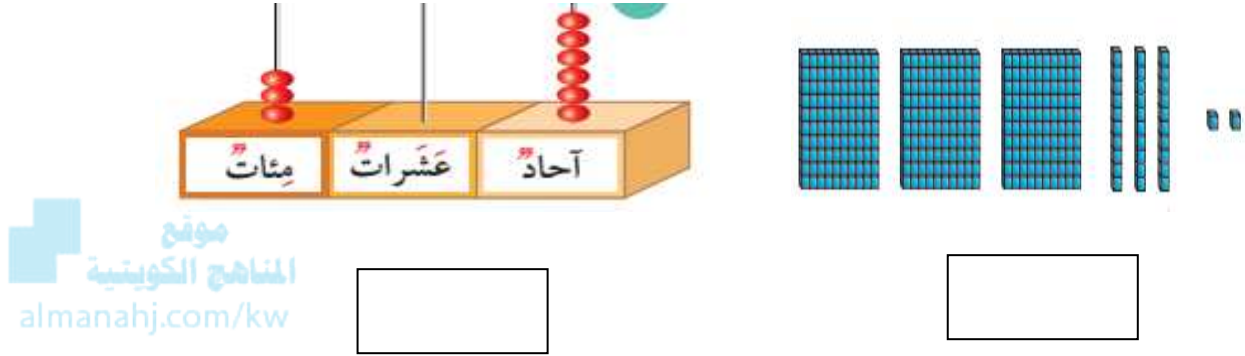
(٢) القيمة المكانية للرقم ٨ في العدد ٤٨٥ هي :

٨

٨٠

٨٠٠

السؤال الأول : اكتب رمز العدد :



السؤال الثاني : حوّل الإجابة الصحيحة فيما يلي :

(١) القيمة المكانية للرقم ٣ في العدد ٤٣٧ هي :

٣

٣٠٠

٣٠


(٢) القيمة المكانية للرقم ١ في العدد ١٨٥ هي :

١٠

١

١٠٠

## السؤال الأول : اكتب رمز العدد :



٣٠٦

٣٣٢

## السؤال الثاني : حوّل الإجابة الصحيحة فيما يلي :

(١) القيمة المكانية للرقم ٣ في العدد ٤٣٧ هي :

٣

٣٠٠

٣٠

(٢) القيمة المكانية للرقم ١ في العدد ١٨٥ هي :

١٠

١

١٠٠