

تم تحميل هذا الملف من موقع ملفات الكويت التعليمية



[com.kwedufiles.www//:https](https://www.kwedufiles.com)

*للحصول على أوراق عمل لجميع الصفوف وجميع المواد اضغط هنا

* للحصول على أوراق عمل لجميع مواد الصف الثاني عشر العلمي اضغط هنا

<https://kwedufiles.com/14>

* للحصول على جميع أوراق الصف الثاني عشر العلمي في مادة فيزياء وجميع الفصول, اضغط هنا

<https://kwedufiles.com/14physics>

* للحصول على أوراق عمل لجميع مواد الصف الثاني عشر العلمي في مادة فيزياء الخاصة بـ الفصل الثاني اضغط هنا

<https://www.kwedufiles.com/14physics2>

* لتحميل كتب جميع المواد في جميع الفصول للـ الصف الثاني عشر العلمي اضغط هنا

<https://www.kwedufiles.com/grade14>

[bot_kwlinks/me.t//:https](https://t.me/bot_kwlinks)

للحصول على جميع روابط الصفوف على تلغرام وفيسبوك من قنوات وصفحات: اضغط هنا

الروابط التالية هي روابط الصف الثاني عشر العلمي على مواقع التواصل الاجتماعي

مجموعة الفيسبوك

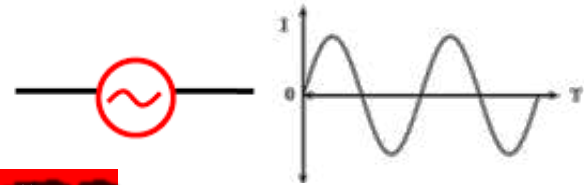
صفحة الفيسبوك

مجموعة التلغرام

بوت التلغرام

قناة التلغرام

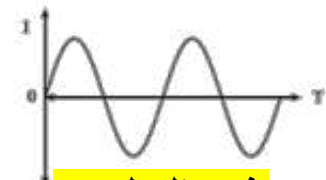
رياضيات على التلغرام



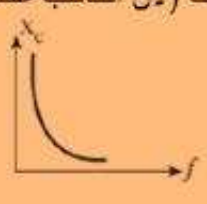
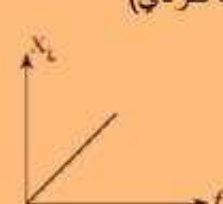

الدرس الثاني : دوائر أوم للتيار المتردد

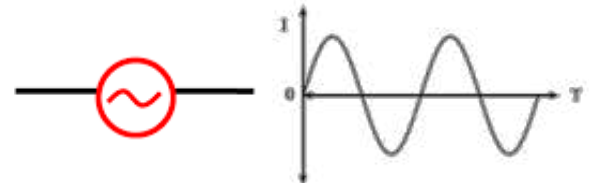
يفرق المعلم بين دوائر أوم الثلاثة للتيار المتردد (دائرة تحتوي على مقاومتين أوميتين - دائرة تحتوي على ملف حتى حتى نقي ومقاومة أومية - دائرة تحتوي على مكثف ومقاومة أومية)

أولاً : دائرة تيار متردد تحتوي على مقاومتين أوميتين (R)	ثانياً : دائرة تحتوي على ملف حتى نقي ومقاومة أومية (X _L)	ثالثاً : دائرة تحتوي على مكثف ومقاومة أومية (X _C)	رسم الدائرة
متفقان في الطور أي يتغيران بكيفية معا (فرق الطور = صفر)	الجهد يتقدم (يسبق) التيار فرق الطور بينهما $\frac{\pi}{2}$ أو 90° (ربع دورة) فرق الطور موجب ← الجهد يسبق	الجهد يتأخر عن التيار فرق الطور بينهما $-\frac{\pi}{2}$ أو -90° (ربع دورة) فرق الطور سالب ← الجهد يتأخر	العلاقة بين الجهد وشدة التيار (فرق الطور بين الجهد وشدة التيار)
$V(t) = V_{\max} \sin \omega t$ $i(t) = I_{\max} \sin \omega t$	$V(t) = V_{\max} \sin(\omega t + \frac{\pi}{2})$ $i(t) = I_{\max} \sin \omega t$	$V(t) = V_{\max} \sin(\omega t - \frac{\pi}{2})$ $i(t) = I_{\max} \sin \omega t$	قانوني شدة التيار والجهد اللحظيان
			المخطط الاتجاهي للجهد وشدة التيار
			منحنى الجهد والتيار



يفرق المعلم بين (المقاومة الأومية - الممانعة الحثية - الممانعة السعوية)

الممانعة السعوية لمكثف (X_C)	الممانعة الحثية لملف حثي نقي (X_L)	المقاومة الأومية الصرفة (R)	
الممانعة السعوية (X_C) هي الممانعة التي يبديها المكثف لمرور التيار المتردد خلاله.	الملف الحثي النقي: الملف الذي له تأثير حثي، معامل حثه الذاتي L كبير ومقاومته الأومية معدومة $R=0$ الممانعة الحثية: هي ممانعة الملف لمرور التيار المتردد خلاله	المقاومة التي تحوّل الطاقة الكهربائية بأكملها إلى طاقة حرارية فقط وليس لها أي تأثير ذاتي ملحوظ (تكون على شكل سلك ملفوف لفا مزدوجا لالغاء الحث الذاتي أو على شكل سلك مستقيم)	التعريف
$X_C = \frac{1}{2\pi fC}$ $X_C = \frac{1}{\omega C}$	$X_L = 2\pi fL$ $X_L = \omega L$	$R = \frac{V}{I} = \frac{V_{rms}}{I_{rms}} = \frac{V_{max}}{I_{max}}$ $R = \rho \frac{L}{A}$	قانون الحساب
الممانعة السعوية X_C تتوقف على: 1 - تردد التيار (عكسي) 2 - سعة المكثف (عكسي)	الممانعة الحثية X_L تتوقف على: 1 - تردد التيار (طردي) 2 - معامل الحث الذاتي (طردي)	1 - نوع مادة السلك (المقاومة النوعية) 2 - طول السلك L 3- مساحة مقطع السلك A (المقاومة الصرفة لا تتغير بتغير شدة التيار ولا الجهد) لأنه حسب قانون أوم زيادة الجهد يقابلها زيادة في شدة التيار بحيث يظل حاصل القسمة ثابت وهو المقاومة	العوامل التي تتوقف عليها المقاومة أو الممانعة
عند زيادة التردد إلى المثلين الممانعة السعوية تقل إلى النصف (لأن التناسب عكسي) 	عند زيادة التردد إلى المثلين الممانعة الحثية تزداد إلى المثلين (لأن التناسب طردي) 	المقاومة الأومية الصرفة لا تتغير بتغير التردد أو شدة التيار فهي دائما ثابتة لا يغيرها إلا عواملها ($\rho / L / A$) 	ماذا يحدث لها عند زيادة التردد إلى المثلين
في المكثف لا تصرف الطاقة الكهربائية على شكل حرارة إنما تخزن في المجال الكهربائي للمكثف $U_E = \frac{1}{2} CV^2_{rms}$	في الملف الحثي لا تصرف الطاقة الكهربائية على شكل حرارة إنما تخزن على شكل طاقة مغناطيسية $U_B = \frac{1}{2} LI^2_{rms}$	نعم.. في المقاومة الأومية تصرف الطاقة الكهربائية على شكل حرارة $E = R I^2_{rms} t$	هل تصرف الطاقة الكهربائية على شكل حرارة؟



تطبيقات

دائرة تيار متردد اذا زاد تردد المصدر فان شدة التيار تقل لان الدائرة تحتوى على

☐ مقاومة صرفة ☐ مكثف فقط ☐ ملف فقط ☐ مقاومة أومية

-دائرة تيار متردد تحتوى على ملف نقى ومصدر تيار متردد فاذا زاد عدد لفات الملف الى مثلى

قيمتها فان شدة المار فى الدائرة :

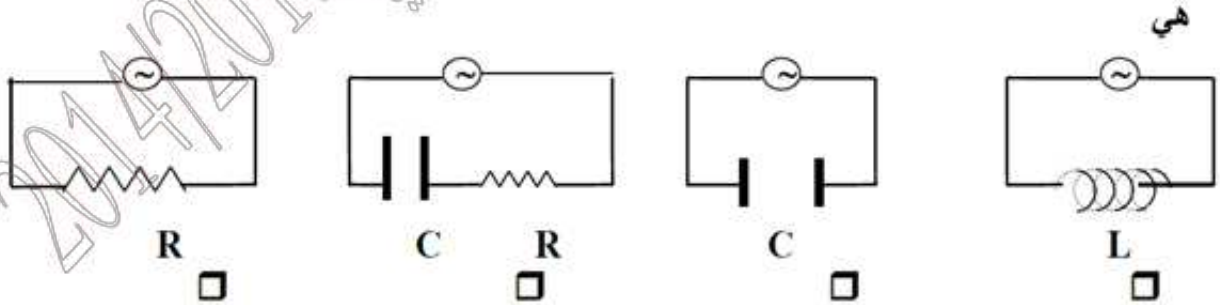
☐ تقل الى النصف

☐ تقل الى الربع

☐ تزداد الى اربعة امثال قيمتها

☐ تزداد الى مثلى قيمتها

فى الشكل التالى ، الدائرة الكهربائية التى تقل فيها شدة التيار بزيادة تردد مصدر التيار المتردد



4- ملف نقى ممانعته الحثية (15) أوم وصل بدائرة تيار متردد تحتوى على مصدر جهده

الفعال (150) فولت فان الطاقة المستهلكة فى الملف لمدة ثانية بوحدة الجول:

☐ 150 ☐ 0 ☐ 2500 ☐ 1500

على لما يأتى:

- لاتظهر الممانعة الحثية والممانعة السعوية فى دوائر التيار المستمر
- تستخدم الملفات الحثية فى فصل التيارات منخفضة التردد عن مرتفعة التردد
- تستخدم المكثفات فى فصل التيارات منخفضة التردد عن مرتفعة التردد